

代號：30110-38710  
頁次：4-1

# 112年公務人員高等考試三級考試試題

類 科：各類科（除公職社會工作師、公職獸醫師、公職建築師、公職護理師、公職  
臨床心理師、公職食品技師、公職醫事檢驗師及公職藥師外）

科 目：國文（作文與測驗）

考試時間：2小時

更多高普考考試科目的歷屆題庫  
立即上網搜尋“高普考歷屆考古題懶人包”  
高鋒公職補習班整理  
Line@帳號：@gaofeng  
連絡電話：07-236-7296

座號：\_\_\_\_\_

※注意：(一)禁止使用電子計算器。

(二)本科目試題包括作文及測驗兩部分，請妥適分配各題作答時間。

甲、作文部分：（80分）

(一)作答時請將試題題號及答案依照順序寫在申論試卷上，並以藍、黑色鋼筆或原子筆由左至右橫式作答，於本試題上作答者，不予計分。

(二)不得於試卷上書寫姓名或座號。

現今文明社會、民主時代，因為環境生態變遷、生命價值多元，兼之以科技發達、百業繁興，而在各種不同的生命形態中，我們應該慶幸自己為萬物之靈的「人」；尤其值得高興的是：生為「現代人」，我們能有最佳的機會為和諧的人類社會而努力。而人的可貴，在與其他生物所共有的「食色之性」之外，更有人所特有的「仁智之性」。我們知道怎樣去做一個「人」；怎樣建立和諧、進步的人類社會，而人的智慧也總是輔助人的「仁性」，義不容辭地朝著這一方向而積極前進。

今天我們所面臨的是東西文化的激盪，以及新舊時代的突變，歷史證明：有容乃大，與時俱進。因此，吸收外來文化，領導思想主流，這個責任有賴我們這一代勇敢承擔起來。有幸身為「人」，必須肯定自己的「仁智之性」，然後對人類前途才能充滿信心，而一切文明也必須在這個基礎上始克建立，進而含弘光大。經由充分認識因而肯定自己國家文化之悠久與優美，以及自己今日肩負承先啟後，融合東西責任之必然，才會表現出一種泱泱郁郁的風度，與舍我其誰的氣概來。

承上說明之意涵與旨趣，試以「肯定自己創造生命的價值」為題，作文一篇，闡論己見。

乙、測驗部分：（20分）

代號：1301

(一)本試題為單一選擇題，請選出一個正確或最適當答案。

(二)共10題，每題2分，須用2B鉛筆在試卡上依題號清楚劃記，於本試題或申論試卷上作答者，不予計分。

1 下列選項為辦公室公共區域茶水間的公告，那段文字的用詞最為簡練？

(A)本茶水間為公共區域，舉凡辦公室成員皆可使用

(B)飲水機請適量取水，請切記勿拿大型瓶罐裝水

(C)使用水槽清洗餐具後如有殘渣，請自行清理

(D)使用後離開時請隨時開關燈，以節約能源

- 2 「集體錯覺就是社會編織的謊言，當群體中大部分的人私底下都拒絕某個觀點，卻誤以為大部分人都接受，他們就會在公開場合附和這個觀點。學者過去一直把這個現象稱為多數無知，但我認為這個語詞沒有抓到要點，而且令人誤解。我們之所以搞錯主流意見，並不是因為我們不知道大多數人的看法；而是因為我們誤以為自己知道。」

根據上文，下列選項最適當的是：

- (A) 群眾往往因太愚昧而缺乏判斷力      (B) 主流意見是維護社會秩序的基準  
(C) 真相不一定跟多數人站在同一邊      (D) 集體錯覺是一種約定成俗的默契
- 3 「曾經有一位詩人說過：『科學乃理智的兒子，詩歌乃感情的女兒。』其實，豈止詩歌是感情的女兒，一切扣人心弦的文藝作品，莫不是感情的女兒。抒情的詩句當然是，而抒情的散文亦是。因為，抒情的散文乃抒情詩的延展，抒情的散文寫至精純處，二者的界限往往混淆莫辨了，是散文，也是詩，是詩，也是散文。」

根據上文，下列敘述何者最貼近文意？

- (A) 作者認為優秀的抒情散文，文字帶有詩意而情感精煉  
(B) 科學與理智都是陽剛的存在，詩歌與感情則是陰柔的表述  
(C) 作者評論現代詩與散文的界線模糊，比不上古典詩的扣人心弦  
(D) 要寫出好的抒情散文，必須先寫出精純的抒情詩，詩是散文的基礎
- 4 「『生物多樣性』(Biodiversity) 一詞在1986年被提出，為生物的多樣性 (Biological diversity) 簡稱，在學術上的定義擴充及所有生態系中活生物體的變異性，它涵蓋了所有從基因、個體、族群、物種、群集、生態系到地景等各種層次的生命型式。另外，廣泛定義上亦指各式各樣的生命相互依賴著複雜、緊密而脆弱的關係，生活在不同形式的人文及自然系統中，也就是人和萬物生生不息在地球的生物圈共榮共存。而『生物多樣性』本身具有生態與經濟、科學與教育、文化、倫理與美學等價值。」

根據上文，下列敘述，最符合「生物多樣性」狀態的是：

- (A) 生物多樣性存在於自然荒野中，現代人活動維持「一切照舊」的模式即可  
(B) 物種愈多使生物多樣性愈健全，所以引進外來種也是提高生物多樣性的有效方式  
(C) 增加動物園等人為圈養環境中野生動物的種類和數量，以提高動物園的生物多樣性  
(D) 增加多樣性的都市林，提供多種生態服務，或保存更多荒地面積，拓展動植物成長及棲息環境

5 「數位科技的時代似乎正在與人性背道而馳。譬如，人性應該都是熱愛自由的，但當前的社會科技越發達，人類並不會更省事，只會更忙碌，而打開行事曆，若發現那天的事項空空如也，還會不由得感到一陣悵然若失。又譬如，人性應該都是追求公平對待的。然而拜科技所賜，當前的社會卻出現了一批新貴，使得人際之間的鴻溝益形擴大。因為科技絕對沒有帶給人類平等，更不能讓『地球是平的』。恰恰相反，日新月異、快速淘汰的資訊，使得一批沒辦法掌握新知的人，頓時淪為廢物一般，被社會無情地剔除出去。」

下列那個選項最符合上文所述，人類在數位科技社會所面臨的情境？

- (A) 小明經常更換新手機，只是讓硬體科技廠商賺錢
  - (B) 小花隨時緊盯著手機上的訊息，怕漏掉最新資訊
  - (C) 阿德說網路可以跨越地形的障礙，讓地球是平的
  - (D) 阿香覺得網路可以讓他省很多事，生活更加輕鬆
- 6 《周易·乾》卦六爻辭：「初九，潛龍勿用。九二，見龍在田，利見大人。九三，君子終日乾乾，夕惕若，厲無咎。九四，或躍在淵，無咎。九五，飛龍在天，利見大人。上九，亢龍有悔。」

下列選項，何者最不符合上文旨意？

- (A) 居安思危
  - (B) 隱惡揚善
  - (C) 孜孜不倦
  - (D) 滿損謙益
- 7 「你看過、感覺過一棵榕樹的群根嗎？除了伸延地面上的根，又有樹枝上垂掛下來的氣根，還有地底下蔓生糾結深扎的盤根。我們生命中一件多少具有意義的事，就是那一條榕樹樹枝上垂掛下來的氣根，樹枝的汁液是它的來龍，落地生根的願望是他的去脈。榕樹垂下的無數鬚根，就是我們生命中拉出的那些無數條或長、或短的線。那棵槎枒挺立、根鬚茂盛的榕樹，就是生活中的你我，地底下蔓生糾結的榕樹盤根，就是你我生命中那些在視線以外、在潛意識層裡複雜交織的情感、欲望、夢想、妄想。」

根據上文，下列選項何者正確？

- (A) 人生終回歸塵土，如同根鬚茂盛的榕樹落葉歸根
- (B) 人類生命充滿無盡慾望，如同榕樹之根渴求養分
- (C) 生命如榕樹群根，有許多隱於表象外的複雜情感
- (D) 你我之間的感情糾結多年，如同榕樹根多重交錯

8 甲、少小離家老大回，鄉音無改鬢毛衰。兒童相見不相識，笑問客從何處來？（賀知章〈回鄉偶書〉）

乙、笑問來何暮，情知父老真。乍驚成禿髮，翻幸得全身。服朔非周舊，河山定我春。便思遺世事，長作一塵氓。（蘇輿《自怡室詩存·到家》）

下列選項，何者敘述錯誤？

- (A)藉由頭髮變化的描述，推知二位作者已歷盡滄桑
- (B)二詩藉「笑問」二字，彰顯鄉人對作者和善親切
- (C)賀知章以「鄉音無改」四字，體現其眷戀家鄉之情
- (D)蘇輿以「河山定我春」，表示仍有老驥伏櫪之雄心

9 「地方也是一種觀看、認識和理解世界的方式。我們把世界視為含括各種地方的世界時，就會看見不同的事物。我們看見人與地方之間的情感依附和關聯。我們看見意義和經驗的世界。有時候，這種觀看方式似乎是抗拒世界理性化的行動，而世界理性化正是重視空間甚於地方的觀看方式。將世界上某個地區視為人與環境（做為地方）豐富且複雜的相互影響，使我們免於將它設想為事實和數字。」

下列情境何者最貼近上文的意義？

- (A)宗教遶境活動可以為地方帶來近二億元的經濟產值
- (B)都市計畫的範圍將影響地方五百多公頃農地的重劃
- (C)快速道路將可縮短連接兩地的通勤時間與塞車狀況
- (D)公園內的造景可以成為市民對城市歷史記憶的載體

10 「語言不是木棍，語言是活生生的千年老樹，盤根錯節、深深紮根在文化和歷史的土壤中。移植語言，就是移植文化和歷史，移植價值和信念，兩者不可分。國際化是要決定什麼是自己安身立命的價值，所以有能力用別人聽得懂的語言去呈現自己的語言、觀點，它不是把我變得跟別人一樣，而是用別人能理解的方式告訴別人我的不一樣。」

根據上文，下列何者最接近文章主旨？

- (A)國際化是一種時代趨勢，可以使自己異於他人，因此而有安身立命的價值
- (B)國際化須先確認自我的價值，方能透過語言讓別人理解我的不一樣與重要性
- (C)語言跟文化、歷史、價值觀等緊密相連，要理解別人就必須先學會他人的語言
- (D)語言跟樹木一樣有生命，同樣也可以移植，只要移植語言，就能移植文化和歷史

# 測驗式試題標準答案

更多高普考考試科目的歷屆題庫  
立即上網搜尋“高普考歷屆考古題懶人包”  
高鋒公職補習班整理  
Line@帳號：@gaofeng  
連絡電話：07-236-7296

考試名稱：112年公務人員高等考試三級考試暨普通考試

類科名稱：

一般行政、一般民政、客家事務行政、戶政、原住民族行政、僑務行政(選試英文)、僑務行政(選試法文)、僑務行政(選試西班牙文)、僑務行政(選試泰文)、僑務行政(選試印尼文)、僑務行政(選試緬甸文)、社會行政、勞工行政、文化行政、教育行政、體育行政、國際文教行政(選試德文)、國際文教行政(選試西班牙文)、新聞(選試英文)、圖書資訊管理(選試英文)、檔案管理、人事行政、財稅行政、金融保險、財稅法務、會計、統計、法制、法律廉政、財經廉政、經建行政、公平交易管理、商業行政、農業行政、漁業行政、智慧財產行政、觀光行政(選試觀光英語)、海洋行政、交通行政、航運行政、地政、衛生行政、環保行政、農業技術、農業機械、園藝、植物病蟲害防治、林業技術、漁業技術、養殖技術、動物技術、自然保育、土木工程、水利工程、環境工程、水土保持工程、建築工程、地質、採礦工程、測量製圖、都市計畫技術、景觀、衛生技術、食品衛生檢驗、藥事、醫學工程、交通技術、航海技術、輪機技術、航空駕駛(選試直昇機飛行原理)、工業工程、職業安全衛生、電力工程、電子工程、電信工程、資訊處理、機械工程、汽車工程、環保技術、化學安全、環境檢驗、化學工程、天文、氣象、輻射安全、消防技術、工業設計

科目名稱：國文（作文與測驗）（試題代號：1301）

單選題數：10題

單選每題配分：2.00分

複選題數：

複選每題配分：

標準答案：

題號	第1題	第2題	第3題	第4題	第5題	第6題	第7題	第8題	第9題	第10題
答案	C	C	A	D	B	B	C	D	D	B

題號	第11題	第12題	第13題	第14題	第15題	第16題	第17題	第18題	第19題	第20題
答案										

題號	第21題	第22題	第23題	第24題	第25題	第26題	第27題	第28題	第29題	第30題
答案										

題號	第31題	第32題	第33題	第34題	第35題	第36題	第37題	第38題	第39題	第40題
答案										

題號	第41題	第42題	第43題	第44題	第45題	第46題	第47題	第48題	第49題	第50題
答案										

題號	第51題	第52題	第53題	第54題	第55題	第56題	第57題	第58題	第59題	第60題
答案										

題號	第61題	第62題	第63題	第64題	第65題	第66題	第67題	第68題	第69題	第70題
答案										

題號	第71題	第72題	第73題	第74題	第75題	第76題	第77題	第78題	第79題	第80題
答案										

題號	第81題	第82題	第83題	第84題	第85題	第86題	第87題	第88題	第89題	第90題
答案										

題號	第91題	第92題	第93題	第94題	第95題	第96題	第97題	第98題	第99題	第100題
答案										

備註：

## 112年公務人員高等考試三級考試試題

類 科：各類科（除公職社會工作師、公職獸醫師、公職建築師、公職護理師、公職臨床心理師、公職食品技師、公職醫事檢驗師及公職藥師外）

科 目：法學知識與英文（包括中華民國憲法、法學緒論、英文）

考試時間：1 小時

座號：\_\_\_\_\_

※注意：(一)本試題為單一選擇題，請選出一個正確或最適當答案。

(二)本科目共50題，每題2分，須用2B鉛筆在試卡上依題號清楚劃記，於本試題上作答者，不予計分。

(三)禁止使用電子計算器。

更多高普考考試科目的歷屆題庫  
立即上網搜尋“高普考歷屆考古題懶人包”  
高鋒公職補習班整理  
Line@帳號：@gaofeng  
連絡電話：07-236-7296

- 有關憲法解釋及法規範之位階，下列敘述何者錯誤？  
(A)法律與憲法有無牴觸發生疑義時，由行政法院解釋之  
(B)憲法之解釋，由司法院為之  
(C)憲法所稱之法律，謂經立法院通過，總統公布之法律  
(D)命令與憲法或法律牴觸者無效
- 依憲法本文規定，國家對於邊疆地區各民族之土地使用保障及發展，下列何者並非應特別考量之要素？  
(A)土地價格 (B)氣候 (C)土壤性質 (D)人民生活習慣
- 關於受羈押被告之權利，下列敘述何者錯誤？  
(A)有接見律師權 (B)有受辯護權  
(C)有與辯護律師自由溝通權 (D)接見律師時有不受監視權
- 訴訟應循之程序及相關要件，下列何機關得衡量訴訟案件之種類、性質、訴訟制度之功能及訴訟外解決紛爭之法定途徑等因素，為正當合理之規定？  
(A)立法機關 (B)行政機關 (C)司法機關 (D)監察機關
- 財政部函就使用牌照稅法第7條第1項第9款關於交通工具免徵使用牌照稅規定，所稱「每一團體和機構以3輛為限」，明示應以同一法人於同一行政區域內之總分支機構合計3輛為限。其縮減人民依法享有免徵使用牌照稅優惠，依司法院釋字第798號解釋，係違反下列何項原則？  
(A)社會國原則 (B)平等原則 (C)租稅法律原則 (D)比例原則
- 依憲法法庭判決意旨，有關憲法第18條保障人民服公職權，下列敘述何者正確？  
(A)年終考績丁等者免職係剝奪公務員之身分，該規定違反憲法第18條服公職權之意旨  
(B)免職權之性質屬行政權，且為行政機關人事權之固有核心權限  
(C)行政懲處權應不包括公務人員考績法中具有實質懲戒性質之免職處分  
(D)依憲法第77條規定，必須由法院擔任公務員懲戒及懲處之第一次決定機關
- 下列何種集會遊行，應向主管機關申請許可？  
(A)媽祖遶境 (B)婚喪喜慶活動 (C)體育路跑活動 (D)選舉造勢
- 依憲法增修條文第4條規定，總統、副總統之彈劾案，由下列何者提出？  
(A)司法院 (B)檢察總長 (C)立法院 (D)監察院
- 下列何者不得向憲法法庭聲請判決？  
(A)總統 (B)臺灣新北地方法院家事法庭法官  
(C)社團法人臺灣身心障礙兒童權利促進會 (D)屏東縣議會議員現有總額四分之一以上
- 關於地方行政機關人員受質詢或備詢之義務，下列敘述何者錯誤？  
(A)就中央對地方之補助款預算案，有至立法院受質詢之義務  
(B)除法律有明定外，無出席立法院委員會備詢之義務  
(C)地方首長與一級單位主管，就其主管業務，有受地方議會質詢之義務  
(D)地方議會於業務質詢時，相關地方政府之業務主管應列席備詢

- 11 關於「自由民主憲政秩序」，下列敘述何者錯誤？  
(A)屬法治國家的統治秩序  
(B)排除任何暴力或獨裁專制  
(C)植基於自由、平等以及依據多數意志而作成之人民自我決定上  
(D)政黨行為雖危害自由民主憲政秩序，仍應受結社自由之保障
- 12 在公職人員選舉開票結束後，選務人員將票匭封緘。甲認選舉不公，撕去了票匭上的封條，被撕下的封條仍完好如初。甲的行為是否成立犯罪？  
(A)甲構成刑法第139條的除去封印罪  
(B)甲構成刑法第135條的妨害公務罪  
(C)甲構成刑法第140條的侮辱公務員罪  
(D)甲不構成犯罪
- 13 甲為A股份有限公司之經理人，下列有關甲之敘述，何者錯誤？  
(A)甲在執行A公司業務之範圍內，亦為公司負責人  
(B)A公司得於公司章程規定，甲之報酬應由董事會以董事3分之2以上出席，及出席董事過半數同意之決議行之  
(C)若甲受破產之宣告，其經理職務應解任之  
(D)甲之職權，應以章程規定，不得依契約訂定之
- 14 勞工甲下班回家之後，於晚上11點30分接獲雇主透過通訊軟體發訊，告知有一個緊急文件客戶明天早上9點就要，希望甲可以幫忙加班處理。雖然已經很晚了，但是雇主既然有此需求，甲因此破例熬夜把文件整理完成並且透過通訊軟體回傳給雇主，一共花了3個小時。隔天早上到辦公室之後，甲提出通訊軟體之訊息向雇主請求加班費，但雇主予以拒絕。下列敘述何者正確？  
(A)甲不能申請加班費，因為其如果不同意，可以當下拒絕，而既然同意下班後還幫忙，就不算是工作，而是額外的人情，不能申請加班費  
(B)甲不能申請加班費，因為加班費要事前申請並且經過雇主同意才有。甲未向雇主申請，因此只能當作私下幫忙，不算是工作  
(C)甲能夠申請加班費，只要甲能透過訊息證明自己確實有受到雇主要求工作，以及工作之時數，應給付加班費  
(D)甲能夠申請加班費，因為加班無需經過雇主同意，只要是下班時間做的事情，都應該能夠申請加班費
- 15 聯合國消除對婦女一切形式歧視公約並未提及下列何種權利或保障？  
(A)保障婦女享有資訊隱私的權利  
(B)保障婦女平等受教育的權利  
(C)提供婦女有關懷孕、分娩和產後期間的適當服務  
(D)消除婦女在經濟生活上的歧視
- 16 下列何者非屬公法上事實行為？  
(A)行政機關由其所屬之承辦人員向相對人送達罰鍰處分書  
(B)否准政府資訊公開之申請  
(C)溢繳稅款匯入義務人帳戶  
(D)警察對於犯罪嫌疑人扣上手銬
- 17 甲向公務員乙表示，願以新臺幣10萬元之代價，換取乙將其主辦之工程招標底價洩漏給甲，乙答應後反悔未洩漏底標，將10萬元原封不動退回。依我國刑法之規定，下列敘述何者正確？  
(A)乙應論以違背職務行為收受賄賂罪  
(B)乙應論以公務員洩漏國防以外秘密罪之共同正犯  
(C)甲應論以不違背職務行為行求賄賂罪  
(D)甲應論以公務員洩漏國防以外秘密罪之教唆犯
- 18 有關公職人員之選舉，下列敘述何者正確？  
(A)經登記為候選人者，得撤回其候選人登記  
(B)全國不分區立法委員選舉候選人之保證金，由登記之政黨繳納  
(C)政黨推薦參加公職人員選舉之候選人，無須為該政黨黨員  
(D)廣播電視事業應無償提供時段供登記之候選人從事競選宣傳

- 19 依憲法訴訟法規定，關於法院聲請法規範憲法審查，下列敘述何者錯誤？  
(A)應以獨任法官或合議庭名義提出聲請  
(B)聲請標的限於裁判所應適用之法律位階法規範  
(C)聲請書應敘明客觀上形成確信法規範違憲之法律見解  
(D)原因案得以聲請憲法審查為由，裁定停止程序，如有急迫情形，並得為必要之處分
- 20 於違章建築之買賣，出賣人交付該違章建築，買受人占有之，買受人取得該違章建築之何種權利？  
(A)地上權 (B)法律上處分權 (C)事實上處分權 (D)占有權
- 21 The government plans to \_\_\_\_\_ a new tax on luxury goods in order to generate additional revenue for social welfare programs.  
(A)impose (B)impair (C)imprison (D)immerse
- 22 Everyone was impressed with their dignity and \_\_\_\_\_ while they were in vigil for their late mother.  
(A)hypothesis (B>wilderness (C)composure (D)registration
- 23 Inadequacy of security measures is hard to be tackled, because community policing is expensive and, in an era of budget cuts, increasingly \_\_\_\_\_.  
(A)lush (B)rare (C)afar (D)fond
- 24 To protect the environment, the company has made progress in reducing its carbon \_\_\_\_\_.  
(A)emissions (B)omissions (C)permissions (D)missions
- 25 The willingness of readers to \_\_\_\_\_ on the content of the stories rather than to accumulate knowledge of concepts or terms will make the reading easier and more pleasant.  
(A)reflate (B)reflect (C)refine (D)refresh
- 26 The charity was established to offer essential assistance to \_\_\_\_\_ children who lack access to basic education and healthcare.  
(A)overpassing (B)underdeveloped (C)underprivileged (D)overwhelming
- 27 The industry is being \_\_\_\_\_ by high interest rates and inflation; investors and economists are seriously worried about the current situation.  
(A)dispensed (B)prevailed (C)glittered (D)crippled
- 28 The founder's donation left a lasting \_\_\_\_\_, funding scholarships for generations of deserving students to come.  
(A)legacy (B)estimate (C)innovation (D)modernity
- 29 As the captain of the ship, he appointed the first mate as his \_\_\_\_\_ to take over in case of emergencies.  
(A)deputy (B)poacher (C)hypocrite (D)contestant
- 30 Despite the chaos and commotion around him, the wise old man remained \_\_\_\_\_ and continued to meditate in peace.  
(A)intrusive (B)devastated (C)horrified (D)tranquil
- 31 With the plague severity decreasing over time, there is little or no \_\_\_\_\_ for people to get vaccinated now.  
(A)deterrent (B)turn-off (C)resentment (D)incentive
- 32 My art teacher always says that using the non-dominant hand could lift the spirits, free the imagination, and, most importantly, \_\_\_\_\_ creativity.  
(A)lease (B)unleash (C)unload (D)lessen
- 33 Plastic bags are not \_\_\_\_\_, that is, decades after they are buried in a landfill, they become nothing but still plastic bags.  
(A)combustible (B)reusable (C)biodegradable (D)transferable
- 34 Two companies have agreed to close a division of their business as a(n) \_\_\_\_\_ move to avoid public criticism.  
(A)synthetic (B)illiterate (C)invasive (D)tactical
- 35 The European Commission \_\_\_\_\_ TikTok from most of its employees' phones, citing security concerns.  
(A)banned (B)comprehended (C)recommended (D)stunned
- 36 The project deadline happens to \_\_\_\_\_ with my vacation plans, so I need to ensure that all work will be completed before I leave.  
(A)cooperate (B)coincide (C)compete (D)confer
- 37 The poachers killed the elephants so they could make a fortune by \_\_\_\_\_ the ivories overseas.  
(A)struggling (B)smuggling (C)strangling (D)smearing
- 38 Dana visits her parents in New York at regular \_\_\_\_\_, usually every three months.  
(A)intervals (B)spirals (C)terminals (D)utensils
- 39 The red carpet was filled with excited fans and flashing cameras as the \_\_\_\_\_ couple made their grand entrance to the movie premiere.  
(A)acquaintance (B)celebrity (C)informant (D)delinquent
- 40 The artist's tireless dedication to his craft resulted in a(n) \_\_\_\_\_ of work that was both beautiful and thought-provoking.  
(A)blunder (B)debris (C)eclipse (D)opus



Taking an exercise every day has become a routine for most people nowadays. People who engage themselves constantly to sporting and fitness exercises do it for the purpose of staying sound and 41. Because forming an exercise habit is essential for maintaining our good health, the kind of exercise we take and the likely effects each has on us cannot be 42. Therefore, before involving yourself in any fitness activity, it is always wise to be aware of the 43 between high-impact and low-impact exercises and choose the ones that fit you. The term, impact, denotes the force that might 44 on your bones and joints when you participate in a physical activity. As a result, knowing whether your exercise is low- or high-impact is key to minimizing the possible 45. In addition, this also helps maximize the achieving goals of exercise.

- |    |                 |                  |                 |                      |
|----|-----------------|------------------|-----------------|----------------------|
| 41 | (A) feeble      | (B) edible       | (C) sturdy      | (D) tardy            |
| 42 | (A) attributed  | (B) contributed  | (C) emphasized  | (D) overlooked       |
| 43 | (A) differences | (B) similarities | (C) obligations | (D) responsibilities |
| 44 | (A) harm        | (B) weigh        | (C) weaken      | (D) heighten         |
| 45 | (A) visibility  | (B) feasibility  | (C) benefits    | (D) injuries         |

請依下文回答第46題至第50題：

Is there any immortal creature in the world? Despite only being only three millimeters in diameter on average, adult versions of immortal jellyfish (*Turritopsis dohrnii*) have a huge party trick: they can roll back their biological clock when injured or on the verge of starvation. This means, in theory, they could live forever. Could humans harness their abilities to eradicate ageing completely?

As scientists have known, the reason of human ageing is a process called trans-differentiation. “This is about how a fully formed specialized adult cell can become another type of specialized adult cell. It’s how a cell can adapt,” explains Dr. Maria Pia Miglietta. The exact mechanism behind trans-differentiation is still a mystery to scientists. However, as Miglietta explains, the answer will likely be found in the jellyfish’s genes. “It most certainly has something to do with the DNA,” she says. “It’s the DNA that programs a cell—certain genes being ‘turned on’ or ‘off’ will determine what sort of cell it is. We’re far away from any kind of real-world application,” says Miglietta. “But we hope that studying what happens in these jellyfish can tell us how their genes change cells—and how these changed cells integrate with others. This is the base of understanding cellular regeneration and tissue regeneration.”

However, there are many challenges. These jellyfish have only been studied sporadically since the early 1980s, meaning experts have only a few decades’ worth of data. While an immortal jellyfish can age in reverse, it can also be easily killed by predators including various fish, sharks, turtles and even other jellyfish. “They’re incredibly sensitive, from the water temperature to their plankton and fish egg diet,” says Miglietta. “The real paradox is they’re actually really hard to keep alive!”

- 46 What is the main idea of the passage?  
(A) An endangered species that needs more conservation.  
(B) A species that may help on research against ageing.  
(C) The concept of human ageing and its solution.  
(D) Biological background of jellyfishes reproduction.
- 47 Which of the following tones best describes the passage?  
(A) Cynical. (B) Scientific. (C) Indifferent. (D) Entertaining.
- 48 According to the passage, which of the following factors is NOT the challenge to the research about the jellyfish *Turritopsis dohrnii*?  
(A) The data collected is not enough, and the research is not continuous.  
(B) *Turritopsis dohrnii* are under threat of too many predators.  
(C) *Turritopsis dohrnii* are very delicate and often don’t live long enough.  
(D) *Turritopsis dohrnii* is too large to find the tissues about regeneration.
- 49 According to the passage, which of the following is the main factor how *Turritopsis dohrnii* might help to solve the problem of ageing?  
(A) People consume *Turritopsis dohrnii* to help fight diseases.  
(B) Its gene may turn on or off the mechanism of cell trans-differentiation.  
(C) *Turritopsis dohrnii* can adapt themselves to different environments.  
(D) *Turritopsis dohrnii*’s cells can easily integrate with human’s cells.
- 50 According to the passage, which of the following statements is TRUE?  
(A) The research on the *Turritopsis dohrnii* against human ageing has been broadly applied.  
(B) In principle, *Turritopsis dohrnii* can live forever; however, most of them are short-lived.  
(C) Jellyfish has a fixed biological clock which helps activate regeneration.  
(D) *Turritopsis dohrnii* never die so that they overpopulate in the ocean.

# 測驗題標準答案更正

考試名稱：112年公務人員高等考試三級考試暨普通考試

類科名稱：

一般行政、一般民政、客家事務行政、戶政、原住民族行政、僑務行政(選試英文)、僑務行政(選試法文)、僑務行政(選試西班牙文)、僑務行政(選試泰文)、僑務行政(選試印尼文)、僑務行政(選試緬甸文)、社會行政、勞工行政、文化行政、教育行政、體育行政、國際文教行政(選試德文)、國際文教行政(選試西班牙文)、新聞(選試英文)、圖書資訊管理(選試英文)、檔案管理、人事行政、財稅行政、金融保險、財稅法務、會計、統計、法制、法律廉政、財經廉政、經建行政、公平交易管理、商業行政、農業行政、漁業行政、智慧財產行政、觀光行政(選試觀光英語)、海洋行政、交通行政、航運行政、地政、衛生行政、環保行政、農業技術、農業機械、園藝、植物病蟲害防治、林業技術、漁業技術、養殖技術、動物技術、自然保育、土木工程、水利工程、環境工程、水土保持工程、建築工程、地質、採礦工程、測量製圖、都市計畫技術、景觀、衛生技術、食品衛生檢驗、藥事、醫學工程、交通技術、航海技術、輪機技術、航空駕駛(選試直昇機飛行原理)、工業工程、職業安全衛生、電力工程、電子工程、電信工程、資訊處理、機械工程、汽車工程、環保技術、化學安全、環境檢驗、化學工程、天文、氣象、輻射安全、消防技術、工業設計

科目名稱：法學知識與英文（包括中華民國憲法、法學緒論、英文）

單選題數：50題

單選每題配分：2.00分

複選題數：

複選每題配分：

標準答案：答案標註#者，表該題有更正答案，其更正內容詳見備註。

題號	第1題	第2題	第3題	第4題	第5題	第6題	第7題	第8題	第9題	第10題
答案	A	A	D	A	C	B	D	C	D	A

題號	第11題	第12題	第13題	第14題	第15題	第16題	第17題	第18題	第19題	第20題
答案	D	#	D	C	A	B	A	B	A	C

題號	第21題	第22題	第23題	第24題	第25題	第26題	第27題	第28題	第29題	第30題
答案	A	C	B	A	B	C	D	A	A	D

題號	第31題	第32題	第33題	第34題	第35題	第36題	第37題	第38題	第39題	第40題
答案	D	B	C	D	A	B	B	A	B	D

題號	第41題	第42題	第43題	第44題	第45題	第46題	第47題	第48題	第49題	第50題
答案	C	D	A	B	D	B	B	D	B	B

題號	第51題	第52題	第53題	第54題	第55題	第56題	第57題	第58題	第59題	第60題
答案										

題號	第61題	第62題	第63題	第64題	第65題	第66題	第67題	第68題	第69題	第70題
答案										

題號	第71題	第72題	第73題	第74題	第75題	第76題	第77題	第78題	第79題	第80題
答案										

題號	第81題	第82題	第83題	第84題	第85題	第86題	第87題	第88題	第89題	第90題
答案										

題號	第91題	第92題	第93題	第94題	第95題	第96題	第97題	第98題	第99題	第100題
答案										

備註：第12題答D給分。

# 112年公務人員高等考試三級考試試題

代號：32370  
32470  
頁次：8-1

類 科：財稅行政、金融保險

科 目：會計學

考試時間：2小時

※注意：可以使用電子計算器。

更多高普考考試科目的歷屆題庫  
立即上網搜尋“高普考歷屆考古題懶人包”  
高鋒公職補習班整理  
Line@帳號：@gaofeng  
連絡電話：07-236-7296

座號：\_\_\_\_\_

甲、申論題部分：(50分)

- (一)不必抄題，作答時請將試題題號及答案依照順序寫在申論試卷上，於本試題上作答者，不予計分。
- (二)請以藍、黑色鋼筆或原子筆在申論試卷上作答。
- (三)本科目除專門名詞或數理公式外，應使用本國文字作答。

一、甲公司於X1年1月1日承包總價為\$100,000之建造合約。該建造合約之履約義務係隨時間逐步滿足，其他相關資訊如下：

	X1年	X2年	X3年
本期發生已完成工作之合約成本	\$30,000	\$30,000	\$30,000
至今已累積成本	\$30,000	\$60,000	\$90,000
估計總合約成本	\$90,000	\$120,000	\$90,000
工程進度請款金額	\$40,000	\$30,000	\$20,000

若甲公司以下列兩種方法衡量履約義務完成程度：

- (1)方法一：至今完工已發生合約成本占估計總合約成本之比例。
- (2)方法二：以實體完成程度衡量；至X1年底完成40%、至X2年底完成55%，並於X3年度完成100%。

試作：

- (一)在前述衡量履約義務方法一下，X1、X2及X3年度之工程利潤（損失）各為若干？X2年底之合約資產或合約負債為若干？（10分）
- (二)在前述衡量履約義務方法二下，X2及X3年度之工程利潤（損失）為若干？（5分）

二、甲公司之退休金計畫屬確定福利計畫，其計畫資產皆以與公司分離之信託帳戶管理。該公司於X1年1月1日修改退休辦法，依精算報告衡量之前期服務成本為\$100,000，修改辦法所涵蓋員工之平均剩餘服務年限為10年。該公司所有提撥及計畫資產產生實際報酬均於年底發生(公司尚無人員退休)。此外，所有已發生退休金成本皆不得資本化為其他資產。有關退休金福利的其他資料請見下表：

	X0年	X1年	X2年	X3年
折現率	10%	10%	10%	10%
當期服務成本		\$100,000	\$100,000	\$100,000
前期服務成本(X1年1月1日修改辦法所產生者)		\$100,000	--	--
當年度精算損失(利益)		\$70,000	(\$10,000)	--
當年度計畫資產實際報酬		\$100,000	\$70,000	\$100,000
提撥現金至計畫資產		\$200,000	\$100,000	\$100,000
12月31日確定福利義務現值	\$200,000	\$500,000	\$640,000	\$804,000
12月31日計畫資產公允價值	\$200,000	\$500,000	\$670,000	\$870,000
12月31日淨確定福利資產上限	--	--	\$20,000	\$50,000

試作：(每小題5分，共15分)

- (一)X1年該退休金計畫產生的確定福利計畫費用及其他綜合損益(須註明利益或損失)各為若干?
- (二)X2年度該退休金計畫產生的其他綜合損益(須註明利益或損失)為若干?
- (三)X3年度該退休金計畫產生的其他綜合損益(須註明利益或損失)為若干?

三、甲公司於X0年12月31日購入乙公司發行面額\$100,000之債券，該10年期債券票面利率8%，自X1年至X10年每年底付息，X10年12月31日另支付本金\$100,000。購入及發行該債券之價格皆為\$87,711，甲、乙兩公司計算該債券之有效利率皆為10%。甲公司判斷在其持有該公司債的期間內，該公司債之信用風險皆未顯著增加，且甲公司於X10年4月1日以102加計應計利息出售該投資。乙公司判斷，在該發行之公司債之所有流通期間內，該公司債唯一重大攸關之市場狀況變動係來自無風險利率，而無風險利率在此10年期間內皆無變動。該債券其他相關資訊如下：

	12個月預期 信用損失	存續期間預 期信用損失	公允價值
X0年底	\$550	\$5,050	\$87,711
X8年底	\$500	\$1,050	\$97,000
X9年底	\$600	\$600	\$99,000

試作：(各小題之金額皆須註明係利益或損失)

- (一) 甲公司將該債券分類為透過其他綜合損益按公允價值衡量之債務工具投資，則X9年度該投資對甲公司產生之損益及其他綜合損益各為何？X10年度該投資對甲公司產生之損益及其他綜合損益各為何？(10分)
- (二) 若甲公司將該債券分類為按攤銷後成本衡量(AC)，則X9年度該投資對甲公司產生之損益為何？若甲公司將該債券分類為透過損益按公允價值衡量之金融資產(FVTPL)，則X10年度該投資對甲公司產生之損益為何？(5分)
- (三) 若乙公司將該債券分類為指定透過損益按公允價值衡量之金融負債，且該負債因信用風險導致之公允價值變動認列為其他綜合損益不會引發或加劇會計配比不當，則X9年乙公司因該債券之發行產生之其他綜合損益為何？(5分)

乙、測驗題部分：(50分)

代號：7323

(一)本試題為單一選擇題，請選出一個正確或最適當答案。

(二)共25題，每題2分，須用2B鉛筆在試卡上依題號清楚劃記，於本試題或申論試卷上作答者，不予計分。

- 下列敘述何者正確？
  - 企業應每年對商譽做減損測試，並且攤銷商譽
  - 企業在減損跡象消失後，可以迴轉先前所認列之商譽減損損失
  - 企業應按無形資產耐用年限之有無，將減損損失於發生年度分別認列於當期損益或其他綜合損益
  - 企業應攤銷具耐用年限之無形資產
- 甲公司因利率上升而處分其列為透過其他綜合損益按公允價值衡量之債務工具投資，認列處分損失\$6,000。甲公司本次所處分之債券原始取得成本\$30,000，處分當期帳上尚有金融資產評價利益\$18,000。試問甲公司因此交易而產生之投資活動現金流量為何？
  - \$24,000
  - \$42,000
  - \$12,000
  - \$18,000
- 甲公司於X1年初發行累積且完全參加特別股，惟X2年與X3年皆未宣告及發放股利。試問甲公司應如何處理所積欠之特別股股利？
  - 將積欠未滿一年之股利認列為流動負債，積欠超過一年之股利認列為非流動負債
  - 將積欠股利認列為權益的減項
  - 在附註揭露說明積欠股利細項
  - 直接以保留盈餘沖銷積欠股利
- 甲公司之內部政策規定廣告費用不得高於銷管費用總額之7%，並且在接近期末時，需視狀況停止廣告費用的支出以避免出現損失。試問該公司此政策違反下列何種財務報表品質特性？
  - 中立性
  - 重大性
  - 可了解性
  - 沒有違反任何品質特性
- 財務狀況表將資產與負債分類為流動與非流動兩種，此區分是根據下列何種假設？
  - 經濟個體假設
  - 繼續經營假設
  - 會計期間假設
  - 貨幣單位假設
- 甲公司在X1年5月10日以\$1,500出售產品給乙客戶，並移轉控制予乙客戶，且給予乙客戶一份20%之折扣券。若乙客戶在未來2個月內購買任何不超過總金額\$1,200的產品，即可享受20%折扣；甲公司評估乙客戶將有70%之可能性使用該折扣券，且依過去經驗，乙客戶平均將購買\$1,000之產品。甲公司於X1年5月10日應認列收入金額約為多少？
  - \$1,300
  - \$1,332
  - \$1,372
  - \$1,500
- 甲公司於X1年間因無法收現而沖銷應收帳款\$3,000，另外並收回前期已沖銷之信用減損帳款\$1,800。X1年期末之帳齡分析資料如下所示：

帳齡	應收帳款金額	預期信用損失比率
尚未到期	\$ 80,000	1%
60天以下	50,000	3%
60 ~ 120天	40,000	5%
120天以上	10,000	10%
合計	180,000	

甲公司經分析後，認列X1年度之預期信用減損損失\$5,000。試問在X1年1月1日，備抵損失餘額應為多少？

- 借餘\$900
- 貸餘\$1,500
- 貸餘\$3,300
- 貸餘\$6,200

- 8 甲公司在X1年12月1日與供應商簽定購買合約，承諾於X2年6月30日向供應商購買800公斤馬鈴薯，每公斤價格\$50，屆時若甲公司不執行購買合約，則須繳交合約價款的50%作為違約金。甲公司出售馬鈴薯時，係以出售當時之馬鈴薯現貨價格加計\$5作為出售價格。X1年12月31日與X2年6月30日之馬鈴薯現貨價格分別為\$38與\$42。假設甲公司採永續盤存制，下列敘述何者正確？
- (A)X1年12月31日認列購買承諾損失\$9,600  
(B)X1年12月31日認列購買承諾負債準備\$5,600  
(C)X2年6月30日認列存貨增加\$40,000  
(D)X2年6月30日認列購買承諾損失迴轉利益\$2,400
- 9 甲公司於X1年1月1日動工建造自用辦公大樓，預計於X3年3月建造完成。甲公司於X1年間分別支付下列工程款：1月1日\$400,000、4月1日\$300,000、9月1日\$400,000與12月1日\$240,000。甲公司在X1年1月1日向乙銀行專案借款\$800,000，利率10%。此外，甲公司X1年間尚有兩筆去年中發行尚未到期之非專案借款分別為：(1)2年期應付票據\$450,000，利率6%，平價發行；(2)5年期應付公司債\$350,000，票面利率8%，依面額發行。若甲公司X1年將閒置專案借款作暫時性投資產生收益\$5,000，試問X1年資本化之借款成本為多少？
- (A)\$65,672                      (B)\$83,250                      (C)\$88,250                      (D)\$112,125
- 10 X1年8月底，甲公司帳上銀行存款餘額為\$10,300，銀行對帳單餘額為\$8,500。經甲公司核對相關資料得知，造成二者金額差異之原因有：(1)銀行代收現票據\$2,600；(2)銀行代扣服務手續費\$150；(3)甲公司將客戶所開立支票\$2,500存入銀行，但後續因客戶存款不足而遭銀行退票；(4)8月底在途存款\$3,000；(5)銀行誤將乙公司之存款\$800計入甲公司之存款。另外，甲公司已開出的支票截至8月底尚有部分支票持有人仍未至銀行兌現，試問X1年8月底未兌現支票金額為多少？
- (A)\$450                      (B)\$1,250                      (C)\$2,050                      (D)\$3,950
- 11 甲公司在X1年1月1日以\$97,000價格購得乙公司發行之公司債，並支付手續費\$300，且分類為按攤銷後成本衡量之金融資產。該公司債面額\$100,000，票面利率5%，每年12月31日付息，於X3年12月31日到期。甲公司設算該公司債之有效利率為6%，並於X2年10月1日以\$99,230價格出售該公司債，另加計應計利息。甲公司出售該金融資產之損益為多少？
- (A)損失\$2,658                      (B)利益\$204                      (C)利益\$426                      (D)利益\$758
- 12 X1年7月1日早晨因暴雨引發山洪爆發，致使甲公司倉庫存貨沖失大半，災後統計剩餘之存貨殘值僅餘\$28,000。經查閱甲公司截至X1年6月30日之帳上紀錄得知：
- (1)X1年1月1日期初存貨餘額\$80,000。  
(2)X1年進貨共計\$400,000，其中包括於6月24日購買之在途存貨\$30,000，起運點交貨，預計將於7月5日抵達。另外，6月30日收到商品\$25,000，甲公司因故尚未作成紀錄。  
(3)X1年銷貨收入共計\$480,000，其中包含預計於7月1日午後交運之起運點交貨商品\$20,000（售價），但尚來不及出貨即遭遇水災。
- 若甲公司之訂價策略為依銷貨成本加成25%，試問甲公司因水災所導致之存貨損失為多少？
- (A)\$79,000                      (B)\$84,000                      (C)\$102,000                      (D)\$107,000

- 13 甲公司於X1年3月1日購入A設備，成本\$650,000，估計使用年限4年，殘值\$50,000，採年數合計法提列折舊。X3年12月1日甲公司以A設備向乙公司交換類似功能之B設備，並交付現金\$300,000，且經市場詢價得知A設備之公允價值為\$160,000。若甲公司判斷該資產交換不具商業實質，試問甲公司應認列B設備成本為多少？  
(A)\$140,000 (B)\$440,000 (C)\$460,000 (D)\$510,000
- 14 甲公司於X1年4月1日以\$300,000購入乙公司30%之股權，使乙公司成為甲公司之關聯企業。當日乙公司之帳列股東權益總額為\$1,000,000，經分析得知乙公司：(1)一批存貨之帳面金額較公允價值低估\$50,000；(2)有一未於帳上認列之專利權，公允價值為\$150,000，經濟年限為5年；(3)有一設備之帳面金額較公允價值高估\$80,000，尚可使用4年，無殘值，以直線法提列折舊；其餘各項資產與負債之帳面金額均與公允價值相同。乙公司於X1年底前出售該批存貨之80%，並於期末列報年度淨利\$150,000。若不考慮所得稅，則此項投資對甲公司X1年度損益之影響為多少？  
(A)淨利增加\$33,750 (B)淨利增加\$55,500  
(C)淨利增加\$66,000 (D)淨利增加\$84,000
- 15 甲公司會計人員為編製X5年度財務報表而蒐集相關資料如下：  
(1)X5年底與營業相關之應付帳款、合約負債、應付薪資等流動負債共計\$580,000。  
(2)甲公司在X0年發行之應付公司債將於X6年8月31日到期，X5年底帳面金額為\$320,000。  
(3)甲公司X3年向銀行借款\$450,000，該筆負債將於X6年3月1日到期。甲公司於X5年12月26日即與銀行完成再融資協議，將該借款續借至X7年12月31日到期。  
(4)甲公司有一筆負債\$240,000將於X6年4月1日到期，甲公司在期後期間X6年1月15日與銀行完成再融資協議，該負債將延期至X7年8月31日到期。  
(5)截至X5年底，甲公司發行之累積特別股有積欠特別股股利\$120,000。  
試問甲公司X5年底資產負債表之流動負債金額為多少？  
(A)\$1,590,000 (B)\$1,350,000 (C)\$1,140,000 (D)\$1,020,000
- 16 甲公司於X1年12月10日以每股\$58購入乙公司股票2,000股，另支付手續費\$230，並將之分類為透過損益按公允價值衡量之權益工具投資。X1年12月31日乙公司股票收盤價為\$55。X2年4月20日甲公司收到乙公司發放之現金股利每股\$2.5，股票股利5%。甲公司於X2年6月15日將持有之乙公司股份全數出售，出售價格每股為\$60，另支付手續費\$270。若不考慮相關稅賦，此項投資對甲公司X2年度淨利之影響金額為多少？  
(A)增加\$14,500 (B)增加\$14,730 (C)增加\$20,730 (D)增加\$21,000
- 17 甲公司於X1年1月1日開立票據向銀行借款\$100,000，利率5%，每年年底付息，將於X5年12月31日到期，有效利率為5%。甲公司因受新冠肺炎疫情影響，業務大量縮減，故向銀行申請債務協商，雙方同意自X3年1月1日起，到期本金降為\$95,000，票面利率調降為4%，債務協商當時之有效利率為6%。甲公司X3年應認列利息費用約為多少？（\$1，5%，3期複利現值因子為0.864、3期普通年金現值因子為2.723；\$1，6%，3期複利現值因子為0.840、3期普通年金現值因子為2.673）  
(A)\$3,773 (B)\$3,800 (C)\$4,621 (D)\$5,397



- 18 甲公司於X1年初給予10位員工各1,000股普通股之認股權，給予條件為員工必須繼續服務滿2年方能取得認股權。普通股面額\$10，當日股價為\$35，認股權之認購價格為\$50，估計每一個認股權之公允價值為\$18。認股權於X4年底到期。X1年底，甲公司估計有3名員工將於X2年底前離職；X2年底，實際有2名員工於既得期間前離職；X3年底，公司股價為\$80，員工們行使6,000股認股權。有關員工認股權，下列敘述何者正確？
- (A) X1年薪資費用\$60,000  
(B) X2年薪資費用\$72,000  
(C) X3年股東權益增加\$408,000  
(D) X3年資本公積－普通股發行溢價增加\$348,000
- 19 甲公司在X1年初購得一設備，成本\$900,000，估計耐用年限6年，殘值\$60,000，採直線法提列折舊，後續衡量採成本模式。X3年底該設備有減損跡象，估計使用價值\$400,000，公允價值減處分成本為\$380,000。重新估計該設備之剩餘使用年限為2年，殘值\$40,000。若X4年底該設備之使用價值為\$240,000，公允價值減處分成本為\$210,000。有關甲公司X4年之損益，下列何者正確？
- (A) 折舊費用\$220,000  
(B) 減損損失\$10,000  
(C) 減損損失\$80,000  
(D) 減損迴轉利益\$20,000
- 20 甲公司X1年度稅後淨利為\$275,000，所得稅率20%，普通股加權平均流通在外股數為100,000股。甲公司X1年有稀釋性潛在普通股：(1)平價發行之可轉換公司債，面額\$300,000，利率10%，可轉換10,000股普通股。該債券全年流通在外且無轉換；(2)5%可轉換累積特別股10,000股，面額\$50，每股特別股可轉換2股普通股。該特別股全年流通在外且無轉換。甲公司X1年之稀釋每股盈餘應為何？
- (A) \$1.25  
(B) \$2.29  
(C) \$2.30  
(D) \$2.49
- 21 甲公司為機器製造商，在X1年1月1日出售機器給乙客戶，售價\$500,000，客戶可按利率6%（月息0.5%）分20個月攤還本息，每月底付款\$26,334，當日交貨時即將機器之控制交予客戶。甲公司分析判斷乙客戶之增額借款利率為12%（月息1%）。甲公司在X1年1月1日應認列銷貨收入為何？在X1年1月31日收取客戶第一次繳款時，應認列利息收入為何？（\$1，0.5%，20期普通年金現值因子為18.987；\$1，1%，20期普通年金現值因子為18.046）
- (A) 銷貨收入\$475,223、利息收入\$4,752  
(B) 銷貨收入\$500,000、利息收入\$2,500  
(C) 銷貨收入\$500,000、利息收入\$5,000  
(D) 銷貨收入\$526,676、利息收入\$2,633

- 22 有關現金流量表之敘述，下列何者正確？
- ①國際會計準則鼓勵企業採取間接法編製現金流量表
  - ②因交易目的而購買之權益工具投資應分類為營業活動
  - ③公司發放之現金股利可分類為籌資活動或營業活動
  - ④透過其他綜合損益按公允價值衡量之金融資產因後續衡量而導致之公允價值變動應分類為投資活動
- (A)僅① (B)僅①④ (C)僅②③ (D)僅③④
- 23 甲公司於X1年4月發行20,000股可轉換特別股，每股面額\$10，以每股\$15發行，每股特別股可轉換0.8股面額\$10之普通股，該特別股及認股權均符合權益工具之條件。甲公司為提高特別股股東轉換普通股意願，於X3年5月15日宣告將特別股之轉換比率提高為每股特別股可轉換1.2股普通股，當日全數特別股均轉換為普通股，當時普通股市價為每股\$18。有關甲公司特別股轉換之影響，下列敘述何者正確？
- (A)保留盈餘增加\$60,000  
(B)資本公積－普通股發行溢價增加\$60,000  
(C)資本公積－普通股發行溢價增加\$192,000、保留盈餘減少\$132,000  
(D)資本公積－普通股發行溢價增加\$204,000、保留盈餘減少\$144,000
- 24 甲公司在X1年4月1日按面額發行\$1,000,000非累積特別股，甲公司於5年後必須以\$1,100,000贖回全部特別股。若甲公司發行類似之公司債，其有效利率為5%。另外，甲公司在X1年7月1日以\$1,154,000發行10年期公司債，面額\$1,000,000，票面利率7%，每年6月30日為付息日，設算有效利率為5%。有關此兩項金融工具在X1年底資產負債表之表達，下列敘述何者正確？（\$1，5%，5期複利現值因子為0.784、10期複利現值因子為0.614）
- (A)長期負債\$2,110,350、特別股權益\$0  
(B)長期負債\$2,047,220、特別股權益\$237,600  
(C)長期負債\$2,042,590、特別股權益\$137,600  
(D)長期負債\$1,147,850、特別股權益\$1,000,000
- 25 甲公司於X1年12月5日與乙客戶簽訂不可取消銷貨合約，以每件價格\$18銷售商品15,000件，約定於X2年1月20日交貨，預估每件商品交貨予乙客戶約需銷售費用\$3。X1年12月31日，甲公司盤點存貨共有20,000件，每件成本\$16。甲公司在X1年底出售該商品給其他客戶之價格每件為\$20，銷售費用為售價的10%。X1年底，甲公司期末存貨之淨變現價值為多少？
- (A)\$305,000 (B)\$315,000  
(C)\$320,000 (D)\$360,000

# 測驗式試題標準答案

考試名稱：112年公務人員高等考試三級考試暨普通考試

類科名稱：財稅行政、金融保險

科目名稱：會計學（試題代號：7323）

單選題數：25題

單選每題配分：2.00分

複選題數：

複選每題配分：

標準答案：

更多高普考考試科目的歷屆題庫  
立即上網搜尋“高普考歷屆考古題懶人包”  
高鋒公職補習班整理  
Line@帳號：@gaofeng  
連絡電話：07-236-7296

題號	第1題	第2題	第3題	第4題	第5題	第6題	第7題	第8題	第9題	第10題
答案	D	A	C	D	B	C	B	B	B	A

題號	第11題	第12題	第13題	第14題	第15題	第16題	第17題	第18題	第19題	第20題
答案	C	A	B	B	C	C	C	D	D	B

題號	第21題	第22題	第23題	第24題	第25題	第26題	第27題	第28題	第29題	第30題
答案	A	C	D	C	B					

題號	第31題	第32題	第33題	第34題	第35題	第36題	第37題	第38題	第39題	第40題
答案										

題號	第41題	第42題	第43題	第44題	第45題	第46題	第47題	第48題	第49題	第50題
答案										

題號	第51題	第52題	第53題	第54題	第55題	第56題	第57題	第58題	第59題	第60題
答案										

題號	第61題	第62題	第63題	第64題	第65題	第66題	第67題	第68題	第69題	第70題
答案										

題號	第71題	第72題	第73題	第74題	第75題	第76題	第77題	第78題	第79題	第80題
答案										

題號	第81題	第82題	第83題	第84題	第85題	第86題	第87題	第88題	第89題	第90題
答案										

題號	第91題	第92題	第93題	第94題	第95題	第96題	第97題	第98題	第99題	第100題
答案										

備註：

代號：31360、32360  
32460、32760  
33160—33360  
頁次：4-1

# 112年公務人員高等考試三級考試試題

類 科：勞工行政、財稅行政、金融保險、統計、經建行政、公平交易管理、商業行政  
科 目：經濟學  
考試時間：2小時

座號：\_\_\_\_\_

※注意：可以使用電子計算器。

更多高普考考試科目的歷屆題庫  
立即上網搜尋“高普考歷屆考古題懶人包”  
高鋒公職補習班整理  
Line@帳號：@gaofeng  
連絡電話：07-236-7296

甲、申論題部分：(50分)

- (一)不必抄題，作答時請將試題題號及答案依照順序寫在申論試卷上，於本試題上作答者，不予計分。
- (二)請以藍、黑色鋼筆或原子筆在申論試卷上作答。
- (三)本科目除專門名詞或數理公式外，應使用本國文字作答。

一、某一私有財的市場需求函數為 $Q = 1800 - 60P$ ，其中 $P$ 、 $Q$ 分別是價格與需求量。此私有財的市場供給是由兩群廠商所提供：每一家第1群廠商的邊際成本為 $mc_1 = 5q_1$ 、每一家第2群廠商的邊際成本為 $mc_2 = 10q_2$ ，其中 $q_i$  ( $i = 1, 2$ )是每一家第 $i$ 群廠商的產量。個別廠商所生產的商品同質且沒有固定成本。假設每一群各由100家廠商所組成。請計算並回答下列問題：  
(未提供詳細計算過程，不計分)

- (一)假設個別廠商都不能影響市場的交易價格及交易量。請問市場均衡時的交易量與交易價格分別為何？(5分)市場均衡時，第1群及第2群廠商的市場占有率分別為多少？(5分)又市場均衡時，第1群廠商總利潤與第2群廠商總利潤分別為何？(5分)
- (二)假設兩群的廠商互相勾結、訂價以極大化利潤。兩群廠商勾結後同意，第1群廠商市占率與第2群廠商市占率之比為2:1。請問在兩群廠商互相勾結之下，市場均衡的交易價格及交易量分別為何？(5分)又市場均衡時，第1群廠商總利潤與第2群廠商總利潤分別為何？(5分)

二、以下為A國某一年度經濟活動的資料(單位：億元)：

民間消費：800	投資：1000
政府支出：700	政府稅收：800
出口：1060	進口：860
A國人民在國外的勞動所得：150	A國人民援助國外：30
A國贈與外國機器設備：10	A國人民持有國外證券的報酬：50
A國人民新增外國證券投資：250	外國人新增A國證券投資：300
A國人民出售專利給國外廠商所得：20	

假設沒有其他項的交易，也沒有誤差與遺漏，請依國民所得會計帳與國際收支帳定義，回答下列問題：

- (一)分別計算A國本年度的國民所得毛額 (gross national income, GNI)、民間儲蓄毛額 (SP)、經常帳餘額 (CA)、資本帳餘額 (KA) 及央行準備與相關項目增加或減少的金額 ( $\Delta R$ )。(15分，未提供計算過程，不計分)
- (二)近3年來臺灣的超額儲蓄大幅增加，每年均超過新臺幣3兆元。請由國民所得會計恆等式推導出一國超額儲蓄 (ES) 與其經常帳餘額的關係式 (4分，未提供推導過程不計分)，並說明臺灣這幾年超額儲蓄大幅增加的兩種可能原因。(6分)

乙、測驗題部分：(50分)

代號：6313

(一)本試題為單一選擇題，請選出一個正確或最適當答案。

(二)共25題，每題2分，須用2B鉛筆在試卡上依題號清楚劃記，於本試題或申論試卷上作答者，不予計分。

1 下表為A玩具廠在固定資源下的生產組合，下列敘述何者正確？

玩偶	消防車
400	0
300	200
200	350
100	450
0	500

- (A)生產玩偶的機會成本遞減  
 (B)生產玩偶的機會成本不變  
 (C)生產玩偶的機會成本遞增  
 (D)沒有其他資訊下，不可能得知每增加1個玩偶所需的機會成本
- 2 臺灣從美國進口小麥，如果臺灣政府提高小麥進口關稅，下列敘述何者正確？  
 (A)臺灣消費者剩餘增加 (B)臺灣生產者剩餘增加  
 (C)美國生產者剩餘增加 (D)臺灣社會福利增加
- 3 對於饅頭 (M) 和麵包 (B)，某消費者的態度是當吃很多饅頭之後，會想換吃麵包，而吃了很多麵包之後，又會想換吃饅頭。下列何者可能是此消費者的效用函數？  
 (A) $U=3M+5B$  (B) $U=5M^{3/8}B^{5/8}$  (C) $U=3\log(M)+5B$  (D) $U=\min\{3M, 5B\}$
- 4 假設商品B為劣等財，下列有關替代效果和所得效果的敘述何者正確？①當商品B價格上升，在替代效果下消費者會減少對商品B的消費 ②當商品B價格下降，在所得效果下消費者會增加對商品B的消費 ③當商品B價格下降，在所得效果下消費者會減少對商品B的消費 ④當商品B價格上升，在替代效果下消費者會增加對商品B的消費  
 (A)①、③ (B)②、④ (C)僅② (D)僅③

- 5 某包子店在現有店面及設備之下，老闆發現僱用3名員工時，包子的總產量會隨員工人數增加而增加，因此又再僱用3名員工，但此時包子的總產量卻比原來還低。下列敘述何者錯誤？  
(A)再僱用這3名員工的邊際產量為負  
(B)再僱用這3名員工的平均產量低於原有員工的平均產量  
(C)再僱用這3名員工後的平均產量並沒有改變  
(D)再僱用這3名員工後的平均產量仍高於其邊際產量
- 6 長期均衡下，一廠商是否能夠享有正利潤的關鍵因素為下列何者？  
(A)廠商定價的能力 (B)各廠商產品異質化的程度  
(C)各廠商自由進出市場的能力 (D)市場需求的價格敏感程度
- 7 下列何種市場結構中比較少見廠商進行研發活動？  
(A)完全競爭市場 (B)獨占性競爭市場 (C)寡占市場 (D)獨占市場
- 8 新建築工法大幅縮短大樓工程天數，此將導致大樓建築工人的工資：  
(A)上升 (B)下降  
(C)不變 (D)無法判斷上升或下降
- 9 關於勞動需求曲線的敘述，下列何者錯誤？  
(A)勞動需求曲線指的是勞動邊際產值（value of the marginal product of labor）與勞動需求量之間的關係  
(B)勞動需求曲線是勞動需求量與勞動邊際生產力乘上薪資之間的關係  
(C)勞動需求曲線是負斜率的  
(D)薪資上漲時，會產生替代效果與產量效果，故勞動需求量可能增加也可能減少
- 10 陶瓷用品市場流行手工製品，相對於手工製品流行前，手工製品的流行將使模具製品工廠的：  
(A)模具邊際產出上升 (B)模具邊際產出下降 (C)模具邊際產值上升 (D)模具邊際產值下降
- 11 當某消費的行為存在外部成本（例如：抽菸），此時個人決策消費量和社會最適消費量二者的關係為何？  
(A)個人決策消費量等於社會最適消費量  
(B)個人決策消費量大於社會最適消費量  
(C)個人決策消費量小於社會最適消費量  
(D)個人決策消費量與社會最適消費量並無直接關聯性
- 12 某一個國家在基期（2014年）購買一籃子財貨的成本為\$86，在2013年購買的成本為\$80，在2015年購買的成本為\$90。則此國家2015年的消費者物價指數（consumer price index）及通貨膨脹率為何？  
(A)112.5且通貨膨脹率為12.5% (B)112.5且通貨膨脹率為4.6%  
(C)104.6且通貨膨脹率為4.6% (D)104.6且通貨膨脹率為12.5%
- 13 在計算本國之國民所得時，有關本國人王先生在美國出差之工作所得，下列敘述何者正確？  
(A)不應列入GNP計算  
(B)應列入為淨國民收入（Net National Income）項目內  
(C)應該列入GDP  
(D)應該同時列入本國之GDP與GNP
- 14 提款機的普及讓貨幣的流通速度加快。在古典二分（classical dichotomy）的前提之下，下列何者為最有可能發生的結果？  
(A)所得提高 (B)所得降低 (C)實質貨幣數量提高 (D)實質貨幣數量降低
- 15 若世界各國生產函數為 $Y=AK^\alpha L^{1-\alpha}$ ， $\alpha \in (0,1)$ ，其中 $Y$ 為產出， $A$ 為技術水準， $L$ 為勞動， $K$ 為資本。據此生產函數，關於新古典成長模型之收斂假說，下列敘述何者正確？  
(A)無論技術如何進步，絕對收斂假說及相對收斂假說於此均不成立  
(B)技術進步會導致各國經濟成長率高於技術進步率，則相對收斂假說不成立，但絕對收斂假說會成立  
(C)技術進步下，各國經濟成長率會等於技術進步率，則絕對收斂假說不成立，但相對收斂假說會成立  
(D)無論經濟成長率與技術進步率關係為何，絕對收斂假說及相對收斂假說均成立

- 16 當皮古效果 (Pigou effect) 存在時，下列敘述何者正確？  
(A)總合供給線呈正斜率 (B)總合供給線呈垂直線  
(C)總合需求線呈負斜率 (D)總合需求線呈水平線
- 17 當經濟體系落入流動性陷阱時，下列三項敘述，正確的有幾項？①財政政策沒有排擠效果 ②貨幣需求的利率彈性為零 ③傳統貨幣政策最有效  
(A)0項 (B)1項 (C)2項 (D)3項
- 18 有關新興凱因斯學派模型 (New Keynesian Model) 的敘述，下列何者正確？  
(A)新興凱因斯學派模型認為，並非所有的工資及物價調整都是在同一時間進行，以致於工資與物價錯開調整現象將使整體物價水準在面臨需求變動之時，呈現緩慢調整現象  
(B)在勞動契約架構下，長期總合供給曲線是正斜率，從而貨幣在短期並非中立性 (non-neutrality)  
(C)在物價黏滯 (stickiness) 下，當民眾能理性預期，清楚知道貨幣政策未來如何走向時，貨幣政策短期仍然無法影響實質產出  
(D)獨占性競爭與物價黏滯二者同為實質景氣循環模型 (Real Business Cycle Model) 與新興凱因斯學派模型中的重要特性
- 19 短期總合供給曲線和總合需求曲線交點下的產出水準：  
(A)永遠小於充分就業的產出 (B)永遠大於充分就業的產出  
(C)永遠等於充分就業的產出 (D)有可能大於、等於或小於充分就業的產出
- 20 有一個經濟體系，其商品及貨幣市場關係如下：  
消費函數： $C=25+0.8(Y-T)$ ；  
投資函數： $I=75-40r$ ；  
政府課稅： $T=25$ ；  
政府支出： $G=25$ ；  
貨幣需求： $L(Y,r)=100+Y-200r$ ；  
貨幣供給： $M^s=600$ ；假設物價指數 $P=1$ 。  
如果政府希望減少稅賦以此補貼民眾，因此決定減少1元的稅賦，但又不願意降低政府支出，因此要由中央銀行多印1元的貨幣以支應政府原來的支出。則國民所得 $Y$ 變化為何？  
(A)增加1.5元 (B)增加2.5元 (C)減少1.5元 (D)減少2.5元
- 21 假定中央銀行出售4,000萬元國庫券給商業銀行，而存款準備金比率為20%，則其效果為何？  
(A)超額準備金減少800萬元 (B)超額準備金減少2億元  
(C)貨幣供給減少約2億元 (D)貨幣供給減少約4億元
- 22 若消費函數為 $C=C_a+bY_d$ ， $C_a$ 為自發性消費支出。當可支配所得 $Y_d=10,000$ 時，消費支出 $C=20,000$ ，邊際消費傾向 $b$ 等於0.6，下列敘述何者正確？  
(A)誘發性消費支出等於10,000 (B)自發性消費支出等於6,000  
(C)平均消費支出為0.6 (D)自發性消費支出等於14,000
- 23 下列交易所涉及的金融工具，何者不包括在我國的狹義貨幣內？  
(A)公務員老張因退休將所得公保年金存入臺灣銀行活期儲蓄帳戶  
(B)小花預期美元升值而購買美元  
(C)正新公司為購買一批電腦以支票存款支付  
(D)正元為南下屏東旅遊而用金融卡自活期儲蓄存款帳戶提出現金
- 24 對於一個放款者，跨時消費模型預測實質利率下跌對當期消費影響為①，而對當期儲蓄影響為②。  
(A)①不確定；②不確定 (B)①增加；②增加  
(C)①減少；②增加 (D)①增加；②減少
- 25 貨幣學派景氣循環理論主張經濟波動可以起源於：①貨幣成長率 ②企業對投資未來獲利之看法 ③人工智能技術進步  
(A)僅① (B)僅② (C)僅③ (D)①②③

# 測驗式試題標準答案

考試名稱：112年公務人員高等考試三級考試暨普通考試

類科名稱：勞工行政、金融保險、財稅行政、統計、經建行政、公平交易管理、商業行政

科目名稱：經濟學（試題代號：6313）

單選題數：25題

單選每題配分：2.00分

複選題數：

複選每題配分：

標準答案：

更多高普考考試科目的歷屆題庫  
立即上網搜尋“高普考歷屆考古題懶人包”  
高鋒公職補習班整理  
Line@帳號：@gaofeng  
連絡電話：07-236-7296

題號	第1題	第2題	第3題	第4題	第5題	第6題	第7題	第8題	第9題	第10題
答案	C	B	B	A	C	C	A	B	D	D

題號	第11題	第12題	第13題	第14題	第15題	第16題	第17題	第18題	第19題	第20題
答案	B	C	B	D	D	C	B	A	D	B

題號	第21題	第22題	第23題	第24題	第25題	第26題	第27題	第28題	第29題	第30題
答案	C	D	B	A	A					

題號	第31題	第32題	第33題	第34題	第35題	第36題	第37題	第38題	第39題	第40題
答案										

題號	第41題	第42題	第43題	第44題	第45題	第46題	第47題	第48題	第49題	第50題
答案										

題號	第51題	第52題	第53題	第54題	第55題	第56題	第57題	第58題	第59題	第60題
答案										

題號	第61題	第62題	第63題	第64題	第65題	第66題	第67題	第68題	第69題	第70題
答案										

題號	第71題	第72題	第73題	第74題	第75題	第76題	第77題	第78題	第79題	第80題
答案										

題號	第81題	第82題	第83題	第84題	第85題	第86題	第87題	第88題	第89題	第90題
答案										

題號	第91題	第92題	第93題	第94題	第95題	第96題	第97題	第98題	第99題	第100題
答案										

備註：



代號：32320、32520  
32820、33320  
33620

頁次：4-1

# 112年公務人員高等考試三級考試試題

類 科：財稅行政、財稅法務、法制、商業行政、智慧財產行政

科 目：民法

考試時間：2小時

※注意：禁止使用電子計算器。

更多高普考考試科目的歷屆題庫  
立即上網搜尋“高普考歷屆考古題懶人包”  
高鋒公職補習班整理  
Line@帳號：@gaofeng  
連絡電話：07-236-7296

座號：\_\_\_\_\_

甲、申論題部分：(50分)

- (一)不必抄題，作答時請將試題題號及答案依照順序寫在申論試卷上，於本試題上作答者，不予計分。
- (二)請以藍、黑色鋼筆或原子筆在申論試卷上作答。
- (三)本科目除專門名詞或數理公式外，應使用本國文字作答。

一、甲乙原為夫妻，育有未成年子女丙，嗣後甲、乙感情生變離婚後，共同約定將丙事實上之保護教養事項，委由甲之母親丁監護。丙於青春時期學壞，在外參加幫派屢涉非行，丁年紀大深覺無力管教，而欲終止該委託，惟當時甲已死亡，乙已經再婚不願再管丙的事。試問：甲乙當時與丁所約定之契約性質為何？丁得否終止與乙之契約關係？(25分)

二、甲與其孫乙簽訂贈與契約書，將其所有不動產贈與乙，並約定甲贈與不動產於乙，且乙應扶養甲，嗣後乙又將此債權轉讓於丙，甲於尚未辦理所有權移轉登記前突然死亡，甲之繼承人為丁戊等二人，試問：乙或丙得否請求甲之繼承人丁戊履行原本甲應負移轉該不動產所有權之義務？(25分)

乙、測驗題部分：(50分)

代號：2323

- (一)本試題為單一選擇題，請選出一個正確或最適當答案。
- (二)共25題，每題2分，須用2B鉛筆在試卡上依題號清楚劃記，於本試題或申論試卷上作答者，不予計分。

- 1 甲乙丙三人為A法人之董事，約定僅甲乙有對外代表權，甲之權限為人事招聘，乙之權限為人事以外之綜合事務。下列敘述，何者正確？
  - (A)該代表權限制之約定得對抗任何第三人
  - (B)丙就法人一切事務，對外代表法人之限制，須以章程為之
  - (C)甲乙對外代表為人事招聘或綜合事務之權限區分，須以章程為之
  - (D)此等對丙之對外代表權限之限制，若未以章程為之，不得對抗善意第三人
- 2 甲為A屋之所有人，下列關於A屋之買賣契約，何者無效？
  - (A)甲乙訂立買賣A屋之契約，卻均不知A屋已經於該買賣契約締結之前夕，因火災而片瓦不留
  - (B)甲將A屋出租於乙，其後將A屋出賣於丙
  - (C)乙明知A屋為甲所有，卻將A屋出賣於知情之丙
  - (D)甲先將A屋出賣於乙，又將A屋出賣於丙
- 3 下列關於民法第107條代理權限制及撤回之敘述，何者錯誤？
  - (A)第三人因過失而不知其事實者，本人不得以代理權之限制及撤回對抗之
  - (B)本條亦可能構成表見代理
  - (C)相對人如不主張表見代理，則依無權代理之規定處理
  - (D)相對人明知無權代理人無代理權，或依情形可得而知，而仍與其為法律行為，則本人不負授權人之責任

- 4 依民法規定，下列關於時效中斷效力之敘述，何者錯誤？
- (A)時效因請求而中斷者，其意思表示於相對人所了解或到達相對人時，時效期間重行起算
  - (B)時效因起訴而中斷者，自受確定判決時，時效期間重行起算
  - (C)時效因聲請發支付命令而中斷者，自受支付命令之裁定確定時，時效期間重行起算
  - (D)經假執行裁定所確定之請求權，其原有消滅時效期間不滿5年者，因中斷而重行起算之時效期間為5年
- 5 甲與其配偶乙報名丙旅行社所主辦之櫻花之旅，但行前乙臨時身體不適，向丙請求改由自己已退休多年之父丁參加旅遊。丁是高齡者，可以減少旅行途中之交通費以及門票等費用，乙便請求丙退還減少之部分，丙不許。出發到當地，甲發現櫻花根本還沒有開，憤而要求終止契約，丁則繼續參加完行程，但全程都沒看到櫻花。下列敘述，何者正確？
- (A)乙於旅遊開始即變更由丁參加旅遊，因此減少之費用，得請求退還
  - (B)甲依民法第514條之7規定，終止契約時，丙應將甲送回原出發地，其所生之費用，由甲負擔
  - (C)丁雖然全程參加完行程，但沒看到櫻花時，若可歸責於丙，而不具備旅遊服務之品質，則丁得向丙請求減少費用
  - (D)旅遊完成後，旅客得隨時終止契約，但應賠償旅遊營業人因契約終止而生之損害
- 6 拍賣乃特種買賣，民法對於拍賣人之規定，下列敘述，何者錯誤？
- (A)拍賣人對於其所經營之拍賣，不得應買，亦不得使他人為其應買
  - (B)拍賣人拍板或依其他慣用之方法為賣定之表示者，拍賣因而成立
  - (C)應買人所為之應買之表示，雖有出價較高之應買，仍不失其拘束力
  - (D)拍賣人對於應買人所出最高之價，認為不足者，得不為賣定之表示而撤回其物
- 7 下列關於保證契約之敘述，何者錯誤？
- (A)保證人之先訴抗辯權，得預先拋棄
  - (B)主債務人已拋棄之抗辯，保證人不得主張
  - (C)主債務人債務履行遲延時，保證人得向其請求除去保證責任
  - (D)數人保證同一債務時，原則上應負連帶責任
- 8 甲、乙、丙以合夥方式經營事業，下列敘述，何者正確？
- (A)民法所稱合夥，係指3人以上互約出資，以經營共同事業之契約
  - (B)甲、乙、丙之出資，屬於其分別共有
  - (C)乙欲以勞務為出資，但因民法合夥契約之規定，無法為之
  - (D)事業經營中，若有發生損害而導致資本減少，原則上甲、乙、丙並無補充資本之義務
- 9 甲向乙租屋，租期3年，下列敘述，何者正確？
- (A)甲與乙約定，其租約無民法第425條第1項有關所有權讓與不破租賃規定之適用，該約定有效
  - (B)該租約不以字據訂立為必要
  - (C)甲與乙若約定，不得將房屋之一部分轉租他人，該約定無效
  - (D)甲有任意終止權
- 10 甲之轎車引擎故障，甲偷乙之轎車引擎，裝置於甲之轎車上，下列敘述，何者正確？
- (A)乙之轎車引擎與甲之轎車附合，甲取得乙之轎車引擎之所有權
  - (B)乙之轎車引擎與甲之轎車混合，甲取得乙之轎車引擎之所有權
  - (C)乙之轎車引擎與甲之轎車並未附合，甲未取得乙之轎車引擎所有權
  - (D)乙不得依所有物返還請求權之規定，請求甲返還乙之轎車引擎

- 11 甲向乙借新臺幣1,000萬元，以甲所有之A地為乙設定普通抵押權，嗣後甲將A地出租並交付於丙。債務清償期屆至，甲無力清償債務，乙聲請法院拍賣A地，由丁順利拍定取得A地之所有權。下列敘述，何者正確？
- (A)甲丙之租賃關係變成丙丁之租賃關係 (B)甲丙之租賃關係應由法院依職權終止  
(C)甲丙之租賃關係應由法院依聲請終止 (D)甲丙之租賃關係得由法院依聲請或職權終止
- 12 下列何者非屬留置權消滅之原因？
- (A)債務人或留置物所有人為債務之清償，已提出相當之擔保者  
(B)留置權人將留置物返還於留置物所有人或交付於債務人者  
(C)留置權人喪失其留置物之占有，於2年內未請求返還者  
(D)留置權所擔保之債權罹於消滅時效者
- 13 依民法規定，下列關於物權優先效力之敘述，何者正確？
- (A)擔保物權優先於用益物權  
(B)性質相容得併存之動產物權間，適用時間原則，成立在先者，優先於成立在後者  
(C)不動產物權優先於動產物權  
(D)登記優先於占有
- 14 下列關於認領之敘述，何者正確？
- (A)有事實足認其為非婚生子女之生父者，非婚生子女得向生父提起強制認領之訴  
(B)非婚生子女經生母撫育者，視為認領  
(C)胎兒既尚未出生，無受認領之權利  
(D)生父死亡後亦得向其繼承人提起認領之訴，惟此權利自生父死亡後2年間不行使而消滅
- 15 下列關於拋棄繼承之敘述，何者正確？
- (A)繼承人經其他繼承人全體同意者，得拋棄繼承  
(B)拋棄繼承，應於知悉其得繼承之時起3個月內，以書面向法院為之  
(C)拋棄繼承後，應通知因其拋棄而應為繼承之人。未為通知者，不生拋棄繼承之效力  
(D)繼承之拋棄，自拋棄時起，發生效力
- 16 下列關於遺囑執行之敘述，何者正確？
- (A)未成年人、受監護宣告或輔助宣告之人，得於法定代理人見證下，受指定為遺囑執行人  
(B)遺囑人得以遺囑指定遺囑執行人，或委託他人指定之  
(C)有封緘之遺囑，非經數繼承人其中之1人聲請鄉（鎮、區）公所公開進行開視程序，不得逕由全體繼承人共同開視之  
(D)數繼承人其中之1人於被繼承人之配偶與被繼承人之全體債權人書面同意後，得處分其與遺囑有關之遺產
- 17 甲17歲，因騎乘機車發生車禍成為植物人，家人將其安置在療養院，並聲請監護宣告。法院裁定監護後3個月，甲突然甦醒，完全回復意識，身體也活動自如。在眾人不知情下偷偷離開療養院，返家將其撞壞之機車送至機車行修理，花費新臺幣5,000元。甲與機車行訂立修理機車契約，其效力如何？
- (A)有效 (B)無效 (C)效力未定 (D)有效，但得撤銷之
- 18 法律行為標的必須符合一定之要件，始得發生法律上之效力，下列何者不屬之？
- (A)可能 (B)安全 (C)妥當 (D)合法



# 測驗式試題標準答案

考試名稱：112年公務人員高等考試三級考試暨普通考試

類科名稱：財稅行政、法制、商業行政、財稅法務、智慧財產行政

科目名稱：民法（試題代號：2323）

更多高普考考試科目的歷屆題庫  
立即上網搜尋“高普考歷屆考古題懶人包”  
高鋒公職補習班整理  
Line@帳號：@gaofeng  
連絡電話：07-236-7296

單選題數：25題

單選每題配分：2.00分

複選題數：

複選每題配分：

標準答案：

題號	第1題	第2題	第3題	第4題	第5題	第6題	第7題	第8題	第9題	第10題
答案	B	A	A	D	C	C	B	D	A	C

題號	第11題	第12題	第13題	第14題	第15題	第16題	第17題	第18題	第19題	第20題
答案	A	D	B	A	B	B	B	B	B	B

題號	第21題	第22題	第23題	第24題	第25題	第26題	第27題	第28題	第29題	第30題
答案	A	D	C	B	C					

題號	第31題	第32題	第33題	第34題	第35題	第36題	第37題	第38題	第39題	第40題
答案										

題號	第41題	第42題	第43題	第44題	第45題	第46題	第47題	第48題	第49題	第50題
答案										

題號	第51題	第52題	第53題	第54題	第55題	第56題	第57題	第58題	第59題	第60題
答案										

題號	第61題	第62題	第63題	第64題	第65題	第66題	第67題	第68題	第69題	第70題
答案										

題號	第71題	第72題	第73題	第74題	第75題	第76題	第77題	第78題	第79題	第80題
答案										

題號	第81題	第82題	第83題	第84題	第85題	第86題	第87題	第88題	第89題	第90題
答案										

題號	第91題	第92題	第93題	第94題	第95題	第96題	第97題	第98題	第99題	第100題
答案										

備註：

代號:32340  
頁次:3-1

# 112年公務人員高等考試三級考試試題

類 科：財稅行政  
科 目：租稅各論  
考試時間：2小時

更多高普考考試科目的歷屆題庫  
立即上網搜尋“高普考歷屆考古題懶人包”  
高鋒公職補習班整理  
Line@帳號：@gaofeng  
連絡電話：07-236-7296

座號：\_\_\_\_\_

※注意：禁止使用電子計算器。

甲、申論題部分：(50分)

- (一)不必抄題，作答時請將試題題號及答案依照順序寫在申論試卷上，於本試題上作答者，不予計分。
- (二)請以藍、黑色鋼筆或原子筆在申論試卷上作答。
- (三)本科目除專門名詞或數理公式外，應使用本國文字作答。

一、現行所得稅法規定：營利事業當年度之盈餘未作分配者，應就該未分配盈餘加徵營利事業所得稅。有論者謂：未分配盈餘稅妨礙資本累積，阻礙企業擴充，對資本投資有不利影響；甚至有人主張未分配盈餘稅是「反成長稅」。試就效率與稅賦公平面向，提出支持未分配盈餘應加徵營利事業所得稅之論點。(25分)

二、有「加值稅之父」稱謂的法國前稅局局長，莫里斯·洛瑞(Maurice Lauré)，曾直指加值稅的「免稅」是「惡性腫瘤」。請從效率、分配、稽徵行政與稅收四個面向，說明全面課徵加值稅下，免稅與排除的規定所造成的影響。(25分)

乙、測驗題部分：(50分)

代號：4323

- (一)本試題為單一選擇題，請選出一個正確或最適當答案。
- (二)共25題，每題2分，須用2B鉛筆在試卡上依題號清楚劃記，於本試題或申論試卷上作答者，不予計分。

- 1 學理上所稱的最適租稅(optimal taxation)，一般係指在徵收一定數額的稅收下，使得下列何者最小？  
(A)稽徵成本 (B)順從成本 (C)超額負擔 (D)逃漏稅的人數
- 2 在競爭性的勞動市場上，勞動供給曲線為後彎形狀(backward-bending supply schedule)，需求曲線為負斜率。在勞動供給曲線後彎區段，政府課徵定額(specific)工資稅，將造成工資率降低幅度較定額工資稅額為：  
(A)大 (B)相等 (C)小 (D)無法比較
- 3 假設政府對廠商的經濟利潤課稅，對利潤極大化廠商而言，下列敘述何者正確？  
(A)部分稅負可轉嫁給消費者 (B)稅負無法轉嫁  
(C)廠商減少產量來保障利潤 (D)廠商會增加產量來保障利潤
- 4 對完全競爭市場中的某項商品課徵貨物稅，且假設稽徵成本與順從成本均為0。下列敘述何者正確？  
(A)使生產者為法定納稅義務人之稅收大於使消費者為法定納稅義務人之稅收  
(B)使生產者為法定納稅義務人之稅收小於使消費者為法定納稅義務人之稅收  
(C)稅收相同情況下，從量課稅與從價課稅之經濟效果相同  
(D)法律歸宿必等於經濟歸宿
- 5 財貨A為完全競爭市場，受補償需求的價格彈性絕對值為0.2，供給曲線為一水平線。假設政府對財貨A課徵單位稅額為10元的從量稅，稅前均衡價格為100元，受補償需求量为200，課稅後產生的超額負擔為多少？  
(A)5元 (B)20元 (C)2,000元 (D)200,000元

- 6 乒乓球與乒乓球拍為互補品，假設此兩財貨的供給曲線皆為水平線，需求曲線則為負斜率。若政府原本只對乒乓球課稅，現若開始對乒乓球拍課稅，則根據次佳理論，對乒乓球與乒乓球拍課稅的超額負擔比只對乒乓球課稅的超額負擔：
- (A)必然增加 (B)必然降低 (C)可能降低 (D)必然不變
- 7 若商品經課稅後之未受補償反應（uncompensated response）為零，下列敘述何者正確？
- (A)沒有替代效果 (B)沒有所得效果 (C)仍會產生超額負擔 (D)不會扭曲資源配置
- 8 關於庇古稅（Pigouvian tax）與租稅互動效果（tax-interaction effect）之敘述，下列何者正確？
- (A)庇古稅與租稅互動效果無關  
(B)租稅互動效果指的是課徵庇古稅，擴大勞動市場的超額負擔  
(C)租稅互動效果是由課徵消費稅產生的  
(D)租稅互動效果是由課徵土地稅產生的
- 9 關於柯列特—漢格（Corlett-Hague）法則之敘述，下列何者正確？
- (A)可以推翻雷姆西（Ramsey）法則的結果  
(B)當有兩商品時，有效率的租稅應對休閒的互補商品課徵較低的稅率  
(C)對休閒的互補財課稅，目的是在間接減少對休閒的需求  
(D)對與休閒有關的商品都課相同的稅率
- 10 甲與乙二人的效用函數相同，自由選擇在二家公司任職及支出。甲任職的公司提供免費的健身休閒設施，乙任職的公司則無，而二人的稅後淨報酬相等。若政府未對甲享用免費的健身休閒設施課稅，主要係參酌下列那一項公平原則？
- (A)傳統水平公平的定義 (B)水平公平的規則定義  
(C)水平公平的效用定義 (D)稅制轉變的公平定義
- 11 對有非薪資所得的代表性個人，就其所有所得課徵比例所得稅，或僅就薪資所得課徵比例薪資所得稅，關於此兩種租稅對勞動供給曲線影響的差異，下列敘述何者正確？
- (A)只有前者會使其移動 (B)只有後者會使其移動  
(C)兩者皆會使其移動 (D)兩者皆不會使其移動
- 12 當引進供給曲線為水平線的國際資金時，在可貸資金市場（loanable funds market）且國內資金之供給與需求分別符合供給法則與需求法則下，政府若採取只對國內儲蓄的利息收入課稅的政策，國內均衡的投資會如何變化？
- (A)減少 (B)不變 (C)增加 (D)不一定
- 13 甲在20年前以60萬元購入一資產，20年後以90萬元出售該資產。在資產持有期間，物價上漲率為50%。在不計入賣出此資產利得前，甲的綜合所得淨額已達最高課稅級距的稅率40%。若政府對物價變動予以指數化調整，則甲出售該資產的所得稅稅負，相較於沒有指數化調整，會產生多少影響？
- (A)增加12萬元 (B)增加36萬元 (C)減少12萬元 (D)減少36萬元
- 14 甲投資國內金融機構核准成立的證券投資信託基金，甲（受益人）對於該基金相關信託利益之所得課稅方式，下列敘述何者正確？
- (A)該基金當年度收入減成本費用後有所得時，由甲併入所得發生年度之綜合所得稅申報  
(B)由該基金為納稅義務人，依規定期限內辦理申報納稅  
(C)該基金信託利益無須課稅  
(D)該基金實際分配信託利益時，由受益人併入分配年度所得額課稅
- 15 下列各項所得，何者不一定符合我國之免稅所得規定？
- (A)公教人員所領的特支費  
(B)甲出車禍，肇事方賠償他的賠償金  
(C)乙於家族旅行途中意外死亡，公司給予其遺族撫卹金  
(D)丙因受傷從保險公司所領取之保險給付

- 16 外國公司在臺灣設立之分公司，在中華民國境內經營國際運輸業務，成本費用分攤計算困難，得向財政部申請核定以中華民國境內營業收入之一定比率計算所得額，下列比率何者正確？  
(A)10% (B)15% (C)25% (D)30%
- 17 根據新古典模型理論，下列何項租稅措施可有效提升廠商的投資意願？  
(A)調降個人所得稅稅率 (B)調降廠商的固定資本投資租稅抵減額  
(C)調高公司所得稅稅率 (D)調降折舊費用
- 18 所得稅法有關呆帳損失之規定，下列敘述何者錯誤？  
(A)營利事業提列備抵呆帳，以各種欠款債權餘額1%限度內提列為原則  
(B)營利事業依法得列報實際發生呆帳之比率超過1%者，得以前3年度實際發生呆帳之比率平均數提列備抵呆帳  
(C)應收帳款因債務人倒閉逃匿致不能收回者，得視為實際發生呆帳損失  
(D)債權列入呆帳損失後收回者，收回數額應列為收回年度之收益
- 19 我國A公司持有國外B公司60%的股份，其中B公司名下資產除現金200萬元外，僅有一棟於110年1月購入位於新北市價值5,000萬元的房地產。假設A公司於110年10月將名下所有B公司之持股出售，該股份交易所應如何納稅？  
(A)無須繳納營利事業所得稅  
(B)併入A公司當年度的基本所得額計算所得稅額  
(C)依我國營利事業所得稅率20%繳稅  
(D)按稅率45%計算稅額
- 20 關於各種租稅課徵之主要理由，下列敘述何者錯誤？  
(A)菸酒稅是基於寓禁於徵的考量 (B)奢侈稅是基於公平的考量  
(C)房地合一稅是經濟成長的考量 (D)碳關稅是基於資源配置效率的考量
- 21 關於加值型及非加值型營業稅法之免稅規定，下列敘述何者錯誤？  
(A)銷售免稅貨物之營業人，其進貨及銷貨階段皆免於課徵營業稅  
(B)銷售免稅貨物之營業人，得申請核准放棄免稅規定  
(C)銷售免稅貨物之營業人，免稅貨物之進項稅額不能扣抵  
(D)金條、金幣及純金的金飾為免稅貨物
- 22 有關不動產信託課稅之敘述，下列何者錯誤？  
(A)信託關係存續中的房屋，房屋稅納稅義務人為受託人  
(B)受託人就受託土地，於信託關係存續中有償移轉土地所有權，土地增值稅納稅義務人為受託人  
(C)信託關係存續中的土地，地價稅納稅義務人為委託人  
(D)信託行為成立，委託人與受託人間移轉土地所有權時，不課徵土地增值稅
- 23 在各地區租稅與效益聯合變動，人們充分自由遷徙以選擇適宜居住地，可謂適用財產稅課徵的那一個觀點？  
(A)傳統地上物課稅觀點 (B)新觀點  
(C)使用費觀點 (D)差別稅率觀點
- 24 依相關稅法規定，作農業使用之農業用地，下列敘述何者錯誤？  
(A)不屬於地價稅課徵範圍  
(B)移轉後由承受人繼續耕作者，免徵土地增值稅  
(C)贈與子女後繼續耕作者，免徵贈與稅  
(D)子女繼承後繼續耕作者，免徵遺產稅
- 25 甲於111年8月1日出售一筆自用住宅用地，實際成交價為1,400萬元，申報移轉現值總價為1,000萬元，繳納土地增值稅300萬元，於111年12月1日重購另一筆自用住宅用地，實際購入價為1,300萬元，申報移轉現值總價為1,200萬元，依土地稅法規定，甲可以申請退還若干土地增值稅？  
(A)無法退稅 (B)100萬元 (C)200萬元 (D)300萬元



# 測驗式試題標準答案

考試名稱：112年公務人員高等考試三級考試暨普通考試

類科名稱：財稅行政

科目名稱：租稅各論（試題代號：4323）

單選題數：25題

單選每題配分：2.00分

複選題數：

複選每題配分：

標準答案：

更多高普考考試科目的歷屆題庫  
立即上網搜尋“高普考歷屆考古題懶人包”  
高鋒公職補習班整理  
Line@帳號：@gaofeng  
連絡電話：07-236-7296

題號	第1題	第2題	第3題	第4題	第5題	第6題	第7題	第8題	第9題	第10題
答案	C	A	B	C	B	A	C	B	C	C

題號	第11題	第12題	第13題	第14題	第15題	第16題	第17題	第18題	第19題	第20題
答案	A	B	C	D	C	A	A	A	D	C

題號	第21題	第22題	第23題	第24題	第25題	第26題	第27題	第28題	第29題	第30題
答案	A	C	C	B	D					

題號	第31題	第32題	第33題	第34題	第35題	第36題	第37題	第38題	第39題	第40題
答案										

題號	第41題	第42題	第43題	第44題	第45題	第46題	第47題	第48題	第49題	第50題
答案										

題號	第51題	第52題	第53題	第54題	第55題	第56題	第57題	第58題	第59題	第60題
答案										

題號	第61題	第62題	第63題	第64題	第65題	第66題	第67題	第68題	第69題	第70題
答案										

題號	第71題	第72題	第73題	第74題	第75題	第76題	第77題	第78題	第79題	第80題
答案										

題號	第81題	第82題	第83題	第84題	第85題	第86題	第87題	第88題	第89題	第90題
答案										

題號	第91題	第92題	第93題	第94題	第95題	第96題	第97題	第98題	第99題	第100題
答案										

備註：

代號：32350  
32650  
頁次：3-1

# 112年公務人員高等考試三級考試試題

類 科：財稅行政、會計  
科 目：財政學  
考試時間：2小時

更多高普考考試科目的歷屆題庫  
立即上網搜尋“高普考歷屆考古題懶人包”  
高鋒公職補習班整理  
Line@帳號：@gaofeng  
連絡電話：07-236-7296

座號：\_\_\_\_\_

※注意：禁止使用電子計算器。

甲、申論題部分：(50分)

- (一)不必抄題，作答時請將試題題號及答案依照順序寫在申論試卷上，於本試題上作答者，不予計分。
- (二)請以藍、黑色鋼筆或原子筆在申論試卷上作答。
- (三)本科目除專門名詞或數理公式外，應使用本國文字作答。

一、何謂薩穆爾遜條件 (Samuelson conditions)？請以兩財貨、兩消費者及凹向原點的生產可能曲線為基礎，繪圖詳細說明此條件如何導出及其意義。(25分)

二、請以無差異曲線分析法繪圖詳細說明，在休閒為正常財且勞動供給曲線為正斜率的假設下，對有非薪資所得的代表性個人，課徵相同稅率的比例薪資所得稅或比例所得稅，對其勞動供給的影響及其差異。(25分)

乙、測驗題部分：(50分)

代號：5323

- (一)本試題為單一選擇題，請選出一個正確或最適當答案。
- (二)共25題，每題2分，須用2B鉛筆在試卡上依題號清楚劃記，於本試題或申論試卷上作答者，不予計分。

- 1 若公司盈餘全數會用於投資，今有一政府投資計畫之資金來自提高公司所得稅，則此公共計畫之折現率為：
  - (A)公司投資之稅前報酬率
  - (B)公司投資之稅後報酬率
  - (C)公司投資之稅前報酬率與稅後報酬率擇一
  - (D)稅前報酬率與稅後報酬率相加除以2
- 2 下列何種理論可以解釋公共支出可能存在「由奢入儉難」的性質？
  - (A)財政幻覺 (Fiscal illusion)
  - (B)制輪效果 (Ratchet effect)
  - (C)位移效果 (Displacement effect)
  - (D)巨靈假說 (Leviathan hypothesis)
- 3 有二個計畫成本相同，X計畫確定有1,000元的效益；Y計畫有50%機率產生1,600元的效益、50%機率產生400元的效益，若考慮風險趨避，則會投資那一計畫？
  - (A)X計畫
  - (B)Y計畫
  - (C)X、Y計畫擇一
  - (D)X、Y計畫均不投資
- 4 A與B兩人受益於一純粹公共財，且兩人的需求曲線分別是： $P_A=150-Q_A$ ， $P_B=200-2Q_B$ ，其中Q是公共財數量。在林達爾 (E. Lindahl) 均衡時，下列敘述何者正確？
  - (A)當公共財提供的邊際成本為25時，公共財最適提供量為125
  - (B)當公共財提供的邊際成本為110時，公共財最適提供量為90
  - (C)當公共財最適提供量為100單位時，A與B兩人各分擔50元
  - (D)當公共財最適提供量為50單位時，A與B兩人各分擔100元

- 5 根據鄧恩斯 (Downs) 的理性選民假說，下列何者會提高理性選民的投票率？①偏好的結果所帶來的效用較大 ②偏好的結果勝出的機率較高 ③選民投票成本提高  
(A)僅①② (B)僅②③ (C)僅① (D)僅②
- 6 在完全競爭市場下，如果分別出現了公共財與正外部性的現象時，下列敘述何者正確？  
(A)公共財的出現會造成效率的損失，但正外部性則不會  
(B)由市場自行決定的均衡數量均會大於社會的最適數量  
(C)均可透過丁波 (C. Tiebout) 模型來達成社會的最適數量  
(D)均會造成市場的失靈
- 7 下列何者不是我國全民健康保險制度的特性？  
(A)所繳交的保險費高低與所享有的保險給付無關  
(B)按照個人的健康風險程度收取保險費  
(C)一般保費原則由勞資政三方共同負擔  
(D)強制納保
- 8 下列何者較適合描述當個人面對經濟學中賽局理論中囚犯困境的情況？  
(A)出現政府失靈  
(B)出現市場失靈  
(C)納許均衡 (Nash equilibrium) 達到柏瑞圖最適狀態  
(D)若雙方選擇合作的結果為柏瑞圖最適狀態
- 9 下列有關拉弗曲線 (Laffer curve) 之敘述，何者正確？  
(A)橫軸為稅基，縱軸為稅收的關係  
(B)呈現稅收隨著稅基增加而增加的關係  
(C)可說明課稅影響勞動供給者的工作意願  
(D)在拉弗曲線前段，當稅基增加1%，納稅人所需負擔的稅負增加大於1%
- 10 下列何者不是政府財政的主要功能？  
(A)穩定功能 (B)分配功能 (C)配置功能 (D)司法功能
- 11 甲國某年國內生產毛額1,000億元，消費者物價指數年增率10%，經濟成長率5%，失業率2%，租稅收入總額100億元，請問甲國之租稅負擔率為何？  
(A)10% (B)9% (C)8% (D)5%
- 12 關於我國勞工退休金的提繳，下列敘述何者錯誤？  
(A)勞工得自願提繳退休金  
(B)勞工自願提繳在其每月工資6%範圍內，得自當年度個人綜合所得總額中全數扣除  
(C)雇主應為適用勞動基準法之勞工，按月提繳退休金儲存勞工退休金個人專戶  
(D)雇主、自營作業者、攤販等不可以參與提繳及請領退休金
- 13 憲法第19條規定人民有依法律納稅之義務，稱為：  
(A)租稅屬人主義 (B)信賴保護原則 (C)租稅法律主義 (D)實質課稅原則
- 14 某甲年所得10萬元，其所得稅負為1萬元；某乙年所得30萬元，其所得稅負為5萬元。請問該所得稅制應為何種稅制？  
(A)累進稅 (B)累退稅 (C)比例稅 (D)定額稅
- 15 下列敘述之組合，何者正確？①不動產財產稅較適合劃歸為國稅 ②對土地課徵財產稅不會產生超額負擔 ③對貨物課徵單階段消費稅多在出廠時徵收 ④支出稅具直接稅性質  
(A)①②④ (B)①③④ (C)僅②③ (D)②③④

- 16 房地產稅的價值評估有所謂的：收益還原法（income capitalization method, ICM）、重置成本法（replacement cost method, RCM），而出租之商業用房地產（BP）與自營之工業用房地產（FP）分別較適用何種方法評估？
- (A)BP與FP都較適合用ICM (B)BP較適合用ICM，FP較適合用RCM  
(C)BP與FP都較適合用RCM (D)BP較適合用RCM，FP較適合用ICM
- 17 轉手稅（turnover tax）是下列何種型態的消費稅？
- (A)單階段加值型 (B)單階段毛額型 (C)多階段加值型 (D)多階段毛額型
- 18 假設X財貨的需求曲線為 $P=200-Q$ ，且每生產一單位X財貨的邊際成本為50元，同時也會造成30元的邊際外部成本。在完全競爭下，政府以課徵庇古稅來達到社會最適數量時，可獲得多少稅收？
- (A)2,400元 (B)3,600元 (C)4,500元 (D)6,000元
- 19 我國地方政府的稅目中，下列何者近年來的收入最低？
- (A)地價稅 (B)土地增值稅 (C)房屋稅 (D)契稅
- 20 如果地方政府所提供的某一種地方公共財發生外溢效果（spillover effect）且影響少數地方政府時，下列處理方式，何者較適當？
- (A)改由中央政府統一提供 (B)由地方政府間協商  
(C)受影響的地方轄區合併 (D)減少該地方公共財的提供
- 21 若政府對不動產以從價方式課徵財產持有稅，其他條件不變下，有關租稅資本化之敘述，下列何者錯誤？
- (A)若租稅可完全資本化，則資產每年報酬折現值下降  
(B)若資產持有人無法改變供給量，將負擔全部財產稅  
(C)若資產供給有彈性，稅後資產之均衡交易價格可能提高  
(D)若資產供給無彈性，資產購買者需負擔全部稅負
- 22 目前有關公共債務法及預算法之規定，下列敘述何者正確？
- (A)政府不得制定法律排除公共債務法之規定，但是得排除預算法之規定  
(B)政府不得制定法律排除預算法之規定，但是得排除公共債務法之規定  
(C)政府不得制定法律排除公共債務法及預算法之規定  
(D)政府得制定法律排除公共債務法及預算法之規定
- 23 有關羅威（IT. Lowi）所提出的政治鐵三角理論之敘述，下列何者錯誤？
- (A)國會議員與利益團體之間的共生關係  
(B)利益團體與行政機關之間的共生關係  
(C)政治鐵三角為一個公共體系，不具排他性  
(D)鐵三角存在有密切的利益互動關係
- 24 有關公共年金財務規劃方式的確定給付制及確定提撥制，下列敘述何者正確？
- (A)確定給付制屬於量入為出，確定提撥制則是量出為入的概念  
(B)確定給付制下，無須設置基金  
(C)我國勞工保險財務規劃，都屬於確定提撥制  
(D)確定給付制較容易因社會、經濟、人口結構變化等因素，造成年金制度財務不穩定
- 25 下列對林達爾公共財自願交易模型下均衡數量的敘述，何者正確？
- (A)符合效率且每人願付價格一定相同 (B)符合效率但每人願付價格並不同  
(C)符合量能公平且社會的無謂損失最小 (D)符合量能公平但社會的無謂損失最大

# 測驗式試題標準答案

考試名稱：112年公務人員高等考試三級考試暨普通考試

類科名稱：財稅行政、會計

科目名稱：財政學（試題代號：5323）

更多高普考考試科目的歷屆題庫  
立即上網搜尋“高普考歷屆考古題懶人包”  
高鋒公職補習班整理  
Line@帳號：@gaofeng  
連絡電話：07-236-7296

單選題數：25題

單選每題配分：2.00分

複選題數：

複選每題配分：

標準答案：

題號	第1題	第2題	第3題	第4題	第5題	第6題	第7題	第8題	第9題	第10題
答案	A	B	A	D	A	D	B	D	C	D

題號	第11題	第12題	第13題	第14題	第15題	第16題	第17題	第18題	第19題	第20題
答案	A	D	C	A	D	B	D	B	D	B

題號	第21題	第22題	第23題	第24題	第25題	第26題	第27題	第28題	第29題	第30題
答案	D	D	C	D	B					

題號	第31題	第32題	第33題	第34題	第35題	第36題	第37題	第38題	第39題	第40題
答案										

題號	第41題	第42題	第43題	第44題	第45題	第46題	第47題	第48題	第49題	第50題
答案										

題號	第51題	第52題	第53題	第54題	第55題	第56題	第57題	第58題	第59題	第60題
答案										

題號	第61題	第62題	第63題	第64題	第65題	第66題	第67題	第68題	第69題	第70題
答案										

題號	第71題	第72題	第73題	第74題	第75題	第76題	第77題	第78題	第79題	第80題
答案										

題號	第81題	第82題	第83題	第84題	第85題	第86題	第87題	第88題	第89題	第90題
答案										

題號	第91題	第92題	第93題	第94題	第95題	第96題	第97題	第98題	第99題	第100題
答案										

備註：

代號：32380  
頁次：4-1

# 112年公務人員高等考試三級考試試題

類 科：財稅行政  
科 目：稅務法規  
考試時間：2小時

※注意：可以使用電子計算器。

更多高普考考試科目的歷屆題庫  
立即上網搜尋“高普考歷屆考古題懶人包”  
高鋒公職補習班整理  
Line@帳號：@gaofeng  
連絡電話：07-236-7296

座號：\_\_\_\_\_

甲、申論題部分：(50分)

- (一)不必抄題，作答時請將試題題號及答案依照順序寫在申論試卷上，於本試題上作答者，不予計分。
- (二)請以藍、黑色鋼筆或原子筆在申論試卷上作答。
- (三)本科目除專門名詞或數理公式外，應使用本國文字作答。

一、請依我國稅捐稽徵法規定，回答下列問題：

- (一)納稅義務人不能於法定期間內繳清稅捐者，在那些情形下得於規定納稅期限內，向稅捐稽徵機關申請分期繳納？若核准分期繳納，該如何加計利息？(17分)
- (二)納稅義務人逾期繳納稅款應如何加徵滯納金？在何種情況下得免予加徵滯納金？(8分)

二、請依我國所得稅法規定，回答下列問題：

- (一)何謂「就源扣繳」、「分離課稅」、「分開計稅合併報繳」？「就源扣繳」、「分離課稅」在居住者、非居住者間有何異同？(15分)
- (二)請說明房地合一自住房地租稅優惠之條件、優惠方式分別為何？(10分)

乙、測驗題部分：(50分)

代號：8323

- (一)本試題為單一選擇題，請選出一個正確或最適當答案。
- (二)共25題，每題2分，須用2B鉛筆在試卡上依題號清楚劃記，於本試題或申論試卷上作答者，不予計分。

- 1 下列有關我國現行房地合一所得稅制度之敘述，何者錯誤？
  - (A)稅率依持有期間而不同
  - (B)營利事業出售之房地需併入當年度營利事業所得額課稅
  - (C)個人出售房地未提示因取得、改良及移轉而支付之費用者得以成交價3%計算其費用，上限為30萬元
  - (D)個人之房屋土地之交易所得，應自完成移轉登記日之次日起30日內辦理申報
- 2 下列有關營利事業盈虧互抵之敘述，何者正確？①我國採後延10年 ②公司、獨資及合夥組織皆適用 ③需會計帳冊簿據完備 ④虧損及申報扣除年度均使用藍色申報書或經會計師查核簽證並如期申報 ⑤營利事業之證券交易損失得後延10年
  - (A)①②③④⑤ (B)①②③④ (C)①③④⑤ (D)①③④
- 3 國內甲公司持有A國A公司100%股份，在下列何種情況下，甲公司可能需按持有股份之比率及持有期間，認列A公司投資收益，計入當年度所得額課稅？
  - (A)A公司在A國有實質營運活動 (B)A國公司所得稅稅率為15%
  - (C)A國公司所得稅採屬地主義 (D)A公司盈餘為600萬元

- 4 下列何種情形下，土地移轉得申請不課徵土地增值稅？①作農業使用之農業用地，移轉與自然人  
②因繼承而移轉之土地 ③配偶贈與之土地 ④因公司合併而移轉土地  
(A)①③ (B)①②③ (C)①③④ (D)①②③④
- 5 下列核課期間之起算，何者錯誤？  
(A)111年綜合所得稅於112年5月15日申報，其核課期間自112年5月15日起算  
(B)111年綜合所得稅於112年6月15日申報，其核課期間自112年6月1日起算  
(C)111年地價稅於111年12月5日繳納，核課期間自111年12月1日起算  
(D)土地增值稅自契約訂約日起算
- 6 納稅義務人或其負責人經限制出境後，下列那一情形，得解除其出境限制？  
(A)限制出境已逾3年  
(B)欠稅之公司或有限合夥組織已依法解散清算  
(C)納稅義務人對核定稅捐處分依法提起行政救濟，經訴願或行政訴訟撤銷須另為處分確定  
(D)經行政救濟及處罰程序終結，確定之欠稅及罰鍰合計金額為350萬元
- 7 納稅義務人向稅捐稽徵機關申請分期繳納之規定，下列何者錯誤？  
(A)核准分期繳納之期間，不得逾三年  
(B)因客觀事實發生財務困難，應繳納之遺產稅可申請分期  
(C)應依各年度一月一日郵政儲金一年期定期儲金固定利率，按日加計利息  
(D)個人在新臺幣100萬元以上，營利事業在新臺幣200萬元以上者，稅捐稽徵機關得要求納稅義務人提供相當擔保
- 8 甲於111年買房地一筆，其中土地公告現值為120萬元，房屋現值80萬元，請問甲應繳多少契稅？  
(A)免徵 (B)32,000元 (C)48,000元 (D)120,000元
- 9 基本生活費差額之計算，不會考慮納稅者申報之下列何項金額？  
(A)全部免稅額 (B)薪資所得特別扣除額  
(C)儲蓄投資特別扣除額 (D)列舉扣除額
- 10 納稅者權利保護法對於稅捐稽徵機關推計課稅之規定，下列敘述何者錯誤？  
(A)納稅者已依稅法規定履行協力義務者，稅捐稽徵機關不得依推計結果處罰  
(B)有二種以上之方法時，應依金額最低之方法為之  
(C)應斟酌與推計具有關聯性之一切重要事項，依合理客觀之程序及適切之方法為之  
(D)對於課稅基礎，經調查仍不能確定或調查費用過鉅時，為維護課稅公平原則，方能推計課稅
- 11 民國110年12月17日修正公布之稅捐稽徵法第41條，對於納稅義務人以詐術或其他不正當方法逃漏稅捐金額達一定門檻者，可處1年以上7年以下有期徒刑，併科新臺幣1千萬元以上1億元以下罰金；該門檻為下列何者？  
(A)個人或營利事業逃漏稅額在新臺幣1千萬元以上者  
(B)個人逃漏稅額在新臺幣1千萬元以上，營利事業逃漏稅額在新臺幣5千萬元以上者  
(C)個人或營利事業逃漏稅額在新臺幣5百萬元以上者  
(D)個人逃漏稅額在新臺幣5百萬元以上，營利事業逃漏稅額在新臺幣1千萬元以上者

- 12 下列應納入個人所得課徵綜合所得稅之給付，何者錯誤？
- (A)營利事業對員工醫藥費之補助給付 (B)職工福利委員會發放之生日禮券  
(C)公教軍警人員所領取之主管職務加給 (D)員工分紅配股股票時價超過面額之差額
- 13 甲從事攝影工作，111年度薪資收入總額900萬元。為工作上之需要，當年1月1日實際負擔購置專供工作上使用之攝影器材等費用90萬元（效能非2年內所能耗竭且支出超過8萬元），按平均法分3年攤提折舊。甲最低須申報111年度之薪資所得為：（111年度綜合所得稅之薪資所得特別扣除額，每人每年扣除數額以20萬7,000元為限。）
- (A)900萬元 (B)879萬3,000元 (C)873萬元 (D)870萬元
- 14 下列何者並非執行業務所得？
- (A)法人股東派員擔任董監事，法人所具領之車馬費、董監事酬勞  
(B)執業會計師代理公司申請復查所收取之費用  
(C)在臺灣拍攝、剪輯影片、上傳影片之個人Youtuber，接獲廠商業配合作之所得  
(D)個人仲介透過不動產買賣收取的仲介報酬
- 15 下列何者非屬可列舉扣除項目？
- (A)候選人競選經費之支出 (B)災害損失  
(C)財產交易損失 (D)房屋租金支出
- 16 A公司非金融業者，t-1期期初，備抵呆帳餘額為300,000元；t-1期期末，應收帳款與應收票據餘額分別為15,000,000元與25,000,000元。t期內，實際發生呆帳800,000元；t期期末，應收帳款與應收票據餘額分別為10,000,000元與20,000,000元。t期期末應提列呆帳金額為何？
- (A)300,000元 (B)400,000元 (C)700,000元 (D)800,000元
- 17 下列有關營利事業房屋、土地交易所得課稅之敘述，何者錯誤？
- (A)總機構在中華民國境內之營利事業，持有房屋、土地之期間超過5年者，稅率為20%  
(B)依土地稅法規定繳納之土地增值稅，不得列為成本費用  
(C)當年度房屋、土地交易損失，應先自當年度適用相同稅率之房屋、土地交易所得中減除  
(D)獨資、合夥組織營利事業之房屋、土地交易所得額，不計入獨資、合夥組織營利事業之所得額
- 18 下列有關營利事業所得額計算之敘述，何者錯誤？
- (A)所得額之計算，涉有應稅所得及免稅所得者，其相關之成本、費用或損失，除可直接合理明確歸屬者，得個別歸屬認列外，應作合理之分攤  
(B)營利事業持有之短期票券發票日在中華民國99年1月1日以後者，其利息所得除依規定扣繳稅款外，不計入營利事業所得額  
(C)營利事業帳載應付未付之帳款、費用、損失及其他各項債務，逾請求權時效尚未給付者，應於時效消滅年度轉列其他收入，俟實際給付時，再以營業外支出列帳  
(D)營利事業所得之計算，以其年度收入總額減除各項成本費用、損失及稅捐後之純益額為所得額



- 19 車商以65萬元向個人購入舊乘人小汽車一輛後，整修時因施工不慎，造成內裝瑕疵，乃以60萬元（不含銷項稅額）降價售出。營業人於申報該輛舊乘人小汽車銷售額之當期，得扣抵之進項稅額上限為何？
- (A)28,571元                      (B)30,000元                      (C)30,952元                      (D)32,500元
- 20 彩色電視機進口關稅稅率為10%（第一欄稅率，適用於世界貿易組織會員，或與我國有互惠國家或地區），貨物稅稅率為13%；A家電公司進口液晶電視，關稅完稅價格為50,000元，應納貨物稅為多少元？
- (A)4,545元                      (B)5,752元                      (C)6,500元                      (D)7,150元
- 21 某丁為設籍高雄市之中華民國國民。102年5月，因病於美國馬里蘭州巴爾的摩郡住所去世；死亡前2年內，在境內居留時間僅有30天。下列有關其遺產稅課稅之敘述，何者正確？
- (A)死亡地不在境內，不須繳納遺產稅                      (B)就死亡時在境內之遺產，課徵遺產稅  
(C)就死亡時在境外之遺產，課徵遺產稅                      (D)就死亡時在境內外之全部遺產，課徵遺產稅
- 22 甲於112年5月間代理其子乙與出賣人丙簽訂土地買賣契約；土地公告現值為1,655萬7,600元，買賣總價款為5,698萬元。因乙資金不夠，甲自銀行帳戶提領900萬元轉存乙同銀行帳戶，嗣乙開立支票給付土地價款，該土地並登記為乙所有。經查乙給付土地價款之資金來源其中900萬元確實來自甲，又甲無法提供相關文件證實其與乙之間有借貸關係存在，根據遺產及贈與稅法規定，應核定贈與總額為何？（財政部公告112年發生之贈與案件適用之免稅額為244萬元。）
- (A)17萬5,276元                      (B)261萬5,276元                      (C)656萬元                      (D)900萬元
- 23 下列關於重新規定地價與申報地價之敘述，何者正確？
- (A)規定地價後，每3年重新規定地價一次  
(B)土地所有權人於公告期間申報地價者，其申報之地價超過公告地價120%時，以公告地價120%為其申報地價  
(C)公告及申報地價，其期限為40日  
(D)土地所有權人未於公告期間申報地價者，以公告地價為其申報地價
- 24 甲以新建完成供住家用自住之房屋，同時供作其記帳及報稅代理事務所使用。房屋面積為180平方公尺，實際執行業務所使用面積為15平方公尺。假設該房屋每平方公尺核定單價為3,000元，其他供住家用房屋稅率為1.5%，非住家用房屋供營業、私人醫院、診所或自由職業事務所使用者稅率為3%，非住家房屋非營業使用者稅率為2%；全年應納房屋稅額為：
- (A)7,200元                      (B)7,290元                      (C)8,100元                      (D)9,450元
- 25 下列對於房屋空置不為使用者房屋稅課徵之敘述，何者錯誤？
- (A)按使用執照所載用途課稅  
(B)根據房屋稅條例規定加徵空屋稅  
(C)按都市計畫使用分區規範，以非自住之住家用稅率課稅  
(D)按都市計畫使用分區規範，以非住家非營業用稅率課稅

# 測驗式試題標準答案

考試名稱：112年公務人員高等考試三級考試暨普通考試

類科名稱：財稅行政

科目名稱：稅務法規（試題代號：8323）

單選題數：25題

單選每題配分：2.00分

複選題數：

複選每題配分：

標準答案：

更多高普考考試科目的歷屆題庫  
立即上網搜尋“高普考歷屆考古題懶人包”  
高鋒公職補習班整理  
Line@帳號：@gaofeng  
連絡電話：07-236-7296

題號	第1題	第2題	第3題	第4題	第5題	第6題	第7題	第8題	第9題	第10題
答案	B	D	C	A	D	C	B	C	B	B

題號	第11題	第12題	第13題	第14題	第15題	第16題	第17題	第18題	第19題	第20題
答案	B	C	C	A	C	C	B	B	B	D

題號	第21題	第22題	第23題	第24題	第25題	第26題	第27題	第28題	第29題	第30題
答案	D	B	B	C	B					

題號	第31題	第32題	第33題	第34題	第35題	第36題	第37題	第38題	第39題	第40題
答案										

題號	第41題	第42題	第43題	第44題	第45題	第46題	第47題	第48題	第49題	第50題
答案										

題號	第51題	第52題	第53題	第54題	第55題	第56題	第57題	第58題	第59題	第60題
答案										

題號	第61題	第62題	第63題	第64題	第65題	第66題	第67題	第68題	第69題	第70題
答案										

題號	第71題	第72題	第73題	第74題	第75題	第76題	第77題	第78題	第79題	第80題
答案										

題號	第81題	第82題	第83題	第84題	第85題	第86題	第87題	第88題	第89題	第90題
答案										

題號	第91題	第92題	第93題	第94題	第95題	第96題	第97題	第98題	第99題	第100題
答案										

備註：

代號：30110  
38410  
頁次：3-1

# 111年公務人員高等考試三級考試試題

類 科：各類科（除公職護理師、公職諮商心理師、公職食品技師、公職醫事檢驗師及公職藥師外）

科 目：國文（作文、公文與測驗）

考試時間：2小時

※注意：禁止使用電子計算器。

更多高普考考試科目的歷屆題庫  
立即上網搜尋“高普考歷屆考古題懶人包”  
高鋒公職補習班整理  
Line@帳號：@gaofeng  
連絡電話：07-236-7296

座號：\_\_\_\_\_

甲、作文與公文部分：

- (一)請以藍、黑色鋼筆或原子筆在申論試卷上由左至右橫式作答，於本試題上作答者，不予計分。
- (二)不得於試卷上書寫姓名或座號。

## 一、作文：（60分）

AI（Artificial Intelligence，人工智慧）是當前最重要的科技潮流，不但影響人類生活的各個層面，更引發職業被機器人取代的危機感。身為公務人員，自然也難以避免此一潮流，必須面對 AI 帶來的種種變化與挑戰。請以「AI 時代公務人員應有的認知與素養」為題，作文一篇，闡述你的理解與因應之道。

## 二、公文：（20分）

為鼓勵民眾閱讀及典藏書籍的興趣，活絡出版事業，全面帶動讀書風氣並提升國家形象及軟實力，試擬國家圖書館發函某大學，將於 111 年 12 月 4 日起，舉辦一系列「臺灣閱讀節」活動，請師生、家長踴躍參與，並附「111 年臺灣閱讀節實施辦法」及活動海報。

乙、測驗部分：（20分）

代號：1301

- (一)本測驗試題為單一選擇題，請選出一個正確或最適當的答案。
- (二)共10題，每題2分，須用2B鉛筆在試卡上依題號清楚劃記，於本試題或申論試卷上作答者，不予計分。

1 下列關於「天才」的名言佳句，何者的意涵與其他三者不同？

- (A)貝多芬：「劃分天才和勤勉之別的界線，迄今尚未能確定——以後也沒法確定。」
- (B)歌德：「博學家一輩子說別人說過的話，天才則能說出自己的話，那怕一輩子只說出一句話。」
- (C)黑格爾：「最大的天才儘管朝朝暮暮躺在青草地上，讓微風吹來，眼望著天空，溫柔的靈感也始終不光顧他。」
- (D)德拉克羅瓦：「天才總應該伴隨著那種導向一個目標的、有頭腦的、不間斷的練習，沒有這一點，甚至連最幸運的才能，也會無影無蹤地消失。」

- 2 「有許多人生難題並不需要今天來解決，因為『明天』早就準備好了一切。我有一個朋友告訴我，他怎麼樣在困苦的環境中完成了學業。有好幾次，他在夜裏痛哭，但是『明天』替他抹去眼淚。有好幾次，他幾乎絕望，但是『明天』給他帶來生的意志。有好幾次，他想向整個惡劣的環境報復，但是『明天』告訴他報復雖然可以出氣，但是也表示『沒有志氣』。他幾乎軟弱到完全依靠『明天』扶著他走路，一步是一步，一個『明天』捱過一個『明天』。現在，他完成志願，『銑鐵』在烈火中造成劍。這是『明天』所經營的一個最大的奇蹟。」

根據上文所述，其旨意與下列選項最接近的是：

- (A)欲窮千里目，更上一層樓 (B)留得青山在，不怕沒柴燒  
(C)路遙知馬力，日久見人心 (D)聽天且由命，逆來而順受
- 3 承上題，若將「明天」當作座右銘，下列何項寓意與之最相近？
- (A)天生我材必有用，千金散盡還復來  
(B)山重水複疑無路，柳暗花明又一村  
(C)花開堪折直須折，莫待無花空折枝  
(D)逆水行舟用力撐，一篙鬆勁退千尋

- 4 「大眾文化的特點就是喜愛熱鬧與新奇，缺乏精緻文化所必要的靜觀與內省。為孔夫子立一座十五層樓高的造像，讓臺北市民抬頭就看到它，是自彰化八卦山大佛類似的觀念推演而來的，是典型的通俗文化表現形式的誇張。它的作用引發對儒家哲理的服膺者少，造成視覺『震撼』者多。大眾文化的工作者為了吸引大眾的注意力，不惜以異乎尋常的手段，得到一時的成功，犧牲比較長遠的藝術價值。現代大眾是匆忙的、不經意的、觀光客式的；文化對他們而言是娛樂的同義語。」

下列選項，最符合上文之意的是：

- (A)表現形式的誇張常是通俗文化的表徵  
(B)精緻文化唯有捨棄熱鬧新奇方有可為  
(C)滿足大眾視覺震撼有違文化建設宗旨  
(D)藝術價值的獲取亟需異乎尋常的手段
- 5 「獨木舟航海算是放棄了所有航海機械，以比較原始比較赤裸的姿態接觸大海。燕鷗時時飛來舟邊，距離很近，牠們的影像彷彿從過去的記憶裡忽然間放大了好幾倍。我看見牠們眼睛，清楚看見牠們羽毛的光澤，好幾次聽見牠們輕細如風鈴的一連串啼鳴。過去航海看過無數燕鷗，都不如這次聽得近切看得仔細。站得高雖然看得遠，但低調與卑微，看見也許更多。」

根據上文，下列選項最接近作者意旨的是：

- (A)遠距離觀察，能擴大人與物的關係  
(B)改變觀察角度，看到不一樣的風景  
(C)過於親近的接觸，反而無法觀察透徹  
(D)站在高處，不用低調卑微的觀察世界

- 6 「美國婦人之地位，在萬國中比較為高，試舉數端如下。凡男子相遇於道中，點頭而已，惟遇婦女，則必脫帽為禮。在升降機室中，一婦女進，則眾皆脫帽。地下電車，坐位既滿，一婦進，男子必起讓坐。繁文縟禮，如見大賓，然此不徒對於上流社會為然，即尋常婦女亦莫不如是也。女尊男卑之風，非僅遊美者之言，即美國人亦自謂然也，故有恆言曰『欲驗一國文野程度，當以其婦女之地位為尺量』。試觀亞洲婦女之地位，較之歐美實大相徑庭，故亞洲文明不能與歐美並駕齊驅，其信然也哉。」（林獻堂《環球遊記》）

根據上文，下列敘述何者正確？

- (A) 美國婦女不限身分階層，地位較高是普遍風氣  
 (B) 升降機中即使仍有空位，男性也須讓位給婦女  
 (C) 作者認為女尊男卑的風氣是繁文縟節，不應取法  
 (D) 歐美人士常批評亞洲文明低弱的原因是男尊女卑

更多高普考考試科目的歷屆題庫  
 立即上網搜尋“高普考歷屆考古題懶人包”  
 高鋒公職補習班整理  
 Line@帳號：@gaofeng  
 連絡電話：07-236-7296

- 7 「大水河，流到舊鎮的這一段，河岸河底，全是清淨的黑沙。我們在沙灘上找一個個橄欖型的小洞，用手一挖，就挖出一個個黃澄澄的蜆子。最令我懷念的是那裏的渡船，渡船二十四小時服務，不論晴天或雨天，船夫都守在渡船上。那以後，大水河也漸漸改變了風貌。先是上流山區，濫伐森林，不能保持水分，而且有大量泥沙流下來，使河水淤淺。人們也在上游建築水壩，把河水引導去灌溉。平時下游沒有水，一旦颱風來臨，水壩開始洩洪，雙管齊下，幾乎把舊鎮這個大竹筏沖走了。然後，有人開始採砂石，在河上架橋。自從有了橋，就不容易看到船影。然後，人們開始把污水流進大水河裡。以前，我在河裡游泳，喜歡放低眼睛，使視線接近水面。那樣子，我會覺得河面特別寬，特別大。水從很遠的地方流過來，流到很遠的地方去，讓我想起很多事。」

根據上文，作者最想表達的是：

- (A) 水壩建築促進農業灌溉的便利  
 (B) 人為開發改變大河的澄淨樸實  
 (C) 砂石採挖減少河床泥沙的淤積  
 (D) 橋樑鋪設增加往來交通的靈活

- 8 竹之始生，一寸之萌耳，而節葉具焉。自蝸腹蛇蚶以至于劍拔十尋者，生而有之也。今畫者乃節節而為之，葉葉而累之，豈復有竹乎！故畫竹必先得成竹於胸中，執筆熟視，乃見其所欲畫者，急起從之，振筆直遂，以追其所見，如兔起鶻落，少縱則逝矣。與可之教予如此，予不能然也，而心識其所以然。夫既心識其所以然而不能然者，內外不一，心手不相應，不學之過也。故凡有見於中而操之不熟者，平居自視了然，而臨事忽焉喪之，豈獨竹乎！（《蘇軾文集》）

依作者之見，畫者「節節而為之，葉葉而累之」，其弊在於：

- (A) 枝節瑣碎  
 (B) 本末倒置  
 (C) 形神不一  
 (D) 雕金飾玉

- 9 承上題，作者「心識其所以然」者為何？

- (A) 默契神會，一氣呵成  
 (B) 心有靈犀，剛柔並濟  
 (C) 大處著眼，小處著手  
 (D) 舉重若輕，熟能生巧

- 10 謝遏（遏，謝玄字）年少時，好著紫羅香囊，垂覆手。太傅（謝安）患之，而不欲傷其意，乃譎與賭，得即燒之。（《世說新語·假譎》）

關於謝安對謝玄的教育方式，與下列何者形容最接近？

- (A) 諄諄教誨  
 (B) 以身作則  
 (C) 巧妙引導  
 (D) 因材施教

# 測驗式試題標準答案

考試名稱：111年公務人員高等考試三級考試暨普通考試

類科名稱：

公職社會工作師、測量製圖、輪機技術、文化行政、一般行政、航空器維修、經建行政、食品衛生檢驗、醫學工程、觀光行政(選試觀光英語)、智慧財產行政、人事行政、林業技術、動物技術、化學工程、僑務行政(選試印尼文)、僑務行政(選試越南文)、自然保育、土木工程、交通技術、環境檢驗、戶政、一般民政、交通行政、核子工程、教育行政、都市計畫技術、採礦工程、港灣工程、電力工程、水利工程、築事、農業技術、建築工程、消防技術、農業行政、輻射安全、會計、檔案管理、社會行政、養殖技術、新聞(選試英文)、航海技術、地政、視聽製作、工業工程、公職建築師、稅務行政、法制、衛生技術、客家事務行政、資訊處理、國際文教行政(選試西班牙文)、環保行政、水土保持工程、漁業行政、海洋行政、材料工程、法律廉政、化學安全、圖書資訊管理(選試英文)、衛生行政、機械工程、海洋技術、金融保險、環保技術、統計、公職獸醫師、電子工程、天文、勞工行政、漁業技術、公平交易管理、氣象、體育行政、僑務行政(選試西班牙文)、財稅法務、財經廉政、景觀、航運行政、汽車工程、僑務行政(選試英文)、航空駕駛(選試直昇機飛行原理)、環境工程

科目名稱：國文（作文、公文與測驗）（試題代號：1301）

更多高普考考試科目的歷屆題庫  
 立即上網搜尋“高普考歷屆考古題懶人包”  
 高鋒公職補習班整理  
 Line@帳號：@gaofeng  
 連絡電話：07-236-7296

單選題數：10題

單選每題配分：2.00分

複選題數：

複選每題配分：

標準答案：

題號	第1題	第2題	第3題	第4題	第5題	第6題	第7題	第8題	第9題	第10題
答案	B	B	B	A	B	A	B	C	A	C

題號	第11題	第12題	第13題	第14題	第15題	第16題	第17題	第18題	第19題	第20題
答案										

題號	第21題	第22題	第23題	第24題	第25題	第26題	第27題	第28題	第29題	第30題
答案										

題號	第31題	第32題	第33題	第34題	第35題	第36題	第37題	第38題	第39題	第40題
答案										

題號	第41題	第42題	第43題	第44題	第45題	第46題	第47題	第48題	第49題	第50題
答案										

題號	第51題	第52題	第53題	第54題	第55題	第56題	第57題	第58題	第59題	第60題
答案										

題號	第61題	第62題	第63題	第64題	第65題	第66題	第67題	第68題	第69題	第70題
答案										

題號	第71題	第72題	第73題	第74題	第75題	第76題	第77題	第78題	第79題	第80題
答案										

題號	第81題	第82題	第83題	第84題	第85題	第86題	第87題	第88題	第89題	第90題
答案										

題號	第91題	第92題	第93題	第94題	第95題	第96題	第97題	第98題	第99題	第100題
答案										

備註：

# 111年公務人員高等考試三級考試試題

類 科：各類科（除公職護理師、公職諮商心理師、公職食品技師、公職醫事檢驗師及公職藥師外）

科 目：法學知識與英文（包括中華民國憲法、法學緒論、英文）

考試時間：1 小時

座號：\_\_\_\_\_

※注意：(一)本試題為單一選擇題，請選出一個正確或最適當的答案。

(二)本科目共 50 題，每題 2 分，須用 **2B**鉛筆在試卡上依題號清楚劃記，於本試題上作答者，不予計分。

(三)禁止使用電子計算器。

- 依現行規定，有關立法委員之選舉，下列敘述何者正確？  
(A)一人一票，票票等值，故當選人之得票數必須相同才能當選  
(B)政黨必須獲得百分之三以上之選票才能分配不分區席次  
(C)原住民僅以山地原住民為限  
(D)不論縣市人口多少，至少應選一人
- 依憲法規定及司法院大法官解釋意旨，下列何者逾越立法院職權行使之界線？  
(A)就公務員退休金制度進行修法  
(B)議決非核家園之能源政策  
(C)調閱偵查終結起訴案件之卷證  
(D)組成調查委員會，瞭解司法院執行預算之情形
- 依據憲法增修條文第 10 條第 4 項規定，國家對公營金融機構之管理應本下列何項原則？  
(A)節制資本原則  
(B)社會國原則  
(C)民生主義原則  
(D)企業化經營原則
- 依據憲法學理與實務見解，下列何種行為最不可能構成對言論自由的限制？  
(A)社會秩序維護法處罰人民散布謠言的規定  
(B)道路交通管理處罰條例處罰人民未依道路標誌、標線、號誌行進的規定  
(C)菸害防制法要求菸品容器標示尼古丁及焦油含量的規定  
(D)政治獻金法禁止宗教團體捐贈政治獻金的規定
- 下列何者不涉及國家對憲法宗教信仰自由之限制？  
(A)法律規定宗教團體必須定期公告其財務收支報表  
(B)公務員於新進人員人事資料表上必須填寫其宗教信仰  
(C)私人公司禁止員工參與媽祖繞境活動  
(D)寺廟之不動產，如未經主管機關核准，不得處分
- 依司法院釋字第 728 號解釋意旨，有關既存祭祀公業派下員認定規約，下列何者並非較平等權更需保護之權益？  
(A)結社自由  
(B)財產權  
(C)信賴利益  
(D)私法自治
- 有關吊扣執業登記證及廢止執業登記，係限制計程車駕駛人何種憲法權利？  
(A)工作權  
(B)財產權  
(C)人格權  
(D)人身自由
- 依司法院大法官解釋，有關受刑人所得主張之基本權利，下列敘述何者正確？  
(A)因與其他受刑人一同於監獄內服刑，並同受監督，不得主張隱私權  
(B)因受刑人之人身自由受到限制，從而不得主張財產權、秘密通訊自由等基本權利  
(C)受刑人之表現自由應受如何之保障，與其人格發展自由無關  
(D)要求受刑人投稿須題意正確，涉及言論之事前檢查
- 依憲法及司法院大法官解釋，下列何者權利不涉及請求國家給付之實體保障？  
(A)請願權  
(B)生存權  
(C)健康權  
(D)受國民教育權
- 立法院提出總統、副總統彈劾案，經下列何者判決成立時，被彈劾人應即解職？  
(A)最高法院  
(B)最高行政法院  
(C)懲戒法院  
(D)憲法法庭
- 依司法院釋字第 419 號解釋意旨，對於行政院院長非憲法上義務之辭職，總統之處理屬學理上所稱之下列何者？  
(A)行政行為  
(B)統治行為  
(C)政策決定  
(D)行政命令
- 下列敘述，何者抵觸我國關於預算案的現行憲法規範及憲法實踐？  
(A)預算案僅得由行政院提出  
(B)立法院對於行政院所提預算案，不得為增加支出之提議  
(C)行政院不得針對立法院決議之預算案提出覆議  
(D)立法院於審議預算時，不得移動或增減預算項目
- 下列何者與審判獨立無關？  
(A)法官須依據法律從事審判，不受干涉  
(B)法官應超出黨派，不受政黨政治力之影響  
(C)對於法官之職務監督不得影響法官所持之法律見解  
(D)法官參與研討會並發表評論裁判之報告
- 下列何者非屬司法院大法官得實質審查之標的？  
(A)抽象法規範是否違憲  
(B)機關權限爭議  
(C)政治問題爭議  
(D)政黨違憲解散

更多高普考考試科目的歷屆題庫

立即上網搜尋“高普考歷屆考古題懶人包”

高鋒公職補習班整理

Line@帳號：@gaofeng

連絡電話：07-236-7296

- 15 對於地方自治之本質，下列敘述何者錯誤？  
(A)地方自治是藉由憲法位階的保障，以避免立法者透過法律架空地方自治，這是屬於制度性保障說  
(B)地方自治保障地方住民得決定地方事務，屬於住民主權說  
(C)地方自治係由憲法明文保障，屬於規範承認說  
(D)地方自治權係基於國家法律承認授權而來，此說法是屬於固有權說
- 16 依現行刑法之規定，下列何者屬褫奪公權之內涵？  
(A)褫奪選舉權 (B)褫奪被選舉權 (C)褫奪罷免權 (D)褫奪公投權
- 17 有關羅馬法的敘述，下列何者錯誤？  
(A)歐陸各國的法律都源於羅馬法大全 (corpus juris civilis)  
(B)東羅馬帝國皇帝查士丁尼下令編纂羅馬法大全  
(C)近代歐洲的自然法運動，促成了各國對羅馬法的繼受與研究  
(D)成文法運動結合民族主義，嚴重傷害了羅馬法的統一性
- 18 關於法規範之廢止，下列敘述何者正確？  
(A)法律之廢止，由立法院通過，行政院公布之  
(B)命令之廢止，由總統為之  
(C)同一事項已定有新品規，並公布或發布施行者，係明示之法規廢止原因之一  
(D)廢止之法規，應自公布或發布之日立即失效
- 19 下列何者不是占有人？  
(A)學徒就公司配置其工作所必要的機具 (B)出租人就其交付於承租人的租賃物  
(C)承租人就出租人交付於自己的租賃物 (D)公司配給董事長使用的座車
- 20 行政罰法第 18 條規定，裁處罰鍰，應審酌違反行政法上義務行為應受責難程度、所生影響及因違反行政法上義務所得之利益，並得考量受處罰者之資力。此屬下列何種原則？  
(A)比例原則 (B)平等原則 (C)行政保留原則 (D)誠實信用原則
- 21 下列有關刑法第 135 條妨害公務罪的敘述，何者錯誤？  
(A)本罪以所執行之公務遭妨礙為結果，屬結果犯  
(B)本罪不限定行為主體資格，故為一般犯  
(C)本罪另設有致公務員於死、致重傷之加重結果犯規定  
(D)公務員執行職務時，協助開門鎖的業者，並非本罪所稱的公務員
- 22 下列有關公開播送、公開演出及公開傳輸的概念，何者與我國著作權法規定有違？  
(A)公開播送係指基於公眾直接收聽或收視為目的，以有線電、無線電或其他器材之廣播系統傳送訊息之方法，藉聲音或影像，向公眾傳達著作內容  
(B)由原播送人以外之人，以有線電、無線電或其他器材之廣播系統傳送訊息之方法，將原公開播送之聲音或影像向公眾傳達者，則不屬公開播送規範範圍  
(C)公開演出係指以演技、舞蹈、歌唱、彈奏樂器或其他方法向現場之公眾傳達著作內容  
(D)公開傳輸係指以有線電、無線電之網路或其他通訊方法，藉聲音或影像向公眾提供或傳達著作內容，包括使公眾得於其各自選定之時間或地點，以上述方法接收著作內容
- 23 關於相當因果關係理論，依我國實務見解，下列敘述何者正確？  
(A)相當因果關係，係依經驗法則為判斷 (B)相當因果關係，係依客觀之事中審查而定  
(C)偶然事實亦可認定具有相當因果關係 (D)相當因果關係係以行為人主觀認知而定
- 24 雇主欲依勞動基準法第 84 條之 1 規定，與勞工另行約定工作時間、例假、休假、女性夜間工作，下列敘述何者錯誤？  
(A)應以書面方式為之  
(B)應限於經中央主管機關核定公告之工作者  
(C)約定內容應報請當地主管機關核備  
(D)應經工會同意，如事業單位無工會者，應經勞資會議同意
- 25 下列有關性別工作平等法適用對象之敘述，何者錯誤？  
(A)公務人員與教育人員適用性別工作平等法，惟公務人員與教育人員之申訴、救濟及處理程序，依各該人事法令之規定  
(B)雇主依勞動基準法規定招收之技術生及準用技術生規定者，除適用高級中等學校建教合作實施及建教生權益保障法規定之建教生外，亦適用性別工作平等法  
(C)軍職人員因其工作之特殊性，不適用性別工作平等法之規定  
(D)實習生於實習期間遭受性騷擾時，適用性別工作平等法之規定
- 26 有關憲法第 13 條所保障的宗教信仰自由，下列敘述何者正確？  
(A)依司法院釋字第 490 號解釋，人民得依宗教理由主張免除兵役義務  
(B)教育部對各大學院校所提供的高等教育補助金，其發放對象包含教會興辦的私立大學，已違反國家中立性原則  
(C)相較於內在信仰之自由，宗教行為之自由與宗教結社之自由，僅能受相對之保障  
(D)為保障人民權利，國家得強制要求所有宗教相關團體皆必須法人化



- 27 下列何種情形適用我國刑法處罰？  
(A)我國人在外國對外國人犯刑法第 320 條之竊盜罪  
(B)我國人在外國犯刑法第 237 條之重婚罪  
(C)外國人在外國對我國人犯刑法第 325 條之搶奪罪  
(D)外國人在外國犯刑法第 296 條之 1 之買賣人口罪
- 28 下列法律行為，何者為附解除條件之情形？  
(A)甲向乙借 10 萬元，約定乙每月支付利息 1 千元  
(B)父親甲與就讀小學的兒子乙約定，乙如月考有一科考 100 分，甲就給乙 100 元  
(C)甲、乙約定於民國 106 年 12 月初，開設自助餐廳  
(D)當甲考上公務員高普考時，乙的房屋就不再續租給甲
- 29 稱普通地上權者，謂以在他人土地之上下有建築物或其他工作物為目的而使用其土地之權。關於地上權之敘述，下列何者錯誤？  
(A)地上權未定有期限者，當事人得隨時終止之  
(B)地上權人應依設定之目的及約定之使用方法，為土地之使用收益  
(C)地上權無支付地租之約定者，地上權人得隨時拋棄其權利  
(D)地上權不因建築物或其他工作物之滅失而消滅
- 30 依民法規定，下列有關出賣人責任之敘述，何者錯誤？  
(A)出賣人應擔保第三人就買賣之標的物，對於買受人不得主張任何權利  
(B)買受人於契約成立時，知有權利之瑕疵者，出賣人不負擔保之責  
(C)特定物買賣之出賣人，如買賣標的物有瑕疵，應即另行交付無瑕疵之物  
(D)債權或其他權利之出賣人，應擔保其權利確係存在
- 31 We saw some irresponsible people do not care \_\_\_\_\_ dropping litter on the street.  
(A) about (B) for (C) with (D) of
- 32 Most parks have picnic tables, park benches, drinking fountains, and playground equipment such as swings, slides and monkey \_\_\_\_\_.  
(A) nuts (B) suits (C) bars (D) puzzles
- 33 Robert used Alice as his alibi when the police came over to question his \_\_\_\_\_ on the night of the crime.  
(A) circumstances (B) neighborhoods (C) surroundings (D) whereabouts
- 34 The ever declining birthrate could have pretty serious \_\_\_\_\_ for the country's future development.  
(A) imperatives (B) impeachment (C) implications (D) imperialism
- 35 The tall handsome left-handed pitcher, who was thought to be a rising star in baseball, has become a \_\_\_\_\_ to his team since a severe injury in his left shoulder.  
(A) frugality (B) liability (C) propensity (D) tenacity
- 36 When Patricia walked out to the beach for a stroll, she could hardly open her eyes because of the \_\_\_\_\_ sunlight.  
(A) ejecting (B) glaring (C) jeering (D) ousting
- 37 Studies have shown that early adversity can have a profound lifelong effect on one's coping with personal development, social relationships, and career \_\_\_\_\_.  
(A) counseling (B) statistics (C) professionals (D) trajectories
- 38 New projects \_\_\_\_\_ to years of fighting among interest groups and endless political quarrels.  
(A) capitalized (B) succumbed (C) interrogated (D) approached
- 39 Many scholars have reported that a recent publication on the gender pay gap is highly \_\_\_\_\_; they particularly criticize the reach team's sampling procedure.  
(A) contentious (B) convincing (C) commendable (D) considerable
- 40 Countless lives are saved each year because \_\_\_\_\_ of blood make certain surgical procedures possible.  
(A) transmutations (B) transfusions (C) transductions (D) transfections

請依下文回答第 41 題至第 45 題

In business or in daily life, when dealing with the things we know, we can plan accordingly and expect them to go as planned. However good business or personal plans may be, they can sometimes 41 because of unexpected events or circumstances, which are often called contingencies. Success sometimes reflects the number of calculated risks we are willing to take, both personally and professionally. That is why contingency planning is so important for it allows active risk management and 42 preparation rather than reactive decisions when faced with an emergency, which can result in failure.

In business a contingency, either externally or internally, is generally negative, and it may influence the financial health, professional image, or market share of a company. 43, such unexpected development can likewise be a surprising windfall, for example, a giant order. Anything 44 that upsets a company's normal operation can hurt the company regardless of the possibility that the interruption is a direct result of a windfall. It should, therefore, be a normal part of the business planning process to 45 potential threats and opportunities. Seeing to this can ensure that specific contingency plans and resources are well-prepared to deal with them.

- 41 (A) die out (B) make up (C) get set (D) go awry  
 42 (A) discriminative (B) formidable (C) hypothetical (D) proactive  
 43 (A) Also (B) Yet (C) In case (D) In practice  
 44 (A) across the board (B) in due course (C) out of the blue (D) up in the air  
 45 (A) downsize (B) embrace (C) pinpoint (D) offend

請依下文回答第 46 題至第 50 題

Before there were alarm clocks, how did people wake up at a specific time they wanted to in the morning? Since the Industrial Revolution began in the 1780s, people had been finding ways to make sure they got to work on time. Back then, a knocker-up, also known as a “knocker-upper,” started as a profession to wake people up by knocking on their doors or windows.

Even though alarm clocks had been invented in 1787 by American inventor, Levi Hutchins, they were not yet available to the general public in Britain or Ireland. It was common for people in these places to hire knocker-ups to wake them up in the morning. Half a century after the invention of alarm clocks, Frenchman Antoine Redier patented an adjustable alarm clock in 1847. Still, mechanical alarm clocks were not cheap or widely available. Well into the 1920s, most workers in Britain would rather hire knocker-ups.

Knocker-ups used a variety of methods to wake up their clients. Some used a baton, or a short, heavy stick, to knock on the client’s door. Some used a long and light stick made of bamboo to reach the client’s window on a higher floor. Still others used a pea-shooter, through which small objects can be blown, to shoot dried peas at their clients’ windows. Their job was to rouse the sleeping clients, and they certainly came up with creative ways to achieve this goal. Knocker-ups would not leave a client’s door or window until they made sure that the client had been awoken.

There were large numbers of people carrying out the job, especially in large industrial towns such as Manchester. Knocker-ups were generally elderly men and women, but sometimes police officers would take on the job to earn extra income by performing the task during early morning patrols. But who woke the knocker-uppers? A tongue-twister from the time goes like this:

**We had a knocker-up, and our knocker-up had a knocker-up  
 And our knocker-up’s knocker-up didn’t knock our knocker up  
 So our knocker-up didn’t knock us up  
 ‘Cos he’s not up.**

By the 1950s, knocking up had gradually died out in most places due to the wide spread of electricity and affordable alarm clocks. Today, people merely read about **anecdotes** regarding how knocker-ups woke up their clients creatively or a fun tongue-twister like the one above.

- 46 What is the main idea of the third paragraph?  
 (A) To make noise on windows, knocker-ups often relied on long, light bamboo sticks.  
 (B) To accomplish their tasks, knocker-ups would not leave until their clients woke up.  
 (C) To wake up their clients, knocker-ups used a tool from which they could shoot dried peas.  
 (D) To ensure a successful job, knocker-ups had adopted several creative knocking-up methods.
- 47 According to the passage, which of the following statements is true?  
 (A) The alarm clock was patented by an American inventor in 1787.  
 (B) People continued to hire knocker-ups even after the alarm clocks were invented.  
 (C) In Britain and Ireland today, knocker-ups are still doing their jobs in industrial towns.  
 (D) During their morning patrols, police officers would watch out for knocker-ups’ safety.
- 48 Which of the following best replaces “anecdotes” in the last paragraph?  
 (A) stories (B) effects (C) problems (D) accidents
- 49 Which of the following best summarizes the tongue-twister mentioned in the passage?  
 (A) Our knocker-up’s knocker-up forgot to wake us up.  
 (B) Our knocker-up’s knocker-up failed to wake him up.  
 (C) We overslept because our knocker-up took the day off.  
 (D) We did not sleep well because our knocker-up was sick.
- 50 Which of the following statements can be inferred from the passage?  
 (A) Knocker-ups preferred to get into the houses of their clients’ to wake them up.  
 (B) Antoine Redier made a fortune by selling mechanical alarm clocks to workers.  
 (C) British workers greatly appreciated Levi Hutchin’s invention of the alarm clock.  
 (D) Police officers during the Industrial Revolution were not paid very well at work.

更多高普考考試科目的歷屆題庫  
 立即上網搜尋“高普考歷屆考古題懶人包”  
 高鋒公職補習班整理  
 Line@帳號: @gaofeng  
 連絡電話: 07-236-7296

# 測驗式試題標準答案

考試名稱：111年公務人員高等考試三級考試暨普通考試

類科名稱：

統計、航空駕駛(選試直昇機飛行原理)、氣象、藥事、建築工程、金融保險、戶政、漁業技術、衛生技術、僑務行政(選試西班牙文)、電力工程、檔案管理、環保行政、衛生行政、國際文教行政(選試西班牙文)、經建行政、動物技術、消防技術、公職社會工作師、航運行政、輻射安全、化學安全、土木工程、公職建築師、公平交易管理、智慧財產行政、交通行政、養殖技術、人事行政、航海技術、交通技術、一般行政、機械工程、教育行政、環保技術、輪機技術、水利工程、汽車工程、自然保育、一般民政、僑務行政(選試英文)、客家事務行政、漁業行政、法律廉政、景觀、財經廉政、環境工程、工業工程、醫學工程、社會行政、食品衛生檢驗、海洋行政、財稅行政、財稅法務、觀光行政(選試觀光英語)、天文、勞工行政、僑務行政(選試印尼文)、港灣工程、林業技術、地政、材料工程、測量製圖、視聽製作、公職獸醫師、航空器維修、海洋技術、水土保持工程、新聞(選試英文)、農業技術、圖書資訊管理(選試英文)、會計、法制、核子工程、電子工程、化學工程、都市計畫技術、環境檢驗、採礦工程、農業行政、資訊處理、體育行政、文化行政、僑務行政(選試越南文)

科目名稱：

法學知識與英文(包括中華民國憲法、法學緒論、英文)(試題代號：3301)

單選題數：50題

單選每題配分：2.00分

複選題數：

複選每題配分：

標準答案：

題號	第1題	第2題	第3題	第4題	第5題	第6題	第7題	第8題	第9題	第10題
答案	D	C	D	B	C	C	A	D	A	D

題號	第11題	第12題	第13題	第14題	第15題	第16題	第17題	第18題	第19題	第20題
答案	B	C	D	C	D	B	A	C	A	A

題號	第21題	第22題	第23題	第24題	第25題	第26題	第27題	第28題	第29題	第30題
答案	A	B	A	D	C	C	D	D	A	C

題號	第31題	第32題	第33題	第34題	第35題	第36題	第37題	第38題	第39題	第40題
答案	A	C	D	C	B	B	D	B	A	B

題號	第41題	第42題	第43題	第44題	第45題	第46題	第47題	第48題	第49題	第50題
答案	D	D	B	C	C	D	B	A	B	D

題號	第51題	第52題	第53題	第54題	第55題	第56題	第57題	第58題	第59題	第60題
答案										

題號	第61題	第62題	第63題	第64題	第65題	第66題	第67題	第68題	第69題	第70題
答案										

題號	第71題	第72題	第73題	第74題	第75題	第76題	第77題	第78題	第79題	第80題
答案										

題號	第81題	第82題	第83題	第84題	第85題	第86題	第87題	第88題	第89題	第90題
答案										

題號	第91題	第92題	第93題	第94題	第95題	第96題	第97題	第98題	第99題	第100題
答案										

備註：

更多高普考考試科目的歷屆題庫  
立即上網搜尋“高普考歷屆考古題懶人包”  
高鋒公職補習班整理  
Line@帳號：@gaofeng  
連絡電話：07-236-7296

# 111年公務人員高等考試三級考試試題

類 科：財稅行政  
科 目：租稅各論  
考試時間：2小時

※注意：可以使用電子計算器。

更多高普考考試科目的歷屆題庫  
立即上網搜尋“高普考歷屆考古題懶人包”  
高鋒公職補習班整理  
Line@帳號：@gaofeng  
連絡電話：07-236-7296

座號：\_\_\_\_\_

## 甲、申論題部分：(50分)

- (一)不必抄題，作答時請將試題題號及答案依照順序寫在申論試卷上，於本試題上作答者，不予計分。
- (二)請以藍、黑色鋼筆或原子筆在申論試卷上作答。
- (三)本科目除專門名詞或數理公式外，應使用本國文字作答。

一、假設經濟體系中有 100 位偏好與稟賦所得相同的個人，每個人的稟賦所得為 10,000 元，效用函數則為  $U = \sqrt{XY}$ 。X、Y 兩財貨由完全競爭市場提供，個別廠商邊際成本各為  $MC_X = 80$  與  $MC_Y = 100$ ，生產均無固定成本。試回答以下兩個問題：

- (一)若政府對 X 財貨從價課徵稅率 25% 的貨物稅，請繪圖分析並計算該貨物稅的總稅收與社會無謂損失各為多少？(15 分)
- (二)續前一小題，若政府考慮對 Y 財貨也課徵從價貨物稅，並調整 X 財貨的貨物稅稅率，將課稅的無謂損失極小化。在相同稅收下，X、Y 兩財貨的稅率應如何訂定？(10 分)

二、在我國現行稅制中，綜合所得稅、地價稅與房地合一稅均採取累進稅制。請詳細說明並比較各稅適用累進稅率的計算基礎，進而分析其立法意旨與政策目標。(25 分)

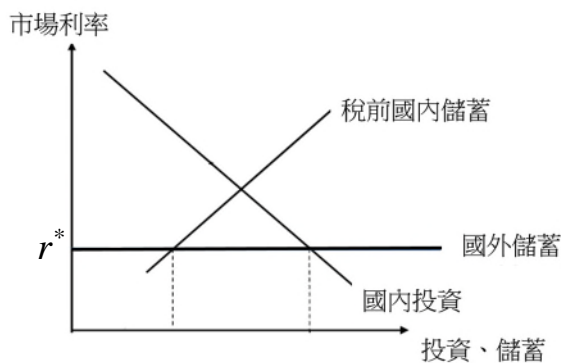
## 乙、測驗題部分：(50分)

代號：4321

- (一)本測驗試題為單一選擇題，請選出一個正確或最適當的答案。
- (二)共 25 題，每題 2 分，須用 2B 鉛筆在試卡上依題號清楚劃記，於本試題或申論試卷上作答者，不予計分。

- 1 所謂租稅的中立性，指下列何種情況？  
(A)租稅無法轉嫁 (B)租稅不影響商品或勞務的相對價格  
(C)租稅不改變所得分配的狀態 (D)租稅課徵的行政成本最小
- 2 下列何者為對所得剩餘之累積所課徵的租稅？  
(A)所得稅 (B)消費稅 (C)財產稅 (D)移轉稅
- 3 哈柏格 (Harberger) 一般均衡租稅歸宿模型係採用下列何種租稅歸宿架構？  
(A)絕對租稅歸宿分析 (B)差異租稅歸宿分析 (C)平衡預算分析 (D)平衡成長分析
- 4 假設獨占廠商的邊際成本固定且沒有差別取價，當政府對獨占市場中的財貨課稅時，在獲得相同稅後產出的假設下，從價稅與從量稅兩者經濟效果之比較，何者正確？  
(A)從價稅稅收等於從量稅稅收 (B)從價稅稅收大於從量稅稅收  
(C)從價稅稅收小於從量稅稅收 (D)從價稅稅收無法與從量稅稅收比較
- 5 若對一完全競爭市場課徵商品稅，關於超額負擔之敘述，下列何者正確？  
(A)若超額負擔等於零，則所得分配符合水平的公平  
(B)若超額負擔等於零，則所得分配符合垂直的公平  
(C)若生產者的邊際成本曲線為水平，則該市場的生產者沒有超額負擔  
(D)若生產者的邊際成本曲線為垂直，則僅該市場的消費者有超額負擔

- 6 假設  $x$  商品為完全競爭市場，受補償需求曲線為  $P = 100 - 2Q$ ， $MC = 6$ 。現政府對此商品提供每單位 2 元的補貼，此補貼政策造成的超額負擔為多少元？  
 (A) 1 (B) 2 (C) 48 (D) 96
- 7 一消費者消費  $x$  和  $y$  兩財貨，他只有勞動所得。若政府對  $x$  和  $y$  以及休閒都課以稅率 25% 的從價稅，下列敘述何者錯誤？  
 (A) 此一課稅方式等同定額稅  
 (B) 此一課稅方式等同對他的時間稟賦 (time endowment) 價值課徵 25% 的稅率  
 (C) 此一課稅方式沒有無謂的損失  
 (D) 此一課稅方式可以達到最佳 (first best)
- 8 假設家庭效用水準決定於家庭總消費、先生的勞動時數與太太的勞動時數，並隨家庭總消費的增加而增加，夫妻任一方工作時數的增加而減少。假設只有勞動所得，夫與妻的工作時數彼此無關且只和自己的工資率有關。若先生的勞動供給彈性較太太的勞動供給彈性低，為使課稅引起的超額負擔最小，租稅的設計應該：  
 (A) 對家庭總所得課徵 (B) 對先生的勞動所得課較高的邊際稅率  
 (C) 對太太的勞動所得課較高的邊際稅率 (D) 對夫妻的勞動所得課較相同的邊際稅率
- 9 下列何種課稅方法會產生逃稅？  
 (A) 依據建築物窗子的大小課稅  
 (B) 對鬍子長度課稅  
 (C) 根據交易憑證課徵所得稅  
 (D) 某一國家提高所得稅因此造成百姓移民到其他國家
- 10 勞動市場為完全競爭，供給曲線為  $W = 100L$ ，需求曲線為  $W = 1,000$ ，其中  $W$  為工資率， $L$  為每天工作時數。若政府決定對工資所得課稅 20%，課稅後每天的工作時數是多少？  
 (A) 24 (B) 14 (C) 10 (D) 8
- 11 在兩期 (第 1 期與第 2 期) 消費的模型中，且兩期消費皆為正常財，若實施利息支出可做為費用扣除的所得稅制度，會使借款者的第 1 期消費如何變動？  
 (A) 減少 (B) 增加 (C) 不變 (D) 無法判斷
- 12 假設在一開放的經濟體系中，其資金來源為國內儲蓄與國外資金，且在利率水準  $r^*$  國外資金可無限供給 (如圖所示)。若僅對國內儲蓄報酬課稅，則均衡時，下列敘述何者正確？



- (A) 國內儲蓄和國外資金流入皆增加 (B) 國內儲蓄和國外資金流入皆減少  
 (C) 國內儲蓄增加但國外資金流入減少 (D) 國內儲蓄減少但國外資金流入增加
- 13 關於閉鎖效果 (lock-in effect) 之敘述，下列何者正確？  
 (A) 對資本利得課稅產生的影響 (B) 因為景氣好，資產持有者傾向繼續持有  
 (C) 利率高時，投資者傾向繼續持有資產 (D) 可抑制投機，提升資本市場效率

- 14 下列何者規定之法源依據為所得稅法？  
(A)個人持有金融債券之利息所得，應依規定扣繳稅款，不併計綜合所得總額  
(B)個人之私募證券投資信託基金受益憑證之交易所得，應納入基本所得中計稅  
(C)申報戶之基本生活費與其免稅額及扣除額之差額，應自綜合所得淨額中扣除  
(D)臺灣地區人民有大陸地區來源所得者，應併同臺灣地區來源所得課稅
- 15 若 A 公司稅前盈餘 1 千萬元，稅後盈餘全部發放給股東，且股東對股利所得選擇分開計稅，則 A 公司每 1 元稅前盈餘的公司與個人所得稅稅負共為多少？  
(A) 0.2 元 (B) 0.268 元 (C) 0.424 元 (D) 0.48 元
- 16 某公司添購一台新的機器設備，政府允許其採用加速折舊 (accelerated depreciation)，在其他條件不變下，下列那一項產生的租稅利益較大？  
(A)機器設備折舊的年限愈短、年限初期提列的折舊比例愈大  
(B)機器設備折舊的年限愈短、年限初期提列的折舊比例愈小  
(C)機器設備折舊的年限愈長、年限初期提列的折舊比例愈小  
(D)機器設備折舊的年限愈長、年限初期提列的折舊比例愈大
- 17 根據現金流量模型 (cash flow model)，公司所得稅透過下列何因素而改變實體投資？  
(A)工資水準 (B)產出水準 (C)公司內部資金 (D)消費水準
- 18 下列何種情況最有可能發生移轉訂價 (transfer pricing) 的問題？  
(A)各自獨立的公司間 (B)多國籍公司相互間  
(C)不同規模公司間 (D)差異產業相互間
- 19 基本所得額超過新臺幣 50 萬元之下列四種機構，何者須負擔所得基本稅額？  
(A)合夥會計師事務所 (B)辦理清算申報之境內公司  
(C)不對外營業之消費合作社 (D)總機構於境外，但在境內有固定營業場所之公司
- 20 有關營業人之規定，下列何者錯誤？  
(A)組織型態可能為營利事業或非營利組織  
(B)外國事業在我國境內無固定營業場所者，即非屬營業人  
(C)開始營業前須向主管機關辦理稅籍登記  
(D)營業人不一定須繳交營利事業所得稅
- 21 關於我國印花稅課徵之敘述，下列何者錯誤？  
(A)印花稅之課稅憑證計有四類  
(B)以在國內書立之特定憑證為課稅範圍  
(C)按每件憑證之交易金額課徵  
(D)依稅率計算每件稅額或應納稅額尾數不足通用貨幣 1 元之部分，免予繳納
- 22 下列何者非屬我國土地稅的特色？  
(A)具土地政策目的 (B)充裕中央財源 (C)財政收入穩定 (D)為所得稅的補充稅
- 23 依遺產及贈與稅法與土地稅法相關規定，下列敘述何者正確？  
(A)贈與他人不動產時，贈與稅及土地增值稅依法應由贈與人負擔  
(B)繼承不動產時，繼承人毋須繳交土地增值稅  
(C)二親等以內親屬間財產之買賣，應視同贈與並課徵贈與稅，且無法舉證推翻  
(D)以自己之資金，無償為他人購置不動產者，以其資金為贈與總額
- 24 甲將契價 100 萬元房屋，另付 20 萬元現金，與乙交換契價 120 萬元房屋，甲應繳納多少契稅？  
(A) 20,000 元 (B) 24,000 元 (C) 32,000 元 (D) 72,000 元
- 25 關於土地現行公告地價與公告現值之敘述，下列何者正確？  
(A)每 2 年均應重新辦理規定地價 1 次  
(B)重新規定地價時，土地公告地價與公告現值採兩價分離原則辦理查估  
(C)公告地價於公告前應提交直轄市或縣市地價評議委員會評定，公告現值由地方政府自行調查評定  
(D)政府依法辦理土地徵收時，應按照徵收當期之公告地價，補償其地價

更多高普考考試科目的歷屆題庫  
立即上網搜尋“高普考歷屆考古題懶人包”  
高鋒公職補習班整理  
Line@帳號：@gaofeng  
連絡電話：07-236-7296

# 測驗式試題標準答案

考試名稱：111年公務人員高等考試三級考試暨普通考試

更多高普考考試科目的歷屆題庫  
立即上網搜尋“高普考歷屆考古題懶人包”  
高鋒公職補習班整理  
Line@帳號：@gaofeng  
連絡電話：07-236-7296

類科名稱：財稅行政

科目名稱：租稅各論（試題代號：4321）

單選題數：25題

單選每題配分：2.00分

複選題數：

複選每題配分：

標準答案：

題號	第1題	第2題	第3題	第4題	第5題	第6題	第7題	第8題	第9題	第10題
答案	B	C	B	B	C	A	B	B	C	D

題號	第11題	第12題	第13題	第14題	第15題	第16題	第17題	第18題	第19題	第20題
答案	B	D	A	A	C	A	C	B	D	B

題號	第21題	第22題	第23題	第24題	第25題	第26題	第27題	第28題	第29題	第30題
答案	C	B	B	C	B					

題號	第31題	第32題	第33題	第34題	第35題	第36題	第37題	第38題	第39題	第40題
答案										

題號	第41題	第42題	第43題	第44題	第45題	第46題	第47題	第48題	第49題	第50題
答案										

題號	第51題	第52題	第53題	第54題	第55題	第56題	第57題	第58題	第59題	第60題
答案										

題號	第61題	第62題	第63題	第64題	第65題	第66題	第67題	第68題	第69題	第70題
答案										

題號	第71題	第72題	第73題	第74題	第75題	第76題	第77題	第78題	第79題	第80題
答案										

題號	第81題	第82題	第83題	第84題	第85題	第86題	第87題	第88題	第89題	第90題
答案										

題號	第91題	第92題	第93題	第94題	第95題	第96題	第97題	第98題	第99題	第100題
答案										

備註：

代號：32150  
32450  
頁次：4-1

# 111年公務人員高等考試三級考試試題

類 科：財稅行政、會計  
科 目：財政學  
考試時間：2小時

※注意：可以使用電子計算器。

更多高普考考試科目的歷屆題庫  
立即上網搜尋“高普考歷屆考古題懶人包”  
高鋒公職補習班整理  
Line@帳號：@gaofeng  
連絡電話：07-236-7296

座號：\_\_\_\_\_

甲、申論題部分：(50分)

- (一)不必抄題，作答時請將試題題號及答案依照順序寫在申論試卷上，於本試題上作答者，不予計分。
- (二)請以藍、黑色鋼筆或原子筆在申論試卷上作答。
- (三)本科目除專門名詞、數理公式或符號標記外，應使用本國文字作答。
- (四)答題使用之數學式符號與上、下標等，以及圖形之座標軸與點、線等，務必清楚標示並佐以文字詳細解釋。

一、為因應民意期待公權力能夠更有效抑制酒後駕車的行為，政府考慮以下兩種政策方向：

- (一)強化取締：維持目前查獲酒駕行為之罰金，但加強取締使查獲酒駕行為之機率提高一倍，自 10% 提升至 20%；
- (二)提高罰金：維持目前取締強度，但將查獲酒駕行為之罰金提高一倍，自 100,000 元提升至 200,000 元。

請分別就酒後駕車者偏好為風險厭惡與風險喜好兩種情形，討論(一)強化取締與(二)提高罰金，何種政策方向對於抑制酒駕會有更好的效果？請繪製圖形，並佐以文字說明詳細解釋。(25分)

二、以  $P^*$  與  $Q^*$  表示一市場均衡時之價格與數量；以  $E_D$  與  $E_S$  表示均衡時，需求與供給之受補償價格彈性。今政府於該市場課徵稅率為  $t \in (0,1)$  之從價稅，在需求與供給皆為直線的情形下，推導課稅所造成的無謂損失、並以  $P^*$ 、 $Q^*$ 、 $E_D$ 、 $E_S$  與  $t$ ，列式表示之。若改為課徵每單位稅額為  $u$  元之從量稅，同樣在需求與供給皆為直線的情形下，推導課稅所造成的無謂損失、並以  $P^*$ 、 $Q^*$ 、 $E_D$ 、 $E_S$  與  $u$ ，列式表示之。(25分)

乙、測驗題部分：(50分)

代號：5321

- (一)本測驗試題為單一選擇題，請選出一個正確或最適當的答案。
- (二)共 25 題，每題 2 分，須用 2B 鉛筆在試卡上依題號清楚劃記，於本試題或申論試卷上作答者，不予計分。

- 1 當社會所有人都一致投票贊成政府的某一項議案時，代表下列那一種狀況的發生？  
(A)投票前的現況必為柏瑞圖最適 (B)投票後的結果必為柏瑞圖最適  
(C)柏瑞圖改善 (D)投票矛盾
- 2 下列那些財貨具有消費的非排他性？  
①公共財 (public goods)  
②私有財 (private goods)  
③共有資源 (common resources)  
(A)①②③ (B)僅①③ (C)僅②③ (D)僅①



- 3 根據寇斯定理，透過自願性協商以解決污染外部性問題時，有關產生外部性問題之財貨，其財產權歸屬之敘述何者正確？  
 (A)只可歸屬於污染者 (B)只可歸屬於被污染者  
 (C)必須經由民主投票決定 (D)歸屬於污染者或被污染者均可
- 4 對於用課稅或減產補貼來矯正生產行為的負外部性，下列敘述何者正確？  
 (A)用課稅所達成的社會最適數量大於用減產補貼所達成的社會最適數量  
 (B)用課稅所達成的社會最適數量小於用減產補貼所達成的社會最適數量  
 (C)用課稅所達成的社會最適數量等於用減產補貼所達成的社會最適數量  
 (D)兩者所達成的最適數量並不一定相同，故無法比較
- 5 關於總量管制與交易制度的敘述，下列何者錯誤？  
 (A)無論排放權如何歸屬，社會終將以最低成本達成既定的污染減量  
 (B)排放權交易的誘因終將使各廠商污染減量的邊際成本相同  
 (C)排放權的歸屬將引起廠商間所得重分配的效果  
 (D)污染減量成本低的廠商較有意願購買排放權
- 6 下列有關政治景氣循環理論的敘述，何者正確？  
 (A)當景氣變好時，公共支出會增加；但當景氣變差時，公共支出會減少  
 (B)當景氣變好時，公共支出會減少；但當景氣變差時，公共支出會增加  
 (C)在選舉之前，公共支出會增加；但當選舉之後，公共支出會減少  
 (D)在選舉之前，公共支出會減少；但當選舉之後，公共支出會增加
- 7 根據中位數投票者理論，如果一個國家的所得分配更為右偏時，則選民投票決定執行所得重分配政策之公共支出：  
 (A)會減少 (B)會增加 (C)會先增加再減少 (D)會先減少再增加
- 8 下列何項敘述乃屬規範經濟學所探討之議題？  
 (A)對菸酒課稅，菸酒的價格可能提高  
 (B)對菸酒課稅，菸酒的需求量可能減少  
 (C)對菸酒課稅，低所得對菸酒的消費比重可能增加  
 (D)對菸酒課稅，是否有助所得分配更公平
- 9 公共支出計畫於首年初投入一次性成本 50 億，次年初開始產生利益 3 億元直到永遠。其他條件不變，若社會折現率為 5%，此計畫的淨現值是：  
 (A) 0 (B) 10 億 (C) 50 億 (D) 100 億
- 10 福利經濟學第二定理主要在闡述下列何種經濟概念？  
 (A)所有消費者的邊際替代率均會相等 (B)所有生產者的邊際技術替代率均會相等  
 (C)完全競爭市場將會引導資源的配置效率 (D)可在不損及經濟效率下，達成分配的公平
- 11 假設某國針對某一項議案的通過，在不同贊成比例下所帶來的外部成本與決策成本如下表所示。最適同意票比例應為多少？

	外部成本 (億元)	決策成本 (億元)
40%同意票	6	6
50%同意票	4	7
60%同意票	2	8
70%同意票	1	10

- (A) 40% (B) 50% (C) 60% (D) 70%

- 12 政府打算開放某產業的特許執照，該產業的經濟租為 600 億元，根據杜洛克 (G. Tullock) 的競租理論，當競租者人數趨近於無窮大時，社會的總競租支出將趨近於多少？  
(A) 150 億元 (B) 300 億元 (C) 600 億元 (D) 1200 億元
- 13 波文模型 (Bowen model) 均衡下，每位投票者的租稅負擔符合那種租稅課徵原則？  
(A) 絕對公平原則 (B) 租稅量能原則  
(C) 亞當斯密的平等原則 (D) 華格納的平等原則
- 14 在兩期模型下，對存款利息課徵比例所得稅 (IT)，或是對兩期的消費課徵比例消費稅 (CT)，若其他條件相同，則 IT、CT 的跨期效率為：  
(A) IT 具跨期效率，CT 不具跨期效率  
(B) IT 與 CT 均具跨期效率  
(C) IT 不具跨期效率，CT 具跨期效率  
(D) IT 與 CT 均不具跨期效率
- 15 關於我國全民健康保險財務制度之說明，下列何者正確？  
(A) 若產生虧損，將宣布破產  
(B) 財務處理方式採隨收隨付制  
(C) 健保收費方式為家戶所得制  
(D) 健保費率制度上只可調升費率，不可調降費率
- 16 有關於社會保險費的計算，下列敘述何者正確？  
(A) 社會保險的社會性特質，衍生出社會保險「繳費與給付不完全對等」的作法  
(B) 社會保險按照性別、年齡、風險值來收費  
(C) 全民健康保險會因為保費高低而有不同給付水準  
(D) 社會保險保費通常由政府全額負擔
- 17 在封閉經濟體的兩部門模型分析架構下，兩部門以 L 及 K 兩要素，分別生產財貨 F 及財貨 M。在沒有儲蓄、稅率相同情況下，以下租稅歸宿等價關係 (tax equivalence relations) 之討論，何者正確？  
(A) 對 F 部門的兩要素課稅，等同對 M 部門之產出課稅  
(B) 對 F 及 M 兩部門所使用的要素 L 課稅，等同對兩部門產出課稅  
(C) 對兩產出 F 及 M 課稅，等同對兩要素 L 及 K 課稅  
(D) 對於 F 部門之要素 L 及 M 部門之要素 K 課稅，等同課徵一般所得稅
- 18 有關課稅之雙重紅利效果 (double-dividend effect) 的敘述，何者正確？  
(A) 對於受補償需求彈性為零之財貨課稅所產生的效果  
(B) 對於受補償供給彈性為零之財貨課稅所產生的效果  
(C) 以皮古稅收降低另一不具效率租稅之稅率而產生的效果  
(D) 以定額稅收取代另一不具效率租稅而產生的效果

- 19 假設社會有 X、Y 兩種財貨，且政府已對 X 財課徵貨物稅並產生超額負擔。在稅收既定下，若再對 Y 財課徵貨物稅，下列何者最可能使社會超額負擔減少？
- (A) Y 財為必需品 (B) Y 財為奢侈品  
(C) Y 財為 X 財的淨互補品 (D) Y 財為 X 財的淨替代品
- 20 下列關於雷姆斯法則 (Ramsey rule) 的敘述，何者正確？
- (A) 稅後財貨未受補償需求量下跌的比例要一樣  
(B) 稅後財貨未受補償需求量下跌的數量要一樣  
(C) 稅後財貨受補償需求量下跌的比例要一樣  
(D) 稅後財貨受補償需求量下跌的數量要一樣
- 21 實施雙元所得稅制 (dual income tax system) 之主要目的在實現：
- (A) 資本所得的效率性與勞動所得的公平性  
(B) 資本所得與勞動所得的效率性  
(C) 資本所得的公平性與勞動所得的效率性  
(D) 資本所得與勞動所得的公平性
- 22 在留下相同稅後遺產的動機下，關於課徵遺產稅對遺贈者工作與儲蓄的影響，下列敘述何者正確？
- (A) 替代效果會增加工作  
(B) 所得效果會增加工作  
(C) 替代效果會增加儲蓄  
(D) 所得效果會減少儲蓄
- 23 在房屋的長期供給彈性為無窮大，而土地的供給量為固定的情況下，就長期而言，依據財產稅租稅歸宿的傳統觀點，下列有關降低稅率的獲益者之敘述，何者正確？
- (A) 地主及房東獲益  
(B) 地主及租屋者獲益  
(C) 土地承租人及房東獲益  
(D) 土地承租人及租屋者獲益
- 24 下列有關丁波 (C. M. Tiebout) 純地方公共財模型之均衡，何者正確？
- (A) 個別轄區內居民對財政收支組合的偏好一致  
(B) 所有轄區居民的財政剩餘 (fiscal residuum) 一致  
(C) 各轄區人口規模一致  
(D) 個別轄區內居民所得一致
- 25 在不考慮遷徙成本的情形下，倘若所得重分配政策由地方政府制定並執行，可能導致下列那一現象？
- (A) 高所得居民遷移至財政剩餘較低的轄區  
(B) 所得重分配支出水準愈高的轄區，居民結構中低所得者增加  
(C) 所得重分配支出水準愈高的轄區，不動產價值上升幅度愈大  
(D) 所得重分配支出水準愈高的轄區，稅基增加幅度愈大

# 測驗式試題標準答案

考試名稱：111年公務人員高等考試三級考試暨普通考試

類科名稱：會計、財稅行政

科目名稱：財政學（試題代號：5321）

單選題數：25題

單選每題配分：2.00分

複選題數：

複選每題配分：

標準答案：

題號	第1題	第2題	第3題	第4題	第5題	第6題	第7題	第8題	第9題	第10題
答案	C	B	D	C	D	C	B	D	B	D

題號	第11題	第12題	第13題	第14題	第15題	第16題	第17題	第18題	第19題	第20題
答案	C	C	A	C	B	A	C	C	D	C

題號	第21題	第22題	第23題	第24題	第25題	第26題	第27題	第28題	第29題	第30題
答案	A	B	B	A	B					

題號	第31題	第32題	第33題	第34題	第35題	第36題	第37題	第38題	第39題	第40題
答案										

題號	第41題	第42題	更多高普考考試科目的歷屆題庫 立即上網搜尋“高普考歷屆考古題懶人包” 高鋒公職補習班整理 Line@帳號：@gaofeng 連絡電話：07-236-7296						第49題	第50題
答案										

題號	第51題	第52題	更多高普考考試科目的歷屆題庫 立即上網搜尋“高普考歷屆考古題懶人包” 高鋒公職補習班整理 Line@帳號：@gaofeng 連絡電話：07-236-7296						第59題	第60題
答案										

題號	第61題	第62題	更多高普考考試科目的歷屆題庫 立即上網搜尋“高普考歷屆考古題懶人包” 高鋒公職補習班整理 Line@帳號：@gaofeng 連絡電話：07-236-7296						第69題	第70題
答案										

題號	第71題	第72題	第73題	第74題	第75題	第76題	第77題	第78題	第79題	第80題
答案										

題號	第81題	第82題	第83題	第84題	第85題	第86題	第87題	第88題	第89題	第90題
答案										

題號	第91題	第92題	第93題	第94題	第95題	第96題	第97題	第98題	第99題	第100題
答案										

備註：

代號：32180  
頁次：4-1

# 111年公務人員高等考試三級考試試題

類 科：財稅行政  
科 目：稅務法規  
考試時間：2小時

※注意：可以使用電子計算器。

更多高普考考試科目的歷屆題庫  
立即上網搜尋“高普考歷屆考古題懶人包”  
高鋒公職補習班整理  
Line@帳號：@gaofeng  
連絡電話：07-236-7296

座號：\_\_\_\_\_

甲、申論題部分：(50分)

- (一)不必抄題，作答時請將試題題號及答案依照順序寫在申論試卷上，於本試題上作答者，不予計分。
- (二)請以藍、黑色鋼筆或原子筆在申論試卷上作答。
- (三)本科目除專門名詞或數理公式外，應使用本國文字作答。

一、何謂核課期間？我國稅法規定核課期間的目的為何？稅捐之核課期間屆滿時，有那些情形，其時效不完成？請依稅捐稽徵法之規定說明之。(25分)

二、何謂盈虧互抵？請依我國所得稅法之相關法令規定，說明適用盈虧互抵的條件與限制。(25分)

乙、測驗題部分：(50分)

代號：8321

- (一)本測驗試題為單一選擇題，請選出一個正確或最適當的答案。
- (二)共25題，每題2分，須用2B鉛筆在試卡上依題號清楚劃記，於本試題或申論試卷上作答者，不予計分。

1 下列三項敘述中，錯誤的共有幾項？

- ①委託人為營利事業之信託契約，信託成立時，明定信託利益之全部或一部之受益人為非委託人者，該受益人應將享有信託利益之權利價值，併入成立年度之所得額，依所得稅法規定課徵所得稅
- ②前項信託契約，明定信託利益之全部或一部之受益人為委託人，於信託關係存續中，變更為非委託人者，該受益人應將其享有信託利益之權利價值，併入變更年度之所得額，依所得稅法規定課徵所得稅
- ③信託契約之委託人為營利事業，信託關係存續中追加信託財產，致增加非委託人享有信託利益之權利者，該受益人應將其享有信託利益之權利價值增加部分，併入追加年度之所得額，依所得稅法規定課徵所得稅

(A) 0 (B) 1 (C) 2 (D) 3

2 個人與證券商或銀行從事結構型商品交易之所得：

- (A)依所得稅法第4條規定免納所得稅
- (B)依所得稅法第4條之1規定，停止課徵所得稅，其交易損失亦不得自所得額中減除
- (C)依所得稅法第88條規定扣繳稅款，不併計綜合所得總額
- (D)應併計綜合所得總額，按規定申報納稅

3 張先生於民國110年度有下列幾項利息所得：(1)短期票券到期兌償金額超過首次發售價格部分之利息所得\$2,000，(2)依金融資產證券化條例規定發行之受益證券分配之利息所得\$2,000，(3)郵政之存簿儲金利息\$2,000，(4)臺灣銀行之存款利息\$2,000。試問張先生於民國111年5月申報110年度綜合所得稅時，應併計綜合所得總額之金額為何？

(A)\$2,000 (B)\$4,000 (C)\$6,000 (D)\$8,000

- 4 張先生之兄嫂已亡，兄嫂之子甲現年 19 歲就讀某國立大學，受張先生扶養，則張先生申報綜合所得稅時（選擇列舉扣除額），其所扶養親屬甲之下列支出，可申報為扣除額者有多少？(1)保險費 \$10,000，(2)於健保醫院支付之醫藥費 \$10,000，(3)就讀大學之教育學費 \$50,000。
- (A)\$10,000 (B)\$20,000 (C)\$45,000 (D)\$70,000
- 5 中華民國境內之合作社因投資於國內其他營利事業，所獲配之股利或盈餘，應否課徵營利事業所得稅？中華民國境內居住之個人獲配前述合作社之股利或盈餘應否課徵綜合所得稅？
- (A)合作社應稅；個人應稅 (B)合作社應稅；個人免稅  
(C)合作社免稅（不計入所得額）；個人應稅 (D)合作社免稅（不計入所得額）；個人免稅
- 6 假設綜合所得稅同一申報戶 3 人，夫的利息所得 15 萬元，妻的利息所得 10 萬元，合併申報的長子利息所得 8 萬元。請問，若採用夫為納稅義務人，妻各類所得分開計稅，下列何者正確？
- (A)妻可減除之儲蓄投資特別扣除額為 9 萬元  
(B)妻可減除之儲蓄投資特別扣除額為 4 萬元  
(C)妻可減除之儲蓄投資特別扣除額為 10 萬元  
(D)妻可減除之儲蓄投資特別扣除額為 8 萬元
- 7 按所得基本稅額條例規定，下列何者為個人計算基本所得額時應包含之項目：①受益人與要保人同一人之人壽保險給付超過 3,330 萬元以上 ②海外所得 90 萬元 ③出售未上市櫃股票之所得額 ④非現金部分之捐贈扣除額 ⑤選擇分開計算之股利及盈餘合計數
- (A)①④⑤ (B)①③④ (C)③④⑤ (D)②③⑤
- 8 甲公司 109 年度（會計年度為曆年制）本期稅後淨利扣除依法提列項目及分派股利後之未分配盈餘為 300 萬元。於 110 年 3 月購置符合「公司或有限合夥事業實質投資適用未分配盈餘減除及申請退稅辦法」規定之 A 機器設備 120 萬元，下列敘述何者正確？
- (A)於 110 年 5 月申報 109 年度未分配盈餘，以 180 萬元加徵 5%營利事業所得稅  
(B)於 110 年 5 月申報 109 年度未分配盈餘，以 300 萬元加徵 5%營利事業所得稅  
(C)於 111 年 5 月申報 109 年度未分配盈餘，以 300 萬元加徵 5%營利事業所得稅  
(D)於 111 年 5 月申報 109 年度未分配盈餘，以 180 萬元加徵 5%營利事業所得稅
- 9 甲公司製造商品時產生某些下腳與廢料，試問甲公司於國內銷售該等下腳與廢料所取得之代價，應否開立發票？營業稅稅率為何？
- (A)應開發票，稅率為 5% (B)應開發票，稅率為 0.1%  
(C)免開發票，稅率為 1% (D)免開發票，免稅
- 10 依加值型及非加值型營業稅法規定，小規模營業人得以當期購買營業上使用之貨物或勞務所取得進項稅額之一定比例，扣減當期查定稅額，試問其得扣減金額為進項稅額之比例為何？若該項得扣減金額超過查定稅額者，次期可否繼續扣減？
- (A)進項稅額之 5%；次期可繼續扣減  
(B)進項稅額之 5%；次期不可繼續扣減  
(C)進項稅額之 10%；次期可繼續扣減  
(D)進項稅額之 10%；次期不可繼續扣減

- 11 下列何項貨物免課徵貨物稅？
- (A)彩色電視機 (B)電腦螢幕  
(C)電冰箱 (D)電烤箱（以電熱或微波烤炙食物之器具）
- 12 各行業關於營業稅額計算方式及稅率規定，依加值型及非加值型營業稅法，下列敘述何者錯誤？
- (A)有陪侍服務之酒吧，按特種稅額計算，其稅率為 15%  
(B)銀行業按特種稅額計算，經營專屬本業之銷售額，其稅率為 5%  
(C)農產品批發市場之承銷人及銷售農產品之小規模營業人，其營業稅稅率為 0.1%  
(D)百貨業按一般稅額計算，其稅率為 5%
- 13 林先生 111 年 5 月 18 日將其持有之臺南市土地 1 筆及房屋 1 棟贈與其子，贈與當時該土地之公告土地現值為\$4,000,000、房屋評定標準價格為\$1,000,000，而土地與房屋之市價分別為\$8,000,000 與\$1,500,000，其子已成年，有正當職業並已小有積蓄，若該移轉之土地增值稅\$300,000 與契稅\$60,000 由其子支付，則此項贈與總額為何？
- (A)\$4,640,000 (B)\$5,000,000 (C)\$9,140,000 (D)\$9,500,000
- 14 下列何者應計入遺產總額？
- (A)遺贈人、受遺贈人或繼承人捐贈公有事業機構或全部公股之公營事業之財產  
(B)被繼承人自拍賣市場取得之著作權、發明專利權及藝術品  
(C)被繼承人職業上之工具，其總價值在 40 萬元以下部分  
(D)被繼承人死亡前 5 年內，繼承之財產已納遺產稅者
- 15 下列何者不是「私人捐贈供興辦社會福利事業或依法設立私立學校使用之土地，免徵土地增值稅」之要件？
- (A)受贈人為財團法人  
(B)受贈人為人民團體  
(C)捐贈人未以任何方式取得所捐贈土地之利益  
(D)法人章程載明法人解散時，其賸餘財產歸屬當地地方政府所有
- 16 張先生於民國 110 年出售土地一塊，售價為 4,500 萬元，公告現值為 3,000 萬元，該筆土地是張先生於民國 85 年以 1,400 萬元購得，當時的公告現值是 600 萬元，以購買時為基期換算申報土地移轉現值收件當時已公告之最近臺灣地區消費者物價總指數為 150，張先生在購買土地當年曾支付改良土地費用 800 萬元，則其應納土地增值稅為何？（不計入因重新規定地價而增繳地價稅之可抵繳額）
- (A) 180 萬元 (B) 292 萬元 (C) 300 萬元 (D) 320 萬元

- 17 土地為信託財產者，於信託關係存續中，地價稅之納稅義務人為何人？如果受益人已確定，但委託人保留變更受益人之權利者，該地價稅適用之稅率應以何人在同一直轄市或縣（市）轄區內所有之土地合併計算地價總額之法定稅率為基礎？
- (A)委託人；委託人 (B)受益人；受益人  
(C)受託人；委託人 (D)受託人；受益人
- 18 甲公司出租房屋予乙公司使用，並收取押金\$6,000,000，假設甲公司為加值型營業人，該年1月1日郵政儲金匯業局之1年期定期存款利率為1%，臺灣銀行之基準利率為2%；則甲公司每月應設算之租金收入為：
- (A)\$4,762 (B)\$5,000 (C)\$9,524 (D)\$10,000
- 19 貨物稅條例所規定的應稅貨物，不包括下列何者？
- (A)車輛類 (B)橡膠輪胎 (C)油氣類 (D)服飾類
- 20 用來擔保稅款之下列四項擔保品，按八折計值者有幾項？①銀行存款單摺 ②黃金 ③中央銀行掛牌之外幣 ④上市或上櫃之有價證券
- (A) 1 (B) 2 (C) 3 (D) 4
- 21 下列敘述何者錯誤？
- (A)法務部行政執行署所屬行政執行分署執行拍賣或變賣貨物應課徵之營業稅，優先於一切債權  
(B)抵押權優先於法務部行政執行署所屬行政執行分署執行拍賣或變賣貨物應課徵之營業稅  
(C)稅捐之徵收，優先於普通債權  
(D)土地增值稅、地價稅、房屋稅之徵收，優先於一切債權及抵押權
- 22 納稅人因自身誤用法令而申報錯誤，因而溢繳稅款，得於繳納後多久向稅捐稽徵機關申請退還？
- (A)無期限限制 (B) 10 年 (C) 5 年 (D) 1 年
- 23 張三於 110 年有出售未上市公司股票之交易所得 50 萬元，出售高爾夫球會員證所得 30 萬元，另有出售坐落臺中市於 90 年購入之房屋交易損失 60 萬元，張三均依規定申報，則當年度可列報之財產交易損失特別扣除額為何？
- (A) 0 元 (B) 30 萬元 (C) 60 萬元 (D) 20 萬元
- 24 張木的妹妹張雲於 110 年時，年紀 40 歲，就讀於臺灣大學研究所，兼任助理年收入 12 萬，無其他收入。若張木將張雲申報為扶養親屬，請問下述何者正確？
- (A)張雲為張木妹妹，因其屬成年，且有收入，故不可以列為扶養親屬  
(B)張雲在學中，可列為扶養親屬。張雲的醫藥費可申報為列舉扣除額  
(C)張雲在學中，可列為扶養親屬。張雲的人身保險費可申報為列舉扣除額  
(D)張雲在學中，可列為扶養親屬。張雲的房租支出可申報為列舉扣除額
- 25 根據我國財政收支劃分法規定，稅課劃分為國稅、直轄市及縣（市）稅，下列何者屬於國稅？
- ①契稅 ②營業稅 ③娛樂稅 ④遺產及贈與稅 ⑤菸酒稅
- (A)②④⑤ (B)①②⑤ (C)①③④ (D)②③⑤



# 測驗式試題標準答案

考試名稱：111年公務人員高等考試三級考試暨普通考試

類科名稱：財稅行政

科目名稱：稅務法規（試題代號：8321）

更多高普考考試科目的歷屆題庫  
立即上網搜尋“高普考歷屆考古題懶人包”  
高鋒公職補習班整理  
Line@帳號：@gaofeng  
連絡電話：07-236-7296

單選題數：25題

單選每題配分：2.00分

複選題數：

複選每題配分：

標準答案：

題號	第1題	第2題	第3題	第4題	第5題	第6題	第7題	第8題	第9題	第10題
答案	A	C	A	A	C	B	C	D	A	C

題號	第11題	第12題	第13題	第14題	第15題	第16題	第17題	第18題	第19題	第20題
答案	B	A	A	B	B	B	C	A	D	B

題號	第21題	第22題	第23題	第24題	第25題	第26題	第27題	第28題	第29題	第30題
答案	B	B	B	B	A					

題號	第31題	第32題	第33題	第34題	第35題	第36題	第37題	第38題	第39題	第40題
答案										

題號	第41題	第42題	第43題	第44題	第45題	第46題	第47題	第48題	第49題	第50題
答案										

題號	第51題	第52題	第53題	第54題	第55題	第56題	第57題	第58題	第59題	第60題
答案										

題號	第61題	第62題	第63題	第64題	第65題	第66題	第67題	第68題	第69題	第70題
答案										

題號	第71題	第72題	第73題	第74題	第75題	第76題	第77題	第78題	第79題	第80題
答案										

題號	第81題	第82題	第83題	第84題	第85題	第86題	第87題	第88題	第89題	第90題
答案										

題號	第91題	第92題	第93題	第94題	第95題	第96題	第97題	第98題	第99題	第100題
答案										

備註：

# 測驗題標準答案更正

考試名稱：111年公務人員高等考試三級考試暨普通考試

類科名稱：財稅行政

科目名稱：稅務法規

單選題數：25題

單選每題配分：2.00分

複選題數：

複選每題配分：

標準答案：答案標註#者，表該題有更正答案，其更正內容詳見備註。

題號	第1題	第2題	第3題	第4題	第5題	第6題	第7題	第8題	第9題	第10題		
答案	A	C	A	A	C	B	C	D	A	C		
題號	第11題	第12題	第13題	第14題	第15題	第16題	第17題	第18題	第19題	第20題		
答案	B	A	#	B	B	B	C	A	D	B		
題號	第21題	第22題	第23題	第24題	第25題	第26題	第27題	第28題	第29題	第30題		
答案	B	B	B	B	A							
題號	第31題	第32題	第33題	第34題	第35題	第36題	第37題	第38題	第39題	第40題		
答案												
題號	第41題	第42題	<b>更多高普考考試科目的歷屆題庫 立即上網搜尋“高普考歷屆考古題懶人包” 高鋒公職補習班整理 Line@帳號：@gaofeng 連絡電話：07-236-7296</b>					第48題	第49題	第50題		
答案												
題號	第51題	第52題						第58題	第59題	第60題		
答案												
題號	第61題	第62題	第63題	第64題	第65題	第66題	第67題	第68題	第69題	第70題		
答案												
題號	第71題	第72題	第73題	第74題	第75題	第76題	第77題	第78題	第79題	第80題		
答案												
題號	第81題	第82題	第83題	第84題	第85題	第86題	第87題	第88題	第89題	第90題		
答案												
題號	第91題	第92題	第93題	第94題	第95題	第96題	第97題	第98題	第99題	第100題		
答案												

備註：第13題答A或B者均給分。

代號：31060、32160  
32260、32560  
32960、33060  
頁次：4-1

# 111年公務人員高等考試三級考試試題

類 科：勞工行政、財稅行政、金融保險、統計、經建行政、公平交易管理

科 目：經濟學

考試時間：2小時

※注意：可以使用電子計算器。

甲、申論題部分：(50分)

- (一)不必抄題，作答時請將試題題號及答案依照順序寫在申論試卷上，於本試題上作答者，不予計分。
- (二)請以藍、黑色鋼筆或原子筆在申論試卷上作答。
- (三)本科目除專門名詞或數理公式外，應使用本國文字作答。

更多高普考考試科目的歷屆題庫  
立即上網搜尋“高普考歷屆考古題懶人包”  
高鋒公職補習班整理  
Line@帳號：@gaofeng  
連絡電話：07-236-7296

座號：\_\_\_\_\_

一、考慮一邊際成本為正斜率曲線的獨占廠商。若政府要求獨占廠商必須將競爭市場下的價格視為價格上限 (price ceiling)，試分析獨占廠商面對的需求與邊際收益曲線會如何變化？並輔以圖形 (橫軸為數量、縱軸為價格) 詳細說明之。(25分)

二、近期全球面臨嚴重的通貨膨脹問題，試利用物價可以部分調整 (即AS線為正斜率) 的AD-AS模型，分析財政政策如何分別從供給面與需求面的角度來抑制通貨膨脹？並輔以圖形 (橫軸為產出、縱軸為物價) 詳細說明之。(25分)

乙、測驗題部分：(50分)

代號：6310

- (一)本測驗試題為單一選擇題，請選出一個正確或最適當的答案。
- (二)共25題，每題2分，須用2B鉛筆在試卡上依題號清楚劃記，於本試題或申論試卷上作答者，不予計分。

- 1 假設經濟體系中有兩位消費者 (A 和 B)，兩種財貨 (X 和 Y)。消費者 A 的初始稟賦為 (X = 30, Y = 20) 而消費者 B 的初始稟賦為 (X = 20, Y = 30)。兩位消費者的效用函數皆為  $U(X, Y) = X^{0.5}Y^{0.5}$ 。均衡時兩位消費者的消費數量為何？  
(A) A (X = 30, Y = 20), B (X = 20, Y = 30) (B) A (X = 26, Y = 24), B (X = 24, Y = 26)  
(C) A (X = 25, Y = 25), B (X = 25, Y = 25) (D) A (X = 20, Y = 30), B (X = 30, Y = 20)
- 2 若政府提高進口汽車關稅，下列敘述何者正確？  
(A)進口汽車銷售量增加 (B)進口汽車價格下跌  
(C)國產汽車銷售量增加 (D)國產汽車價格下跌
- 3 2016年10月時，行政院為了推動長照2.0計畫，規劃以調高遺贈稅與菸稅來支應長照的財源需求。依據財政部估計目前國內各種香菸平均售價約為65元，每包加收20元菸稅，則每年國人消費的香菸將從原先16.55億包減少到13.25億包，根據上述資料計算消費香菸需求彈性之弧彈性為何？  
(A)-0.17 (B)-0.65 (C)-0.83 (D)-1.05

- 4 在其他條件不變之下，電動機車的供給下降，需求上升，則下列敘述何者正確？  
 (A) 均衡價格一定上漲 (B) 均衡價格一定下跌  
 (C) 均衡交易量一定上升 (D) 均衡交易量一定下跌
- 5 假設口罩市場的均衡數量與價格由供需雙方共同決定，其市場需求曲線為  $Q_d = 10 - P$ ，市場供給曲線為  $Q_s = P - 2$ ，其中  $P$  為口罩的價格，請問此時若政府對口罩市場中的價格制定價格上限  $P = 5$ ，以下敘述何者正確？  
 (A) 政府制定價格上限後，消費者剩餘上升 2.5  
 (B) 政府制定價格上限後，消費者剩餘上升 3.5  
 (C) 政府制定價格上限後，消費者剩餘下降 3.5  
 (D) 政府制定價格上限後，消費者剩餘下降 2.5
- 6 某工廠之生產函數為  $Q(L, K) = L^{0.8}K^{0.2}$ ，其中  $Q$  為產量， $L$  與  $K$  分別為勞動與資本，每單位勞動價格為 1，每單位資本價格為 2，請問在成本極小化之目標下，投入勞動和資本的最適比例 ( $L/K$ ) 為何？  
 (A) 4 (B) 0.25 (C) 8 (D) 0.125
- 7 兩家電信公司的長途通話費可以設定為每分鐘 \$3 或 \$4，下表顯示報價矩陣。則 A、B 廠商的優勢策略分別為何？

A 廠商的策略

		\$4	\$3
B 廠商的策略	\$4	\$320 萬 \$320 萬	\$500 萬 \$200 萬
	\$3	\$200 萬 \$500 萬	\$450 萬 \$450 萬

- (A) \$3 ; \$3 (B) \$3 ; \$4 (C) \$4 ; \$3 (D) \$4 ; \$4
- 8 有關獨占之敘述，下列何者正確？  
 (A) 航空公司對於頭等艙與經濟艙訂定不同票價，係因其採取差別定價  
 (B) 因為供給量與市場價格不存在一對一關係，所以獨占廠商無供給曲線  
 (C) 與完全競爭的廠商相比，獨占廠商的產量較多，售價較低  
 (D) 獨占廠商利潤極大點須滿足「產品價格等於邊際成本」條件
- 9 假設在某一個國家，其 15 歲以上的人口為 500,000 人，勞動力人口為 300,000 人。在勞動力人口中，就業人口為 240,000 人，失業人口為 60,000。請問勞動參與率為何？  
 (A) 25% (B) 48% (C) 55% (D) 60%

- 10 如果勞動與資本投入是互補的，某廠商今年的生產設備故障率顯著高於去年，在追求利潤極大的考量下，相對於去年，今年廠商應：
- (A)裁減員工 (B)增聘員工 (C)提高工資 (D)停止生產
- 11 假設某一廠商為完全競爭廠商，其短期成本函數為  $TC(Q) = 100 + aQ + bQ^2$ ，其中  $a > 0$  且  $b > 0$ ，此一廠商之短期供給曲線為何？
- (A)  $P = a + bQ, P \geq a$  (B)  $P = a + 2bQ, P \geq a$   
(C)  $P = a + bQ, P \geq 0$  (D)  $P = a + 2bQ, P \geq 0$
- 12 下列何者不是資訊不對稱時，所產生的道德風險行為？
- (A)小偷在偷竊財物時面對被抓的風險  
(B)車子投保竊盜險之後，車主就不再將車門上鎖  
(C)金融保險機構的經理人使用公司的資金購置過高風險的資產  
(D)員工上班趁主管不注意時，使用手機處理私人事務
- 13 公共財的提供存在著搭便車問題 (free rider problem)，主要是因為公共財的那一項特性？
- (A)非排他性 (B)非敵對性 (C)非競爭性 (D)非合作性
- 14 假設資本財的報酬遞減。在其他條件不變下，若一國的人口及資本財的數量都增加，則該國的總要素生產力：
- (A)增加 (B)維持不變  
(C)減少 (D)可能增加、減少或維持不變
- 15 假設 A 國為一封閉體系。在其他條件不變下，若 A 國政府支出增加，則可貸資金市場的均衡實質利率會：
- (A)增加 (B)減少  
(C)維持不變 (D)可能增加、減少或維持不變
- 16 在 AD-AS 分析中，貨幣數量的增加第一個影響的是：
- (A) AD 曲線向左移動 (B) AD 曲線向右移動  
(C)長期 AS 曲線向左移動 (D)長期 AS 曲線向右移動
- 17 根據 IS-LM 與 AD-AS 模型，當政府大幅調高基本工資時，在其他條件不變下，如果投資對利率愈敏感，則：
- (A)短期均衡實質 GDP 與一般物價水準的降幅皆愈大  
(B)短期均衡實質 GDP 與一般物價水準的降幅皆愈小  
(C)短期均衡實質 GDP 的減幅愈大且一般物價水準的升幅愈小  
(D)短期均衡實質 GDP 的減幅愈小且一般物價水準的升幅愈大

- 18 當 IS 曲線愈陡峭，則總合需求曲線愈 ①；當 LM 曲線愈平坦，則貨幣需求利率彈性愈 ②。  
(A)平坦；小 (B)平坦；大 (C)陡峭；小 (D)陡峭；大
- 19 根據梭羅 (Solow Model) 模型，假設 A 國和 B 國的生產函數、人口成長率與資本折舊率都相同，但 A 國儲蓄率大於 B 國。若兩國都沒有技術進步的情況下，則下列敘述何者正確？  
(A) A 國目前的每人平均產出一定大於 B 國  
(B) A 國目前的每人平均產出一定等於 B 國  
(C)長期時，A 國的每人平均產出成長率一定大於 B 國  
(D)長期時，A 國的每人平均產出成長率一定等於 B 國
- 20 在開放體系下，假設邊際進口傾向為 0.1，邊際稅率為 0.25，邊際消費傾向為 0.8，若自發性投資增加 200 萬，則均衡產出增加：  
(A) 100 萬 (B) 1000 萬 (C) 400 萬 (D) 500 萬
- 21 關於景氣循環的敘述，下列何者正確？  
(A)收縮期包括衰退期與復甦期  
(B)景氣循環是短期經濟波動的現象  
(C)擴張期是指一個頂峰至另一個頂峰的期間  
(D)景氣循環指標是由行政院主計總處估計並發布
- 22 下列何者不影響資本使用者的成本？  
(A)實質利率 (B)折舊率  
(C)資本實質價格之預期變動率 (D)資本的邊際生產力
- 23 根據庫茲內茲 (Kuznets) 的實證發現，民眾長期的邊際消費傾向與平均消費傾向會隨所得增加而如何變動？  
(A)邊際消費傾向增加與平均消費傾向增加 (B)邊際消費傾向減少與平均消費傾向減少  
(C)邊際消費傾向不變與平均消費傾向不變 (D)邊際消費傾向增加與平均消費傾向不變
- 24 令橫軸變數為實質 GDP，縱軸變數為利率。假設實質貨幣需求只決定於利率。就 IS-LM 模型而言：  
(A) LM 線為一水平線，且財政政策有效 (B) LM 線為一水平線，且財政政策無效  
(C) LM 線為一垂直線，且財政政策有效 (D) LM 線為一垂直線，且財政政策無效
- 25 下列那一個學派，特別強調勞動跨期替代效果，並且工資的變化只是暫時性而非恆常性？  
(A)貨幣學派 (B)古典學派 (C)凱因斯學派 (D)實質景氣循環學派

更多高普考考試科目的歷屆題庫  
立即上網搜尋“高普考歷屆考古題懶人包”  
高鋒公職補習班整理  
Line@帳號：@gaofeng  
連絡電話：07-236-7296

# 測驗式試題標準答案

考試名稱：111年公務人員高等考試三級考試暨普通考試

類科名稱：統計、金融保險、經建行政、勞工行政、公平交易管理、財稅行政

科目名稱：經濟學（試題代號：6310）

單選題數：25題

單選每題配分：2.00分

複選題數：

複選每題配分：

標準答案：

題號	第1題	第2題	第3題	第4題	第5題	第6題	第7題	第8題	第9題	第10題
答案	C	C	C	A	A	C	A	B	D	A

題號	第11題	第12題	第13題	第14題	第15題	第16題	第17題	第18題	第19題	第20題
答案	B	A	A	D	A	B	C	D	D	C

題號	第21題	第22題	第23題	第24題	第25題	第26題	第27題	第28題	第29題	第30題
答案	B	D	C	A	D					

題號	第31題	第32題	第33題	第34題	第35題	第36題	第37題	第38題	第39題	第40題
答案										

題號	第41題	第42題	更多高普考考試科目的歷屆題庫 立即上網搜尋“高普考歷屆考古題懶人包” 高鋒公職補習班整理 Line@帳號：@gaofeng 連絡電話：07-236-7296					第48題	第49題	第50題
答案										

題號	第51題	第52題	更多高普考考試科目的歷屆題庫 立即上網搜尋“高普考歷屆考古題懶人包” 高鋒公職補習班整理 Line@帳號：@gaofeng 連絡電話：07-236-7296					第58題	第59題	第60題
答案										

題號	第61題	第62題	第63題	第64題	第65題	第66題	第67題	第68題	第69題	第70題
答案										

題號	第71題	第72題	第73題	第74題	第75題	第76題	第77題	第78題	第79題	第80題
答案										

題號	第81題	第82題	第83題	第84題	第85題	第86題	第87題	第88題	第89題	第90題
答案										

題號	第91題	第92題	第93題	第94題	第95題	第96題	第97題	第98題	第99題	第100題
答案										

備註：

# 111年公務人員高等考試三級考試試題

代號：32170  
32270  
頁次：6-1

類 科：財稅行政、金融保險

科 目：會計學

考試時間：2 小時

※注意：可以使用電子計算器。

甲、申論題部分：(50 分)

- (一)不必抄題，作答時請將試題題號及答案依照順序寫在申論試卷上，於本試題上作答者，不予計分。
- (二)請以藍、黑色鋼筆或原子筆在申論試卷上作答。
- (三)本科目除專門名詞或數理公式外，應使用本國文字作答。

更多高普考考試科目的歷屆題庫  
立即上網搜尋“高普考歷屆考古題懶人包”  
高鋒公職補習班整理  
Line@帳號：@gaofeng  
連絡電話：07-236-7296

座號：\_\_\_\_\_

一、乙公司 X1 年底以 \$600,000 (含交易成本) 買入 3 年期 A 公司之公司債 (以下簡稱 A 公司債)，面額 \$600,000，票面利率 5%，每年 12 月 31 日付息。乙公司對該債券投資依照攤銷後成本來衡量。A 公司債的預期信用損失估計金額如下：

	12 個月預期信用損失	存續期間預期信用損失
X1 年底	\$5,000	\$16,000
X2 年底	\$21,000	\$37,000
X3 年底	\$58,000	\$58,000

X1 年底，乙公司判斷所持有的 A 公司債自原始認列後信用風險未顯著增加。A 公司 X2 年發生財務困難，乙公司 X2 年底判斷 A 公司債之信用風險顯著增加，A 公司債 X3 年底已自活絡市場中消失，並達到減損的狀態。乙公司在 X2、X3 年底各收到 A 公司債利息 \$30,000。

試作：

(一)乙公司 X1、X2 年底持有 A 公司債應認列的減損損失金額各為何？  
(每個答案 6 分，共 12 分)

(二)乙公司 X4 年底只收到 \$580,200 (包含利息與本金)，其餘款項無法收回，乙公司 X4 年底針對 A 公司債應認列的減損損失迴轉金額為何？(6 分)

二、甲公司於 X7 年 1 月 1 日向丁公司承租汽車一部，租期 5 年，每年租金 \$180,000 並於年底支付，該租金包含每年牌照稅等費用 \$20,000。甲公司於租期屆滿時得以 \$40,000 承購該汽車，且可合理確定將行使該選擇權。假設租賃開始日承租人的增額借款利率為 10%，出租人的隱含利率為 12% (承租人已知)。該汽車的耐用年限為 8 年，8 年後估計殘值 \$0，而租期屆滿時估計殘值 \$90,000，甲公司以年數合計法提列折舊。

( $P_{5,10\%} = 3.790787$ ， $P_{5,12\%} = 3.604776$ ； $p_{5,10\%} = 0.620921$ ， $p_{5,12\%} = 0.567427$ )

( $P_{4,10\%} = 3.169865$ ， $P_{4,12\%} = 3.037349$ ； $p_{4,10\%} = 0.683013$ ， $p_{4,12\%} = 0.635518$ )

試作 (四捨五入至整數位)：(每小題 8 分，共 16 分)

(一)甲公司 X7 年 12 月 31 日的「租賃負債」餘額為何？

(二)X7 年 12 月 31 日應認列的「折舊費用」為何？



三、以下每小題均為獨立問題：(每小題 8 分，共 16 分)

(一)甲公司倉庫於 X5 年 7 月 1 日發生火災，除 FOB 起運點交貨之在途進貨外，倉庫內剩餘存貨的估計殘值\$15,000。該批在途進貨購價\$45,000，運費\$2,000 已經入帳。甲公司存貨相關資料如下：X5 年 1 月 1 日存貨\$50,000，1 月 1 日至 7 月 1 日間的進貨\$400,000，1 月 1 日至 7 月 1 日間的現金銷貨\$150,000，賒銷\$350,000，進貨退出\$6,000，銷貨退回\$15,000，進貨運費\$2,000，銷貨運費\$3,500，平均毛利率為銷貨淨額之 28%。

甲公司的存貨火災損失金額為何？

(二)乙公司在 X2 年成立，存貨使用零售價法計價。X2 年資料如下：

	成本	零售價		成本	零售價
期初存貨	\$65,000	\$100,000	減價取消		\$16,000
進貨	383,000	458,000	銷貨總額		520,000
進貨運費	22,000		銷貨運費		45,000
進貨退出	8,000	10,000	銷貨折扣		22,000
進貨折扣	9,000		正常損耗		5,000
加價		128,000	員工折扣		5,000
減價		49,000	銷貨退回		30,000
加價取消		40,000	非常損耗	\$3,000	6,000

乙公司若採用「先進先出零售價」法，X2 年期末存貨金額為何（註：成本比率請以四捨五入之 0.XX 為計算基礎）？

乙、測驗題部分：(50 分)

代號：7321

(一)本測驗試題為單一選擇題，請選出一個正確或最適當的答案。

(二)共 25 題，每題 2 分，須用 2B 鉛筆在試卡上依題號清楚劃記，於本試題或申論試卷上作答者，不予計分。

- 1 甲公司平日對商品管理採用定期盤存制，本年度截至第二季季末相關存貨資料如下：期初存貨\$150,000、進貨\$250,000、進貨運費\$5,000、銷貨\$527,000、銷貨退回\$17,000。甲公司的定價慣例係依成本加 50%作為售價。請問以毛利率法估算第二季季末之期末存貨金額為何？  
(A)\$65,000 (B)\$150,000 (C)\$255,000 (D)\$340,000
- 2 甲公司 X1 年初以\$1,000,000 購入自用土地一筆，採重估價模式衡量，X1 年底按該土地當日公允價值\$1,200,000 進行重估價，該公司選擇將重估增值累積於權益直至處分該土地。X2 年底評估該土地已發生減損，估計可回收金額為\$950,000。X3 年底該公司評估該土地已認列之減損已不復存在，估計可回收金額為\$1,080,000。該公司應認列計入 X3 年本期淨利之減損迴轉利益金額為何？  
(A)\$0 (B)\$50,000 (C)\$80,000 (D)\$120,000

- 3 甲公司於 X1 年初給予 30 位員工各 200 單位之認股權，該給予之條件為員工必須繼續服務 3 年。甲公司估計每一認股權之公允價值為\$18。X1 年共有 2 位員工離職，甲公司估計既得期間共有 8 位員工離職。X2 年陸續又有 3 位員工離職，在考慮可能離職率後，甲公司估計既得期間共有 9 位員工離職，未能取得其認股權。請問甲公司 X2 年認列之薪資費用為何？  
(A)\$0 (B)\$21,600 (C)\$24,000 (D)\$25,200
- 4 X1 年底甲公司將成本\$1,200,000 商品售予乙公司，取得現金\$1,500,000，並約定於 X2 年 1 月底以\$1,650,000 買回該商品。若甲公司將此交易逕列為銷貨交易，則對 X1 年底財報影響之敘述，何者正確？  
(A)銷貨毛利高估\$300,000 (B)資產高估\$1,200,000  
(C)淨利低估\$300,000 (D)負債低估\$1,650,000
- 5 甲公司 X1 年初計畫資產公允價值為\$600,000，確定給付義務現值為\$700,000，X1 年當期服務成本為\$13,000，淨利息成本為\$15,000，提撥退休基金\$35,000，並支付退休金若干。X1 年底計畫資產公允價值為\$615,000，確定給付義務現值為\$688,000，且並無精算假設改變，則 X1 年退休基金實際報酬為：  
(A)\$20,000 (B)\$60,000 (C)\$75,000 (D)\$100,000
- 6 甲公司自 X1 年 1 月 1 日起向乙公司承租一部耐用年限 6 年之設備，租期 5 年，乙公司每年年初收取租金\$100,000，第一次收款日為 X1 年 1 月 1 日，租賃屆滿該設備估計殘值為\$80,000。甲公司保證租期屆滿該設備殘值至少為\$60,000。若租賃開始日租賃之給付現值為\$471,968(隱含利率為 9%)，租賃資產之公允價值為\$484,966。甲公司採直線法提列折舊，租賃終了時需返還設備給乙公司。若租賃屆滿日實際殘值為\$50,000，則甲、乙公司於租賃屆滿日相關會計處理之敘述，何者正確？  
(A)甲公司租期屆滿時租賃負債餘額為\$60,000  
(B)甲公司毋需認列返還租賃資產損失  
(C)乙公司租期屆滿時應收租賃款餘額為\$60,000  
(D)乙公司應認列收回資產損失\$30,000
- 7 甲公司於 X1 年 1 月 1 日發行 5 年期附賣回權可轉換公司債 50 張，每張面額為\$100,000，票面利率為 0%，收到現金總額為\$5,000,000。該賣回權於 X1 年 1 月 1 日，以選擇權定價模式計算之公允價值為\$495,000。此外，發行時，相同條件但不附賣回權及轉換權之公司債公平利率為 4%；5 年期、4%、1 元複利現值為 0.821927。請問甲公司 X1 年 12 月 31 日與上述交易相關之資本公積與公司債折價餘額為何？  
(A)資本公積為\$495,000，公司債折價為\$890,365  
(B)資本公積為\$890,365，公司債折價為\$164,385  
(C)資本公積為\$99,635，公司債折價為\$4,190,635  
(D)資本公積為\$395,365，公司債折價為\$725,980
- 8 甲航空公司與乙租賃公司於 X1 年 1 月 1 日簽訂不可撤銷之租賃契約，約定租用新客機乙架，為期 4 年，每年租金 8,000 萬元。甲航空公司有權於租期屆滿時每年以 2,000 萬元續租 5 年，同時得於 X6 年底以 4,000 萬元之購買權行使價格購買該客機（估計屆時公允價值為 80,000 萬元）。甲航空公司可合理確定將行使該選擇權。該客機之耐用年限為 25 年，但甲航空公司之政策為機隊之機齡不超過 15 年。請問此租約之租期為何？  
(A) 4 年 (B) 6 年 (C) 9 年 (D) 15 年

- 9 若甲公司 X2 年共賒銷\$910,000，並提列壞帳費用\$6,500，而 X1 與 X2 年底之應收帳款餘額分別為\$840,000 與\$770,000；X1 與 X2 年底之備抵壞帳餘額分別為\$42,000 與\$35,000。請問在直接法下營業活動之淨現金流量中銷貨收現數為何？  
(A)\$966,500 (B)\$973,000 (C)\$979,500 (D)\$980,000
- 10 綜合損益表中，在其他綜合損益的部分，下列那一項不可重分類至損益？  
(A)不動產重估增值  
(B)在現金流量避險工具中，當被避險的預期交易影響損益時，所產生的公允價值變動損益  
(C)透過其他綜合損益按公允價值衡量之債務工具投資，其出售或除列時  
(D)國外營運機構結束或出售時，外幣投資匯回國內或轉換本國貨幣之兌換利益或損失
- 11 甲公司 X1 年 7 月 1 日倉庫失火，存貨損壞嚴重，依會計資料顯示 X1 年 1 月 1 日存貨金額為\$70,000，在 X1 年 1 月 1 日至 6 月 30 日之進貨成本為\$450,000，銷貨收入為\$400,000。若甲公司之銷貨毛利率約為 30%，火災後之存貨價值為\$40,000，但自保險理賠中，獲得損失總金額 80%之現金，請問下列何者正確？  
(A)甲公司得認列因火災造成的非常損失\$200,000  
(B)甲公司前 2 季之銷貨成本為\$320,000  
(C)甲公司 X1 年因火災所造成之淨損失金額為\$40,000  
(D)甲公司 X1 年災害發生前之存貨成本為\$170,000
- 12 甲公司 X1 年 1 月 1 日取得主管機關之研究發展補助款\$500,000，此補助款係供該公司未來之產品開發計畫，預期研究發展支出於未來 5 年內平均發生，並且 X1 年度之研究發展支出共\$300,000，公司估計研究發展總支出為\$1,500,000。請問 X1 年度之政府補助款\$500,000 應認列為「政府補助之利益」之金額為：  
(A)\$100,000 (B)\$250,000 (C)\$300,000 (D)\$500,000
- 13 甲公司普通股流通股數相關資訊如下：
- |                     |            |
|---------------------|------------|
| X1年1月1日流通在外股數       | 2,500,000股 |
| X1年4月1日按市價現金增資發行普通股 | 400,000股   |
| X1年7月1日購回庫藏股        | 150,000股   |
| X2年度2月1日發放100%股票股利  |            |
- 假設 X1 年度財報核准公布日為 X2 年 3 月 15 日，則計算 X1 年基本每股盈餘時，所使用之普通股流通在外加權平均股數為何？  
(A) 2,725,000 股 (B) 2,750,000 股 (C) 3,650,000 股 (D) 5,450,000 股
- 14 在綜合損益表中，當收益和費損的項目重要時，企業應單獨揭露其性質和金額。下列需要單獨揭露收益和費損的情況有幾項？①沖減存貨至淨變現價值，或沖減不動產、廠房及設備至可回收金額（亦即認列資產減損損失），以及該沖減的迴轉（亦即認列減損損失的迴轉利益）②企業活動的重組損失，以及重組成本負債準備的迴轉（重組損失迴轉利益）③處分不動產、廠房及設備項目的損益 ④處分投資的損益 ⑤停業單位損益 ⑥無聊的訴訟，估計敗訴的機率微乎其微（Remote） ⑦其他之負債準備迴轉  
(A) 4 項 (B) 5 項 (C) 6 項 (D) 7 項

15 甲公司 111 年 5 月 1 日收到客戶開立之票據一張，面額為\$240,000，利率 4%，5 個月到期。111 年 7 月 1 日公司以此票據向乙銀行貼現，貼現率 7%，若該票據貼現視為無追索權之出售，則票據貼現損失金額與下列那項答案最接近（答案四捨五入至元）？

- (A)\$412                      (B)\$1,218                      (C)\$1,612                      (D)\$1,870

16 甲公司自 110 年開始營業，其存貨相關資料如下：

	110年	111年
期末存貨-採先進先出法	\$4,700,000	\$5,100,000
採加權平均法	\$4,100,000	\$4,300,000

若稅率為 20%，則 111 年底先進先出法之保留盈餘比加權平均法：

- (A)少\$150,000                      (B)多\$640,000                      (C)多\$150,000                      (D)少\$640,000

17 甲公司於 109 年 1 月 1 日購入乙公司發行的公司債，面額\$100,000，票面利率 5%，每年 12 月 31 日付息，112 年 12 月 31 日到期。109 年 1 月 1 日按\$103,480 價格加計\$205 手續費購入，當日有效利率 4%，分類為透過其他綜合損益按公允價值衡量之金融資產。109 年 12 月 31 日，當日該債券之公允價值為\$105,000。請問 109 年 12 月 31 日「透過其他綜合損益按公允價值衡量之債務工具投資評價調整」的金額與下列那項答案最接近（答案四捨五入至元）？

- (A)\$2,168                      (B)\$2,618                      (C)\$4,567                      (D)\$6,234

18 甲公司於 X1 年 1 月 1 日以\$10,000 買進乙公司 30%之股權並取得重大影響力，乙公司的淨資產為\$40,000，而甲公司取得之股權份額之公允價值亦為\$12,000。請問甲公司當日應增加「採用權益法之投資」科目之金額為：

- (A)\$3,000                      (B)\$10,000                      (C)\$12,000                      (D)\$40,000

19 下列有幾項資產分類為「待出售」後，不適用 IFRS 5 號公報以「帳面金額與公允價值減出售成本後餘額孰低」的規定？①遞延所得稅資產 ②由員工福利產生的資產 ③不動產、廠房及設備 ④金融工具規範的金融資產 ⑤採用公允價值模式處理的投資性不動產 ⑥農業會計採用公允價值減出售成本後餘額衡量的非流動資產

- (A) 3 項                      (B) 4 項                      (C) 5 項                      (D) 6 項

20 甲公司於 110 年初購入 100 頭 3 個月大之乳牛，每頭乳牛價格為\$5,000 與支付運費\$20,000，準備飼養成熟後生產牛奶。甲公司估計若立即將 100 頭乳牛出售，應支付送至市場之運費\$22,000 及市場管理規費\$8,000。甲公司 110 年間耗費草料費用\$120,000，人工飼育成本\$130,000，公司將後續支出作為費用處理。110 年底公司估計若將 100 頭乳牛立即出售，每頭售價為\$10,000，另應支付運送牛隻至市場之運費\$32,000 及市場管理規費等\$8,000，則甲公司 110 年上述交易與年底評價相關分錄與科目何者正確？

- (A)購入乳牛時，應借記「生產性生物資產」\$480,000  
 (B)購入乳牛時，應借記「公允價值減出售成本之變動損益」\$20,000  
 (C)年底「公允價值減出售成本之變動損益」貸方餘額\$440,000  
 (D)年底評價時應貸記「公允價值減出售成本之變動損益」\$510,000

- 21 甲公司經營家電用品產銷業務，其銷售的電冰箱均附有一年的售後服務保證，顧客購買冰箱後，在一年內如因製造瑕疵而發生故障，均由甲公司免費更換零件及維修，重大瑕疵則由甲公司更換新電冰箱。根據經驗，電冰箱如發生製造小瑕疵，平均一台維修費用（連工帶料）約為\$1,875，如為大瑕疵，平均一台損失大約\$3,750。甲公司 110 年共銷售電冰箱 100,000 台，根據過去經驗，大約有 4% 會發生小瑕疵，1% 會發生大瑕疵。請問 110 年 12 月 31 日產品服務保證負債準備金額為多少？
- (A)\$7,500,000                      (B)\$8,850,000                      (C)\$9,000,000                      (D)\$11,250,000
- 22 甲公司 110 年初發行面額\$15,000,000 的公司債流通在外，票面利率 6%，10 年期，每年 6 月 30 日及 12 月 31 日付息，折價發行，於 110 年 6 月 30 日付息（並攤銷折價）後，其帳面金額為\$14,700,000。當日甲公司以 98 的價格從公開市場買回面額\$3,750,000 的公司債註銷，付手續費\$2,970。請問 110 年 6 月 30 日買回分錄，下列敘述何者正確？
- (A)借方「應付公司債折價」\$75,000                      (B)貸方「現金」\$3,675,000  
(C)借方「償債損益」\$2,970                      (D)貸方「應付公司債折價」\$70,000
- 23 甲公司新進會計人員使用間接法編製現金流量表，111 年相關資料如下：購買一台機器付款\$240,000，該年度有員工認股計畫認列薪資費用\$72,000，採權益法之長期股權投資收到現金股利\$127,500，交易目的證券投資分類為「透過損益按公允價值衡量之金融資產」期末評價損失\$12,000，簽發票據\$198,000 取得一筆土地。111 年度折舊費用\$78,000，權益法認列投資收益\$202,500，發行公司債\$300,000。111 年度應收帳款淨額增加\$90,000，應付帳款減少\$78,000，存貨減少\$27,000。111 年度淨利\$82,500，期初現金餘額\$63,000。請問甲公司 111 年之營業活動現金流量最接近金額為何？（註：請將「股利收取」作為營業活動之交易）
- (A)流入\$4,500                      (B)流入\$28,500                      (C)流入\$433,500                      (D)流出\$115,500
- 24 甲公司的淨利率為 20%，總資產報酬率為 20%，平均資產總額除以平均股東權益比為 3，則股東權益報酬率為何？
- (A) 40%                      (B) 50%                      (C) 60%                      (D) 70%
- 25 甲公司 110 年度各項收益有\$2,000,000，各項費損\$1,000,000。綜合損益表各項收益中有\$800,000 無須在 110 年度報稅，但應在 111 年度報稅。假設 110 年度及 111 年度所得稅稅率均為 20%，請問甲公司 110 年度的「遞延所得稅負債」有多少？
- (A)\$108,000                      (B)\$160,000                      (C)\$200,000                      (D)\$300,000

# 測驗式試題標準答案

考試名稱：111年公務人員高等考試三級考試暨普通考試

類科名稱：金融保險、財稅行政

科目名稱：會計學（試題代號：7321）

更多高普考考試科目的歷屆題庫  
立即上網搜尋“高普考歷屆考古題懶人包”  
高鋒公職補習班整理  
Line@帳號：@gaofeng  
連絡電話：07-236-7296

單選題數：25題

單選每題配分：2.00分

複選題數：

複選每題配分：

標準答案：

題號	第1題	第2題	第3題	第4題	第5題	第6題	第7題	第8題	第9題	第10題
答案	A	B	C	A	A	A	D	B	A	A

題號	第11題	第12題	第13題	第14題	第15題	第16題	第17題	第18題	第19題	第20題
答案	C	A	D	C	D	B	A	C	C	C

題號	第21題	第22題	第23題	第24題	第25題	第26題	第27題	第28題	第29題	第30題
答案	D	C	B	C	B					

題號	第31題	第32題	第33題	第34題	第35題	第36題	第37題	第38題	第39題	第40題
答案										

題號	第41題	第42題	第43題	第44題	第45題	第46題	第47題	第48題	第49題	第50題
答案										

題號	第51題	第52題	第53題	第54題	第55題	第56題	第57題	第58題	第59題	第60題
答案										

題號	第61題	第62題	第63題	第64題	第65題	第66題	第67題	第68題	第69題	第70題
答案										

題號	第71題	第72題	第73題	第74題	第75題	第76題	第77題	第78題	第79題	第80題
答案										

題號	第81題	第82題	第83題	第84題	第85題	第86題	第87題	第88題	第89題	第90題
答案										

題號	第91題	第92題	第93題	第94題	第95題	第96題	第97題	第98題	第99題	第100題
答案										

備註：

# 測驗題標準答案更正

考試名稱：111年公務人員高等考試三級考試暨普通考試

類科名稱：財稅行政、金融保險

科目名稱：會計學

單選題數：25題

單選每題配分：2.00分

複選題數：

複選每題配分：

標準答案：答案標註#者，表該題有更正答案，其更正內容詳見備註。

題號	第1題	第2題	第3題	第4題	第5題	第6題	第7題	第8題	第9題	第10題
答案	A	B	C	A	#	#	D	B	A	A

題號	第11題	第12題	第13題	第14題	第15題	第16題	第17題	第18題	第19題	第20題
答案	C	A	D	C	D	B	A	C	C	C

題號	第21題	第22題	第23題	第24題	第25題	第26題	第27題	第28題	第29題	第30題
答案	D	C	B	C	B					

題號	第31題	第32題	第33題	第34題	第35題	第36題	第37題	第38題	第39題	第40題
答案										

題號	第41題	第42題	<b>更多高普考考試科目的歷屆題庫 立即上網搜尋“高普考歷屆考古題懶人包” 高鋒公職補習班整理 Line@帳號：@gaofeng 連絡電話：07-236-7296</b>					第49題	第50題
答案									

題號	第51題	第52題	<b>更多高普考考試科目的歷屆題庫 立即上網搜尋“高普考歷屆考古題懶人包” 高鋒公職補習班整理 Line@帳號：@gaofeng 連絡電話：07-236-7296</b>					第59題	第60題
答案									

題號	第61題	第62題	<b>更多高普考考試科目的歷屆題庫 立即上網搜尋“高普考歷屆考古題懶人包” 高鋒公職補習班整理 Line@帳號：@gaofeng 連絡電話：07-236-7296</b>					第69題	第70題
答案									

題號	第71題	第72題	第73題	第74題	第75題	第76題	第77題	第78題	第79題	第80題
答案										

題號	第81題	第82題	第83題	第84題	第85題	第86題	第87題	第88題	第89題	第90題
答案										

題號	第91題	第92題	第93題	第94題	第95題	第96題	第97題	第98題	第99題	第100題
答案										

備註：第5題一律給分，第6題一律給分。

類 科：財稅行政、財稅法務、法制、智慧財產行政

科 目：民法

考試時間：2小時

※注意：禁止使用電子計算器。

甲、申論題部分：(50分)

- (一)不必抄題，作答時請將試題題號及答案依照順序寫在申論試卷上，於本試題上作答者，不予計分。  
(二)請以藍、黑色鋼筆或原子筆在申論試卷上作答。  
(三)本科目除專門名詞或數理公式外，應使用本國文字作答。

更多高普考考試科目的歷屆題庫  
立即上網搜尋“高普考歷屆考古題懶人包”  
高鋒公職補習班整理  
Line@帳號：@gaofeng  
連絡電話：07-236-7296

座號：\_\_\_\_\_

一、甲為原住民，登記為A原住民保留地所有人，乙並非原住民，為經營民宿，出資向甲購買A地，之後並興建B屋，為了擔保該出資並取得B屋的占有權源，乙從甲處取得A地的抵押權、地上權後，再與原住民丙成立借名登記契約，然後以丙的名義與甲簽訂A地買賣契約，甲即將A地所有權移轉登記予丙。請問乙與丙間的借名登記契約、丙與甲間的買賣契約、甲與乙間設定地上權行為及甲與丙間的所有權移轉登記行為效力如何？(25分)

二、甲於民國105年5月10日與乙公司簽訂房屋土地買賣契約(下稱系爭買賣契約)，向乙公司購買坐落高雄市的土地及坐落其上4樓透天厝(下合稱系爭房地)。甲已給付4成自備款，雙方約定其餘6成房價由乙公司協助甲洽定提供金融機構的貸款給付，並於簽約時，將系爭買賣契約第18條關於「貸款差額超過原預定貸款金額30%，雙方均得解除契約」(此為主管機關公告的定型化契約應記載事項及不得記載事項)的約定，予以刪除，並各自用印、簽名。然乙公司所接洽的銀行均拒絕甲貸予該6成房價，甲依系爭買賣契約第18條於108年10月20日函知乙公司解除系爭契約，乙公司依系爭買賣契約第25條第3項沒入買賣總價之15%違約金。請問甲與乙公司合意刪除「貸款差額超過原預定貸款金額30%時，雙方均得解除契約」的約定，是否有效？(25分)

乙、測驗題部分：(50分)

代號：2321

- (一)本測驗試題為單一選擇題，請選出一個正確或最適當的答案。  
(二)共25題，每題2分，須用2B鉛筆在試卡上依題號清楚劃記，於本試題或申論試卷上作答者，不予計分。

1 下列關於危險負擔之敘述，何者正確？

- (A)因不可歸責於雙方當事人之事由，致一方之給付僅一部不能者，他方免為對待給付之義務  
(B)因不可歸責於雙方當事人之事由，致一方之給付全部不能者，他方免為對待給付之義務；如已為全部或一部之對待給付者，得依關於無因管理之規定，請求返還  
(C)甲出賣自己之A車於乙，雙方締結買賣契約，約好3日後一手交車一手交錢；孰料，締約隔天A車被因地震倒塌的圍牆壓毀，由於不可歸責於甲，故甲仍得向乙請求價金  
(D)甲出賣自己之A車於乙，雙方締結買賣契約，約好3日後一手交車一手交錢；孰料，締約隔天乙試車時不慎撞毀A車，由於可歸責於乙，故甲仍得向乙請求價金



- 2 甲所有之 A 車，出於心中保留，贈與並移轉該車所有權於乙，嗣後乙出賣並移轉該車於第三人丙。下列敘述，何者錯誤？
- (A)倘若乙不知甲心中保留，丙為善意且無重大過失之第三人時，丙取得 A 車之所有權
  - (B)倘若乙不知甲心中保留，丙為惡意第三人時，丙取得 A 車之所有權
  - (C)倘若乙明知甲心中保留，丙為善意且無重大過失之第三人時，丙取得 A 車之所有權
  - (D)倘若乙明知甲心中保留，丙為惡意第三人時，丙取得 A 車之所有權
- 3 甲向乙購買冰箱，約定分 5 期清償價金，於價金如期清償完畢時，甲始取得冰箱所有權。在清償完畢前，該冰箱已由甲占有使用。倘若有第三人丙於條件成就前不慎毀損該冰箱，下列敘述，何者錯誤？
- (A)乙得基於所有權人地位向丙主張侵權行為之損害賠償
  - (B)甲於條件成就時，得向丙主張損害賠償
  - (C)倘若甲對丙毀損冰箱無過失時，則甲仍須支付剩餘價金於乙
  - (D)縱使甲將冰箱出賣並移轉所有權於惡意之丁，丁仍取得該冰箱之所有權
- 4 甲逾越地界，擅自在乙所有之 A 地上種植蘋果樹，三年後蘋果樹結實纍纍。下列敘述，何者錯誤？
- (A)蘋果樹之所有權歸乙所有
  - (B)蘋果之收取權人為甲
  - (C)與蘋果樹分離之蘋果為獨立之物
  - (D)蘋果樹為 A 地之成分
- 5 甲經營出租冷凍設備，乙在民國（下同）106 年 3 月 1 日向甲承租設備一套，為期 1 個月，租金新臺幣（下同）10 萬元，約定租賃期間屆滿時支付之，租賃期間屆滿，乙未支付租金。乙於 107 年 8 月 17 日自動償還 5000 元給甲，之後則避不見面。甲乃憤而決定於 109 年 8 月 16 日提起訴訟，然當日適逢強颱風來襲，交通斷絕，全臺公家機關停止辦公 3 日，甲忙於處理災害事宜，遲至 109 年 8 月 19 日提起訴訟請求。下列敘述，何者正確？
- (A)甲對乙之租金請求權，因 5 年不行使而消滅
  - (B)甲對乙之租金請求權之消滅時效，應自 106 年 3 月 31 日起算
  - (C)甲對乙之租金請求權之時效，於乙在 107 年 8 月 17 日承認後，因甲在 6 個月內未起訴，視為未中斷
  - (D)甲對乙之租金請求權之消滅時效因事變而不完成，至 109 年 9 月 19 日始完成之
- 6 甲向乙借一輛自行車，甲騎乘該自行車時遇見丙，丙甚喜歡該輛自行車，甲事前未經乙同意，即以甲自己之名義出售該輛自行車於不知情之丙，並移轉該輛自行車所有權於丙。關於買賣之債權行為與移轉所有權之物權行為，下列敘述，何者正確？
- (A)債權行為有效，物權行為效力未定
  - (B)債權行為效力未定，物權行為有效
  - (C)債權行為效力未定，物權行為效力未定
  - (D)債權行為及物權行為均有效，但乙得撤銷兩項法律行為
- 7 甲以新臺幣（下同）20 萬元向乙購買 A 錶，乙請求甲先付定金，甲同意，並給付 2 萬元於乙。下列敘述，何者正確？
- (A)2 萬元定金為要物契約
  - (B)2 萬元定金為諾成契約
  - (C)2 萬元定金為繼續性契約
  - (D)契約因不可歸責於雙方當事人之事由，致不能履行時，2 萬元定金不得請求返還
- 8 下列關於買回之敘述，何者正確？
- (A)買回之期限不得超過 5 年，超過 5 年者，買回之約定無效
  - (B)買回之價金，當事人得以特約定之
  - (C)買回之費用，原則上由買受人與買回人共同負擔
  - (D)買受人因可歸責於自己之事由，致不能交付標的物時，買回之約定失效

- 9 甲與乙約定，乙為甲服勞務自 110 年 1 月 1 日起 1 年，而甲給付報酬。下列敘述，何者錯誤？  
(A)若甲受領勞務遲延，乙無補服勞務之義務，仍得請求報酬  
(B)甲非經乙同意，不得將其勞務請求權讓與第三人  
(C)乙非經甲同意，不得使第三人代服勞務  
(D)乙得隨時終止契約，但有利於甲之習慣者，從其習慣
- 10 下列關於合夥人責任之敘述，何者正確？  
(A)民法第 681 條規定，合夥人對於合夥債務，連帶負其責任，故債權人得選擇先向合夥人個人單獨所有之財產求償。若有不足之額，再向合夥財產求償  
(B)民法第 681 條，就合夥人就合夥對外所負之責任，採取併存主義  
(C)依民法規定合夥債務，原則上為各合夥人之共同共有債務  
(D)民法第 681 條所稱之連帶，係指合夥人與合夥財產之連帶關係
- 11 下列關於承攬法定抵押權之敘述，何者錯誤？  
(A)法定抵押權之設定，係為擔保承攬關係報酬額  
(B)承攬契約以書面定之者，關於法定抵押權之登記，承攬人得單獨申請之  
(C)法定抵押權之標的，限於工作所附定作人所有之不動產  
(D)承攬人得於工作開始前，請求預為抵押權登記
- 12 甲有一宗 A 地，為二重買賣，先與乙訂立買賣契約，並將 A 地交付於乙；後與丙訂立買賣契約，並將 A 地之所有權移轉登記於丙。關於甲、乙、丙三人間之法律關係，下列敘述，何者正確？  
(A)丙得請求乙返還 A 地之占有  
(B)甲得請求乙返還 A 地之占有  
(C)乙得請求丙移轉 A 地所有權  
(D)甲得請求丙返還 A 地所有權
- 13 甲、乙二人向丙、丁二人承租基地建築二層樓 A 屋，甲、乙分別共有 A 屋，丙、丁分別共有 A 屋座落之基地。下列共有物，何者並非因物之使用目的而不能分割？  
(A) A 屋座落之基地  
(B) A 屋之太平梯  
(C) A 屋之亭子腳  
(D) A 屋之共有車道
- 14 下列何者，非為不動產物權依法律行為而得喪變更時之要件？  
(A)物權變動之合意  
(B)書面  
(C)交付  
(D)登記
- 15 下列關於解除權與撤銷權之敘述，何者正確？  
(A)二者均屬形成權  
(B)二者均適用於一切法律行為  
(C)前者限於法律所規定；後者則包含約定與法定  
(D)原則上二者均不溯及既往
- 16 甲之女乙嫁於丙為妻，甲與丙之父丁在法律上係何種關係？  
(A)姻親關係  
(B)旁系血親關係  
(C)直系血親關係  
(D)無任何關係
- 17 甲乙為適用法定財產制之配偶。甲為減少乙將來對於剩餘財產之分配，而於 2018 年將時價新臺幣（下同）2000 萬元婚後財產 A 屋，贈與並移轉 A 屋所有權於知情之丙。甲乙於 2022 年離婚時，甲有婚後財產時價 800 萬元，乙有婚後財產時價 1100 萬元，丙所有之 A 屋價值 2200 萬元。下列敘述，何者正確？  
(A)甲乙雙方婚後剩餘財產差額為 300 萬元  
(B)甲得向乙請求分配 150 萬元  
(C)甲乙雙方婚後剩餘財產差額為 1900 萬元  
(D)乙得向丙請求返還 50 萬元

- 18 甲未婚產下乙，產後缺少照護而病故。乙成人後查明充分證據，乙係甲自丙受胎所生。乙找到丙要求其應負責，丙因配偶丁在場而噤聲不語。下列敘述，何者正確？  
(A)因乙對丙之要求，已發生請求認領之效力，故乙為丙之準婚生子女  
(B)如丙於遺囑中表示認領乙，因乙不知，故不生認領效力  
(C)乙於丙死後，得向丙之繼承人丁提起認領之訴  
(D)乙於丙死後向丁提起認領之訴，乙自勝訴判決確定日起，方為丙之繼承人
- 19 遺囑未指定遺囑執行人，並未委託他人指定者，得由何人選定之？  
(A)遺囑管理人 (B)親屬會議 (C)繼承人 (D)檢察官
- 20 下列何種行為，雖經法定代理人允許，限制行為能力人亦不得為之？  
(A)加入漁會成為會員 (B)在票據上簽名  
(C)擔任合會之會首 (D)加入職業工會成為會員
- 21 下列有關人事保證人責任之敘述，何者錯誤？  
(A)以受僱人將來因職務上行為應對僱用人負賠償責任者為限  
(B)以僱用人不能依他項方法受賠償者為限  
(C)以賠償事故發生時，受僱人 2 年內可得報酬之總額為限  
(D)未定期間者，以自保證成立之日起 3 年內發生之賠償事故為限
- 22 債務人怠於向第三人索還欠款時，債權人因保全債權，得以自己之名義，行使代位權之範圍，下列何者不包括之？  
(A)假扣押 (B)實行擔保物權 (C)提起異議之訴 (D)扶養請求權
- 23 乙向甲租用專業攝影機，甲應允並將其所有之攝影機交付於乙使用。其後乙得甲之同意，復將該攝影機轉租並交付於丙使用；丙外出攝影，均由緊隨其旁之助理丁協助將該攝影機架設於腳架上。當丁執此攝影機架設於腳架上時，何者非該攝影機之占有人？  
(A)甲 (B)乙 (C)丙 (D)丁
- 24 下列關於生前特種贈與之敘述，何者錯誤？  
(A)因留學所贈與之學費 (B)因出嫁所贈與之嫁妝  
(C)因營業所贈與之資本 (D)因分居所贈與之費用
- 25 設甲於民國 103 年 7 月間死亡，甲有繼承人為乙、丙。甲留有數筆債務與存款、動產；甲立有遺囑為遺贈。下列敘述，何者錯誤？  
(A)乙、丙在法院依公示催告程序公告，命甲之債權人於一定期限內報明其債權之期限內，不得對於甲之任何債權人償還債務  
(B)乙、丙中之一人如陳報遺產清冊，其他繼承人視為已陳報  
(C)乙、丙開具遺產清冊陳報法院時，法院應同時指定會同開具財產清冊之人  
(D)乙、丙非依規定償還債務後，不得向受遺贈人交付遺贈

更多高普考考試科目的歷屆題庫  
立即上網搜尋“高普考歷屆考古題懶人包”  
高鋒公職補習班整理  
Line@帳號：@gaofeng  
連絡電話：07-236-7296

# 測驗式試題標準答案

考試名稱：111年公務人員高等考試三級考試暨普通考試

類科名稱：法制、智慧財產行政、財稅法務、財稅行政

科目名稱：民法（試題代號：2321）

單選題數：25題

單選每題配分：2.00分

複選題數：

複選每題配分：

標準答案：

題號	第1題	第2題	第3題	第4題	第5題	第6題	第7題	第8題	第9題	第10題
答案	D	D	D	B	D	A	A	B	D	C

題號	第11題	第12題	第13題	第14題	第15題	第16題	第17題	第18題	第19題	第20題
答案	B	A	A	C	A	D	D	C	B	C

題號	第21題	第22題	第23題	第24題	第25題	第26題	第27題	第28題	第29題	第30題
答案	C	D	D	A	C					

題號	第31題	第32題	第33題	第34題	第35題	第36題	第37題	第38題	第39題	第40題
答案										

題號	第41題	第42題	更多高普考考試科目的歷屆題庫 立即上網搜尋“高普考歷屆考古題懶人包” 高鋒公職補習班整理 Line@帳號：@gaofeng 連絡電話：07-236-7296					第48題	第49題	第50題
答案										

題號	第51題	第52題	更多高普考考試科目的歷屆題庫 立即上網搜尋“高普考歷屆考古題懶人包” 高鋒公職補習班整理 Line@帳號：@gaofeng 連絡電話：07-236-7296					第58題	第59題	第60題
答案										

題號	第61題	第62題	第63題	第64題	第65題	第66題	第67題	第68題	第69題	第70題
答案										

題號	第71題	第72題	第73題	第74題	第75題	第76題	第77題	第78題	第79題	第80題
答案										

題號	第81題	第82題	第83題	第84題	第85題	第86題	第87題	第88題	第89題	第90題
答案										

題號	第91題	第92題	第93題	第94題	第95題	第96題	第97題	第98題	第99題	第100題
答案										

備註：

# 110年公務人員高等考試三級考試試題

類 科：各類科（除公職護理師、公職食品技師及公職醫事檢驗師外）

科 目：國文（作文、公文與測驗）

考試時間：2小時

※注意：禁止使用電子計算器。

更多高普考考試科目的歷屆題庫  
立即上網搜尋“高普考歷屆考古題懶人包”  
高鋒公職補習班整理  
Line@帳號：@gaofeng  
連絡電話：07-236-7296

座號：\_\_\_\_\_

甲、作文與公文部分：

- (一)請以藍、黑色鋼筆或原子筆在申論試卷上由左至右橫式作答，於本試題上作答者，不予計分。  
(二)不得於試卷上書寫姓名或座號。

## 一、作文：（60分）

《論語·陽貨》引子曰：「天何言哉？四時行焉，百物生焉，天何言哉？」澎湖詩人渡也加以運用，他曾說：「澎湖不但教你海上歡樂嬉遊，澎湖的土地也是一本厚實的教科書，還教你勤儉、刻苦耐勞，教你莫有怨言。你看陽光狠照、朔風野大，然而，澎湖何言哉？四時行焉，百物生焉，澎湖何言哉？」請參考詩人的講法，以「我的家鄉教我的事」為題，詳敘自身生長環境的自然與人文特色，並闡述家鄉所帶給自己的各種影響。

## 二、公文：（20分）

相關資訊：

- (一) 2008年11月23日《聯合報》記者臺南報導：「文昌關公擺是假，假廟原來要掩護暗道」，指出臺南市新化區虎頭埤後山的「文昌廟」、橄欖山野戰基地荒草中的「關公廟」，神像座下都有秘道，兩座廟原來都是「假廟」，係民國五、六十年代軍方所建，以掩護地下坑道。
- (二) 2021年1月7日《中國時報》記者屏東報導：「石頭營『假墳墓』軍事陣地曝光」，指出在屏東縣枋寮鄉二戰遺址「石頭營」現場，發現有假墳墓、假土地公廟等軍事陣地的存在，當地民意代表與文史工作者強烈要求保護歷史文化資產。
- (三) 2021年8月29日《金門日報》「浯江夜話」專欄也有文章提到：「國家文化資料庫」中有一組1968年12月19日蔣經國先生視察金門戰鬥村時留下來的照片，照片中出現了「偽裝墳墓」、「偽裝焚化爐」、「偽裝蓄水池」等欺敵工事，現已不知所在，但目前金湖鎮瓊林村仍有「偽裝墳墓」，金寧鄉安岐村仍有「偽裝商店」，該鄉安岐村、盤山村與烈嶼鄉南山頭也都存在「偽裝廟宇」，可惜大多處於荒蕪狀態。

- (四)《文化資產保存法》第1條：「為保存及活用文化資產，保障文化資產保存普遍平等之參與權，充實國民精神生活，發揚多元文化，特制定本法。」
- (五)《文化資產保存法》第15條：「公有建造物及附屬設施群自建建造物興建完竣逾五十年者，或公有土地上所定著之建造物及附屬設施群自建建造物興建完竣逾五十年者，所有或管理機關（構）於處分前，應先由主管機關進行文化資產價值評估。」
- (六)《文化資產保存法》第16條：「主管機關應建立古蹟、歷史建築、紀念建築及聚落建築群之調查、研究、保存、維護、修復及再利用之完整個案資料。」

問題：依上述相關資訊，試擬中央主管機關文化部致各直轄市政府、縣（市）政府函並要求回復，內容是請地方主管機關重視臺澎金馬各地年代已逾五十年之特殊偽裝建築，及時建立其調查、研究、保存、維護、修復及再利用之完整個案資料，不可任其荒廢或遭受破壞，以落實我國《文化資產保存法》之立法精神。

乙、測驗部分：（20分）

代號：1301

(一)本測驗試題為單一選擇題，請選出一個正確或最適當的答案，複選作答者，該題不予計分。

(二)共10題，每題2分，須用2B鉛筆在試卡上依題號清楚劃記，於本試題或申論試卷上作答者，不予計分。

- 下列題辭使用，何者錯誤？
 

(A)「琴瑟友之」，用於祝福新婚夫婦 (B)「銀漢雙輝」，用於祝賀夫妻雙壽

(C)「彤管揚芬」，用於音樂比賽獲獎 (D)「業紹陶朱」，用於貿易公司開幕
- 能而示之不能，用而示之不用，近而示之遠，遠而示之近。利而誘之，亂而取之，實而備之，強而避之，怒而撓之，卑而驕之，佚而勞之，親而離之。《孫子兵法》下列何者不屬於上文所述用兵之理？
 

(A)隱藏真正的實力，讓敵人難以分辨 (B)讓形勢變得混雜，然後再乘虛而入

(C)事先把退路斷絕，將士必拚死向前 (D)躲開勁敵的鋒芒，再尋找機會反擊
- 商鞅教孝公燔《詩》、《書》，明法令，設告坐之過，而禁遊宦之民。因秦國地形便利，用其法，富強數世，兼併諸侯，迄至始皇。始皇之時，一用商鞅成法而已，雖李斯助之，言其便利，益成秦亂；然使李斯不言其便，始皇固自為之而不厭。何也？秦之甘於刻薄而便於嚴法久矣，其後世所習以為善者也。斯逆探始皇、二世之心，非是不足以中侈君張吾之寵。是以盡舍其師荀卿之學，而為商鞅之學；掃去三代先王仁政，而一切取自恣肆以為治，焚《詩》、《書》，禁學士，滅三代法而尚督責，斯非行其學也，趨時而已。（姚鼐〈李斯論〉）
 

下列選項何者最接近作者對李斯的評價？

(A)逢迎上意 (B)安時處順 (C)刻薄寡恩 (D)通權達變

- 4 公輸盤為楚造雲梯之械，成，將以攻宋。子墨子聞之，起於齊，行十日十夜而至於郢，見公輸盤。公輸盤曰：「夫子何命焉為？」子墨子曰：「北方侮臣，願藉子殺之。」公輸盤不說。子墨子曰：「請獻十金。」公輸盤曰：「吾義固不殺人！」子墨子起，再拜，曰：「請說之。吾從北方聞子為梯，將以攻宋。宋何罪之有？荆國有餘於地，而不足於民。殺所不足而爭所餘，不可謂智。宋無罪而攻之，不可謂仁。知而不爭，不可謂忠。爭而不得，不可謂強。義不殺少而殺眾，不可謂知類。」公輸盤服。（《墨子·公輸篇》）

下列選項，何者最能說明墨子之所以能勸服公輸盤的主要原因？

- (A)以多於楚王所給付的重金誘導 (B)謂其義不殺人之主張自相矛盾  
(C)啟發其人性深處的不忍人之心 (D)宋國的人口眾多一時無法征服
- 5 在中世紀，人類意識的兩方面——內心自省和外界觀察都一樣，一直在一層共同的紗幕之下，處於睡眠或者半醒狀態。這層紗幕由信仰、幻想和幼稚的偏見織成，透過它向外看，世界和歷史都籠罩上了一層奇怪的色彩。人只能意識到他自己是一個種族、民族、黨派、家族或社會集團的一分子——人只有透過某種普通的類來認識自己。在義大利，這層紗幕最先煙消雲散，對於國家和這個世界上一切事物做客觀的處理和考慮成為可能的了。同時，主觀方面也相應地強調表現它自己；人成為了精神的個體，並且也這樣認識自己。

依據上文，「在中世紀」至「在義大利」的主要轉變是：

- (A)從注重客觀分析轉變為注重主觀詮釋  
(B)從注重集體意識轉變為注重個體自覺  
(C)從注重外在追求轉變為注重內在修養  
(D)從注重國族權力轉變為注重人民權利
- 6 「是己而非人，俗之同病。學有未達，強以為知；理有未安，妄以臆度。如是，則終身幾無可問之事。賢於己者，忌之而不願問焉；不如己者，輕之而不屑問焉；等於己者，狎之而不甘問焉；如是，則天下幾無可問之人。人不足服矣，事無可疑矣，此唯師心自用耳。夫自用，其小者也；自知其陋而謹護其失，寧使學終不進，不欲虛以下人，此為害于心術者大，而蹈之者常十之八九。」

下列選項，何者最能涵括本文主旨？

- (A)闡述是己而非人的世俗通病 (B)術業的成就，關鍵在於好問  
(C)勸人應勤學不輟，力爭上游 (D)師心自用者，為害心術甚大
- 7 我輩看名山，如看美人，顰笑不同情，修約不同體，坐臥徙倚不同境，其狀千變。山色之落眼光亦爾，其至者不容言也。庚戌春晚，予遊黃山有記，自謂三十雲峰之美略盡。而元素後予往，以秋月，所為記簡而整，有與不同者，取境使然。（黃汝亨〈姚元素黃山記引〉）

下列選項，最符合本文意旨的是：

- (A)山景風光隨四時不同 (B)文人遊歷之興味不同  
(C)文人取景與心境不同 (D)人人所師造化皆不同

- 8 「那一個母親不是仙女變的？像故事中的小織女，每一個女孩都曾住在星河之畔，她們織虹紡霓，藏雲捉月，幾曾煩心掛慮？她們是天神最偏憐的小女兒，終日臨水自照，驚訝於自己美麗的羽衣和美麗的肌膚。她們久久凝注著自己的青春，被那份光華弄得癡然如醉。而有一天，羽衣不見了，她換上了人間的粗布——她已經決定做一個母親。有人說她的羽衣被鎖在箱子裡，她再也不能飛翔了，人們還說，是她丈夫鎖上的，鑰匙藏在極秘密的地方。可是，所有的母親都明白那仙女根本就知道箱子在那裡，也知道藏鑰匙的所在。在某個無人的時候，她甚至會惆悵地開啟箱子，用憂傷的目光撫摸那些柔軟的羽毛。她知道，只要羽衣一著身，她就會重新回到雲端，可是她把柔軟白亮的羽毛拍了又拍，仍然無聲無息地關上箱子，藏好鑰匙。是她自己鎖住那身昔日的羽衣的。她不能飛了，因為她已不忍飛去。」

根據內容判斷，下列選項何者最貼近本文主旨？

- (A) 每一位母親都曾是披著羽衣的美麗仙女  
 (B) 母親是拋下自身快樂，為子女奉獻的人  
 (C) 身為人母，依舊會眷戀少女時期的光華  
 (D) 每一位母親都應無怨無悔的為家人犧牲
- 9 「偶翻納蘭容若《飲水詞》，有句云：『但始有情皆滿願，更從何處著思量？』靜思之餘，忽有所悟。離合悲歡，死生新故，人間缺憾固多，然而，正因如此，不斷縈心牽念，遂覺大千萬物盡皆有情，俗事塵勞亦有可珍。絕對圓滿之境，本不存於此世，人生陸離光怪，幻變多姿，因此才有探索的興趣，不斷前行，走向難以預知的明日！『終古閒情歸落照，一春幽夢托遊絲』，此中真意，豈堪言詮！」

作者的體悟，與下列何者最為接近？

- (A) 應在人間缺憾、日常瑣事中，享受、品味人生  
 (B) 人間缺憾實多，要把握、珍惜有限的歡樂時光  
 (C) 對人間缺憾不要掛心，才能有繼續前行的勇氣  
 (D) 對人間缺憾不要掛心，方能看破紅塵而得解脫
- 10 「未來 10 年的 AI 革命比工業革命規模更大，而且來得更迅速猛烈。AI 勝過人類的領域只會一個個增加。但是，工作能力並不是我們之所以成為人的原因。身為人類的獨特之處，是因為我們有愛的力量。我們跟 AI 最大的差別就是我們有愛。」
- 據此而言，下列選項何者近似 AI 程式目前難以超越人類的領域？
- (A) 影借日光作盈闕  
 (B) 朝發羅馬夕奧匈  
 (C) 鐵道輪船競相逐  
 (D) 銅雀春深鎖二喬

更多高普考考試科目的歷屆題庫  
 立即上網搜尋“高普考歷屆考古題懶人包”  
 高鋒公職補習班整理  
 Line@帳號：@gaofeng  
 連絡電話：07-236-7296



# 測驗式試題標準答案

考試名稱：110年公務人員高等考試三級考試暨普通考試

類科名稱：

一般行政、一般民政、客家事務行政、戶政、僑務行政(選試英文)、僑務行政(選試法文)、僑務行政(選試德文)、僑務行政(選試日文)、僑務行政(選試西班牙文)、社會行政、勞工行政、公職社會工作者、文化行政、教育行政、體育行政、國際文教行政(選試英文)、國際文教行政(選試韓文)、新聞(選試英文)、圖書資訊管理(選試英文)、史料編纂、檔案管理、人事行政、財稅行政、金融保險、財稅法務、會計、統計、法制、法律廉政、財經廉政、經建行政、公平交易管理、商業行政、農業行政、智慧財產行政、觀光行政(選試觀光英語)、觀光行政(選試觀光日語)、海洋行政、交通行政、地政、衛生行政、環保行政、農業技術、農業機械、園藝、植物病蟲害防治、林業技術、漁業技術、養殖技術、動物技術、公職獸醫師、自然保育、海洋技術、土木工程、水利工程、環境工程、水土保持工程、建築工程、公職建築師、地質、探礦工程、材料工程、測量製圖、都市計畫技術、景觀、衛生技術、食品衛生檢驗、藥事、交通技術、航海技術、輪機技術、航空駕駛(選試直昇機飛行原理)、工業工程、職業安全衛生、電力工程、電子工程、電信工程、資訊處理、機械工程、航空器維修、汽車工程、環保技術、化學安全、環境檢驗、化學工程、氣象、輻射安全、技藝(選試陶甎)

科目名稱：國文(作文、公文與測驗)(試題代號：1301)

單選題數：10題

單選每題配分：2.00分

複選題數：

複選每題配分：

標準答案：

更多高普考考試科目的歷屆題庫  
立即上網搜尋“高普考歷屆考古題懶人包”  
高鋒公職補習班整理  
Line@帳號：@gaofeng  
連絡電話：07-236-7296

題號	第1題	第2題	第3題	第4題	第5題	第6題	第7題	第8題	第9題	第10題
答案	C	C	A	B	B	B	C	B	A	D

題號	第11題	第12題	第13題	第14題	第15題	第16題	第17題	第18題	第19題	第20題
答案										

題號	第21題	第22題	第23題	第24題	第25題	第26題	第27題	第28題	第29題	第30題
答案										

題號	第31題	第32題	第33題	第34題	第35題	第36題	第37題	第38題	第39題	第40題
答案										

題號	第41題	第42題	第43題	第44題	第45題	第46題	第47題	第48題	第49題	第50題
答案										

題號	第51題	第52題	第53題	第54題	第55題	第56題	第57題	第58題	第59題	第60題
答案										

題號	第61題	第62題	第63題	第64題	第65題	第66題	第67題	第68題	第69題	第70題
答案										

題號	第71題	第72題	第73題	第74題	第75題	第76題	第77題	第78題	第79題	第80題
答案										

題號	第81題	第82題	第83題	第84題	第85題	第86題	第87題	第88題	第89題	第90題
答案										

題號	第91題	第92題	第93題	第94題	第95題	第96題	第97題	第98題	第99題	第100題
答案										

備註：

# 110年公務人員高等考試三級考試試題

類 科：各類科（除公職護理師、公職食品技師及公職醫事檢驗師外）

科 目：法學知識與英文（包括中華民國憲法、法學緒論、英文）

考試時間：1 小時

座號：\_\_\_\_\_

※注意：(一)本試題為單一選擇題，請選出一個正確或最適當的答案，複選作答者，該題不予計分。  
(二)本科目共 50 題，每題 2 分，須用 2B 鉛筆在試卡上依題號清楚劃記，於本試題上作答者，不予計分。  
(三)禁止使用電子計算器。

更多高普考試科目的歷屆題庫  
立即上網搜尋“高普考歷屆考古題懶人包”  
高鋒公職補習班整理  
Line@帳號：@gaofeng  
連絡電話：07-236-7296

- 依司法院大法官解釋，下列何者不屬於法治國原則之內涵？  
(A)實質正當可取代程序合法 (B)維護人民之權利  
(C)法安定性原則 (D)信賴保護原則
- 甲已滿 20 歲，卻未受基本教育，依憲法本文規定，應一律受下列何種教育？  
(A)補習教育 (B)國民教育 (C)成人教育 (D)社區教育
- 依司法院大法官解釋，有關中央立法強制地方自治團體分攤一定比例之健保費，下列敘述何者正確？  
(A)違憲，因為全民健保是由中央立法並執行之事項，中央應自行負擔經費  
(B)違憲，因為中央立法涉及地方之財政負擔時，須經地方政府代表之同意才行  
(C)合憲，因為地方負協力義務，因此中央可立法強制地方分攤，但立法時，要給予地方政府代表出席陳述意見之機會  
(D)合憲，中央有權立法，但若要使地方分攤經費，在立法時要給予地方政府代表否決之機會
- 下列何項雖為室外集會，但不須向主管機關事前申請許可？  
(A)集體向主管機關表達抗議 (B)廟會、婚、喪、喜慶活動  
(C)集體向立法院陳情抗議 (D)集體向法院抗議司法不公
- 關於憲法對性別平等之保障，下列何者尚未被司法院大法官援引為國家促進兩性實質平等之依據或參考？  
(A)憲法第 156 條：國家應保護母性並實施婦女福利政策  
(B)憲法增修條文第 10 條第 6 項：國家應消除性別歧視，促進兩性地位之實質平等  
(C)憲法第 7 條：中華民國人民無分男女在法律上一律平等  
(D)聯合國消除對婦女一切形式歧視公約第 2 條與第 5 條
- 藥師法第 11 條規定藥師經登記領照執業者，其執業處所應以一處為限，牴觸下列何種權利？  
(A)居住自由 (B)工作權 (C)財產權 (D)平等權
- 有關租稅，下列何種事項得以命令訂之？  
(A)租稅主體 (B)租稅客體 (C)繳納方式 (D)稅基
- 刑法第 311 條規定，以善意發表言論，對於可受公評之事，為適當之評論者，不罰。此規定係衡平相關利益與受公評者之下列何種權利？  
(A)隱私權 (B)言論自由 (C)一般行為自由 (D)名譽權
- 依憲法或憲法增修條文規定，有關總統刑事豁免權，下列敘述何者錯誤？  
(A)總統除犯內亂或外患罪外，非經罷免或解職，不受刑事上之訴究  
(B)總統之刑事豁免權，為憲法基於總統作為國家元首特殊身分所為之尊崇與保障，乃一種暫時性之程序障礙  
(C)總統之刑事豁免權，亦及於因他人刑事案件而對總統所為之證據調查與證據保全  
(D)發現總統有犯罪嫌疑者，雖得為必要之證據保全，但不得限制總統之人身自由
- 總統為國家元首，行政院院長為國家最高行政機關之首長，有關總統與行政院院長之職權，下列敘述何者錯誤？  
(A)總統依法公布法律，發布命令，須經行政院院長及有關部會首長之副署  
(B)行政院院長依法任免文武官員  
(C)總統依法宣布戒嚴，但須經立法院之通過或追認  
(D)行政院院長為行政院會議主席
- 有關立法院，下列敘述何者錯誤？  
(A)立法院設院長、副院長各 1 人，由立法委員互選之，均以得出席人數過半數之票數者為當選  
(B)立法院會期，每年兩次，自行召集，但須有立法委員總額 3 分之 1 出席，始得開會  
(C)立法委員總額，以每屆當選人數為計算標準，但會期中辭職、去職或亡故者，應減除之  
(D)立法院受總統之咨請，得召開臨時會

- 12 依憲法增修條文規定，下列何者並非監察院彈劾之對象？  
(A)總統 (B)法官 (C)監察院院長 (D)考試委員
- 13 憲法第 81 條規定，法官非依法律不得減俸。下列敘述何者錯誤？  
(A)立法院得以法律通案刪減全國法官之俸給  
(B)立法院基於俸給之公平性，得立法或修法刪減退職法官之月退休俸  
(C)立法院得以年度預算案刪減大法官之職務加給  
(D)立法院得以預算案降低司法院院長與副院長之公務座車等級
- 14 有關我國違憲審查制度，下列敘述何者正確？  
(A)司法院大法官由總統逕行提名及任命  
(B)司法院大法官共計 15 人，任期 8 年，期滿並得連任 1 次  
(C)憲法訴訟法規定人民得聲請解釋確定終局裁判違憲  
(D)對於裁判上所應適用之法律認為有牴觸憲法而欲聲請解釋憲法之法官，僅限於最高法院及最高行政法院法官
- 15 關於新聞自由，下列敘述何者正確？  
(A)為憲法所未明文之權利，受憲法第 22 條保障  
(B)受保障之主體包括媒體機構及其所屬新聞從業人員  
(C)非任職媒體公民記者的採訪行為，僅受一般行為自由之保障  
(D)新聞採訪行為對於公眾意見形成至關重要，僅在具有明顯而立即危險時，國家方得以法律限制
- 16 關於民法第 1 條規定之習慣成立要件，下列敘述何者錯誤？  
(A)須有慣行多年之事實 (B)必須已有法院透過判決予以承認  
(C)須為成文法未規定之事項 (D)須為社會一般大眾確信其有法之效力
- 17 某縣政府為保障觀光客之安全，擬規定該縣內觀光用漁業舢舨，必須提供救生衣，違反者處 5 萬元以下之罰鍰。依據地方制度法之規定，此一法規應屬下列何者？  
(A)自治條例 (B)委辦規則 (C)自律規則 (D)自治規則
- 18 立法院會議之決議，除法令另有規定外，至少應經多少立法委員之同意行之？  
(A)超過出席立法委員三分之二 (B)超過出席立法委員二分之一  
(C)超過立法委員總額三分之二 (D)超過立法委員總額二分之一
- 19 某地方自治法規明訂對於拒絕裝設再生能源系統者，主管機關得處新臺幣一萬元以上十萬元以下罰鍰。上述自治法規除須經地方立法機關議決外，尚須經何種程序始能生效？  
(A)應報經司法院備查後發布  
(B)無須呈送中央，直接由地方行政首長發布  
(C)應報經立法院核定後發布  
(D)應分別報經行政院、中央各該主管機關核定後發布
- 20 依地方制度法規定，應由被代行處理機關支出之費用，被代行處理機關拒絕支付時，應如何解決？  
(A)上級政府自行吸收該費用 (B)上級政府拒絕發補助款  
(C)上級政府得自以後年度之補助款中扣減抵充 (D)上級政府得自以後年度之統籌分配款中扣減抵充
- 21 依地方制度法規定，直轄市長有下列何種事由時，得停止其職務？  
(A)曾犯刑法過失傷害罪經判刑確定者 (B)依刑事訴訟程序被檢察機關拘提者  
(C)因積欠稅捐遭限制出境者 (D)依刑事訴訟程序被通緝者
- 22 下列何者的行政行為，不適用行政程序法的程序規定？  
(A)經濟部智慧財產局否准商標之登記 (B)考選部審查國家考試報考資格  
(C)公平交易委員會調查事業聯合行為 (D)審計部審查政府財務決算
- 23 下列關於民法上債權讓與的敘述，何者錯誤？  
(A)屬於處分行為  
(B)債權讓與，非經債務人同意，對於債務人不生效力  
(C)當事人得為禁止債權讓與的約定  
(D)已起訴的非財產上損害賠償請求權，得為讓與

- 24 依司法院大法官解釋之意旨，下列何者違反憲法所保障之平等權？
- (A) 道路交通管理處罰條例規定，有特定前科者不得辦理營業小客車駕駛人執業登記
  - (B) 兩岸關係條例規定，大陸地區人民經許可進入臺灣地區者，非在臺灣地區設有戶籍滿十年，不得擔任公務人員
  - (C) 內政部對於九二一大地震災區住屋全倒、半倒者，發給慰助金之對象，以設籍、實際居住於受災屋與否作為判斷依據
  - (D) 公職人員選舉罷免法規定，無政黨推薦之候選人須繳納較政黨推薦之候選人為高之保證金
- 25 依民法之規定，關於消滅時效之敘述，下列敘述何者正確？
- (A) 請求權已經時效消滅，債務人以單方行為承認該債務者，即不得以不知時效為由，而拒絕履行該債務
  - (B) 時效期間得以法律行為加長或減短之
  - (C) 請求權於時效完成後，請求權歸於消滅
  - (D) 時效完成後，因時效受利益之人得拋棄時效之利益
- 26 依民法第 1031 條規定，夫妻之財產及所得，除特有財產外，合併為共同財產，屬於夫妻公同共有。下列何者並非特有財產？
- (A) 專供夫或妻個人使用之物
  - (B) 夫或妻於婚後所賺取之工作薪資
  - (C) 夫或妻職業上必需之物
  - (D) 夫或妻所受之贈物，經贈與人以書面聲明為其特有財產者
- 27 下列何種情形，法院應依刑法第 75 條撤銷對受判決人緩刑之宣告？
- (A) 緩刑期內因故意犯他罪，而在緩刑期內受拘役或罰金之宣告確定者
  - (B) 緩刑前因過失犯他罪，而在緩刑期內受罰金之宣告確定者
  - (C) 緩刑期內因過失犯他罪，而在緩刑期內受拘役之宣告確定
  - (D) 緩刑前因故意犯他罪，而在緩刑期內受逾六月有期徒刑之宣告確定者
- 28 市議會議員張三於選舉議長時，故意將選票圈選的內容出示於眾，下列敘述何者正確？
- (A) 張三構成刑法第 132 條第 1 項公務員洩露國防以外祕密罪，因為張三是公務員
  - (B) 張三構成刑法第 132 條第 1 項公務員洩露國防以外祕密罪，因為選舉應以無記名之方式為之
  - (C) 張三不構成犯罪，因為張三不是公務員
  - (D) 張三不構成犯罪，因為其圈選內容非屬公務祕密
- 29 甲完成一本小說創作，為該小說之著作人。乙公司將之改編為電影。關於著作人格權之敘述，下列敘述何者正確？
- (A) 著作人格權不得繼承，故若甲因故驟逝，其著作人格權即不受保護，任何人得自由利用
  - (B) 乙公司基於甲的小說所改編的電影公開發表時，甲有要求於該電影上表示其本名、別名或不具名之權利
  - (C) 若乙公司於改編時未完全忠於甲之原著內容，無論是否足致損害甲的名譽，均構成著作人格權之侵害
  - (D) 為便利乙公司代為追訴盜版業者，甲得將著作人格權專屬授權予乙公司代為行使
- 30 A 股份有限公司共有 7 名董事，分別為甲乙丙丁戊己庚。而 B 股份有限公司則設有 5 名董事，分別為甲丙丁戊壬。A 公司並持有 B 公司已發行有表決權股份總數之 35%；B 公司則持有 A 公司已發行有表決權股份總數之 30%。依此條件，下列關於 A、B 公司之敘述何者正確？
- (A) A 公司與 B 公司相互持股各達對方有表決權股份總數四分之一以上，故為相互投資公司
  - (B) A 公司與 B 公司不符合控制與從屬關係之持股成數形式認定要件，因此 A、B 公司不具控制與從屬關係
  - (C) A 公司持有 B 公司有表決權股份總數達三分之一以上，故兩者為相互投資公司
  - (D) A 公司與 B 公司之董事有半數以上相同，故推定為有控制與從屬關係

請依下文回答第 31 題至第 35 題

For most of its history, America was precisely the “polyglot boardinghouse” Teddy Roosevelt once worried it would become. That history has turned out very well not just for America, but for English—the most successful language in the history of the world. 31 with American power, English has spread around the globe. At home, wave after wave of immigrants to America have not only learned English but 32 the languages their parents brought with them.

Today the typical pattern is that the arriving generation speaks little English, or learns it 33; the first children born in America are 34, but English-dominant, and their children hardly speak the 35 language. This is as true of Hispanics as it is of speakers of smaller languages.

- 31 (A) Along (B) Down (C) Toward (D) Up
- 32 (A) appreciated (B) decoded (C) forgotten (D) studied
- 33 (A) impossibly (B) imperfectly (C) indefinitely (D) intentionally
- 34 (A) bilingual (B) monolingual (C) literary (D) illiterate
- 35 (A) heritage (B) source (C) sign (D) target
- 36 After discovering that a migrant has provided fake and false documents for extending his stay in the country, an immigrant officer has decided to \_\_\_\_\_ the illegal migrant.  
(A) dazzle (B) deduct (C) defect (D) deport
- 37 When Pamela moved with her husband from Germany to the United States, she didn't feel like \_\_\_\_\_ there until they had their first son a few years later.  
(A) putting down roots (B) bringing to heel (C) calling the tune (D) cracking the whip
- 38 In a forced migration, a person \_\_\_\_\_ moves to another country for the sake of political, economic or environmental reasons.  
(A) immensely (B) implicitly (C) involuntarily (D) inefficiently
- 39 Jeff first came to Australia as a tourist and became a(n) \_\_\_\_\_ immigrant because he didn't actually leave the country before his visa was expired.  
(A) perpetual (B) substantial (C) unrestricted (D) undocumented
- 40 An executive action signed by the president allowed as many as five million living in the country to illegally stay and also to significantly reduce the \_\_\_\_\_ rates.  
(A) inflation (B) implication (C) deportation (D) exportation
- 41 The British pound has \_\_\_\_\_ against the US dollar considerably in recent weeks due to the result of the Brexit referendum. That is, the pound has become cheaper.  
(A) deflated (B) decreased (C) despaired (D) depreciated
- 42 Migration statistics reports often underestimate the level of migration due to illegal or \_\_\_\_\_ immigration.  
(A) clandestine (B) delusive (C) submissive (D) legitimate
- 43 When the time comes for your relative to immigrate, you must agree to be his or her financial \_\_\_\_\_ by filing Form I-864, Affidavit of Support.  
(A) presenter (B) inheritor (C) beneficiary (D) sponsor
- 44 Millions of refugees have \_\_\_\_\_ the Mediterranean Sea in the last few years to apply for asylum in the European Union.  
(A) traversed (B) infused (C) invaded (D) distressed
- 45 At times a visitor visa issued from the Taiwan consulate has to be extended and later \_\_\_\_\_ to a resident visa.  
(A) condemned (B) converged (C) converted (D) condensed

請依下文回答第 46 題至第 50 題

How an iceberg travels across the sea is sometimes unpredictable. When an iceberg breaks off from a glacier, it can 46 for thousands of miles, traveling freely across the open ocean. But last week, an iceberg's journey was interrupted when it got stuck on a 47 part of the seafloor along Greenland's western coast. In other words, the iceberg was grounded—and it had 48 itself right beside the small island village of Innaarsuit. Such grounded icebergs are actually pretty common, says Fiamma Straneo, who has traveled about 20 times to Greenland's ice sheet for her work at the Scripps Institution of Oceanography at UC San Diego. What's unique about the iceberg by Innaarsuit is both its size and its 49 to the village. A grounded iceberg experiences ocean water pushing at it in one direction and the seafloor pushing in another—a 50 that makes it easy for limbs to break off with a splash that can rock boats or flood coasts. The iceberg might even do an entire somersault in the water. Across the world, from the Canadian Arctic to Patagonia in Argentina, that shedding is both a tourist attraction and an issue of concern. The larger the iceberg, the larger the waves it causes if it breaks apart.

- 46 (A) drill (B) drizzle (C) drift (D) draft
- 47 (A) hollow (B) shallow (C) mellow (D) hallow
- 48 (A) lodged (B) dodged (C) nudged (D) judged
- 49 (A) proxy (B) prolixity (C) probity (D) proximity
- 50 (A) hocky (B) hide-and-peek (C) tug-of-war (D) marathon

# 測驗式試題標準答案

更多高普考考試科目的歷屆題庫  
立即上網搜尋“高普考歷屆考古題懶人包”  
高鋒公職補習班整理  
Line@帳號：@gaofeng  
連絡電話：07-236-7296

考試名稱：110年公務人員高等考試三級考試暨普通考試

類科名稱：

社會行政、僑務行政(選試英文)、一般行政、僑務行政(選試德文)、僑務行政(選試日文)、僑務行政(選試西班牙文)、一般民政、客家事務行政、戶政、僑務行政(選試法文)、勞工行政、公職社會工作師、文化行政、教育行政、體育行政、國際文教行政(選試英文)、國際文教行政(選試韓文)、新聞(選試英文)、圖書資訊管理(選試英文)、史料編纂、檔案管理、人事行政、財稅行政、金融保險、財稅法務、會計、統計、法制、法律廉政、財經廉政、經建行政、公平交易管理、商業行政、農業行政、智慧財產行政、觀光行政(選試觀光英語)、觀光行政(選試觀光日語)、海洋行政、交通行政、地政、衛生行政、環保行政、農業技術、農業機械、園藝、植物病蟲害防治、林業技術、漁業技術、養殖技術、動物技術、公職獸醫師、自然保育、海洋技術、土木工程、水利工程、環境工程、水土保持工程、建築工程、公職建築師、地質、探礦工程、材料工程、測量製圖、都市計畫技術、景觀、衛生技術、食品衛生檢驗、藥事、交通技術、航海技術、輪機技術、航空駕駛(選試直昇機飛行原理)、工業工程、職業安全衛生、電力工程、電子工程、電信工程、資訊處理、機械工程、航空器維修、汽車工程、環保技術、化學安全、環境檢驗、化學工程、氣象、輻射安全、技藝(選試陶甕)

科目名稱：

法學知識與英文(包括中華民國憲法、法學緒論、英文)(試題代號：3301)

單選題數：50題

單選每題配分：2.00分

複選題數：

複選每題配分：

標準答案：

題號	第1題	第2題	第3題	第4題	第5題	第6題	第7題	第8題	第9題	第10題
答案	A	A	C	B	A	B	C	D	C	B

題號	第11題	第12題	第13題	第14題	第15題	第16題	第17題	第18題	第19題	第20題
答案	C	A	C	C	B	B	A	B	D	C

題號	第21題	第22題	第23題	第24題	第25題	第26題	第27題	第28題	第29題	第30題
答案	D	D	B	D	D	B	D	D	B	D

題號	第31題	第32題	第33題	第34題	第35題	第36題	第37題	第38題	第39題	第40題
答案	A	C	B	A	A	D	A	C	D	C

題號	第41題	第42題	第43題	第44題	第45題	第46題	第47題	第48題	第49題	第50題
答案	D	A	D	A	C	C	B	A	D	C

題號	第51題	第52題	第53題	第54題	第55題	第56題	第57題	第58題	第59題	第60題
答案										

題號	第61題	第62題	第63題	第64題	第65題	第66題	第67題	第68題	第69題	第70題
答案										

題號	第71題	第72題	第73題	第74題	第75題	第76題	第77題	第78題	第79題	第80題
答案										

題號	第81題	第82題	第83題	第84題	第85題	第86題	第87題	第88題	第89題	第90題
答案										

題號	第91題	第92題	第93題	第94題	第95題	第96題	第97題	第98題	第99題	第100題
答案										

備註：

代號：32320、32520  
32820、33320  
33520  
頁次：4-1

# 110年公務人員高等考試三級考試試題

類 科：財稅行政、財稅法務、法制、商業行政、智慧財產行政

科 目：民法

考試時間：2小時

※注意：禁止使用電子計算器。

更多高普考考試科目的歷屆題庫  
立即上網搜尋“高普考歷屆考古題懶人包”  
高鋒公職補習班整理  
Line@帳號：@gaofeng  
連絡電話：07-236-7296

座號：\_\_\_\_\_

甲、申論題部分：(50分)

- (一)不必抄題，作答時請將試題題號及答案依照順序寫在申論試卷上，於本試題上作答者，不予計分。  
(二)請以藍、黑色鋼筆或原子筆在申論試卷上作答。  
(三)本科目除專門名詞或數理公式外，應使用本國文字作答。

一、張三有子甲與女兒乙各一人。張三於罹癌入院後欲將所持有之A地予以出售，故簽署授權書，載明授權兒子甲代為出售A地，包含從契約訂定到登記等事宜之各階段處理權及代理權。後來張三因癌症惡化於A地買賣契約簽訂時，已經有意識狀態不清之情形，甲持其張三簽名之授權書，與丙簽訂A地買賣契約價金約定為740萬元，並已給付由乙保管，由丙依法辦理登記而於辦竣A地登記前，張三因癌症過世。於張三死亡前，均未曾受監護之宣告。

張三女兒乙認為張三授權甲之際已經病情嚴重而意識不清，主張該買賣契約未有合法授權，故甲為無權代理，買賣契約無效，並主張甲保管740萬之行為侵害其財產繼承權，是否有理？(30分)

二、兄弟姊妹甲、乙、丙、丁四人共有A地，應有部分各四分之一，甲過世後，由乙、丙、丁繼承甲之應有部分。嗣乙以丙、丁為被告提起分割共有物訴訟，其主張將乙、丙、丁繼承甲之應有部分之共同共有分割為分別共有，由乙、丙、丁各分得三分之一之應有部分，亦即甲之應有部分由共同共有分割為分別共有後，由乙、丙、丁各享有十二分之一應有部分，並與其原應有部分合併計算後，由乙、丙、丁以各應有部分三分之一將A土地均等3等份，由其等各單獨所有之，乙、丙、丁雖就分配位置有不同意見，然均同意先就共同繼承甲之應有部分而終止共同共有關係，並為分割，試問乙的分割方案是否有理？(20分)

乙、測驗題部分：(50分)

代號：2323

- (一)本測驗試題為單一選擇題，請選出一個正確或最適當的答案，複選作答者，該題不予計分。  
(二)共25題，每題2分，須用2B鉛筆在試卡上依題號清楚劃記，於本試題或申論試卷上作答者，不予計分。

- 1 胎兒甲是遺腹子，其父遭乙駕車不慎撞死。下列關於胎兒甲的權利之敘述，何者正確？  
(A)甲尚無權利能力，不得向乙主張權利  
(B)關於甲權利之保護，甲視為有權利能力，然而他尚未出生，無法向乙請求損害賠償  
(C)甲得以其母為法定代理人，向乙請求損害賠償  
(D)無論甲將來是否為死產，其胎兒期間之權利不受影響

- 2 甲公司於民國（下同）102 年 2 月間舉辦員工旅遊，住宿乙之旅店，積欠住宿費新臺幣 10 萬元，乙於 103 年 2 月催告後甲仍不給付，乙乃於 104 年 2 月訴請甲給付，於 105 年 2 月獲勝訴判決確定。下列敘述，何者正確？
- (A)乙於 103 年 2 月催告時，時效中斷  
(B)乙於 104 年 2 月訴請甲給付時，時效未完成  
(C)判決確定後，時效重新起算 5 年  
(D)判決確定後，時效重新起算 15 年
- 3 甲擁有 A 鑽石，出租予乙使用，乙出賣並讓與予第三人丙。下列敘述，何者錯誤？
- (A)倘若丙為惡意，甲仍為鑽石之所有權人  
(B)縱使丙為惡意，甲仍不得向丙請求返還鑽石  
(C)倘若丙為善意且無重大過失，丙取得鑽石之所有權  
(D)倘若丙為善意且無重大過失，甲得向乙請求損害賠償或利益之返還
- 4 下列關於民法法源之敘述，何者正確？
- (A)民法第 1 條所稱之習慣，僅指單純之習慣  
(B)憲法總綱無法作為私法上具體請求權之基礎，故不得為法源  
(C)法規命令非法律，故不得為法源  
(D)法律精神演繹而出之一般法律原則，得為法源
- 5 甲借給乙 1 千萬元，乙為避免甲強制執行其所有之 A 屋，乃與好友丙通謀虛偽作成買賣契約及 A 屋之移轉登記。嗣後 A 屋被丁無權占有。下列敘述，何者錯誤？
- (A)乙丙間之買賣契約與物權行為均為無效  
(B)乙得本於所有人之物上返還請求權，向丙請求塗銷所有權之登記  
(C)甲於為保全對乙之借款返還請求權之情形下，其得以自己名義，代位乙對丙行使所有權之塗銷登記  
(D)丙得本於所有人之物上返還請求權，向丁請求返還 A 屋
- 6 關於意思表示錯誤，下列何者為動機錯誤？
- (A)甲欲贈與 A 書給乙，而誤說為贈與 B 書  
(B)甲向乙購屋，預期房屋大漲，但其後卻跌價  
(C)甲告知秘書乙，向丙訂購 A 型機器，但乙口傳時誤為表示購買 B 型機器  
(D)甲誤 A 犬為 B 犬向乙買受之
- 7 甲向乙購買貨物一批，貨款總計新臺幣（下同）50 萬元，下列情形，何者不會導致甲之 50 萬元貨款債務消滅？
- (A)經乙之同意，甲交付等值之金塊給乙  
(B)甲交付面額 50 萬元之即期支票給乙  
(C)甲、乙同意將該買賣貨款更改為消費借貸  
(D)甲要清償貨款債務時，因乙失蹤，甲乃向法院提存所為乙提存 50 萬元
- 8 甲欲出租自己所有的 A 套房，於是刊登招租廣告，寫明 A 套房所在地點及每月租金數額，並附上 A 套房內部清楚的照片。乙看到招租廣告後，立刻發電子郵件給甲表明願意依招租廣告上的條件承租。下列關於甲乙間租賃關係是否成立之敘述，何者正確？
- (A)甲所為之招租廣告為要約，乙願意承租之意思表示為承諾，租賃關係成立  
(B)甲所為之招租廣告與乙願意承租之意思表示為交錯要約，租賃關係成立  
(C)甲所為之招租廣告為要約之引誘，乙願意承租之意思表示為要約，甲若承諾，則租賃關係成立  
(D)甲所為之招租廣告為要約之引誘，乙願意承租之意思表示為要約，因內容一致，租賃關係成立
- 9 16 歲的甲，發現鄰居乙家失火，甲雖成功撲滅火源，但於奮勇滅火之際，不慎打破乙家中的水晶花瓶，並被火灼傷而支出醫藥費。下列關於甲乙間法律關係之敘述，何者正確？
- (A)甲為限制行為能力人，未經甲之法定代理人承認前，甲乙間不成立無因管理  
(B)甲得請求乙賠償其醫藥費  
(C)雖甲非出於重大過失，乙仍得請求甲賠償其水晶花瓶  
(D)甲得請求乙支付其成功滅火的報酬



- 10 甲僱用無機車駕照之乙為店員，幫其送便當。乙在送便當途中機車超速撞上未戴安全帽的丙，造成丙頭部嚴重腦震盪及全身大小挫傷。下列敘述，何者錯誤？
- (A)僱主甲對於丙之損害，原則上需要丙舉證甲有過失，甲始須負擔賠償責任  
(B)雖事故之發生主要起因於乙超速，但丙未戴安全帽，亦屬與有過失  
(C)若乙並無財產可供賠償，經丙向法院聲請，甲有可能因此一人負擔一部或全部之賠償  
(D)甲若對丙賠償損害，事後得對乙行使求償權
- 11 下列關於買賣契約瑕疵擔保責任之敘述，何者正確？
- (A)買受人履行民法第 356 條之檢查通知義務，為物之瑕疵擔保責任之成立要件之一。惟依民法第 356 條規定，於不能即知之瑕疵，不適用之  
(B)出賣人故意不告知瑕疵於買受人者，買受人即使未履行檢查通知義務，亦不妨礙物之瑕疵擔保責任之成立  
(C)以特約免除或限制出賣人關於物之瑕疵擔保義務者，如出賣人保證無瑕疵者，其特約為無效  
(D)買受人因重大過失，而不知有價值或效用之瑕疵者，出賣人如保證其無瑕疵時，不負擔保之責
- 12 旅店或其他供客人住宿為目的之場所主人，對於客人所攜帶物品之毀損、喪失時，應負下列何種責任？
- (A)縱然通常事變，仍應負責 (B)僅就抽象輕過失負責任  
(C)僅就具體輕過失負責任 (D)僅就故意或重大過失負責任
- 13 甲受乙委託處理事務，應依委任人之指示，並無給付報酬。依民法規定，甲應盡何種注意義務，否則將負過失責任？
- (A)一般人之注意義務 (B)與處理自己事務為同一之注意  
(C)善良管理人之注意 (D)通常事變之注意
- 14 甲將其所有之鑽戒一只移轉予乙占有，並設定動產質權，以擔保甲對乙所負債務。乙於占有該鑽戒期間中，向丙詐稱其為該鑽戒之所有人，將該鑽戒出售予善意且無重大過失之丙，且已實際交付。下列敘述，何者正確？
- (A)丙自實際由乙受領交付鑽戒時起，成為該鑽戒之所有人，甲不得請求丙返還  
(B)甲自乙將鑽戒交付予丙之時起，二年內得請求丙返還，但須償還丙支出之價金  
(C)甲自乙將鑽戒交付予丙之時起，一年內得請求丙返還，但須償還丙支出之價金  
(D)甲自乙將鑽戒交付予丙之時起，二年內得請求丙返還，且不須償還丙支出之價金
- 15 乙以其所有之 A 土地供甲設定第一次序之新臺幣（下同）200 萬元最高限額抵押權，以擔保甲對乙基於二者間之加盟契約所生債權。乙復以 A 土地供丙設定第二次序 100 萬元最高限額抵押權，以擔保丙對丁基於金錢借貸契約所生債權。下列敘述，何者正確？
- (A)無論乙是否同意，甲、丙間得就各自在 A 土地上之最高限額抵押權之次序為讓與  
(B)丙對丁所生貸與金錢之債權，如係未約定確定期日者，丁得隨時請求確定乙所擔保之債權  
(C)無論丙是否同意，甲乙得於原債權確定前，重新約定變更第一次序最高限額抵押權所擔保債權之範圍  
(D)原債權確定前，甲將對乙所生原債權之一部分讓與予丙時，丙成為第一次序最高限額抵押權之共同抵押權人
- 16 甲以暴力搶走乙之鑽錶後，以所有之意思，十年間和平、公然、繼續占有乙之鑽錶，下列敘述，何者正確？
- (A)乙得請求甲返還鑽錶 (B)甲取得鑽錶之所有權  
(C)甲未取得鑽錶所有權 (D)甲乙共有鑽錶所有權

- 17 甲向乙借新臺幣 1000 萬元，以甲所有之 A 地為乙設定普通抵押權，嗣後甲以 A 地為丙設定普通地上權，丙在 A 地上建築 B 屋。債務清償期屆至，甲無力清償債務，乙聲請法院拍賣 A 地，但因 B 屋之存在，故無人應買。下列敘述，何者正確？
- (A)乙得聲請法院將 B 屋與 A 地併付拍賣，但對於 B 屋之價金，無優先受清償之權  
(B)乙得聲請法院將 B 屋與 A 地併付拍賣，且對於 B 屋之價金，有優先受清償之權  
(C)乙僅得聲請法院拍賣 A 地，並無聲請將 B 屋與 A 地併付拍賣之權  
(D)乙僅得聲請法院拍賣 B 屋，並無聲請將 B 屋與 A 地併付拍賣之權
- 18 甲 1、甲 2、甲 3 至甲 10 等 10 人，經登記為 A 區分所有建築物之區分所有人。甲 1、甲 2、甲 3 至甲 10 等 10 人依法律規定作成以下規約：甲 1 得使用 A 區分所有建築物之頂樓。甲 1 出賣其專有部分，移轉其占有於乙，登記乙為 A 區分所有建築物之區分所有人。乙於受讓時就甲 1 依該規約所享有權利一事，不知且非可得而知。下列敘述，何者正確？
- (A)該規約雖未經登記，但因乙就甲 1 依該規約所享有權利一事，不知且非可得而知，故得使用 A 區分所有建築物之頂樓  
(B)乙就甲 1 依該規約所享有權利一事，不知且非可得而知，故得使用 A 區分所有建築物之頂樓  
(C)該規約未經登記，乙因此得使用 A 區分所有建築物之頂樓  
(D)乙得使用 A 區分所有建築物之頂樓
- 19 甲登記為 A 地所有人，於 A 地上設定 20 年期限之普通地上權於乙。甲與乙約定，乙每年應支付甲地租新臺幣 15 萬元，共計 20 年地租之約定。某日夜晚，甲於 A 地上掩埋大量劇毒廢棄物，致 A 地受有縱經百年休養亦無法回復，完全不能達原來使用之損害。下列敘述，何者正確？
- (A)乙得支付未到期之 3 年分地租後，拋棄其地上權  
(B)乙得支付未到期之 1 年分地租，拋棄其地上權  
(C)乙得支付未到期 2 年分之地租，拋棄其地上權  
(D)乙得拋棄其地上權，並免地租支付義務
- 20 下列何種請求權之消滅時效為 15 年？
- (A)離婚時之剩餘財產差額分配請求權 (B)判決離婚時之損害賠償請求權  
(C)解除婚約時之損害賠償請求權 (D)解除婚約時之贈與物返還請求權
- 21 張大雄與李靜香結婚，並約定妻冠夫姓而成張李靜香，二人生子名為小明，並約定該子從母姓，小明之姓名應為下列何者？
- (A)李小明 (B)張李小明 (C)李張小明 (D)張小明
- 22 甲為 A 照護中心之代表人，乙受監護之宣告，甲於何種情形，不得為乙之監護人？
- (A)甲為乙之配偶 (B)甲為乙之四親等之堂兄  
(C)甲為乙之三親等之姨丈 (D)甲為乙之女婿
- 23 下列關於法定繼承人之敘述，何者錯誤？
- (A)民法第 1138 條第 2 款所稱之母，自不包含父所娶之後妻在內  
(B)民法第 1138 條第 3 款所稱兄弟姊妹，包括同父異母或同母異父之兄弟姊妹  
(C)養子女對本生父母之遺產，無繼承權  
(D)法定繼承人如喪失我國國籍者，不得繼承被繼承人之遺產
- 24 下列關於繼承權有無之敘述，何者錯誤？
- (A)繼承開始後，繼承人已取得繼承權  
(B)繼承開始後已取得繼承權，仍可能因變造遺囑而喪失  
(C)繼承開始前喪失繼承權，仍可能因被繼承人宥恕而回復  
(D)對被繼承人重大虐待者，應經被繼承人遺囑表示，始喪失繼承權
- 25 甲因其子乙結婚而贈與乙新臺幣（下同）100 萬元。甲與丙再婚，翌日甲即死亡。甲死亡時有財產 500 萬元，對丁負債 200 萬元。甲之繼承人乙及丙發現甲之遺囑中表示，遺贈甲之母戊 250 萬元。下列敘述，何者正確？
- (A)丙受有特留分 100 萬元保障 (B)乙得對戊主張扣減遺贈 50 萬元  
(C)乙的特留分較丙多 50 萬元 (D)戊得向乙丙主張酌給遺產權

# 測驗式試題標準答案

考試名稱：110年公務人員高等考試三級考試暨普通考試

類科名稱：財稅行政、財稅法務、法制、智慧財產行政、商業行政

科目名稱：民法（試題代號：2323）

單選題數：25題

單選每題配分：2.00分

複選題數：

複選每題配分：

標準答案：

更多高普考考試科目的歷屆題庫  
立即上網搜尋“高普考歷屆考古題懶人包”  
高鋒公職補習班整理  
Line@帳號：@gaofeng  
連絡電話：07-236-7296

題號	第1題	第2題	第3題	第4題	第5題	第6題	第7題	第8題	第9題	第10題
答案	C	C	B	D	D	B	B	C	B	A

題號	第11題	第12題	第13題	第14題	第15題	第16題	第17題	第18題	第19題	第20題
答案	B	A	B	A	C	B	A	D	D	B

題號	第21題	第22題	第23題	第24題	第25題	第26題	第27題	第28題	第29題	第30題
答案	A	C	D	D	A					

題號	第31題	第32題	第33題	第34題	第35題	第36題	第37題	第38題	第39題	第40題
答案										

題號	第41題	第42題	第43題	第44題	第45題	第46題	第47題	第48題	第49題	第50題
答案										

題號	第51題	第52題	第53題	第54題	第55題	第56題	第57題	第58題	第59題	第60題
答案										

題號	第61題	第62題	第63題	第64題	第65題	第66題	第67題	第68題	第69題	第70題
答案										

題號	第71題	第72題	第73題	第74題	第75題	第76題	第77題	第78題	第79題	第80題
答案										

題號	第81題	第82題	第83題	第84題	第85題	第86題	第87題	第88題	第89題	第90題
答案										

題號	第91題	第92題	第93題	第94題	第95題	第96題	第97題	第98題	第99題	第100題
答案										

備註：

代號:32340  
頁次:4-1

# 110年公務人員高等考試三級考試試題

類 科：財稅行政  
科 目：租稅各論  
考試時間：2小時

※注意：禁止使用電子計算器。

更多高普考考試科目的歷屆題庫  
立即上網搜尋“高普考歷屆考古題懶人包”  
高鋒公職補習班整理  
Line@帳號：@gaofeng  
連絡電話：07-236-7296

座號：\_\_\_\_\_

甲、申論題部分：(50分)

- (一)不必抄題，作答時請將試題題號及答案依照順序寫在申論試卷上，於本試題上作答者，不予計分。
- (二)請以藍、黑色鋼筆或原子筆在申論試卷上作答。
- (三)本科目除專門名詞或數理公式外，應使用本國文字作答。

一、(一)何謂「林達爾租稅」(Lindahl tax)？該制度是以何種課稅原則課稅。  
(15分)

(二)有 a、b 兩人，a 與 b 對公共財的邊際願付價格函數分別為  $P_a=24-2G$  與  $P_b=12-G$ ，此處  $P_i$  為  $i$  對公共財之邊際願付價格， $G$  則代表公共財之數量。提供公共財之邊際成本為  $MC$ ， $MC$  為公共財數量  $G$  的函數，且  $MC$  與  $G$  的關係為  $MC=1 \times G$ 。請問 a、b 兩人的林達爾租稅各是多少？(10分)

二、假設只有 x、y 兩種財貨，兩財貨之受補償需求曲線均為負斜率。一開始，政府只對 y 財課徵貨物稅，x 財為免稅。倘若現在政府也要對 x 財課徵貨物稅，而 y 財的稅率維持不變。試分析對 x 財課稅對整體貨物稅超額負擔之影響。(25分)

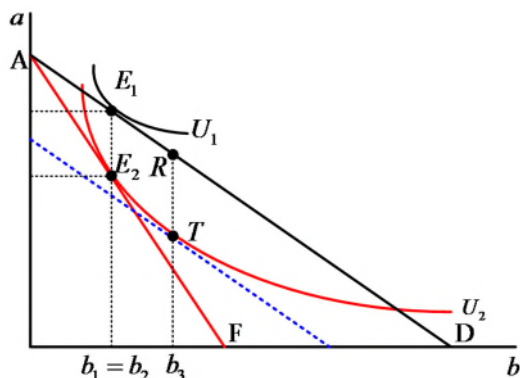
乙、測驗題部分：(50分)

代號：4323

- (一)本測驗試題為單一選擇題，請選出一個正確或最適當的答案，複選作答者，該題不予計分。
- (二)共 25 題，每題 2 分，須用 2B鉛筆在試卡上依題號清楚劃記，於本試題或申論試卷上作答者，不予計分。

- 1 政府為了實施所得重分配、促進資本形成等目的而課徵租稅，符合下列何種性質？  
(A)租稅的收入性 (B)租稅的政策性 (C)租稅的報償性 (D)租稅的中立性
- 2 在供給無彈性的完全競爭市場中，政府對買方課徵貨物稅，則此貨物稅的經濟歸宿為何？  
(A)完全由賣方負擔 (B)完全由買方負擔  
(C)買、賣雙方各負擔一半 (D)買方負擔 2/3、賣方負擔 1/3
- 3 對某完全競爭市場的商品課稅，且令  $E_d$  為該商品的未受補償之價格彈性，而  $E_s$  為其供給的價格彈性。在下列何種情況下消費者的租稅負擔最小？  
(A)  $E_d = -2$ ， $E_s = 1$  (B)  $E_d = 0$ ， $E_s = 0.5$  (C)  $E_d = -0.5$ ， $E_s = 0$  (D)  $E_d = -0.5$ ， $E_s = 0.5$
- 4 關於哈柏格 (Harberger) 模型之敘述，下列何者錯誤？  
(A)為一般均衡分析 (general equilibrium analysis)  
(B)必須假設消費者的偏好都相同  
(C)部分或全部生產要素可以不在產業間移動  
(D)屬實證分析 (positive analysis)

- 5 圖中  $a$  和  $b$  為財貨，兩財貨的市場皆為完全競爭， $AD$  為財貨  $b$  被課稅前消費者的預算線， $AF$  為稅後預算線，假設租稅全由消費者負擔。下列敘述何者正確？



- (A) 超額負擔為  $RT - E_1E_2$   
 (B) 政府收到的稅收為  $RT$   
 (C) 因為課稅前和課稅後財貨  $b$  的需求量不變，故無超額負擔  
 (D) 超額負擔為  $E_1E_2$
- 6 承上題，若政府改課和上題中相同金額的定額稅，下列敘述何者正確？  
 (A) 政府可以課到  $RT$  的定額稅  
 (B) 稅後消費者對  $b$  的需求量大於  $b_2$   
 (C) 超額負擔為  $E_1E_2$   
 (D) 超額負擔為  $RT - E_1E_2$
- 7 稻米的市場是完全競爭，供給與需求曲線分別為  $P = 2Q$ 、 $P = 120 - Q$ ， $P$ 、 $Q$  分別是稻米價格及數量。若對稻米依廠商售價給予 25% 的補貼，此一補貼造成多少效率損失？  
 (A)  $75/2$                       (B) 72                      (C) 96                      (D) 120
- 8 關於課稅對效率的影響，下列敘述何者錯誤？  
 (A) 對外部性課徵矯正稅可以提高經濟效率  
 (B) 定額稅是個人或廠商無法藉由改變行為而規避的租稅，但稅額可以不固定  
 (C) 沒有扭曲的租稅是無論個人或廠商如何反應都無法改變他們租稅負擔的租稅  
 (D) 人頭稅是定額稅的一種
- 9 下列何者為雷姆西法則 (Ramsey rule) 與反彈性法則 (inverse elasticity rule) 之差別？  
 (A) 前者可適用於三種以上之財貨，後者僅適用於兩種財貨  
 (B) 前者可假設勞動具有彈性，後者須假設勞動供給為固定  
 (C) 前者可適用於財貨間具互補或替代之情況，後者須假設財貨互為獨立  
 (D) 前者為後者的特例

- 10 假設甲有固定的所得，他申報所得，政府對他申報的所得課徵比例稅率的所得稅，並且以一定機  
率稽核他的真實所得。若被查到漏報所得，則甲除了補繳他所逃漏的所得稅外，還必須就他所逃  
漏的稅額繳納罰款。假設甲極大化他的預期所得且他沒有誠實申報，下列敘述何者錯誤？
- (A)提高稅率會降低甲漏報所得的誘因 (B)提高稽核率會降低甲漏報所得的誘因  
(C)提高罰款會降低甲漏報所得的誘因 (D)甲會有一個最適的逃漏所得水準
- 11 各國政府對退休儲蓄採不同租稅政策，若有政府對退休儲蓄帳戶的利息收入採緩課稅，待退休提  
出時，根據累積的利息所得課稅。若替代效果大於所得效果，相對於每年對利息所得課稅，此一  
課稅方式對退休儲蓄的影響：
- (A)兩種方式對儲蓄的影響一樣 (B)增加儲蓄  
(C)減少儲蓄 (D)無法判斷影響大小
- 12 近年來各國面臨了所得不均擴大的問題，其中投資所得的不均是一主要原因，因此有人提議對持  
有資產課稅。若對持有資產課稅，下列敘述何者錯誤？
- (A)有助於降低所得不均  
(B)有助於降低財富不均  
(C)若資產持有稅和資本利得稅稅率相同且投資報酬率小於 1，則兩者稅收相同  
(D)若資產持有稅和資本利得稅稅率相同且投資報酬率小於 1，則相對於資本利得稅，資產持有稅  
的租稅負擔較高
- 13 捐贈扣除額具有下列那個特性？
- (A)提高稅收 (B)降低捐贈的價格 (C)降低所得不均 (D)降低避稅誘因
- 14 下列那項規定，有助於達成使高所得者租稅負擔增加之目的？
- (A)公司債利息所得，以分離課稅方式完稅  
(B)基本所得額超過 670 萬元者，不得扣除長期照顧特別扣除額  
(C)股利所得可選擇採 28% 之稅率分開計稅  
(D)可選擇將配偶之薪資所得或各類所得分開計算稅額
- 15 根據新古典模型 (neoclassical model)，公司所得稅係透過下列何因素，而改變實體投資？
- (A)工資水準 (B)產出水準 (C)消費水準 (D)資本的使用成本
- 16 有關公司投資租稅扣抵 (investment tax credit) 之敘述，下列何者正確？
- (A)投資租稅扣抵與加速折舊對公司稅負的影響相同  
(B)投資租稅扣抵對公司所得稅負的影響與公司所得稅率無關  
(C)投資租稅扣抵對公司的減稅利益因公司所得稅率而不同  
(D)投資租稅扣抵係從公司所得中減除

- 17 關於我國「所得基本稅額條例」，下列敘述何者正確？  
(A)公司所得課稅從屬人主義轉為屬地主義  
(B)個人所得課稅從屬地主義，轉為屬地主義輔以屬人主義  
(C)個人所得課稅主義未受影響  
(D)與個人所得課稅主義無關
- 18 依據所得稅法第 43 條之 2 之規定，營利事業之下列何種比率超過規定者，利息支出不得列為費用？  
(A)總負債占業主權益之比率 (B)總負債占總資產之比率  
(C)關係人負債占業主權益之比率 (D)利息支出占稅前淨利之比率
- 19 下列股東若取得國內公司發放之股利收入，何者無須就該項收入繳納所得稅？  
(A)境外之公司組織營利事業 (B)境內之合作社組織營利事業  
(C)非居住者個人 (D)不符合免稅標準之境內慈善機構
- 20 我國現行消費稅稅目中，下列何者具有指定用途的性質？  
(A)菸酒稅 (B)貨物稅 (C)關稅 (D)金融業營業稅
- 21 對特定進口貨物訂定一定數量標準，在此數量內適用較低關稅稅率，超過數量部分則適用一般關稅稅率，此一特別關稅制度稱之：  
(A)關稅配額 (B)平衡關稅 (C)報復關稅 (D)機動關稅
- 22 甲在臺中市名下有 4 間房子，都市土地面積皆為 1 公畝，分別由配偶、母親、已成年長子、已成年次子設籍，甲將 4 處土地同時申請自用住宅地價稅稅率，且未擇定順序，何人設籍處不適用自用住宅地價稅優惠稅率？  
(A)配偶 (B)母親 (C)長子 (D)次子
- 23 贈與稅之納稅義務人為贈與人，但在下列那些情形以受贈人為納稅義務人？①贈與人行蹤不明  
②逾規定繳納期限尚未繳納，且在中華民國境內無財產可供執行 ③逾規定申報期間尚未申報  
④死亡時贈與稅尚未核課  
(A)僅①② (B)僅①③④ (C)僅②③④ (D)僅①②④
- 24 關於地價稅與房屋稅之稽徵，下列敘述何者正確？  
(A)均由稅捐稽徵機關依稅籍底冊核定課徵  
(B)課稅地價與房屋現值均由各直轄市或縣（市）不動產評價委員會評定  
(C)課徵所屬期間均為當年 1 月 1 日至 12 月 31 日  
(D)繳納期限均為收到稅單後 30 日
- 25 依土地稅法之規定，下列敘述何者正確？  
(A)出售土地時，依實際出售價格與實際成本計算後有交易損失，則不會產生土地增值稅稅負  
(B)出售土地時，依實際出售價格與實際成本計算後有交易利得，則必定產生土地增值稅稅負  
(C)持有期間所繳納之地價稅總額，得抵繳應納之土地增值稅  
(D)做農業使用之農業用地，移轉與自然人時，得申請不課徵土地增值稅

更多高普考考試科目的歷屆題庫  
立即上網搜尋“高普考歷屆考古題懶人包”  
高鋒公職補習班整理  
Line@帳號：@gaofeng  
連絡電話：07-236-7296

# 測驗式試題標準答案

考試名稱：110年公務人員高等考試三級考試暨普通考試

類科名稱：財稅行政

科目名稱：租稅各論（試題代號：4323）

更多高普考考試科目的歷屆題庫  
立即上網搜尋“高普考歷屆考古題懶人包”  
高鋒公職補習班整理  
Line@帳號：@gaofeng  
連絡電話：07-236-7296

單選題數：25題

單選每題配分：2.00分

複選題數：

複選每題配分：

標準答案：

題號	第1題	第2題	第3題	第4題	第5題	第6題	第7題	第8題	第9題	第10題
答案	B	A	C	B	A	B	C	B	C	A

題號	第11題	第12題	第13題	第14題	第15題	第16題	第17題	第18題	第19題	第20題
答案	B	C	B	B	D	B	B	C	B	D

題號	第21題	第22題	第23題	第24題	第25題	第26題	第27題	第28題	第29題	第30題
答案	A	D	D	A	D					

題號	第31題	第32題	第33題	第34題	第35題	第36題	第37題	第38題	第39題	第40題
答案										

題號	第41題	第42題	第43題	第44題	第45題	第46題	第47題	第48題	第49題	第50題
答案										

題號	第51題	第52題	第53題	第54題	第55題	第56題	第57題	第58題	第59題	第60題
答案										

題號	第61題	第62題	第63題	第64題	第65題	第66題	第67題	第68題	第69題	第70題
答案										

題號	第71題	第72題	第73題	第74題	第75題	第76題	第77題	第78題	第79題	第80題
答案										

題號	第81題	第82題	第83題	第84題	第85題	第86題	第87題	第88題	第89題	第90題
答案										

題號	第91題	第92題	第93題	第94題	第95題	第96題	第97題	第98題	第99題	第100題
答案										

備註：



# 測驗題標準答案更正

考試名稱：110年公務人員高等考試三級考試暨普通考試

類科名稱：財稅行政

科目名稱：租稅各論

單選題數：25題

單選每題配分：2.00分

複選題數：

複選每題配分：

更多高普考考試科目的歷屆題庫  
立即上網搜尋“高普考歷屆考古題懶人包”  
高鋒公職補習班整理  
Line@帳號：@gaofeng  
連絡電話：07-236-7296

標準答案：答案標註#者，表該題有更正答案，其更正內容詳見備註。

題號	第1題	第2題	第3題	第4題	第5題	第6題	第7題	第8題	第9題	第10題
答案	B	A	C	B	A	B	C	B	C	A

題號	第11題	第12題	第13題	第14題	第15題	第16題	第17題	第18題	第19題	第20題
答案	B	C	B	B	D	B	B	C	B	#

題號	第21題	第22題	第23題	第24題	第25題	第26題	第27題	第28題	第29題	第30題
答案	A	D	D	A	D					

題號	第31題	第32題	第33題	第34題	第35題	第36題	第37題	第38題	第39題	第40題
答案										

題號	第41題	第42題	第43題	第44題	第45題	第46題	第47題	第48題	第49題	第50題
答案										

題號	第51題	第52題	第53題	第54題	第55題	第56題	第57題	第58題	第59題	第60題
答案										

題號	第61題	第62題	第63題	第64題	第65題	第66題	第67題	第68題	第69題	第70題
答案										

題號	第71題	第72題	第73題	第74題	第75題	第76題	第77題	第78題	第79題	第80題
答案										

題號	第81題	第82題	第83題	第84題	第85題	第86題	第87題	第88題	第89題	第90題
答案										

題號	第91題	第92題	第93題	第94題	第95題	第96題	第97題	第98題	第99題	第100題
答案										

備註：第20題答A或D者均給分。

# 110年公務人員高等考試三級考試試題

類 科：財稅行政、會計  
科 目：財政學  
考試時間：2小時

※注意：禁止使用電子計算器。

更多高普考考試科目的歷屆題庫  
立即上網搜尋“高普考歷屆考古題懶人包”  
高鋒公職補習班整理  
Line@帳號：@gaofeng  
連絡電話：07-236-7296

座號：\_\_\_\_\_

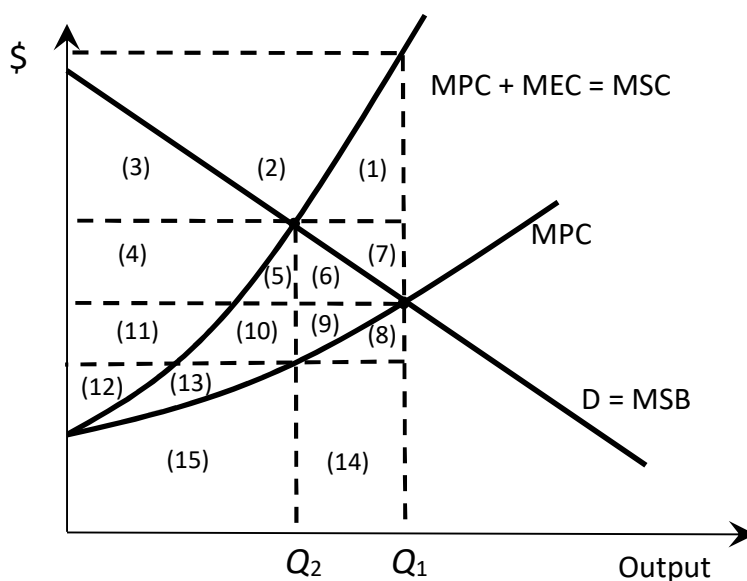
甲、申論題部分：(50分)

- (一)不必抄題，作答時請將試題題號及答案依照順序寫在申論試卷上，於本試題上作答者，不予計分。
- (二)請以藍、黑色鋼筆或原子筆在申論試卷上作答。
- (三)本科目除專門名詞、數理公式或符號標記外，應使用本國文字作答。

請應考人注意：

答題使用之數學式符號與上、下標等，以及圖形之座標軸與點、線等，務必清楚標示並佐以文字詳細解釋。

一、下圖外部性圖形，橫軸表示產量、縱軸表示金額。需求D亦表示財貨帶來之邊際社會利益MSB、財貨生產之邊際私人成本以MPC表示；MEC為邊際外部成本、MSC為邊際社會成本。



若政府以開徵定額稅為財源，採行皮古補貼 (Pigouvian subsidy)，以達成資源配置社會最適。請根據圖中標記(1)至(15)之區塊，回答下列問題：(每小題5分，共25分)

- (一)總補貼金額為何？
- (二)僅考慮定額稅的課徵，社會福利減損為何？
- (三)補貼前後外部成本變化為何？
- (四)最適皮古補貼下，社會福利之淨變化為何？
- (五)若皮古補貼之財源會造成相當於區塊(1)大小的社會無謂損失，社會福利之淨變化又為何？

二、請回答下列有關公司所得稅問題：

(一)在稅制發展的歷程以稅改著稱的美國總統雷根 (Ronald W. Reagan)，曾經不留情面的質疑課徵公司所得稅的正當性：

「也許語出我會後悔，但我們要到什麼時候方才能勇敢指出來，在現行稅制結構中，公司所得稅的課徵很難去論述？」

“I’ll probably kick myself for having said this, but when are we going to have the courage to point out that in our tax structure, the corporation tax is very hard to justify?”

請提供課徵公司所得稅的論述根據。(10分)

(二)請根據 Harberger (1974) 所提出之兩部門、兩生產要素的一般均衡模型分析架構，說明不同假設下公司所得稅的累進或累退性質。(15分)

乙、測驗題部分：(50分)

代號：5323

(一)本測驗試題為單一選擇題，請選出一個正確或最適當的答案，複選作答者，該題不予計分。

(二)共25題，每題2分，須用2B鉛筆在試卡上依題號清楚劃記，於本試題或申論試卷上作答者，不予計分。

- 假設社會上只有 A、B 兩人，且社會福利函數  $W$  可表示為  $W = U_A + U_B$ 。另外，兩人效用的高低均由其所得高低決定，且所得的邊際效用大於零但隨所得的增加而遞減。在社會總所得固定下，最適所得公平分配發生在下列那個條件成立之時？  
(A)當兩人的效用水準相等之時 (B)當兩人的所得邊際效用相等之時  
(C)當兩人的效用水準差異最大之時 (D)當兩人的所得邊際效用差異最大之時
- 政府欲達成減少污染的社會目標，除了明確界定財產權之外，亦可利用下列何種方式最為適當？  
①課稅 ②補貼 ③管制  
(A)僅① (B)僅①② (C)僅①③ (D)①②③
- 長期平均成本遞減下之國營事業若採邊際成本訂價，下列敘述何者錯誤？  
(A)有賴政府彌補虧損 (B)是兼顧經濟效率與分配公平的收費方式  
(C)可先利用固定基本費的收取來彌補其虧損 (D)可達效率產量且不會導致無謂損失
- 假設一自然獨占產業的需求為  $Q=100-10P$ ，邊際成本  $MC=2$ ，其中  $P$  為單位價格， $Q$  為數量。若無政府干預，此業者的獨占價量決策下所導致的社會福利損失為何？  
(A) 20 (B) 40 (C) 60 (D) 80
- 根據鮑莫 (W. Baumol) 的不平衡成長模型，下列何者是造成公共支出增加的可能原因？  
(A)民眾對公部門所提供的服務，其價格彈性小於 1  
(B)民眾對公部門所提供的服務，其價格彈性大於 1  
(C)民眾對公部門所提供的服務，其所得彈性小於 0  
(D)民眾對公部門所提供的服務，其所得彈性大於 0
- 假設某一國家公共支出的所得彈性 = A，而其公共支出的價格需求彈性 = B。若根據華格納法則 (Wagner's law)，下列敘述何者正確？  
(A)  $A > 1$  (B)  $B > 1 > A$  (C)  $1 > A > B$  (D)  $1 > B > A$
- 以下關於公共支出案評估的淨利益現值法與益本比法兩者關聯的敘述何者錯誤？  
(A)淨利益現值法評估為可行的計畫案，改以益本比評估應為可行  
(B)淨利益現值為零的計畫案，其益本比應該為一  
(C)益本比評估為不可行的計畫案，改以淨現值法評估仍不可行  
(D)淨利益現值法評估為排序優先的計畫案，改以益本比評估仍為排序優先

- 8 其他條件不變，若甲方案的效果高於乙方案，且甲方案的執行成本也高於乙方案，以成本有效性分析評估兩方案時，一般採取何種方式作為比較基礎？
- (A)每單位效果的成本最低者 (B)總效果高者  
(C)總成本最低者 (D)每單位效果的成本最高者
- 9 計算跨期公共投資計畫的淨現值需要選擇社會折現率，下列何者不是適當的社會折現率選項？
- (A)資本邊際生產力 (B)勞動邊際生產力 (C)社會時間偏好率 (D)社會機會成本率
- 10 下列何者為林達爾模型（Lindahl model）下公共財的提供條件？
- (A)每位投票者的邊際願意支付代價的加總，等於公共財的邊際成本  
(B)每位投票者的邊際願意支付代價，等於公共財的邊際成本  
(C)每位投票者的邊際願意支付代價，等於公共財的平均成本  
(D)每位投票者的邊際願意支付代價的加總，等於公共財的平均成本
- 11 甲、乙、丙三人對教育支出高、中、低三種水準進行投票，其偏好排序分別如下：低 > 中 > 高、中 > 高 > 低、高 > 低 > 中。在兩兩表決的投票方式，最後勝出的議案為何？
- (A)高教育支出水準 (B)中教育支出水準 (C)低教育支出水準 (D)出現投票矛盾
- 12 關於公共選擇的相關理論，下列敘述何者錯誤？
- (A)選票互助的結果可能提升社會福利  
(B)尼斯坎南官僚模型的結果顯示政府預算規模偏低  
(C)林達爾模型的結果可以達到最適公共財數量  
(D)波文模型的結果可以達到最適公共財數量
- 13 社會救助法所定義的低收入戶家庭人口不包括下列何者？
- (A)配偶  
(B)一親等之直系血親  
(C)同一戶籍或共同生活之其他直系血親  
(D)未共同生活且無扶養能力之已結婚直系血親卑親屬
- 14 下列關於勤勞所得稅額扣抵（earned income tax credits）的敘述，何者錯誤？
- (A)對於所得低於某一標準的人提供補助  
(B)補助金額隨著其工作所得增加而增加  
(C)相較於直接補助，透過補助金額的差異來鼓勵低所得者的工作誘因  
(D)相較於直接補助，較能鼓勵低所得者工作
- 15 關於我國全民健康保險補充保險費率相關說明，下列何者錯誤？
- (A)105年起調整為1.91%  
(B)102年起實施補充保險費，費率為2%  
(C)補充保險費率與一般保險費率連動  
(D)補充保險費率設有上限3%
- 16 在其他條件相同下，為降低逃漏稅，稅率（t）、稽查率（d）、罰責（p）三者應如何個別調整？
- (A)提高 t、提高 d、降低 p (B)降低 t、提高 d、提高 p  
(C)提高 t、降低 d、提高 p (D)降低 t、降低 d、降低 p
- 17 在以托賓（J. Tobin）1958年資產組合模型的分析架構下，假設只有兩個投資項目，一為無報酬且完全無風險；一為有正報酬但也有風險。若所得稅制係對投資報酬課稅，並允許投資損失全額扣除。此稅制對於厭惡風險之投資者的最適總風險承擔數量，有何影響？
- (A)降低 (B)不變  
(C)提高 (D)需視所得效果與替代效果而定

- 18 假設每個人效用函數相同且僅受所得影響，效用高低也可以比較。在所得邊際效用遞減的前提下，所得稅制應具有何種特性，才能滿足相等邊際犧牲（equal marginal sacrifice）公平？
- (A)累退稅率結構 (B)比例稅率結構  
(C)累進稅率結構 (D)任何稅率結構皆可達成
- 19 對外部成本開徵皮古稅（Pigouvian tax）取得稅收，並用以彌補降低所得稅稅率所造成的稅收損失。這種想法一般稱為：
- (A)雙重紅利假說（double-dividend hypothesis）  
(B)寇斯定理（Coase theorem）  
(C)皮古定理（Pigou theorem）  
(D)外部性內部化（internalizing）
- 20 若所得稅的稅收函數為  $T=(Y-F)\times t$ （式中  $T$  為稅收， $Y$  為所得， $F$  為免稅額且  $F>0$ ， $t$  為稅率），則該稅制之平均稅率（ $A_t$ ）及邊際稅率（ $M_t$ ）：
- (A)  $A_t$  是固定的， $M_t$  是固定的 (B)  $A_t$  是固定的， $M_t$  是遞增的  
(C)  $A_t$  是遞增的， $M_t$  是固定的 (D)  $A_t$  是遞增的， $M_t$  是遞增的
- 21 政府對奢侈財課稅，符合下列何者？
- (A)受益原則 (B)反需求彈性法則 (C)稅制累進性 (D)租稅中立性原則
- 22 有關丁波（C. M. Tiebout）「以腳投票（voting by feet）」的純地方公共財理論之基礎假設，下列何者錯誤？
- (A)不須考慮遷徙成本 (B)個人的所得會因遷徙而改變  
(C)個人的偏好不因遷徙而改變 (D)各地區所提供的公共財沒有外溢效果
- 23 布坎南（J. M. Buchanan）所稱「財政剩餘」（fiscal residuum）是指：
- (A)居民消費轄區地方公共財的利益扣除其租稅負擔  
(B)地方政府主動降低租稅收入或增加支出，以刺激經濟活動，促使社會利益提高  
(C)納稅人低估公共財的成本，極力爭取政府擴大公共支出  
(D)地方政府歲入與歲出之差額
- 24 財產稅轉嫁與歸宿分析的傳統觀點是採部分均衡分析，認為財產稅是對土地和建築物課徵貨物稅。有關傳統觀點超額負擔的說明，下列何者正確？
- (A)土地稅和房屋稅都會造成超額負擔  
(B)土地稅和房屋稅都不會造成超額負擔  
(C)只有土地稅會造成超額負擔，房屋稅則否  
(D)只有房屋稅會造成超額負擔，土地稅則否
- 25 若李嘉圖等值定理（Ricardian equivalence theorem）成立，則採行減稅而改發行公債之後，國民儲蓄會有何變化？
- (A)上揚 (B)不變 (C)下降 (D)不確定

更多高普考考試科目的歷屆題庫  
立即上網搜尋“高普考歷屆考古題懶人包”  
高鋒公職補習班整理  
Line@帳號：@gaofeng  
連絡電話：07-236-7296

# 測驗式試題標準答案

考試名稱：110年公務人員高等考試三級考試暨普通考試

類科名稱：財稅行政、會計

科目名稱：財政學（試題代號：5323）

更多高普考考試科目的歷屆題庫  
立即上網搜尋“高普考歷屆考古題懶人包”  
高鋒公職補習班整理  
Line@帳號：@gaofeng  
連絡電話：07-236-7296

單選題數：25題

單選每題配分：2.00分

複選題數：

複選每題配分：

標準答案：

題號	第1題	第2題	第3題	第4題	第5題	第6題	第7題	第8題	第9題	第10題
答案	B	D	B	D	A	A	D	A	B	A

題號	第11題	第12題	第13題	第14題	第15題	第16題	第17題	第18題	第19題	第20題
答案	D	B	D	B	D	B	B	C	A	C

題號	第21題	第22題	第23題	第24題	第25題	第26題	第27題	第28題	第29題	第30題
答案	C	B	A	D	B					

題號	第31題	第32題	第33題	第34題	第35題	第36題	第37題	第38題	第39題	第40題
答案										

題號	第41題	第42題	第43題	第44題	第45題	第46題	第47題	第48題	第49題	第50題
答案										

題號	第51題	第52題	第53題	第54題	第55題	第56題	第57題	第58題	第59題	第60題
答案										

題號	第61題	第62題	第63題	第64題	第65題	第66題	第67題	第68題	第69題	第70題
答案										

題號	第71題	第72題	第73題	第74題	第75題	第76題	第77題	第78題	第79題	第80題
答案										

題號	第81題	第82題	第83題	第84題	第85題	第86題	第87題	第88題	第89題	第90題
答案										

題號	第91題	第92題	第93題	第94題	第95題	第96題	第97題	第98題	第99題	第100題
答案										

備註：

# 測驗題標準答案更正

考試名稱：110年公務人員高等考試三級考試暨普通考試

類科名稱：財稅行政、會計

科目名稱：財政學

更多高普考考試科目的歷屆題庫  
立即上網搜尋“高普考歷屆考古題懶人包”  
高鋒公職補習班整理  
Line@帳號：@gaofeng  
連絡電話：07-236-7296

單選題數：25題

單選每題配分：2.00分

複選題數：

複選每題配分：

標準答案：答案標註#者，表該題有更正答案，其更正內容詳見備註。

題號	第1題	第2題	第3題	第4題	第5題	第6題	第7題	第8題	第9題	第10題
答案	B	#	B	D	A	A	D	A	B	A

題號	第11題	第12題	第13題	第14題	第15題	第16題	第17題	第18題	第19題	第20題
答案	D	B	D	B	D	B	B	C	A	C

題號	第21題	第22題	第23題	第24題	第25題	第26題	第27題	第28題	第29題	第30題
答案	C	B	A	D	B					

題號	第31題	第32題	第33題	第34題	第35題	第36題	第37題	第38題	第39題	第40題
答案										

題號	第41題	第42題	第43題	第44題	第45題	第46題	第47題	第48題	第49題	第50題
答案										

題號	第51題	第52題	第53題	第54題	第55題	第56題	第57題	第58題	第59題	第60題
答案										

題號	第61題	第62題	第63題	第64題	第65題	第66題	第67題	第68題	第69題	第70題
答案										

題號	第71題	第72題	第73題	第74題	第75題	第76題	第77題	第78題	第79題	第80題
答案										

題號	第81題	第82題	第83題	第84題	第85題	第86題	第87題	第88題	第89題	第90題
答案										

題號	第91題	第92題	第93題	第94題	第95題	第96題	第97題	第98題	第99題	第100題
答案										

備註：第2題答A或D者均給分。

# 110年公務人員高等考試三級考試試題

類 科：財稅行政  
科 目：稅務法規  
考試時間：2小時

※注意：禁止使用電子計算器。

更多高普考考試科目的歷屆題庫  
立即上網搜尋“高普考歷屆考古題懶人包”  
高鋒公職補習班整理  
Line@帳號：@gaofeng  
連絡電話：07-236-7296

座號：\_\_\_\_\_

甲、申論題部分：(50分)

- (一)不必抄題，作答時請將試題題號及答案依照順序寫在申論試卷上，於本試題上作答者，不予計分。  
(二)請以藍、黑色鋼筆或原子筆在申論試卷上作答。  
(三)本科目除專門名詞或數理公式外，應使用本國文字作答。

一、請回答下列問題：(25分)

- (一)依據我國稅捐稽徵法的規定，試說明何謂核課期間？何謂徵收期間？兩者有何不同？又兩者規定的期限分別為多久？  
(二)110年房屋稅課稅所屬期間為109年7月1日至110年6月30日，並於110年5月1日開徵，繳納期限至110年5月31日屆滿，試問110年的房屋稅之核課期間與徵收期間各為何？

二、請回答下列問題：(25分)

- (一)依據我國加值及非加值型營業稅之規定，何謂視為銷售？試說明之。  
(二)請說明視為銷售的立法意旨及視為銷售的收入應如何申報營利事業所得？

乙、測驗題部分：(50分)

代號：8323

- (一)本測驗試題為單一選擇題，請選出一個正確或最適當的答案，複選作答者，該題不予計分。  
(二)共25題，每題2分，須用2B鉛筆在試卡上依題號清楚劃記，於本試題或申論試卷上作答者，不予計分。

- 1 依現行法規，下列何項所得免計入個人綜合所得總額課稅？①郵政定期存款之利息 ②出售日常使用家具之所得 ③國立大學辦理研究所入學考試發給試務工作人員之工作費用 ④參加公司尾牙摸彩中獎獎金 ⑤出售國內上市櫃股票之獲利  
(A)①②⑤ (B)①④⑤ (C)②③④ (D)②③⑤
- 2 依現行所得稅法，若綜合所得稅納稅義務人選擇就其本人或配偶之各類所得分開計算稅額，針對個人專屬部分，分開計稅方可扣除下列何者？①薪資所得特別扣除額 ②免稅額 ③一般扣除額 ④基本生活費差額 ⑤財產交易損失  
(A)②③⑤ (B)①②④ (C)①②⑤ (D)①③④
- 3 依現行法規，下列何者可認列為公司之利息費用？  
(A)公司因增建固定資產而為之借款，於建築完成後，所發生而應支付之利息  
(B)公司發放給股東的股利  
(C)公司購買土地之借款利息，該土地非屬公司之固定資產  
(D)公司分期付款購置設備，取得該項資產前之利息支出
- 4 甲公司採曆年制會計年度，民國109年10月21日開始營業，當年度2個月又10天的營利事業所得額為4.5萬元，依現行法規，其109年度全年課稅所得額為何？實際應納營利事業所得稅額為何？  
(A) 18萬；1.2萬 (B) 18萬；0.75萬 (C) 4.5萬；0元 (D) 4.5萬；0.9萬



- 5 依現行所得稅法，有關資產重估的規定，下列何者錯誤？  
(A)重估價基準日為營利事業申請資產重估日之年度終了日  
(B)適用資產重估的資產物價上升達 25% 以上可辦理資產重估價  
(C)適用資產重估的資產包含固定資產、無形資產及遞耗資產  
(D)營利事業辦理資產重估所發生之重估增值，於資產未處分前應列為未實現重估增值
- 6 若被繼承人為經常居住境外之中華民國國民，109 年 2 月 1 日於日本死亡，依現行遺產及贈與稅法規定，下列何者正確？  
(A)被繼承人遺有配偶者，得自遺產總額中扣除新臺幣 493 萬元  
(B)被繼承人本人免稅額為新臺幣 1,200 萬  
(C)被繼承人遺有父母者，得自遺產總額中扣除新臺幣 123 萬元  
(D)被繼承人死亡前 6 年內繼承之財產已納遺產稅者，按年遞減扣除 80%
- 7 依現行遺產及贈與稅法規定，下列何者正確？  
(A)贈與附有負擔者，且負擔內容係向贈與人以外之人為給付，由受贈人負擔部分得自贈與額中扣除  
(B)以自己之資金，無償為他人購置不動產者，其資金視同贈與  
(C)遺產稅納稅義務人為二人以上時，若納稅義務人中有一人出面申報，視同全體已申報  
(D)被繼承人死亡前兩年內贈與他人之財產，應於被繼承人死亡時，視為被繼承人之遺產
- 8 依現行土地稅法，有關自用住宅用地地價稅之相關規定，下列何者正確？  
(A)自用住宅用地是指土地所有權人或其配偶、直系親屬在該地辦竣戶籍登記，且無出租或供營業用之住宅用地  
(B)自用住宅用地都市土地面積不得超過 3 公畝，非都市土地面積不得超過 6 公畝  
(C)自用住宅用地優惠稅率全戶以一處為限  
(D)自用住宅用地優惠稅率為 1%
- 9 依現行土地稅法，有關自用住宅用地土地增值稅之相關規定，下列何者正確？  
(A)自用住宅用地優惠稅率為 2%  
(B)一生一次自用住宅用地土地增值稅優惠稅率之適用，無設籍持續時間之限制  
(C)一生一屋自用住宅用地土地增值稅優惠稅率之適用，出售前需持有該土地 2 年以上  
(D)一生一屋自用住宅用地土地增值稅優惠稅率，一人一生僅能使用一次
- 10 依現行營業稅法規定，下列何者免徵營業稅？①量販店出售之水果罐頭 ②中華郵政代銷郵票之勞務 ③學校對外開放之餐廳所銷售之商品及勞務 ④農會出售在地之生鮮農產品 ⑤商家出售之銀幣或純銀飾品  
(A)①②③ (B)②④ (C)②④⑤ (D)③⑤
- 11 依現行營業稅法規定，下列何者適用非加值型營業稅？①連鎖量販店 ②典當業 ③保險業 ④夜總會 ⑤百貨公司  
(A)①②③④⑤ (B)①②③④ (C)②③④ (D)①③④
- 12 依現行貨物稅條例，下列何者採從價課徵？①輪胎 ②飲料品 ③水泥 ④油氣 ⑤電器 ⑥車輛  
(A)①②③④⑤⑥ (B)②③④ (C)①②⑤⑥ (D)②④⑤⑥
- 13 有關稅捐稽徵法之規定，下列何者正確？  
(A)租稅救濟中案件實體之審理，以已符合程序規定者為前提，程序不合即無庸審理而逕自予以退回  
(B)財政部依稅捐稽徵法或稅法所發布之解釋函令，對於據以申請但尚未核課確定之案件均發生效力  
(C)稅捐稽徵法的實施範圍包含所有國稅及地方稅  
(D)租稅行政罰以故意或過失為責任條件，由法院判決處罰

- 14 有關財政收支劃分法之規定，下列何者正確？  
(A)國稅由中央政府徵收，稅收全歸中央政府；直轄市及縣（市）稅由直轄市及縣（市）徵收，稅收全歸直轄市及縣（市）政府  
(B)各級地方政府不得對入境貨物課入境稅或通過稅  
(C)各級政府及其所屬機關，依法為信託管理或受委託代辦時，不得收信託管理費  
(D)菸酒稅、地價稅及土地增值稅均為地方稅
- 15 張三於民國 110 年 7 月 10 日出售其於民國 109 年 3 月購買之房地，試問在一般情形下其出售時適用的房地交易所得稅率為何？  
(A) 10% (B) 20% (C) 35% (D) 45%
- 16 非公益信託之信託財產所發生之收入，扣繳義務人應於給付時，以何人為納稅義務人辦理扣繳？  
(A)免予扣繳 (B)信託行為之委託人 (C)信託行為之受託人 (D)信託行為之受益人
- 17 依營業稅法規定，營業人開立統一發票，應行記載事項未依規定記載或所載不實者，除通知限期改正或補辦外，並按統一發票所載銷售額，原則上處百分之多少罰鍰？  
(A)百分之一 (B)百分之二 (C)百分之三 (D)百分之五
- 18 信託關係存續中受益人死亡時，應就下列何項課徵遺產稅？  
(A)整個信託財產 (B)全部享有信託利益之權利  
(C)已領受之信託利益之權利 (D)未領受之信託利益之權利
- 19 李先生為我國國民，其於 110 年 5 月過世，遺留遺產淨額 6,000 萬元，試計算其應繳之遺產稅為多少？  
(A) 600 萬元 (B) 650 萬元 (C) 700 萬元 (D) 900 萬元
- 20 下列何土地適用的地價稅稅率最低？  
(A)工業用地  
(B)企業興建之勞工宿舍  
(C)依都市計畫法規定設置之供公眾使用之停車場用地  
(D)非自用住宅但仍作建築使用之公共設施保留地
- 21 產業創新條例第 12-1 條第 1 項規定，為促進創新研發成果之流通及應用，我國個人、公司或有限合夥事業在其讓與或授權自行研發所有之智慧財產權取得之收益範圍內，得就當年度研究發展支出金額百分之多少的限度內自當年度應課稅所得額中減除？但公司或有限合夥事業得就本項及第 10 條研究發展支出投資抵減擇一適用：  
(A)百分之五十 (B)百分之一百 (C)百分之二百 (D)百分之三百
- 22 以全部收入減除必要開支外，作為救災或勞軍用之各種娛樂可免徵娛樂稅。但准予減除之必要開支最高不得超過全部收入之多少始予以免徵？  
(A)百分之十 (B)百分之二十 (C)百分之二十五 (D)百分之三十
- 23 陳先生於 110 年 5 月 6 日辦理 109 年度綜合所得稅結算申報，試問依稅捐稽徵法之規定，其核課期間應自何時起算？  
(A) 110 年 5 月 1 日 (B) 110 年 5 月 6 日 (C) 110 年 5 月 7 日 (D) 110 年 6 月 1 日
- 24 「納稅者權利保護法」所稱維持基本生活所需之費用，係以最近一年全國每人可支配所得中位數的百分之多少定之？  
(A) 40% (B) 50% (C) 60% (D) 70%
- 25 下列不動產交易類別中，何類型之契稅稅率為契價的 6%？  
(A)買賣、典權、贈與 (B)買賣、贈與、占有 (C)買賣、交換、占有 (D)買賣、典權、分割

# 測驗式試題標準答案

考試名稱：110年公務人員高等考試三級考試暨普通考試

類科名稱：財稅行政

科目名稱：稅務法規（試題代號：8323）

更多高普考考試科目的歷屆題庫  
立即上網搜尋“高普考歷屆考古題懶人包”  
高鋒公職補習班整理  
Line@帳號：@gaofeng  
連絡電話：07-236-7296

單選題數：25題

單選每題配分：2.00分

複選題數：

複選每題配分：

標準答案：

題號	第1題	第2題	第3題	第4題	第5題	第6題	第7題	第8題	第9題	第10題
答案	D	C	A	B	A	B	C	A	B	B

題號	第11題	第12題	第13題	第14題	第15題	第16題	第17題	第18題	第19題	第20題
答案	C	C	A	B	D	C	A	D	B	B

題號	第21題	第22題	第23題	第24題	第25題	第26題	第27題	第28題	第29題	第30題
答案	C	B	B	C	B					

題號	第31題	第32題	第33題	第34題	第35題	第36題	第37題	第38題	第39題	第40題
答案										

題號	第41題	第42題	第43題	第44題	第45題	第46題	第47題	第48題	第49題	第50題
答案										

題號	第51題	第52題	第53題	第54題	第55題	第56題	第57題	第58題	第59題	第60題
答案										

題號	第61題	第62題	第63題	第64題	第65題	第66題	第67題	第68題	第69題	第70題
答案										

題號	第71題	第72題	第73題	第74題	第75題	第76題	第77題	第78題	第79題	第80題
答案										

題號	第81題	第82題	第83題	第84題	第85題	第86題	第87題	第88題	第89題	第90題
答案										

題號	第91題	第92題	第93題	第94題	第95題	第96題	第97題	第98題	第99題	第100題
答案										

備註：

代號：30560-30960  
31160  
32360  
32460  
32760  
33160-33360  
頁次：4-1

# 110年公務人員高等考試三級考試試題

類 科：僑務行政（選試英文）、僑務行政（選試法文）、僑務行政（選試德文）、  
僑務行政（選試日文）、僑務行政（選試西班牙文）、勞工行政、財稅行政、  
金融保險、統計、經建行政、公平交易管理、商業行政

科 目：經濟學

考試時間：2小時

※注意：可以使用電子計算器。

更多高普考考試科目的歷屆題庫  
立即上網搜尋“高普考歷屆考古題懶人包”  
高鋒公職補習班整理  
Line@帳號：@gaofeng  
連絡電話：07-236-7296

座號：\_\_\_\_\_

甲、申論題部分：（50分）

- (一)不必抄題，作答時請將試題題號及答案依照順序寫在申論試卷上，於本試題上作答者，不予計分。
- (二)請以藍、黑色鋼筆或原子筆在申論試卷上作答。
- (三)本科目除專門名詞或數理公式外，應使用本國文字作答。

一、請評斷下列敘述為「真確」或「錯誤」，並對於你所做的評斷加以解釋說明。你提供的解釋說明將是評分的主要依據。

- (一)有一個消費者將其所得全部支用在牛肉與雞肉上，此消費者由牛肉所獲得的邊際效用  $MU_B = 6$ ，而牛肉的單位價格是  $P_B = \$400$ ；由雞肉所獲得的邊際效用  $MU_C = 4$ ，而雞肉的單位價格是  $P_C = \$200$ 。根據這些資訊可知，此消費者在牛肉與雞肉的消費組合已經達到效用極大化的目標。（5分）
- (二)如果是處在物價上漲的期間，則在基期年度之前的各年之名目 GDP（nominal GDP）會小於實質 GDP（real GDP），而在基期年度之後的各年之名目 GDP 會大於實質 GDP。（5分）
- (三)某經濟體的實質 GDP（real GDP）為\$17.1億元，潛在 GDP（potential GDP）為\$17.4億元，政府購買支出乘數（government expenditure multiplier）為2，而稅收乘數（tax multiplier）為-1.5。在其他條件不變的情況下，政府可以透過增加\$0.15億元的政府購買支出，或是減少\$0.2億元的稅收來達到\$17.4億元潛在 GDP 的目標。（10分）
- (四)根據總合需求-總合供給（AD-AS）模型，總合需求的上升對於價格與實質 GDP 的影響，在短期與長期的影響結果皆一樣，即價格與實質 GDP 皆會上升。（10分）

二、某廠商以追求最大利潤為生產目標，其生產活動需要投入兩種常見的生  
產要素，勞動 (labor) 與資本 (capital)，兩種生產要素對應的價格分別  
以  $w$  與  $r$  來表示。此廠商原先面對的生產要素價格分別為  $w_1 = \$300$  與  
 $r_1 = \$200$ ，現在因為物價上漲使得生產要素價格分別變動為  $w_2 = \$400$  與  
 $r_2 = \$300$ ，請根據上述資訊回答下列問題。

(一)此廠商因應生產要素價格的變動，在勞動與資本這兩種生產要素的投  
入上，將會如何調整？請分別就替代效果 (substitution effect) 與產量  
效果 (scale effect) 加以分析說明。(12 分)

(二)根據(一)的分析結果，請問是否可以明確的推論出此廠商對於勞動生產  
要素的投入會增加或減少？對於資本生產要素的投入會增加或減  
少？(8 分)

乙、測驗題部分：(50 分)

代號：6305

(一)本測驗試題為單一選擇題，請選出一個正確或最適當的答案，複選作答者，該題不予計分。  
(二)共 25 題，每題 2 分，須用 2B 鉛筆在試卡上依題號清楚劃記，於本試題或申論試卷上作答者，不予計分。

- 1 如果一個人以自己的房子經營公司，沒有計算房租和自己的薪水，扣除所有會計帳面的外顯成本之後，有 3 萬元的會計利潤；但是這個人如果不經營自己的公司，而受雇於他人，可以賺取 2 萬元的薪水，房子出租也可以獲取 2 萬元的租金。這個人經營公司的經濟利潤為多少？  
(A)賺 1 萬元 (B)賺 2 萬元 (C)賠 1 萬元 (D)賠 2 萬元
- 2 本月芒果的均衡價格比上個月低，與上個月相比，下列敘述何者正確？  
(A)本月芒果的交易量一定上升  
(B)本月芒果的交易量一定下降  
(C)本月供給增加的幅度超過需求增加的幅度  
(D)本月需求增加的幅度超過供給增加的幅度
- 3 關於下列預算限制線敘述，下列敘述何者錯誤？  
(A)預算線斜率為 X 軸財貨與 Y 軸財貨的相對價格  
(B)預算線斜率又可解釋為消費 X 軸財貨的機會成本  
(C)給定其他條件不變之下，若 X 軸財貨價格變貴，預算線斜率絕對值變大  
(D)給定其他條件不變之下，若所得減少，預算線斜率絕對值變小
- 4 政府為了讓大多數人有房可住，實施房租管制政策，下列敘述何者正確？  
(A)此一政策應為價格下限政策 (B)租屋市場會有超額供給現象產生  
(C)租屋市場會有超額需求現象產生 (D)消費者與生產者福利皆會增加
- 5 關於各種市場結構之利潤極大化敘述，下列何者錯誤？  
(A)相較於獨占市場，完全競爭市場的產量較多、價格較低  
(B)完全競爭廠商在  $MR = MC$  下生產，獨占廠商則在  $MR > MC$  下生產  
(C)在完全競爭市場，價格等於邊際成本；在單一定價的獨占市場，價格大於邊際成本  
(D)獨占市場的消費者剩餘小於完全競爭市場的消費者剩餘

- 6 假設 A 公司雇用 2 位員工的總成本為 100 元，雇用 3 位員工的總成本為 120 元。若 A 公司的每位員工的變動成本與所雇用的員工數無關，則 A 公司的固定成本為何？  
(A) 40 元 (B) 60 元 (C) 80 元 (D) 100 元
- 7 當獨占性競爭廠商的產品差異化程度上升時，則下列敘述何者正確？  
(A) 廠商生產成本降低 (B) 需求曲線變得較平坦  
(C) 消費者對廠商的產品需求較無彈性 (D) 廠商無法賺取經濟利潤
- 8 在完全競爭市場中，短期內當市場價格低於下列何種曲線的最低點時，完全競爭廠商會選擇歇業？  
(A) 平均固定成本曲線 (B) 平均總成本曲線  
(C) 邊際成本曲線 (D) 平均變動成本曲線
- 9 A 國勞動市場的均衡工資為每小時 200 元，現在 A 國政府設定最低工資從 300 元調降到 250 元，最低工資調降後：  
(A) 勞動供給量增加 (B) 勞動供給量不變  
(C) 勞動供給量大於勞動需求量 (D) 勞動供給量小於勞動需求量
- 10 下列關於道德風險 (moral hazard) 的敘述，何者錯誤？  
(A) 參與合同的買賣雙方，若有一方面臨對方可能改變行為而受到損傷的風險，稱為道德風險  
(B) 若簽約的一方不完全承擔風險後果，而選擇採取對其自身效用最大的行為時，便可能發生道德風險  
(C) 社會環境、制度、教育等因素決定著一經濟體系道德風險之多寡  
(D) 透過市場經濟的運作，可以完全避免道德風險的發生
- 11 以社會的平均風險所計算的保險費率，會吸引較多高風險的人。此現象稱為：  
(A) 道德風險 (B) 反向選擇 (C) 風險趨避 (D) 風險貼水
- 12 假設經濟體系中有兩位消費者 (甲和乙)，兩種財貨 (X 和 Y)。甲的初始稟賦為 (X = 30, Y = 20)，而乙的初始稟賦為 (X = 20, Y = 30)。甲的效用函數為  $U(X, Y) = XY$ ，而乙的效用函數則為  $U(X, Y) = X + Y$ 。在下列選項中，甲最多願意用幾單位的 X 財貨去換取乙 5 單位的 Y 財貨？  
(A) 2 (B) 4 (C) 6 (D) 8
- 13 某人消費某財貨後，其他人消費同一財貨的效用不會因此減損，稱為：  
(A) 消費不可排他性 (B) 消費非敵對性 (C) 消費排他性 (D) 消費敵對性
- 14 A 國在 2017 年 (基期) 購買籃子的成本為 \$60，在 2018 年購買籃子的成本為 \$75，在 2019 年購買籃子的成本為 \$80。則 A 國 2019 年的消費者物價指數 (consumer price index) 約為：  
(A) 115 (B) 125 (C) 133 (D) 140
- 15 下列何者為失業人口？  
(A) 暫時被解雇且正在找工作的小黃 (B) 暑假期間在超市打工的大二學生  
(C) 全職在家照顧生病祖父的小丁 (D) 不想找工作且無業的小楊
- 16 在其他條件不變下，下列何者會使可貸資金供給的增加導致較小的均衡投資數量的增加？  
(A) 可貸資金的需求較有彈性，但可貸資金的供給較無彈性  
(B) 可貸資金的需求較無彈性，但可貸資金的供給較有彈性  
(C) 可貸資金的需求較有彈性，且可貸資金的供給較有彈性  
(D) 可貸資金的需求較無彈性，且可貸資金的供給較無彈性

- 17 原物料價格上漲會造成：
- (A)長期供給曲線向左移動，實質 GDP 下降，潛在 GDP 上升  
(B)短期總供給曲線向左移動，價格水平上升，潛在 GDP 下降  
(C)短期總供給曲線向左移動，價格水平上升並降低實質 GDP，使之低於潛在 GDP  
(D)短期總供給曲線向右移動，價格水平上升並降低實質 GDP，使之低於潛在 GDP
- 18 在某產品的生產過程中，廠長發現每多用一位員工，增產的幅度皆較前一位聘僱員工帶來的增產幅度大，因此在此生產階段廠商的：
- (A)邊際成本遞增 (B)邊際成本遞減  
(C)邊際成本固定 (D)無法判斷邊際成本遞增或遞減
- 19 假設電動汽車需求的價格彈性為 2，供給的價格彈性為 0.9，如果政府針對每部電動汽車的購買，補貼消費者 5 萬元，相對於沒有補貼的情況，補貼後，下列敘述何者正確？
- (A)消費者剩餘增加的幅度超過生產者剩餘增加的幅度  
(B)消費者剩餘增加的幅度小於生產者剩餘增加的幅度  
(C)生產者剩餘不變  
(D)社會福利不變
- 更多高普考考試科目的歷屆題庫  
立即上網搜尋“高普考歷屆考古題懶人包”  
高鋒公職補習班整理  
Line@帳號：@gaofeng  
連絡電話：07-236-7296
- 20 在「李嘉圖恆等」理論下，若政府因為財政赤字而採用減稅措施，則對於本期的消費與儲蓄有什麼影響？
- (A)消費增加、儲蓄減少 (B)消費增加、儲蓄增加  
(C)消費不變、儲蓄不變 (D)消費減少、儲蓄增加
- 21 甲國的生產函數、儲蓄率、人口成長率、資本折舊率都與乙國相同。此外，假設兩國沒有技術進步，且甲國每人平均資本量小於乙國。根據梭羅（Solow）模型，下列敘述何者正確？
- (A)甲國目前的每人平均產出大於乙國 (B)甲國目前的每人平均產出小於乙國  
(C)長期時，甲國的每人平均產出大於乙國 (D)長期時，甲國的每人平均產出小於乙國
- 22 假定此經濟體中，民眾只能活兩期，而他第一期和第二期的所得分別為 486 元和 264 元。他在這兩期皆要消費，且因為消費所得到的滿足為  $U=C_1^{0.5}C_2^{0.5}$ ，假定市場的利率為 10%，則民眾第一期的儲蓄為多少？
- (A) 113 元 (B) 123 元 (C) 133 元 (D) 143 元
- 23 下列何者會降低人們的現金需求？
- (A)汽油價格上漲 (B)通膨率預期降低  
(C)股市上漲 (D)銀行降低用金融卡跨行提款費用
- 24 令橫軸變數為實質 GDP，縱軸變數為利率。就 IS-LM 模型而言，當一國產業的資本密集度愈高時：
- (A) IS 線會愈平坦，且貨幣政策愈有效 (B) IS 線會愈平坦，且貨幣政策愈無效  
(C) LM 線會愈平坦，且財政政策愈有效 (D) LM 線會愈平坦，且財政政策愈無效
- 25 假設我國政府的貨幣政策為維持高貨幣成長，則在本國經濟體適用菲利浦曲線（Phillips Curve）時，下列何者正確？
- (A)失業率較高，通貨膨脹率較高 (B)失業率較高，通貨膨脹率較低  
(C)失業率較低，通貨膨脹率較高 (D)失業率較低，通貨膨脹率較低

# 測驗式試題標準答案

考試名稱：110年公務人員高等考試三級考試暨普通考試

類科名稱：公平交易管理、統計、經建行政、僑務行政(選試西班牙文)、勞工行政、財稅行政、金融保險、商業行政、  
僑務行政(選試法文)、僑務行政(選試德文)、僑務行政(選試日文)、僑務行政(選試英文)

科目名稱：經濟學(試題代號：6305)

單選題數：25題

單選每題配分：2.00分

複選題數：

複選每題配分：

標準答案：

更多高普考考試科目的歷屆題庫  
立即上網搜尋“高普考歷屆考古題懶人包”  
高鋒公職補習班整理  
Line@帳號：@gaofeng  
連絡電話：07-236-7296

題號	第1題	第2題	第3題	第4題	第5題	第6題	第7題	第8題	第9題	第10題
答案	C	C	D	C	B	B	C	D	C	D

題號	第11題	第12題	第13題	第14題	第15題	第16題	第17題	第18題	第19題	第20題
答案	B	C	B	C	A	B	C	B	B	C

題號	第21題	第22題	第23題	第24題	第25題	第26題	第27題	第28題	第29題	第30題
答案	B	B	D	A	C					

題號	第31題	第32題	第33題	第34題	第35題	第36題	第37題	第38題	第39題	第40題
答案										

題號	第41題	第42題	第43題	第44題	第45題	第46題	第47題	第48題	第49題	第50題
答案										

題號	第51題	第52題	第53題	第54題	第55題	第56題	第57題	第58題	第59題	第60題
答案										

題號	第61題	第62題	第63題	第64題	第65題	第66題	第67題	第68題	第69題	第70題
答案										

題號	第71題	第72題	第73題	第74題	第75題	第76題	第77題	第78題	第79題	第80題
答案										

題號	第81題	第82題	第83題	第84題	第85題	第86題	第87題	第88題	第89題	第90題
答案										

題號	第91題	第92題	第93題	第94題	第95題	第96題	第97題	第98題	第99題	第100題
答案										

備註：



# 110年公務人員高等考試三級考試試題

代號：32370  
32470  
頁次：6-1

類 科：財稅行政、金融保險

科 目：會計學

考試時間：2小時

※注意：可以使用電子計算器。

甲、申論題部分：(50分)

- (一)不必抄題，作答時請將試題題號及答案依照順序寫在申論試卷上，於本試題上作答者，不予計分。
- (二)請以藍、黑色鋼筆或原子筆在申論試卷上作答。
- (三)本科目除專門名詞或數理公式外，應使用本國文字作答。

更多高普考考試科目的歷屆題庫  
立即上網搜尋“高普考歷屆考古題懶人包”  
高鋒公職補習班整理  
Line@帳號：@gaofeng  
連絡電話：07-236-7296

座號：\_\_\_\_\_

一、(以下試題皆假設公司之會計年度為曆年制；必須詳列計算過程否則不予計分)

台北公司為空調設備製造商，於 X1 年 1 月 2 日與墾丁公司簽訂合約，當日以 \$200,000 現金銷售一台空調設備，其成本為 \$160,000。試求下列各獨立情況下，台北公司 X1 年度應認列之(一)費損，及(二)收益之金額各為何？(若情況適用時，台北公司 X1 年 1 月 2 日估計該空調設備耐用年限為 8 年，採直線法提列折舊，無殘值。)

(每小題 10 分，共 30 分)

(情況一)該合約包括賦予台北公司有權以 \$210,000 於 X1 年 12 月 31 日以前再買回該設備之買權。台北公司未於 X1 年 12 月 31 日以前再買回該設備。

(情況二)該合約包括賦予台北公司有權以 \$190,000 於 X1 年 12 月 31 日以前再買回該設備之買權。台北公司未於 X1 年 12 月 31 日行使該買權。

(情況三)該合約包括使台北公司有義務應墾丁公司要求於 X1 年 12 月 31 日以前以 \$190,000 再買回該設備之賣權。簽訂合約時台北公司對該設備於 X1 年 12 月 31 日市場價值之預期為 \$150,000。

二、雲林公司係農藥產製廠商，X1 年 1 月 2 日工廠正式啟用，因其中生產用之某一化學原料係屬管制品，法令規定其原耐用年限 15 年之儲存設備之使用期限不得超過 10 年，屆滿時須拆除清理後再另建造新儲存設備，且須聘請具備專業資格之環保工程公司處理。該儲存設備本身成本為\$60,000,000，雲林公司依具專業資格之環保工程公司之報價資料概估該設備除役時將發生之處理成本\$1,200,000，並以風險調整後年利率 4%折現。假設雲林公司認列該儲存設備後之衡量採成本模式，採直線法計提折舊，無殘值，並假設後續無減損發生。試求下列二獨立情況下，雲林公司 X4 年度之折舊費用各為多少？（現值因子請自行計算四捨五入後至小數點後第四位）

（每小題 10 分，共 20 分）

（情況一）X4 年 1 月 1 日法令強制規定該儲存設備未來汰換時應採用新技術，雲林公司依具專業資格之環保工程公司之報價資料概估該設備除役時將發生之處理成本將增加為\$1,320,000，折現率未變動。

（情況二）X4 年 1 月 1 日估計之風險調整後年利率增加為 5%，其餘條件不變。

乙、測驗題部分：（50 分）

代號：7323

（一）本測驗試題為單一選擇題，請選出一個正確或最適當的答案，複選作答者，該題不予計分。

（二）共 25 題，每題 2 分，須用 2B 鉛筆在試卡上依題號清楚劃記，於本試題或申論試卷上作答者，不予計分。

- 1 甲公司於 X1 年初移轉一建築物之控制將其以\$400,000 出售，當時該建築物之帳面金額為\$300,000，公允價值為\$500,000，甲公司同時即簽訂 5 年期租約租回該建築物。租約約定自 X1 年底起每年年底支付租金\$30,000，甲公司確定租賃隱含利率為 5%。甲公司對此售後租回交易應認列之建築物移轉利益為（答案四捨五入至元）：  
(A)\$51,954 (B)\$64,942 (C)\$91,954 (D)\$108,046
- 2 承上題，甲公司對此售後租回交易於 X1 年初應認列之使用權資產帳面金額為（答案四捨五入至元）：  
(A)\$97,413 (B)\$129,884 (C)\$137,931 (D)\$229,884
- 3 下列有關債務工具投資減損之敘述，何者正確？①企業於判定金融工具是否為信用風險低時，必須使用外部評等資訊 ②企業若判定金融工具於報導日之信用風險低，得假設該金融工具自原始認列後信用風險並未顯著增加，而以 12 個月預期信用損失來衡量備抵損失 ③若某項金融工具於前一報導期間被視為信用風險低，但於報導日未被視為信用風險低，此時必須認列該金融工具之存續期間預期信用損失 ④衡量預期信用損失時不須考量該債務工具之擔保品及其他信用增強之影響  
(A)僅② (B)僅②③ (C)僅①② (D)①②③④均正確

- 4 企業以權益交割之股份基礎給付換取商品或勞務時，應以所收取商品或勞務之公允價值入帳，但若該交易之對象為員工時，應以權益工具於下列何一日期之公允價值衡量自員工所取得勞務？  
(A)服務日 (B)給與日 (C)既得日 (D)執行日
- 5 甲公司實施確定福利退休金計畫，X1 年初確定福利義務現值為\$800,000，計畫資產公允價值為\$500,000。X1 年當期服務成本為\$120,000，精算損失\$50,000，折現率 8%，計畫資產實際報酬\$60,000。X1 年底，甲公司因修改退休金計畫而產生前期服務成本\$80,000。甲公司 X1 年應認列退休金費用為多少？  
(A)\$204,000 (B)\$224,000 (C)\$264,000 (D)\$274,000
- 6 認列於財務報表之要素係以貨幣形式量化，因此需要選擇衡量基礎。如果資產負債表中某項負債依規定應採用現時成本衡量，則該負債應就下列何者衡量？  
(A)約當負債於衡量日將收取之對價  
(B)約當負債於衡量日將收取之對價加上於該日將發生之交易成本  
(C)約當負債於衡量日將收取之對價減去於該日將發生之交易成本  
(D)預期隨個體履行負債有義務移轉之現金或其他經濟資源之現值
- 7 下列有關財務報導觀念架構之敘述，何者正確？①適用認列條件及衡量觀念時所用之科目單位應相同 ②審慎性和中立描述相違背，所以觀念架構未將審慎性納入 ③當企業收購另一家公司之某產業部門時，該產業部門可能構成一報導個體 ④折現值係衡量基礎的一種  
(A)僅③ (B)僅②③ (C)僅①② (D)①②③④ 均正確
- 8 X1 年初甲公司銷貨予丙公司，產生一應收分期帳款，丙公司除頭期款\$40,000 外，X1 年至 X4 年每年年底需支付\$40,000，有效利率相當於 10%。X1 年底，甲公司 X1 年對該應收款認列之預期信用減損損失共計\$14,677。X2 年底丙公司發生信用減損僅支付\$34,000，甲公司估計 X3 與 X4 年度分別僅可收取\$32,000 及\$32,000，試問甲公司 X2 年對該應收款應認列於本期淨利之預期信用減損損失金額為？（答案四捨五入至元）  
(A)(\$1,404) (B)\$5,207 (C)\$22,000 (D)\$36,667
- 9 甲公司於 20X0 年度創立，員工每年有 20 天之帶薪休假，未休完之剩餘休假天數得以遞延使用 3 年。每年休假時將優先使用當年度之休假天數，不足時再依序扣抵前 1 年度所遞延之剩餘休假天數，未休完之剩餘休假將不會有現金補償。於 20X0 年 12 月 31 日，甲公司有 100 名員工，平均尚未休完之剩餘年假為 7 天。甲公司之管理階層預期此 7 天休假中，20X1 年至 20X3 年員工將依序使用 3 天、2 天及 1 天之遞延休假，並放棄 1 天之遞延休假。此外，甲公司預期 2 名員工將於 20X1 年離職（預估每位離職員工於 20X1 年度會使用 23 天休假），其餘年度無人離職。下列敘述何者正確？  
(A)甲公司於 20X0 年 12 月 31 日應認列 594 天之其他長期員工福利負債，並全數分類為流動負債  
(B)甲公司於 20X0 年 12 月 31 日應認列 594 天之其他長期員工福利負債，並全數分類為非流動負債  
(C)甲公司於 20X0 年 12 月 31 日應認列 594 天之其他長期員工福利負債，並依預期使用年度是否在一年內，分類為流動負債（預期使用在一年內）及非流動負債（預期使用在一年以上）  
(D)甲公司於 20X0 年 12 月 31 日應認列 600 天之其他長期員工福利負債，其中 300 天分類為流動負債，其餘 300 天分類為非流動負債

- 10 甲公司於 X4 年 7 月 1 日將原始成本\$400,000（交換當日資產公允價值為\$140,000）之設備作價\$150,000 與乙公司公允價值\$160,000 之設備進行交換，並支付現金\$10,000。甲公司換出之設備係於 X2 年 1 月 1 日購入，估計耐用年限 5 年，殘值為\$25,000，採雙倍數餘額遞減法提列折舊。另甲公司對換入之設備採年數合計法計提折舊，估計耐用年限 4 年，殘值為\$25,000。如上述交易應為不具商業實質，而甲公司誤判為具商業實質入帳，試分析上述事件將造成甲公司 X4 年度損益高（低）估多少？  
(A)高估\$19,840 (B)高估\$22,800 (C)高估\$24,800 (D)高估\$34,800
- 11 下列關於取得客戶合約之增額成本敘述，何者錯誤？  
(A)取得合約之增額成本係企業為取得客戶合約所發生且若未取得該合約則不會發生之成本  
(B)企業若預期可回收其取得客戶合約之增額成本，企業應將該等成本認列為資產  
(C)取得客戶合約之增額成本所認列之資產須攤銷並評估減損  
(D)作為一實務權宜作法，對於取得合約之增額成本認列之資產，企業可將取得合約之增額成本於發生時認列為費用
- 12 乙公司是一家經營餐廳的營利事業，因為看好房地產景氣，在房地合一稅制實施後買入土地並分類為投資性不動產，後續衡量採用公允價值模式，若該土地有公允價值變動之增值利益，下列敘述何者正確？  
(A)所得稅費用增加、保留盈餘增加  
(B)本期其他綜合淨利增加、其他權益增加  
(C)遞延所得稅負債增加、保留盈餘減少  
(D)本期所得稅負債增加、本期綜合淨利增加
- 13 乙公司於 X1 年 12 月 30 日將收到的承銷品列為進貨，並記入期末存貨，將使本期財務報表：  
(A)淨利低估，流動資產高估 (B)淨利低估，流動負債高估  
(C)流動資產高估，流動負債高估 (D)不受影響
- 14 丙公司於 X2 年 1 月 1 日發行面額\$100,000、利率 11%、每年底付息一次、10 年期公司債。丙公司 X5 年 1 月 1 日應付公司債未攤銷折價的餘額為\$4,564，X5 年 12 月 31 日資產負債表顯示應付公司債帳面金額為\$95,888。請問該公司債之有效利率為何？（答案四捨五入至小數點後二位）  
(A) 13% (B) 15% (C) 10% (D) 12%
- 15 某資訊顧問公司，於 X1 年初接獲客戶 2 年期之資訊安全專案服務，合約包價為 1,000 萬元，估計總完工成本為 600 萬元，至 X1 年底已投入成本 300 萬元。請問該資訊顧問公司對此專案服務於 X1 年可能認列收入若干元？  
甲、\$0 乙、300 萬元 丙、500 萬元  
(A)僅丙正確 (B)僅乙、丙可能正確  
(C)僅甲、乙可能正確 (D)甲、乙、丙均可能正確
- 16 甲公司為製造工業用材料的化學公司，因不慎排放廢水污染到工廠附近的下水道，引起當地居民的抗議並提起訴訟要求賠償。由於已經被環保單位認定為有潛在責任的一方，甲公司的管理當局與法律顧問評估此案件很有可能要賠償相關損害。經法律顧問的評估，訴訟判決損害賠償的金額可能介於\$2,000,000 至\$5,000,000 間，再根據過去的判決案例，法律顧問認為最有可能的賠償金額為\$4,000,000。請問甲公司除附註揭露該事項及可能損失外，應在資產負債表中認列之負債準備為何？  
(A)\$2,000,000 (B)\$3,500,000 (C)\$4,000,000 (D)\$5,000,000

- 17 甲公司 X1 年 12 月 31 日流通在外普通股股數 750,000 股。於 X2 年 7 月 1 日現金增資發行 450,000 股(無紅利因子)。甲公司於 X2 年初亦有股票選擇權流通在外，持有人得以每股\$25 購買 300,000 股普通股，此股票選擇權於 X2 年底並未被執行。假設甲公司 X2 年全年普通股平均市價為 \$32，試問甲公司於計算 X2 年稀釋每股盈餘所使用之加權平均流通在外股數為：
- (A) 975,000 (B) 1,040,625 (C) 1,209,375 (D) 1,275,000
- 18 下列有關於投資性不動產之會計處理，何者錯誤？
- (A)投資性不動產購入時，應以成本衡量  
(B)目前尚未確定將來用途的土地，屬於投資性不動產  
(C)投資性不動產認列後選用公允價值模式衡量，不得改為成本模式  
(D)企業將不動產出租給母公司或其他子公司，在編製合併報表時，該不動產應列為投資性不動產
- 19 乙公司 X3 年期初現金餘額與期末現金餘額分別為\$175,000 與\$205,000，X3 年度投資活動現金淨流入\$300,000，籌資活動現金淨流出\$420,000，折舊費用\$37,000，出售設備利益\$5,000，應收帳款減少數\$48,000，存貨增加數\$12,000，應付帳款增加數\$30,000，應付所得稅減少數\$7,000，支付所得稅\$85,000。若乙公司將所得稅歸類於營業活動，請問乙公司 X3 年度本期淨利為何？
- (A)\$85,000 (B)\$137,000 (C)\$59,000 (D)\$104,000
- 20 甲公司成立於 X1 年年初，核准發行面額\$10 之普通股 800,000 股。X1 年 12 月 31 日的資產負債表顯示，普通股股本為\$4,000,000、普通股發行溢價為\$2,400,000 與保留盈餘為\$800,000。X2 年 9 月 1 日，甲公司以每股\$15 收回庫藏股票 30,000 股，後續兩次出售該批庫藏股票分別於 X2 年 11 月 1 日以每股\$10 出售 12,000 股與 X2 年 12 月 1 日以每股\$17 出售 6,000 股。X2 年 12 月 31 日的資產負債表顯示保留盈餘為\$1,250,250。若甲公司保留盈餘之變動除前述交易之可能影響外均來自淨利，請問 X1 年度與 X2 年度甲公司的每股盈餘為何？(答案四捨五入至小數點後一位)
- (A)\$1 與\$1.5 (B)\$2 與\$1.3 (C)\$1 與\$1.3 (D)\$2 與\$1.5
- 21 乙公司 X4 年度銷貨總額為\$2,000,000，其中 70%為現金銷貨。乙公司 X4 年 12 月 31 日調整前應收帳款之總帳面金額為\$480,000，備抵損失為貸餘\$20,000。X4 年 12 月 31 日應收帳款的帳齡分析如下：

帳 齡	金 額	估計可收回之比率
15 天以內	\$260,000	0.96
16~30 天	80,000	0.92
31~45 天	65,000	0.88
46~60 天	?	0.78
61~90 天	22,000	0.52
超過 90 天	20,000	0.00
	\$480,000	

乙公司 X4 年 12 月 31 日應收帳款之攤銷後成本金額為何？

- (A)\$417,580 (B)\$437,580 (C)\$460,000 (D)\$480,000

- 22 甲公司有 X、Y、Z 三個現金產生單位，並有一總部大樓為 X、Y、Z 三個現金產生單位之共用資產，相關資料如下：

	X	Y	Z	總部大樓
帳面金額	\$2,000,000	\$5,000,000	\$10,000,000	\$5,000,000
耐用年限	5 年	12 年	25 年	25 年
可回收金額	\$2,000,000	\$6,000,000	\$12,000,000	—

甲公司將 X、Y、Z 三個現金產生單位的帳面金額，依耐用年限加權後之相對比例作為分攤總部大樓帳面金額之合理基礎，試問總部大樓應分攤減損損失金額是多少？（答案四捨五入至元）

- (A)\$149,456 (B)\$352,099 (C)\$455,567 (D)\$546,786
- 23 甲公司於 X1 年初以每股\$120 的價格發行不可轉換、不可贖回的累積、參加特別股 20,000 股，每股面額\$100。特別股發行章程規定每年支付 2%股利；而若普通股股東每股獲分配\$5 之股利後尚有剩餘之待分配股利，該剩餘部分由普通股與特別股股東依照 2：1 之比例分配。已知甲公司 X1 年度稅後淨利為\$800,000，普通股全年流通在外股數為 100,000 股，請問該公司 X1 年度普通股基本每股盈餘為多少？
- (A)\$6.68 (B)\$6.73 (C)\$7.52 (D)\$7.56
- 24 甲公司於 X1 年 1 月 1 日買入面額\$100,000，X5 年 12 月 31 日到期的公司債，票面利率 4%，每年 12 月 31 日付息，有效利率 5%，甲公司將此債務工具分類為按攤銷後成本衡量之金融資產，該債務工具非信用減損之金融資產。X1 年 12 月 31 日收到利息\$4,000，經判斷自原始認列後該債務工具之信用風險已顯著增加，當日存續期間預期信用損失金額為\$9,000，12 個月預期信用損失金額為\$3,000。若甲公司原始認列時將此債務工具分類為透過其他綜合損益按公允價值衡量之金融資產，且 X1 年 12 月 31 日的市場利率為 4%，則二種會計處理對 X1 年底權益影響之差異為何？（不考慮所得稅之影響，四捨五入取至元）
- (A)\$0 (B)\$3,545 (C)\$9,000 (D)\$12,545
- 25 甲公司於 X1 年 12 月 31 日持有透過損益按公允價值衡量債券投資，該債券面額\$800,000，票面利率 4%，其評價調整為利益\$43,338，故帳面金額為\$843,338。每年 6 月 30 日及 12 月 31 日各付息一次。X1 年 12 月 31 日甲公司決定改變其債券投資的經營模式。X2 年 1 月 1 日該債券的公允價值為\$843,338（當日有效利率為 3%），預期信用備抵損失為\$6,400。X2 年 12 月 31 日，該債券的公允價值為\$838,000，當日該債券並未達減損的地步，預期信用備抵損失估計金額為\$7,000。試問，下列敘述何者正確？
- (A)若甲公司將經營模式變更為只收取利息本金為目的，相較於變更為同時收取利息本金及出售為目的，重分類分錄對權益之影響相同
- (B)若甲公司將經營模式變更為同時收取利息本金及出售為目的，相較於變更為只收取利息本金為目的，X2 年度淨利相對較高\$1,412
- (C)若甲公司將經營模式變更為同時收取利息本金及出售為目的，相較於未變更下，X2 年底權益將減少\$7,000
- (D)若甲公司將經營模式變更為只收取利息本金為目的，相較於未變更下，X2 年底權益將減少\$8,412

# 測驗式試題標準答案

考試名稱：110年公務人員高等考試三級考試暨普通考試

類科名稱：財稅行政、金融保險

科目名稱：會計學（試題代號：7323）

單選題數：25題

單選每題配分：2.00分

複選題數：

複選每題配分：

標準答案：

更多高普考試科目的歷屆題庫  
立即上網搜尋“高普考歷屆考古題懶人包”  
高鋒公職補習班整理  
Line@帳號：@gaofeng  
連絡電話：07-236-7296

題號	第1題	第2題	第3題	第4題	第5題	第6題	第7題	第8題	第9題	第10題
答案	D	C	A	B	B	C	A	B	A	A

題號	第11題	第12題	第13題	第14題	第15題	第16題	第17題	第18題	第19題	第20題
答案	D	A	C	D	D	C	B	D	C	B

題號	第21題	第22題	第23題	第24題	第25題	第26題	第27題	第28題	第29題	第30題
答案	A	D	A	D	D					

題號	第31題	第32題	第33題	第34題	第35題	第36題	第37題	第38題	第39題	第40題
答案										

題號	第41題	第42題	第43題	第44題	第45題	第46題	第47題	第48題	第49題	第50題
答案										

題號	第51題	第52題	第53題	第54題	第55題	第56題	第57題	第58題	第59題	第60題
答案										

題號	第61題	第62題	第63題	第64題	第65題	第66題	第67題	第68題	第69題	第70題
答案										

題號	第71題	第72題	第73題	第74題	第75題	第76題	第77題	第78題	第79題	第80題
答案										

題號	第81題	第82題	第83題	第84題	第85題	第86題	第87題	第88題	第89題	第90題
答案										

題號	第91題	第92題	第93題	第94題	第95題	第96題	第97題	第98題	第99題	第100題
答案										

備註：

# 測驗題標準答案更正

考試名稱：110年公務人員高等考試三級考試暨普通考試

類科名稱：財稅行政、金融保險

科目名稱：會計學

更多高普考考試科目的歷屆題庫  
立即上網搜尋“高普考歷屆考古題懶人包”  
高鋒公職補習班整理  
Line@帳號：@gaofeng  
連絡電話：07-236-7296

單選題數：25題

單選每題配分：2.00分

複選題數：

複選每題配分：

標準答案：答案標註#者，表該題有更正答案，其更正內容詳見備註。

題號	第1題	第2題	第3題	第4題	第5題	第6題	第7題	第8題	第9題	第10題
答案	D	C	A	B	B	C	A	B	A	A

題號	第11題	第12題	第13題	第14題	第15題	第16題	第17題	第18題	第19題	第20題
答案	D	A	C	D	D	C	B	D	C	B

題號	第21題	第22題	第23題	第24題	第25題	第26題	第27題	第28題	第29題	第30題
答案	A	D	#	D	D					

題號	第31題	第32題	第33題	第34題	第35題	第36題	第37題	第38題	第39題	第40題
答案										

題號	第41題	第42題	第43題	第44題	第45題	第46題	第47題	第48題	第49題	第50題
答案										

題號	第51題	第52題	第53題	第54題	第55題	第56題	第57題	第58題	第59題	第60題
答案										

題號	第61題	第62題	第63題	第64題	第65題	第66題	第67題	第68題	第69題	第70題
答案										

題號	第71題	第72題	第73題	第74題	第75題	第76題	第77題	第78題	第79題	第80題
答案										

題號	第81題	第82題	第83題	第84題	第85題	第86題	第87題	第88題	第89題	第90題
答案										

題號	第91題	第92題	第93題	第94題	第95題	第96題	第97題	第98題	第99題	第100題
答案										

備註：第23題答B給分。