

代號：30110
|
39410
頁次：3-1

109年公務人員高等考試三級考試試題

類 科：各類科（除公職護理師、公職食品技師、公職醫事檢驗師、公職藥師外）
科 目：國文（作文、公文與測驗）
考試時間：2小時

※注意：禁止使用電子計算器。

甲、作文與公文部分：

- (一)請以藍、黑色鋼筆或原子筆在申論試卷上由左至右橫式作答，於本試題上作答者，不予計分。
- (二)不得於試卷上書寫姓名或座號。

更多高普考考試科目的歷屆題庫
立即上網搜尋“高普考歷屆考古題懶人包”
高鋒公職補習班整理
Line@帳號：@gaofeng
連絡電話：07-236-7296

座號：_____

一、作文：（60分）

現代社會裡極著重量化，不僅科學數理研究要求量化，就連社會、人文議題，也常要求提出精準統計的數據，好像這樣就更具說服力。然而美國社會學者威廉卡麥隆說：「並非所有能計算的事物都能算數（很重要），也不是所有重要的事物都能加以計算。」你同意這樣的觀點嗎？請以「人生裡的重要事物」為題，作文一篇，對上述卡麥隆說法加以討論分析，並舉出個人實例加以說明。

二、公文：（20分）

- (一)依國民體育法（下稱本法）第24條訂定之運動禁藥管制辦法第3條第1項規定，教育部應輔導中華奧林匹克委員會（下稱中華奧會）辦理本法第28條第1項第3款運動禁藥管制事宜。
- (二)國際奧林匹克委員會設有世界反運動禁藥機構負責管理事宜。
- (三)我國於2003年簽署世界運動禁藥管制規範同意施行。
- (四)上該機構會對運動員在比賽或平常期間，進行賽內或賽外檢測，且追訴期長達10年。
- (五)近年來，我國選手接連發生多起被驗出沾染禁藥情事。
- (六)試擬行政院以速件致教育部並副知中華奧會和國家運動訓練中心函，請該部應正視運動禁藥管制問題，協同中華奧會加強作為，落實運動員的禁藥觀念宣導、藥物監控等措施，建立一個反運動禁藥之管制環境。

乙、測驗部分：(20分)

代號：1301

(一)本測驗試題為單一選擇題，請選出一個正確或最適當的答案，複選作答者，該題不予計分。

(二)共10題，每題2分，須用2B鉛筆在試卡上依題號清楚劃記，於本試題或申論試卷上作答者，不予計分。

- 1 下列文句中之「辟」，與《論語·憲問》「賢者辟世，其次辟地，其次辟色，其次辟言」的「辟」字意義相同的是：
- (A)墾草入邑，「辟」地殖穀（《史記·范雎蔡澤列傳》）
 (B)買田宅必居窮「辟」處，為家不治垣屋（《漢書·蕭何傳》）
 (C)大夫之臣，拜不稽首，非尊家臣也，所以「辟」君也（《荀子·大略》）
 (D)故能小而事大，「辟」之是猶力之少而任重也，舍粹折無適也（《荀子·儒效》）
- 2 「燭花紅換人間世」是一副對聯的上聯，最合適的下聯是：
- (A)百花紅盡杜鵑啼 (B)山色青回夢裡家
 (C)葉上綠溼昨夜雨 (D)翻空白鳥向池塘
- 3 子曰：「片言可以折獄者，其由也與？」（《論語·顏淵》）從這句話看來，子路行事具有怎樣的特質？
- (A)率性而為 (B)明斷是非 (C)謀定而動 (D)仁民愛物
- 4 古之人，其才非有大過今之人也，其平居所以自養，而不敢輕用，以待其成者。閔閔焉，如嬰兒之望長也，弱者養之以至於剛，虛者養之以至於充。三十而後仕，五十而後爵，信於久屈之中，而用於至足之後，流於既溢之餘，而發於持滿之末，此古之人所以大過人而今之君子所以不及也。（蘇軾〈稼說〉）
- 根據上文對古人培養人才的意旨，下列選項何者最為接近？
- (A)鼯鼠五技而窮 (B)與時俱進，精益求精
 (C)清斯濯纓，濁斯濯足 (D)不積跬步，無以至千里
- 5 鹿畏貙，貙畏虎，虎畏羆。羆之狀，被髮人立，絕有力而甚害人焉。楚之南有獵者，能吹竹為百獸之音。昔云持弓矢罌火，而即之山，為鹿鳴以感其類。伺其至，發火而射之。貙聞其鹿也，趨而至。其人恐，因為虎而駭之。貙走而虎至，愈恐，則又為羆，虎亦亡去。羆聞而求其類，至，則人也。捽搏挽裂而食之。今夫不善內而恃外者，未有不為羆之食也。（柳宗元〈羆說〉）
- 下列敘述，最符合本文主旨的是：
- (A)說明生物界一物降一物的自然定律 (B)探討力量主宰一切的叢林生存法則
 (C)告誡不自我充實而冀求外力支援者 (D)譴責缺乏妥善謀畫以致自取滅亡者
- 6 往歲中秋節，酣歌待漏深。胡當今夜月，獨坐古槐陰。杯酒新持戒，賓朋乏賞音。心神翻覺爽，若撫素弦琴。（陳第〈甲寅中秋〉）
- 根據詩意，下列敘述錯誤的是：
- (A)往年中秋作者飲酒作樂直到深夜
 (B)今年中秋作者獨自一人賞月過節
 (C)今年中秋作者不只戒了酒，亦無賓朋往來
 (D)今年中秋作者月下彈琴，慨嘆無知音聆賞

7 子曰：「道之不行也，我知之矣，知者過之，愚者不及也；道之不明也，我知之矣，賢者過之，不肖者不及也。人莫不飲食也，鮮能知味也。」

文中孔子認為「人莫不飲食也，鮮能知味也」的原因是什麼？

- (A)時人過猶不及，無法允執厥中 (B)當時大道崩壞，亂國民不聊生
(C)君子崇禮奉樂，味在飲食之外 (D)朝廷賢愚不分，君子食不知味

8 「我們看待現實事物的方式，是如何受到藝術性文化的深刻影響，只要試著在腦中描繪木星的形象就能明白。一提到木星，大多數人的腦中都會浮現一顆有著大理石橫紋、帶著大紅斑的暗紅色星球。……相對於此，月亮的形象就十分平面。或許月亮的盈虧變化也加強了這樣的平面性，但為什麼單單只有月亮，在人們心目中形成這麼強烈的二次元印象呢？原因很簡單，從小時候讀的童話繪本和插圖，到浮世繪及各類畫作，我們都不斷看到各式各樣的『圓月』。深藍色的夜空中，靜靜佇立著大大的、柔和的淡黃色圓月——這或許是一般人心中最完美的月亮形象吧！」

根據上文，下列選項何者符合文意？

- (A)視覺的主要特徵是將所有的物體形象化
(B)我們所熟知的月亮，是透過科學所認識
(C)我們往往不是以全新的眼光看待事物，而是運用「過去接受的印象」來看它
(D)我們看待木星與月亮的焦點不同，因此造成月亮在我們心目中具有圓滿形象

9 《紅樓夢》中有一段關於荼蘼花的敘述：

湘雲便抓起骰子來，一擲個九點，數去該麝月。麝月便掣了一根出來。大家看時，上面是一枝荼蘼花，題著「韶華勝極」四字，那邊寫著一句舊詩，道是：「開到荼蘼花事了。」註云：「在席各飲三杯送春。」麝月問：「怎麼講？」寶玉皺皺眉兒，忙將籤藏了，說：「咱們且喝酒罷。」

下列選項，最符合此籤意涵的是：

- (A)暗喻榮、寧二府即將沒落，盛極而衰
(B)意謂麝月酒量不如當年，歲月不饒人
(C)意指湘雲正值芳華盛年，人面桃花相映紅
(D)暗示寶玉花開堪折直須折，莫待無花空折枝

10 「一個女人喊救命的尖叫衝破凌晨。至少三十八個人聽到，但都沒立即叫警察。有人探出窗外。汽車經過。無人出來。那女人就被刺死了。喊得再大聲也被居民的沉默殺死。靜得很恐怖。靜不再是選擇聲音而成了拒絕聲音。靜竟被喻做石頭，石頭只『在』並沒『活』著。靜竟被喻做鏡，冷冷映照別人的淒慘。但靜不就是無語，無助吸收所有的殘酷。城裡熙攘著，闊佬大喝，攤販吆喝，窮人喝風，但見證者即啞靜。靜擴張沉默的距離，大家擁抱成牆，沉默排成殘酷的同情。」

根據上文，下列選項最接近作者旨趣的是：

- (A)有時無語問蒼天的無奈，是最悲憫的同情
(B)靜默無聲勝有聲，在恐懼中只能安靜活著
(C)沉默是金，有時為了自保，必須拒絕聲音
(D)靜是淡漠的冷眼旁觀，沉默是自私的語言

測驗式試題標準答案

考試名稱：109年公務人員高等考試三級考試暨普通考試

類科名稱：

一般行政、一般民政、客家事務行政、戶政、僑務行政(選試英文)、僑務行政(選試法文)、僑務行政(選試德文)、僑務行政(選試日文)、僑務行政(選試西班牙文)、社會行政、勞工行政、公職社會工作師、文化行政、教育行政、體育行政、國際文教行政(選試英文)、國際文教行政(選試韓文)、國際文教行政(選試俄文)、視聽製作、新聞(選試英文)、圖書資訊管理(選試英文)、史料編纂、檔案管理、人事行政、財稅行政、金融保險、會計、財務審計、績效審計、統計、法制、法律廉政、財經廉政、總建行政、公平交易管理、工業行政、商業行政、農業行政、智慧財產行政、觀光行政(選試觀光英語)、觀光行政(選試觀光日語)、交通行政、航運行政、地政、衛生行政、環保行政、農業技術、農業機械、農產加工、園藝、植物病蟲害防治、林業技術、漁業技術、養殖技術、動物技術、公職獸醫師、自然保育、土木工程、水利工程、環境工程、水土保持工程、建築工程、公職建築師、地質、採礦工程、材料工程、測量製圖、都市計畫技術、景觀、衛生技術、食品衛生檢驗、生物技術、藥事、醫學工程、交通技術、航海技術、輪機技術、航空駕駛(選試直昇機飛行原理)、工業工程、職業安全衛生、電力工程、電子工程、電信工程、資訊處理、機械工程、航空器維修、汽車工程、環保技術、化學安全、環境檢驗、化學工程、氣象、輻射安全、工業設計

科目名稱：國文(作文、公文與測驗)(試題代號：1301)

單選題數：10題

單選每題配分：2.00分

複選題數：

複選每題配分：

標準答案：

題號	第1題	第2題	第3題	第4題	第5題	第6題	第7題	第8題	第9題	第10題
答案	C	B	B	D	C	D	A	C	A	D

題號	第11題	第12題	第13題	第14題	第15題	第16題	第17題	第18題	第19題	第20題
答案										

題號	第21題	第22題	第23題	更多高普考考試科目的歷屆題庫 立即上網搜尋“高普考歷屆考古題懶人包” 高鋒公職補習班整理 Line@帳號：@gaofeng 連絡電話：07-236-7296			第27題	第28題	第29題	第30題
答案										

題號	第31題	第32題	第33題	第34題	第35題	第36題	第37題	第38題	第39題	第40題
答案										

題號	第41題	第42題	第43題	第44題	第45題	第46題	第47題	第48題	第49題	第50題
答案										

題號	第51題	第52題	第53題	第54題	第55題	第56題	第57題	第58題	第59題	第60題
答案										

題號	第61題	第62題	第63題	第64題	第65題	第66題	第67題	第68題	第69題	第70題
答案										

題號	第71題	第72題	第73題	第74題	第75題	第76題	第77題	第78題	第79題	第80題
答案										

題號	第81題	第82題	第83題	第84題	第85題	第86題	第87題	第88題	第89題	第90題
答案										

題號	第91題	第92題	第93題	第94題	第95題	第96題	第97題	第98題	第99題	第100題
答案										

備註：

109年公務人員高等考試三級考試試題

類 科：各類科（除公職護理師、公職食品技師、公職醫事檢驗師、公職藥師外）
科 目：法學知識與英文（包括中華民國憲法、法學緒論、英文）
考試時間：1小時 座號：_____

※注意：(一)本測驗試題為單一選擇題，請選出一個正確或最適當的答案，複選作答者，該題不予計分。
(二)共50題，每題2分，須用2B鉛筆在試卡上依題號清楚劃記，於本試題上作答者，不予計分。
(三)禁止使用電子計算器。

更多高普考考試科目的歷屆題庫
立即上網搜尋“高普考歷屆考古題懶人包”
高鋒公職補習班整理
Line@帳號：@gaofeng
連絡電話：07-236-7296

- 關於憲法前言及憲法增修條文前言，下列敘述何者正確？
(A)憲法之前言因憲法增修條文前言而暫時停止適用
(B)兩者之效力與後續各條文之規範效力相同
(C)其所揭示之內容均具本質重要性，乃現行憲法所賴以存立之基礎，即使透過修憲亦不得變更
(D)兩者皆係由國民大會所制定
- 關於憲法及憲法增修條文明定應給予特別保障與扶助之對象，不包括下列何者？
(A)藝術工作者 (B)學行俱優無力升學之學生
(C)軍人 (D)政黨
- 依司法院釋字第329號解釋，下列有關條約之敘述，何者正確？
(A)我國與其他國家所締結之任何國際書面協定，均應送立法院審議
(B)我國與國際組織所締結之任何國際書面協定，均應送立法院審議
(C)未附有批准條款之國際書面協定，即不須送立法院審議
(D)國際書面協定之內容如與國內法律相同，則不須送立法院審議
- 依司法院大法官解釋意旨，下列何者不受憲法表意自由之保障？
(A)於網路上對不特定人散布促使人為性交易的訊息
(B)於網路上刊登化粧品廣告
(C)網友未經主管機關許可，於公共場所緊急舉行集會遊行
(D)對他人可受公評且確信其為真實之事項，所為不利之事實陳述
- 依司法院大法官解釋，下列何者受憲法絕對保障，不得限制？
(A)生命權 (B)思想自由 (C)言論自由 (D)財產權
- 依司法院釋字第613號解釋及憲法規定，下列敘述何者正確？
(A)行政一體旨在使行政院掌理之事務，最終仍受總統之指揮監督
(B)行政院毋須為獨立行政機關之整體施政表現負責
(C)層級式行政體制之金字塔頂端為行政院
(D)總統府為當前國家最高行政機關
- 司法院釋字第690號解釋，係對於傳染病防治法中關於必要處置及強制隔離規定所為之違憲審查。下列何者，並非上述解釋所引用之原則？
(A)比例原則 (B)信賴保護原則 (C)法律明確性原則 (D)正當法律程序原則
- 有關憲法第44條賦予總統的權限爭議處理權，下列敘述何者錯誤？
(A)此項職權未經憲法增修條文凍結或另為規定
(B)大法官解釋曾指出，將此職權定位為元首中立權，是否符合民主政治、權力分立等原則，有商榷餘地
(C)如副總統兼任行政院院長，總統在行使本條職權時，將發生協調者與被協調者相同的矛盾
(D)經過憲法第44條之程序所獲得的解決方法對總統與各院院長均無法律拘束力
- 司法院釋字第696號解釋，宣告所得稅法關於夫妻非薪資所得強制合併計算之規定，與單獨計算稅額比較，有增加稅負之情形而違憲。其違憲理由，應為下列那一個原則？
(A)信賴保護原則 (B)平等原則 (C)實質課稅原則 (D)法律保留原則
- 下列何者不屬於對於職業選擇自由的客觀限制？
(A)原住民族教育師資以具備原住民族身分者為限
(B)以總量管制方式核發計程車牌照，亦即須有人繳回牌照，始得接受新申請案
(C)禁止非視障者從事按摩業
(D)藥師經登記領照執業後，執業處所以一處為限

- 11 依憲法增修條文規定，監察院不再行使下列何種職權？
(A)糾舉權 (B)糾正權 (C)同意權 (D)審計權
- 12 依司法院大法官解釋，下列何者並非憲法第80條所稱之法官？
(A)司法院大法官 (B)行政法院法官
(C)懲戒法院法官 (D)檢察官
- 13 依司法院釋字第553號解釋，有關中央與地方權限爭議及地方自治之監督，下列敘述何者錯誤？
(A)涉及中央與地方權限劃分之爭議，是大法官得以解釋之事項
(B)地方自治團體處理自治事項，中央僅能為適法性監督
(C)地方自治團體辦理委辦事項，中央得為適法性與合目的性監督
(D)地方自治事項如涉及不確定法律概念，上級監督機關即不得撤銷或變更地方自治團體所為合法性之判斷
- 14 下列何者不是司法院之權限？
(A)公務員懲戒 (B)犯罪偵查 (C)統一解釋法律命令 (D)解釋憲法
- 15 依據憲法規定，下列何者並非專屬中央立法並執行，且不得交由地方執行之事項？
(A)電政 (B)司法制度 (C)教育制度 (D)商事法律
- 16 關於立法院通過，總統公布之法規範，下列敘述何者正確？
(A)皆為公法 (B)為形式意義之法律
(C)無須經行政院院長之副署 (D)得以「規則」為其名稱
- 17 下列何者非法規命令之無效事由？
(A)抵觸憲法、法律或上級機關之命令者
(B)無法律之授權而剝奪或限制人民之自由、權利者
(C)其訂定依法應經其他機關核准，而未經核准者
(D)其訂定未經聽證程序者
- 18 下列何者非屬法院適用法律必須遵循之原則？
(A)上下命令服從之原則 (B)不告不理原則 (C)獨立審判原則 (D)一事不再理原則
- 19 依司法院釋字第666號解釋意旨，對於從事性交易之行為人，僅處罰意圖得利之一方，而不處罰支付對價之相對人，係違反下列何者？
(A)平等原則 (B)比例原則 (C)信賴保護原則 (D)公益原則
- 20 下列何者非屬信賴保護原則之要件？
(A)信賴基礎 (B)信賴表現 (C)值得保護之信賴利益 (D)信賴利益應大過於公共利益
- 21 甲為自己利益，擅自以自己名義將乙所有、市值100萬（新臺幣，以下同）之A古玩，以150萬出賣並交付予善意無過失之丙。下列敘述何者正確？
(A)乙得對丙主張所有權人之物上返還請求權 (B)乙得依侵權行為請求權向甲請求150萬
(C)乙得依不當得利返還請求權向甲請求150萬 (D)乙得請求甲因不法管理行為所得之全部利益150萬
- 22 甲之妻乙已過世，留下岳父丙獨居；甲每月匯款一千元予某公益團體評估需受助養的家境清寒兒童丁；甲尚有姑姑戊以及未成年的乾女兒（義女）己；甲每月各匯六千元予丙戊己作為生活費；甲若因車禍死亡後，下述何者不得請求遺產酌給？
(A)丙 (B)丁 (C)戊 (D)己
- 23 依民法之規定，侵害下列何種權益，被害人不得向加害人請求非財產上之損害賠償？
(A)所有權 (B)信用權 (C)姓名權 (D)自由權
- 24 關於動產之敘述，下列何者錯誤？
(A)甲以所有之意思，占有被遺棄之流浪狗，甲取得該狗之所有權
(B)電影院管理員在電影院內拾得遺失物者，對遺失人不得請求報酬
(C)甲在乙所有之土地上挖掘發見龍銀一批，該批龍銀由甲、乙二人共有各一半
(D)加工於他人之動產者，其加工物之所有權，原則上屬於加工人
- 25 擔任公家機關採購業務的公務員甲，將公有地標售底價事前告訴投標人乙，構成下列何種犯罪？
(A)刑法第130條公務員廢弛職務罪 (B)刑法第132條公務員洩漏秘密罪
(C)刑法第120條公務員委棄守地罪 (D)刑法第134條假借職務機會犯罪

- 26 關於我國刑法未遂犯之處罰規定，下列敘述何者正確？
(A)不能未遂應減輕或免除其刑 (B)中止未遂應減輕或免除其刑
(C)所有犯罪都有未遂處罰規定 (D)未遂犯與既遂犯之處罰相同
- 27 關於股份有限公司之資訊，下列何者係任何人得向主管機關申請查閱或抄錄之事項？
(A)公司章程
(B)閉鎖性股份有限公司之股東非現金出資所繳納之股款金額
(C)實收資本額與資本公積
(D)董監事之姓名、住址、持股
- 28 下列何者不屬於衍生著作？
(A)將既存樂曲變換他種演奏形式之樂曲 (B)將小說轉換成劇本
(C)將漫畫拍攝成電影著作 (D)將詩作編排成詩集
- 29 依全民健康保險法第43條之規定，除不經轉診，於地區醫院、區域醫院、醫學中心門診就醫者外，關於保險對象應自行負擔門診費用之比例，下列敘述何者正確？
(A)保險對象應自行負擔門診費用之百分之十 (B)保險對象應自行負擔門診費用之百分之二十
(C)保險對象應自行負擔門診費用之百分之三十 (D)保險對象應自行負擔門診費用之百分之四十
- 30 直轄市、縣（市）主管機關得核發家庭暴力被害人之補助，下列敘述何者錯誤？
(A)緊急生活服務費用，準用於目睹家庭暴力之兒童及少年
(B)非屬全民健康保險給付範圍之醫療費用及身心治療、諮商與輔導費用
(C)子女教育、生活費用、兒童托育費、安置費用與房屋租金費用
(D)家庭暴力被害人年滿18歲者，得申請創業貸款；其申請資格、程序、利息補助金額、名額及期限等，由中央目的事業主管機關定之
- 31 As an accomplished popular science writer, Richard Rhodes brings his _____ to bear and provides an accessible but detailed history of energy use since about 1600.
(A)execution (B)expectancy (C)explosion (D)expertise
- 32 The beer market currently faces its fifth consecutive year of overall volume losses, and the sales of light beers have been consistently _____.
(A)dwindling (B)expanding (C)manipulating (D)speculating
- 33 Lung cancer deaths _____ a quarter of all American cancer deaths, killing more people every year than prostate, breast, and colon cancer combined.
(A)account for (B)emerge as (C)are due to (D)are damaged by
- 34 The U.S. has hiked the tariffs on \$200 billion of Chinese goods from 10% to 25% overnight, _____ the battle between the two economic powers.
(A)colluding (B)debilitating (C)corrupting (D)escalating
- 35 The victim said, "If the police want to keep me in jail, they will _____ a case of keeping a weapon without a license or just anything."
(A)turn up (B)trump up (C)petition for (D)plan on
- 36 This case is said to be the most insulting instance of attempting to abuse the very machinery of justice for an individual's own _____ end.
(A)novel (B)lofty (C)fair (D)evil
- 37 Some academic conference events were attended because of their potential for _____ rather than as an imperative for research.
(A)leisure (B)boycott (C)treasury (D)measure
- 38 To improve the air quality of the city, it is _____ that all residents join hands to cut down air pollution by 20% in the next five years.
(A)adaptable (B)eccentric (C)imperative (D)outrageous
- 39 The long-run Broadway musical *Cats* in New York city has featured many of the most _____ performers to attract millions of viewers each year.
(A)liberated (B)pronounced (C)reconciled (D)speculated
- 40 If Erica invited his ex-wife to the party, Ted would _____ a believable excuse for non-attendance.
(A)accommodate (B)incorporate (C)fabricate (D)replicate

請依下文回答第41題至第45題：

Collaborative online international learning (COIL) is a recently developed form of education that promotes global learning between colleges and universities from different countries around the world. With the aid of modern technology such as the Internet and videoconferencing, students from schools in different countries can 41 their learning with peers of different cultural and language backgrounds. This is also an affordable way of international learning through 42 students can establish friendship with people of similar age and learn together without having to spend much money going abroad in order to do so. As the word, collaborative, indicates, this is a pedagogy that focuses on a student-centered approach of learning with teachers playing merely the role of 43. They need to build up a sounding collaboration by developing 44 learning strategies and activities that can boost students' motivation in learning and their willingness to learn with and through each other. Through modern technology such as videoconferencing, students could discuss topics that are of interest to them and communicate with each other cross-culturally. This is one fruitful way of gaining one's own global literacy and cross-cultural 45. That is the reason why some universities in both the United States and Japan play an active role in encouraging this kind of learning world-wide.

- | | | | | |
|----|------------------|------------------|----------------|------------------|
| 41 | (A) apply for | (B) embark on | (C) iron out | (D) down up |
| 42 | (A) whom | (B) what | (C) which | (D) where |
| 43 | (A) controllers | (B) remainders | (C) narrators | (D) facilitators |
| 44 | (A) advantageous | (B) bureaucratic | (C) charitable | (D) defensible |
| 45 | (A) competence | (B) diligence | (C) emergence | (D) indifference |

請依下文回答第46題至第50題：

The origin of cursive script is one which intertwines technology and efficiency. We get the word “cursive” from the Latin *currere*-- 46 “to run.” It distinguishes writing in which the pen lifts from the page between words, 47 between each individual letter. Cursive developed out of typeface and print technologies, but more importantly it came from the need to write well and to write quickly.

But, cursive is fading. There is a debate over whether it has value in the classroom, but that debate extends further than simply a matter of cursive--it's about writing itself. Many curricula are even favoring typing lessons 48 teaching handwriting.

The battle for cursive reaches deeper than questions of whether your letters “connect.” The pen--even more than the text--might say something about us. Our handwriting might indicate our nationalities and educational background, 49 Adrienne Bernhard's “What Your Handwriting Says About You.” Yet, Bernhard's article also indicates that the proliferation of typing--via emails, text messages, etc--might in fact undermine the distinctness of our handwritings. The battle for cursive has always been a battle for the uniqueness of our handwriting and ourselves, verses and the evolution of technology and push towards efficiency.

Not too long ago, cursive--Spencerian script to be specific--“was the de facto standard writing style for business correspondence before the widespread adoption of the typewriter.” With the development of the typewriter, cursive 50 out of business usage into the usage of personal correspondence; technology supplanted cursive's original purpose, but cursive remained an act of self expression.

- | | | | | |
|----|------------------|------------------|-----------------|------------------|
| 46 | (A) incidentally | (B) accidentally | (C) partially | (D) literally |
| 47 | (A) apart from | (B) less than | (C) rather than | (D) let alone |
| 48 | (A) over | (B) than | (C) for | (D) instead |
| 49 | (A) claims | (B) to claim | (C) claiming | (D) are claiming |
| 50 | (A) rose | (B) fell | (C) decreased | (D) increased |

測驗式試題標準答案

考試名稱：109年公務人員高等考試三級考試暨普通考試

類科名稱：

一般行政、一般民政、客家事務行政、戶政、僑務行政(選試英文)、僑務行政(選試法文)、僑務行政(選試德文)、僑務行政(選試日文)、僑務行政(選試西班牙文)、社會行政、勞工行政、公職社會工作者、文化行政、教育行政、體育行政、國際文教行政(選試英文)、國際文教行政(選試韓文)、國際文教行政(選試俄文)、視聽製作、新聞(選試英文)、圖書資訊管理(選試英文)、史料編纂、檔案管理、人事行政、財稅行政、金融保險、會計、財務審計、績效審計、統計、法制、法律廉政、財經廉政、總建行政、公平交易管理、工業行政、商業行政、農業行政、智慧財產行政、觀光行政(選試觀光英語)、觀光行政(選試觀光日語)、交通行政、航運行政、地政、衛生行政、環保行政、農業技術、農業機械、農產加工、園藝、植物病蟲害防治、林業技術、漁業技術、養殖技術、動物技術、公職獸醫師、自然保育、土木工程、水利工程、環境工程、水土保持工程、建築工程、公職建築師、地質、採礦工程、材料工程、測量製圖、都市計畫技術、景觀、衛生技術、汽車工程、環保技術、化學安全、環境檢驗、化學工程、氣象、輻射安全、工業設計、食品衛生檢驗、生物技術、藥事、醫學工程、交通技術、航海技術、輪機技術、航空駕駛(選試直昇機飛行原理)、工業工程、職業安全衛生、電力工程、電子工程、電信工程、資訊處理、機械工程、航空器維修

科目名稱：

法學知識與英文(包括中華民國憲法、法學緒論、英文)(試題代號：3301)

單選題數：50題

單選每題配分：2.00分

複選題數：

複選每題配分：

標準答案：

更多高普考考試科目的歷屆題庫
立即上網搜尋“高普考歷屆考古題懶人包”
高鋒公職補習班整理
Line@帳號：@gaofeng
連絡電話：07-236-7296

題號	第1題	第2題	第3題	第4題	第5題	第6題	第7題	第8題	第9題	第10題
答案	D	D	D	A	B	C	B	C	B	D

題號	第11題	第12題	第13題	第14題	第15題	第16題	第17題	第18題	第19題	第20題
答案	C	D	D	B	C	B	D	A	A	D

題號	第21題	第22題	第23題	第24題	第25題	第26題	第27題	第28題	第29題	第30題
答案	D	B	A	D	B	B	A	D	B	D

題號	第31題	第32題	第33題	第34題	第35題	第36題	第37題	第38題	第39題	第40題
答案	D	A	A	D	B	D	A	C	B	C

題號	第41題	第42題	第43題	第44題	第45題	第46題	第47題	第48題	第49題	第50題
答案	B	C	D	A	A	D	C	A	A	B

題號	第51題	第52題	第53題	第54題	第55題	第56題	第57題	第58題	第59題	第60題
答案										

題號	第61題	第62題	第63題	第64題	第65題	第66題	第67題	第68題	第69題	第70題
答案										

題號	第71題	第72題	第73題	第74題	第75題	第76題	第77題	第78題	第79題	第80題
答案										

題號	第81題	第82題	第83題	第84題	第85題	第86題	第87題	第88題	第89題	第90題
答案										

題號	第91題	第92題	第93題	第94題	第95題	第96題	第97題	第98題	第99題	第100題
答案										

備註：

類 科：財稅行政、法制、商業行政、智慧財產行政
科 目：民法
考試時間：2小時

座號：_____

※注意：禁止使用電子計算器。

更多高普考考試科目的歷屆題庫
立即上網搜尋“高普考歷屆考古題懶人包”
高鋒公職補習班整理
Line@帳號：@gaofeng
連絡電話：07-236-7296

甲、申論題部分：(50分)

- (一)不必抄題，作答時請將試題題號及答案依照順序寫在申論試卷上，於本試題上作答者，不予計分。
(二)請以藍、黑色鋼筆或原子筆在申論試卷上作答。
(三)本科目除專門名詞或數理公式外，應使用本國文字作答。

一、甲為乙超商(以下簡稱乙)直營門市之店長，於民國108年4月24日因見丙銀行(以下簡稱丙)設置於該門市前公共電話上方牆壁之自動提款機招牌脫落，被人放置於該公共電話上方，甲乃於同日中午依約報修，將上開情事通知丙，但甲未做其他避險措施。丙於接獲通知後，立即派人至現場察看拍照，但未維修。丁嗣於同月27日中午至該門市前撥打公共電話，詎遭未維修之自動提款機招牌掉落擊中頭部，致受腦震盪並顏面挫傷，身心痛苦。試問丁向甲乙依侵權行為請求連帶賠償其醫藥費及慰撫金，是否有理？請附條文與理由說明之。(25分)

二、甲水廠為興建某海底管線工程，於民國(下同)97年間委託乙公司規劃設計及監造，甲復於98年間將該工程發包交由丙公司施作，約定報酬若干。該工程業於99年12月初完工驗收，惟丙所施作之管線，因其疏忽而有上浮斷落情事，管線須緊急修復，致甲需多支出工程款。查乙原先規劃設計雖無問題，但丙未按圖施工，且乙對丙之施工未詳加監督，經鑑定丙、乙應各負70%與30%之過失責任。今甲訴請丙賠償其因此多支出之工程款，丙抗辯甲應就其監造使用人乙之30%過失，負同一責任。丙嗣於102年2月間訴請甲給付報酬，甲則為消滅時效之抗辯。問孰之請求有理？(25分)

乙、測驗題部分：(50分)

代號：2325

- (一)本測驗試題為單一選擇題，請選出一個正確或最適當的答案，複選作答者，該題不予計分。
(二)共25題，每題2分，須用2B鉛筆在試卡上依題號清楚劃記，於本試題或申論試卷上作答者，不予計分。

- 關於意思表示之撤回，下列敘述，何者正確？
 - (A)意思表示有瑕疵時，以表意人無過失為限，得撤回意思表示
 - (B)對話而為意思表示者，其意思表示，得以對話方式撤回
 - (C)非對話而為意思表示者，其撤回之通知，若與其意思表示同時到達，生撤回之效力
 - (D)表意人於發出通知後死亡者，其意思表示，因之生撤回之效力
- 下列何種情形，甲不得直接對無權占有A地之乙主張所有物返還請求權？
 - (A)甲為無償而得使用A地之地上權人
 - (B)甲為支付地租之A地的地上權人
 - (C)甲為支付地租之A地的農育權人
 - (D)甲為無償而得使用A地之借用人

- 3 甲於民國（下同）60年1月5日向乙借款新臺幣50萬元，作為購屋之用，約定2年為期，按月支付利息，並以其所購得之房屋及其基地設定普通抵押權作為擔保。2年期滿，甲仍按月支付利息，乙亦未予催討。自65年2月起，甲未再支付利息，乙至79年10月始向甲催討，甲以消滅時效完成為由，拒絕清償。下列敘述，何者錯誤？
- (A)原本清償請求權於80年1月消滅時效始完成
(B)關於利息清償請求權於74年10月以前未受領之利息債權均已罹於消滅時效
(C)乙得於81年底申請拍賣抵押物
(D)乙不得於81年底申請拍賣抵押物
- 4 依民法規定，下列關於權利主體中自然人之敘述，何者正確？
- (A)受死亡宣告者，以裁判內所確定死亡之時，視為其為死亡
(B)未滿20歲已結婚者，視為成年人
(C)胎兒以將來非死產者為限，關於其個人利益之保護，視為既已出生
(D)父子同時遇難，不能證明其死亡之先後時，視為其父先死亡
- 5 下列關於意思表示解釋之敘述，何者錯誤？
- (A)「誤載不害真意」為意思表示解釋之原則之一
(B)意思表示之解釋，僅就表意人與交易慣行不同之意思為解釋
(C)若契約文字業已表示當事人之真意者，即不能捨棄該文字而更為曲解
(D)解釋意思表示之目的，在於探求當事人之真意
- 6 下列關於條件之敘述，何者錯誤？
- (A)契約附有停止條件者，於條件成就時，發生效力
(B)契約附有解除條件者，於條件成就時，經當事人以意思表示為之，始失其效力
(C)契約附有停止條件者，於條件已屬不能成就時，則該項契約自無法律上效力
(D)契約附有解除條件者，於條件已屬不能成就時，則該項契約為無條件
- 7 甲同時向多人借款，但隨即還清。甲事後忘記其欠乙的新臺幣5,000元，亦已還清，而再次清償，乙雖明知甲已經清償，但還是欣然受領。下列敘述，何者正確？
- (A)甲係因清償債務而為給付，不得向乙請求返還
(B)甲得請求乙償還5,000元，並附加利息
(C)甲得請求乙償還5,000元，但因為並非乙要求其再次清償，故甲不得請求附加利息
(D)甲之給付係履行道德上之義務，故不得請求返還
- 8 甲有名犬一隻，不慎走失。甲在某報登載廣告：本人所有名犬一隻，特徵為左耳朵有紅色圓點。凡有發現其蹤跡，告知本人者，致贈新臺幣2萬元。下列敘述，何者正確？
- (A)乙為甲之鄰居，在公園發現該走失名犬，攜回給甲，但乙未看報紙登載懸賞廣告，故不得請求贈金
(B)丙為13歲國中一年級學生，曾看報紙登載懸賞廣告，發現名犬，因未告知父母即通知甲，故不得請求贈金
(C)丁曾看報紙登載懸賞廣告，於某天早上發現名犬被收留在一家寵物店，遂以手機簡訊傳給甲，但甲當天未開機，且甲竟在下午自行尋獲名犬，故丁無報酬請求權
(D)戊為所有人中最先完成該行為之人，但因甲善意給付報酬給最先通知之人，甲給付報酬之義務，即為消滅
- 9 甲14歲之兒子乙，與丙發生爭執，將丙打傷。下列敘述，何者正確？
- (A)乙為未成年人，丙僅得請求乙之法定代理人甲負擔侵權行為之損害賠償責任
(B)若乙具備識別能力，丙僅得依民法第187條規定，向乙主張侵權行為之損害賠償責任
(C)若乙具備識別能力，丙得依民法第187條規定，請求乙之法定代理人甲，就乙對於丙所為之侵權行為連帶負責
(D)若乙不具備識別能力，丙得請求甲與乙兩人連帶負擔侵權行為之損害賠償責任

- 10 下列關於特種買賣之敘述，何者錯誤？
- (A)出賣人於買賣契約中保留買回之權利者，其期限不得超過5年，在此5年中買賣標的物之所有權並未移轉於買受人
 - (B)試驗買賣，係指出賣人有許買受人試驗其標的物之買賣契約
 - (C)於貨樣買賣中，視為出賣人擔保其交付之標的物，與貨樣有同一之品質
 - (D)分期付款之買賣，係將買賣價金分為若干部分，於一定期間分不同期數而逐次支付之契約
- 11 下列何種情形，使用借貸契約之貸與人，因借用物之瑕疵，對借用人應負損害賠償責任？
- (A)限於故意不告知借用物瑕疵
 - (B)限於故意或重大過失不告知借用物瑕疵
 - (C)只要不告知借用物瑕疵具有具體輕過失即可
 - (D)只要不告知借用物瑕疵具有抽象輕過失即可
- 12 承租人未依約定方法，亦未依租賃物之性質而定之方法，為租賃物之使用收益者，若當事人間未另有特約，其法律效果為何？
- (A)出租人得隨時終止租約
 - (B)經出租人阻止而承租人仍繼續為之者，出租人始得終止租約
 - (C)出租人得聲請法院調整租金
 - (D)因此對租賃物所生之損害，而妨礙承租人原定之使用收益者，出租人得行使同時履行抗辯權
- 13 下列關於人事保證之敘述，何者錯誤？
- (A)人事保證約定之期間，原則上不得逾3年，但得更新之
 - (B)僱用人對於保證人之請求權，因2年不行使而消滅
 - (C)人事保證之保證人，僅以僱用人不能從受僱人受賠償時，始負賠償責任
 - (D)人事保證未定有期限者，保證人得隨時終止契約
- 14 下列何者不發生原始取得之效力？
- (A)善意且無重大過失之甲，由動產受託保管人乙受讓該動產而取得其所有權
 - (B)共有人丙、丁因協議分割，由丙取得原共有物所有權
 - (C)戊未受庚之委託而擅自對庚所有之材料進行加工，並依法取得該加工物的所有權
 - (D)辛拾得遺失物後經招領程序而無人認領時，由辛取得該遺失物所有權
- 15 分別共有之各共有人，於下列何種情形得隨時請求分割？
- (A)區分所有建築物之共有部分
 - (B)區分所有建築物之共有基地
 - (C)各共有人間雖約定不得分割，但事後發生重大事由
 - (D)定有5年內禁止分割契約之共有人死亡，其應有部分經繼承之共有土地
- 16 甲以其所有之A不動產供乙設定第一次序最高限額抵押權，擔保甲經銷乙生產之電器製品契約而自乙進貨所累積之貨品債權。於甲乙間約定擔保之原債權確定前，下列敘述，何者正確？
- (A)甲乙不得將原擔保經銷電器製品所生債權，變更為因經銷生鮮食品契約所生債權
 - (B)甲乙不得將原擔保債務人甲之債權，變更為對丙債務人之債權
 - (C)如A無第二次序以下之抵押權存在時，甲乙得變更擔保之最高限額
 - (D)甲乙不得合意變更原債權之確定期日
- 17 債權人甲聲請執行法院拍賣債務人乙所有之A地，拍定人即買受人丙何時取得A地之所有權？
- (A)執行法院將A地，點交於丙時
 - (B)丙登記為A地之所有權人時
 - (C)法院發給丙權利移轉證書時
 - (D)執行法院之拍賣程序終結時

- 18 甲乙丙三人分別共有A地，甲乙二人以行使不動產役權之意思，19年間和平、公然、繼續通行丁所有之B地，即以B地供A地便宜之用；丙亦未行使不動產役權。下列敘述，何者錯誤？
- (A)丁對甲乙起訴，請求返還B地之占有者，對甲乙丙三人發生取得時效中斷之效力
(B)丁必須對甲乙丙三人起訴，請求返還B地之占有，始得發生取得時效中斷之效力
(C)丁對甲起訴，請求返還B地之占有者，對甲乙丙三人亦發生取得時效中斷之效力
(D)丁對丙起訴，請求返還B地之占有者，對甲乙二人不得發生取得時效中斷之效力
- 19 甲之名畫被乙所盜，乙出售並交付於知情之丙，丙將該畫寄託於丁處，丁交其店員戊保管。有關名畫之占有狀態，下列敘述，何者正確？
- (A)乙為間接占有人，丙為直接占有人，丁為占有輔助人
(B)丙為間接占有人，丁為直接占有人，戊為占有輔助人
(C)乙丙均非占有人，丁為間接占有人，戊為直接占有人
(D)乙丙均非占有人，僅丁為占有人，而戊為占有輔助人
- 20 下列關於婚生推定與否認之敘述，何者正確？
- (A)妻之受胎期間，係在夫妻長期同居但尚未為結婚登記者，推定妻所生子女為婚生子女
(B)夫妻之一方或其子女能證明該子女非為婚生子女者，得向法院提起婚生否認之訴
(C)成年子女知悉其非為婚生子女之時起，至遲5年內，得向法院提起婚生否認之訴
(D)生父得持血型鑑定證明書，逕向戶政機關請求登記為自己之婚生子女
- 21 由父母代為子女訂定婚約者，其法律效力為何？
- (A)效力未定 (B)得撤銷 (C)無效 (D)有效
- 22 下列關於結婚之敘述，何者錯誤？
- (A)雙方當事人應以書面向戶政機關為結婚之登記
(B)滿19歲女於滿20歲前結婚者，應得其法定代理人同意
(C)向戶政機關為結婚之登記時，應有2人以上證人之到場
(D)未滿17歲男於滿16歲時結婚，未得其法定代理人同意，該結婚得撤銷
- 23 下列關於無人承認繼承之敘述，何者錯誤？
- (A)遺產清冊應由法院加以編製
(B)由親屬會議向法院報明繼承開始
(C)被繼承人留下之債務，由遺產管理人以遺產清償之
(D)於搜索繼承人之公告期間內，繼承人應向法院承認繼承
- 24 下列關於未成年人監護之敘述，何者正確？
- (A)監護人有正當理由，經法院許可者，得辭任其職務
(B)18歲之未成年人，得被選任為該受監護人之監護人
(C)監護人為受監護人之利益，代理受監護人買賣不動產時，應經會同開具財產清冊人之同意
(D)社會福利主管機關，得要求監護人每年對其提出監護事務報告
- 25 下列關於繼承效力之敘述，何者正確？
- (A)繼承人對遺產債務依應繼分比例各自清償，不負連帶責任
(B)繼承人有數人時，在分割遺產後仍對財產全部為共同共有
(C)繼承人對於被繼承人負有債務者，由遺產中支付之
(D)遺囑執行之費用，由遺產中支付之

測驗式試題標準答案

考試名稱：109年公務人員高等考試三級考試暨普通考試

類科名稱：商業行政、智慧財產行政、財稅行政、法制

科目名稱：民法（試題代號：2325）

單選題數：25題

單選每題配分：2.00分

複選題數：

複選每題配分：

標準答案：

更多高普考考試科目的歷屆題庫
立即上網搜尋“高普考歷屆考古題懶人包”
高鋒公職補習班整理
Line@帳號：@gaofeng
連絡電話：07-236-7296

題號	第1題	第2題	第3題	第4題	第5題	第6題	第7題	第8題	第9題	第10題
答案	C	D	D	C	B	B	B	D	C	A

題號	第11題	第12題	第13題	第14題	第15題	第16題	第17題	第18題	第19題	第20題
答案	A	B	C	B	C	C	C	B	B	B

題號	第21題	第22題	第23題	第24題	第25題	第26題	第27題	第28題	第29題	第30題
答案	C	C	A	A	D					

題號	第31題	第32題	第33題	第34題	第35題	第36題	第37題	第38題	第39題	第40題
答案										

題號	第41題	第42題	第43題	第44題	第45題	第46題	第47題	第48題	第49題	第50題
答案										

題號	第51題	第52題	第53題	第54題	第55題	第56題	第57題	第58題	第59題	第60題
答案										

題號	第61題	第62題	第63題	第64題	第65題	第66題	第67題	第68題	第69題	第70題
答案										

題號	第71題	第72題	第73題	第74題	第75題	第76題	第77題	第78題	第79題	第80題
答案										

題號	第81題	第82題	第83題	第84題	第85題	第86題	第87題	第88題	第89題	第90題
答案										

題號	第91題	第92題	第93題	第94題	第95題	第96題	第97題	第98題	第99題	第100題
答案										

備註：

代號：30560 - 30960
31160、32560
32660、33060
33460、33560
33760
頁次：3-1

109年公務人員高等考試三級考試試題

類 科：僑務行政（選試英文）、僑務行政（選試法文）、僑務行政（選試德文）、僑務行政（選試日文）、僑務行政（選試西班牙文）、勞工行政、財稅行政、金融保險、統計、經建行政、公平交易管理、商業行政

科 目：經濟學

考試時間：2小時

座號：_____

※注意：可以使用電子計算器。

更多高普考考試科目的歷屆題庫
立即上網搜尋“高普考歷屆考古題懶人包”
高鋒公職補習班整理
Line@帳號：@gaofeng
連絡電話：07-236-7296

甲、申論題部分：（50分）

- (一)不必抄題，作答時請將試題題號及答案依照順序寫在申論試卷上，於本試題上作答者，不予計分。
- (二)請以藍、黑色鋼筆或原子筆在申論試卷上作答。
- (三)本科目除專門名詞或數理公式外，應使用本國文字作答。

一、中央銀行利用公開市場操作，讓貨幣供給增加，使短期利率下降。然而當利率降至零的下限時，中央銀行如何以「量化寬鬆」(QE)政策讓貨幣供給增加？試說明之。(25分)

二、本國對牛肉的需求與供給分別為：

$$Q^D = 120 - P$$

$$Q^S = -60 + 2P$$

式中 P 是牛肉的價格， Q^D 、 Q^S 分別是需求量與供給量。請回答下列問題：

- (一)牛肉的均衡價格與數量分別是多少？(4分)
- (二)假設政府開放牛肉自由進口，外國對本國的供給完全彈性。已知國際價格是35元，則國內牛肉市場新的均衡價格是多少？牛肉進口量是多少？(6分)
- (三)假設政府對進口牛肉課徵從量關稅10元，則課稅後本國牛肉市場新的均衡價格是多少？牛肉進口量是多少？(6分)
- (四)進口關稅造成的效率損失為何？請說明，並具體衡量。(9分)

乙、測驗題部分：（50分）

代號：6305

- (一)本測驗試題為單一選擇題，請選出一個正確或最適當的答案，複選作答者，該題不予計分。
- (二)共25題，每題2分，須用2B鉛筆在試卡上依題號清楚劃記，於本試題或申論試卷上作答者，不予計分。

- 1 廠商的生產函數為 $q=LK$ ，其中 q 為產量、 L 為勞動投入量、 K 則為資本投入量。下列有關此生產函數規模報酬的敘述，何者正確？
 - (A)此生產函數具有規模報酬遞增的特性
 - (B)此生產函數具有規模報酬遞減的特性
 - (C)此生產函數具有固定規模報酬的特性
 - (D)此生產函數具有規模報酬先遞增再遞減的特性
- 2 小捷認為喝可口可樂或百事可樂無任何差別，對小捷而言，下列敘述何者錯誤？
 - (A)這兩種飲料可視為完全替代
 - (B)這兩種飲料可視為完全互補
 - (C)若兩者價格不同，小捷將只會購買價格較低者
 - (D)所得改變不會影響可樂間的邊際替代率

- 3 AP為平均產出，MP為邊際產出，當AP下降：
- (A)AP=MP (B)AP<MP
(C)AP>MP (D)AP和MP大小無法判斷
- 4 你的朋友在一家三明治店打工。當你每次到這家店拜訪他時，他經常偷偷送一個免費的三明治給你。這代表你的朋友最有可能有下列那個問題？
- (A)逆向選擇 (B)道德危險 (C)送訊號 (D)替老闆做廣告
- 5 假設一家廠商目前利用10單位的勞動及12單位的資本，共\$150的生產成本，生產100單位產出。該廠商亦可使用10單位的勞動及8單位的資本，共\$120的生產成本，產出相同的100單位產出。則我們可以推論該廠商目前的生產為：
- (A)技術有效率；經濟無效率 (B)技術無效率；經濟有效率
(C)技術有效率；經濟有效率 (D)技術無效率；經濟無效率
- 6 在其他條件不變下，消費者剩餘在下列何種情況下會增加？
- (A)天氣變冷，使消費者對冷氣需求減少
(B)一例一休實施，使中小企業勞動成本增加
(C)大眾運輸便捷，使消費者的交通消費量增加
(D)家禽七天禁宰，預期未來雞肉批發量減少
- 7 當廠商的邊際成本大於短期平均總成本時，該廠商的：
- (A)邊際成本處於遞減狀態 (B)短期平均總成本處於遞增狀態
(C)邊際成本達到最低點 (D)短期平均總成本達到最低點
- 8 生產稻米必須同時使用勞力和資本，若勞力替代資本的邊際技術替代率為5，則在維持相同的產量水準下，每減少僱用勞工1單位，就必須增加多少資本？
- (A) $\frac{1}{5}$ (B)1 (C)4 (D)5
- 9 獨占廠商在追求利潤極大的考量下訂定獨占價格，此獨占價格：
- (A)等於邊際成本 (B)等於邊際收益 (C)等於平均總成本 (D)等於平均收益
- 10 假設葡萄酒的價格為3元，奶酪的價格為1元，小民有20元所得。當她消費2瓶葡萄酒及14塊奶酪時，最後一瓶葡萄酒的邊際效用為6，最後一塊奶酪的邊際效用為3，則在消費均衡時小民會：
- (A)多買奶酪少買葡萄酒 (B)多買葡萄酒少買奶酪
(C)全部所得都買葡萄酒 (D)維持原消費組合
- 11 阿明和阿嘉是兩個木工，他們只製作書櫃與衣櫃。在一個月的時間裡，阿明可以製作4張書櫃或20個衣櫃，阿嘉可以製作6張書櫃或18個衣櫃。下列何者正確？
- (A)阿明在製作書櫃上有比較利益 (B)阿嘉在製作衣櫃上有絕對利益
(C)阿明在製作書櫃上有絕對利益 (D)阿嘉在製作書櫃上有比較利益
- 12 下列何種因素的變動會同時造成需求曲線與供給曲線的移動？
- (A)所得 (B)商品價格 (C)預期價格 (D)生產要素價格
- 13 對比完全競爭市場與獨占市場，下列敘述何者錯誤？
- (A)兩種市場結構下，廠商都會依照「邊際收益等於邊際成本」原則決定最適產量
(B)兩種市場結構下，廠商都會選擇生產到平均成本曲線之最低點
(C)完全競爭廠商和獨占廠商在短期都可能發生虧損
(D)完全競爭廠商的長期均衡利潤為零，獨占廠商在長期均衡則可賺到正利潤

- 14 假設目前GDP等於潛在（potential）GDP之水準，則下列何者會導致成本推動（cost-push）之通貨膨脹？
(A)一例一休實施導致加班費增加 (B)稅率降低15%，使購買力提高
(C)國家資本存量增加，使勞動生產力上升 (D)引進外籍勞工，造成勞動供給增加
- 15 如果以目前之通貨膨脹率及最近過去（recent past）之通貨膨脹率預測未來之價格，稱之為：
(A)結構性預期（structural expectation） (B)理性預期（rational expectation）
(C)通膨型預期（inflationary expectation） (D)適應性預期（adaptive expectation）
- 16 當勞動供給與需求相等時，是為充分就業，然而實質工資仍可能高於充分就業之均衡工資，下列何者不能成為其理由？
(A)效率工資 (B)貨幣幻覺 (C)工會協商 (D)保障工資
- 17 下列何者對於可貸資金的敘述錯誤？
(A)可貸資金的供給為儲蓄
(B)可貸資金的需求為投資
(C)在其他條件不變下，可貸資金的需求增加會使得均衡物價水準上升
(D)在其他條件不變下，可貸資金的需求增加會使得均衡時的可貸資金數量增加
- 18 根據Solow成長模型，假設人口成長率與技術的成長率皆為零，在長期均衡狀態（steady state），若資本的邊際產量為0.1，折舊率為0.1，儲蓄率為0.2，則長期均衡狀態的資本存量：
(A)大於黃金法則水準 (B)小於黃金法則水準
(C)等於黃金法則水準 (D)可能高於或低於黃金法則水準
- 19 已知消費函數為 $C=132+0.63Y_d$ ，當可支配所得 $Y_d=264$ 時，平均消費傾向（APC）與平均儲蓄傾向（APS）分別為：
(A)0.63與0.37 (B)1.32與-0.32 (C)2.64與-1.64 (D)1.13與-0.13
- 20 設某經濟體原處於長期均衡狀態，但因工資上漲引發短期總供給線左移，為使經濟體回到充分就業的產出水準，則中央銀行可採取下列那一項措施？
(A)減少貨幣供給，使物價水準恢復至原水準 (B)減少貨幣供給，但代價是物價水準會提升
(C)增加貨幣供給，使物價水準恢復至原水準 (D)增加貨幣供給，但代價是物價水準會提升
- 21 假設過去一年我國的通貨膨脹率為2%，美國的通貨膨脹率為3%，則根據相對購買力平價理論，新臺幣對美元應：
(A)升值5% (B)貶值5% (C)升值1% (D)貶值1%
- 22 假設其他條件不變且政府的財政政策有效。根據IS-LM模型，政府投資支出增加會造成：
(A)均衡所得與均衡利率水準同時上升 (B)均衡所得與均衡利率水準同時下降
(C)均衡所得增加且利率下降 (D)均衡所得增加且一般物價下跌
- 23 公共債務（Public debt）係指：
(A)中央銀行流通在外的紙鈔總額
(B)政府所有過去的財政赤字相對政府所有過去財政盈餘的比率
(C)政府所有過去的財政赤字減去所有過去的財政盈餘的累積金額
(D)當期政府支出與當期稅收之差額
- 24 節儉的矛盾（the paradox of thrift）是指：
(A)短期間多儲蓄會對經濟有利 (B)短期間多儲蓄會對經濟不利
(C)消費者多消費，結果儲蓄更少 (D)消費者多消費，結果卻失去工作
- 25 2007～2009年美國的經濟大衰退（Great Recession）的導火線，主要是來自於對於下列何種衝擊？
(A)黃金市場及股票市場 (B)國際貿易及外匯市場
(C)房地產及金融市場 (D)消費者支出及政府支出

測驗式試題標準答案

考試名稱：109年公務人員高等考試三級考試暨普通考試

類科名稱：僑務行政(選試英文)、僑務行政(選試法文)、僑務行政(選試德文)、僑務行政(選試日文)、僑務行政(選試西班牙文)、勞工行政、財稅行政、金融保險、經建行政、統計、公平交易管理、商業行政

科目名稱：經濟學(試題代號：6305)

單選題數：25題

單選每題配分：2.00分

複選題數：

複選每題配分：

標準答案：

更多高普考考試科目的歷屆題庫
立即上網搜尋“高普考歷屆考古題懶人包”
高鋒公職補習班整理
Line@帳號：@gaofeng
連絡電話：07-236-7296

題號	第1題	第2題	第3題	第4題	第5題	第6題	第7題	第8題	第9題	第10題
答案	A	B	C	B	D	C	B	D	D	A

題號	第11題	第12題	第13題	第14題	第15題	第16題	第17題	第18題	第19題	第20題
答案	D	C	B	A	D	B	C	C	D	D

題號	第21題	第22題	第23題	第24題	第25題	第26題	第27題	第28題	第29題	第30題
答案	C	A	C	B	C					

題號	第31題	第32題	第33題	第34題	第35題	第36題	第37題	第38題	第39題	第40題
答案										

題號	第41題	第42題	第43題	第44題	第45題	第46題	第47題	第48題	第49題	第50題
答案										

題號	第51題	第52題	第53題	第54題	第55題	第56題	第57題	第58題	第59題	第60題
答案										

題號	第61題	第62題	第63題	第64題	第65題	第66題	第67題	第68題	第69題	第70題
答案										

題號	第71題	第72題	第73題	第74題	第75題	第76題	第77題	第78題	第79題	第80題
答案										

題號	第81題	第82題	第83題	第84題	第85題	第86題	第87題	第88題	第89題	第90題
答案										

題號	第91題	第92題	第93題	第94題	第95題	第96題	第97題	第98題	第99題	第100題
答案										

備註：

代號：32550
32750
頁次：4-1

109年公務人員高等考試三級考試試題

類 科：財稅行政、會計
科 目：財政學
考試時間：2小時

※注意：禁止使用電子計算器。

更多高普考考試科目的歷屆題庫
立即上網搜尋“高普考歷屆考古題懶人包”
高鋒公職補習班整理
Line@帳號：@gaofeng
連絡電話：07-236-7296

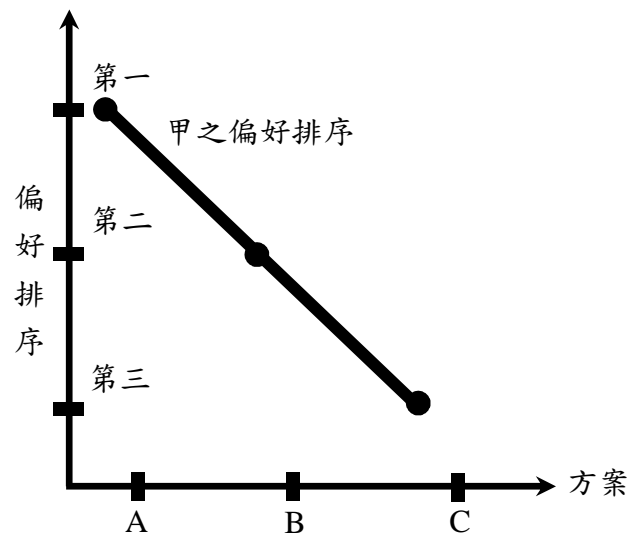
座號：_____

甲、申論題部分：（50分）

- (一)不必抄題，作答時請將試題題號及答案依照順序寫在申論試卷上，於本試題上作答者，不予計分。
- (二)請以藍、黑色鋼筆或原子筆在申論試卷上作答。
- (三)本科目除專門名詞或數理公式外，應使用本國文字作答。
- (四)作答若使用之數學式符號與上、下標，以及圖形之座標軸與點、線等，務必清楚標示並佐以文字詳細解釋。

一、「次佳理論」(the Theory of the Second Best)在財政學有相當廣泛的運用；請說明該理論之要義。並分別就：導正外部成本所造成之資源錯誤配置、決定對於一般財貨課稅之最適稅率（或稅額）兩課題，各舉一例說明次佳理論在政策考量時之運用。（25分）

二、假設一經濟體由甲、乙及丙所組成；甲與丙為單峰偏好（single-peaked preferences）者、乙為雙峰偏好（double-peaked preferences）者。三人將採兩兩表決法案、以多數決從A、B及C三方案中擇一執行。根據下圖座標軸線分析三人之偏好排序，



甲之偏好排序第一、二及三依序為：A、B及C。請列出乙與丙對於三方案之偏好排序，用以說明公共選擇理論（public choice theory）所稱之投票矛盾（voting paradox）情形。並說明在投票矛盾的情形下，會衍生出民主政治運作上的那些主要問題？（25分）

乙、測驗題部分：（50分）

代號：5325

(一)本測驗試題為單一選擇題，請選出一個正確或最適當的答案，複選作答者，該題不予計分。
(二)共25題，每題2分，須用2B鉛筆在試卡上依題號清楚劃記，於本試題或申論試卷上作答者，不予計分。

- 羅倫斯曲線與吉尼係數的關係，下列敘述何者正確？
 - 當羅倫斯曲線為一水平線時，吉尼係數則為0.5
 - 當羅倫斯曲線為一垂直線時，吉尼係數則為1
 - 當羅倫斯曲線等於45度線時，吉尼係數則為0
 - 羅倫斯曲線與吉尼係數沒有任何關係
- 下列何者屬於純公共財？
 - 教育
 - 國防
 - 高速公路
 - 公海裡的魚
- 有關共享資源（common resources）的敘述，下列何者錯誤？
 - 非敵對性是共享資源造成市場失靈的主因
 - 共享資源的問題起因於財產權未明確界定
 - 共享資源的總量會因過度使用而逐漸耗竭
 - 寇斯定理（Coase Theorem）的應用，可避免共享資源造成草原悲劇（the tragedy of common）
- 下列何者不是根據商品均等主義（commodity egalitarianism）提供的財貨？
 - 選舉權
 - 國民教育
 - 全民健保
 - 文物古蹟
- 有關對財政幻覺（fiscal illusion）的敘述，下列何者正確？
 - 民眾期待較高的租稅負擔，但又輕忽公共支出過大的可能
 - 民眾期待較低的租稅負擔，但又輕忽公共支出過少的可能
 - 民眾期待較多的公共支出，但又輕忽租稅負擔提高的可能
 - 民眾期待較少的公共支出，但又輕忽租稅負擔減少的可能
- 根據巨靈假說（Leviathan hypothesis），下列何者是造成公共支出過度擴張的可能原因？
 - 國營事業的連年虧損
 - 公共財的成本被低估
 - 人口結構的逐漸老化
 - 通貨膨脹的日漸嚴重
- 假設社會跨期消費的效用函數為 $U(C_1, C_2) = C_1^{\frac{2}{3}} C_2^{\frac{1}{3}}$ ，其中， C_1 ， C_2 分別為第一期與第二期的消費，則該社會的時間偏好率應為何？
 - $\frac{2C_2}{C_1} - 1$
 - $\frac{2C_2}{3C_1} - 1$
 - $\frac{2C_1}{C_2} - 1$
 - $\frac{2C_1}{3C_2} - 1$
- 若公共政策的目標明確，決策者在數個可行方案中，選擇執行成本最低的方案，此種決策分析稱為：
 - 成本利益分析
 - 成本效用分析
 - 成本有效性分析
 - 生產效率分析
- 存在不確定因素時，進行公共支出計畫方案之評估，下列敘述何者正確？
 - 不確定因素不會影響計畫的成本和利益
 - 計畫評估時可使用確定等量（certainty equivalence）為評估工具
 - 若用保險方式降低風險，保險費不須計入成本或利益
 - 政府以自我保險方式降低風險，不會提高計畫成本

- 10 假設社會上有 N 位投票者，投票者 i 對公共財的邊際願意支付代價為 $MWTP_i$ ，公共財提供的邊際成本為 MC 。波文模型（Bowen model）所決定的公共財數量，符合下列那項條件？
- (A) $\sum MWTP_i = \sum MC$ (B) $\sum MWTP_i / N = MC$
(C) $\sum MWTP_i = MC / N$ (D) $\sum MWTP_i = MC$
- 11 甲、乙、丙三人對社會福利支出高、中、低三種水準進行投票，其偏好排序分別如下：低 $>$ 中 $>$ 高、中 $>$ 高 $>$ 低、高 $>$ 低 $>$ 中。假設低支出議案與中支出議案進行第一輪投票，勝出者再與高支出議案進行第二輪投票，在只有甲取得其他投票者偏好資訊的情況下，甲應該如何進行投票以提升自身效用水準？
- (A)第一輪將票投給中支出議案，第二輪再將票投給中支出議案
(B)第一輪將票投給中支出議案，第二輪再將票投給高支出議案
(C)第一輪將票投給低支出議案，第二輪再將票投給低支出議案
(D)第一輪將票投給低支出議案，第二輪再將票投給高支出議案
- 12 假設花生的需求曲線為 $Q = 200 - 10P$ ，供給曲線為一條水平線 $MC = 2$ 。假設為了將花生產業形成一個卡特爾（cartel），花生業者最多願意提供多少政治獻金給相關的政客？
- (A)405元 (B)810元 (C)1,215元 (D)1,620元
- 13 若一公共支出計畫案僅在第1年支出430萬元，第2年到第5年之間，每年可以獲益25萬元，第6年（含）之後每年獲益20萬元直到永遠，在社會折現率為5%的情況下，依淨利益現值法該計畫案是否應該執行？
- (A)應該執行 (B)不應該執行 (C)執行與否均無差異 (D)無法判斷
- 14 我國全民健康保險制度的主要特色，下列何者錯誤？
- (A)全民強制納保 (B)虧損可透過調高費率解決
(C)健保費由勞資政三方負擔 (D)可解決道德危機問題
- 15 電信業者以收取固定的月租費分攤固定成本，並依邊際成本訂定費率，再根據用戶使用量繳納通話費的方式提供服務，稱為：
- (A)邊際成本訂價法 (B)二部訂價法 (C)成本加成訂價法 (D)固定成本訂價法
- 16 有關勤勞所得租稅抵減（earned income tax credit, EITC）與稅式支出（tax expenditure, TE）之敘述，下列何者正確？
- (A)EITC是給予低所得者所得減除的優惠
(B)EITC對低勞動所得者所形成之所得效果必使勞動供給增加
(C)TE可能形成顛倒式的補貼（upside-down subsidy）
(D)若TE使民眾的支出金額大於政府直接支出，則其價格彈性絕對值小於1
- 17 為實現雷姆斯（F. Ramsey）租稅效率原則，下列敘述何者錯誤？
- (A)若財貨間互為獨立品，則可採複式稅率
(B)若財貨間互為替代品，則應課徵單一稅率
(C)若財貨間互為獨立品，則需求彈性大者應課徵較高稅率
(D)若財貨間互為替代品，則課稅可運用等比例減少原則

- 18 在X與Y兩種財貨及L與K兩種生產要素的模型中，關於一般均衡分析（general equilibrium analysis）中租稅等值關係（tax equivalence relations）的敘述，下列何者正確？①對兩財貨課徵相同的從價稅稅率，相當於課徵比例所得稅 ②對兩生產要素報酬課徵相同的稅率，相當於課徵比例所得稅 ③對生產X財貨的兩種生產要素報酬課徵相同的稅率，相當於對X財貨課徵從價稅
(A)①②③ (B)僅①② (C)僅②③ (D)僅①③
- 19 假設風險中立的納稅人，逃稅被發現時，除補繳逃漏稅款外，仍需罰款，且罰款金額與逃漏所得成正比。提高納稅人邊際稅率會使其最適逃漏所得額如何變化？
(A)降低 (B)不變
(C)提高 (D)需視罰款金額高低而定
- 20 關於財產稅租稅歸宿之受益觀點（benefit view），下列敘述何者錯誤？
(A)財產稅具有自願性交易價格的特質 (B)財產稅會使所得分配變動
(C)財產稅是一種有效率的使用費 (D)財產稅不會產生超額負擔
- 21 根據哈伯格（A. C. Harberger）的租稅歸宿一般均衡模型分析，對勞動密集之食物部門的資本報酬課稅，下列敘述何者正確？①要素替代效果（factor substitution effect）使食物部門資本的相對價格下跌 ②要素替代效果使非課稅部門資本的相對價格上升 ③產量效果（output effect）使非課稅部門資本的相對價格上升 ④最終只有食物部門資本的相對價格會下跌
(A)①②③ (B)①②④ (C)僅①③ (D)僅②④
- 22 下列何者不屬於我國現行政府間的財政移轉方式？
(A)統籌分配稅款 (B)補助款
(C)稅收分成 (D)地方政府對現有國稅附加稅課
- 23 下列那一項不是財政理論主張將財政資源與決策權集中於中央政府的理由？
(A)有效率地提供地區民眾生活所需之各類型公共財貨及服務
(B)提供具全國一致性的公共財貨與服務，如社會保險與福利
(C)彌補特定類型公共財所產生的外部性
(D)可避免租稅競爭
- 24 有關我國現行地價稅累進起點地價之敘述，下列何者正確？
(A)累進起點地價是各直轄市或縣市所有土地7公畝之平均地價
(B)持有相同公共地價之土地，位於高累進起點地價之縣市地主，其地價稅之負擔，較位於低累進起點地價之縣市地主為輕
(C)累進起點地價每年調整一次
(D)累進起點地價適用於一般土地之地價稅稅額的計算，不適用於自用住宅用地
- 25 若李嘉圖等值定理（Ricardian equivalence theorem）成立，則採行減稅而改發行公債融通之後，實質利率有何變化？
(A)上揚 (B)不變 (C)下降 (D)由正轉為負值

測驗式試題標準答案

考試名稱：109年公務人員高等考試三級考試暨普通考試

類科名稱：會計、財稅行政

科目名稱：財政學（試題代號：5325）

更多高普考考試科目的歷屆題庫
立即上網搜尋“高普考歷屆考古題懶人包”
高鋒公職補習班整理
Line@帳號：@gaofeng
連絡電話：07-236-7296

單選題數：25題

單選每題配分：2.00分

複選題數：

複選每題配分：

標準答案：

題號	第1題	第2題	第3題	第4題	第5題	第6題	第7題	第8題	第9題	第10題
答案	C	B	A	D	C	B	A	C	B	D

題號	第11題	第12題	第13題	第14題	第15題	第16題	第17題	第18題	第19題	第20題
答案	A	B	B	D	B	C	C	A	C	B

題號	第21題	第22題	第23題	第24題	第25題	第26題	第27題	第28題	第29題	第30題
答案	C	D	A	B	B					

題號	第31題	第32題	第33題	第34題	第35題	第36題	第37題	第38題	第39題	第40題
答案										

題號	第41題	第42題	第43題	第44題	第45題	第46題	第47題	第48題	第49題	第50題
答案										

題號	第51題	第52題	第53題	第54題	第55題	第56題	第57題	第58題	第59題	第60題
答案										

題號	第61題	第62題	第63題	第64題	第65題	第66題	第67題	第68題	第69題	第70題
答案										

題號	第71題	第72題	第73題	第74題	第75題	第76題	第77題	第78題	第79題	第80題
答案										

題號	第81題	第82題	第83題	第84題	第85題	第86題	第87題	第88題	第89題	第90題
答案										

題號	第91題	第92題	第93題	第94題	第95題	第96題	第97題	第98題	第99題	第100題
答案										

備註：

代號：32540
頁次：3-1

109年公務人員高等考試三級考試試題

類 科：財稅行政
科 目：租稅各論
考試時間：2小時

※注意：禁止使用電子計算器。

更多高普考考試科目的歷屆題庫
立即上網搜尋“高普考歷屆考古題懶人包”
高鋒公職補習班整理
Line@帳號：@gaofeng
連絡電話：07-236-7296

座號：_____

甲、申論題部分：(50分)

- (一)不必抄題，作答時請將試題題號及答案依照順序寫在申論試卷上，於本試題上作答者，不予計分。
(二)請以藍、黑色鋼筆或原子筆在申論試卷上作答。
(三)本科目除專門名詞或數理公式外，應使用本國文字作答。

一、何謂線性累進所得稅 (linear progressive income tax)？課徵線性累進所得稅對勞動供給的影響為何？請繪圖說明之。(25分)

二、對含糖飲料課徵貨物稅的理論依據為何？並請就公平、效率與課稅技術觀點分析對含糖飲料課徵貨物稅的合宜性。(25分)

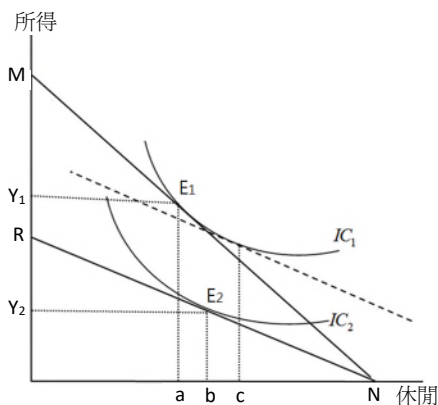
乙、測驗題部分：(50分)

代號：4325

- (一)本測驗試題為單一選擇題，請選出一個正確或最適當的答案，複選作答者，該題不予計分。
(二)共25題，每題2分，須用2B鉛筆在試卡上依題號清楚劃記，於本試題或申論試卷上作答者，不予計分。

- T/GDP (T為租稅收入，GDP為國內生產毛額)的意義為何？
(A)國民的納稅能力 (B)政府支出租稅融通的程度
(C)政府稅收的所得彈性 (D)租稅負擔率
- 下列何者不應列入Haig-Simons所定義的個人所得項目？
(A)公司提供員工免費午餐 (B)公司幫員工提撥的退休金
(C)公司支付員工出差的旅宿費 (D)公司招待員工國外旅遊的費用
- 假設經濟體是開放的，且資金可以在各國之間完全自由流通，若某一小國之政府課徵資本稅，此資本稅的租稅歸宿為何？
(A)由資金需求者負擔全部的租稅
(B)由資金供給者負擔全部的租稅
(C)資金需求者和資金供給者各自負擔一半的租稅
(D)由政府決定資金需求者和資金供給者各自應負擔的租稅
- 在哈柏格 (A. C. Harberger) 模型中，x為勞動密集產業。若只對x產業所使用的資本課稅，下列敘述何者錯誤？
(A)產出效果使資本的相對報酬上升 (B)要素替代效果使資本的相對報酬下降
(C)課稅使x財貨的相對價格上升 (D)勞動一定不會負擔租稅
- 甲有固定的所得，他消費X和Y兩商品，這兩商品對甲而言為完全互補，X和Y皆在完全競爭市場生產且邊際成本固定不變。若政府對甲消費的X商品課徵從價稅，對Y商品不課稅，下列敘述何者錯誤？
(A)甲對X商品的受補償需求曲線為垂直線 (B)課稅不會產生超額負擔
(C)課稅只產生替代效果 (D)甲對X商品的受補償需求量課稅前後相同
- 一消費者活兩期，每期有固定的外生所得，此外若消費者在第一期儲蓄，則第二期可領回所儲蓄金額並有利息所得，反之若在第一期借錢，則第二期要償還所借金額並支付利息費用。若利息所得要課稅，但利息費用可以列作扣除額，下列敘述何者正確？
(A)若消費者在第一期儲蓄，課稅產生的所得效果使他儲蓄更多
(B)若消費者在第一期儲蓄，且稅後儲蓄不變，則課稅無超額負擔
(C)若消費者在第一期借錢，且稅後借入相同金額，則課稅無超額負擔
(D)若消費者在第一期借錢，課稅產生的替代效果使他借入金額減少

- 7 在一完全競爭市場中，產品的需求函數為 $P=100-Q$ ，供給函數為 $P=50$ ， P 是價格， Q 為數量。若政府對該市場的產品課徵10元的從量貨物稅，則廠商每單位產出須負擔多少元之稅負？
(A)0 (B)2 (C)5 (D)10
- 8 x 、 y 、 z 三個商品的市場皆為完全競爭，且供給曲線皆為水平線，課徵商品稅前 x 商品的受補償需求為12,000單位， y 商品的受補償需求為9,000單位， z 商品的受補償需求為5,500單位；課徵商品稅後， x 商品的受補償需求為11,400單位。根據雷姆西法則（Ramsey Rule），稅後 y 商品和 z 商品的受補償需求應分別減少多少單位？
(A) y 商品減少600單位， z 商品減少600單位 (B) y 商品減少300單位， z 商品減少500單位
(C) y 商品減少500單位， z 商品減少300單位 (D) y 商品減少450單位， z 商品減少275單位
- 9 下圖之縱軸是所得，橫軸是休閒，用以分析家計部門對於所得與休閒的效用極大選擇。圖中MN是政府未對所得課稅時的預算限制線，RN則是政府對所得課稅後的預算線。課稅使得稅後工資下降，休閒時間增加之總效果中：



- (A)替代效果是 $a \rightarrow c$ ，所得效果是 $c \rightarrow b$ (B)替代效果是 $a \rightarrow b$ ，所得效果是 $a \rightarrow c$
(C)替代效果是 $c \rightarrow b$ ，所得效果是 $a \rightarrow c$ (D)替代效果是 $b \rightarrow c$ ，所得效果是 $a \rightarrow b$
- 10 在個人效用極大化、兩期（第一期與第二期）消費選擇的模型中，在利息收入課稅但利息費用不可列為扣除額的稅制下，下列敘述何者錯誤？
(A)儲蓄者必定增加儲蓄
(B)借款者的借款決策不會改變
(C)儲蓄者儲蓄的增減視所得效果和替代效果的相對大小而定
(D)對儲蓄者而言，替代效果將使其儲蓄減少
- 11 關於「政府對資本利得課稅」以及人民「風險承擔」的關係，下列敘述何者錯誤？
(A)課稅後報酬率降低，降低人民承擔風險的意願
(B)課稅後報酬率提高，也提高人民承擔風險的意願
(C)損失可全額列為扣除額會提高人民承擔風險的意願
(D)如果政府對資本利得課稅並且允許損失全額扣除，無法確定人民承擔風險意願會如何改變
- 12 甲的邊際稅率為0.4，乙的邊際稅率為0.05。假設慈善捐款可以全額列入扣除額（deduction），下列敘述何者正確？
(A)甲慈善捐款2萬元後，其應納稅額可以減少2萬元
(B)甲慈善捐款2萬元後，其應納稅額可以減少8,000元
(C)如果甲、乙同樣有慈善捐款2萬元，乙比甲減少較多的應納稅額
(D)如果甲、乙同樣有慈善捐款2萬元，甲、乙兩人應納稅額減少相同的金額
- 13 假設李先生適用的邊際稅率為40%，課稅的有價證券報酬率為5%，免稅政府債券的利率為3.5%，李先生追求稅後所得最大，則下列敘述何者正確？
(A)李先生應該購買課稅的有價證券，因為其稅前報酬率較高
(B)李先生應該購買免稅政府債券，因為他不會有租稅負擔
(C)李先生應該購買免稅政府債券，但他仍然有租稅負擔
(D)李先生應該購買課稅的有價證券，因為其稅後報酬率較高

- 14 個人出售105年後取得之房地產，在計算其課稅所得時，稅法允許將計算土地增值稅之土地增值總數額扣除，原因為何？
(A)避免重複課稅 (B)以稅額扣抵方式給予租稅優惠
(C)防止產生稅負急遽效果 (bunching effect) (D)降低納稅者之遵從成本 (compliance cost)
- 15 根據我國所得稅法的規定，對於受贈自其他個人而取得之財產免徵所得稅，其理由為何？
(A)不屬於Haig-Simons定義之所得 (B)稽徵成本太高
(C)配合社會福利政策 (D)避免重複課稅
- 16 依據所得稅法相關規定，納稅義務人與其配偶可以選擇各類所得是否分開計算稅額，該項規定主要考量為何？
(A)降低租稅嫁妝 (tax dowry) (B)稅制的婚姻中立性 (marriage neutral)
(C)增加政府稅收 (D)提升所得稅的累進程度
- 17 在分析公司所得稅租稅歸宿時，將公司所得稅視為對資本的報酬課稅，而不是對公司的利潤課稅，其理由為何？
(A)公司所得稅的稅基不包括經濟利潤
(B)借款的利息費用被包括在公司所得稅的稅基內
(C)股東投資的機會成本被包括在公司所得稅的稅基內
(D)公司所得稅對保留盈餘不課稅
- 18 我國於107年將未分配盈餘加徵營利事業所得之法定稅率從10%調降至5%，該項稅率調降政策可達成下列何種目的？
(A)降低稅負之急遽效果
(B)降低公司之順從成本
(C)減輕公司以保留盈餘方式累積資金之稅負成本
(D)提供公司發放更多股利給股東之誘因
- 19 下列那些不須依所得基本稅額條例規定繳納所得稅？①在中華民國境內無固定營業場所之公司組織 ②獨資或合夥組織之營利事業 ③各級政府公有事業 ④教育、文化、公益、慈善機關或團體
(A)①②③④ (B)僅②③④ (C)僅③④ (D)僅①③
- 20 關於我國加值型營業稅之敘述，下列何者正確？
(A)為單一階段特種消費稅 (B)為單一階段一般消費稅
(C)為多階段特種消費稅 (D)為多階段一般消費稅
- 21 關於加值型營業稅之零稅率，係指下列何者？
(A)免課稅 (B)於進口貨物時使用
(C)銷項稅率為零，進項稅額可退回或扣抵 (D)不得申請退稅
- 22 對於我國現行特種貨物及勞務稅之敘述，下列何者正確？
(A)採從量課稅 (B)採比例稅率課稅
(C)採屬人兼屬地課稅原則 (D)對房屋、土地買賣所賺取之資本利得加以課稅
- 23 有關對不動產課徵財產稅之敘述，下列何者正確？
(A)臺灣目前對不動產課徵的土地稅、房屋稅、契稅，屬於國稅
(B)容易產生租稅輸出 (tax export) 的現象
(C)依傳統觀點之財產稅歸宿分析，在土地供給固定且土地為高所得者持有下，認為土地稅為累進稅
(D)依傳統觀點之財產稅歸宿分析，對土地課稅視為對資本課稅
- 24 有關財產稅歸宿分析之論述，下列何者正確？
(A)傳統觀點認為土地稅的累進性大於房屋稅的累退性
(B)在部分均衡分析下，傳統觀點認為租稅歸宿與供需彈性有關
(C)在新觀點下，當所有地區皆課徵相同比例之財產稅時，稅負將完全由住宅消費者負擔
(D)利益觀點將財產稅視為定額稅，因此對財產課稅不會有超額負擔
- 25 依遺產及贈與稅法規定，下列何者死亡時應就其境內境外全部遺產課徵遺產稅？
(A)經常居住在中華民國境內之中華民國國民
(B)經常居住在中華民國境外之中華民國國民
(C)經常居住在中華民國境內之非中華民國國民
(D)經常居住在中華民國境外之非中華民國國民

測驗式試題標準答案

考試名稱：109年公務人員高等考試三級考試暨普通考試

類科名稱：財稅行政

科目名稱：租稅各論（試題代號：4325）

更多高普考考試科目的歷屆題庫
立即上網搜尋“高普考歷屆考古題懶人包”
高鋒公職補習班整理
Line@帳號：@gaofeng
連絡電話：07-236-7296

單選題數：25題

單選每題配分：2.00分

複選題數：

複選每題配分：

標準答案：

題號	第1題	第2題	第3題	第4題	第5題	第6題	第7題	第8題	第9題	第10題
答案	D	C	A	D	C	A	A	D	A	A

題號	第11題	第12題	第13題	第14題	第15題	第16題	第17題	第18題	第19題	第20題
答案	B	B	C	A	D	B	C	C	A	D

題號	第21題	第22題	第23題	第24題	第25題	第26題	第27題	第28題	第29題	第30題
答案	C	B	C	B	A					

題號	第31題	第32題	第33題	第34題	第35題	第36題	第37題	第38題	第39題	第40題
答案										

題號	第41題	第42題	第43題	第44題	第45題	第46題	第47題	第48題	第49題	第50題
答案										

題號	第51題	第52題	第53題	第54題	第55題	第56題	第57題	第58題	第59題	第60題
答案										

題號	第61題	第62題	第63題	第64題	第65題	第66題	第67題	第68題	第69題	第70題
答案										

題號	第71題	第72題	第73題	第74題	第75題	第76題	第77題	第78題	第79題	第80題
答案										

題號	第81題	第82題	第83題	第84題	第85題	第86題	第87題	第88題	第89題	第90題
答案										

題號	第91題	第92題	第93題	第94題	第95題	第96題	第97題	第98題	第99題	第100題
答案										

備註：

測驗題標準答案更正

考試名稱：109年公務人員高等考試三級考試暨普通考試

類科名稱：財稅行政

科目名稱：租稅各論

單選題數：25題

單選每題配分：2.00分

複選題數：

複選每題配分：

更多高普考考試科目的歷屆題庫
立即上網搜尋“高普考歷屆考古題懶人包”
高鋒公職補習班整理
Line@帳號：@gaofeng
連絡電話：07-236-7296

標準答案：答案標註#者，表該題有更正答案，其更正內容詳見備註。

題號	第1題	第2題	第3題	第4題	第5題	第6題	第7題	第8題	第9題	第10題
答案	D	C	A	D	C	A	A	D	A	A

題號	第11題	第12題	第13題	第14題	第15題	第16題	第17題	第18題	第19題	第20題
答案	B	B	C	A	D	B	C	C	#	D

題號	第21題	第22題	第23題	第24題	第25題	第26題	第27題	第28題	第29題	第30題
答案	C	B	C	B	A					

題號	第31題	第32題	第33題	第34題	第35題	第36題	第37題	第38題	第39題	第40題
答案										

題號	第41題	第42題	第43題	第44題	第45題	第46題	第47題	第48題	第49題	第50題
答案										

題號	第51題	第52題	第53題	第54題	第55題	第56題	第57題	第58題	第59題	第60題
答案										

題號	第61題	第62題	第63題	第64題	第65題	第66題	第67題	第68題	第69題	第70題
答案										

題號	第71題	第72題	第73題	第74題	第75題	第76題	第77題	第78題	第79題	第80題
答案										

題號	第81題	第82題	第83題	第84題	第85題	第86題	第87題	第88題	第89題	第90題
答案										

題號	第91題	第92題	第93題	第94題	第95題	第96題	第97題	第98題	第99題	第100題
答案										

備註：第19題答B給分。

代號:32580
頁次:4-1

109年公務人員高等考試三級考試試題

類 科：財稅行政
科 目：稅務法規
考試時間：2小時

※注意：禁止使用電子計算器。

更多高普考考試科目的歷屆題庫
立即上網搜尋“高普考歷屆考古題懶人包”
高鋒公職補習班整理
Line@帳號：@gaofeng
連絡電話：07-236-7296

座號：_____

甲、申論題部分：(50分)

- (一)不必抄題，作答時請將試題題號及答案依照順序寫在申論試卷上，於本試題上作答者，不予計分。
- (二)請以藍、黑色鋼筆或原子筆在申論試卷上作答。
- (三)本科目除專門名詞或數理公式外，應使用本國文字作答。

一、請說明我國遺產稅之納稅義務人、課徵對象及其課稅範圍。(25分)

二、請分別依所得稅及土地增值稅說明目前我國關於出售自用住宅房地相關的租稅優惠措施。(25分)

乙、測驗題部分：(50分)

代號：8325

- (一)本測驗試題為單一選擇題，請選出一個正確或最適當的答案，複選作答者，該題不予計分。
- (二)共25題，每題2分，須用2B鉛筆在試卡上依題號清楚劃記，於本試題或申論試卷上作答者，不予計分。

- 1 有關綜合所得稅之課稅，下列敘述何者錯誤？
 - (A)所得係淨資產增加，如果納稅者被詐騙遭受財產損失，並無所得
 - (B)課稅所得採取所得實現原則，財產單純帳面增值，所得尚未實現，仍不課稅
 - (C)犯罪所得之物，經檢察官或法院發還被害人後，仍應納入犯罪行為人之所得課稅
 - (D)個人所得歸屬年度，採取收付實現原則，以實際取得所得之日期為準
- 2 司法院釋字第745號解釋對於薪資所得課稅之解釋以及後續修法處理，下列敘述何者錯誤？
 - (A)本於量能課稅原則，所得課稅應以收入減除成本及必要費用後的客觀淨值，而非所得毛額，作為稅基
 - (B)有關客觀淨值作為課稅所得之要求，於各類所得之計算均應有其適用。以定額扣除額為必要費用之總額推估，亦應符合上開要求
 - (C)關於薪資所得之計算，僅許定額扣除，而不許薪資所得者於該年度之必要費用超過法定扣除額時，得以列舉或其他方式減除必要費用，與執行業務所得課稅計算方式比較，形成顯然之差別待遇，而與憲法第7條平等權保障之意旨不符
 - (D)現行所得稅法為遵照司法院釋字第745號解釋客觀淨值之課稅原則，納稅義務人為獲得薪資收入所需投入之各項費用，均可列舉扣除
- 3 律師某甲在臺北市執行業務，於民國107年度每個案件每一審級代理訴訟收費新臺幣（以下亦同）8萬元，當年度共辦理30件代理訴訟案件，利用自己住家辦公，並僱用助理一名，因為節省費用開支並未記帳，假設當年度因為執行業務疏失賠償當事人100萬元。於108年間申報107年度綜合所得稅時，按照財政部規定107年度執行業務者收入及費用標準，每件申報收入4萬元，合計120萬元，費用按照收入30%申報扣除36萬元，另外申報扣除損失100萬元，故當年度申報虧損16萬元，試問下列敘述何者錯誤？
 - (A)財政部規定執行業務者收入及費用標準，不得作為納稅義務人短漏報所得之依據
 - (B)某甲當年度收入以多報少，涉及短漏報所得，其應申報實際收入應為240萬元
 - (C)納稅義務人未保持帳簿憑證，律師執行業務所得之計算，得按照收入30%推估其費用金額
 - (D)某甲進行租稅規劃，屬於合法節稅行為

- 4 納稅義務人某甲為獲得收入而投入之成本費用；下列何種成本費用支出，在所得稅法上不得作為成本費用扣除之減項？
- (A)某甲參與投標政府採購案而投入備標費用，但某甲並未得標
(B)某甲為了接洽營業客戶而搭乘計程車之費用
(C)某甲出差期間因赴約洽公遲到而闖紅燈，被裁處交通違規之罰鍰
(D)某甲為營業使用而購置小汽車一部，偶而於假日期間也可能開車搭載家人郊遊
- 5 綜合所得稅之扣除額中，下列何者之扣除額度每人每年可扣除金額之上限最高，且不隨著消費者物價指數作調整？
- (A)非健保之保險費 (B)身心障礙特別扣除 (C)教育學費特別扣除 (D)長期照顧特別扣除
- 6 A公司會計年度採七月制，則A公司108年度營利事業所得稅結算申報期間及暫繳申報期間分別為何？
- (A)109年11月1日～109年11月30日、109年3月1日～109年3月31日
(B)109年9月1日～109年9月30日、109年3月1日～109年3月31日
(C)109年11月1日～109年11月30日、109年1月1日～109年1月31日
(D)109年12月1日～109年12月31日、109年1月1日～109年1月31日
- 7 林先生將其名下房屋無償借與朋友開律師事務所，應該如何課徵綜合所得稅？
- (A)林先生若能提示無償借用契約，則免計入綜合所得稅申報納稅
(B)林先生若能提示無償借用契約，則依10%分離課稅
(C)應參照當地一般租金情況，計算租賃收入，繳納所得稅
(D)應參照當地一般租金情況，計算租賃收入，減半繳納所得稅
- 8 我國境內某甲公司投資海外避稅天堂國家英屬維京群島設立百分之百持股之子公司某乙，乙公司只是紙上公司，並無辦公場所，甲公司銷售貨物與美國客戶丙公司，實際上由甲公司直接出貨交付丙公司，但在交易合約安排上，則由甲公司銷售與乙公司，再由乙公司銷售與丙公司，使銷售利潤歸屬乙公司。請問下列敘述何者錯誤？
- (A)本案屬於合法租稅規劃，租稅法應尊重納稅者私法契約自由原則
(B)本案屬於租稅規避行為，應調整補稅
(C)本於實質課稅原則，乙公司實質上並未從事銷售之經濟活動，故本案應認為實質上交易關係存在於甲公司與丙公司之間
(D)本案乙公司之銷售利潤，應視為甲公司銷售行為之利潤，應直接歸屬於甲公司之所得課稅
- 9 我國現行營業稅之課稅，下列敘述何者錯誤？
- (A)營業稅為境內消費稅，對於在我國境內銷售貨物或勞務以及進口貨物或勞務課稅
(B)一般營業稅屬於多階段加值型營業稅，對於每個銷售流程課稅，只就每一個銷售階段的加值部分課稅，以避免重複課稅
(C)在買賣業，於發貨時應開立發票納稅，對於應收帳款課稅，嗣後該應收帳款變成呆帳，可能無法轉嫁給買受人負擔
(D)營業稅屬於間接稅，轉嫁給最終消費者負擔，而銷售出口貨物則給予銷售免稅
- 10 外國之事業、機關、團體、組織，在中華民國境內無固定營業場所，銷售電子勞務予境內自然人，在何種條件下應向主管稽徵機關申請稅籍登記及報繳營業稅？
- (A)月銷售額達新臺幣48萬元 (B)月銷售額逾新臺幣48萬元
(C)年銷售額達新臺幣48萬元 (D)年銷售額逾新臺幣48萬元

- 11 依加值型及非加值型營業稅法規定，下列何者並非零稅率之適用範圍？
- (A)出口原物料到美國
(B)非保稅區營業人向保稅區營業人購買機器設備
(C)位於新竹科學工業園區內之A公司向同樣位於園區內之B公司提供技術服務
(D)位於楠梓加工出口區內之C公司銷售機器給新竹科學工業園區內之D公司
- 12 量販店所銷售之下列商品，何者須課徵營業稅？
- (A)鳳梨罐頭 (B)新鮮水果 (C)雞蛋 (D)鮮乳
- 13 依現行遺產及贈與稅法規定，下列有關視同贈與之敘述，何者正確？
- (A)以自己資金無償為他人購置不動產，以購買不動產之資金，計入贈與總額
(B)以顯著不相當之代價出資為他人購置財產者，其出資與代價之差額部分，計入贈與總額
(C)三親等以內親屬間財產之買賣，未能提出支付證明
(D)無行為能力人以自有資金所購置之財產，並提出自有資金證明，仍應視為法定代理人之贈與
- 14 依現行規定，下列那些捐贈項目在結算申報綜合所得稅時，列舉扣除額額度不得超過綜合所得總額之20%？①指定捐贈特定運動員 ②私立學校興學基金會，指定捐款特定學校 ③對公益、慈善機構或團體 ④出資贊助維護或修復古蹟
- (A)①②③ (B)②③ (C)①③ (D)②④
- 15 有關土地增值稅之課徵，下列敘述何者錯誤？
- (A)土地增值稅在土地所有權移轉時課徵，如買賣契約因故解除，並未辦理產權移轉，則應准予雙方當事人申請撤銷現值申報，並退還已納稅款
(B)在法院拍賣土地，拍定價格低於公告現值者，其移轉現值，仍應以公告現值為準
(C)有關買賣土地移轉，本次移轉現值，得以公告現值為準，不以實際買賣交易價格申報
(D)在繼承土地再行移轉，原則上應以繼承時公告現值作為前次移轉現值
- 16 依現行土地稅法規定，下列何者須課徵土地增值稅？
- (A)重劃後第一次移轉之重劃土地 (B)因繼承而移轉之土地
(C)各級政府出售之公有土地 (D)各級政府受贈之私有土地
- 17 土地稅法有關自用住宅用地土地增值稅之課徵，下列敘述何者錯誤？
- (A)欲申請一生一次自用住宅用地優惠稅率課徵土地增值稅，出售前1年內不得有出租或供營業使用之情形
(B)一生一次自用住宅用地優惠稅率課徵土地增值稅，都市土地面積以3公畝為限、非都市土地面積以7公畝為限
(C)欲申請一生一屋自用住宅用地優惠稅率課徵土地增值稅，出售前6年內不得有出租或供營業使用之情形
(D)一生一屋自用住宅用地優惠稅率課徵土地增值稅，都市土地面積以1.5公畝為限、非都市土地面積3.5公畝為限
- 18 依現行土地稅法規定，下列敘述何者正確？
- (A)一般用地地價稅之基本稅率為10%
(B)超過累進起點地價，隨著超過累進起點地價倍數課徵累進稅率，最高稅率為6%
(C)土地所有權人得於公告地價期間自行申報地價，申報地價之核定標準介於公告地價之80%至120%間
(D)土地所有權人得於公告地價期間自行申報地價，未申報地價者，以公告地價70%為其申報地價

- 19 有關契稅之課徵，下列敘述何者錯誤？
- (A)契稅為「不動產取得稅」，亦屬於房屋不動產之「特別銷售稅」之性質
 - (B)契稅之納稅義務人原則上為取得不動產之人，包括自然人及法人等在內
 - (C)契稅課稅對象為不動產之買賣債權行為，如果尚未辦妥產權移轉登記之前，嗣後解除買賣契約「回復原狀」時，因並未取得不動產產權，實務上行政函釋認為應准予註銷應繳契稅
 - (D)房屋買賣不動產移轉契稅之稅基，應以實際買賣交易價格計算
- 20 下列有關房屋稅之敘述，何者正確？
- (A)房屋違建部分免課房屋稅
 - (B)信託關係存續中，房屋稅之納稅義務人為受託人
 - (C)設有典權之房屋，房屋稅之納稅義務人為出典人
 - (D)不動產評價委員會應由當地民意機關及有關人民團體推派代表參加，人數不得少於總額1/2
- 21 有關租稅規避行為之敘述，下列何者錯誤？
- (A)納稅義務人為獲得租稅利益，濫用法律形式安排，規避課稅要件之該當，以達成與交易常規相當之經濟效果，為租稅規避
 - (B)納稅義務人濫用私法上法律形式的行為，以進行租稅規避，該私法上行為在私法上仍然有效
 - (C)稽徵機關得否認納稅義務人之濫用法律形式之行為，而按交易常規依法予以調整
 - (D)租稅規避行為，並未違反法律，僅屬於鑽法律漏洞行為，故應受私法上契約自由原則以及善意信賴保護原則之保護
- 22 109年地價稅之徵期為11月1日至11月30日，其核課期間之起算日為109年何日？
- (A)11月1日
 - (B)11月30日
 - (C)12月1日
 - (D)6月1日
- 23 納稅義務人因不可抗力之事由，不能於法定期間內繳清稅捐者，所作之相關處理，下列敘述何者正確？
- (A)於規定納稅期間內，向稅捐稽徵機關申請延期或分期繳納，其延期或分期繳納之期間，不得逾3年
 - (B)於規定納稅期間內，向稅捐稽徵機關申請延期或分期繳納，其延期或分期繳納之期間，不得逾2年
 - (C)於規定納稅期間屆滿後，向稅捐稽徵機關申請延期或分期繳納，其延期或分期繳納之期間，不得逾3年
 - (D)於規定納稅期間屆滿後，向稅捐稽徵機關申請延期或分期繳納，其延期或分期繳納之期間，不得逾2年
- 24 申請行政救濟之案件是否受理，應優先考慮下列何項原則？
- (A)實質課稅原則
 - (B)新法優於舊法原則
 - (C)程序不符實體不究原則
 - (D)實體從舊程序從新原則
- 25 有關進口貨物或勞務之現行營業稅課稅方式，下列敘述何者正確？
- (A)為鼓勵國人愛用國貨之經濟政策目的，對於進口貨物或勞務納入課徵營業稅
 - (B)基於統治權行使範圍考量，為便於稽徵機關調查課稅，進口貨物，不論進口人為營業人或自然人，均以進口人為納稅義務人，並由海關代徵
 - (C)為公平課稅，價格金額低於新臺幣2千元之進口貨物，於進口時，由快遞業者作為代繳營業稅捐之義務人
 - (D)為提升稽徵效率，跨境電商銷售勞務與國內營業人時，以境外電商為營業稅納稅義務人

測驗式試題標準答案

考試名稱：109年公務人員高等考試三級考試暨普通考試

類科名稱：財稅行政

科目名稱：稅務法規（試題代號：8325）

更多高普考考試科目的歷屆題庫
立即上網搜尋“高普考歷屆考古題懶人包”
高鋒公職補習班整理
Line@帳號：@gaofeng
連絡電話：07-236-7296

單選題數：25題

單選每題配分：2.00分

複選題數：

複選每題配分：

標準答案：

題號	第1題	第2題	第3題	第4題	第5題	第6題	第7題	第8題	第9題	第10題
答案	C	D	D	C	D	A	C	A	D	D

題號	第11題	第12題	第13題	第14題	第15題	第16題	第17題	第18題	第19題	第20題
答案	B	A	B	C	B	A	C	C	D	B

題號	第21題	第22題	第23題	第24題	第25題	第26題	第27題	第28題	第29題	第30題
答案	D	C	A	C	B					

題號	第31題	第32題	第33題	第34題	第35題	第36題	第37題	第38題	第39題	第40題
答案										

題號	第41題	第42題	第43題	第44題	第45題	第46題	第47題	第48題	第49題	第50題
答案										

題號	第51題	第52題	第53題	第54題	第55題	第56題	第57題	第58題	第59題	第60題
答案										

題號	第61題	第62題	第63題	第64題	第65題	第66題	第67題	第68題	第69題	第70題
答案										

題號	第71題	第72題	第73題	第74題	第75題	第76題	第77題	第78題	第79題	第80題
答案										

題號	第81題	第82題	第83題	第84題	第85題	第86題	第87題	第88題	第89題	第90題
答案										

題號	第91題	第92題	第93題	第94題	第95題	第96題	第97題	第98題	第99題	第100題
答案										

備註：

109年公務人員高等考試三級考試試題

代號：32570
32670
頁次：7-1

類 科：財稅行政、金融保險

科 目：會計學

考試時間：2小時

※注意：可以使用電子計算器。

甲、申論題部分：(50分)

- (一)不必抄題，作答時請將試題題號及答案依照順序寫在申論試卷上，於本試題上作答者，不予計分。
(二)請以藍、黑色鋼筆或原子筆在申論試卷上作答。
(三)本科目除專門名詞或數理公式外，應使用本國文字作答。

更多高普考考試科目的歷屆題庫
立即上網搜尋“高普考歷屆考古題懶人包”
高鋒公職補習班整理
Line@帳號：@gaofeng
連絡電話：07-236-7296

座號：_____

一、福氣公司在20X8年，稅後淨利\$2,800,000，另有下列股權相關資訊：

1. 普通股：每股面額\$10

日期：交易	在外流通股數	累積在外流通股數
1月1日：期初餘額		500,000
4月1日：購回庫藏股	(50,000)	450,000
9月1日：發放股票股利	90,000	540,000
11月1日：現金增資	180,000	720,000

2. 特別股：20X7年初發行，每股面額\$10，在外流通數量10,000股，股利率6%，具累積股利條件。20X8年，該特別股符合權益定義，無積欠股利，且公司當年度有宣告股利。

假定20X9年，普通股有兩項交易：(1)7月1日，之前購回的庫藏股50,000股，賣出30,000股；(2)8月1日，現金增資150,000股。同年10月1日，公司以\$660,000發行一筆可轉換公司債，面額\$600,000，票面利率8%，可轉換為20,000股普通股，其中負債組成部分為\$600,000，權益部分為\$60,000，且該可轉換公司債至年底尚未進行轉換。另福氣公司在20X9年1月1日，授予其總經理5,000單位的員工認股選擇權，只要繼續在公司服務滿3年，每單位認股權可以用\$15認購1股普通股，授予當時每單位選擇權的公允價值為\$6，當年底(12月31日)員工尚須提供服務的每股公允價值為\$5，並預估該總經理明年會繼續留任。

請回答下列問題：

- (一)計算20X8年的加權平均流通在外普通股的股數。(4分)
(二)計算20X8年的基本每股盈餘(四捨五入取到小數點以下2位)。(4分)
(三)福氣公司於20X9年有關員工認股選擇權的分錄為何?(4分)
(四)計算20X9年的加權平均流通在外普通股的股數。(4分)
(五)假定20X9年，福氣公司的稅後淨利為\$4,600,000，所得稅率25%，普通股全年平均市價為\$25，計算20X9年的基本每股盈餘與稀釋每股盈餘(四捨五入取到小數點以下2位)。(8分)

二、品容公司於20X8年成立，主要經營消費性3C產品的製造與銷售，下列為公司在20X9年底的資產負債與損益等資訊：

資產負債（部分）			
資產	20X9年12月31日	20X8年12月31日	增(減)
現金	\$ 145,000	\$ 58,000	\$ 87,000
應收帳款	20,000	8,000	12,000
預付費用	7,500	3,000	4,500
生產設備	250,000	100,000	150,000
累計折舊—設備	(35,000)	(10,000)	25,000
資產總計	\$ 387,500	\$ 159,000	
負債與權益	20X9年12月31日	20X8年12月31日	增(減)
應付費用	\$ 5,000	\$ 2,000	\$ 3,000
合約負債	17,500	7,000	10,500
普通股	330,000	140,000	190,000
保留盈餘	35,000	10,000	25,000
負債與權益總計	\$ 387,500	\$ 159,000	

損益（部分）		
營業收入		\$ 180,000
營業費用		
折舊費用	\$ 25,000	
其他費用	95,000	(120,000)
稅前淨利		60,000
所得稅費用		(12,000)
本期淨利		\$ 48,000

其他相關資訊：

1. 20X9年初，公司為了因應擴大產能的需求，購入新生產設備一批，型號與20X8年購入的相同，耐用年限預估為10年，殘值設定為\$0，採直線法提列折舊，並以成本模式進行後續衡量。
2. 20X8年與20X9年，普通股均以現金發行。20X9年有宣告現金股利\$23,000。

3. 公司目前所有負債，均屬流動負債。

品容公司以直接法編製20X9年現金流量表，並將現金股利的發放，自20X8年起歸類為籌資活動，試回答下列問題：

- (一)營業活動的淨現金流量為何？(8分)
- (二)投資活動的淨現金流量為何？(6分)
- (三)籌資活動的淨現金流量為何？(6分)
- (四)品容公司於20X9年的現金流量比率為何(四捨五入取到小數點以下2位)？(6分)

乙、測驗題部分：(50分)

代號：7325

(一)本測驗試題為單一選擇題，請選出一個正確或最適當的答案，複選作答者，該題不予計分。

(二)共25題，每題2分，須用2B鉛筆在試卡上依題號清楚劃記，於本試題或申論試卷上作答者，不予計分。

1 甲公司X9年有關其他綜合損益項目之資訊如下：

無形資產重估增值	\$20,000 (貸方)
不動產、廠房及設備重估增值	\$80,000 (貸方)
國外營運機構財務報表換算之兌換差額	\$30,000 (貸方)
確定福利計畫之再衡量數	\$50,000 (借方)
現金流量避險中屬有效避險部分之避險工具利益	\$40,000
透過其他綜合損益按公允價值衡量債券投資未實現評價損失	\$10,000
透過其他綜合損益按公允價值衡量股票投資未實現評價利益	\$60,000

試問甲公司後續可能重分類至損益之其他綜合損益組成項目，其加總之金額為何(不考慮所得稅影響)？

(A)\$60,000 (貸方) (B)\$60,000 (借方) (C)\$30,000 (貸方) (D)\$20,000 (借方)

2 X9年12月1日甲公司將帳面金額\$1,000,000的應收帳款以有限追索權方式出售給乙銀行，並保證移轉的應收帳款最少可收現\$600,000，3個月內可收現完畢，乙銀行負責向客戶收款，且不得轉售該應收帳款。乙銀行向甲公司收取應收帳款總額3%作為手續費，甲公司取得現金\$970,000，保證負債的公允價值為\$45,000，試問甲公司移轉應收帳款對X9年度損益之影響為何？

(A)淨利減少\$30,000 (B)淨利減少\$45,000 (C)淨利減少\$60,000 (D)淨利減少\$75,000

3 甲公司於X9年底盤點倉庫存貨，在成本與淨變現價值孰低法下之期末存貨為\$850,000，但該項盤點未計入甲公司寄銷於乙百貨行之商品，該批商品成本為\$200,000，乙百貨行收取銷售金額的15%作為佣金，目前該批商品市價為\$180,000。甲公司另有一筆分期收款銷貨\$60,000，成本為\$25,000，客戶尚有60%之貨款未繳清。甲公司另購買\$55,000商品一批，目的地交貨，X9年底已在海運途中。試問甲公司X9年底資產負債表上應有之存貨金額為何？

(A)\$1,030,000 (B)\$1,023,000 (C)\$1,018,000 (D)\$1,003,000

- 4 甲公司X1年度可供銷售商品零售價總額為\$1,600,000，有關存貨零售價資料如下：銷貨總額（不含員工折扣）\$1,160,000，銷貨折扣\$20,000，員工折扣\$40,000，銷貨讓價\$24,000，銷貨退回\$80,000，正常損耗\$35,000，銷貨運費\$120,000，則甲公司X1年期末存貨零售價為何？
(A)\$445,000 (B)\$465,000 (C)\$515,000 (D)\$569,000
- 5 X9年1月1日甲公司為建造廠房向銀行辦理專案借款\$6,000,000，專案借款利率為10%，銀行於當日即撥款\$6,000,000至甲公司銀行存款帳戶中。甲公司於X9年1月2日投入工程支出\$2,400,000，8月1日再投入工程支出\$3,600,000，未動用之借款資金有存款利息4%，試問甲公司X9年度應資本化之借款成本是多少？
(A)\$390,000 (B)\$456,000 (C)\$516,000 (D)\$600,000
- 6 甲公司於X5年1月1日購入一部機器，成本\$1,100,000，估計耐用年限10年，殘值\$100,000，採直線法提列折舊，並採重估價模式，重估增值於資產使用期間逐年轉入保留盈餘。甲公司每年均辦理重估價，殘值及剩餘耐用年限不變，公允價值資料如下：
- | | X5年12月31日 | X6年12月31日 | X7年12月31日 |
|------|-------------|-------------|-----------|
| 公允價值 | \$1,180,000 | \$1,060,000 | \$695,000 |
- 試問甲公司X7年底應認列重估價損失為何？
(A)\$65,000 (B)\$105,000 (C)\$145,000 (D)\$245,000
- 7 甲公司X9年初配合政府環保政策購置防治污染設備，獲得政府低利貸款\$2,000,000，貸款利率1%，期限3年，每年底付息，3年屆滿還本，當時市場利率為5%。該防治污染設備成本\$5,000,000，耐用年限5年，殘值\$50,000，採直線法折舊。試問甲公司X9年度應認列政府補助利益為何？
（\$1，1%，3期普通年金現值因子2.94099；\$1，1%，3期複利現值因子0.97059；
\$1，5%，3期普通年金現值因子2.72325；\$1，5%，3期複利現值因子0.86384）
(A)\$89,107 (B)\$76,190 (C)\$69,107 (D)\$43,571
- 8 甲公司於X7年初購入一機器設備，成本\$1,280,000，耐用年限5年，殘值\$80,000，採年數合計法提列折舊，後續衡量採成本模式。X8年底該機器設備有減損跡象，估計使用價值為\$360,000，公允價值減處分成本為\$340,000，剩餘耐用年限為2年，無殘值，並改直線法折舊。若X9年底機器設備之使用價值為\$240,000，公允價值減處分成本為\$236,000，則甲公司X9年底有關減損之會計處理，下列敘述何者正確？
(A)認列減損迴轉利益\$60,000 (B)認列減損迴轉利益\$66,000
(C)認列減損迴轉利益\$100,000 (D)認列減損損失\$80,000
- 9 甲公司於X9年1月1日以\$11,700,000購入一棟辦公大樓，預計未來出租賺取租金，另支付代書及過戶登記費共計\$300,000，估計該辦公大樓可使用40年，無殘值。該辦公大樓於X9年7月1日出租，每月期初收取租金\$250,000。若甲公司對投資性不動產後續衡量採公允價值模式，X9年12月31日該棟辦公大樓公允價值為\$12,750,000，則該辦公大樓之相關交易或事項對甲公司X9年度之淨利影響為何？
(A)淨利增加\$1,200,000 (B)淨利增加\$1,500,000
(C)淨利增加\$1,950,000 (D)淨利增加\$2,250,000

- 10 甲農場有80隻綿羊，X9年11月初共剪下400公斤羊毛，當時每公斤羊毛之公允價值為\$3,500，其中30%於X9年底尚未出售。若出售成本為售價的10%，X9年底每公斤羊毛之公允價值為\$3,800，則X9年底資產負債表上列示該批羊毛之金額為何？
(A)\$378,000 (B)\$410,400 (C)\$420,000 (D)\$456,000
- 11 甲公司X9年因排放污水，經環保單位查獲，該公司法律顧問研判，很有可能被處罰鍰\$5,000,000，並應負責清除污染，估計成本為\$2,500,000。甲公司已向保險公司投保環境污染險，保額\$10,000,000，保險公司已承諾在保額範圍內理賠甲公司因排放污水產生的相關損失，惟理賠時甲公司應自負\$3,000,000之損失，試問甲公司X9年應認列負債準備之金額為何？
(A)\$2,500,000 (B)\$3,000,000 (C)\$5,000,000 (D)\$8,000,000
- 12 甲公司於X8年1月1日按面額發行可轉換公司債\$1,000,000，5年期，利率8%，每年12月31日付息，發行半年後及到期日前半年公司債持有人得按每股\$40的價格轉換成面額\$10之甲公司普通股。發行當時不含轉換權公司債之公允價值為\$924,183，有效利率10%，甲公司以有效利率法攤銷折溢價。X9年7月1日全部公司債轉換為普通股，當日甲公司普通股每股市價\$50，可轉換公司債公允價值為\$1,250,000，且甲公司支付利息至轉換日，則轉換時甲公司應貸記資本公積之金額為何？
(A)\$769,248 (B)\$809,248 (C)\$1,075,817 (D)\$1,125,817
- 13 甲公司於X7年12月31日開立票據一紙向乙銀行借款\$1,000,000，票面利率8%，每年底付息一次，X10年12月31日到期，有效利率為8%。X8年甲公司面臨財務危機，在支付X8年利息\$80,000之後，向乙銀行申請債務協商。雙方於X8年12月31日同意到期本金降為\$900,000，利率降為2%，到期日延長至X11年12月31日，利息每年年底支付。甲公司支付第三方協商手續費\$5,000，假設債務整理當時有效利率為10%，試問甲公司X9年應認列之利息費用是多少？
(\$1，8%，3期普通年金現值因子2.57710；\$1，8%，3期複利現值因子0.79383；
\$1，10%，3期普通年金現值因子2.48685；\$1，10%，3期複利現值因子0.75131)
(A)\$0 (B)\$60,867 (C)\$72,094 (D)\$76,084
- 14 甲公司於X7年初給予總經理一項權利，若總經理繼續服務滿3年，則可於X9年底既得日選擇取得相當於4,000股股票之現金，或面額\$10之普通股4,700股。若選擇領取股票，則於既得日後2年內不得出售。甲公司給與日之股價為每股\$50，考慮既得日後限制移轉之效果，估計該限制股票於給與日之公允價值為每股\$46，且預期未來3年不會發放股利。甲公司X7年底、X8年底及X9年底股價分別為\$48、\$51、\$55，則甲公司X8年應認列之薪資費用為何？
(A)\$66,600 (B)\$69,400 (C)\$72,000 (D)\$77,400
- 15 甲公司於X9年初以\$3,020,000發行面額\$3,000,000，票面利率8%，每年12月31日付息，3年後到期之可轉換公司債，每張面額\$1,000之公司債可轉換為50股普通股。該債券發行時，不含轉換權之公司債的市場利率為9%，甲公司有權選擇以普通股或現金清償該公司債之本金。若X9年綜合損益表的當期淨利為\$1,200,000，所得稅率為20%，當期流通在外普通股之加權平均股數為600,000股，則甲公司X9年稀釋每股盈餘為何？
(\$1，8%，3期普通年金現值因子2.57710；\$1，8%，3期複利現值因子0.79383；
\$1，9%，3期普通年金現值因子2.53129；\$1，9%，3期複利現值因子0.77218)
(A)\$1.63 (B)\$1.88 (C)\$1.96 (D)\$2.00

- 16 甲公司於X9年7月初決議處分其紡織部門，該部門符合停業單位之定義。已知X9年紡織部門營業損失為\$200,000，截至X9年底已處分部分紡織部門的生產設備，獲得處分利益\$60,000，X9年底紡織部門淨資產之帳面金額為\$800,000，淨資產之公允價值減出售成本後之金額為\$750,000。X9年底甲公司估計X10年紡織部門處分完成會有額外損失\$40,000。假設所得稅率為20%，則甲公司X9年損益表中列示之停業單位(損)益為何？
(A)\$ (112,000) (B)\$ (152,000) (C)\$ (160,000) (D)\$ (184,000)
- 17 甲公司提出一項客戶忠誠計畫，顧客以\$100購買A商品可獲得獎勵點數，此獎勵點數可以免費兌換B商品，或以折扣價\$30購買C商品，B商品及C商品之正常單獨售價分別為\$20及\$50。甲公司估計60%之顧客會選擇免費兌換B商品，40%之顧客會選擇以折扣價\$30購買C商品，則交易價格應分攤給獎勵點數之金額為何？
(A)\$10.71 (B)\$16.67 (C)\$19.35 (D)\$24.24
- 18 甲公司於X6年1月1日租用一層辦公大樓，租期6年，每年年底支付租金\$1,200,000，甲公司知悉租賃隱含利率為6%。X9年1月1日甲公司將該層辦公大樓轉租給乙公司，租期3年，每年租金\$1,300,000，年底付款，甲公司轉租之隱含利率為7%，試問X9年度甲公司有關租賃之會計處理，何者正確？
(\$1, 6%, 6期普通年金現值因子4.91732 ; \$1, 6%, 6期複利現值因子0.70496 ;
\$1, 7%, 3期普通年金現值因子2.62432 ; \$1, 7%, 3期複利現值因子0.81630)
(A)認列租金收入\$1,300,000 (B)認列利息費用\$224,533
(C)認列轉租利益\$461,224 (D)認列轉租利益\$204,004
- 19 甲公司於X9年1月1日將一部成本\$1,200,000、累計折舊\$400,000之機器，以\$659,900出售給乙公司，旋即租回，甲公司評估該出售符合資產銷售之會計準則規定。租期4年，每年年底支付租金\$150,000，然依當時市場行情，每年租金應為\$170,000。甲公司知悉租賃隱含利率為10%，試問下列有關甲公司X9年1月1日之會計處理何者正確？
(\$1, 10%, 4期普通年金現值因子3.16987 ; \$1, 10%, 4期複利現值因子0.68301)
(A)認列減損損失\$76,703、處分損失\$63,397
(B)認列減損損失\$140,100、使用權資產\$538,878、租賃負債\$538,878
(C)認列處分損失\$25,698、使用權資產\$653,280、租賃負債\$538,878
(D)認列處分損失\$19,581、使用權資產\$596,000、租賃負債\$475,481
- 20 甲公司X9年有關退休金資料如下：
- | | | | | | |
|----------|----------|-----------|------|----------|----------|
| X9/1/1 | 確定福利義務現值 | \$720,000 | X9年度 | 當期服務成本 | \$72,000 |
| | 計畫短絀 | 120,000 | | 計畫資產實際報酬 | 55,000 |
| | 折現率 | 8% | | 精算損失 | 12,000 |
| X9/12/31 | 提撥計畫資產 | 100,000 | | | |
- 則下列敘述何者正確？
(A)X9年度認列於損益之金額為\$62,400
(B)X9年底期末淨確定福利資產為\$13,400
(C)X9年底期末淨確定福利負債為\$106,600
(D)X9年度認列於其他綜合損益之金額為\$5,000利得

- 21 丙公司新進會計人員正以間接法編製現金流量表，X5年相關交易及會計資料如下：權益法認列投資收益\$145,000，購買一台機器付款\$185,000，採權益法之長期股權投資收到股利\$80,000，支付現金股利給股東\$50,000，簽發票據\$105,000取得一筆土地，以面額發行公司債\$250,000。X5年度折舊費用\$45,000。X5年度應收帳款淨額增加\$52,000，存貨增加\$25,000，應付帳款增加\$68,000。X5年度淨利\$80,000，期初現金餘額\$60,000。丙公司X5年的期末現金餘額為何？
- (A)\$66,000 (B)\$126,000 (C)\$176,000 (D)\$231,000
- 22 甲公司與乙公司於X5年1月1日簽訂一年期合約，該合約明定甲公司每月提供清潔服務4次給乙公司，而乙公司則於每月月底以其普通股500股作為取得甲公司服務之對價。乙公司普通股每股公允價值於X5年1月1日為\$12；乙公司普通股於X5年1月、2月、3月底之每股公允價值分別為\$13、\$12、\$15。甲公司於X5年第一季因該合約而認列之勞務收入為何？
- (A)\$18,000 (B)\$19,500 (C)\$20,000 (D)\$22,500
- 23 乙公司債券投資相關資料如下：

	成本	公允價值	
		X6年底	X7年底
透過損益按公允價值衡量	\$360,000	\$330,000	\$420,000
按攤銷後成本衡量	280,000	230,000	260,000

乙公司X7年綜合損益表內，金融資產評價損益為何？

- (A)損失\$20,000 (B)利益\$60,000 (C)利益\$90,000 (D)利益\$120,000
- 24 丁公司X5年1月1日購入一台設備，該設備定價\$105,000，付款條件3/10，n/30，丁公司1月15日支付價款。該設備購入當天，丁公司亦支付下列費用：運費\$3,200、搬運途中不慎損壞之修理費用\$2,000、安裝費\$2,950。該設備估計可用5年，殘值\$3,000，使用年數合計法提列折舊。X7年1月1日，該設備進行重大修理支出\$30,000，估計大修後尚可再使用5年，無殘值。丁公司於X9年9月1日以\$18,000將該設備出售，出售之損益為何？
- (A)利益\$1,520 (B)利益\$2,336 (C)損失\$2,000 (D)損失\$2,336
- 25 甲公司X4年1月初向丁公司融借資金，並開立一張面額\$1,000,000，到期日為X6年12月31日之公司票據給丁公司，該張票據票面利率5%，市場利率5%，甲公司每年年底付息。丁公司於X4年12月31日收到應有利息後，判斷其對甲公司的債權自原始認列後信用風險已經顯著提高，已知各種情況預期未來2年收取的現金流量與可能發生違約機率如下：

	預期收取的現金流量		
	預期收取的本金	每期預期收取的利息	違約機率
情況1	\$850,000	\$40,000	20%
情況2	900,000	45,000	35%
情況3	1,000,000	50,000	45%

丁公司X4年應認列的預期信用損失為何？

- (\$1，5%，2期普通年金現值因子1.859410；\$1，5%，2期複利現值因子0.907029)
- (A)\$0 (B)\$65,930 (C)\$100,000 (D)\$154,649

測驗式試題標準答案

考試名稱：109年公務人員高等考試三級考試暨普通考試

類科名稱：財稅行政、金融保險

科目名稱：會計學（試題代號：7325）

更多高普考考試科目的歷屆題庫
立即上網搜尋“高普考歷屆考古題懶人包”
高鋒公職補習班整理
Line@帳號：@gaofeng
連絡電話：07-236-7296

單選題數：25題

單選每題配分：2.00分

複選題數：

複選每題配分：

標準答案：

題號	第1題	第2題	第3題	第4題	第5題	第6題	第7題	第8題	第9題	第10題
答案	A	C	D	A	C	B	D	A	D	A

題號	第11題	第12題	第13題	第14題	第15題	第16題	第17題	第18題	第19題	第20題
答案	B	A	C	D	B	B	B	C	D	C

題號	第21題	第22題	第23題	第24題	第25題	第26題	第27題	第28題	第29題	第30題
答案	B	C	C	C	B					

題號	第31題	第32題	第33題	第34題	第35題	第36題	第37題	第38題	第39題	第40題
答案										

題號	第41題	第42題	第43題	第44題	第45題	第46題	第47題	第48題	第49題	第50題
答案										

題號	第51題	第52題	第53題	第54題	第55題	第56題	第57題	第58題	第59題	第60題
答案										

題號	第61題	第62題	第63題	第64題	第65題	第66題	第67題	第68題	第69題	第70題
答案										

題號	第71題	第72題	第73題	第74題	第75題	第76題	第77題	第78題	第79題	第80題
答案										

題號	第81題	第82題	第83題	第84題	第85題	第86題	第87題	第88題	第89題	第90題
答案										

題號	第91題	第92題	第93題	第94題	第95題	第96題	第97題	第98題	第99題	第100題
答案										

備註：

類 科：各類科（除公職醫事檢驗師、公職藥師、公職護理師、公職臨床心理師外）
科 目：國文（作文、公文與測驗）
考試時間：2小時

座號：_____

※注意：禁止使用電子計算器。

更多高普考考試科目的歷屆題庫
立即上網搜尋“高普考歷屆考古題懶人包”
高鋒公職補習班整理
Line@帳號：@gaofeng
連絡電話：07-236-7296

甲、作文與公文部分：

- (一)請以藍、黑色鋼筆或原子筆在申論試卷上由左至右橫式作答，於本試題上作答者，不予計分。
(二)不得於試卷上書寫姓名或入場證號。

一、作文：（60分）

胡適曾經以「差不多先生」諷刺我們民族性裡凡事馬馬虎虎，得過且過的毛病，提醒國人行事應當力求精確，認真不苟。然而我們又看到有「大行不顧細謹」、「大事不拘小節」的說法。請問此二說究竟是可以相濟為用呢？抑或相互矛盾？請以「任事應有的態度與做法」為題，作文一篇，闡述己見，文中必須論及上揭二說的相濟為用或相互矛盾。

二、公文：（20分）

鑑於邇來各界對於公務人員不能體察民意掌握輿情，致陳情案件有明顯增加之趨勢，請參考下列資訊，試擬行政院致所屬各機關及各直轄市、縣（市）政府函：為落實「人民的小事，是政府的大事」之施政理念，應本同理心等觀念妥適處理民眾陳情案件，以紓解民怨、保障人權，讓人民有感。

- (一) 陳情，可說是人民向政府表達意見最簡便的管道與方式，有其制度的特性、重要性和功能。
- (二) 依行政程序法規定，人民對於行政興革建議、行政法令查詢、行政違失舉發或行政上權益維護，均可陳情。
- (三) 妥適處理民眾陳情案件，已是公部門優質服務與民眾滿意度的重要指標之一。
- (四) 據統計近三年民眾較常陳情的問題，例如違建、食安、工程弊案……，請行文時至少列舉六項以上（可含上述類型）你認為可能之問題（次序不拘），並檢送該統計表供參。
- (五) 行政程序法陳情專章、行政院及所屬各機關處理人民陳情案件要點，以及各部會、各地方政府自行訂定之處理陳情案件作業規範，希適時檢討。
- (六) 應本良心、同理心行事，不可先入為主。對案情抽絲剝繭，有錯認錯，沒錯詳加說明，並注意品性操守，依法遵期處理陳情案件。
- (七) 對於非理性之陳情行為，仍應抱持親切態度，尊重對方，以專業知能公正處理案件。

乙、測驗部分：(20分)

代號：1201

(一)本測驗試題為單一選擇題，請選出一個正確或最適當的答案，複選作答者，該題不予計分。

(二)共10題，每題2分，須用2B鉛筆在試卡上依題號清楚劃記，於本試題或申論試卷上作答者，不予計分。

1 下列文句「」中的字義，前後完全相同的選項是：

(A)「少」焉，月出於東山之上（蘇軾〈前赤壁賦〉）／他自「少」小離鄉，至今已十年

(B)「去」國懷鄉，憂讒畏譏（范仲淹〈岳陽樓記〉）／你該好好考慮自己的「去」留問題

(C)三十曰壯，有「室」（《禮記·曲禮上》）／這個房子的「室」內空間寬敞，住起來很舒適

(D)蘇子愀然，正襟「危」坐（蘇軾〈前赤壁賦〉）／他熱愛攀岩卻無安全配備，實在「危」險

2 予曰：「夫隱，自閉之義也。古之人隱於農、於工、於商、於醫卜、於屠釣，至於博徒、賣漿、抱關吏、酒家保，無乎不在，非特深山之中，蓬蒿之下，然後為隱。前人所以有大小隱之辨者，謂初機之士，信道未篤，不見可欲，使心不亂，故以山林為小隱；能定能應，不為物誘，出處一致，喧寂兩忘，故以朝市為大隱耳。」（元好問〈市隱齋記〉）

根據上文，下列何者最適合描述「大隱」？

(A)賣漿沽酒，伺機而動

(B)深居林野，不染紅塵

(C)謹慎出處，言行一致

(D)定應自如，得失兩忘

3 下列選項，何者不是表達「無入而不自得」的情懷？

(A)使其中不自得，將何往而非病？使其中坦然，不以物傷性，將何適而非快

(B)使吾胸中浩然廓然，納煙雲日月之偉觀，攬雷霆風雨之奇變，雖坐容膝之室，而常若順流放棹

(C)凡物皆有可觀。苟有可觀，皆有可樂，非必怪奇偉麗者也。餚糟啜醢，皆可以醉；果蔬草木，皆可以飽。推此類也，吾安往而不樂

(D)天下之境，涉而即得，得而輒盡者，始焉欣欣，繼焉索索，欲求餘味，而了不可得。而得之甚艱，且得半而止者，轉使人有無窮之思也

4 「在印度，火車如果晚點6小時，那是正常情況，晚點13小時才算晚了。不過，印度的火車比起飛機，算是太準時了。剛去印度的時候，我會很生氣，老是去催去問，火車到底什麼時候才來，每個人告訴你的都不一樣。但去了一段時間後，我就安穩下來。從那天開始，我覺得印度的火車一定會來，飛機也一定會來，何必這麼急呢？人生可以不必那麼急。所以，我在印度的月臺上讀了很多很多書。」

上文最想表達的是什麼？

(A)人生很難學習耐心與從容的等待

(B)人生在等待的時候要學會急事緩辦

(C)印度的飛機與火車從來沒有準時過

(D)在誤點中明白人生一切都可自我安排

5 天下皆知美之為美，斯惡已。皆知善之為善，斯不善已。故有無相生，難易相成，長短相形，高下相傾，音聲相和，前後相隨。是以聖人處無為之事，行不言之教；萬物作焉而不辭，生而不有，為而不恃，功成而弗居。夫唯弗居，是以不去。（《老子》）

根據上文，下列選項敘述錯誤的是：

(A)本篇旨在表述以柔克剛、虛靜無為的思想

(B)文中說明天地間看似對立的事物，實則相互依存

(C)以有無、難易、長短等相對的概念來佐證中心思想

(D)聖人以順應自然來施行教化，正因一切價值判斷都非絕對

- 6 楚子將圍宋，使子文治兵於睽，終朝而畢，不戮一人；子玉復治兵於蔿，終日而畢，鞭七人，貫三人耳。國老皆賀子文。子文飲之酒，蔿賈尚幼，後至，不賀，子文問之，對曰：「不知所賀，子之傳政於子玉，曰：『以靖國也。』靖諸內而敗諸外，所獲幾何？子玉之敗，子之舉也，舉以敗國，將何賀焉？子玉剛而無禮，不可以治民；過三百乘，其不能以入矣。苟入而賀，何後之有？」（《左傳·僖公二十七年》）下列選項何者最符合上文所述？
- (A)子文治兵較子玉嚴厲而且有效 (B)蔿賈預言子文將敗戰而不祝賀
(C)蔿賈不認同國老賀子文的理由 (D)子文傳政子玉因其受國老擁戴
- 7 「是不是妳信念著，有一種從無緣由而起的宇宙最初要持續到無緣由而去的宇宙最後的一種約誓，讓妳飄零過千萬年的混沌，於此生化身為人，要在人間相尋相覓？妳是離群的雁，甘願縛進人間的塵網，折翅斂羽，要尋百年前流散於洪流亂烟中的另一隻孤雁？妳走過多少個春去秋來，多少丈人間紅塵，妳來到那人面前，雖然人間鑄他以泥漚，妳依舊認出那疲憊的面貌正是妳的魂夢所繫，那沙啞的嗓音正是妳所盼望的清脆。妳從他的眼眸看出妳最原始的身影，妳知道，那是你們唯一的辨認。」下列選項，何者最接近本文意旨？
- (A)跳出人間塵網，不再為情所困 (B)縱使對方冷漠，依舊一往情深
(C)情海浮沉，終於覓得此生真愛 (D)生生世世，仍然堅持尋覓所愛
- 8 蘇軾〈卜算子〉：「缺月挂疏桐，漏斷人初靜。誰見幽人獨往來，縹緲孤鴻影。驚起卻回頭，有恨無人省。揀盡寒枝不肯棲，寂寞沙洲冷。」下列選項的敘述，何者錯誤？
- (A)詞中的「幽人」與「孤鴻」皆有孤獨清高的形象，人鴻合一
(B)「驚起卻回頭」，描寫鴻雁驚魂未定，呈現出幽人戒慎恐懼的心態
(C)「揀盡寒枝不肯棲」，以鴻雁不肯棲息於樹枝，表明幽人有所為有所不為的節操
(D)「寂寞沙洲冷」，以鴻雁獨宿於清冷的沙洲，反襯幽人力爭上游不甘寂寞的意志
- 9 「這裡是多麼美好的處所，但這時候，卻有種不知道為什麼而起的莫名心情，深深認知到……，自己並不屬於這樣的地方。我不屬於這裡。儘管這裡很美好，但總覺得這樣的美好，並不是我能輕易觸及，或者能夠永遠停留。因為這裡，不屬於我。望向窗外，山中的雪確實停了。也應該是離開的時刻。」根據上文，下列選項何者符合所描述的意境？
- (A)但使主人能醉客，不知何處是他鄉
(B)獨在異鄉為異客，每逢佳節倍思親
(C)雖信美而非吾土兮，曾何足以少留
(D)所以游目騁懷，足以極視聽之娛，信可樂也
- 10 「決策者常假設一般群眾是《星際迷航記》中理智的史巴克，只要了解客觀的事實證據，就會做出合理的判斷。但諾貝爾經濟學獎得主賽勒指出，群眾其實比較像《辛普森家庭》中不習慣思考的荷馬，他們對生活周遭的事物常以直覺反應。因此，公共政策的推動，絕不是想盡辦法把群眾從荷馬教化成史巴克，而是要運用借力使力的巧思，從行為層次上去導引群眾。荷蘭阿姆斯特丹機場在男廁便池裝上蒼蠅貼紙，成功讓尿液外濺情形減少百分之八十，即是代表案例。」下列敘述，符合上文觀點的是：
- (A)與其對群眾說理，不如加強行為管制 (B)決策者肯放低姿態，將有助說理成效
(C)文字說理搭配圖象，群眾接受度較高 (D)群眾多不耐說理宣導，偏好直覺行事

測驗式試題標準答案

考試名稱：108年公務人員高等考試三級考試暨普通考試

類科名稱：

一般行政、原住民族行政、勞工行政、文化行政、財稅行政、金融保險、統計、教育行政、會計、法律廉政、觀光行政(選試觀光日語)、交通行政、觀光行政(選試觀光英語)、一般民政、客家事務行政、社會行政、人事行政、體育行政、新聞(選試英文)、新聞(選試日文)、財務審計、績效審計、法制、財經廉政、經建行政、公平交易管理、企業管理、工業行政、商業行政、農業行政、漁業行政、智慧財產行政、僑務行政(選試英文)、僑務行政(選試西班牙文)、僑務行政(選試日文)、僑務行政(選試德文)、僑務行政(選試法文)、史料編纂、衛生行政、醫務管理、環保行政、地政、圖書資訊管理(選試英文)、檔案管理、環境檢驗、地質、探礦工程、材料工程、測量製圖、藥事、生物技術、生藥中藥基原鑑定、戶政、交通技術、航海技術、輪機技術、氣象、工業設計、衛生技術、漁業技術、養殖技術、海洋資源、畜牧技術、公職獸醫師、工業工程、工業安全、醫學工程、環保技術、化學安全、航空駕駛(選試直昇機飛行原理)、景觀、航運行政、公職社會工作師、農業技術、農業機械、林業技術、園藝、植物病蟲害防治、自然保育、生物多樣性、土木工程、水利工程、港灣工程、環境工程、建築工程、公職建築師、都市計畫技術、水土保持工程、機械工程、航空器維修、汽車工程、電力工程、電子工程、電信工程、資訊處理、核子工程、輻射安全、化學工程、食

科目名稱：國文(作文、公文與測驗)(試題代號：1201)

更多高普考考試科目的歷屆題庫
立即上網搜尋“高普考歷屆考古題懶人包”
高鋒公職補習班整理
Line@帳號：@gaofeng
連絡電話：07-236-7296

單選題數：10題

單選每題配分：2.00分

複選題數：

複選每題配分：

標準答案：

題號	第1題	第2題	第3題	第4題	第5題	第6題	第7題	第8題	第9題	第10題
答案	B	D	D	D	A	C	D	D	C	D

題號	第11題	第12題	第13題	第14題	第15題	第16題	第17題	第18題	第19題	第20題
答案										

題號	第21題	第22題	第23題	第24題	第25題	第26題	第27題	第28題	第29題	第30題
答案										

題號	第31題	第32題	第33題	第34題	第35題	第36題	第37題	第38題	第39題	第40題
答案										

題號	第41題	第42題	第43題	第44題	第45題	第46題	第47題	第48題	第49題	第50題
答案										

題號	第51題	第52題	第53題	第54題	第55題	第56題	第57題	第58題	第59題	第60題
答案										

題號	第61題	第62題	第63題	第64題	第65題	第66題	第67題	第68題	第69題	第70題
答案										

題號	第71題	第72題	第73題	第74題	第75題	第76題	第77題	第78題	第79題	第80題
答案										

題號	第81題	第82題	第83題	第84題	第85題	第86題	第87題	第88題	第89題	第90題
答案										

題號	第91題	第92題	第93題	第94題	第95題	第96題	第97題	第98題	第99題	第100題
答案										

備註：

108年公務人員高等考試三級考試試題

類 科：各類科（除公職醫事檢驗師、公職藥師、公職護理師、公職臨床心理師外）

科 目：法學知識與英文（包括中華民國憲法、法學緒論、英文）

考試時間：1 小時

座號：_____

※注意：(一)本試題為單一選擇題，請選出一個正確或最適當的答案，複選作答者，該題不予計分。
(二)本科目共 50 題，每題 2 分，須用 **2B** 鉛筆在試卡上依題號清楚劃記，於本試題上作答者，不予計分。
(三)禁止使用電子計算器。

- 1 關於我國現行修憲程序之敘述，下列何者正確？
(A)由行政院提出憲法修正案，送請立法院決議通過 (B)由人民提出憲法修正案，送請立法院複決通過
(C)由總統提出憲法修正案，經人民投票複決通過 (D)由立法院提出憲法修正案，經人民投票複決通過
- 2 依司法院大法官解釋意旨，關於徵收私人土地所應踐行之正當行政程序，下列敘述何者錯誤？
(A)不僅適用於徵收前及徵收時，亦應擴及於徵收後之階段
(B)徵收計畫確定前，應給予土地所有權人陳述意見之機會
(C)徵收核准時，應踐行徵收處分公告及書面通知土地所有權人之程序
(D)徵收完成後，應即時公告被徵收土地所有權移轉登記辦理完竣資訊
- 3 依司法院大法官解釋，下列有關訴訟權之敘述，何者正確？
(A)民事訴訟法對上訴第三審利益之數額限制，不違反訴訟權之保障
(B)對於律師懲戒覆審委員會所為之決議，仍得向最高行政法院請求救濟
(C)都市計畫因定期通盤檢討所為之變更，屬法規性質，人民不得爭訟
(D)有關審級制度之設計，完全屬立法形成之自由
- 4 依憲法規定，有關選舉及被選舉年齡之敘述，下列何者正確？
(A)中華民國國民年滿 21 歲者，有依法被選舉之權 (B)中華民國國民年滿 20 歲者，得依法選舉總統
(C)中華民國國民年滿 18 歲者，得依法選舉縣長 (D)中華民國國民年滿 35 歲者，得依法被選為總統
- 5 依司法院大法官解釋意旨，下列何者非憲法服公職權之保障主體？
(A)立法委員 (B)國立大學專任教授 (C)志願役預備士官 (D)退休公務人員
- 6 下列何者不屬於地方制度法所稱之地方自治團體？
(A)臺灣省 (B)高雄市 (C)花蓮縣 (D)嘉義市
- 7 有關憲法保障人民受教育之權利，下列敘述何者錯誤？
(A)受國民教育以外教育之權利，屬憲法第 22 條保障之範圍
(B)憲法第 21 條賦予人民得請求國家提供教育給付之權利，國家亦有提供給付之義務
(C)憲法第 159 條規定：「國民受教育之機會，一律平等。」旨在確保人民享有接受國民教育之公平機會
(D)大學為維持學校秩序，對學生所為之公權力措施，如侵害學生受教育權，應許權利受侵害之學生提起行政爭訟
- 8 憲法第七章所定之「司法」，其掌理之事項不包括下列何者？
(A)民事訴訟 (B)刑事偵查及訴訟 (C)行政訴訟 (D)公務員懲戒
- 9 依司法院大法官解釋意旨，關於法官聲請釋憲之要件，下列何者錯誤？
(A)限於最高法院或最高行政法院繫屬中之案件
(B)聲請解釋之標的，須為法官審理案件時應適用之法律
(C)聲請解釋之法官，須提出客觀上形成確信法律為違憲之具體理由
(D)聲請解釋之法官，得以之為先決問題裁定停止訴訟程序
- 10 依司法院大法官解釋意旨，有關言論及出版自由，下列敘述何者錯誤？
(A)憲法保障人民有積極表意之自由及消極不表意之自由
(B)言論自由保障之內容包括主觀之意見表達及客觀之事實陳述
(C)性言論之表現與性資訊之流通，不論是否出於營利目的，均受憲法對言論及出版自由之保障
(D)商業性意見表達亦屬言論自由保障之範圍，要求藥物廣告刊播前送審，已違背事前檢查之禁止原則
- 11 依司法院大法官解釋，下列關於隱私權之敘述，何者錯誤？
(A)隱私權非屬憲法明文列舉之權利 (B)個人資料自主控制權亦屬於隱私權
(C)個人指紋受憲法隱私權之保障 (D)隱私權為憲法所保障財產權之一種
- 12 關於集會自由，下列何者正確？
(A)集會屬憲法保留的基本權利，不得以法律限制之 (B)國家不得劃定集會遊行之禁制區
(C)偶發性集會一律違法 (D)國家應提供適當集會場所，並保護集會、遊行之安全
- 13 依據憲法與總統副總統選舉罷免法，關於罷免總統之敘述，下列何者錯誤？
(A)罷免案經由立法院提議與同意後提出
(B)任何人不得宣傳罷免與阻止罷免之宣傳活動
(C)總統就職滿一年後，方得提出罷免案
(D)罷免案經投票否決後，在任期內得再次為罷免案之提議
- 14 依憲法增修條文之規定，關於行政院覆議權之敘述，下列何者正確？
(A)覆議案之範圍為法律案、預算案、條約案與重要政策變更
(B)行政院對窒礙難行之法律案決議，直接向立法院提出覆議
(C)立法院逾期未議決覆議案，原決議失效
(D)覆議時，如經全體立法委員二分之一以上決議維持原案，行政院院長應即接受或辭職
- 15 立法委員不可兼任下列何項職務？
(A)長榮海運總經理 (B)台新銀行董事長
(C)執政黨秘書長 (D)中華郵政股份有限公司董事長

更多高普考考試科目的歷屆題庫
立即上網搜尋“高普考歷屆考古題懶人包”
高鋒公職補習班整理
Line@帳號：@gaofeng
連絡電話：07-236-7296

- 16 所得稅法施行細則係依所得稅法第 121 條規定訂定，其性質為下列何者？
 (A)法規命令 (B)委辦規則 (C)特別法 (D)間接法
- 17 依據地方制度法規定，下列何者非屬應以自治條例規定之事項？
 (A)法律或自治條例規定應經地方立法機關議決者 (B)創設、剝奪或限制地方自治團體居民之權利義務者
 (C)關於地方自治團體及所經營事業機構之組織者 (D)關於地方自治團體其內部行政事務之分工者
- 18 甲依法向主管機關申請許可，在決定作成前，據以准許之法規有變更，但未廢除或禁止所申請之事項。依據中央法規標準法之規定，主管機關原則上應如何適用法規？
 (A)適用舊法規，但新法規有利於當事人者，適用新法規 (B)適用新法規，但舊法規有利於當事人者，適用舊法規
 (C)不論何者有利於當事人，一律適用新法規 (D)不論何者有利於當事人，一律適用舊法規
- 19 憲法第 7 條規定「中華民國人民，無分男女、宗教、種族、階級、黨派，在法律上一律平等」，通說上認為此處之法律，包括法律與行政命令，係採用何種法律解釋方法所獲得之結果？
 (A)擴張解釋 (B)反面解釋 (C)歷史解釋 (D)類推解釋
- 20 下列何者適用行政程序法之程序規定？
 (A)主管機關與公費生簽訂行政契約 (B)考選部關於國家考試之命題行為
 (C)外國人出入境事項 (D)行政機關對所屬公務人員為記過一次之懲處
- 21 基於法治國原則，以法律限制人民自由權利時，關於其構成要件所使用之概念，下列何者錯誤？
 (A)不得使用不確定法律概念或概括條款 (B)須非難以理解
 (C)須為受規範者所得預見 (D)須可經由司法審查加以確認
- 22 依民法之規定，下列就無償契約之敘述，何者正確？
 (A)無行為能力人為意思表示及受意思表示，應得法定代理人之允許與同意，但純獲法律上利益者不在此限
 (B)不當得利受領人，以其所受者，無償讓與第三人，第三人一律免負返還責任
 (C)受任人處理委任事物，未受有報酬者，應以善良管理人之注意為之
 (D)債務人所為之無償行為，有害及債權者，債權人得聲請法院撤銷之
- 23 下列選項中的 X 與 Y，何者結婚無效？
 (A)甲乙為夫妻，甲婚前育有子女 X，乙婚前育有子女 Y，X 與 Y 成年後結婚
 (B)甲乙為夫妻，甲之父 X 已喪偶，乙之母 Y 亦已喪偶，X 與 Y 結婚
 (C)甲乙為兄妹，甲婚後育有子女 X，乙婚後收養子女 Y，X 與 Y 成年後結婚
 (D)X 17 歲時生下甲，甲成年後與較其年長 12 歲的 Y 結婚，甲與 Y 離婚後，X 與 Y 結婚
- 24 依民法之規定，下列有關使用借貸契約之敘述，何者正確？
 (A)使用借貸契約為要物契約，貸與人須交付和移轉借用物之所有權予借用人
 (B)貸與未定期限，又不能依借貸之目的而定期限者，貸與人得隨時請求返還借用物
 (C)借用物為動物者，其飼養費由貸與人負擔
 (D)貸與人故意或重大過失不告知借用物之瑕疵，致借用人受損害者，負賠償責任
- 25 乙為擔保其向甲之借款，乃以其 A 屋及丙、丁所有之 B 地、C 地設定共同抵押。於甲之債權屆期未受清償時，下列敘述何者錯誤？
 (A)甲得自由選擇 A 屋、B 地、C 地任何其中之一，就其賣得價金，受償權全部或一部之清償
 (B)因 A 屋為債務人乙所有，故甲應優先選擇 A 屋，就其賣得價金，受償權全部或一部之清償
 (C)甲如選擇 B 地實行抵押權，獲得完全之清償，若 B 地超過其分擔額時，丙得請求丁償還 C 地應分擔之部分
 (D)甲如選擇 B 地實行抵押權，丙於 B 地清償之限度內，承受甲對乙之債權。但不得有害於甲之利益
- 26 關於感化教育處分相關規定，下列敘述何者錯誤？
 (A)因未滿 14 歲而不罰者，不得令人感化教育處所，施以感化教育
 (B)感化教育為限制人身自由之保安處分
 (C)執行感化教育之期間最長 3 年
 (D)執行已逾 6 月，認無繼續執行之必要者，法院得免其處分之執行
- 27 A 餐廳推出自助餐 599 元吃到飽專案，並貼出告示：「請酌量取用，勿浪費食物，否則每人一律罰款用餐價格 10 倍」。該告示是否有效？
 (A)有效，因為當事人可任意約定契約內容 (B)原則有效，除非顧客反對才會無效
 (C)無效，因為違反平等互惠原則 (D)如果餐廳曾告知顧客此規定，則有效，若無，則無效
- 28 關於非公開發行股份有限公司年度財務報表之規定，下列敘述，何者錯誤？
 (A)應由董事會編造，交監察人查核後，送股東會承認 (B)一定規模以上公司之財報，才需由會計師查核簽證
 (C)簽證會計師由監察人選任與解任 (D)債權人得請求公司提供財務報表
- 29 依全民健康保險法之規定，關於被保險人投保金額之敘述，下列何者錯誤？
 (A)受僱者，以其薪資所得為投保金額
 (B)雇主及自營業主，以其營利所得為投保金額
 (C)自營作業者，以其執行業務所得為投保金額
 (D)專門職業及技術人員自行執業者之投保金額，以第二類被保險人之平均投保金額計算之
- 30 依性別工作平等法第 27 條之規定，受僱者或求職者因受性騷擾而受有損害者，有關雇主之民事賠償責任，下列何者正確？
 (A)只要雇主能證明其已遵行本法所定之各種防治性騷擾之規定，則雇主不負賠償責任
 (B)縱使雇主已遵行該法所定之各種防治性騷擾之規定，但是損害仍然發生，雇主仍應與行為人負賠償責任
 (C)雇主如能證明其已遵行本法所定之各種防治性騷擾之規定，且對該事情之發生已盡力防止仍不免發生者，雇主不負賠償責任
 (D)雇主與行為人應負連帶賠償責任，惟事後得向行為人請求賠償

- 31 The only reasons for the old man to leave the house were to run important _____ or visit the doctor.
(A) errands (B) debris (C) utensils (D) summons
- 32 When you read this introductory chapter, list the points you have identified as especially _____ to your organization and keep them in mind.
(A) relevant (B) incompetent (C) naturalistic (D) arbitrary
- 33 We may easily _____ salespeople who approach us on the street, but we often surrender without knowing it to the ultimate salesman: mass media.
(A) rebound (B) reject (C) reduplicate (D) repeat
- 34 Trash is a problem that has _____ humans since they moved into cities. And dealing with it is messy and expensive.
(A) embarked (B) enacted (C) plagued (D) obliged
- 35 The _____ factor that contributes to having so many immigrants move into this country is mainly about economic reasons.
(A) risk (B) push (C) impact (D) gravity
- 36 Malaria was believed to be on the verge of _____ when people thought that the introduction of insecticides signaled the end of the malaria-carrying mosquito.
(A) persuasion (B) eradication (C) domination (D) contamination
- 37 Lured by false promises of a good job, a stable conflict-free environment or even a loving romantic relationship, victims of human _____ are then pushed into forced labor or sexual exploitation.
(A) trafficking (B) slavery (C) migration (D) distribution

第 38 題至第 41 題為篇章結構，各題請依文意從四個選項中選出最合適者，答案選用不能重複：

The suspected suicide of actor and comedian Robin Williams is being linked, in part, to depression. Many Americans suffer from the condition. But, many also are trying to help people with depression. They are finding ways to bring attention to depression and ways to treat it.

For example, thousands of people take part in what are called “Out of the Darkness Walks.” _____ 38 They also hope to raise money for suicide prevention efforts and research into depression.

Steve Iselin served in the Navy for 20 years. After his retirement, he began to look for another job. That is when he began feeling hopeless. He said, “I had a great sense of dread every day. Agony is another word that comes to mind. I didn’t want to do anything that I would normally like to do. I had no interest in seeing other people.” Steve Iselin did find a job. But he left after one week because he told himself he could not do the work. Everything he did seemed very difficult. Decisions were painful, even having to choose what he would wear that day or what to eat. Mr. Iselin was suffering from depression.

Bob Gebbia heads the American Foundation for Suicide Prevention. He says being depressed is very different from being sad or having a bad day. He says that about 20 million people are found to have clinical depression in the United States every year. _____ 39 He notes that some people are more likely than others to get depressed. “Let’s say you lose your job, divorce, or, you know, a loss of someone.”

After Robin Williams’ death, the American Foundation for the Prevention of Suicide released a statement. The foundation said Mr. Williams: “brought laughter into every life he touched; Robin also suffered from depression. _____ 40 Every 13 minutes someone dies from suicide, and it is among the top ten causes of death in the U.S.” The group said more needs to be done to prevent suicides. It called for greater attention to mental health issues, warning signs, and effective forms of intervention and treatment.

Steve Iselin was lucky. His wife recognized the signs of depression. She helped him get the expert care he needed. But he says that was not true of his brother’s son. Mr. Iselin says his nephew became depressed a few years later and killed himself. A year after his nephew’s death, Mr. Iselin visited his brother in San Francisco and heard about the “Out of the Darkness Walks.” The American Foundation for Suicide Prevention organized the event. Both men took part. _____ 41 Since then, Steve Iselin has volunteered with the American Foundation for Suicide Prevention, taking part in many community walks.

- 38 (A) Mr. Gebbia says the cause could be a combination of genetic influences, changes in brain chemistry or environmental reasons.
(B) Steve Iselin said that was the first day his brother understood that perhaps he was not to blame for his son’s death.
(C) The walkers remember loved ones they lost to suicide.
(D) It is our hope that we are able to have an open conversation that depression and addictions are real illnesses that can sometimes be fatal.
- 39 (A) Mr. Gebbia says the cause could be a combination of genetic influences, changes in brain chemistry or environmental reasons.
(B) Steve Iselin said that was the first day his brother understood that perhaps he was not to blame for his son’s death.
(C) The walkers remember loved ones they lost to suicide.
(D) It is our hope that we are able to have an open conversation that depression and addictions are real illnesses that can sometimes be fatal.
- 40 (A) Mr. Gebbia says the cause could be a combination of genetic influences, changes in brain chemistry or environmental reasons.
(B) Steve Iselin said that was the first day his brother understood that perhaps he was not to blame for his son’s death.
(C) The walkers remember loved ones they lost to suicide.
(D) It is our hope that we are able to have an open conversation that depression and addictions are real illnesses that can sometimes be fatal.
- 41 (A) Mr. Gebbia says the cause could be a combination of genetic influences, changes in brain chemistry or environmental reasons.
(B) Steve Iselin said that was the first day his brother understood that perhaps he was not to blame for his son’s death.
(C) The walkers remember loved ones they lost to suicide.
(D) It is our hope that we are able to have an open conversation that depression and addictions are real illnesses that can sometimes be fatal.

請依下文回答第 42 題至第 45 題：

As people woke up at dawn on the farm, one person was already up. 42 An old man from Thailand claimed he has not slept for 33 years: “My insomnia started many years ago after I got a fever. 43 But nothing helps.” Amazingly, since then he has never once been ill. He spent the day farming and taking care of his pigs and at night he patrols the village. 44 Doctors said a chronic lack of sleep often causes anorexia, lethargy and irritability. 45 He was certainly one of them.

- 42 (A) Anyway, he went to bed in the morning. (B) Furthermore, he came back from nightshift.
(C) Indeed, he has always been asleep. (D) In fact, he hasn't even been to bed.
- 43 (A) All the people blamed me. (B) I did not have money to see the doctor.
(C) I have tried everything. (D) The fever was long gone.
- 44 (A) He always disrupted his neighbors' work during the day.
(B) He also helped to wake his neighbors up when there was a need.
(C) He got very grumpy and everybody was annoyed with him.
(D) He got very ill and could not work at all.
- 45 (A) But there were exceptions. (B) Cases can vary.
(C) It could be even worse. (D) No remedy can cure him.

請依下文回答第 46 題至第 50 題：

Those who doubt the power of human beings to change Earth's climate should look to the Arctic, and shiver. There is no need to pore over records of temperatures and atmospheric carbon-dioxide concentrations. The process is starkly visible in the shrinkage of the ice that covers the Arctic ocean. In the past 30 years, the minimum coverage of summer ice has fallen by half; its volume has fallen by three-quarters. On current trends, the Arctic ocean will be largely ice-free in summer by 2040.

Climate-change sceptics will shrug. Some may even celebrate: an ice-free Arctic ocean promises a shortcut for shipping between the Pacific coast of Asia and the Atlantic coasts of Europe and the Americas, and the possibility of prospecting for perhaps a fifth of the planet's undiscovered supplies of oil and natural gas. Such reactions are profoundly misguided. Never mind that the low price of oil and gas means searching for them in the Arctic is no longer worthwhile. Or that the much-vaunted sea passages are likely to carry only a trickle of trade. The right response is fear. The Arctic is not merely a bellwether of matters climatic, but an actor in them.

The current period of global warming that Earth is undergoing is caused by certain gases in the atmosphere, notably carbon dioxide. These admit heat, in the form of sunlight, but block its radiation back into space, in the form of longer-wave-length infra-red. That traps heat in the air, the water and the land. More carbon dioxide equals more warming--a simple equation. Except it is not simple. A number of feedback loops complicate matters. Some dampen warming down; some speed it up. Two in the Arctic may speed it up quite a lot.

One is that seawater is much darker than ice. It absorbs heat rather than reflecting it back into space. That melts more ice, which leaves more seawater exposed, which melts more ice. And so on. This helps explain why the Arctic is warming faster than the rest of the planet. The deal on climate change made in Paris in 2015 is meant to stop Earth's surface temperature rising by more than 2°C above pre-industrial levels. In the unlikely event that it is fully implemented, winter temperatures over the Arctic ocean will still warm by between 5°C and 9°C compared with their 1986-2005 average.

The second feedback loop concerns not the water but the land. In the Arctic much of this is permafrost. That frozen soil locks up a lot of organic material. If the permafrost melts its organic contents can escape as a result of fire or decay, in the form of carbon dioxide or methane (which is a more potent greenhouse gas than CO₂). This will speed up global warming directly--and the soot from the fires, when it settles on the ice, will darken it and thus speed its melting still more.

- 46 Which of the following is the main idea of the second paragraph?
(A) To raise doubts about the optimism that climate-change disbelievers express.
(B) To introduce potential commerce that an ice-free Arctic ocean may bring.
(C) To indicate incomplete knowledge people have of the Arctic's economy.
(D) To differentiate the views of those who fear climate-change from those who don't.
- 47 Which of the following best describes the function of the last two paragraphs?
(A) They narrow the scope of the topic introduced in the first two paragraphs.
(B) They explain the rationale for the Arctic ocean's increasing melting speed.
(C) They cite the most striking instances implemented after the 2015 Paris deal.
(D) They present the feedback loops that slow down the Arctic's warming process.
- 48 Which of the following phrases best corresponds to the words “much darker” in the beginning of paragraph four?
(A) more mysterious (B) less brilliant (C) more troublesome (D) less distinctive
- 49 Which of the following is the tone of the passage?
(A) pleading (B) sarcastic (C) conclusive (D) alarming
- 50 What is the main idea of the passage?
(A) The Arctic is not only an indicator of global warming but also a main cause of it.
(B) The Paris deal is the only solution to slowing down the Arctic's ice shrinkage rate.
(C) The organic contents released in the Arctic's melting process will benefit global economy.
(D) There is not enough study about the global warming that Earth is undergoing.

測驗式試題標準答案

更多高普考考試科目的歷屆題庫
立即上網搜尋“高普考歷屆考古題懶人包”
高鋒公職補習班整理
Line@帳號: @gaofeng
連絡電話: 07-236-7296

考試名稱：108年公務人員高等考試三級考試暨普通考試

類科名稱：

績效審計、新聞(選試英文)、智慧財產行政、一般行政、土木工程、公職建築師、戶政、文化行政、金融保險、工業行政、畜牧技術、汽車工程、食品衛生檢驗、核子工程、航海技術、養殖技術、航運行政、採礦工程、藥事、氣象、工業安全、醫學工程、醫務管理、僑務行政(選試德文)、林業技術、海洋資源、漁業技術、工業設計、公職獸醫師、工業工程、輪機技術、園藝、電力工程、輻射安全、衛生技術、環境檢驗、材料工程、生藥中藥基原鑑定、公職社會工作師、觀光行政(選試觀光日語)、水利工程、都市計畫技術、測量製圖、港灣工程、電子工程、水土保持工程、地質、電信工程、農業技術、植物病蟲害防治、史料編纂、機械工程、環保行政、資訊處理、化學工程、觀光行政(選試觀光英語)、環境工程、自然保育、航空器維修、僑務行政(選試法文)、建築工程、交通行政、農業機械、總建行政、僑務行政(選試英文)、商業行政、地政、生物多樣性、公平交易管理、農業行政、衛生行政、圖書資訊管理(選試英文)、僑務行政(選試西班牙文)、人事行政、原住民族行政、財經廉政、勞工行政、教育行政、財稅行政、財務審計、體育行政、社會行政、統計、檔案管理、法制、新聞(選試日文)、僑務行政(選試日文)、法律廉政、漁業行政、會計、企業管理、一般民政、景觀、生物技術、客家事務行政、環保技術、化學安全、航空駕駛(選試直昇機飛行)

科目名稱：

法學知識與英文(包括中華民國憲法、法學緒論、英文)(試題代號: 3201)

單選題數：50題

單選每題配分：2.00分

複選題數：

複選每題配分：

標準答案：

題號	第1題	第2題	第3題	第4題	第5題	第6題	第7題	第8題	第9題	第10題
答案	D	D	A	B	B	A	C	B	A	D

題號	第11題	第12題	第13題	第14題	第15題	第16題	第17題	第18題	第19題	第20題
答案	D	D	D	C	D	A	D	B	A	A

題號	第21題	第22題	第23題	第24題	第25題	第26題	第27題	第28題	第29題	第30題
答案	A	D	D	B	B	A	C	C	D	C

題號	第31題	第32題	第33題	第34題	第35題	第36題	第37題	第38題	第39題	第40題
答案	A	A	B	C	B	B	A	C	A	D

題號	第41題	第42題	第43題	第44題	第45題	第46題	第47題	第48題	第49題	第50題
答案	B	D	C	B	A	A	B	C	D	A

題號	第51題	第52題	第53題	第54題	第55題	第56題	第57題	第58題	第59題	第60題
答案										

題號	第61題	第62題	第63題	第64題	第65題	第66題	第67題	第68題	第69題	第70題
答案										

題號	第71題	第72題	第73題	第74題	第75題	第76題	第77題	第78題	第79題	第80題
答案										

題號	第81題	第82題	第83題	第84題	第85題	第86題	第87題	第88題	第89題	第90題
答案										

題號	第91題	第92題	第93題	第94題	第95題	第96題	第97題	第98題	第99題	第100題
答案										

備註：

測驗題標準答案更正

考試名稱：108年公務人員高等考試三級考試暨普通考試

類科名稱：

一般行政、一般民政、客家事務行政、社會行政、人事行政、戶政、原住民族行政、勞工行政、文化行政、教育行政、體育行政、新聞(選試英文)、新聞(選試日文)、財稅行政、金融保險、統計、會計、財務審計、績效審計、法制、法律廉政、財經廉政、經建行政、公平交易管理、企業管理、工業行政、商業行政、農業行政、漁業行政、智慧財產行政、僑務行政(選試英文)、僑務行政(選試西班牙文)、僑務行政(選試日文)、僑務行政(選試德文)、僑務行政(選試法文)、衛生行政、醫務管理、環保行政、地政、圖書資訊管理(選試英文)、檔案管理、史料編纂、交通行政、觀光行政(選試觀光英語)、觀光行政(選試觀光日語)、航運行政、公職社會工作師、農業技術、農業機械、林業技術、園藝、植物病蟲害防治、自然保育、生物多樣性、土木工程、水利工程、港灣工程、環境工程、建築工程、公職建築師、都市計畫技術、水土保持工程、機械工程、航空器維修、汽車工程、電力工程、電子工程、電信工程、資訊處理、核子工程、輻射安全、化學工程、食品衛生檢驗、環境檢驗、地質、採礦工程、材料工程、測量製圖、藥事、生藥中藥基原鑑定、交通技術、航海技術、輪機技術、氣象、工業設計、衛生技術、漁業技術、養殖技術、海洋資源、畜牧技術、公職獸醫師、工業工程、工業安全、醫學工程、環保技術、化學安全、航空駕駛(選試直昇機飛行原理)、景觀、

科目名稱：法學知識與英文（包括中華民國憲法、法學緒論、英文）

更多高普考考試科目的歷屆題庫
 立即上網搜尋“高普考歷屆考古題懶人包”
 高鋒公職補習班整理
 Line@帳號：@gaofeng
 連絡電話：07-236-7296

單選題數：50題

單選每題配分：2.00分

複選題數：

複選每題配分：

標準答案：答案標註#者，表該題有更正答案，其更正內容詳見備註。

題號	第1題	第2題	第3題	第4題	第5題	第6題	第7題	第8題	第9題	第10題
答案	D	D	A	B	B	A	#	B	A	D

題號	第11題	第12題	第13題	第14題	第15題	第16題	第17題	第18題	第19題	第20題
答案	D	D	#	C	D	A	D	B	A	A

題號	第21題	第22題	第23題	第24題	第25題	第26題	第27題	第28題	第29題	第30題
答案	A	D	D	B	B	A	C	C	D	C

題號	第31題	第32題	第33題	第34題	第35題	第36題	第37題	第38題	第39題	第40題
答案	A	A	B	C	B	B	A	C	A	D

題號	第41題	第42題	第43題	第44題	第45題	第46題	第47題	第48題	第49題	第50題
答案	B	D	C	B	A	A	B	C	D	A

題號	第51題	第52題	第53題	第54題	第55題	第56題	第57題	第58題	第59題	第60題
答案										

題號	第61題	第62題	第63題	第64題	第65題	第66題	第67題	第68題	第69題	第70題
答案										

題號	第71題	第72題	第73題	第74題	第75題	第76題	第77題	第78題	第79題	第80題
答案										

題號	第81題	第82題	第83題	第84題	第85題	第86題	第87題	第88題	第89題	第90題
答案										

題號	第91題	第92題	第93題	第94題	第95題	第96題	第97題	第98題	第99題	第100題
答案										

備註：第7題答B或C者均給分，第13題答B或D者均給分。

代號：21420、22020
22720、23020
頁次：4-1

108年公務人員高等考試三級考試試題

類 科：財稅行政、法制、商業行政、智慧財產行政

科 目：民法

考試時間：2 小時

※注意：禁止使用電子計算器。

甲、申論題部分：(50 分)

更多高普考考試科目的歷屆題庫
立即上網搜尋“高普考歷屆考古題懶人包”
高鋒公職補習班整理
Line@帳號：@gaofeng
連絡電話：07-236-7296

座號：_____

- (一)不必抄題，作答時請將試題題號及答案依照順序寫在申論試卷上，於本試題上作答者，不予計分。
(二)請以藍、黑色鋼筆或原子筆在申論試卷上作答。
(三)本科目除專門名詞或數理公式外，應使用本國文字作答。

一、甲因想創業需要資金，於是跟銀行借款新臺幣（下同）500 萬元，並將其名下的 A 屋提供給銀行設定普通抵押權。A 屋後來因地震而嚴重損害，急需進行整修，於是甲跟乙成立 A 屋修繕契約，並約定修繕報酬為 300 萬元。A 屋經乙整修後，A 屋市價約提高 200 萬元。惟甲因財務問題，不但無法給付修繕報酬，亦無法返還其向銀行之借款，對銀行之欠款尚有 300 萬元未還清。而且甲尚欠丙 150 萬元（未設抵押權），丁 100 萬元（未設抵押權）。上述借款皆已屆期，甲無力清還債務，故出賣 A 屋以還債，A 屋賣得不錯價錢 750 萬元。請問甲欲以賣 A 屋所得之 750 萬元清償其債務，其清償順位如何？如果乙為 A 屋修繕時，有預先登記法定抵押權，其清償順位是否有不同？（25 分）

二、甲（買方）、乙（賣方）就第三人之 A 不動產訂立買賣契約。甲為逃避強制執行，乃與丙通謀虛偽合意，指示乙將 A 移轉所有權登記予丙，再由丙與丁通謀虛偽合意將 A 移轉登記為丁所有。在此同時，甲告知戊上述情事，並與其訂立買賣 A 不動產之契約。如甲未依約將 A 移轉登記予戊時，戊得為如何之主張，請求甲將 A 移轉登記於自己？（25 分）

乙、測驗題部分：(50 分)

代號：2214

- (一)本測驗試題為單一選擇題，請選出一個正確或最適當的答案，複選作答者，該題不予計分。
(二)共 25 題，每題 2 分，須用 2B 鉛筆在試卡上依題號清楚劃記，於本試題或申論試卷上作答者，不予計分。

- 下列何者為營利法人？
(A)某中小企業銀行
(B)某縣商業同業公會
(C)臺北市某區扶輪社
(D)財團法人金融研訓院
- 甲有一幅名畫，借給乙展覽，並未授權乙出賣該畫。詎料，乙竟以甲之代理人名義，與丙訂立買賣契約，將該畫賣給丙，並以移轉所有權之意思交付給丙。下列敘述，何者正確？
(A)丙若是善意，丙可以善意取得該畫之所有權
(B)甲拒絕承認時，善意之丙得請求乙損害賠償
(C)乙、丙所訂立之買賣契約係出賣他人之物為有效
(D)乙無權處分他人之物，甲得撤銷該買賣契約

- 3 民國 80 年某報報導：「前黑貓中隊飛行員張○義因執行職務在中國大陸失蹤，而張○義的太太張○淇帶著三個子女苦守九年後，嫁給了一位上校副處長何○俊，20 年後飛行員張○義離開中國大陸，突然出現臺灣，三人之間的『身分糾葛』...。」前任丈夫失蹤達一定時間經由法院宣告死亡後，不知原任丈夫生死的張太太另嫁善意無過失的何上校，20 年後前任丈夫張○義回至原住居地，三人相會。此時張○淇與何○俊上校的婚姻關係，下列敘述，何者正確？
- (A)無效
(B)有效
(C)有效，但得撤銷
(D)效力未定，張太太必須向法院明示選擇何段婚姻
- 4 下列事項，何者得以事後拋棄？
- (A)自由 (B)權利能力 (C)行為能力 (D)消滅時效之利益
- 5 關於利息之債，下列敘述，何者錯誤？
- (A)當事人約定利息，卻未約定利率，亦無法律規定者，其週年利率為 5%
(B)約定利率超過週年 12%者，債務人經 1 年後，以 1 個月前預告債權人為限，得隨時清償原本
(C)約定利率，超過週年 20%者，債權人對於超過部分之利息，無請求權
(D)當事人約定滾入原本再生利息者，絕對無效
- 6 甲駕駛大貨車，靠行於乙貨運公司，甲於民國（下同）100 年 1 月送貨時不慎撞傷行人丙，丙被送醫救治時，獲悉其係被甲撞倒及甲的貨車上漆有乙公司字樣等情。丙嗣於 102 年 3 月向法院訴請甲乙連帶負損害賠償責任，甲未為時效抗辯，乙則援用甲之時效利益，拒絕全部給付。下列關於法律效果之敘述，何者正確？
- (A)因甲非乙之受僱人，故丙不得請求乙負僱用人之侵權責任
(B)乙援用甲之時效利益，拒絕全部給付，須以甲已為時效抗辯為必要，方屬有理
(C)因丙之侵權行為損害賠償請求權，自有侵權行為時起，逾 10 年不行使而消滅，故丙之請求權尚未罹於消滅時效
(D)丙訴請乙連帶負損害賠償責任，並無理由
- 7 下列關於損害賠償之敘述，何者錯誤？
- (A)應先回復原狀 (B)賠償範圍包括所失利益
(C)賠償限於財產損害 (D)金錢賠償採客觀計算標準
- 8 債務之履行有確定期限者，自何時起，具可歸責事由之債務人開始負遲延責任？
- (A)自期限屆滿時起 (B)自債務人受催告時起
(C)自催告期限屆滿時起 (D)自債權人起訴時起
- 9 債務人為免其財產被強制執行，與第三人通謀虛偽意思表示，將其所有不動產為第三人設定普通抵押權者，債權人不得主張下列何種權利？
- (A)依侵權行為之法則，請求第三人塗銷抵押權登記
(B)依侵權行為之法則，請求第三人賠償其債權不能及時受償所生之損害
(C)行使代位權，請求第三人塗銷抵押權登記
(D)行使撤銷權，聲請法院撤銷抵押權設定行為

- 10 甲所有之 A 土地，將其設定普通抵押權予乙前，由甲在其上建有 B 屋一棟，嗣甲將 B 屋出售予丙並辦理移轉登記。下列敘述，何者正確？
- (A) 丙現所有之 B 屋於乙扣押 A 土地前，推定甲與丙間對該 B 屋有租賃關係
 - (B) 乙扣押拍賣 A 土地之抵押權效力及於現為丙所有之 B 屋
 - (C) 承審法院認為前述甲與丙間對該 B 屋有租賃關係影響乙抵押權益之實現時，得終止或解消該使用關係
 - (D) 乙得就 B 屋主張併付拍賣
- 11 甲、乙間成立委任契約，約定由甲為乙處理事務。但甲又找丙代為處理乙的部分事務。下列敘述，何者正確？
- (A) 若甲、乙間並未約定可以複委任，但若乙有不得已事由，仍得使第三人代為處理
 - (B) 甲若是先透過乙同意再委任丙代為處理事務，甲對丙的行為原則上不負責任
 - (C) 乙對於丙關於委任事務之履行，並無直接請求權，須透過甲對丙為請求
 - (D) 甲對於丙如何履行委任事務，無須對乙為報告
- 12 下列關於保證債務之敘述，何者錯誤？
- (A) 保證債務具有補充性
 - (B) 保證人就保證債務負無限責任
 - (C) 保證債務從屬於主債務
 - (D) 保證人不得以主債務人對於債權人之債權，主張抵銷
- 13 下列關於占有種類之敘述，何者錯誤？
- (A) 甲偷竊乙之古董花瓶後，將其藏匿於家中之情形，為自主占有
 - (B) 乙承租甲之住屋且居住中之情形，為他主占有
 - (C) 乙與丙繼承甲生前所占有之住屋之情形，為共同占有
 - (D) 乙無權占有甲之土地，且乙對有無占有權限有所懷疑之情形，為準占有
- 14 下列關於所有權之敘述，何者錯誤？
- (A) 所有人於法令限制範圍內，得自由選擇對物的使用方式
 - (B) 所有人原則上得透過對物進行利用或經營而獲取孳息或其他收益
 - (C) 已登記之不動產所有物返還請求權，因時效而消滅
 - (D) 所有人得讓與其標的物，亦得將之為事實上處分
- 15 甲有 A 地，設定普通抵押權於乙。下列敘述，何者錯誤？
- (A) 甲非經乙之同意，不得移轉 A 地所有權於他人
 - (B) 甲得於 A 地上設定普通地上權於他人
 - (C) 甲得於 A 地上設定第二次序抵押權於他人
 - (D) 甲得於 A 地上建築房屋
- 16 下列何種情形，不得設定不動產役權？
- (A) 甲以自己所有之 A 地，為甲所有之 B 地設定，供通行之用
 - (B) 甲以自己所有之 A 地，為乙所有之 C 地設定，供汲水之用
 - (C) 甲以自己所有之 A 地，為丙租用之 D 屋設定，供採光之用
 - (D) 甲以自己所有之 A 地，為丁租用之馬匹設定，供跑馬之用
- 17 甲、乙兩人共同向丙承租一間二房二廳公寓，甲、乙各占有使用一間房間，約定共同使用廚房及客廳。下列敘述，何者正確？
- (A) 當丙未經甲的同意而進入甲所占有使用之該房間，甲不得單獨請求丙離開
 - (B) 當甲未經乙的同意而進入乙所占有使用之該房間，乙得請求甲離開
 - (C) 當丙未經甲、乙的同意而進入該公寓之客廳，甲或乙得單獨請求丙離開
 - (D) 當丙未經甲、乙的同意而進入該公寓之客廳，甲、乙兩人須共同請求丙離開

- 18 因訂定婚約而為之贈與，關於「得請求返還贈與物」之規定，不包括下列何種情形？
(A)婚約無效 (B)婚約解除 (C)婚約撤銷 (D)當事人一方死亡
- 19 甲男、乙女於民國（下同）96年3月結婚，甲、乙未約定夫妻財產制。甲男於95年5月向丙借新臺幣（下同）100萬元；乙於96年5月向銀行貸款50萬元以購置汽車一輛，登記為乙所有。下列敘述，何者正確？
(A)甲、乙之財產制為聯合財產制
(B)甲對丙之債務應由甲清償
(C)乙向銀行貸款之債務，由甲與乙共同清償
(D)甲對乙之汽車有管理、使用、收益及處分權
- 20 甲男、乙女為夫妻，有一子為A，A年30歲，A已婚，A妻為B。甲弟為丙，丙年52歲，丙未婚。設於民國103年7月間，丙欲收養A。下列敘述，何者正確？
(A)丙收養A為無效，因丙與A為禁止成立收養關係之親屬
(B)丙收養A，應以書面，不須向法院聲請認可
(C)A被收養時，應得B之同意。但B如不能為意思表示，則不須得B之同意
(D)丙收養A為無效，因丙與A未符合收養者應長於被收養者一定年齡之要件
- 21 甲男年10歲，無祖父母、父母及兄姊。乙男自民國101年7月起任甲之監護人，今乙死亡。下列敘述，何者錯誤？
(A)法院依職權另行選定適當之人為甲的監護人
(B)乙死亡時，甲之財產的移交與結算，由乙之繼承人為之
(C)法院依職權另行選定適當之人為甲的監護人確定前，由當地社會福利主管機關為甲的監護人
(D)法院另行選定適當之人為甲的監護人時，應依職權囑託當地社會福利主管機關登記
- 22 被繼承人甲由寡母乙拉拔長大，其後與丙女結婚，生有一子丁，有先天性心智缺陷，而依法受監護宣告，此時丙女又懷胎戊女，未料，甲於出差時，因事故死亡。甲男留有財產新臺幣（下同）240萬元，應如何繼承？
(A)乙女、丙女各得120萬元 (B)丙女、丁男各得120萬元
(C)丙女、戊女各得120萬元 (D)丙女、丁男、戊女各得80萬元
- 23 設甲於民國103年7月間死亡，甲有三位繼承人，分別為A、B、C。下列敘述，何者正確？
(A)關於遺產分割之費用，均由遺產中支付之，且包括因繼承人之過失而為之支付
(B)遺產之分割，溯及繼承開始時，發生A、B、C單獨所有之效力
(C)甲如有以遺囑禁止遺產之分割，其禁止之效力以20年為限
(D)A、B、C為遺產分割之協議時，應共同為之
- 24 設甲於民國103年7月間死亡，甲生前立有遺囑。下列關於遺囑之敘述，何者正確？
(A)甲生前所立如為有封緘之遺囑，非在親屬會議當場或法院公證處，不得開視
(B)甲生前所立如為代筆遺囑，須由公證人指定三人以上之見證人，始符合代筆遺囑之法定要件
(C)甲生前所立如為筆記口授遺囑，應由遺囑人與其他見證人同行簽名，始符合筆記口授遺囑之法定要件
(D)甲生前所立如為密封遺囑，該遺囑全文應由甲自寫，不得由他人繕寫
- 25 甲為救治罹患罕見疾病的女兒出售目前唯一的自住公寓，市價新臺幣（下同）500萬元，鄰居乙知悉後，趁甲危急以200萬元向甲出價。甲因事出緊急遂以200萬元出賣給乙，但3天後衛生福利部中央健康保險署公告該罕見疾病為健保給付範圍。甲此時非常後悔以低賤價格將公寓賣給乙，向乙表示退還200萬元。問：該公寓買賣契約效力如何？
(A)無效 (B)終局有效
(C)效力未定 (D)有效，但甲得向法院聲請撤銷之

測驗式試題標準答案

考試名稱：108年公務人員高等考試三級考試暨普通考試

類科名稱：商業行政、智慧財產行政、財稅行政、法制

科目名稱：民法（試題代號：2214）

單選題數：25題

單選每題配分：2.00分

複選題數：

複選每題配分：

標準答案：

更多高普考考試科目的歷屆題庫
立即上網搜尋“高普考歷屆考古題懶人包”
高鋒公職補習班整理
Line@帳號：@gaofeng
連絡電話：07-236-7296

題號	第1題	第2題	第3題	第4題	第5題	第6題	第7題	第8題	第9題	第10題
答案	A	B	B	D	D	D	C	A	D	A

題號	第11題	第12題	第13題	第14題	第15題	第16題	第17題	第18題	第19題	第20題
答案	B	D	D	C	A	D	C	D	B	C

題號	第21題	第22題	第23題	第24題	第25題	第26題	第27題	第28題	第29題	第30題
答案	D	D	D	A	D					

題號	第31題	第32題	第33題	第34題	第35題	第36題	第37題	第38題	第39題	第40題
答案										

題號	第41題	第42題	第43題	第44題	第45題	第46題	第47題	第48題	第49題	第50題
答案										

題號	第51題	第52題	第53題	第54題	第55題	第56題	第57題	第58題	第59題	第60題
答案										

題號	第61題	第62題	第63題	第64題	第65題	第66題	第67題	第68題	第69題	第70題
答案										

題號	第71題	第72題	第73題	第74題	第75題	第76題	第77題	第78題	第79題	第80題
答案										

題號	第81題	第82題	第83題	第84題	第85題	第86題	第87題	第88題	第89題	第90題
答案										

題號	第91題	第92題	第93題	第94題	第95題	第96題	第97題	第98題	第99題	第100題
答案										

備註：

測驗題標準答案更正

考試名稱：108年公務人員高等考試三級考試暨普通考試

更多高普考考試科目的歷屆題庫
立即上網搜尋“高普考歷屆考古題懶人包”
高鋒公職補習班整理
Line@帳號：@gaofeng
連絡電話：07-236-7296

類科名稱：財稅行政、法制、商業行政、智慧財產行政

科目名稱：民法

單選題數：25題

單選每題配分：2.00分

複選題數：

複選每題配分：

標準答案：答案標註#者，表該題有更正答案，其更正內容詳見備註。

題號	第1題	第2題	第3題	第4題	第5題	第6題	第7題	第8題	第9題	第10題
答案	A	B	B	D	D	D	C	A	D	#

題號	第11題	第12題	第13題	第14題	第15題	第16題	第17題	第18題	第19題	第20題
答案	B	D	D	C	A	D	C	D	B	C

題號	第21題	第22題	第23題	第24題	第25題	第26題	第27題	第28題	第29題	第30題
答案	D	D	D	A	D					

題號	第31題	第32題	第33題	第34題	第35題	第36題	第37題	第38題	第39題	第40題
答案										

題號	第41題	第42題	第43題	第44題	第45題	第46題	第47題	第48題	第49題	第50題
答案										

題號	第51題	第52題	第53題	第54題	第55題	第56題	第57題	第58題	第59題	第60題
答案										

題號	第61題	第62題	第63題	第64題	第65題	第66題	第67題	第68題	第69題	第70題
答案										

題號	第71題	第72題	第73題	第74題	第75題	第76題	第77題	第78題	第79題	第80題
答案										

題號	第81題	第82題	第83題	第84題	第85題	第86題	第87題	第88題	第89題	第90題
答案										

題號	第91題	第92題	第93題	第94題	第95題	第96題	第97題	第98題	第99題	第100題
答案										

備註：第10題一律給分。

代號：20860
21460-21660
22360-22560
22760
23160-23560
23760
頁次：4-1

108年公務人員高等考試三級考試試題

類 科：勞工行政、財稅行政、金融保險、統計、經建行政、公平交易管理、企業管理、商業行政、僑務行政（選試英文）、僑務行政（選試西班牙文）、僑務行政（選試日文）、僑務行政（選試德文）、僑務行政（選試法文）、醫務管理

科 目：經濟學

考試時間：2小時

※注意：禁止使用電子計算器。

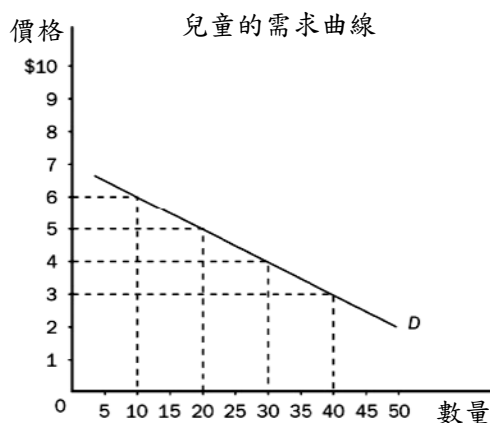
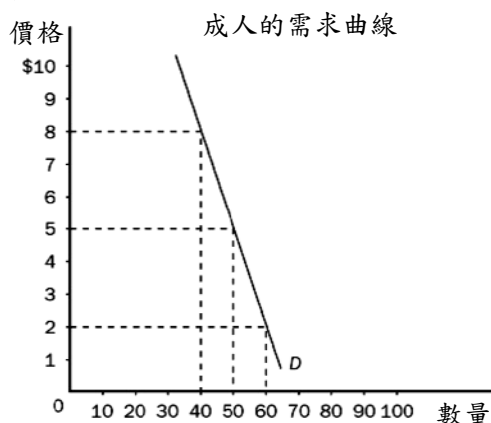
更多高普考考試科目的歷屆題庫
立即上網搜尋“高普考歷屆考古題懶人包”
高鋒公職補習班整理
Line@帳號：@gaofeng
連絡電話：07-236-7296

座號：_____

甲、申論題部分：（50分）

- (一)不必抄題，作答時請將試題題號及答案依照順序寫在申論試卷上，於本試題上作答者，不予計分。
- (二)請以藍、黑色鋼筆或原子筆在申論試卷上作答。
- (三)本科目除專門名詞或數理公式外，應使用本國文字作答。

一、你擁有一個小鎮電影院，目前每張門票售價為5元，請根據下圖回答以下問題：



- (一)目前電影院之總收入為多少？（5分）
- (二)那一個市場的需求彈性較大？（5分）
- (三)成人市場的票價在5元到2元之間的需求彈性為何？其為具有彈性或缺乏彈性？（5分）
- (四)根據上圖，可以採取何種價格策略增加戲院的總收入？並請舉一例計算說明之。（10分）

二、某國的產出為Cobb-Douglas之固定份額函數，其中資本份額為0.3，勞動份額為0.7，假設從2015年初至2016年初，該國之產出由4,000增至4,500，且資本存量由10,000增至12,000，另勞動力由2,000降到1,750，請問：

- (一)資本對該年度經濟成長的貢獻為何？（5分）
- (二)勞動對該年度經濟成長的貢獻為何？（5分）
- (三)生產力（productivity）對該年度經濟成長的貢獻又為何？（10分）
- (四)如果本模型納入人力資本（human capital），Cobb-Douglas產出函數，要如何修正？請寫出一函數並說明之。（5分）

乙、測驗題部分：（50分）

代號：6208

(一)本測驗試題為單一選擇題，請選出一個正確或最適當的答案，複選作答者，該題不予計分。

(二)共25題，每題2分，須用2B鉛筆在試卡上依題號清楚劃記，於本試題或申論試卷上作答者，不予計分。

- 下列何者敘述不是壟斷性競爭（monopolistic competition）市場的特性？
(A)產品間存在差異化 (B)廠商家數多於寡占市場
(C)個別廠商所面對的需求曲線都是水平線 (D)個別廠商有部分的定價能力
- 假設目前勞動（ L ）和資本（ K ）的市場單位價格皆為 \$1。試問：下列那一個生產函數所對應的成本函數具有平均成本遞減的特性？
(A) $q = L + K$ (B) $q = 2L + 3K$ (C) $q = LK$ (D) $q = L^{0.5}K^{0.5}$
- 在外部性存在的前提下，寇氏定理（Coase theorem）隱含的要義是：
(A)只要財產權明確界定，即可達到效率境界
(B)只要協商成本為零，即可達到效率境界
(C)財產權明確界定且協商成本為零，才可達到效率境界
(D)只要有外部性，效率境界就不可能達到
- 假設甲國的秉賦，可以生產 500 輛汽車或 1,000 支手機；乙國的秉賦，可以生產 200 輛汽車或 500 支手機。請問下列敘述何者正確？
(A)乙國生產手機具有比較利益 (B)乙國生產汽車具有絕對利益
(C)甲國無法透過與乙國貿易而獲利 (D)兩國生產技術不同，故無法比較
- 為何在吃到飽的餐廳吃飯，食量通常比去一般餐廳吃飯來得大？因為吃到飽的餐廳：
(A)多吃邊際成本下降 (B)食物較多成本較低
(C)多吃沒有邊際成本 (D)比一般餐廳便宜
- 某大速食店對木柵附近居民而言是獨占，其漢堡之需求如下： $Q = 80 - 5P$ 式中 Q 為需求量、 P 為價格。假設每個漢堡的成本是 8 元，且固定成本為零。請問老闆可以賺多少錢？最適定價為多少？會賣出多少個漢堡？
(A) 60 元；12.5 元；25 個漢堡 (B) 65 元；12 元；22 個漢堡
(C) 70 元；13.5 元；21 個漢堡 (D) 80 元；12 元；20 個漢堡
- 若 $MU_x / P_x > MU_y / P_y$ ，則某人應採取何種消費策略？
(A)增加 X 消費與減少 Y 消費 (B)維持現狀
(C)增加 X 消費與增加 Y 消費 (D)減少 X 消費與增加 Y 消費
- 在完全競爭市場中，如果每家廠商的生產成本完全相同，則個別廠商的：
(A)短期利潤一定為零 (B)短期利潤一定大於零
(C)長期利潤一定為零 (D)長期利潤一定大於零

- 19 令 Y_d 表所得 (Y) 減去賦稅 (T) 的可支配所得，且某國為消費 $(C) = 100 + 0.8Y_d$ ；投資 $(I) = 100$ ；政府支出 $(G) = 50$ ； $T = 50$ 之封閉經濟，則下列何者錯誤？
- (A) 均衡所得為 1,050
 (B) 若充分就業所得為 850，則有 200 的膨脹缺口
 (C) 若充分就業所得為 850，則僅政府內部單獨減少支出 40，即可達充分就業
 (D) 若充分就業所得為 850，則僅政府內部單獨增稅 50，即可達充分就業
- 20 根據恆常消費理論，儘管股市大跌，但消費若只受到微小影響的原因，是下列何者發揮作用？
- (A) 財富效果
 (B) 消費平滑 (consumption smoothing)
 (C) 跨期替代效果
 (D) 李嘉圖均等定理
- 21 令橫軸變數為實質 GDP，縱軸變數為利率。就 IS-LM 模型而言，下列關於 IS 線的敘述何者正確？
- (A) 當邊際消費傾向之值愈大且民間投資對利率的敏感程度愈高時，IS 線會愈平坦
 (B) 當邊際消費傾向之值愈大且民間投資對利率的敏感程度愈低時，IS 線會愈平坦
 (C) 當邊際消費傾向之值愈小且民間投資對利率的敏感程度愈高時，IS 線會愈平坦
 (D) 當貨幣需求對利率的敏感程度愈高且貨幣需求對實質 GDP 的敏感程度愈低時，IS 線會愈平坦
- 22 假設其他條件相同且中央銀行的貨幣政策有效。根據 IS-LM 模型，當中央銀行買進債券時，下列何者會讓均衡所得增加的幅度愈大？
- (A) 邊際消費傾向愈低
 (B) 貨幣需求對所得的敏感程度愈高
 (C) 貨幣需求對利率的敏感程度愈低
 (D) 民間投資對利率的敏感程度愈低
- 23 設政府稅收函數為 $T = 100$ 億元 + $0.1Y$ ，而政府支出： $G = 198$ 億元，式中 Y 為產出所得。如果潛在產出為 1,000 億元但實際產出等於 950 億元時，請問政府的結構性預算和循環性預算餘額各為多少？
- (A) 結構性預算盈餘 2 億元和循環性預算赤字 3 億元
 (B) 結構性預算赤字 2 億元和循環性預算盈餘 3 億元
 (C) 結構性預算盈餘 2 億元和循環性預算赤字 5 億元
 (D) 結構性預算赤字 5 億元和循環性預算盈餘 3 億元
- 24 如果銀行大量倒閉，則：
- (A) 通貨相對於存款比率增大
 (B) 通貨相對於存款比率減小
 (C) 通貨相對於存款比率不變
 (D) 如果中央銀行不採取行動，通貨會減少
- 25 若一國之國際收支有逆差，則可採取何種政策以減少逆差？
- (A) 降低本國利率
 (B) 本國貨幣貶值
 (C) 調高基本工資
 (D) 本國貨幣升值

測驗式試題標準答案

考試名稱：108年公務人員高等考試三級考試暨普通考試

類科名稱：勞工行政、財稅行政、金融保險、統計、經建行政、公平交易管理、企業管理、商業行政、僑務行政(選試英文)、僑務行政(選試西班牙文)、僑務行政(選試日文)、僑務行政(選試德文)、僑務行政(選試法文)、醫務管理

科目名稱：經濟學(試題代號：6208)

單選題數：25題 單選每題配分：2.00分

複選題數： 複選每題配分：

標準答案：

題號	第1題	第2題	第3題	第4題	第5題	第6題	第7題	第8題	第9題	第10題
答案	C	C	C	A	C	D	A	C	D	C

題號	第11題	第12題	第13題	第14題	第15題	第16題	第17題	第18題	第19題	第20題
答案	B	A	C	C	C	A	A	D	B	B

題號	第21題	第22題	第23題	第24題	第25題	第26題	第27題	第28題	第29題	第30題
答案	A	C	C	A	B					

題號	第31題	第32題	第33題	第34題	第35題	第36題	第37題	第38題	第39題	第40題
答案										

題號	第41題	第42題	第43題	第44題	第45題	第46題	第47題	第48題	第49題	第50題
答案										

更多高普考考試科目的歷屆題庫
 立即上網搜尋“高普考歷屆考古題懶人包”
 高鋒公職補習班整理
 Line@帳號：@gaofeng
 連絡電話：07-236-7296

題號	第51題	第52題	第53題	第54題	第55題	第56題	第57題	第58題	第59題	第60題
答案										

題號	第61題	第62題	第63題	第64題	第65題	第66題	第67題	第68題	第69題	第70題
答案										

題號	第71題	第72題	第73題	第74題	第75題	第76題	第77題	第78題	第79題	第80題
答案										

題號	第81題	第82題	第83題	第84題	第85題	第86題	第87題	第88題	第89題	第90題
答案										

題號	第91題	第92題	第93題	第94題	第95題	第96題	第97題	第98題	第99題	第100題
答案										

備註：

代號：21450
21750
頁次：4-1

108年公務人員高等考試三級考試試題

類 科：財稅行政、會計

科 目：財政學

考試時間：2 小時

※注意：禁止使用電子計算器。

更多高普考考試科目的歷屆題庫
立即上網搜尋“高普考歷屆考古題懶人包”
高鋒公職補習班整理
Line@帳號：@gaofeng
連絡電話：07-236-7296

座號：_____

甲、申論題部分：(50 分)

- (一)不必抄題，作答時請將試題題號及答案依照順序寫在申論試卷上，於本試題上作答者，不予計分。
- (二)請以藍、黑色鋼筆或原子筆在申論試卷上作答。
- (三)本科目除專門名詞或數理公式外，應使用本國文字作答。

一、假設社會只有二種財貨 X 與 Y，L 與 Z 為工作與休閒， P_x 、 P_y 與 w 分別為兩財貨的價格及工資，如果工作所得全部用於消費，試以預算限制式分析下列二種情況下，對 X、Y 與 Z 三者課徵相同稅率(t)的最適 (Optimal) 課稅結果。

(一)假設可以直接對休閒課稅。(13 分)

(二)假設無法直接對休閒課稅，而代之以對工作補貼。(12 分)

二、何謂非凸性問題 (Non-convexity Problem)？試以「平均成本遞減」及「污染的負外部性」等二種狀況為例，分別詳細說明之。(25 分)

乙、測驗題部分：(50 分)

代號：5214

- (一)本測驗試題為單一選擇題，請選出一個正確或最適當的答案，複選作答者，該題不予計分。
- (二)共 25 題，每題 2 分，須用 2B 鉛筆在試卡上依題號清楚劃記，於本試題或申論試卷上作答者，不予計分。

1 下列敘述何者符合國家有機論 (organic view) 的觀點？

- (A)政府是有機體的一份子，以追求公部門利益極大化為目的
- (B)個人是有機體的一份子，以追求個人利益極大化為目的
- (C)個人是有機體的一份子，以追求社會利益的極大化為目的
- (D)政府是有機體的一份子，個人並非有機體的一份子

2 甲、乙兩人的消費組合從契約線 (contract curve) 外調整到契約線上，則：

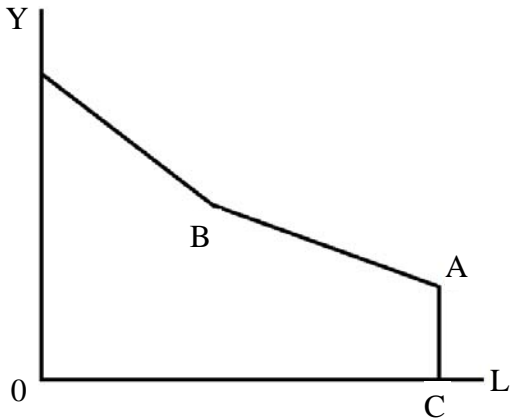
- (A)兩人的效用都一定能提高
- (B)兩人的效用都無法提高
- (C)至少有一人的效用會提高
- (D)有一人的效用會提高，另一人的效用會降低

3 下列對林達爾 (E. Lindahl) 自願交易模型下均衡解的敘述，何者正確？

- (A)符合效率且每人稅額負擔一定相同
- (B)符合效率但每人稅額負擔並不一定相同
- (C)不符合效率但每人稅額負擔一定相同
- (D)不符合效率且每人稅額負擔並不一定相同

- 4 假設 X 財貨的需求曲線為 $P = 100 - Q$ ，且每生產一單位 X 財貨的邊際成本為 30 元，同時也會造成 20 元的邊際外部成本。在政府以課徵皮古稅 (Pigouvian tax) 來達到社會最適的數量時，政府可獲得多少稅收？
- (A) 500 元 (B) 1,000 元 (C) 1,500 元 (D) 2,000 元
- 5 下列何者非公共支出上升的學理原因？
- (A) 稽徵技術提高，租稅收入增加
(B) 物價下跌，公共財數量增加
(C) 人口增加，提高社會成本，使公共支出增加
(D) 公共支出中資本支出日益加重，而其所得彈性通常大於 1
- 6 若一計畫現在的投入成本為 \$100,000，1 年後產生的效益為 \$108,000，則此計畫的內部報酬率 (internal rate of return) 為：
- (A) 5% (B) 6% (C) 8% (D) 10%
- 7 若政府採用淨現值法評估計畫，則在下列何條件下，可以執行計畫？
- (A) 淨現值為正時 (B) 內部報酬率小於折現率時
(C) 內部報酬率小於社會折現率時 (D) 沒有影子價格時
- 8 依預算法第 34 條，政府推動重要公共工程建設及重大施政計畫，於編列概算或預算案前，應先行製作選擇方案及替代方案的何種報告？
- (A) 成本效益分析 (B) 稅式支出評估 (C) 勞動力需求規模 (D) 環境影響評估
- 9 如果我們將民主政治視為一社會資源分配機制，那麼利益團體經由一定程序，支持能夠保護該特定團體利益的政治人物，此種行為：
- (A) 在許多民主國家視其為非法，立法加以禁止
(B) 必定能夠促進經濟成長
(C) 有可能改善資源配置效率
(D) 在我國明訂禁止此種行為
- 10 下列何者不是社會救助的給付項目？
- (A) 生活扶助 (B) 醫療補助 (C) 災害救助 (D) 老年農民福利津貼
- 11 有關於勞工退休金的提繳，下列敘述何者錯誤？
- (A) 勞工得在其每月工資 6% 範圍內，自願提繳退休金
(B) 勞工自願提繳部分，得自當年度個人綜合所得總額中全數扣除
(C) 用以作為提繳基準的每月工資，由中央主管機關擬訂月提繳工資分級表，報請行政院核定之
(D) 自營作業者不可以參與提繳及請領退休金

- 12 勞動者的預算線如下圖，橫軸為休閒 L ，縱軸為所得 Y 。政府給予無所得者補助 \overline{AC} ，勞動者每賺取一元所得，政府會減少補助 0.4 元。若勞動者的工資率為 W ，則 \overline{AB} 的斜率應為何？



- (A) $0.4W$ (B) $0.6W$ (C) $1.4W$ (D) $1.6W$
- 13 關於財產稅歸宿有各種不同觀點，下列敘述何者正確？
- (A) 舊觀點認為不論是土地稅或房屋稅皆是累退的
(B) 舊觀點認為土地稅是累退的，而房屋稅是累進的
(C) 新觀點認為財產稅的一般租稅效果與貨物稅效果皆是累進的
(D) 新觀點認為財產稅的一般租稅效果是累進的，而貨物稅效果則不確定
- 14 課徵薪資所得稅所引發的超額負擔：
- (A) 與勞動供給彈性成正比 (B) 與納稅者邊際稅率成反比
(C) 與薪資所得稅稅收成反比 (D) 與納稅者休閒時數成反比
- 15 經常用來衡量一國財政能力的國民租稅負擔率之定義為：
- (A) 稅式支出 / 國民生產毛額 (B) 賦稅收入 / 國民生產毛額
(C) 稅式支出 / 賦稅收入 (D) 所得稅稅收 / 賦稅收入
- 16 我國現行個人基本稅額的起徵額及徵收率分別為：
- (A) 新臺幣 200 萬；12% (B) 新臺幣 200 萬；20%
(C) 新臺幣 670 萬；12% (D) 新臺幣 670 萬；20%
- 17 下列有關我國地價稅課徵之敘述何者錯誤？
- (A) 我國地價稅之課徵係採比例稅率
(B) 地價稅課徵之稅基為申報地價
(C) 規定地價後，每二年重新規定地價一次。但必要時得延長之
(D) 地價稅每年徵收一次
- 18 當所得稅稅制中出現邊際稅率高於平均稅率的現象時，該所得區段為：
- (A) 累進區段 (B) 累退區段 (C) 等比例區段 (D) 效率區段

- 19 跨國企業通常利用關係企業相互間不合常規交易之安排，將集團利潤實現於低稅負或免稅之企業成員，以降低集團總稅負，此種方式稱為：
- (A)移轉訂價 (B)受控外國公司法則
(C)資本弱化 (D)投資紅利
- 20 下列有關丁波（C.M.Tiebout）所提「純地方公共支出理論」的假設與敘述，何者錯誤？
- (A)人民遷徙不用花費任何成本與費用
(B)人民有充分資訊可了解各地區的公共支出及租稅上的差異
(C)各地區所提供的公共財具有外溢效果
(D)每個地區皆存在一個最適的規模人數
- 21 中央與地方政府權限的劃分，地方政府的權責主要是著眼於：
- (A)改善總體所得分配 (B)維持總體經濟發展與穩定
(C)提高資源的配置效率 (D)確保溫和的通貨膨脹率
- 22 財政分權制度可能導致租稅競爭（tax competition）現象，下列何者為租稅競爭的結果？
- (A)地方公共財的提供低於效率水準，稅收不足
(B)地方公共財的提供高於效率水準，稅收充足
(C)地方公共財的提供高於效率水準，稅收不足
(D)地方公共財的提供低於效率水準，稅收充足
- 23 有關財政分權制度效率面的優點，下列何者錯誤？
- (A)可量身訂作適合轄區居民的公共服務
(B)有助於各政府間的競爭，提高行政效率
(C)地方分權便於創新的公共政策進行區域性試驗
(D)若地方性公共財具正向外溢效果（spillover effect），採地方分權將有助資源配置效率
- 24 依據我國預算法之分類，有法定預算之機關單位，該機關單位之預算稱為：
- (A)總預算 (B)單位預算 (C)附屬單位預算 (D)分預算
- 25 下列有關直接民主體制下「中位數投票者定理」的敘述，何者正確？
- (A)中位數投票者與平均數投票者必為同一人
(B)中位數投票者決定民選首長的人選
(C)依中位數投票者之偏好決定公共財的規模
(D)中位數投票者乃是依照年齡大小排序選出

測驗式試題標準答案

考試名稱：108年公務人員高等考試三級考試暨普通考試

類科名稱：財稅行政、會計

科目名稱：財政學（試題代號：5214）

更多高普考考試科目的歷屆題庫
立即上網搜尋“高普考歷屆考古題懶人包”
高鋒公職補習班整理
Line@帳號：@gaofeng
連絡電話：07-236-7296

單選題數：25題

單選每題配分：2.00分

複選題數：

複選每題配分：

標準答案：

題號	第1題	第2題	第3題	第4題	第5題	第6題	第7題	第8題	第9題	第10題
答案	C	C	B	B	B	C	A	A	C	D

題號	第11題	第12題	第13題	第14題	第15題	第16題	第17題	第18題	第19題	第20題
答案	D	B	D	A	B	D	A	A	A	C

題號	第21題	第22題	第23題	第24題	第25題	第26題	第27題	第28題	第29題	第30題
答案	C	A	D	B	C					

題號	第31題	第32題	第33題	第34題	第35題	第36題	第37題	第38題	第39題	第40題
答案										

題號	第41題	第42題	第43題	第44題	第45題	第46題	第47題	第48題	第49題	第50題
答案										

題號	第51題	第52題	第53題	第54題	第55題	第56題	第57題	第58題	第59題	第60題
答案										

題號	第61題	第62題	第63題	第64題	第65題	第66題	第67題	第68題	第69題	第70題
答案										

題號	第71題	第72題	第73題	第74題	第75題	第76題	第77題	第78題	第79題	第80題
答案										

題號	第81題	第82題	第83題	第84題	第85題	第86題	第87題	第88題	第89題	第90題
答案										

題號	第91題	第92題	第93題	第94題	第95題	第96題	第97題	第98題	第99題	第100題
答案										

備註：

測驗題標準答案更正

考試名稱：108年公務人員高等考試三級考試暨普通考試

類科名稱：財稅行政、會計

科目名稱：財政學

更多高普考考試科目的歷屆題庫
立即上網搜尋“高普考歷屆考古題懶人包”
高鋒公職補習班整理
Line@帳號：@gaofeng
連絡電話：07-236-7296

單選題數：25題

單選每題配分：2.00分

複選題數：

複選每題配分：

標準答案：答案標註#者，表該題有更正答案，其更正內容詳見備註。

題號	第1題	第2題	第3題	第4題	第5題	第6題	第7題	第8題	第9題	第10題
答案	C	C	B	B	B	C	A	A	C	D

題號	第11題	第12題	第13題	第14題	第15題	第16題	第17題	第18題	第19題	第20題
答案	D	B	D	#	B	D	A	A	A	C

題號	第21題	第22題	第23題	第24題	第25題	第26題	第27題	第28題	第29題	第30題
答案	C	A	D	B	#					

題號	第31題	第32題	第33題	第34題	第35題	第36題	第37題	第38題	第39題	第40題
答案										

題號	第41題	第42題	第43題	第44題	第45題	第46題	第47題	第48題	第49題	第50題
答案										

題號	第51題	第52題	第53題	第54題	第55題	第56題	第57題	第58題	第59題	第60題
答案										

題號	第61題	第62題	第63題	第64題	第65題	第66題	第67題	第68題	第69題	第70題
答案										

題號	第71題	第72題	第73題	第74題	第75題	第76題	第77題	第78題	第79題	第80題
答案										

題號	第81題	第82題	第83題	第84題	第85題	第86題	第87題	第88題	第89題	第90題
答案										

題號	第91題	第92題	第93題	第94題	第95題	第96題	第97題	第98題	第99題	第100題
答案										

備註：第14題答A或D者均給分，第25題答B或C者均給分。

代號：21440
頁次：4-1

108年公務人員高等考試三級考試試題

類 科：財稅行政

科 目：租稅各論

考試時間：2 小時

※注意：禁止使用電子計算器。

更多高普考考試科目的歷屆題庫
立即上網搜尋“高普考歷屆考古題懶人包”
高鋒公職補習班整理
Line@帳號：@gaofeng
連絡電話：07-236-7296

座號：_____

甲、申論題部分：(50 分)

- (一)不必抄題，作答時請將試題題號及答案依照順序寫在申論試卷上，於本試題上作答者，不予計分。
- (二)請以藍、黑色鋼筆或原子筆在申論試卷上作答。
- (三)本科目除專門名詞或數理公式外，應使用本國文字作答。

一、請說明：

- (一)加值稅 (value-added tax; VAT) 相對於其他銷售稅制的優點有那些？(18 分)
- (二)加值稅相對於其他銷售稅制有那些缺點？(7 分)

二、在生命週期 (life-cycle) 分析架構下，如果張三和李四兩個人只能存活兩期，同時兩人的第一期勞動所得皆為 3,000 元，又兩人第二期都沒有勞動所得。在市場利率為 20%，並且兩人皆不留遺產的情況下，若張三在第一期選擇儲蓄 1,500 元，而李四則是選擇在第一期儲蓄 750 元。請在上述情況下，回答以下問題：

- (一)若政府課徵稅率為 50% 的所得稅 (包括勞動與利息所得)，則張三與李四兩人的第一期稅額、第二期稅額以及兩期稅額現值加總額各會是多少？(5 分)
- (二)若政府課徵的是稅率為 50% 的消費稅，則張三與李四兩人的第一期稅額、第二期稅額以及兩期稅額現值加總額各會是多少？(5 分)
- (三)若政府在第一期課徵 50% 的所得稅後，在兩人已決定第一期儲蓄金額的情況下，於第二期改課徵稅率為 50% 的消費稅，則張三與李四兩人的第一期稅額、第二期稅額以及兩期稅額現值加總額各會是多少？(5 分)
- (四)請以上述分析結果為例，比較所得稅與消費稅的公平性。(5 分)
- (五)請以上述分析結果為例，分析課稅方式調整所可能引發的過渡性問題 (transitional problem)。(5 分)

乙、測驗題部分：(50 分)

代號：4214

- (一)本測驗試題為單一選擇題，請選出一個正確或最適當的答案，複選作答者，該題不予計分。
- (二)共 25 題，每題 2 分，須用 2B 鉛筆在試卡上依題號清楚劃記，於本試題或申論試卷上作答者，不予計分。

1 有關租稅的超額負擔之敘述，下列何者正確？

- (A)受補償需求彈性愈大，超額負擔愈小
- (B)受補償供給彈性愈大，超額負擔愈大
- (C)銷售金額愈低，超額負擔愈大
- (D)稅率愈高，超額負擔愈小

- 2 已知一完全競爭市場，供給曲線水平，受補償需求曲線為一直線，稅前每單位財貨的價格為 \$10。若政府對該財貨課徵 \$1 的從量稅，其受補償需求量由 500 下降為 400。課稅的超額負擔為何？
(A)\$50 (B)\$100 (C)\$200 (D)\$250
- 3 關於累進稅之敘述，下列何者正確？
(A)租稅的所得彈性大於零 (B)稅負隨著所得的減少而增加
(C)平均稅率隨著所得的增加而上升 (D)平均稅率大於邊際稅率
- 4 高所得者納稅能力較佳，所以應該繳納較多的稅額，係基於下列何種課徵原則？
(A)效率原則 (B)受益原則 (C)水平公平 (D)垂直公平
- 5 哈柏格 (Harberger) 之租稅歸宿的分析係採下列那種分析方式？
(A)絕對租稅歸宿 (B)相對租稅歸宿 (C)差異租稅歸宿 (D)平衡預算歸宿
- 6 在兩部門兩生產要素的 Harberger 一般均衡租稅歸宿模型中，若政府對所有所得來源課徵相同稅率的租稅，則：
(A)資本所有者負擔所有的租稅 (B)勞工負擔所有的租稅
(C)每人的租稅負擔和原所得成比例 (D)每人的租稅負擔和原有的資本利得成比例
- 7 若政府對獨占市場的產出課稅，則：
(A)獨占者可能自行負擔一部分租稅，且稅後利潤減少
(B)因為獨占者有訂價能力，獨占者必定會把所有租稅轉嫁給消費者負擔，但稅後利潤減少
(C)雖然獨占者有訂價能力，獨占者仍然可能負擔一部分租稅，但稅後利潤必定增加
(D)因為獨占者有訂價能力，獨占者必定會把所有租稅轉嫁給消費者負擔，且稅後利潤不變
- 8 下列有關個人極大化效用、所得與休閒選擇模型的討論，何者錯誤？
(A)所得稅課徵之所得效果將對工作誘因帶來正面影響，增加工作、減少休閒
(B)在勞動供給曲線為正斜率的情形下，不會造成稅率下跌、稅收卻增加的情形
(C)所得稅課徵之替代效果將對工作誘因帶來負面影響，減少工作、增加休閒
(D)所得稅之課徵可能使極大化效用之個人增加工作、減少休閒
- 9 有關個人資本利得 (capital gains) 課稅之相關敘述何者錯誤？
(A)根據海格·西蒙斯所得之定義 (Haig-Simons definition of income)，資本利得不論實現與否皆應課稅
(B)於計算所得時，資本減損 (capital losses) 應自資本利得中減除
(C)未實現之資本利得不課稅可減輕對資本利得課稅所產生之閉鎖效果
(D)未實現之資本利得不課稅的做法相當於政府就未實現資本利得之稅額提供無息貸款

- 10 政府對公司部門使用的資本課稅，引起資本的移動，造成要素價格的變化，而有了轉嫁的行為，這種轉嫁的現象，哈柏格（A. C. Harberger, 1962）認為是由下列那兩個效果引起？
- (A)產出效果與價格效果 (B)所得效果與替代效果
(C)產出效果與所得效果 (D)要素替代效果與產出效果
- 11 下列那一個模型並非探討公司部門的稅負對公司實質投資（physical investment）的影響？
- (A)資本資產訂價模型（Capital Asset Pricing Model）
(B)加速原理模型（Accelerator Model）
(C) Jorgenson 的新古典模型（Neoclassical Model）
(D)現金流量模型（Cash Flow Model）
- 12 有關租稅歸宿一般均衡分析之敘述，下列何者正確？
- (A)較部分均衡分析簡單
(B)僅分析單一市場
(C)適合用於租稅影響範圍大，且對其他市場的間接影響效果大
(D)適合用於租稅影響範圍大，但對其他市場的間接影響效果小
- 13 假設消費者的效用函數為 $U(X,Y) = X^{1/3}Y^{2/3}$ ，所得 $I = 90$ 元， X 、 Y 兩財貨的價格均為 1 元。若政府課徵稅率 30% 的所得稅，下列敘述何者正確？
- (A) X 、 Y 兩財貨消費均減少 30% (B) X 財貨減少 10%， Y 財貨減少 20%
(C) X 財貨減少 20%， Y 財貨減少 10% (D) X 、 Y 兩財貨消費均減少 15%
- 14 下列關於消費稅制度之敘述，何者正確？
- (A)庇古（A. C. Pigou）曾提出綜合消費稅制度
(B)綜合消費稅的稅基為貨物與勞務之總售價
(C)特種消費稅僅針對少數貨物課徵
(D)一般消費稅主要課徵目的為寓禁於徵
- 15 為達成寓禁於徵之目的，若提高對菸酒等需求價格彈性低的「成癮性」商品課稅，在其他條件不變下，有關課稅效果之敘述，下列何者正確？
- (A)稅收增加 (B)稅收減少 (C)消費價格大幅下降 (D)消費數量大幅增加
- 16 為符合租稅效率原則，關於消費稅課徵之敘述，下列何者錯誤？
- (A)應針對所有商品（包括休閒）採單一稅率課徵
(B)應對需求彈性較大的商品課徵較重的租稅
(C)應對消耗能源較大的產品課徵較重的租稅
(D)應對劣價財（demerit goods）課徵較重的租稅

- 17 假設某一國家只有 A、B、C 三種財貨，且基於政策考量不對 C 財貨課稅。在其他條件不變下，A、B 財貨應如何課稅，才能符合效率原則？
- (A)對 A、B 財貨課徵相同之稅率
 - (B)對 A、B 財貨給予相同定額之免稅
 - (C)按 A、B 財貨與 C 財貨之交叉價格彈性而定，彈性愈大者，稅率應較低
 - (D)按 A、B 財貨本身之價格彈性而定，彈性愈大者，稅率應較低
- 18 因為轉手稅的課徵而產生的金字塔效果（pyramiding effect），主要指下列何種現象？
- (A)對高單價商品多課稅而產生的稅負累積現象
 - (B)對高額消費者多課稅而產生的稅負累積現象
 - (C)因為商品交易次數增多而產生的稅負累積現象
 - (D)因為商品持有年數增長而產生的稅負累積現象
- 19 基於下列何種主要原因，不採單一稅率而採差別稅率的方式，以達消費稅的課稅效率？
- (A)無法只針對高價品課稅
 - (B)無法對民眾在國外的消費行為課稅
 - (C)無法對所有商品勞務的消費行為課稅
 - (D)無法對非居住者在國內的消費行為課稅
- 20 假設對某一財貨課徵特種銷售稅後，消費者的需求數量不受影響。下列敘述何者正確？
- (A)符合中立性的效率原則
 - (B)造成閉鎖效果
 - (C)消費者的總效用水準不受影響
 - (D)無謂損失仍有可能發生
- 21 對於沒有儲蓄的人而言，卡多爾（N. Kaldor）提出之綜合消費稅之稅基與下列何者相同？
- (A)所得稅
 - (B)加值稅
 - (C)轉手稅
 - (D)財富稅
- 22 在開放經濟體系中，如果大國（國際市場中的價格主導者）對進口貨物課徵關稅，下列敘述何者正確？
- (A)不利國內相關產業發展
 - (B)國內消費者福利增加，生產者福利減少
 - (C)社會整體福利水準上升
 - (D)國內供給量增加
- 23 財產稅為地方政府的重要稅源，其主要原因為何？
- (A)稅收富有彈性
 - (B)符合量能原則
 - (C)符合受益原則
 - (D)稅源具流動性
- 24 財產稅歸宿分析的新觀點，將對建築物課徵財產稅視為：
- (A)定額稅
 - (B)貨物稅
 - (C)資本稅
 - (D)規費
- 25 財產稅歸宿分析的利益觀點，將財產稅視為：
- (A)使用者付費
 - (B)貨物稅
 - (C)資本稅
 - (D)定額稅

測驗式試題標準答案

考試名稱：108年公務人員高等考試三級考試暨普通考試

類科名稱：財稅行政

科目名稱：租稅各論（試題代號：4214）

單選題數：25題

單選每題配分：2.00分

複選題數：

複選每題配分：

標準答案：

更多高普考考試科目的歷屆題庫
立即上網搜尋“高普考歷屆考古題懶人包”
高鋒公職補習班整理
Line@帳號：@gaofeng
連絡電話：07-236-7296

題號	第1題	第2題	第3題	第4題	第5題	第6題	第7題	第8題	第9題	第10題
答案	B	A	C	D	C	C	A	B	C	D

題號	第11題	第12題	第13題	第14題	第15題	第16題	第17題	第18題	第19題	第20題
答案	A	C	A	C	A	B	D	C	C	D

題號	第21題	第22題	第23題	第24題	第25題	第26題	第27題	第28題	第29題	第30題
答案	A	D	C	C	A					

題號	第31題	第32題	第33題	第34題	第35題	第36題	第37題	第38題	第39題	第40題
答案										

題號	第41題	第42題	第43題	第44題	第45題	第46題	第47題	第48題	第49題	第50題
答案										

題號	第51題	第52題	第53題	第54題	第55題	第56題	第57題	第58題	第59題	第60題
答案										

題號	第61題	第62題	第63題	第64題	第65題	第66題	第67題	第68題	第69題	第70題
答案										

題號	第71題	第72題	第73題	第74題	第75題	第76題	第77題	第78題	第79題	第80題
答案										

題號	第81題	第82題	第83題	第84題	第85題	第86題	第87題	第88題	第89題	第90題
答案										

題號	第91題	第92題	第93題	第94題	第95題	第96題	第97題	第98題	第99題	第100題
答案										

備註：

代號：21480
頁次：4-1

108年公務人員高等考試三級考試試題

類 科：財稅行政

科 目：稅務法規

考試時間：2 小時

※注意：禁止使用電子計算器。

更多高普考考試科目的歷屆題庫
立即上網搜尋“高普考歷屆考古題懶人包”
高鋒公職補習班整理
Line@帳號：@gaofeng
連絡電話：07-236-7296

座號：_____

甲、申論題部分：（50 分）

- (一)不必抄題，作答時請將試題題號及答案依照順序寫在申論試卷上，於本試題上作答者，不予計分。
- (二)請以藍、黑色鋼筆或原子筆在申論試卷上作答。
- (三)本科目除專門名詞或數理公式外，應使用本國文字作答。

一、我國為避免營利事業藉由低稅負國家或地區成立受控外國公司（Controlled Foreign Company）以規避納稅義務，對投資境外低稅負國家或地區關係企業的投資收益如何認列課稅？請依現行所得稅法規定說明之。（25 分）

二、請依相關稅法規定回答下列問題：

(一)何謂「視同贈與」？（10 分）

(二)納稅義務人對於核定之贈與稅應納稅額，逾稅法規定期限繳納者，其處罰規定為何？滯納金應否加徵利息？立法理由為何？試請申述之。（15 分）

乙、測驗題部分：（50 分）

代號：8214

- (一)本測驗試題為單一選擇題，請選出一個正確或最適當的答案，複選作答者，該題不予計分。
- (二)共 25 題，每題 2 分，須用 2B 鉛筆在試卡上依題號清楚劃記，於本試題或申論試卷上作答者，不予計分。

- 1 依現行所得稅法規定，下列那些所得係採分離課稅，不併計綜合所得總額課稅？①政府舉辦之獎券中獎獎金 ②告發或檢舉獎金 ③公債、公司債及金融債券之利息所得 ④短期票券到期兌償金額超過首次發售價格部分之利息所得
(A)僅①③ (B)僅②③④ (C)僅①②④ (D)①②③④
- 2 依現行所得稅法第 14 條之規定，下列那幾類所得計算所得額時，可以減除成本或（與）費用？①營利所得 ②利息所得 ③租賃所得及權利金所得 ④自力耕作、漁、牧、林、礦之所得
(A)僅①②④ (B)僅③④ (C)僅②③④ (D)僅①③
- 3 依現行所得稅法第 39 條規定，以往年度營業之虧損，不得列入本年度計算。但符合特定條件者，得將經該管稽徵機關核定之前十年內各期虧損，自本年純益額中扣除後，再行核課。請問該特定條件包括下列那幾項？①公司組織 ②會計帳冊簿據完備 ③虧損及申報扣除年度均使用藍色申報書或經會計師查核簽證 ④營利事業所得額在一定金額以下
(A)僅①②④ (B)僅③④ (C)僅①②③ (D)僅②③
- 4 依現行所得稅法規定，下列敘述何者正確？①會計基礎，凡屬公司組織者，應採用權責發生制 ②營利事業經營海運業務收入經核定按船舶淨噸位計算營利事業所得額者，一經選定，應連續適用五年，不得變更 ③資本之利息為盈餘之分配，不得列為費用或損失 ④營利事業對於教育、文化、公益、慈善機關或團體之捐贈，不受金額限制，得列為當年度費用或損失
(A)僅①③ (B)僅②④ (C)僅②③ (D)僅①④

- 5 騰達公司民國 107 年 1 月 25 日購置乘人小客車一輛供董事長使用，購置成本 5,000,000 元，殘值 300,000 元，耐用年數為 5 年，按平均法提列折舊，試問騰達公司 107 年可列報折舊為多少？
(A) 430,833 元 (B) 440,000 元 (C) 470,000 元 (D) 940,000 元
- 6 勝利公司係總機構在中華民國境外之營利事業，因投資於國內其他營利事業，所獲配之股利或盈餘應如何課稅？
(A)計入營利事業所得額依規定稅率課稅
(B)按給付額或應分配額扣取 21%，不計入營利事業所得額
(C)按給付額或應分配額扣取 20%，不計入營利事業所得額
(D)免納所得稅
- 7 佳樂公司 107 年 8 月 10 日於臺北市設立並開始營業，採曆年制，年底結算課稅所得額為 400,000 元，試問佳樂公司應納 107 年度所得稅為多少？
(A) 68,000 元 (B) 72,000 元 (C) 76,000 元 (D) 80,000 元
- 8 下列有關房地合一稅制之敘述，何者正確？
(A)個人房屋、土地交易損失，得自交易日以後三年內之房屋、土地交易所得減除之
(B)個人房屋、土地交易所得或損失之計算，其為出價取得者，以交易時之房屋評定現值及公告土地現值減除原始取得成本，與因取得、改良及移轉而支付之費用後之餘額為所得額
(C)個人房屋、土地交易所得額之計算，得將依規定繳納之土地增值稅列為成本費用減除
(D)非中華民國境內居住之個人持有房屋、土地之期間超過十年者，稅率為百分之十五
- 9 依加值型及非加值型營業稅法規定，下列敘述何者錯誤？
(A)交際應酬用之貨物或勞務的進項稅額不得扣抵銷項稅額
(B)專營免稅貨物或勞務之營業人，其進項稅額得部分申請退還
(C)典當業得依查定之銷售額計算稅額
(D)特種飲食業得依查定之銷售額計算稅額
- 10 下列營業人申報之溢付稅額，那些應由主管稽徵機關查明後退還之？①因銷售適用零稅率之貨物或勞務而溢付之營業稅 ②因取得固定資產而溢付之營業稅 ③因合併、轉讓、解散或廢止申請註銷登記者，其溢付之營業稅
(A)①②③ (B)僅①② (C)僅①③ (D)僅②③
- 11 依現行稅法規定，下列何者不屬於營業稅之免稅項目？
(A)漁民銷售自他人收購之魚介
(B)進口國際運輸用之船舶、航空器、遠洋漁船
(C)經營衍生性金融商品之銷售額
(D)經主管機關核准設立之學術、科技研究機構提供之研究勞務
- 12 依加值型及非加值型營業稅法以及相關法規之規定，下列何者屬於營業稅之課稅範圍？①貨物自國外進入我國保稅區之保稅貨物 ②營業人委託他人代銷貨物 ③營業人以自己名義代為購買貨物交付與委託人 ④職能治療師提供其專業性勞務之收入 ⑤信託財產因信託行為成立，委託人與受託人間財產之移轉
(A)僅①②③⑤ (B)僅②③④ (C)僅③④⑤ (D)僅②③

- 13 依遺產及贈與稅法規定，下列敘述何者錯誤？
- (A)經常居住中華民國境外之中華民國國民，死亡時遺有財產者，應就其在中華民國境內境外全部遺產，課徵遺產稅
 - (B)經常居住中華民國境內之中華民國國民，就其在中華民國境內或境外之財產為贈與者，應課徵贈與稅
 - (C)因遺囑成立之信託，於遺囑人死亡時，其信託財產應課徵遺產稅
 - (D)贈與人行蹤不明時，贈與稅之納稅義務人為受贈人
- 14 王先生 107 年 12 月 3 日贈送妻子 500 萬元的鑽戒，並出資 5,000 萬元為女兒購置不動產，該不動產的評定標準價格為 3,500 萬元，除此之外，該年度並無其他贈與，請問王家該年度應納贈與稅額為何？
- (A) 367 萬元
 - (B) 442 萬元
 - (C) 492 萬元
 - (D) 592 萬元
- 15 依土地稅法規定，若一般用地地價總額未達累進起點地價的 11 倍，請問適用的地價稅最高邊際稅率為多少？
- (A)千分之十
 - (B)千分之十五
 - (C)千分之二十五
 - (D)千分之三十五
- 16 依土地稅法規定，下列敘述何者錯誤？
- (A)因繼承而移轉之土地，免徵土地增值稅
 - (B)被徵收之土地，免徵土地增值稅
 - (C)空地稅係按該宗土地應納地價稅基本稅額加徵二至五倍
 - (D)累進起點地價係以各該直轄市或縣（市）土地五公畝之平均地價為準
- 17 依土地稅法規定，下列有關地價稅之敘述何者正確？
- (A)所稱自用住宅用地，指土地所有權人或其配偶、未成年子女於該地辦竣戶籍登記，且無出租或供營業用之住宅用地
 - (B)企業興建之勞工宿舍，按 10‰計徵地價稅
 - (C)地價稅的徵收期間為每年 11 月 1 日至 11 月 30 日，課徵所屬期間為前一年 12 月 1 日至當年 11 月 30 日
 - (D)依都市計畫法規定設置之供公眾使用之停車場用地，按 10‰計徵地價稅
- 18 依土地稅法規定，下列有關土地增值稅納稅義務人之敘述何者錯誤？
- (A)受託人就受託土地，於信託關係存續中，依信託法規定經受益人書面同意，並依市價取得而轉為其自有土地者，為委託人
 - (B)土地設定典權者，為出典人
 - (C)土地因交換而移轉者，為原所有權人
 - (D)土地因贈與而移轉者，為受贈人

- 19 依房屋稅條例規定，下列敘述何者錯誤？
- (A)增加房屋使用價值之建築物也在房屋稅課稅範圍內
 - (B)房屋稅向房屋所有人徵收之
 - (C)設有典權之房屋，房屋稅向出典人徵收之
 - (D)房屋稅稅基為房屋現值
- 20 依貨物稅條例規定，下列敘述何者錯誤？
- (A)貨物稅應稅貨物係自國外進口者，不在貨物稅課稅範圍
 - (B)委託代製貨物者，貨物稅納稅義務人為受託之產製廠商
 - (C)運銷國外之貨物稅應稅貨物，免徵貨物稅
 - (D)國產貨物之貨物稅完稅價格 = 銷售價格 / (1+稅率)
- 21 依稅捐稽徵法規定，下列敘述何者錯誤？
- (A)依稅法規定應自他人取得之憑證，應保存五年
 - (B)涉及租稅事項之法律，其解釋應本於租稅法律主義之精神
 - (C)稅捐之徵收期間為七年，自繳納期間屆滿之翌日起算
 - (D)規避租稅構成要件事實之認定，稅捐稽徵機關就其事實有舉證之責任
- 22 下列何者不是稅捐稽徵法中所稱的稅捐？
- (A)關稅
 - (B)菸酒稅
 - (C)期貨交易稅
 - (D)特種貨物及勞務稅
- 23 依現行稅法規定逾期繳納稅捐應加徵滯納金者，因不可抗力或不可歸責於納稅義務人之事由，致不能於法定期間內繳清稅捐，應於何期限內提出具體證明，向稅捐稽徵機關申請延期或分期繳納經核准者，免予加徵滯納金？
- (A)原因消滅後十日內
 - (B)原因消滅後二十日內
 - (C)原因消滅後三十日內
 - (D)由財政部視實際情況公告之
- 24 依稅捐稽徵法之規定，納稅義務人為經濟弱勢者，不能於法定期間內繳清稅捐者，下列敘述何者正確？
- (A)得申請延期或分期繳納，但須加計利息
 - (B)得於規定納稅期間內，向稅捐稽徵機關申請延期或分期繳納，其延期或分期繳納之期間，不得逾三年
 - (C)經濟弱勢者之認定，由行政院定之
 - (D)納稅義務人對核准延期或分期繳納之任何一期應繳稅捐，未如期繳納者，稅捐稽徵機關應於該期繳納期間屆滿之翌日起十日內，就未繳清之餘額稅款，發單通知納稅義務人，限三日內一次全部繳清
- 25 依契稅條例規定，下列敘述何者錯誤？
- (A)買賣及占有之稅率皆為 6%
 - (B)分割與交換之稅率皆為 2%
 - (C)贈與契稅，應由贈與人估價立契，申報納稅
 - (D)買賣契稅，應由買受人申報納稅

測驗式試題標準答案

考試名稱：108年公務人員高等考試三級考試暨普通考試

類科名稱：財稅行政

科目名稱：稅務法規（試題代號：8214）

更多高普考考試科目的歷屆題庫
立即上網搜尋“高普考歷屆考古題懶人包”
高鋒公職補習班整理
Line@帳號：@gaofeng
連絡電話：07-236-7296

單選題數：25題

單選每題配分：2.00分

複選題數：

複選每題配分：

標準答案：

題號	第1題	第2題	第3題	第4題	第5題	第6題	第7題	第8題	第9題	第10題
答案	D	B	C	A	C	B	D	A	B	A

題號	第11題	第12題	第13題	第14題	第15題	第16題	第17題	第18題	第19題	第20題
答案	A	D	A	A	C	D	D	A	C	A

題號	第21題	第22題	第23題	第24題	第25題	第26題	第27題	第28題	第29題	第30題
答案	C	A	A	B	C					

題號	第31題	第32題	第33題	第34題	第35題	第36題	第37題	第38題	第39題	第40題
答案										

題號	第41題	第42題	第43題	第44題	第45題	第46題	第47題	第48題	第49題	第50題
答案										

題號	第51題	第52題	第53題	第54題	第55題	第56題	第57題	第58題	第59題	第60題
答案										

題號	第61題	第62題	第63題	第64題	第65題	第66題	第67題	第68題	第69題	第70題
答案										

題號	第71題	第72題	第73題	第74題	第75題	第76題	第77題	第78題	第79題	第80題
答案										

題號	第81題	第82題	第83題	第84題	第85題	第86題	第87題	第88題	第89題	第90題
答案										

題號	第91題	第92題	第93題	第94題	第95題	第96題	第97題	第98題	第99題	第100題
答案										

備註：

108年公務人員高等考試三級考試試題

代號：21470
21570
頁次：6-1

類 科：財稅行政、金融保險

科 目：會計學

考試時間：2小時

※注意：可以使用電子計算器。

甲、申論題部分：(50分)

更多高普考考試科目的歷屆題庫
立即上網搜尋“高普考歷屆考古題懶人包”
高鋒公職補習班整理
Line@帳號：@gaofeng
連絡電話：07-236-7296

座號：_____

- (一)不必抄題，作答時請將試題題號及答案依照順序寫在申論試卷上，於本試題上作答者，不予計分。
(二)請以藍、黑色鋼筆或原子筆在申論試卷上作答。
(三)本科目除專門名詞或數理公式外，應使用本國文字作答。

一、清水公司存貨資料紀錄如下，該公司對於存貨的衡量，採用成本與淨變現價值孰低法：

產品	組別	數量	單位成本	單位售價
甲	一	800	\$20	\$16
乙	一	600	30	34
丙	二	400	100	106
丁	二	700	130	120

試作：依逐項比較法與分類比較法，計算該公司存貨金額。(10分)

二、達人公司於20X0年1月1日購買一部機器以生產某種產品，機器成本\$2,500,000，估計耐用年限10年，殘值\$100,000，採直線法計提折舊。至20X3年12月31日因該機器使用方式發生重大變動，預期將對達人公司產生不利的影響，經評估該機器的可回收金額為\$1,300,000。至20X4年12月31日，由於市場情況再發生重大變動，對達人公司產生有利的影響，經評估該機器的可回收金額為\$1,350,000。

試作：達人公司20X3、20X4年度所有必要分錄。(15分)

三、穩健公司經營不動產出租及買賣業務，於20X2年3月1日買入一棟22層的大樓，購買價格連同相關稅賦及交易成本合計\$300,000,000，另支付房屋基地的土地成本\$100,000,000。房屋預計耐用年限為40年，預計淨殘值為\$20,000,000。該棟房屋委託仲介公司代為招租，同年5月1日全部出租，租金每月\$3,000,000，月初收款（第一筆於5月1日收取）。大樓管理及清潔維護工作外包給一保全公司，每月費用\$200,000。該棟大樓於20X2年12月31日經評估，房屋建築的公允價值為\$270,000,000，土地的公允價值為\$90,000,000。

試作：

分別按下列兩種模式，作穩健公司自20X2年3月1日至12月31日應有的分錄：（每小題5分，共10分）

- (一)公允價值模式
(二)成本模式

四、興星公司於 20X1 年 1 月 1 日，以 \$1,536,698 發行面額 \$1,600,000、票面利率 6%、20X5 年 12 月 31 日到期之公司債，該債券每年 6 月底與 12 月底各付息一次。當時有效利率 7%，公司依有效利息法作攤銷。至 20X3 年 6 月 1 日，興星公司又以 101 價格發行 10 年期、票面利率 6% 的公司債 \$1,800,000，新發行的公司債每年 5 月底、11 月底各付息一次，發行新債券所得之現金於 20X3 年 6 月 30 日依 107 市場價格買回舊債券。(利息費用計算至整數，小數點以下四捨五入) 試作：

- (一) 20X1 年 1 月 1 日發行債券分錄。(3 分)
- (二) 20X3 年 6 月 1 日發行債券分錄。(3 分)
- (三) 20X3 年 6 月 30 日買回舊債券分錄。(9 分)

乙、測驗題部分：(50 分)

代號：7214

(一) 本測驗試題為單一選擇題，請選出一個正確或最適當的答案，複選作答者，該題不予計分。

(二) 共 25 題，每題 2 分，須用 2B 鉛筆在試卡上依題號清楚劃記，於本試題或申論試卷上作答者，不予計分。

- 1 X3 年 12 月 31 日甲公司向乙銀行借款之帳面金額為 \$1,800,000，甲公司因財務困難無法償還遂與乙銀行進行協商，乙銀行同意收取甲公司普通股股票 240,000 股（每股面額 \$10，公允價值 \$5），以清償借款，甲公司另付股票發行成本 \$100,000。下列敘述何者正確？
 - (A) 不得認列金融負債清償利益
 - (B) 認列債務重整利益 \$600,000
 - (C) 認列債務重整利益 \$500,000
 - (D) 貸記資本公積—普通股發行溢價 \$600,000
- 2 A 公司購入下列三種債券進行投資，下列何者之公司債組成部分可能符合按攤銷後成本衡量之金融資產？甲、可轉換公司債 乙、附可分離認股權之公司債 丙、本金及利息與通貨膨脹指數連結之債券
 - (A) 僅甲、乙有可能符合
 - (B) 僅甲、丙有可能符合
 - (C) 僅乙、丙有可能符合
 - (D) 僅丙有可能符合
- 3 X1 年度，甲公司有下列資訊：(1) 稅前淨利 \$520,000，稅率 25%，(2) X1 年初普通股流通在外股數為 200,000 股，(3) X1 年初有票面利率 8% 可轉換公司債，按照面額 \$100 發行，流通在外 20,000 張，每張可以轉換成普通股 4.5 股，(4) X1 年初發行賣權 5,000 個，每個賣權可依 \$30 價格賣回 1 股面額 \$10 之普通股給甲公司。普通股全年平均市價則為 \$15，(5) X1 年初有票面利率 5% 可轉換公司債，按照面額 \$100 發行，流通在外 15,000 張，每張可以轉換成普通股 3 股，(6) 上述潛在普通股皆未行使，(7) 甲公司 X1 年 12 月 31 日發放 50% 股票股利。下列關於甲公司 X1 年度之敘述，何者正確？（答案四捨五入取至小數點第三位）
 - (A) 基本每股盈餘為 \$1.950
 - (B) 5% 可轉換公司債具反稀釋作用
 - (C) 稀釋每股盈餘為 \$1.275
 - (D) 併入賣權後的稀釋每股盈餘為 \$1.705
- 4 財務資訊若要有用，必須攸關且忠實表述其所意圖表述者，下列何者不屬於忠實表述之組成要素？
 - (A) 中立
 - (B) 完整性
 - (C) 免於錯誤
 - (D) 可驗證性

- 5 甲公司內部稽核人員欲自銀行對帳單調節至公司銀行存款餘額，經核對銀行對帳單之存入欄和公司帳上的銀行存款會計項目借方記錄，及銀行對帳單中支出欄和公司帳上的銀行存款會計項目貸方記錄，下列差異事項何者於其調節過程中應列為減項？
- (A)銀行業已收委託收票據本金及利息，本公司未針對該票據認列過利息收入
(B)本公司存入的即期支票\$2,000，因存款不足退票
(C)銀行對帳單中有一張兌付岬公司所開立的支票，銀行誤自本公司帳戶中扣除
(D)銀行對帳單中有一張已兌付的支票金額為\$5,720，經查本公司帳上誤記為\$5,270，該張支票係支付積欠之貨款
- 6 甲公司 X3 年 8 月 31 日將客戶的應收帳款\$500,000 以完全追索權的方式出售給乙銀行，乙銀行收取應收帳款總額的 3% 作為手續費，並保留 5% 作為沖抵銷貨折扣與銷貨退回及折讓之使用。X3 年 9 月中，客戶因商品瑕疵而退貨\$30,000，乙銀行收現\$470,000。X3 年 9 月 30 日乙銀行通知甲公司該筆應收帳款已收現並結算差額。請問甲公司 X3 年 9 月 30 日記錄相關分錄，下列何者必定錯誤？
- (A)借記金融資產移轉負債\$500,000 (B)貸記金融資產移轉負債折價\$15,000
(C)借記利息費用\$15,000 (D)貸記對銀行應收款項\$5,000
- 7 下列關於財務報表表達之敘述何者錯誤？
- (A)企業得藉由揭露所使用之會計政策、附註或解釋性資料，以改正不適當之會計政策
(B)企業不得將資產與負債或收益與費損互抵，但國際財務報導準則另有規定或允許者不在此限
(C)企業得改變其報導期間結束日而以長於或短於一年之期間列報財務報表
(D)在極罕見之情況下，若斷定遵循國際財務報導準則之規定將產生誤導以致與財務報表之目的衝突時，如相關法令要求或不禁止，企業應偏離該規定
- 8 甲公司按公允價值（等同面值）\$5,000,000 購入一債券組合。企業決定改變其管理債券之經營模式，即自透過其他綜合損益按公允價值衡量重分類至透過損益按公允價值衡量，該債券組合於重分類日之公允價值為\$4,900,000，於重分類日已認列之備抵損失為\$60,000，起因於自原始認列後信用風險已有顯著增加。下列關於重分類日會計處理之敘述，何者正確？
- (A)應貸記備抵損失\$60,000 (B)應貸記重分類損益\$60,000
(C)應借記備抵損失\$60,000 (D)應借記重分類損益\$40,000
- 9 甲公司 X1 年底以\$500,000（含交易成本）買入乙公司三年期的公司債，面額\$500,000，票面利率 6%，每年 12 月 31 日付息。甲公司對該債券投資按攤銷後成本衡量。有關該公司債的預期信用損失估計金額如下：

	12 個月 預期信用損失	存續期間 預期信用損失
X1 年底	\$5,000	\$15,000
X2 年底	\$20,000	\$35,000
X3 年底	\$55,000	\$55,000

X2 年乙公司發生財務困難，致 X2 年底經判斷該債券的信用風險顯著增加，X3 年底該債券已自活絡市場中消失，達到減損的地步。若甲公司於 X2、X3 年底各收到該債券利息\$30,000，試問甲公司於 X2 年底及 X3 年底應認列的減損損失金額為何？

- (A)\$15,000、\$35,000 (B)\$20,000、\$35,000
(C)\$30,000、\$20,000 (D)\$35,000、\$20,000

- 10 承上題，若於 X4 年底只收到利息及本金共\$480,000，其餘款項無法收回，則甲公司 X4 年應認列之利息收入及減損損失迴轉金額各為何？
(A)\$0、\$35,000 (B)\$26,700、\$8,300 (C)\$30,000、\$0 (D)\$30,000、\$5,000
- 11 乙公司於 X3 年 1 月 1 日以\$900,000 購買一機器設備，估計耐用年限 9 年，無殘值，採直線法折舊，以成本模式衡量。X5 年 12 月 31 日該機器產生不利之重大變動，經減損測試估計可回收金額為\$540,000，X7 年 12 月 31 日該項不利因素之影響消失，估計可回收金額為\$420,000。試問 X7 年有關該設備應認列之分錄對乙公司本期損益影響為何？
(A)增加本期損益\$40,000 (B)減少本期損益\$30,000
(C)減少本期損益\$50,000 (D)減少本期損益\$90,000
- 12 甲公司於 X7 年初購入辦公大樓一棟，成本\$8,600,000，估計耐用年限 20 年，殘值\$200,000，採直線法提列折舊，甲公司對不動產、廠房及設備的後續評價係採重估價模式處理。X8 年底房屋經重估後之公允價值為\$8,552,000，估計耐用年限及殘值不變。若甲公司未實現重估增值係於使用資產期間配合轉出，不考慮所得稅，則 X9 年底其他權益項下之未實現重估增值餘額為：
(A)\$0 (B)\$704,000 (C)\$748,000 (D)\$792,000
- 13 丁公司於 X3 年初，因市場需求下降，停止使用 A 機器設備長達一年。該設備至 X3 年底仍維持可用之狀態，預期市場需求回升時仍可使用。下列敘述有幾項正確？①X3 年底資產負債表中應將該設備列為待出售非流動資產 ②X3 年初應將該設備依資產報廢相關規定處理 ③因 X3 年度該設備屬閒置狀態，故應停止提列折舊 ④X3 年底應對該設備進行重估價 ⑤若該設備採生產數量法提列折舊，X3 年該設備應提列折舊費用為\$0 ⑥X3 年底可能必須對該設備進行減損測試
(A)一項 (B)二項 (C)三項 (D)四項
- 14 下列有關租賃之敘述，何者正確？
(A)承租人於租賃開始日所認列之使用權資產，其成本應加計收取之任何租賃誘因
(B)承租人應按租賃隱含利率及增額借款利率二者較低者，將租賃開始日尚未支付之租賃給付予以折現，用以衡量租賃負債
(C)出租人為製造商或經銷商時，其於租賃開始日所認列之收入，為標的資產之公允價值或出租人之應收租賃給付按市場利率折現之現值，兩者孰低者
(D)租賃隱含利率，為租賃給付之現值加未保證殘值之現值等於標的資產之公允價值時，所求得之折現率
- 15 關於不動產、廠房及設備之重估價模式，下列敘述何者正確？
(A)若選擇採重估價模式，則對所有不動產、廠房及設備項目須一致適用
(B)若選擇採重估價模式，則對所有不動產、廠房及設備項目無須再評估減損
(C)重估價模式下，不動產、廠房及設備項目之公允價值變動均將列入其他綜合損益而不影響本期淨利
(D)不動產、廠房及設備項目之公允價值無須一定為參考活絡市場予以衡量者

- 16 丙公司於 X1 年年初開始種植葡萄樹，以\$2,000,000 買入葡萄樹苗，預期 X5 年初可達成熟階段開始收成，此樹種正常收成年限為 15 年，估計殘值為\$100,000，採成本模式衡量及直線法提列折舊。X3 年 12 月 31 日資產負債表顯示「生物資產—葡萄樹」為\$4,600,000。X4 年期間投入薪資費用、肥料與其他直接支出共計為\$1,500,000，X4 年 12 月 31 日葡萄樹的公允價值減出售成本為\$5,500,000。X5 年採收果實之支出為\$250,000，收成的葡萄之公允價值減出售成本\$800,000，並以\$1,000,000 全部出售。X5 年 12 月 31 日葡萄樹的公允價值減出售成本為\$6,500,000。請問因前述相關事項對 X5 年度淨利之影響為何？
(A)增加\$200,000 (B)增加\$350,000 (C)減少\$150,000 (D)減少\$100,000
- 17 丙公司 X1 年底發生財務困難，於該年底與債權人第一公司就下列債務進行協商：應付票據帳面金額\$1,500,000（等於面額）及積欠一年利息\$150,000。達成債務重整協議之條件如下：(1)本金降為\$1,050,000，(2)免除積欠利息\$150,000，(3)到期日延至 X3 年 12 月 31 日，(4)利率降為 6%，每年底支付。目前相同條件的票據有效利率為 6%，另支付\$10,000 協商支出。試問丙公司 X2 年度應認列之利息費用應為何？
(A)\$0 (B)\$63,000 (C)\$97,711 (D)\$105,000
- 18 甲公司新進會計人員使用間接法編製現金流量表，X1 年相關資料如下：購買一台機器付款\$160,000，出售交易目的證券投資（售價）\$48,000，採權益法之長期股權投資收到股利\$85,000，支付現金股利\$62,000，交易目的證券投資評價損失\$8,000，簽發票據\$132,000 取得一筆土地。X1 年度折舊費用\$52,000，權益法認列投資收益\$135,000，發行公司債\$200,000。X1 年度應收帳款淨額增加\$60,000，應付帳款減少\$52,000，存貨減少\$18,000。X1 年度淨利\$55,000，期初現金餘額\$42,000。甲公司 X1 年之營業活動現金流量最大可能金額為何？
(A)流入\$11,000 (B)流入\$19,000 (C)流入\$75,000 (D)流入\$123,000
- 19 甲公司於 X1 年 1 月 1 日發行一項基於服務條件之員工認股權計畫以獎酬員工，該計畫之條款如下：
給與日：X1 年 1 月 1 日
給與日每單位認股權之公允價值：\$2.4
每單位認股權行使價格：\$3.2
既得日：X3 年 12 月 31 日
認股權之名目股數：600,000 股
X1 年度認列勞務成本後之淨利：\$1,500,000
普通股於 X1 年度之平均市價：\$8
X1 年度加權流通在外普通股股數 1,000,000 股
甲公司 X1 年度報導之稀釋每股盈餘金額為何（答案四捨五入至小數點第二位）？
(A)\$1.10 (B)\$1.15 (C)\$1.21 (D)\$1.50
- 20 甲公司於 X1 年 1 月 1 日給與 30 位員工每人 1,000 單位認股權。其條件為員工必須自 X1 年 1 月 1 日起連續服務滿 3 年。該認股權之存續期間 5 年、履約價格\$30，給與日之股票評估價值\$30，但無法可靠估計所給與認股權之公允價值。假設 X1 年至 X4 年底，該方案在職人數分別為 28、26、24、22，股票評估價值分別為\$31、\$32、\$34、\$36。X3 年底有 4 人執行該認股權，X4 年底有 5 人執行該認股權。試問甲公司 X4 年度認列該方案相關之薪資費用金額為何？
(A)\$30,000 (B)\$34,000 (C)\$36,000 (D)\$40,000

- 21 甲公司之資料如下：
平均存貨持有天數 14.6 天
平均存貨水準\$300,000
銷貨毛利率 75%
根據以上資料，試問甲公司當年度銷貨金額應為何？（假設一年以 365 天計）
(A)\$17,520,000 (B)\$30,000,000 (C)\$400,000 (D)\$225,000
- 22 甲公司 X6 年度採用權益法認列之關聯企業及合資損益之份額為\$500,000（利益）；採用權益法認列之關聯企業及合資之其他綜合損益之份額為\$300,000（利益）。若 X6 年間無任何買進或賣出關聯企業及合資投資之交易，X6 年度採用權益法之投資淨增加\$50,000，該公司將收取股利列為投資活動之現金流量，則採間接法編製現金流量表時，營業活動現金流量應列報調節項目及金額為何？
(A)扣除採用權益法之投資淨增加\$50,000
(B)扣除採用權益法認列之關聯企業及合資損益份額\$500,000（利益）
(C)扣除採用權益法認列之關聯企業及合資之其他綜合損益份額\$300,000（利益）
(D)扣除採用權益法認列之關聯企業及合資之綜合損益份額\$800,000（利益）
- 23 乙公司自 X8 年初開始營業，有關分期付款銷貨之處理，帳上於銷貨時立即認列收入，報稅則須等到收現時才認列收入。X8 年底帳列應收分期帳款為\$5,000,000，若銷貨毛利率為 30%，稅率為 20%，且無其他暫時性差異，則乙公司 X8 年底資產負債表上應報導之遞延所得稅資產（負債）為何？
(A)遞延所得稅資產\$300,000 (B)遞延所得稅負債\$300,000
(C)遞延所得稅資產\$700,000 (D)遞延所得稅負債\$700,000
- 24 X1 年初甲公司向乙公司承租一商辦大樓，租約 10 年並附有延長 5 年租賃期間之選擇權，每年年初給付租金\$2,500,000。為取得該租賃，甲公司發生原始直接成本\$200,000，用以支付不動產代理人之佣金，且甲公司於租賃成立日無法合理確定將行使選擇權。另外，該合約明訂，給付金額以過去 24 個月消費者物價指數之增加為基礎，每二年增加一次，租賃開始日之消費者物價指數為 100。由於租賃隱含利率不易決定，故使用承租人增額借款利率 5%作為折現基礎。甲公司以成本模式採直線法作為折舊之攤提，並保證殘值\$200,000，惟甲公司預期不會發生。若 X3 年消費者物價指數增加至 110，試問 X3 年初使用權資產的金額？
(A)\$16,215,643 (B)\$16,375,643 (C)\$18,072,236 (D)\$18,322,236
- 25 下列甲、乙兩類租金，何種應該計入承租人之租賃負債？
甲：承租人每年初需支付租金\$1,000,000，但若租賃資產當年度故障超過 10 小時，則出租人須退還當年半數租金；若故障超過 20 小時，則須退還全數租金。
乙：租金每年底根據物價指數調整一次，但最高不得超過\$1,300,000。
(A)僅甲應計入租賃負債 (B)僅乙應計入租賃負債
(C)甲、乙均應計入租賃負債 (D)甲、乙均不得計入租賃負債

測驗式試題標準答案

考試名稱：108年公務人員高等考試三級考試暨普通考試

類科名稱：財稅行政、金融保險

科目名稱：會計學（試題代號：7214）

單選題數：25題

單選每題配分：2.00分

複選題數：

複選每題配分：

標準答案：

更多高普考考試科目的歷屆題庫
立即上網搜尋“高普考歷屆考古題懶人包”
高鋒公職補習班整理
Line@帳號：@gaofeng
連絡電話：07-236-7296

題號	第1題	第2題	第3題	第4題	第5題	第6題	第7題	第8題	第9題	第10題
答案	B	C	C	D	A	D	A	D	C	B

題號	第11題	第12題	第13題	第14題	第15題	第16題	第17題	第18題	第19題	第20題
答案	C	C	B	C	D	B	B	B	C	D

題號	第21題	第22題	第23題	第24題	第25題	第26題	第27題	第28題	第29題	第30題
答案	B	B	B	D	C					

題號	第31題	第32題	第33題	第34題	第35題	第36題	第37題	第38題	第39題	第40題
答案										

題號	第41題	第42題	第43題	第44題	第45題	第46題	第47題	第48題	第49題	第50題
答案										

題號	第51題	第52題	第53題	第54題	第55題	第56題	第57題	第58題	第59題	第60題
答案										

題號	第61題	第62題	第63題	第64題	第65題	第66題	第67題	第68題	第69題	第70題
答案										

題號	第71題	第72題	第73題	第74題	第75題	第76題	第77題	第78題	第79題	第80題
答案										

題號	第81題	第82題	第83題	第84題	第85題	第86題	第87題	第88題	第89題	第90題
答案										

題號	第91題	第92題	第93題	第94題	第95題	第96題	第97題	第98題	第99題	第100題
答案										

備註：

測驗題標準答案更正

考試名稱：108年公務人員高等考試三級考試暨普通考試

類科名稱：財稅行政、金融保險

科目名稱：會計學

更多高普考考試科目的歷屆題庫
立即上網搜尋“高普考歷屆考古題懶人包”
高鋒公職補習班整理
Line@帳號：@gaofeng
連絡電話：07-236-7296

單選題數：25題

單選每題配分：2.00分

複選題數：

複選每題配分：

標準答案：答案標註#者，表該題有更正答案，其更正內容詳見備註。

題號	第1題	第2題	第3題	第4題	第5題	第6題	第7題	第8題	第9題	第10題
答案	B	C	C	D	A	D	A	D	C	B

題號	第11題	第12題	第13題	第14題	第15題	第16題	第17題	第18題	第19題	第20題
答案	C	C	B	C	D	B	B	B	C	D

題號	第21題	第22題	第23題	第24題	第25題	第26題	第27題	第28題	第29題	第30題
答案	B	B	B	#	C					

題號	第31題	第32題	第33題	第34題	第35題	第36題	第37題	第38題	第39題	第40題
答案										

題號	第41題	第42題	第43題	第44題	第45題	第46題	第47題	第48題	第49題	第50題
答案										

題號	第51題	第52題	第53題	第54題	第55題	第56題	第57題	第58題	第59題	第60題
答案										

題號	第61題	第62題	第63題	第64題	第65題	第66題	第67題	第68題	第69題	第70題
答案										

題號	第71題	第72題	第73題	第74題	第75題	第76題	第77題	第78題	第79題	第80題
答案										

題號	第81題	第82題	第83題	第84題	第85題	第86題	第87題	第88題	第89題	第90題
答案										

題號	第91題	第92題	第93題	第94題	第95題	第96題	第97題	第98題	第99題	第100題
答案										

備註：第24題答C給分。

107年公務人員高等考試三級考試試題

30110 全一張
代號： | (正面)
39410

類 科：各類科（除公職醫事檢驗師、公職藥師、公職護理師、公職臨床心理師、公職食品技師外）

科 目：國文（作文、公文與測驗）

考試時間：2小時

座號：_____

更多高普考考試科目的歷屆題庫
立即上網搜尋“高普考歷屆考古題懶人包”
高鋒公職補習班整理
Line@帳號：@gaofeng
連絡電話：07-236-7296

※注意：禁止使用電子計算器。

甲、作文與公文部分：

- (一)請以藍、黑色鋼筆或原子筆在申論試卷上由左至右橫式作答，於本試題上作答者，不予計分。
- (二)不得於試卷上書寫姓名或入場證號。

一、作文：(60分)

現代人往往以為「舊」傳統是「新」科技的對立面，其實喜歡、欣賞傳統不一定只是懷舊，毋寧也是生存的必要。先進國家經常透過「現代化」的手段保護傳統，像是致力研究環境生態的變化，其實是嚮往回歸傳統的單純素樸。很多科技的研發，最終目的正是希望保有傳統的生命信仰與人的基本價值。請以「讓現代與傳統對話」為題，列舉例證，作文一篇，抒發己見。

二、公文：(20分)

請視需要擷取下列資訊，撰擬衛生福利部疾病管制署致交通部觀光局函。

- 1、國內近期發生麻疹境外移入及接觸者群聚感染事件。
- 2、麻疹為傳染力極強之病毒性疾病，可經由空氣、飛沫傳播，或接觸病人鼻咽分泌物而感染。
- 3、我國之「傳染病防治法」，將麻疹列為第二類傳染病。
- 4、最近發生麻疹的國家及地區如下：亞洲：印尼、菲律賓、泰國、印度、中國大陸、哈薩克、烏克蘭；非洲：剛果民主共和國、幾內亞、奈及利亞、獅子山；歐洲：法國、英國、羅馬尼亞、希臘、義大利、塞爾維亞。
- 5、衛生福利部疾病管制署在「國際間旅遊疫情建議等級表」中，將本次麻疹疫情列為第一級：注意。提醒出國民眾遵守當地的一般預防措施。
- 6、雖然得過麻疹者可終生免疫，但仍建議民國70年以後出生者，在出國前應注射疫苗一劑。疫苗注射兩週之後，方發生效力。
- 7、衛生單位建議，平時應注意勤洗手、呼吸道衛生與咳嗽禮節；從麻疹疫區回國後，應自主健康管理21天。
- 8、衛生福利部疾病管制署去函交通部觀光局，請其轉知旅行業提醒出國旅客做好各項防疫措施。

乙、測驗部分：(20分)

代號：1301

- (一)本測驗試題為單一選擇題，請選出一個正確或最適當的答案，複選作答者，該題不予計分。
- (二)共10題，每題2分，須用2B鉛筆在試卡上依題號清楚劃記，於本試題或申論試卷上作答者，不予計分。

1. 下列成語的解說，何者錯誤？

- (A)肉山脯林：形容生活極度的奢侈
- (B)沐猴而冠：比喻虛有其表，形同傀儡
- (C)沆瀣一氣：指氣味相投者在一起，多用於貶義
- (D)鳥盡弓藏：指對環境生態的維護，冀能永續經營

2. 下列題辭的使用，何者正確？

- (A)「退休」：英風宛在
- (B)「結婚」：祥開百世
- (C)「祝壽」：高風仰止
- (D)「醫院開業」：春風化雨

3. 杜甫〈前出塞·其六〉：「挽弓當挽強，用箭當用長。射人先射馬，擒賊先擒王。殺人亦有限，立國自有疆。苟能制侵陵，豈在多殺傷。」

本詩反映的國防思想，下列選項何者錯誤？

- (A)防禦邊疆，需要精良的武備
- (B)克敵取勝，應有高超的謀略
- (C)戰爭殺人，不若以和平相處
- (D)軍事強大，則可以制服四國

(請接背面)

類 科：各類科（除公職醫事檢驗師、公職藥師、公職護理師、公職臨床心理師、公職食品技師外）

科 目：國文（作文、公文與測驗）

4. 積善之家，必有餘慶；積不善之家，必有餘殃。臣弑其君，子弑其父，非一朝一夕之故，其所由來者漸矣。（《易經·坤·文言》）
下列選項與上文所述意涵最為接近的是：
(A) 自天佑之，吉無不利
(B) 舟已行矣，而劍不行；求劍若此，不亦惑乎
(C) 履霜堅冰，陰始凝也；馴致其道，至堅冰也
(D) 先王之制，不宜則廢之；末世之事，善則著之
5. 《孟子·公孫丑》云：「域民不以封疆之界，固國不以山谿之險，威天下不以兵革之利。得道者多助，失道者寡助。寡助之至，親戚畔之。多助之至，天下順之。」
下列選項，與本文說法最不符合的是：
(A) 民惟邦本，本固邦寧
(B) 邦有道則知，邦無道則愚
(C) 知人則哲，能官人；安民則惠，黎民懷之
(D) 道者，令民與上同意，可與之死，可與之生，而不畏危也
6. 李贄〈黨籍碑〉：「公但知小人之能誤國，不知君子之尤能誤國也。小人誤國猶可解救，若君子而誤國，則末之何矣！何也？」李贄此論不乏對人性有深刻的反省。文中『 』裡應填入下列那一選項，最能符合整段的文義？
(A) 彼蓋自以為君子而氣定神閒也。故其雖千萬人而往矣，孰能止之
(B) 彼蓋自以為君子而本心無愧也。故其膽益壯而志益決，孰能止之
(C) 彼蓋自以為君子而不明農圃也。故其體不勤而穀不分，孰能止之
(D) 彼蓋自以為君子而德風及之也。故其不戰而能屈人兵，孰能止之
7. 國家之需賦也，如枵腹待食；窮民之輸將也，如挖腦出髓。為有司者，前迫於督促，後懼於黜罰，心計曰：「與其得罪於能陟我能黜我之君王，不如忍怨於無若我何之百姓。」是故號令不完，追呼繼之矣；追呼不完，箠楚繼之矣；箠楚不完，而囹圄、而桎梏。（江盈科〈催科〉）
依據上文，下列選項之敘述何者正確？
(A) 國家之苛斂賦稅，有若率獸而食人，刁民將無所遁逃
(B) 水能載舟，亦能覆舟，人民受箠楚囹圄，將揭竿起義
(C) 有司之媚上苛下，媚於權勢不恤民苦，暴露官僚黑暗
(D) 有司當開倉放糧，明君應令比歲蠲免，救人民於水火
8. 朱自清〈論意義〉：「（語言文字）比較複雜而非習見習聞的，就得小心在意才會豁然貫通。……《韓非子》裡說宋人讀書，看見『紳之束之』一句話，便在身上繫了兩條帶子。人家問他……他回答『書上這麼說來著』。」
根據上文，下列選項何者與朱自清所言相抵觸？
(A) 朱自清此段在於提醒讀者閱讀時要注意今古詞語意義變化
(B) 紳之束之是一種譬喻，並非以帶縛身，而是自我約束之意
(C) 意義有時不是光看表面，而是必須深入文意才能真正理解
(D) 盡信書不如無書，書上所記未必是最真確的，應善加體會
9. 愛因斯坦：「如果沒有追求理解的熱情，單靠科學方法本身，我們將一事無成，甚至連科學方法都不會產生。在我看來，方法的完美與目標的混亂，似乎是我們這個時代的特徵。如果我們真誠渴求全人類的安全、福祉與自由發展，絕對不乏達成這個目標所需要的方法。即使只有一小部分的人類為追求這個目標而奮鬥，這個目標的卓越性終究會獲得證明。」
依據上文，下列敘述何者正確？
(A) 科學研究常在科學方法改善歷程中調整目標
(B) 研究目標是科學方法中不可分割的重要部分
(C) 真正的科學方法必在正當目標的引領下形成
(D) 科學方法終將證明人類奮鬥目標的卓越價值
10. 「這些被一部士君子們所擯斥的民間故事與歌謠，到了現在，還能夠在民眾的嘴裡傳誦著，這樣生命力底繼續掙扎，我們是不敢輕輕看過的。何則？因為每一篇或一首故事和歌謠，都能表現當時的民情、風俗、政治、制度，也都能表示著當時民眾的真實底思想和感情。所以無論從民俗學、文學，甚至於語言學上看起來，都具有保存的價值。民間文學的搜集和整理，在世界各國，早就有了許多民俗學者與文學家從事過了，其所收穫的成果，也都是大有可觀的。然而我們臺灣，雖說是也有許多先人的遺產，但除卻於報紙上、雜誌上，時或看到片鱗片爪，可說是絕無聞見的。」
依據上文，下列選項最符合作者之意的是：
(A) 民間文學的口耳相傳性質並沒有文學價值
(B) 搜集民間文學得以體會庶民的思想與感情
(C) 透過民間文學能了解中國傳統文學的淵源
(D) 採錄民間文學是要拉近政府與百姓的情感

測驗式試題標準答案

考試名稱：107年公務人員高等考試三級考試暨普通考試

類科名稱：

一般行政、一般民政、宗教行政、客家事務行政、社會行政、人事行政、戶政、原住民族行政、勞工行政、文化行政、教育行政、體育行政、新聞(選試英文)、財稅行政、金融保險、統計、會計、財務審計、績效審計、法制、法律廉政、財經廉政、經建行政、公平交易管理、企業管理、工業行政、商業行政、農業行政、漁業行政、智慧財產行政、僑務行政(選試西班牙文)、衛生行政、醫務管理、環保行政、地政、博物館管理(選試英文)、圖書資訊管理(選試英文)、檔案管理、史料編纂、交通行政、觀光行政(選試觀光英語)、觀光行政(選試觀光日語)、航運行政、公職社會工作師、農業技術、農業機械、林業技術、園藝、植物病蟲害防治、自然保育、土木工程、水利工程、環境工程、建築工程、公職建築師、都市計畫技術、水土保持工程、機械工程、汽車工程、電力工程、電子工程、電信工程、資訊處理、核子工程、輻射安全、化學工程、食品衛生檢驗、環境檢驗、地質、採礦工程、材料工程、測量製圖、藥事、生藥中藥基原鑑定、交通技術、航海技術、輪機技術、氣象、技藝(選試陶甕)、技藝(選試木竹器)、工業設計、視聽製作、衛生技術、消防技術、漁業技術、養殖技術、畜牧技術、公職獸醫師、工業工程、工業安全、環保技術、化學安全、景觀、航空駕駛(選試直昇機飛行原理)

科目名稱：國文(作文、公文與測驗)(試題代號：1301)

更多高普考考試科目的歷屆題庫
立即上網搜尋“高普考歷屆考古題懶人包”
高鋒公職補習班整理
Line@帳號：@gaofeng
連絡電話：07-236-7296

單選題數：10題

單選每題配分：2.00分

複選題數：

複選每題配分：

標準答案：

題號	第1題	第2題	第3題	第4題	第5題	第6題	第7題	第8題	第9題	第10題
答案	D	B	D	C	B	B	C	D	C	B

題號	第11題	第12題	第13題	第14題	第15題	第16題	第17題	第18題	第19題	第20題
答案										

題號	第21題	第22題	第23題	第24題	第25題	第26題	第27題	第28題	第29題	第30題
答案										

題號	第31題	第32題	第33題	第34題	第35題	第36題	第37題	第38題	第39題	第40題
答案										

題號	第41題	第42題	第43題	第44題	第45題	第46題	第47題	第48題	第49題	第50題
答案										

題號	第51題	第52題	第53題	第54題	第55題	第56題	第57題	第58題	第59題	第60題
答案										

題號	第61題	第62題	第63題	第64題	第65題	第66題	第67題	第68題	第69題	第70題
答案										

題號	第71題	第72題	第73題	第74題	第75題	第76題	第77題	第78題	第79題	第80題
答案										

題號	第81題	第82題	第83題	第84題	第85題	第86題	第87題	第88題	第89題	第90題
答案										

題號	第91題	第92題	第93題	第94題	第95題	第96題	第97題	第98題	第99題	第100題
答案										

備註：

107年公務人員高等考試三級考試試題

類 科：各類科（除公職醫事檢驗師、公職藥師、公職護理師、公職臨床心理師、公職食品技師外）

科 目：法學知識與英文（包括中華民國憲法、法學緒論、英文）

考試時間：1 小時

座號：

更多高普考考試科目的歷屆題庫
立即上網搜尋“高普考歷屆考古題懶人包”
高鋒公職補習班整理
Line@帳號：@gaofeng
連絡電話：07-236-7296

※注意：(一)本試題為單一選擇題，請選出一個正確或最適當的答案，複選作答者，該題不予計分。
(二)本科目共 50 題，每題 2 分，須用 2B 鉛筆在試卡上依題號清楚劃記，於本試題上作答者，不予計分。
(三)禁止使用電子計算器。

- 依地方制度法之規定，地方自治團體為處理跨區域自治事務得採行之合法方式，不包括下列何者？
(A)訂定協議 (B)締結行政契約 (C)成立區域合作組織 (D)共同上級機關協調
- 我國憲法第 137 條規定，中華民國之國防，以保衛國家安全，維護世界和平為目的。國防之組織，以法律定之。因此立法院乃據之訂定下列何者？
(A)國家安全法 (B)國家總動員法 (C)國防法 (D)國防安全法
- 未經人民許可，而侵入人民住宅之情況，下列何者不符憲法保障人民居住自由之意旨？
(A)以蒐集情資為名進行家戶訪查 (B)依據搜索票之刑事搜索
(C)依據法定程序之行政檢查 (D)基於緊急狀況之即時強制
- 依司法院釋字第 631 號解釋之意旨，秘密通訊之自由權利，與下列何者較無關係？
(A)維持人性尊嚴 (B)維持個人主體性 (C)維護私人財產 (D)維護人格發展完整
- 依司法院大法官解釋意旨，有關集會自由之敘述，下列何者正確？
(A)對於集會遊行之管制採行事前許可或報備程序，立法者有形成自由
(B)群眾因特殊原因自發性聚集之偶發性集會，仍應事先申請許可，但應有緊急申請程序之設計
(C)報備制相對於許可制而言屬於相同能達到目的之侵害較小手段，故集會遊行採事前許可制即與比例原則有違
(D)對於不遵從解散及制止命令之首謀者科以刑責，已違反比例原則
- 下列何者為憲法規定之人民義務？
(A)繳納社會保險費 (B)服兵役 (C)受大學教育 (D)勞工加入工會
- 依憲法規定，中華民國國民年滿幾歲，有依法被選舉之權？
(A) 18 歲 (B) 20 歲 (C) 22 歲 (D) 23 歲
- 依公職人員選舉罷免法之規定，下列何人得登記為候選人？
(A)現役軍人 (B)國民兵應教育召集者 (C)替代役男 (D)辦理選舉事務人員
- 關於立法院各種會議之進行，下列敘述何者錯誤？
(A)立法院得依據行政院院長之請求，召開秘密會議
(B)立法院除依據憲法第 67 條之規定設各種委員會外，於必要時，得增設特種委員會
(C)立法院臨時會，以決議召集臨時會之特定事項為限
(D)立法院院長認為有必要時，得經諮詢立法委員五分之一以上之意見後，召開臨時會
- 下列何者隸屬於行政院？
(A)中央研究院 (B)國家安全局 (C)大陸委員會 (D)國史館
- 領土變更案經立法院議決通過後，須經下列何項程序始成立？
(A)交由公民複決 (B)聲請司法院大法官審理
(C)經監察院審議通過 (D)經行政院會議通過
- 依憲法規定，立法院由立法委員組成，代表何者行使立法權？
(A)國家 (B)機關 (C)選民 (D)人民
- 下列何者非隸屬司法院？
(A)各級法院 (B)各級行政法院
(C)公務人員保障暨培訓委員會 (D)公務員懲戒委員會
- 依司法院釋字第 725 號解釋之見解，大法官解釋宣告法令違憲而定期失效者，於所宣告失效期限尚未屆至前，對於聲請人據以聲請之確定終局裁判案件，聲請人如請求再審救濟，法院應如何處理？
(A)予以駁回，以免影響法律效力之安定性 (B)予以駁回，因該法令尚屬有效
(C)應受理並為實體判決 (D)應受理，但以該法律尚未失效為由，實體無理由駁回
- 依監察法第 26 條規定，監察院為行使監察職權，得由監察委員持下列何種證件，赴各機關部隊公私團體調查檔案冊籍及其他有關文件？
(A)調查證 (B)指揮證 (C)委員證 (D)監察證

- 16 與英美法系相較，關於大陸法系特徵之敘述，下列何者錯誤？
(A)為成文法 (B)設有行政法院
(C)不採陪審制之法庭組織 (D)以判例為中心，作歸納思考
- 17 民法第 6 條規定：「人之權利能力，始於出生，終於死亡」，此一規定與下列何者有密切關係？
(A)基本權保障 (B)契約自由 (C)所有權保障 (D)過失責任原則
- 18 下列何者為憲法明文規定之事項？
(A)憲法的制定程序 (B)立法院制定法律之三讀程序
(C)立法委員有法律提案權 (D)考試院得向立法院提出法律案
- 19 有關法治國原則之敘述，下列何者錯誤？
(A)法治國原則已是具有完整清楚明確內容之概念
(B)人性尊嚴是法治國原則之主觀支柱
(C)基本權利保障是法治國原則之主觀支柱
(D)權力分立是法治國原則之客觀內涵
- 20 憲法第 52 條規定，總統除犯內亂或外患罪外，非經罷免或解職，不受刑事上之訴究。司法院釋字第 388 號解釋認為：現職總統競選連任時，因其已名列總統候選人，其競選活動固應受總統副總統選舉罷免法有關規定之規範，惟其總統身分並未因參選而變更，所以現職總統依法競選連任時，除犯內亂或外患罪外，非經罷免或解職，並不得適用刑法及總統副總統選舉罷免法等有關刑罰之規定予以訴究。司法院釋字第 388 號解釋所依據的法律原則是：
(A)憲法優於法律 (B)總統不必守法
(C)從新從優原則 (D)特別法優於普通法的原則
- 21 憲法明定行政院、立法院、司法院、考試院及監察院，分別為國家最高行政、立法、司法、考試及監察機關，此為下列何項憲法原則之具體落實？
(A)國民主權原則 (B)民主原則 (C)共和國原則 (D)權力分立原則
- 22 關於聲請司法院大法官解釋主體及事項之敘述，下列何者錯誤？
(A)中央或地方機關，於其行使職權適用憲法發生疑義或因行使職權與其他機關之職權，發生適用憲法爭議時得聲請之
(B)任何人民於其憲法上所保障之權利遭受不法侵害經依法定程序提起訴訟後，無論對任何審級法院判決適用法律或命令發生有牴觸憲法疑義者得聲請之
(C)依立法委員現有總額三分之一以上之聲請，就其行使職權適用憲法發生疑義或適用法律發生有牴觸憲法之疑義者得聲請之
(D)各級法院法官就其所受理之案件，對於所適用之法律或命令確信有牴觸憲法之疑義時，得以裁定停止訴訟程序並聲請之
- 23 關於使用借貸契約之敘述，下列何者錯誤？
(A)使用借貸契約預約成立後，無論如何預約貸與人均不得撤銷該約定
(B)使用借貸為無償契約
(C)使用借貸為要物契約
(D)原則上借用人不得將借用物允許他人使用
- 24 有關袋地通行權之敘述，下列何者錯誤？
(A)袋地是因其所有人之任意行為所致者，土地所有人無通行鄰地之權利
(B)有通行權之土地所有人，應擇其周圍地損害最少之處所及方法為之
(C)有通行權之土地所有人，對於通行地因此所受之損害，應支付償金
(D)有通行權之土地所有人不得開設道路
- 25 行刑權因期間內未執行而消滅，下列敘述何者錯誤？
(A)甲犯殺人罪，宣告無期徒刑，其行刑權時效期間為 40 年
(B)乙犯強盜罪，宣告 5 年有期徒刑，其行刑權時效期間為 30 年
(C)丙犯竊盜罪，宣告 2 年有期徒刑，其行刑權時效期間為 15 年
(D)丁犯誹謗罪，宣告拘役 40 天，其行刑權時效期間為 5 年
- 26 下列行為之結果，何者非刑法第 10 條第 4 項所稱之重傷？
(A)甲覺得惡作劇很有趣，拿擴音設備在乙之耳邊大喊，致乙雙耳耳膜破裂失聰
(B)甲乙打架，將乙的頭髮，幾乎全部拔光
(C)甲將乙的左手大拇指、食指、中指砍斷
(D)甲開車將乙撞成植物人

- 27 甲於民國 101 年 1 月 27 日從乙電視購物台購買某一保養品，並於同年同月 29 日收到該物品。甲於同年 2 月 4 日拆開該保養品之外盒包裝後（但未開瓶），突生悔意，遂於當日以宅急便將該保養品退回於乙，而乙也於當日收訖。下列關於解除買賣契約效力之敘述，何者正確？
(A)有效，因甲在法定期限內行使解約權
(B)有效，因甲乙雙方對於解除契約的條件、期限及方式並無特別約定
(C)無效，因甲解除契約無正當理由
(D)無效，因甲解除契約未以書面方式為之
- 28 A 公司、B 公司均為股份有限公司。A 公司已發行 900 萬股普通股、B 公司已發行 1200 萬股普通股。A 公司持有 B 公司 420 萬股，B 公司持有 A 公司 310 萬股，A、B 公司知有相互持股之事實，則各得於對方所召開之股東會行使之表決權股數為何？
(A)A 公司得行使 400 萬股表決權、B 公司得行使 300 萬股表決權
(B)A 公司得行使 420 萬股表決權、B 公司得行使 300 萬股表決權
(C)A 公司得行使 400 萬股表決權、B 公司得行使 310 萬股表決權
(D)A 公司得行使 420 萬股表決權、B 公司得行使 310 萬股表決權
- 29 根據全民健康保險法第 78 條規定，全民健康保險的安全準備總額，以相當於最近精算多少個月的保險給付支出為原則？
(A)一到三個月 (B)四到六個月 (C)七到八個月 (D)九到十二個月
- 30 甲女與乙男二人均滿 18 歲，沒有同居下隱瞞家人私下交往，但甲女打算提出分手以準備學測，乙男無法接受且毆打甲女。有關家庭暴力防治法規定，下列何者正確？
(A)甲女已滿 18 歲，可以自行提出保護令聲請
(B)甲女與乙男二人雖然沒有同居，但甲女父母可以為甲女向法院聲請保護令
(C)甲女父母親不捨孩子被打，打算聘僱律師提出傷害告訴，可以向縣市政府提出律師費補助
(D)有位單戀甲女的同學丙男，知道甲乙兩人分手，不斷以電話騷擾甲女要求與甲女約會，甲女亦可聲請保護令
- 31 Looking left and right, the thief walked cautiously down the hallway to _____ the security guards.
(A) afford (B) avoid (C) assign (D) assure
- 32 In Philadelphia, a new kind of trash can is _____ waste management via cutting down on air pollution and potentially saving the city millions in the process.
(A) revolutionizing (B) comprehending (C) comforting (D) rendering
- 33 Obviously, Joe thought too highly of himself and enjoyed behaving _____ to draw the attention of people around him.
(A) concordantly (B) pretentiously (C) recursively (D) sporadically
- 34 On a clear night in the countryside, we have a very good chance to see many stars _____ in the sky.
(A) colliding (B) glistening (C) retrieving (D) smothering
- 35 Dolphins and sharks are natural enemies. Sharks are _____ of dolphins, and will kill and eat young dolphins if they can.
(A) predators (B) protectors (C) successors (D) survivors
- 36 A person's facial expressions and gestures _____ powerful messages that go beyond words.
(A) alleviate (B) conceal (C) evolve (D) transmit
- 37 Fans waited outside the movie theater, hoping to catch a _____ of their favorite stars.
(A) glitter (B) cold (C) glimpse (D) clue
- 38 Scientists have been searching for better, faster and cleaner _____ sources of energy in order to create better lives and help solve the pollution problem.
(A) allusive (B) allocative (C) alternative (D) allergic
- 39 My sister has a _____ memory. She remembers every single thing she sees and hears, and she never forgets.
(A) remarkable (B) pristine (C) compulsive (D) reluctant
- 40 We essentially know the world in terms of a specific cultural package or preconception, and we are so unaware of it that the most liberal of us go through life with a kind of ethnocentricity that automatically rules out all other ways of seeing the world.
(A) We pursue diversity in our lives and are always aware of different cultures.
(B) We have a clear understanding that we need to incorporate different cultures in our ways of life.
(C) We are born into a cultural preconception that we call reality and never question it.
(D) Most of us go through life not knowing that we are liberated by cultural package.

- 41 Locational changes have been made possible by easy access to IT networks, so much so that financial and office functions no longer require spatial proximity.
- (A) Companies and offices do not require a great amount of space simply because of the availability of Internet connection.
- (B) The spread of IT networks has resulted in a change in financial and office functions, as well as in locations.
- (C) IT networks that are widespread in the modern world have helped reduce the running cost of businesses.
- (D) Locational changes are made possible due to widespread Internet connection; financial and office functions no longer require physical adjacency.

請依下文回答第 42 題至第 46 題：

Internet cookies are small information files that websites put onto personal computers. The main function of cookies is to give Internet users quick 42 to webpages. For example, because of cookies, customers on e-commerce sites can keep items in their shopping carts while they look at 43 products and then check out with ease whenever they are ready. Cookies also allow a website to remember personal information such as a 44 name, home address, email address, and phone number, so that these items do not have to be 45. For online sellers, cookies provide an important advantage. They allow the sellers to collect information about visitors to a website. 46 can then use the customer data for advertising and other marketing purposes. Although there are concerns about what sellers might do with private information, it is clear that cookies have their benefits.

- | | | | | |
|----|-----------------|---------------|--------------|----------------|
| 42 | (A)asset | (B)access | (C)essence | (D)excess |
| 43 | (A)charitable | (B)additional | (C)doubtful | (D)extinct |
| 44 | (A)backpacker's | (B)consumer's | (C)manager's | (D)diplomat's |
| 45 | (A)reentered | (B)remitted | (C)revenged | (D)remunerated |
| 46 | (A)Lunatics | (B)Guardians | (C)Merchants | (D)Perverts |

請依下文回答第 47 題至第 50 題：

The *Warcraft* video game franchise from Blizzard Entertainment is now 22 years old. The most successful game in this series has been *World of Warcraft (WOW)*, a massively multiplayer online role-playing game. According to Blizzard, over 100 million subscribers have played *WOW*. The extremely popular spinoff game *DOTA (Defense of the Ancients)* is also played at some of the biggest gaming competitions in the world.

Over the years, *WOW* has been considered by many people to be more than just a game. It has also been seen as a training ground for real-life business leaders. Players in *WOW* join together in large teams, called guilds. A player who wishes to be a successful leader, or “master,” of a team must learn how to attract new players to the group, evaluate each player, and arrange for him or her to be taught by experienced players. In addition, the leader must settle any quarrels that develop between team members and oversee development of strategies that the team will use to defeat its opponents. The lessons the leader learns through the game can be applied in real life.

A *Warcraft* film, in development since 2006, hits theaters this month. Its plot focuses on the arrival of Orcs looking to build a colony in the realm of humans and the conflict that arises between the two groups. Video-game fans will be pleased to know that the film's director, Duncan Jones, is a player of the game, as are some of the actors. Anticipated by both gamers and movie fans, *Warcraft* may be the next big film franchise.

- 47 What is this passage mainly about?
- (A) Making big money through games. (B) Beating opponents in video games.
- (C) *WOW*'s success story. (D) *WOW*'s excellent reviews.
- 48 Which of the following statements is true about *WOW*?
- (A) It offers useful training for leadership. (B) It is not practical for real-life business.
- (C) It leads to quarrels among its players. (D) Its teams are quite localized.
- 49 What will the guilds of *WOW* NOT do?
- (A) To attract new players. (B) To settle any quarrels.
- (C) To hold a contest. (D) To evaluate each player.
- 50 Which of the following do the gamers look forward to?
- (A) A new series of *Warcraft* online magazine. (B) A motion picture based on *Warcraft*.
- (C) A workshop that extends the *Warcraft* game. (D) A *Warcraft* concert with amazing prizes.

測驗式試題標準答案

更多高普考考試科目的歷屆題庫
立即上網搜尋“高普考歷屆考古題懶人包”
高鋒公職補習班整理
Line@帳號：@gaofeng
連絡電話：07-236-7296

考試名稱：107年公務人員高等考試三級考試暨普通考試

類科名稱：

人事行政、教育行政、統計、法律廉政、一般行政、觀光行政(選試觀光日語)、史料編纂、戶政、體育行政、觀光行政(選試觀光英語)、會計、一般民政、財經廉政、工業行政、宗教行政、原住民族行政、新聞(選試英文)、財務審計、漁業行政、經建行政、自然保育、環境檢驗、養殖技術、航空駕駛(選試直昇機飛行原理)、公職獸醫師、工業工程、工業安全、環保技術、化學安全、航海技術、輪機技術、氣象、技藝(選試陶甕)、技藝(選試木竹器)、工業設計、視聽製作、衛生技術、消防技術、漁業技術、化學工程、食品衛生檢驗、地質、探礦工程、材料工程、測量製圖、畜牧技術、藥事、生藥中藥基原鑑定、交通技術、建築工程、公職建築師、都市計畫技術、水土保持工程、機械工程、汽車工程、電力工程、電子工程、電信工程、資訊處理、核子工程、航運行政、公職社會工作師、農業技術、農業機械、林業技術、輻射安全、園藝、植物病蟲害防治、土木工程、水利工程、商業行政、環境工程、智慧財產行政、衛生行政、環保行政、博物館管理(選試英文)、檔案管理、交通行政、客運事務行政、勞工行政、稅務行政、績效審計、公平交易管理、社會行政、文化行政、金融保險、法制、企業管理、農業行政、僑務行政(選試西班牙文)、醫務管理、地政、圖書資訊管理(選試英文)、景觀

科目名稱：

法學知識與英文(包括中華民國憲法、法學緒論、英文)(試題代號：3301)

單選題數：50題

單選每題配分：2.00分

複選題數：

複選每題配分：

標準答案：

題號	第1題	第2題	第3題	第4題	第5題	第6題	第7題	第8題	第9題	第10題
答案	D	C	A	C	A	B	D	B	D	C

題號	第11題	第12題	第13題	第14題	第15題	第16題	第17題	第18題	第19題	第20題
答案	A	D	C	C	D	D	A	D	A	A

題號	第21題	第22題	第23題	第24題	第25題	第26題	第27題	第28題	第29題	第30題
答案	D	B	A	D	D	B	A	A	A	B

題號	第31題	第32題	第33題	第34題	第35題	第36題	第37題	第38題	第39題	第40題
答案	B	A	B	B	A	D	C	C	A	C

題號	第41題	第42題	第43題	第44題	第45題	第46題	第47題	第48題	第49題	第50題
答案	D	B	B	B	A	C	C	A	C	B

題號	第51題	第52題	第53題	第54題	第55題	第56題	第57題	第58題	第59題	第60題
答案										

題號	第61題	第62題	第63題	第64題	第65題	第66題	第67題	第68題	第69題	第70題
答案										

題號	第71題	第72題	第73題	第74題	第75題	第76題	第77題	第78題	第79題	第80題
答案										

題號	第81題	第82題	第83題	第84題	第85題	第86題	第87題	第88題	第89題	第90題
答案										

題號	第91題	第92題	第93題	第94題	第95題	第96題	第97題	第98題	第99題	第100題
答案										

備註：

測驗題標準答案更正

考試名稱：107年公務人員高等考試三級考試暨普通考試

類科名稱：

一般行政、一般民政、宗教行政、客家事務行政、社會行政、人事行政、戶政、原住民族行政、勞工行政、文化行政、教育行政、體育行政、新聞(選試英文)、財政行政、金融保險、統計、會計、財務審計、績效審計、法制、法律廉政、財經廉政、經建行政、公平交易管理、企業管理、工業行政、商業行政、農業行政、漁業行政、智慧財產行政、僑務行政(選試西班牙文)、衛生行政、醫務管理、環保行政、地政、博物館管理(選試英文)、圖書資訊管理(選試英文)、檔案管理、史料編纂、交通行政(選試觀光英語)、觀光行政(選試觀光日語)、航運行政、公職社會工作師、農業技術、農機機械、林業技術、園藝、植物病蟲害防治、自然保育、土木工程、水利工程、環境工程、建築工程、公職建築師、都市計畫技術、水土保持工程、機械工程、汽車工程、電力工程、電子工程、電信工程、資訊處理、核子工程、輻射安全、化學工程、食品衛生檢驗、環境檢驗、地質、採礦工程、材料工程、測量製圖、藥事、生藥中藥基原鑑定、交通技術、航海技術、輪機技術、氣象、技藝(選試陶瓦)、技藝(選試木竹器)、工業設計、視聽製作、衛生技術、消防技術、漁業技術、養殖技術、畜牧技術、公職獸醫師、工業工程、工業安全、環保技術、化學安全、航空駕駛(選試直昇機飛行原理)、景觀

科目名稱：法學知識與英文（包括中華民國憲法、法學緒論、英文）

單選題數：50題

單選每題配分：2.00分

複選題數：

複選每題配分：

標準答案：答案標註#者，表該題有更正答案，其更正內容詳見備註。

題號	第1題	第2題	第3題	第4題	第5題	第6題	第7題	第8題	第9題	第10題
答案	D	C	A	C	A	B	D	B	#	C

題號	第11題	第12題	第13題	第14題	第15題	第16題	第17題	第18題	第19題	第20題
答案	A	D	C	C	D	D	A	D	A	A

題號	第21題	第22題	第23題	第24題	第25題	第26題	第27題	第28題	第29題	第30題
答案	D	#	A	D	D	B	A	A	A	B

題號	第31題	第32題	第33題	第34題	第35題	第36題	第37題	第38題	第39題	第40題
答案	B	A	B	B	A	D	C	C	A	C

題號	第41題	第42題	第43題	第44題	第45題	第46題	第47題	第48題	第49題	第50題
答案	D	B	B	B	A	C	C	A	C	B

題號	第51題	第52題	第53題	第54題	第55題	第56題	第57題	第58題	第59題	第60題
答案										

題號	第61題	第62題						第68題	第69題	第70題
答案										

題號	第71題	第72題						第78題	第79題	第80題
答案										

題號	第81題	第82題	第83題	第84題	第85題	第86題	第87題	第88題	第89題	第90題
答案										

題號	第91題	第92題	第93題	第94題	第95題	第96題	第97題	第98題	第99題	第100題
答案										

更多高普考考試科目的歷屆題庫
立即上網搜尋“高普考歷屆考古題懶人包”
高鋒公職補習班整理
Line@帳號：@gaofeng
連絡電話：07-236-7296

備註：第9題答C或D或CD者均給分，第22題答B或D者均給分。

代號：31420、32020
32720、33020
頁次：4-1

107年公務人員高等考試三級考試試題

類 科：財稅行政、法制、商業行政、智慧財產行政

科 目：民法

考試時間：2 小時

※注意：禁止使用電子計算器。

甲、申論題部分：(50 分)

- (一)不必抄題，作答時請將試題題號及答案依照順序寫在申論試卷上，於本試題上作答者，不予計分。
(二)請以藍、黑色鋼筆或原子筆在申論試卷上作答。
(三)本科目除專門名詞或數理公式外，應使用本國文字作答。

更多高普考考試科目的歷屆題庫
立即上網搜尋“高普考歷屆考古題懶人包”
高鋒公職補習班整理
Line@帳號：@gaofeng
連絡電話：07-236-7296

座號：_____

一、甲為擔保對乙所負 500 萬元債務，乃提供其所有之 A 不動產供乙設定最高限額抵押權。前述債務清償期（民國 105 年 3 月 31 日）屆至時，因甲無法清償，乙同意將清償期延長六個月。嗣因甲於延緩清償期間中並未積極設法清償債務，乙乃於同年 9 月 20 日再次與甲協議並約定「在 105 年 9 月 30 日前，甲應將 A 不動產出售予已透過仲介業者提出買受該不動產要約之丙，並以賣得之價金清償乙對甲之債權。於此期間中，如丙有反悔不願購買之情事，甲同意將 A 不動產所有權移轉登記予乙，以清償乙對甲之債權」。

惟因丙透過仲介業者簽訂 A 不動產買賣要約書之期日為 105 年 9 月 11 日、且已於同年月 14 日撤回該要約。清償期屆至後，因甲無法清償對乙之債務，乙依上述協議請求甲移轉登記 A 不動產所有權時，甲主張 9 月 20 日與乙簽訂上述協議時，因雙方均不知丙已撤回要約，故該協議之內容無效。甲之主張是否有理？（25 分）

二、模具製造商甲以價金 100 萬（新臺幣）出賣 A 型號模具一批給乙，雙方在買賣契約中約定：「買受人應於 105 年 1 月 1 日清償給付貨款 100 萬，逾期清償者，每日處以按給付價金之千分之一計算之違約金。」，乙遲遲不清償價款。甲則在 107 年 4 月 2 日訴請乙給付價金與違約金，乙卻以甲之價金與違約金給付請求權均罹於時效為抗辯，而拒絕給付。試問乙之抗辯是否有理由？（25 分）

乙、測驗題部分：(50 分)

代號：2314

- (一)本測驗試題為單一選擇題，請選出一個正確或最適當的答案，複選作答者，該題不予計分。
(二)共 25 題，每題 2 分，須用 2B 鉛筆在試卡上依題號清楚劃記，於本試題或申論試卷上作答者，不予計分。

- 1 民法第 1 條規定：「民事，法律無規定者，依習慣，無習慣者，依法理。」習慣必須具備一定的要件，方得為民法之法源，下列選項非其要件？
 - (A)具有法的確信
 - (B)已經成為民事特別法的內容
 - (C)在當代社會上有反覆實施的行為
 - (D)不背於公共秩序或善良風俗
- 2 法人之代表與代理有所不同，下列關於兩者區別之敘述，何者錯誤？
 - (A)法人之代表僅有一人，但代理人得有數人
 - (B)在制度上，代表與法人是一個權利主體內的關係，而代理人與本人是兩個主體間的關係
 - (C)法人代表的行為就是法人的行為，包括事實行為及侵權行為，但代理人僅得代為法律行為及準法律行為
 - (D)代表係法人的機關，代表的行為就是法人的行為，無所謂效力歸屬的問題。在代理關係上，代理人的行為並非本人的行為，僅其效力歸屬於本人而已

- 3 下列何者，不屬於形成權？
(A)遺產分割請求權 (B)繼承拋棄權 (C)離婚請求權 (D)酌給遺產請求權
- 4 甲欲對 6 歲之子乙贈送 A 屋，下列敘述，何者錯誤？
(A)乙係無行為能力人 (B)甲須代乙接受甲之贈與意思表示
(C)本題為雙方代理 (D)甲、乙之贈與契約有效
- 5 3 月 1 日，25 歲的甲因 30 歲的乙之詐欺行為，將傳家名畫以新臺幣 1 萬元出賣給乙，約定 4 月 2 日雙方交付名畫及價金，甲於 3 月 25 日受監護之宣告，但在 4 月 2 日雙方仍依約交付價金及名畫。下列敘述，何者正確？
(A) 3 月 1 日當天甲乙之間的買賣行為，有效成立
(B)甲係因乙之詐欺行為，將傳家名畫以新臺幣 1 萬元出賣給乙，契約自始當然無效
(C)甲於 4 月 2 日交付名畫給乙的行為無效，但受領乙交付 1 萬元價金之物權行為，有效
(D)若甲於 4 月 25 日才受監護之宣告，甲於 4 月 10 日當天向乙表示撤銷因詐欺所為出賣名畫的意思表示，則乙於 4 月 2 日已取得的名畫，自動喪失所有權，所有權歸甲
- 6 甲與乙商人訂立買賣契約，向乙購買一台機器，關於消滅時效期間，下列敘述，何者正確？
(A)甲請求乙交付機器之消滅時效期間為 5 年 (B)甲請求乙交付機器之消滅時效期間為 15 年
(C)乙請求甲支付價金之消滅時效期間為 5 年 (D)乙請求甲支付價金之消滅時效期間為 15 年
- 7 下列何者適用民法第 169 條關於表見代理之規定？
(A)意定代理 (B)法定代理 (C)法定監護 (D)隱名合夥
- 8 甲是全球享有盛名之畫家。甲未經乙之同意，以自己之顏料，於乙所有 A 屋之牆壁上，完成 A 畫，經專家鑑定價值連城。下列敘述，何者正確？
(A)成立添附，由甲取得 A 畫所有權 (B)成立加工，由乙取得 A 畫所有權
(C)成立混合，由甲取得 A 畫所有權 (D)成立附合，由乙取得 A 畫所有權
- 9 下列何者不得為債之給付標的？
(A)約定晚上 10 點以後，不得彈鋼琴
(B)甲、乙婚外情，甲答應乙，甲每個月給乙新臺幣 10 萬元供生活費
(C)與靈媒約定，透過靈媒與死去父親對話
(D)甲、乙訂立畢卡索名畫拿著一本書的女人買賣，但在契約訂立之前該畫已毀損滅失
- 10 同時履行抗辯原則是契約履行的基本原則之一，但並不是所有的契約都有同時履行抗辯適用之可能。下列何種契約無適用之可能？
(A)買賣 (B)互易 (C)使用借貸 (D)租賃
- 11 甲有 A 車出賣於乙，價金 20 萬，約定乙應先支付定金 5 萬，嗣乙支付甲 5 萬定金。下列敘述，何者錯誤？
(A)甲移轉 A 車所有權於乙時，5 萬元定金作為已支付之價金，乙僅應再支付甲 15 萬元價金
(B) A 車因天災而全毀時，甲應返還乙 5 萬元定金
(C) A 車因乙之過失而全毀時，乙仍應支付甲 20 萬元價金，且不得請求返還 5 萬元定金
(D) A 車因甲之過失而全毀時，甲應加倍返還乙定金

- 12 債權人甲對 18 歲之債務人乙表示免除其債務，下列關於債務免除之敘述，何者正確？
- (A)甲免除債務之意思表示，必須達到乙之法定代理人時，始發生免除之效力
 - (B)甲免除債務之意思表示，對乙是純獲法律上利益，達到乙時即生免除效力
 - (C)債務免除是債權人甲與債務人乙之債權契約，雙方意思表示一致即生效力
 - (D)僅債權人甲得為債務免除，屬於甲之一身專屬權，不許他人代理免除債務
- 13 已公證之不動產租賃契約，租賃物已交付於承租人占有後，出租人卻將租賃物之所有權讓與第三人，法律效果如何？
- (A)租賃契約因此無效
 - (B)原出租人與原承租人間之租賃契約不受影響
 - (C)租賃契約不得對抗受讓租賃物之善意第三人
 - (D)租賃契約對於受讓租賃物之第三人仍繼續存在
- 14 甲有 A 地，委任乙，為其處理 A 地出賣一事。下列敘述，何者錯誤？
- (A)乙應以甲名義，出賣 A 地
 - (B)乙得請求甲預先支付，出賣 A 地之必要費用
 - (C)乙應依甲之指示，出賣 A 地
 - (D)乙負有報告義務
- 15 所謂物權行為，指以物權之設定、移轉、變更與消滅為目的的法律行為。下列與物權行為有關之敘述，何者錯誤？
- (A)物權行為之當事人所為的意思表示的目的係在完成物權之設定、移轉、變更或消滅；其與當事人在原因行為中所為之意思表示的目的係屬不同
 - (B)物權行為除要有當事人設定、移轉、變動或消滅的意思表示合致外，尚須具備外在之形式要件，即如動產為交付、不動產為登記
 - (C)物權行為與承擔移轉標之物之交付義務的原因法律行為，各有其獨立之生效要件
 - (D)原因法律行為之無效或經撤銷導致其物權行為之當然無效或撤銷
- 16 甲將其所有之鑽戒寄放於乙處，乙卻將其作為自己所有之物出售善意無過失之丙。乙以下列何種方式交付鑽戒予丙時，丙尚未確定地取得鑽戒之所有權？
- (A)現實交付
 - (B)簡易交付
 - (C)占有改定
 - (D)指示交付
- 17 下列關於應有部分之敘述，何者正確？
- (A)存在於共有物之特定部分
 - (B)各共有人得自由事實上處分其應有部分
 - (C)共有人得以共有土地之應有部分，設定抵押權
 - (D)繼承人之應繼分，即應有部分

- 18 普通抵押權效力所及者，均為抵押權實行範圍所及。下列何者不為抵押權效力所及？
(A)抵押物之從物 (B)抵押物滅失後之殘餘物
(C)抵押物扣押前已分離之天然孳息 (D)建築物不具獨立性之附加物
- 19 基於一定之法律關係發生間接占有，得使當事人之一方占有他方之物。下列何者並非此項法律關係？
(A)租賃關係 (B)寄託關係 (C)使用借貸關係 (D)僱傭關係
- 20 下列何種身分行為，應經戶政機關登記，始生效力？
(A)收養 (B)認領 (C)結婚 (D)法院調解離婚
- 21 關於夫妻財產制契約之訂立，下列敘述，何者錯誤？
(A)夫妻得於結婚前或結婚後，均得訂立夫妻財產制契約
(B)夫妻財產制契約應具備形式要件，除夫妻以書面同意之外，尚應在管轄之地方法院登記，始得對抗第三人
(C)夫妻於婚後改用他種約定夫妻財產制，而其中一方，如未成年者，應經其法定代理人之同意，始生效力
(D)夫妻未以契約訂立夫妻財產制者，原則上應適用法定財產制
- 22 甲男於民國 101 年 2 月間經法院裁定認可收養一子 A 時，A 年 8 歲；A 之生母為乙女，A 為乙女未婚所生。甲與乙於 102 年 2 月 14 日結婚後，於 103 年 2 月 14 日，甲、乙離婚。下列敘述，何者正確？
(A) A 與甲於其收養關係存續中，A 與甲為一親等直系血親
(B) A 因甲、乙結婚，A 與乙為一親等直系姻親
(C) A 因甲、乙離婚，A 與乙之親屬關係消滅
(D)甲、乙結婚後，乙應經甲之同意，始得收養 A
- 23 下列何種情形，於當事人不能協議時，亦不得由法院定之？
(A)扶養費之給付 (B)子女出生時之姓氏
(C)夫妻之住所地 (D)離婚後子女親權之酌定
- 24 甲男無配偶，有乙、丙二子；乙先於甲死亡，遺有二幼子丁、戊與遺孀己。甲死亡時，其遺產應如何被繼承？
(A)丙單獨繼承全部 (B)丙、丁與戊各繼承三分之一
(C)丙繼承二分之一，丁、戊與己各繼承六分之一 (D)丙繼承二分之一，丁與戊各繼承四分之一
- 25 設甲於民國 103 年 7 月間死亡，甲有三位繼承人，分別為 A、B、C。A 為完全行為能力人，B 為限制行為能力人，C 為無行為能力人。甲未立遺囑，甲之遺產有生前對債權人乙之債務 300 萬元與存款 100 萬元。下列敘述，何者正確？
(A) A 應於 103 年 7 月間甲死亡時起，3 個月內，開具遺產清冊陳報法院，始得主張限定責任
(B) B、C 得以其為限制行為能力人及無行為能力人，主張對乙之債務 300 萬元，不負任何清償責任
(C) A、B、C 如未於 103 年 7 月間甲死亡時起，3 個月內，開具遺產清冊陳報法院，喪失繼承權
(D)債權人乙得向法院聲請命 A、B、C 於 3 個月內提出遺產清冊

測驗式試題標準答案

考試名稱：107年公務人員高等考試三級考試暨普通考試

類科名稱：財稅行政、法制、商業行政、智慧財產行政

科目名稱：民法（試題代號：2314）

單選題數：25題

單選每題配分：2.00分

複選題數：

複選每題配分：

標準答案：

更多高普考考試科目的歷屆題庫
立即上網搜尋“高普考歷屆考古題懶人包”
高鋒公職補習班整理
Line@帳號：@gaofeng
連絡電話：07-236-7296

題號	第1題	第2題	第3題	第4題	第5題	第6題	第7題	第8題	第9題	第10題
答案	B	A	D	C	A	B	A	D	D	C

題號	第11題	第12題	第13題	第14題	第15題	第16題	第17題	第18題	第19題	第20題
答案	C	B	D	A	D	C	C	C	D	C

題號	第21題	第22題	第23題	第24題	第25題	第26題	第27題	第28題	第29題	第30題
答案	C	A	B	D	D					

題號	第31題	第32題	第33題	第34題	第35題	第36題	第37題	第38題	第39題	第40題
答案										

題號	第41題	第42題	第43題	第44題	第45題	第46題	第47題	第48題	第49題	第50題
答案										

題號	第51題	第52題	第53題	第54題	第55題	第56題	第57題	第58題	第59題	第60題
答案										

題號	第61題	第62題	第63題	第64題	第65題	第66題	第67題	第68題	第69題	第70題
答案										

題號	第71題	第72題	第73題	第74題	第75題	第76題	第77題	第78題	第79題	第80題
答案										

題號	第81題	第82題	第83題	第84題	第85題	第86題	第87題	第88題	第89題	第90題
答案										

題號	第91題	第92題	第93題	第94題	第95題	第96題	第97題	第98題	第99題	第100題
答案										

備註：

測驗題標準答案更正

考試名稱：107年公務人員高等考試三級考試暨普通考試

更多高普考考試科目的歷屆題庫
立即上網搜尋“高普考歷屆考古題懶人包”
高鋒公職補習班整理
Line@帳號：@gaofeng
連絡電話：07-236-7296

類科名稱：財稅行政、法制、商業行政、智慧財產行政

科目名稱：民法

單選題數：25題

單選每題配分：2.00分

複選題數：

複選每題配分：

標準答案：答案標註#者，表該題有更正答案，其更正內容詳見備註。

題號	第1題	第2題	第3題	第4題	第5題	第6題	第7題	第8題	第9題	第10題
答案	B	A	D	C	A	B	A	D	#	C

題號	第11題	第12題	第13題	第14題	第15題	第16題	第17題	第18題	第19題	第20題
答案	C	B	D	A	D	C	C	C	D	C

題號	第21題	第22題	第23題	第24題	第25題	第26題	第27題	第28題	第29題	第30題
答案	C	A	B	D	D					

題號	第31題	第32題	第33題	第34題	第35題	第36題	第37題	第38題	第39題	第40題
答案										

題號	第41題	第42題	第43題	第44題	第45題	第46題	第47題	第48題	第49題	第50題
答案										

題號	第51題	第52題	第53題	第54題	第55題	第56題	第57題	第58題	第59題	第60題
答案										

題號	第61題	第62題	第63題	第64題	第65題	第66題	第67題	第68題	第69題	第70題
答案										

題號	第71題	第72題	第73題	第74題	第75題	第76題	第77題	第78題	第79題	第80題
答案										

題號	第81題	第82題	第83題	第84題	第85題	第86題	第87題	第88題	第89題	第90題
答案										

題號	第91題	第92題	第93題	第94題	第95題	第96題	第97題	第98題	第99題	第100題
答案										

備註：第9題答B或D或BD者均給分。

107年公務人員高等考試三級考試試題

30960
31460-31660 全一張
代號：32360-32560
32760、33160(正面)
33360

類 科：勞工行政、財稅行政、金融保險、統計、經建行政、公平交易管理、
企業管理、商業行政、僑務行政（選試西班牙文）、醫務管理

科 目：經濟學

考試時間：2小時

座號：_____

更多高普考考試科目的歷屆題庫
立即上網搜尋“高普考歷屆考古題懶人包”
高鋒公職補習班整理
Line@帳號：@gaofeng
連絡電話：07-236-7296

※注意：禁止使用電子計算器。

甲、申論題部分：（50分）

- (一)不必抄題，作答時請將試題題號及答案依照順序寫在申論試卷上，於本試題上作答者，不予計分。
- (二)請以藍、黑色鋼筆或原子筆在申論試卷上作答。
- (三)本科目除專門名詞或數理公式外，應使用本國文字作答。

一、政府為了顧及人民的健康，想要人民減少吸菸次數和數量。假設對香菸的反需求函數(inverse demand function)可表示為 $p = 40 - 3q$ ，反供給函數(inverse supply function)可表示為 $p = 20 + 2q$ 。假設政府開始對香菸供應商課徵每單位香菸 10 元的稅，則：

- (一)此時稅後均衡價格為何？（10分）
- (二)消費者每單位香菸多付多少錢？（5分）
- (三)這項租稅政策對減少人民吸菸量的效果大小，與需求彈性有何關係？（10分）

二、若一梭羅成長模型(Solow growth model)的生產函數為 $Y = 5K^{0.5}N^{0.5}$ ，其中 Y 為總產出，K 為資本存量，N 為總勞動人口數。同時在此模型中折舊率為 0.2，人口成長率為 0.05，儲蓄率為 0.2。（每小題 5 分，共 25 分）

- (一)請寫出平均每人生產函數。
- (二)穩定狀態(steady state)的條件為何？
- (三)在穩定狀態時的平均每人資本存量為何？
- (四)在穩定狀態時的平均每人資本產出為何？
- (五)在穩定狀態時的平均每人消費為何？

乙、測驗題部分：（50分）

代號：6309

- (一)本測驗試題為單一選擇題，請選出一個正確或最適當的答案，複選作答者，該題不予計分。
- (二)共 25 題，每題 2 分，須用 2B 鉛筆在試卡上依題號清楚劃記，於本試題或申論試卷上作答者，不予計分。

- 1 根據國際貿易比較利益法則，自由貿易比自給自足好，是因為自由貿易可以：
(A)增加參與貿易國家加總的產出與消費 (B)降低出口部門的勞工工資
(C)同時提昇進出口部門的勞動生產力 (D)降低進出口產品的價格
- 2 有約束力的價格下限是_____設定_____均衡價格：
(A)最低價格；低於 (B)最高價格；低於 (C)最低價格；高於 (D)最高價格；高於
- 3 假設價格 10 元時的需求量為 100，當價格下跌至 8 元，需求量上升至 130。請問此時需求的弧彈性為何？
(A) 1.50 (B) 1.17 (C) 1.00 (D) 0.85
- 4 已知某甲對於 x 與 y 商品的效用函數為 $u(x, y) = \min\{4x + 3y, 3x + 4y\}$ ，某乙的效用函數為 $u(x, y) = \min\{8x + 7y, 7x + 8y\}$ 。若二人所得相同且面對相同物價，在消費均衡點上，下列何者正確？
(A)兩人的最適購買數量相同 (B)甲購買的 x 數量較乙多，y 較乙少
(C)甲購買的 x 數量較乙少，y 較乙多 (D)甲購買的 x 和 y 都比乙來得多
- 5 假設 X 財貨對某人的邊際效用 (MU_x) 如表所示，其貨幣的邊際效用為 3 (MU_m = 3)，請問售價為 4 元時，以價格表示的消費者剩餘應為：

Q _x	1	2	3	4	5	6
MU _x	21	18	15	12	9	6

- (A) 18 (B) 15 (C) 12 (D) 6
- 6 當完全競爭市場的廠商發現它的邊際收益小於邊際成本時，如何做可以提高利潤？
(A)增加產量 (B)減少產量 (C)提高價格 (D)降低價格
- 7 下列有關平均成本(average cost)和邊際成本(marginal cost)的敘述，何者正確？
(A)平均成本一定會大於邊際成本 (B)邊際成本一定會大於平均成本
(C)平均成本曲線一定會通過邊際成本曲線的最低點 (D)邊際成本曲線一定會通過平均成本曲線的最低點
- 8 下列那項不是獨占性競爭市場的特徵？
(A)廠商生產異質性商品競爭 (B)個別廠商面對負斜率的需求曲線
(C)廠商以最低平均總成本生產 (D)廠商的長期利潤為零

(請接背面)

107年公務人員高等考試三級考試試題

類 科：勞工行政、財稅行政、金融保險、統計、經建行政、公平交易管理、
企業管理、商業行政、僑務行政（選試西班牙文）、醫務管理
科 目：經濟學

- 9 假設獨占廠商的總成本函數為 $C = 2 + 2q$ ，其中 C 為總成本、 q 為產品數量。產品的市場需求曲線則為 $q = 10 - P$ ，其中 q 為產品數量、而 P 則為市場價格。試問此獨占廠商利潤極大化的價格為何？
(A)\$2 (B)\$4 (C)\$6 (D)\$8
- 10 下列有關「市場效率假說」的敘述，何者錯誤？
(A)股價已反映所有公開資訊 (B)股價變動為隨機漫步型式
(C)未來股價最佳預測值為本期股價 (D)買股要等待適當時機
- 11 在 1990 年代，電腦程式設計員的邊際產出價值快速提高。其他條件不變下，這將如何影響電腦程式設計員的均衡僱用量？
(A)均衡僱用量提高 (B)均衡僱用量下降 (C)均衡僱用量不確定 (D)不可能知道均衡的僱用量
- 12 下列那一項是逆向選擇的例子？
(A)投保健康保險之後，民眾可能越會越濫用健保 (B)開車較粗心的駕駛比較會來買意外保險
(C)有錢人比較會來買人壽保險 (D)窮人比較買不起汽車保險
- 13 某一廠商的生產函數為 $q = LK$ ，其中 q 是總產量、 L 是勞動要素投入量、 K 則是資本要素投入量。目前勞動和資本的市場單位價格皆為 \$1，而資本投入量則被固定在 1 單位。在此廠商追求成本極小化的假設之下，其短期總成本函數為何？
(A) $C(q) = 2q + 1$ (B) $C(q) = 2q^{0.5}$ (C) $C(q) = q$ (D) $C(q) = q + 1$
- 14 若實際失業率低於自然失業率，則下列何者正確？
(A)通貨膨脹率上升 (B)菲力普曲線 (Phillips curve) 會向左移動
(C)工資會下降 (D)自然失業率會下降
- 15 下列何者總體變數是較合乎季節性順週期 (seasonally procyclical) 之性質？
(A)對勞務之支出 (B)失業率 (C)對耐久性財貨之支出 (D)真實工資
- 16 根據貨幣數量學說，若貨幣供給增加 10%，流通速率減少 4%，實質 GDP 增加 4%，則物價變動率為：
(A) 2% (B) 4% (C) 6% (D) 10%
- 17 由梭羅 (Solow) 模型中，假使關注的焦點是如何使長期穩定狀態下，讓消費 (steady-state consumption) 極大化之資本勞動比，下列何者正確？
(A)應由折舊率、人口成長率及技術成長率共同決定 (B)應找出黃金法則 (golden rule) 之最適技術成長率
(C)應由最適折舊率決定 (D)應先找出長期穩定狀態下之所得水準
- 18 成長理論中，所謂有條件收斂 (conditional convergence) 是在說明，在長期間：
(A)生活水準只在相似特質之國家之中會收斂
(B)生活水準只在初始之資本 — 勞動相同的國家之中會收斂
(C)全世界生活水準最後會一樣
(D)縱使人口成長率不一，生活水準最終仍會一樣
- 19 令橫軸變數為實質 GDP，縱軸變數為利率。就 IS-LM 模型而言，下列關於 LM 線的敘述，何者正確？
(A)貨幣需求對所得的敏感程度愈高時，LM 線會愈平坦
(B)貨幣需求對利率的敏感程度愈高時，LM 線會愈平坦
(C)貨幣需求對物價的敏感程度愈高時，LM 線會愈平坦
(D)貨幣需求對物價的敏感程度愈低時，LM 線會愈平坦
- 20 假設其他條件不變且政府的財政政策與中央銀行的貨幣政策均有效。根據 IS-LM 模型，當政府減少投資支出且中央銀行調高重貼現率時，可以確定：
(A)均衡所得會增加 (B)均衡所得會減少 (C)一般物價會上漲 (D)一般物價會下跌
- 21 已知社會只有張三、李四、王五及趙六等四個消費者，其個別消費函數分別為：張三： $C = 140 + 0.8Y_d$ ；李四： $C = 160 + 0.6Y_d$ ；王五： $C = 100 + 0.7Y_d$ ；趙六： $C = 50 + 0.9Y_d$ ，則社會消費函數應為：
(A) $C = 450 + 3.0Y_d$ (B) $C = 450 + 0.75Y_d$ (C) $C = 450 + 0.8Y_d$ (D) $C = 450 + 0.9Y_d$
- 22 根據李嘉圖均等定理 (Ricardian equivalence theorem)，有關政府採取舉債方式增加政府支出對經濟的影響，下列敘述何者正確？
(A)可貸資金需求增加，因此實質利率上升
(B)可貸資金供給減少，因此實質利率上升
(C)可貸資金供給和可貸資金需求等額增加，因此實質利率不變
(D)可貸資金供給增加而可貸資金需求減少，因此實質利率下跌
- 23 政府財政支出的財源由下列何種方式來融通，會直接與貨幣供給產生關聯性？
(A)增稅 (B)發行公債由銀行買入
(C)發行公債由大眾買入 (D)發行公債由中央銀行買入
- 24 假定某一消費者的所得從 40,000 元增加為 48,000 元，使得消費由 35,000 元增加為 41,000 元，則：
(A)消費函數的斜率是 0.75 (B)平均消費傾向是 0.75
(C)邊際儲蓄傾向是 0.2 (D)邊際消費傾向是 0.6
- 25 貨幣政策的量化寬鬆效果可能會因下列因素而不彰？①利率幾近於下限零 ②銀行超額準備金增加 ③通貨回存銀行 ④對銀行超額準備金支付利息
(A)僅① (B)僅③ (C)①②④ (D)②③④

測驗式試題標準答案

考試名稱：107年公務人員高等考試三級考試暨普通考試

類科名稱：勞工行政、財稅行政、金融保險、統計、經建行政、公平交易管理、企業管理、醫務管理、商業行政、僑務行政(選試西班牙文)

科目名稱：經濟學(試題代號：6309)

單選題數：25題 選每題配分：2.00分

複選題數： 選每題配分：

標準答案：

更多高普考考試科目的歷屆題庫
立即上網搜尋“高普考歷屆考古題懶人包”
高鋒公職補習班整理
Line@帳號：@gaofeng
連絡電話：07-236-7296

題號	第1題	第2題	第3題	第4題	第5題	第6題	第7題	第8題	第9題	第10題
答案	A	C	B	A	D	B	D	C	C	D

題號	第11題	第12題	第13題	第14題	第15題	第16題	第17題	第18題	第19題	第20題
答案	A	B	D	A	C	A	A	A	B	B

題號	第21題	第22題	第23題	第24題	第25題	第26題	第27題	第28題	第29題	第30題
答案	B	C	D	A	C					

題號	第31題	第32題	第33題	第34題	第35題	第36題	第37題	第38題	第39題	第40題
答案										

題號	第41題	第42題	第43題	第44題	第45題	第46題	第47題	第48題	第49題	第50題
答案										

題號	第51題	第52題	第53題	第54題	第55題	第56題	第57題	第58題	第59題	第60題
答案										

題號	第61題	第62題	第63題	第64題	第65題	第66題	第67題	第68題	第69題	第70題
答案										

題號	第71題	第72題	第73題	第74題	第75題	第76題	第77題	第78題	第79題	第80題
答案										

題號	第81題	第82題	第83題	第84題	第85題	第86題	第87題	第88題	第89題	第90題
答案										

題號	第91題	第92題	第93題	第94題	第95題	第96題	第97題	第98題	第99題	第100題
答案										

備註：

代號：31450
31750
頁次：4-1

107年公務人員高等考試三級考試試題

類 科：財稅行政、會計
科 目：財政學
考試時間：2 小時

※注意：禁止使用電子計算器。

更多高普考考試科目的歷屆題庫
立即上網搜尋“高普考歷屆考古題懶人包”
高鋒公職補習班整理
Line@帳號：@gaofeng
連絡電話：07-236-7296

座號：_____

甲、申論題部分：(50分)

- (一)不必抄題，作答時請將試題題號及答案依照順序寫在申論試卷上，於本試題上作答者，不予計分。
- (二)請以藍、黑色鋼筆或原子筆在申論試卷上作答。
- (三)本科目除專門名詞或數理公式外，應使用本國文字作答。
- (四)答題使用之數學式符號與上、下標等，以及圖形之座標軸與點、線等，務必清楚標示並佐以文字詳細解釋。

一、在兩人(A與B)、兩私有財(X與Y)的經濟架構下，回答下列子題：

- (一)繪製艾吉渥斯箱形圖(Edgeworth Box)，以特定形式無異曲線說明在所有交換效率財貨配置點，A與B之邊際替代率皆不相等的情形。(10分)
- (二)以效用可能曲線(utility possibility curve)與社會無異曲線(social indifference curve)製圖並說明下列論述之對錯：(每小題5分，共15分)
 - 1. 一項政策如能帶來伯瑞圖改善(Pareto improvement)，則必然能夠增進社會福利。
 - 2. 一項政策如能增進社會福利，則必然能夠帶來伯瑞圖改善。
 - 3. 一項政策如能將經濟情形自效用可能曲線內，移至效用可能曲線上，則必然能夠帶來伯瑞圖改善。

二、請分別就加速模型(accelerator model)、新古典模型(neo-classical model)及現金流量模型(cash flow model)，說明公司所得稅的設計如何影響其實質投資？(25分)

乙、測驗題部分：(50分)

代號：5314

- (一)本測驗試題為單一選擇題，請選出一個正確或最適當的答案，複選作答者，該題不予計分。
- (二)共25題，每題2分，須用2B鉛筆在試卡上依題號清楚劃記，於本試題或申論試卷上作答者，不予計分。

- 1 經濟體系達到生產效率時，下列敘述何者正確？
- (A)可藉由生產要素的重新配置，增加所有財貨的產出
 - (B)無法藉由生產要素的重新配置，增加某一財貨的產出
 - (C)可藉由生產要素的重新配置，增加某一財貨的產出而毋須減少其他財貨的產出
 - (D)無法藉由生產要素的重新配置，增加某一財貨的產出而毋須減少其他財貨的產出
- 2 假設社會上僅有A與B二人，且其對某一公共財的個人需求曲線分別為A： $P = 100 - Q$ ；B： $P = 100 - 2Q$ ，同時此公共財的供給曲線為 $P = 100 + Q$ ，其中P為價格，Q為數量。請問最適的公共財提供數量應為多少單位？
- (A) 10 (B) 15 (C) 20 (D) 25

- 3 如果某一財貨在消費的過程中會造成正外部性（positive externality），若政府不加以介入干涉，下列敘述何者正確？①不會造成社會福利的損失 ②市場決定的消費數量會小於社會最適的消費數量 ③每消費一單位，社會的邊際利益會小於個人的邊際利益
- (A) 僅① (B) 僅② (C) ①② (D) ②③
- 4 某一具自然獨占的公營事業，在面對負斜率的需求曲線時，當其分別採邊際成本訂價法、平均成本訂價法，以及最大利潤訂價法時所決定出的產量分別為 Q_1 、 Q_2 、 Q_3 。下列敘述何者正確？
- (A) $Q_1 > Q_2 > Q_3$ (B) $Q_3 > Q_2 > Q_1$ (C) $Q_2 > Q_3 > Q_1$ (D) $Q_3 > Q_1 > Q_2$
- 5 皮寇克（A. T. Peacock）與魏斯曼（J. Wiseman）指出，因社會發生重大事件，迫使人們及政府尋求方法來解決既有的問題，而使公共支出增加，即為：
- (A) 行政裁量效果（administrative discretion effect） (B) 集中效果（concentration effect）
(C) 檢查效果（inspection effect） (D) 結構改變效果（structure break effect）
- 6 進行成本效益分析時，若成本與效益的估計本身包含有某部分的不確定性或隨機誤差，此時最簡單的標準作法便是進行：
- (A) 事件研究法 (B) 專家評估法 (C) 個案分析法 (D) 敏感度分析法
- 7 如果政府採用淨利益現值法評估公共支出計畫案，計畫甲、乙兩案均僅在第一期支出 100 萬元，兩案每期收益金額如下表所示。若兩計畫案的淨效益現值相同，則政府評估時所採用的折現率應為何？

期數	第一期	第二期
甲案利益	0 元	120 萬元
乙案利益	20 萬元	98.8 萬元

- (A) 3% (B) 4% (C) 5% (D) 6%
- 8 假設甲、乙兩工作的性質相同，差別僅在於危險性不一樣。甲工作死亡率較乙工作的死亡率高出 5%，兩工作的差異補償（compensating differential）為 300 萬元，下列敘述何者正確？
- (A) 甲工作的人數較少 (B) 乙工作的失業率較高
(C) 甲工作的薪資會比乙工作的薪資高出 5% (D) 以此估算生命的價值為 6,000 萬元
- 9 布坎南（J. Buchanan）及杜洛克（G. Tullock）建立的最適憲政模型中，認為議案要通過表決會產生社會成本及決策成本，下列敘述何者正確？
- (A) 決策方式應採簡單多數決
(B) 採用最適憲政模型決策一定可以達成柏瑞圖改善
(C) 每個議案的成本不同，因此每次投票時同意通過的門檻也會不相同
(D) 此項成本與林達爾模型中公共財提供的財務成本概念接近

- 10 假設投票者所得高低與公共財的需求呈現相同的分配，而以我國的所得分配型態，由所得中位數投票者所偏好的公共財水準：
- (A)將會等於所得平均值投票者所偏好的水準 (B)將會低於所得平均值投票者所偏好的水準
(C)將會高於所得平均值投票者所偏好的水準 (D)將會呈現左偏型態
- 11 假設政府以均一稅制 (flat rate tax) 實施負所得稅，稅前所得低於免稅額 \bar{Y} 者可以得到補貼 $S = t(\bar{Y} - Y)$ ，其中， t 補貼率。若某甲視休閒為正常財，其原先領取補助額為 $t\bar{Y}$ ，在政府將 t 、 \bar{Y} 分別提升為 $2t$ 、 $2\bar{Y}$ 後，其工作時間會產生何種變動？
- (A)增加 (B)不變 (C)下降 (D)無法判斷
- 12 假設政府實施負所得稅制，對所得低於免稅額者給予補貼。在休閒為正常財之下，關於負所得稅制對家計單位工作意願之影響，下列敘述何者正確？
- (A)稅前所得高於免稅額者工作會減少 (B)稅前所得高於免稅額者工作會增加
(C)稅前所得低於免稅額者工作會減少 (D)稅前所得低於免稅額者工作會增加
- 13 被保險人未來年金給付之唯一財源，來自個人工作期間，依據保險費率每期提存到專屬帳戶之金額。這種制度稱為：
- (A)彈性提存準備制 (B)部分提存準備制 (C)隨收隨付制 (D)完全提存準備制
- 14 下列支出何者屬於依法提列的義務性支出？
- (A)教育支出 (B)一般政務支出 (C)低收入戶生活補助 (D)社區發展支出
- 15 有關經濟租 (economic rent) 的來源，下列敘述何者錯誤？
- (A)經濟租可經由價格體系自然產生 (B)經濟租可經由人為的設計產生
(C)經濟租可經由政府的政策產生 (D)經濟租是經由生產者的努力產生，非由消費者創造
- 16 為取得一定稅收，其他條件不變時，對單一財貨課稅，效率損失高於對數個財貨同時課稅，原因在於：
- (A)無謂損失隨稅率增加之平方增加
(B)對數個財貨同時課稅時，不同替代效果相互抵消作用
(C)對數個財貨同時課稅時，不同彈性相互抵消作用
(D)無謂損失隨被課稅貨物數量變化之平方增加

- 17 在沒有其他扭曲、單一市場的部分均衡分析架構下，下列敘述何者錯誤？
- (A)受補償需求沒有彈性、供給有一定彈性時，課稅所造成之無謂損失為零
(B)供給沒有彈性、受補償需求有一定彈性時，課稅所造成之無謂損失為零
(C)財貨受補償需求為零時，課稅仍可能造成無謂損失
(D)受補償需求彈性無窮大、供給有一定彈性時，課稅所造成之無謂損失大於零
- 18 假定個人為風險趨避者且安全性資產的報酬為零，則依據資產選擇模型（portfolio choice model）的分析，當政府對資本所得課徵所得稅且允許資本損失完全扣除時，風險性資產（risky asset）的持有比率將如何變動？
- (A)增加 (B)減少
(C)不變 (D)視風險性資產需求的財富彈性大小而定
- 19 下列關於企業所得稅與個人所得稅間之兩稅合一的敘述，何者錯誤？
- (A)是基於法人擬制說，認為對法人課稅後再對股東的股利課稅形成重複課稅
(B)對企業舉債和募股之決策具中立性
(C)對企業保留與發放盈餘較具中立性
(D)有利於所得重分配與稅收增加
- 20 依據我國現行租稅制度，目前對於房地產交易及其資本利得之課稅規定，下列敘述何者正確？
- (A)對於持有期間在 2 年內的不動產買賣，須課徵特種貨物及勞務稅
(B)目前已廢除土地增值稅，改採房地合一課徵所得稅
(C)在民國 102 年 1 月 2 日以後取得之不動產，且持有期間在 2 年以內者，須適用房地合一課稅制度
(D)民國 100 年購入之土地於 105 年 6 月出售，所產生之資本利得，免徵綜合所得稅
- 21 在租稅理論上課徵定額稅（lump-sum tax）符合下列那一項租稅原則？
- (A)量能原則 (B)垂直公平原則 (C)水平公平原則 (D)效率原則
- 22 在地方政府所課徵的租稅中，下列何者較會產生「租稅輸出（tax exporting）」的效果？
- (A)契稅 (B)房屋稅 (C)地價稅 (D)特產稅
- 23 上下層級政府間財政能力不一致的現象，稱為：
- (A)集中效果 (B)財政水平不均 (C)財政垂直不均 (D)財政自主性不足
- 24 用來比較不同機關相同性質工作的成本，考核相關的行政管理效率之預算制度為：
- (A)績效預算制度 (B)零基預算制度 (C)複式預算制度 (D)單一預算制度
- 25 公債依發行的主體可以區分為：
- (A)消極公債與積極公債 (B)國內公債與國外公債 (C)短期公債與永久公債 (D)中央公債與地方公債

測驗式試題標準答案

考試名稱：107年公務人員高等考試三級考試暨普通考試

類科名稱：會計、財稅行政

科目名稱：財政學（試題代號：5314）

更多高普考考試科目的歷屆題庫
立即上網搜尋“高普考歷屆考古題懶人包”
高鋒公職補習班整理
Line@帳號：@gaofeng
連絡電話：07-236-7296

單選題數：25題

單選每題配分：2.00分

複選題數：

複選每題配分：

標準答案：

題號	第1題	第2題	第3題	第4題	第5題	第6題	第7題	第8題	第9題	第10題
答案	D	D	B	A	C	D	D	D	C	B

題號	第11題	第12題	第13題	第14題	第15題	第16題	第17題	第18題	第19題	第20題
答案	B	C	D	C	D	A	C	C	D	D

題號	第21題	第22題	第23題	第24題	第25題	第26題	第27題	第28題	第29題	第30題
答案	D	D	C	A	D					

題號	第31題	第32題	第33題	第34題	第35題	第36題	第37題	第38題	第39題	第40題
答案										

題號	第41題	第42題	第43題	第44題	第45題	第46題	第47題	第48題	第49題	第50題
答案										

題號	第51題	第52題	第53題	第54題	第55題	第56題	第57題	第58題	第59題	第60題
答案										

題號	第61題	第62題	第63題	第64題	第65題	第66題	第67題	第68題	第69題	第70題
答案										

題號	第71題	第72題	第73題	第74題	第75題	第76題	第77題	第78題	第79題	第80題
答案										

題號	第81題	第82題	第83題	第84題	第85題	第86題	第87題	第88題	第89題	第90題
答案										

題號	第91題	第92題	第93題	第94題	第95題	第96題	第97題	第98題	第99題	第100題
答案										

備註：

測驗題標準答案更正

考試名稱：107年公務人員高等考試三級考試暨普通考試

類科名稱：財稅行政、會計

科目名稱：財政學

更多高普考考試科目的歷屆題庫
立即上網搜尋“高普考歷屆考古題懶人包”
高鋒公職補習班整理
Line@帳號：@gaofeng
連絡電話：07-236-7296

單選題數：25題

單選每題配分：2.00分

複選題數：

複選每題配分：

標準答案：答案標註#者，表該題有更正答案，其更正內容詳見備註。

題號	第1題	第2題	第3題	第4題	第5題	第6題	第7題	第8題	第9題	第10題
答案	D	D	B	A	C	D	D	D	C	B

題號	第11題	第12題	第13題	第14題	第15題	第16題	第17題	第18題	第19題	第20題
答案	B	C	D	C	D	A	C	#	D	D

題號	第21題	第22題	第23題	第24題	第25題	第26題	第27題	第28題	第29題	第30題
答案	D	D	C	A	D					

題號	第31題	第32題	第33題	第34題	第35題	第36題	第37題	第38題	第39題	第40題
答案										

題號	第41題	第42題	第43題	第44題	第45題	第46題	第47題	第48題	第49題	第50題
答案										

題號	第51題	第52題	第53題	第54題	第55題	第56題	第57題	第58題	第59題	第60題
答案										

題號	第61題	第62題	第63題	第64題	第65題	第66題	第67題	第68題	第69題	第70題
答案										

題號	第71題	第72題	第73題	第74題	第75題	第76題	第77題	第78題	第79題	第80題
答案										

題號	第81題	第82題	第83題	第84題	第85題	第86題	第87題	第88題	第89題	第90題
答案										

題號	第91題	第92題	第93題	第94題	第95題	第96題	第97題	第98題	第99題	第100題
答案										

備註：第18題答A給分。

類 科：財稅行政
科 目：租稅各論
考試時間：2 小時

※注意：禁止使用電子計算器。

更多高普考考試科目的歷屆題庫
立即上網搜尋“高普考歷屆考古題懶人包”
高鋒公職補習班整理
Line@帳號：@gaofeng
連絡電話：07-236-7296

座號：_____

甲、申論題部分：(50 分)

- (一)不必抄題，作答時請將試題題號及答案依照順序寫在申論試卷上，於本試題上作答者，不予計分。
(二)請以藍、黑色鋼筆或原子筆在申論試卷上作答。
(三)本科目除專門名詞或數理公式外，應使用本國文字作答。

一、綜合所得稅的「有效稅率 (effective tax rate)」如何衡量？試說明我國自民國 107 年起調降綜合所得稅最高邊際稅率與調高薪資所得特別扣除額之政策，對最低、中間及最高邊際稅率所得稅課稅級距的純薪資所得者之有效稅率的影響。(25 分)

二、消費稅有「從量」與「從價」兩種課徵方式，請就租稅公平與租稅規避的觀點比較兩種課徵方式的優劣。又我國現行消費稅制中有那些稅目採從價課徵？有那些稅目採從量課徵？(25 分)

乙、測驗題部分：(50 分)

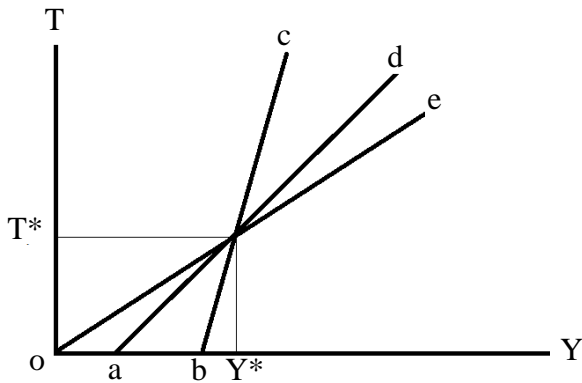
代號：4314

- (一)本測驗試題為單一選擇題，請選出一個正確或最適當的答案，複選作答者，該題不予計分。
(二)共 25 題，每題 2 分，須用 2B 鉛筆在試卡上依題號清楚劃記，於本試題或申論試卷上作答者，不予計分。

- 下列何者政府的行為或法規不會造成稅基侵蝕？
(A)不對在家工作的設算所得課稅
(B)為促進產業升級提供高科技產業 5 年免稅
(C)每戶每年 27 萬元的儲蓄投資特別扣除額
(D)對高營收的商家規勸或強制開發票
- 假定 X、Y 兩財貨為完全互補品 (perfect complements)，若只針對 X 課徵貨物稅，則：
(A)超額負擔 (excess burden) 和稅率的平方成正比
(B)超額負擔和 X 的受補償需求彈性成正比
(C)超額負擔和 Y 的受補償需求彈性成正比
(D)不會產生超額負擔
- 有關雷姆西法則 (Ramsey rule) 之敘述，下列何者正確？
(A)所有的財貨課徵相同的稅率
(B)所有財貨的價格變動比例應該相同
(C)所有財貨的需求彈性之倒數應該相同
(D)所有財貨的受補償需求數量變動比例應該相同
- 假設平均稅率固定不變，下列敘述何者正確？
(A)平均稅率大於邊際稅率
(B)平均稅率等於邊際稅率
(C)平均稅率小於邊際稅率
(D)二者關係不確定

- 5 在兩部門兩生產要素的 Harberger 一般均衡租稅歸宿模型中，若政府只對使用在其中一部門的勞動課稅，且勞動與資本可以替代，則下列敘述何者正確？
- (A) 資本供給者將負擔全部的租稅
 - (B) 若被課稅部門相對另一部門而言較勞動密集，則稅後資本報酬率對工資率的比必定下降
 - (C) 若被課稅部門相對另一部門而言較勞動密集，則稅後資本報酬率對工資率的比必定上升
 - (D) 若被課稅部門相對另一部門而言較資本密集，則稅後資本報酬率對工資率的比必定上升
- 6 假設林先生的邊際稅率為 30%，政府在資本利得實現年度的年底對資本利得課稅。他在今年的第 1 天買入與石油產業相關公司的股票，每年帶給他 10% 的報酬率，他最多持有 2 年。他考慮在持有石油股票 1 年後賣出，然後買入黃金基金，並且在買入 1 年後賣掉。若石油股票與黃金基金風險相同，且沒有任何交易成本，則黃金基金的報酬率至少為多少，才值得他將石油股票轉換為黃金基金？
- (A) 11%
 - (B) 10.48%
 - (C) 10.28%
 - (D) 10%
- 7 在個人極大化效用、兩期消費選擇之生命週期模型中，下列有關儲蓄之利息所得計稅的敘述，何者錯誤？
- (A) 若利息費用可於計算所得時扣除，一借款者之替代效果使其減少當期消費，而所得效果則使其增加當期消費
 - (B) 若利息費用可於計算所得時扣除，一儲蓄者之替代效果使其增加當期消費，而所得效果則使其減少當期消費
 - (C) 若利息費用於計算所得時不可扣除，一借款者之借款並不會發生改變
 - (D) 若利息費用於計算所得時不可扣除，一儲蓄者之儲蓄有可能不會發生改變
- 8 依現行所得稅法規定，下列何項扣除額度會隨著消費者物價指數調整？
- (A) 租金支出扣除額上限
 - (B) 人身保險保費扣除額上限
 - (C) 幼兒學前特別扣除額
 - (D) 薪資所得特別扣除額
- 9 有關所得稅的扣除額與扣抵稅額二者之比較，下列何者錯誤？
- (A) 前者從所得總額中減除
 - (B) 後者從應納稅額中減除
 - (C) 人身保險保費屬後者
 - (D) 前者對高所得者較有利
- 10 下列何者非屬現行稅法規定之薪資所得？
- (A) 薪金
 - (B) 為雇主之目的執行職務而支領的差旅費
 - (C) 雇主給付之獎金
 - (D) 員工分紅之紅利
- 11 委託人為營利事業之信託契約，信託成立時，明定信託利益之全部或一部之受益人為非委託人者，此筆信託利益之權利價值應如何課徵所得稅？
- (A) 依所得稅法規定免徵所得稅
 - (B) 併入受託人成立年度之所得額，依所得稅法規定課徵所得稅
 - (C) 併入受益人成立年度之所得額，依所得稅法規定課徵所得稅
 - (D) 併入委託人成立年度之所得額，依所得稅法規定課徵所得稅

- 12 假設下圖的橫軸 Y 與縱軸 T 分別代表所得與稅負，直線 *oe*、*ad*、*bc* 分別表示三種不同線型所得稅制。當所得為 Y^* 時，下列敘述何者正確？



- (A) 三種稅制的邊際稅率均相同
(B) *bc* 的平均稅率最高
(C) *oe* 的平均稅率高於邊際稅率
(D) *ad* 的邊際稅率高於 *bc* 的平均稅率
- 13 下列關於國內各消費稅制之敘述，何者錯誤？
(A) 關稅屬於多階段一般消費稅
(B) 貨物稅屬於單階段特種消費稅
(C) 營業稅屬於多階段一般銷售稅
(D) 奢侈稅屬於單階段特種消費稅
- 14 關於一般消費稅之課徵，下列敘述何者正確？
(A) 無論勞動供給是否可變動，消費稅均不會產生跨期消費的替代效果
(B) 以現值計算，無論死亡時是否遺有財產，有相同終身所得之個人支付相同的終身稅負
(C) 有相同終身所得的二個人，如果死亡時遺有不同財產，將支付不同的終身稅負
(D) 無論按比例稅率或累進稅率課徵，個人終身稅負與儲蓄偏好無關
- 15 下列對貨物稅之敘述，何者正確？
(A) 貨物稅為多階段的毛額稅
(B) 貨物稅為多階段的加值稅
(C) 貨物稅可採從量或從價課稅
(D) 貨物稅為一般的消費稅
- 16 關於碳稅 (carbon tax) 課徵之敘述，下列何者錯誤？
(A) 對二氧化碳排放課徵的租稅
(B) 與碳交易制度 (carbon trade) 同為實現綠色經濟的重要政策工具
(C) 多針對課稅標的之含碳量徵收
(D) 與能源稅同樣針對各項能源數量進行徵收
- 17 加值型及非加值型營業稅有關免稅及零稅率之規定，下列敘述何者正確？
(A) 個人肩挑沿街叫賣燒肉粽應課徵營業稅
(B) 外銷貨物之銷項稅額為零，但進項稅額不可扣抵
(C) 免稅的銷項稅額為零，且進項稅額可扣抵，故可獲得完全退稅
(D) 進口飼料應課徵營業稅

- 18 對進口貨物課徵關稅，下列敘述何者錯誤？
- (A)具有保護國內相關產業發展的效果 (B)鼓勵進口品消費
(C)進口品的國內價格上升 (D)國內生產量增加
- 19 下列有關不動產課稅稅率之敘述，何者錯誤？
- (A)房屋稅依房屋用途訂差別稅率 (B)地價稅按累進起點地價倍數超額累進課稅
(C)契稅依不動產取得方式訂差別稅率 (D)土地增值稅依土地漲價總額累進課稅
- 20 關於財產稅租稅歸宿分析之傳統觀點，下列敘述何者正確？
- (A)認為房屋稅完全由租屋者承擔 (B)認為土地稅具累退性質
(C)租稅歸宿與供需彈性有關 (D)採一般均衡分析
- 21 下列有關地價稅優惠稅率之敘述，何者錯誤？
- (A)合於規定之自用住宅用地，按 2‰計徵、有面積限制
(B)合於規定之工業用地及礦業用地，按 10‰計徵、無面積限制
(C)都市計畫公共設施保留地視情況，或免徵、或按 6‰計徵
(D)私立公園用地，按 10‰計徵、無面積限制
- 22 下列何者不會擴大法定稅率與有效稅率間之差異？
- (A)增加扣除額 (B)租稅轉嫁 (C)增加免稅額 (D)擴大稅基
- 23 下列有關海格·西蒙斯之所得稅準則 (Haig-Simons criterion) 的敘述，何者錯誤？
- (A)未考慮個人賺取所得能力之不同
(B)以所得定義納稅能力，則得以達成相同納稅能力繳納相同稅額之目的
(C)所得定義過於廣泛，現實稅制無法完全符合其要求
(D)稅率結構根據最適租稅理論決定
- 24 有關土地增值稅與地價稅之敘述，下列何者錯誤？
- (A)兩者皆為倍數超額累進之稅率結構
(B)因重新規定地價而增繳之地價稅，得抵繳全額之土地增值稅
(C)前者較後者易透過短期土地買賣操弄，規避高累進稅率之適用
(D)前者對已實現資本利得課稅，後者對財富之持有課稅
- 25 有關我國遺產及贈與稅現況之敘述，下列何者錯誤？
- (A)遺產與贈與稅採單一稅率
(B)取自營利事業贈與之財產非屬贈與稅課稅範圍
(C)遺產與贈與稅採總遺產及一定期間之總贈與計稅
(D)屬合併立法，即遺產及贈與稅法，但以分章方式各有獨立之稅目

測驗式試題標準答案

考試名稱：107年公務人員高等考試三級考試暨普通考試

類科名稱：財稅行政

科目名稱：租稅各論（試題代號：4314）

單選題數：25題

單選每題配分：2.00分

複選題數：

複選每題配分：

標準答案：

更多高普考考試科目的歷屆題庫
立即上網搜尋“高普考歷屆考古題懶人包”
高鋒公職補習班整理
Line@帳號：@gaofeng
連絡電話：07-236-7296

題號	第1題	第2題	第3題	第4題	第5題	第6題	第7題	第8題	第9題	第10題
答案	D	D	D	B	C	C	A	D	C	B

題號	第11題	第12題	第13題	第14題	第15題	第16題	第17題	第18題	第19題	第20題
答案	C	D	A	C	C	D	D	B	D	C

題號	第21題	第22題	第23題	第24題	第25題	第26題	第27題	第28題	第29題	第30題
答案	C	D	D	B	A					

題號	第31題	第32題	第33題	第34題	第35題	第36題	第37題	第38題	第39題	第40題
答案										

題號	第41題	第42題	第43題	第44題	第45題	第46題	第47題	第48題	第49題	第50題
答案										

題號	第51題	第52題	第53題	第54題	第55題	第56題	第57題	第58題	第59題	第60題
答案										

題號	第61題	第62題	第63題	第64題	第65題	第66題	第67題	第68題	第69題	第70題
答案										

題號	第71題	第72題	第73題	第74題	第75題	第76題	第77題	第78題	第79題	第80題
答案										

題號	第81題	第82題	第83題	第84題	第85題	第86題	第87題	第88題	第89題	第90題
答案										

題號	第91題	第92題	第93題	第94題	第95題	第96題	第97題	第98題	第99題	第100題
答案										

備註：

測驗題標準答案更正

考試名稱：107年公務人員高等考試三級考試暨普通考試

類科名稱：財稅行政

科目名稱：租稅各論

更多高普考考試科目的歷屆題庫
立即上網搜尋“高普考歷屆考古題懶人包”
高鋒公職補習班整理
Line@帳號：@gaofeng
連絡電話：07-236-7296

單選題數：25題

單選每題配分：2.00分

複選題數：

複選每題配分：

標準答案：答案標註#者，表該題有更正答案，其更正內容詳見備註。

題號	第1題	第2題	第3題	第4題	第5題	第6題	第7題	第8題	第9題	第10題
答案	D	#	D	B	C	C	A	D	C	B

題號	第11題	第12題	第13題	第14題	第15題	第16題	第17題	第18題	第19題	第20題
答案	C	D	A	C	C	D	D	B	D	C

題號	第21題	第22題	第23題	第24題	第25題	第26題	第27題	第28題	第29題	第30題
答案	C	D	D	B	A					

題號	第31題	第32題	第33題	第34題	第35題	第36題	第37題	第38題	第39題	第40題
答案										

題號	第41題	第42題	第43題	第44題	第45題	第46題	第47題	第48題	第49題	第50題
答案										

題號	第51題	第52題	第53題	第54題	第55題	第56題	第57題	第58題	第59題	第60題
答案										

題號	第61題	第62題	第63題	第64題	第65題	第66題	第67題	第68題	第69題	第70題
答案										

題號	第71題	第72題	第73題	第74題	第75題	第76題	第77題	第78題	第79題	第80題
答案										

題號	第81題	第82題	第83題	第84題	第85題	第86題	第87題	第88題	第89題	第90題
答案										

題號	第91題	第92題	第93題	第94題	第95題	第96題	第97題	第98題	第99題	第100題
答案										

備註：第2題一律給分。

類 科：財稅行政
科 目：稅務法規
考試時間：2 小時

※注意：可以使用電子計算器。

更多高普考考試科目的歷屆題庫
立即上網搜尋“高普考歷屆考古題懶人包”
高鋒公職補習班整理
Line@帳號：@gaofeng
連絡電話：07-236-7296

座號：_____

甲、申論題部分：(50 分)

- (一)不必抄題，作答時請將試題題號及答案依照順序寫在申論試卷上，於本試題上作答者，不予計分。
(二)請以藍、黑色鋼筆或原子筆在申論試卷上作答。
(三)本科目除專門名詞或數理公式外，應使用本國文字作答。

一、依現行所得稅法規定，公司組織之營利事業在 107 年度遇有解散、廢止、合併或轉讓情事時，應如何辦理決算、清算申報？獨資、合夥組織之營利事業是否亦需辦理決算、清算申報？(15 分)若某公司採曆年制，於 107 年 5 月 31 日經主管機關核准解散，該公司未依規定期限辦理決算申報，經通報該公司 107 年 1 月 1 日至 107 年 5 月 31 日之營業收入為 2,000,000 元，利息收入為 50,000 元，適用之同業利潤標準淨利率為 10%，則稽徵機關對其核定之應納稅額為多少？(請列出計算式，否則不予計分)(10 分)

二、請計算下列各交易事項之營業稅額，並請列出計算式，否則不予計分。
(每小題 5 分，共 25 分)

- (一)甲建設公司合併銷售土地及房屋一筆給大安商行，總價款 76,125,000 元，銷售合約並未載明房屋及其座落土地之個別售價，而銷售當時該房屋之評定標準價格為 4,500,000 元，土地公告現值為 10,500,000 元。
- (二)乙公司係一適用增值稅體系之營業人，該公司將房屋出租，每月租金 420,000 元，並收取押金 2,520,000 元，該年 1 月 1 日郵政定期儲金一年期固定利率為 2%。
- (三)丙電子工廠以電子零件一批，與丁電器公司交換冷氣 20 台，其帳面價格分別為 640,000 元及 600,000 元，惟依時價計算，電子零件為 714,000 元，冷氣機為 735,000 元。
- (四)戊娛樂公司之票價每張為 230 元，娛樂稅稅率 10%，營業稅徵收率 5%，該期戊娛樂公司共出售票券 8,000 張。
- (五)千里馬汽車公司自國外進口汽車一部，海關完稅價格為 3,000,000 元，進口稅捐 900,000 元、貨物稅稅率 30%、特種貨物及勞務稅稅率 10%。

乙、測驗題部分：(50 分)

代號：8314

- (一)本測驗試題為單一選擇題，請選出一個正確或最適當的答案，複選作答者，該題不予計分。
(二)共 25 題，每題 2 分，須用 2B 鉛筆在試卡上依題號清楚劃記，於本試題或申論試卷上作答者，不予計分。

1 依現行所得稅法規定，有關獨資、合夥組織之營利事業所得，下列敘述何者正確？

- (A)以往年度營業之虧損，得自本年度純益額中扣除
(B)小規模之獨資、合夥需辦營利事業所得稅結算申報
(C)繳納半數營利事業所得稅額，稅後盈餘再歸課獨資資本主或合夥人申報綜合所得稅
(D)免納營利事業所得稅，其營利事業所得額直接申報綜合所得稅

- 2 下列營利事業所得額之計算，何者錯誤？
- (A)總機構在中華民國境內經營海運業務之營利事業，符合一定要件，經中央目的事業主管機關核定者，其海運業務收入得按船舶淨噸位計算營利事業所得額
- (B)總機構在中華民國境外之營利事業，在中華民國境內經營國際運輸，其成本費用分攤計算困難者，得向財政部申請核准，按其在中華民國境內之營業收入之百分之十五，為營利事業所得額
- (C)國外影片事業在中華民國境內無分支機構，經由營業代理人出租影片之收入，應以其二分之一為在中華民國境內之營利事業所得額
- (D)國外影片事業在中華民國境內設有分支機構者，出租影片之成本，得按片租收入百分之四十五計列
- 3 明星公司為總機構在中華民國境內公司，於 106 年 4 月 1 日取得房地一筆，成本為 2,500 萬元，出售日為 107 年 5 月 3 日，售價為 2,000 萬元，土地漲價總數額為 100 萬元，若其不含出售房地損益之 107 年度營利事業所得額為 800 萬元，其 107 年應繳營利事業所得稅若干？
- (A) 40 萬元 (B) 51 萬元 (C) 60 萬元 (D) 160 萬元
- 4 下列所得分類，何者正確？①營利事業以公司債從事附條件交易，到期賣回金額超過原買入金額部分為證券交易所得 ②有獎儲蓄中獎獎金超過儲蓄額部分為利息所得 ③個人直銷商銷售商品之收入為營利所得 ④與銀行從事結構型商品交易之所得為財產交易所得
- (A)①② (B)②③ (C)①③ (D)②④
- 5 依現行所得稅法規定，申報綜合所得稅時，下列何項扣除額僅限納稅義務人本人、配偶以及受扶養直系親屬才可適用？①儲蓄投資特別扣除額 ②房屋租金支出 ③身心障礙特別扣除額 ④保險費
- (A)①② (B)②③ (C)①③ (D)②④
- 6 有關薪資所得與執行業務所得之課稅，下列敘述何者錯誤？
- (A)薪資所得特別扣除額，依據司法院釋字第 745 號解釋，性質上屬於薪資收入之統一固定概算費用性質
- (B)如果自營作業者自負盈虧而提供勞務獲得收入，亦屬於薪資所得
- (C)外勤保險業務員與保險公司訂立委任契約，自負提供勞務之必要費用，提供招攬保險業務之勞務，獲得佣金報酬，屬於執行業務所得性質
- (D)律師受僱獲得之報酬，屬於薪資所得
- 7 有關課稅所得之歸屬，下列敘述何者錯誤？
- (A)以實質上從事經濟活動者為所得歸屬主體
- (B)律師提供勞務獲得之報酬請求權，事先轉讓與其女友，該執行業務所得仍應歸屬於該律師
- (C)依據實質課稅原則，隱名合夥之營業所得，如果事先報備或有確實證據證明，可以核實認定，按其合夥持分比例分配盈餘之所得課徵綜合所得稅
- (D)父親為分散所得而將存款借用其子女名義存款，該存款利息所得應歸屬於其存款名義人課稅
- 8 有關中華民國來源所得之認定，依據所得稅法規定，下列何者不屬於我國境內來源所得？
- (A)境內營利事業支付委託境外公司於我國境內提供服務之報酬
- (B)國內企業僱傭之國內居住者勞工，被派往國外短期出差，不超過 90 天，其薪資報酬
- (C)美國律師執行業務提供勞務，獲得巨額報酬，如果其服務跨越我國及美國，其按比例劃分計算在我國服務期間之所得報酬
- (D)執行業務者演藝人員於境外提供勞務獲得國外公司支付演藝活動之酬勞
- 9 有關成本費用與收益配合原則，下列敘述何者錯誤？
- (A)成本費用與收益配合原則之精神，在於精確反應該課稅年度之所得情況
- (B)營業成本應與銷貨收入對應
- (C)免稅所得，其對應之成本費用，應准在計算課稅所得時，作為費用扣除
- (D)具有損耗性之固定資產在使用時間內提列折舊，以便與收入對應

- 10 日月公司為兼營營業人，106 年 9、10 月進口貨物 200 萬元，在國內出售應稅貨物銷售額 400 萬元，出售免稅貨物銷售額 700 萬元（含土地銷售額 400 萬元），外銷貨物銷售額 100 萬元。日月公司 9 - 10 月不得扣抵比例為何？
- (A) 30% (B) 37% (C) 38% (D) 58%
- 11 有關營業稅進項稅額之規定何者正確？①對公益慈善組織捐贈之進項稅額可扣抵 ②營業人銷售其向非加值型營業人購買之舊乘人小汽車計算之進項稅額超過銷項稅額部分不得扣抵 ③進項稅額憑證，未於當期申報者，得延至次期申報扣抵 ④進項稅額憑證之申報扣抵期間，以五年為限
- (A) ①② (B) ②③ (C) ③④ (D) ①④
- 12 下列何者不屬於加值型營業稅之納稅義務人？
- (A) 銷售貨物或勞務之營業人
(B) 公益團體有銷售貨物或勞務之行為者
(C) 外國營利事業在我國境內設置有固定營業場所，而從事銷售貨物或勞務者
(D) 境內自然人從境外營利事業（在我國境內無固定營業場所）購買進口電子勞務之買受人
- 13 營業稅法上有關外銷貨物之課稅，下列敘述何者錯誤？
- (A) 營業稅為境內消費稅，外銷貨物因不在境內消費，故外銷時，給予適用免稅規定
(B) 外銷貨物適用零稅率
(C) 外銷貨物之進項稅額得請求退還
(D) 外銷貨物應給予零稅負負擔，以提升外銷商品之國際競爭力
- 14 曾父出資 820 萬元，以未成年子女曾參名義購置公告現值 250 萬元之土地一筆，並支付該筆土地之土地增值稅 20 萬元，假設曾父當年度無其他贈與，則曾父應申報之贈與淨額為若干？
- (A) 600 萬元 (B) 220 萬元 (C) 50 萬元 (D) 30 萬元
- 15 有關贈與稅之課稅，下列敘述何者錯誤？
- (A) 寄託土地之返還，屬於無償贈與，應課徵贈與稅
(B) 不動產更名登記，並非所有權之移轉，不成立贈與
(C) 親屬間不動產買賣，半買半送，構成顯著不相當代價之讓與，其價值超過買賣價金部分，視同贈與
(D) 在贈與不動產契約訂立後，在移轉所有權之前，贈與人反悔解約，撤銷贈與，應不課徵贈與稅
- 16 林大軍在臺中市有土地二筆，臺北市土地一筆，皆屬一般用地，試問課徵地價稅時應如何計算地價總額？
- (A) 將三筆土地合併計算地價總額累計課稅，再依各縣市地價比例分別發單徵收
(B) 將三筆土地合併計算地價總額累計課稅，並合併到戶籍所在地課徵地價稅
(C) 依各筆土地之地價分別計算，累進課稅
(D) 臺中市二筆土地合併計算地價總額累計課稅，臺北市一筆單獨計算，再分別由各縣市稽徵機關發單徵收
- 17 有關自用住宅適用租稅優惠之規定，下列何者正確？
- (A) 本人、配偶或受扶養親屬購買自用住宅，向金融機構借款所支付之利息，可適用綜合所得稅之列舉扣除
(B) 出售自用住宅之房地合一稅享有免稅額 400 萬元，但交易前五年內需無出租或供營業用
(C) 土地所有權人與其配偶及受扶養親屬適用自用住宅地價稅者以一處為限
(D) 土地所有權人於出售土地後，自完成移轉登記之日起，二年內重購符合面積限制之自用住宅用地，得向主管稽徵機關申請退還其已納之土地增值稅額

- 18 有關農業用地之課稅，下列敘述何者錯誤？
- (A)都市土地農業區之土地，作農業使用，不課徵地價稅
 - (B)農業用地上之農舍作為住宅使用，免徵房屋稅
 - (C)農業用地移轉與自然人繼續作農業使用，得申請不課徵土地增值稅
 - (D)農業用地之所有人死亡，由繼承人繼續作農業使用時，應自遺產總額中扣除，免課徵遺產稅
- 19 下列私有房屋何者免徵房屋稅？
- (A)無償供政府機關公用或供軍用之房屋
 - (B)房屋現值在新臺幣 10 萬元以下之房屋
 - (C)受重大災害，毀損面積占整棟面積三成以上不及五成之房屋
 - (D)合法登記之工廠供直接生產使用之自有房屋
- 20 有關娛樂稅之課稅，下列敘述何者錯誤？
- (A)娛樂稅為直接消費稅
 - (B)由提供娛樂場所負擔納稅義務
 - (C)財團法人提供娛樂設施供消費者消費使用，為維持競爭中立性，就消費者有償的娛樂行為，原則上亦應課徵娛樂稅
 - (D)提供娛樂之人為代徵義務人
- 21 已納貨物稅之貨物，下列那一情形不退還原納貨物稅？
- (A)運銷國外
 - (B)用作製造外銷物品之原料
 - (C)因故變損，不能出售但原完稅照已遺失
 - (D)在出廠運送或存儲中，遇火焚毀或落水沉沒及其他人力不可抵抗之災害，以致物體消滅者
- 22 下列有關納稅義務之敘述，何者錯誤？
- (A)共同共有財產，共有人各按其應有部分負納稅義務
 - (B)法人解散清算時，清算人未繳清稅捐前即分配賸餘財產，則清算人應就未清繳之稅捐負繳納義務
 - (C)納稅義務人死亡，遺有財產者，其依法應繳納之稅捐，應由遺囑執行人、繼承人、受遺贈人或遺產管理人，依法繳清稅捐後，始得分割遺產或交付遺贈
 - (D)營利事業因合併而消滅時，其在合併前之應納稅捐，應由合併後存續或另立之營利事業負繳納之義務
- 23 稅捐稽徵人員對於納稅義務人之財產、所得、營業、納稅等資料，應絕對保守秘密，下列何者屬於保密範圍？
- (A)納稅義務人之受遺贈人
 - (B)納稅義務人之辯護人
 - (C)監察機關
 - (D)已取得民事確定判決或其他執行名義之債權人
- 24 有關依據租稅協定所為課稅資訊之交換，下列敘述何者錯誤？
- (A)租稅協定之締約他方未先盡其調查程序之所能提出個案資訊交換請求，不得與其進行資訊交換
 - (B)請求提供之資訊為反洗錢之用途，得與其進行資訊交換
 - (C)租稅協定之締約他方對取得之資訊予以保密，顯有困難者，不得與其進行資訊交換
 - (D)財政部或其授權之機關執行租稅協定所需資訊，其屬於應另行蒐集之資訊時，得向有關機關、團體、事業或個人進行必要之調查或要求其提供相關資訊
- 25 下列那些稽徵機關的行政處分，相對人如有不服，依法無庸先踐行申請復查程序？
- (A)核定稅捐之處分
 - (B)核定稅捐違章罰鍰之處分
 - (C)駁回申請退稅之處分
 - (D)核定滯納金之處分

測驗式試題標準答案

考試名稱：107年公務人員高等考試三級考試暨普通考試

類科名稱：財稅行政

科目名稱：稅務法規（試題代號：8314）

更多高普考考試科目的歷屆題庫
立即上網搜尋“高普考歷屆考古題懶人包”
高鋒公職補習班整理
Line@帳號：@gaofeng
連絡電話：07-236-7296

單選題數：25題

單選每題配分：2.00分

複選題數：

複選每題配分：

標準答案：

題號	第1題	第2題	第3題	第4題	第5題	第6題	第7題	第8題	第9題	第10題
答案	D	B	C	B	D	B	D	D	C	B

題號	第11題	第12題	第13題	第14題	第15題	第16題	第17題	第18題	第19題	第20題
答案	B	D	A	D	A	D	A	B	A	B

題號	第21題	第22題	第23題	第24題	第25題	第26題	第27題	第28題	第29題	第30題
答案	C	A	A	B	C					

題號	第31題	第32題	第33題	第34題	第35題	第36題	第37題	第38題	第39題	第40題
答案										

題號	第41題	第42題	第43題	第44題	第45題	第46題	第47題	第48題	第49題	第50題
答案										

題號	第51題	第52題	第53題	第54題	第55題	第56題	第57題	第58題	第59題	第60題
答案										

題號	第61題	第62題	第63題	第64題	第65題	第66題	第67題	第68題	第69題	第70題
答案										

題號	第71題	第72題	第73題	第74題	第75題	第76題	第77題	第78題	第79題	第80題
答案										

題號	第81題	第82題	第83題	第84題	第85題	第86題	第87題	第88題	第89題	第90題
答案										

題號	第91題	第92題	第93題	第94題	第95題	第96題	第97題	第98題	第99題	第100題
答案										

備註：

測驗題標準答案更正

考試名稱：107年公務人員高等考試三級考試暨普通考試

類科名稱：財稅行政

科目名稱：稅務法規

更多高普考考試科目的歷屆題庫
立即上網搜尋“高普考歷屆考古題懶人包”
高鋒公職補習班整理
Line@帳號：@gaofeng
連絡電話：07-236-7296

單選題數：25題

單選每題配分：2.00分

複選題數：

複選每題配分：

標準答案：答案標註#者，表該題有更正答案，其更正內容詳見備註。

題號	第1題	第2題	第3題	第4題	第5題	第6題	第7題	第8題	第9題	第10題
答案	D	B	C	B	D	B	D	D	C	B

題號	第11題	第12題	第13題	第14題	第15題	第16題	第17題	第18題	第19題	第20題
答案	B	D	A	D	A	D	A	B	A	#

題號	第21題	第22題	第23題	第24題	第25題	第26題	第27題	第28題	第29題	第30題
答案	C	A	A	B	C					

題號	第31題	第32題	第33題	第34題	第35題	第36題	第37題	第38題	第39題	第40題
答案										

題號	第41題	第42題	第43題	第44題	第45題	第46題	第47題	第48題	第49題	第50題
答案										

題號	第51題	第52題	第53題	第54題	第55題	第56題	第57題	第58題	第59題	第60題
答案										

題號	第61題	第62題	第63題	第64題	第65題	第66題	第67題	第68題	第69題	第70題
答案										

題號	第71題	第72題	第73題	第74題	第75題	第76題	第77題	第78題	第79題	第80題
答案										

題號	第81題	第82題	第83題	第84題	第85題	第86題	第87題	第88題	第89題	第90題
答案										

題號	第91題	第92題	第93題	第94題	第95題	第96題	第97題	第98題	第99題	第100題
答案										

備註：第20題答A或B或AB者均給分。

代號：31470
31570
頁次：4-1

107年公務人員高等考試三級考試試題

類 科：財稅行政、金融保險

科 目：會計學

考試時間：2 小時

※注意：可以使用電子計算器，須詳列解答過程。

更多高普考考試科目的歷屆題庫
立即上網搜尋“高普考歷屆考古題懶人包”
高鋒公職補習班整理
Line@帳號：@gaofeng
連絡電話：07-236-7296

座號：_____

甲、申論題部分：(50分)

(一)不必抄題，作答時請將試題題號及答案依照順序寫在申論試卷上，於本試題上作答者，不予計分。

(二)請以藍、黑色鋼筆或原子筆在申論試卷上作答。

(三)本科目除專門名詞或數理公式外，應使用本國文字作答。

一、甲公司是乙公司之會員，會員進貨全年超過一定數量以上，乙公司年底時就會一次回饋特定之現金折扣，進貨20,000件以上(含)給予2%折扣，30,000件以上(含)給予3%折扣，50,000件以上(含)給予5%折扣。甲公司本年第一季向乙公司進貨5,000件，第二季20,000件，第三季10,000件，第四季25,000件，每件單價\$2。甲公司雖然營業有季節性，但是各年銷貨相當穩定。假設甲公司存貨採用永續盤存制。試作：請分別編製甲公司各季之進貨分錄及年底會員回饋之分錄。(10分)

二、丙公司於20X7年1月1日發行面額\$2,000,000三年到期之可轉換公司債，票面利率5%，每年年底付息一次，假設該公司債發行時，市場上之公允價格為104。該公司債到期時投資人可以面額每\$1,000轉換40股丙公司面額\$10之普通股。經評估發行時若不含該轉換權，公司債公允價格為87.56，若轉換權之公允價值為\$360,000，公司債之原始有效利率為10%。

假設第一年年底時公司為改善財務比率，向持有人提出如投資人年底立即轉換者，則可以面額每\$1,000轉換50股丙公司股票，當日公司之股價為每股\$28，結果當天就全部轉換完畢。

試作：

(一)發行日認股權之公允價值為多少？(5分)

(二)第一年年底修改轉換權的成本(費用)為多少？(5分)

(三)請編製轉換日當天公司債轉換及溢折價攤銷之相關分錄。(10分)

三、丁公司本年度成本及零售價資料如下：

	成本	零售價
期初存貨	\$50,000	\$62,000
本期進貨	450,000	580,000
進貨折扣	40,000	
進貨退出	30,000	36,000
進貨運費	10,000	
加價		100,000
加價取消		40,000
減價		80,000
減價取消		30,000
銷貨		420,000
銷貨折扣		35,000
非常損耗	6,000	10,000

試作：

分別以下列二種方法估計丁公司之成本率與期末存貨成本(成本率以百分比格式表示，並四捨五入至小數點第二位，例如50.67%)：(每小題10分，共20分)

(一)先進先出零售價法。

(二)平均成本與淨變現價值孰低法。

乙、測驗題部分：(50分)

代號：7314

(一)本測驗試題為單一選擇題，請選出一個正確或最適當的答案，複選作答者，該題不予計分。

(二)共25題，每題2分，須用2B鉛筆在試卡上依題號清楚劃記，於本試題或申論試卷上作答者，不予計分。

1 下列敘述何者錯誤？

- (A)財務會計提供有用資訊以協助企業外部人士決策之用
- (B)現金流量表內之營業活動淨現金流量若為正數，代表自營業活動有增加現金餘額的效果
- (C)企業使用現金購置廠房設備，為投資活動之現金流出
- (D)綜合損益表呈現企業在某特定時點的經營成果

2 下表為甲公司對其應收帳款所進行之帳齡分析：

應收帳款分類	應收帳款金額	估計呆帳比率
未逾期	\$2,000,000	1%
逾期 30 天內	950,000	3%
逾期 31 天至 60 天	460,000	7%
逾期 61 天至 120 天	83,000	20%
逾期 121 天以上	22,000	35%
合計	\$3,515,000	

期末調整前備抵呆帳有借方餘額\$4,300，本期應認列之呆帳費用金額為何？

- (A)\$100,700
 - (B)\$102,700
 - (C)\$105,000
 - (D)\$109,300
- 3 甲公司 6 月底的存貨為\$356,000，7 月份的銷貨淨額為\$1,560,000，7 月 31 日因颱風造成倉庫淹水，清理後經盤點，完好的殘存存貨為\$8,000，若採用毛利率法作為存貨之估計，則本次颱風造成的存貨損失為\$273,000，近期公司毛利率維持在 25%的水準，與前期無顯著差異，請問甲公司 7 月份的進貨金額為何？
- (A)\$941,000
 - (B)\$1,095,000
 - (C)\$1,389,000
 - (D)\$1,652,000
- 4 甲公司 20X6 年的帳務紀錄發生錯誤，造成該年度之期末存貨漏計\$100,000，請問此錯誤對於 20X6 年及 20X7 年的銷貨成本與淨利之影響（不考慮所得稅），下列敘述何者正確？
- (A)導致 20X6 年銷貨成本高估\$100,000、淨利低估\$100,000
 - (B)導致 20X6 年銷貨成本低估\$100,000、淨利高估\$100,000
 - (C)導致 20X7 年銷貨成本高估\$100,000、淨利高估\$100,000
 - (D)導致 20X7 年銷貨成本低估\$100,000、淨利低估\$100,000
- 5 下列敘述何者錯誤？
- (A)丙公司購入一棟舊建築物，並規劃於原址建新的辦公大樓，因此該舊建築物的成本連同拆除費應計入土地成本
 - (B)丙公司將舊的大樓拆除並改建新大樓，此舊大樓的帳面金額加拆除成本及扣去出售拆下廢料後的金額，應作為舊大樓的處分損失
 - (C)具商業實質之非貨幣性資產交換，若換出及換入資產之公允價值均能可靠衡量時，可認列非貨幣性資產之交換利益
 - (D)企業對不動產、廠房及設備進行減損測試時，其現金產生單位不應小於營業部門財務資訊揭露所劃分之部門
- 6 甲公司於 20X5 年初以\$575,000 購入乙公司 100%股權，乙公司隨即消滅並成為甲公司的一個現金產生單位，因企業合併而產生之商譽其中的\$65,000，歸屬於該現金產生單位。20X5 年底該現金產生單位之淨資產帳面金額為\$565,000，可回收金額為\$540,000。20X5 年底商譽減損金額為多少？
- (A)\$35,000
 - (B)\$40,000
 - (C)\$25,000
 - (D)\$65,000
- 7 甲公司 20X3 年 1 月 1 日發行面額\$2,000,000，票面利率 8%之七年期公司債，每年 12 月 31 日付息一次，發行價格為\$1,805,263，有效利率 10%，採有效利率法攤銷公司債折溢價。20X4 年 12 月 31 日該公司以 103 之價格加計應計利息買回全數公司債，試問買回公司債所支付之現金總額及公司債之損益各為何（請選四捨五入最接近的答案）？
- (A)支付現金總額\$2,220,000、利得\$26,202
 - (B)支付現金總額\$2,060,000、損失\$174,376
 - (C)支付現金總額\$2,220,000、損失\$211,632
 - (D)支付現金總額\$2,060,000、損失\$216,481

- 8 甲公司三年前以每股\$14的價格，發行面額\$10之普通股共十萬股，兩年前以\$16的價格買回五千股，去年以每股\$17將其中的兩千股再發行，今年又以每股\$12將其中的一千股再發行，同時註銷剩餘的兩千股，請問該公司以上與庫藏股票相關之交易，共應借記或貸記保留盈餘之金額為何（假設公司無其他庫藏股交易）？
 (A)借記保留盈餘\$2,000 (B)貸記保留盈餘\$2,000 (C)借記保留盈餘\$6,000 (D)貸記保留盈餘\$6,000
- 9 在計算普通股每股盈餘之加權平均流通在外股數時，下列事項何者不須將流通在外股數做追溯調整？
 (A)股票分割 (B)現金股利 (C)現金增資 (D)股票股利
- 10 以有效利率法攤銷公司債之折溢價時，下列敘述何者錯誤？
 (A)折溢價之攤銷使應付公司債帳面金額，隨到期日之接近越接近面額
 (B)溢價之攤銷使應付公司債帳面金額逐期減少
 (C)折價發行之公司債，利息費用逐期減少
 (D)各期利息費用為期初應付公司債帳面金額乘以有效利率
- 11 下列敘述何者正確？
 (A)將於一年內到期的五年期的銀行借款仍歸屬於長期負債
 (B)企業宣告發放股票股利時，待分配股票股利非公司的負債
 (C)資產負債表報導企業在某特定日之資源配置情形與企業之資本結構，能適切反映當時的市場價值
 (D)附註屬財務報表整體之一部分，用以揭露財務報表主體無法表達或說明之事項，並改正報表主體之錯誤
- 12 甲公司 20X6 年底與 20X7 年底的存貨分別為\$450 與\$750，20X6 年底與 20X7 年底的應收帳款分別為\$360 與\$680，而 20X7 年度的銷貨成本為\$3,000，銷貨收入為\$3,120，假設一年以 360 天計，請問該公司的營業循環天數為何？
 (A) 12 天 (B) 60 天 (C) 72 天 (D) 132 天
- 13 依甲公司20X7年底資產負債表之紀錄，其流動資產項目計有現金\$220,000、應收帳款\$60,000、存貨\$50,000、預付費用\$30,000，若該公司之流動比率為1.6，請問其速動比率約為何？
 (A) 0.98 (B) 1.24 (C) 1.47 (D) 2.05
- 14 請依據下列提供之資料，計算甲公司 20X2 年營業活動現金流量中「收自客戶之現金」數？

	20X2-12-31	20X1-12-31
應收帳款	\$620,000	\$690,000
減：備抵呆帳	(25,000)	(10,000)

甲公司 20X2 年之營業收入\$8,000,000，本期提列呆帳費用\$30,000，應收帳款因無法收回而轉銷\$15,000，另因需營運資金 20X2 年將一筆\$200,000 應收帳款，以無追索權方式出售給銀行。

- (A)\$8,055,000 (B)\$7,855,000 (C)\$7,885,000 (D)\$8,085,000

- 15 丁公司 20X2 年確定福利計畫之相關資訊如下：

	20X2-12-31	20X1-12-31	20X2 年度其他相關資訊
確定福利義務現值	\$550,000	\$390,000	(1)退休金費用 \$160,000
計畫資產公允價值	400,000	310,000	(2)今年發生確定福利計畫再衡量其他綜合損失\$30,000
淨確定福利負債	150,000	80,000	

請問丁公司 20X2 年於直接法下之現金流量表，其提撥至計畫資產之現金金額為何？

- (A)\$120,000 (B)\$160,000 (C)\$190,000 (D)\$130,000

- 16 假設承租人甲有權在租期屆滿時以優惠承購價格取得其租賃資產之所有權，請問下列①~④項，那一項對於是否應計入最低租賃給付額的項目組合正確？

	租賃期間租金	未保證殘值	優惠購買價格	或有租金
①	是	否	是	是
②	是	否	是	否
③	是	是	否	是
④	是	是	是	否

- (A)① (B)② (C)③ (D)④

- 17 甲公司 20X6 年度流動比率為 3.5，速動比率為 1.5，存貨為\$90,000，預付費用為\$40,000，請問其營業資金為：
(A)\$65,000 (B)\$97,500 (C)\$162,500 (D)\$227,500
- 18 下列關於資產減損的觀念，何者錯誤？
(A)資產減損的精神是在提醒企業須定期評估資產是否有發生減損的跡象
(B)可回收金額係指資產之淨公允價值及其使用價值，二者較高者
(C)商譽資產，不論是否有減損跡象，原則上皆必須每年進行減損測試
(D)商譽減損損失認列後，若於未來可回收金額增加時，得回轉已認列的損失
- 19 甲公司 20X6 年 1 月 1 日購買機械設備一套\$600,000，預計使用年限 5 年，殘值\$40,000，並以直線法提列折舊，甲公司之會計年度採用曆年制。20X7 年 1 月 1 日進行定期維修費用\$8,000，20X7 年 7 月 1 日進行重大維修，購置新配件\$70,000，本次維修預計可增加設備每年 50%的生產力，但原機械設備之使用年限與殘值不變，試問甲公司 20X7 年度折舊費用應為多少？
(A)\$112,000 (B)\$122,000 (C)\$124,000 (D)\$130,000
- 20 乙公司 20X6 年帳上有 5%特別股 20,000 股，每股面額\$100。另有普通股 1 月 1 日流通在外 400,000 股，4 月 1 日現金增資發行新股 100,000 股，7 月 1 日收回庫藏股 20,000 股，10 月 1 日再售出全部庫藏股，請問若乙公司 20X6 年淨利為\$1,040,000，其每股盈餘為：
(A)\$1.88 (B)\$2.0 (C)\$2.25 (D)\$2.5
- 21 丙公司 20X6 年相關資料如下：
- | | |
|-------------------|-------------|
| 銷貨收入 | \$1,450,000 |
| 期末應收帳款餘額增加(減少)數 | (40,000) |
| 期末應付帳款餘額增加(減少)數 | 5,000 |
| 期末預付費用餘額增加(減少)數 | (5,000) |
| 期末存貨餘額增加(減少)數 | 25,000 |
| 銷貨成本 | 800,000 |
| 壞帳費用 | 15,000 |
| 折舊費用 | 10,000 |
| 處分資產利益 | 8,500 |
| 其他營業費用(不含壞帳及折舊費用) | 350,000 |
- 則 20X6 年營業活動淨現金流量為：
(A)\$320,000 (B)\$325,000 (C)\$341,500 (D)\$350,000
- 22 甲公司將一張面額\$60,000，利率 2%，90 天期票據在到期日前 60 日予以貼現，其貼現息為 4%，則其貼現得款為(一年以 360 天計)：
(A)\$59,898 (B)\$59,998 (C)\$60,898 (D)\$60,998
- 23 乙公司 20X6 年以成本\$2,000,000，帳面金額\$400,000，公允價值\$600,000 的機器，換入公允價值\$520,000 的機器，並收到現金\$80,000。假設此交換交易並未具有商業實質，則換入資產的成本為：
(A)\$320,000 (B)\$400,000 (C)\$520,000 (D)\$600,000
- 24 下列各項有關無形資產會計處理之敘述，何者錯誤？
(A)內部產生無形資產者，於研究階段所作支出，應認列為費用
(B)企業內部產生的品牌、客戶名單不得認列為無形資產
(C)非確定耐用年限之無形資產，應每年作減損測試
(D)有限耐用年限之無形資產應於耐用年限攤銷；惟已作攤銷故不必再進行減損測試
- 25 丙公司在 20X6 年 1 月 1 日，以\$600,000 購買乙公司 25%之普通股，並對乙公司的營運具有重大影響力。乙公司 20X6 年之淨利為\$160,000，並支付\$80,000 之現金股利，試問丙公司投資科目在 20X6 年 12 月 31 日之餘額為何？
(A)\$580,000 (B)\$600,000 (C)\$620,000 (D)\$640,000

測驗式試題標準答案

考試名稱：107年公務人員高等考試三級考試暨普通考試

類科名稱：金融保險、財稅行政

科目名稱：會計學（試題代號：7314）

單選題數：25題

單選每題配分：2.00分

複選題數：

複選每題配分：

標準答案：

更多高普考考試科目的歷屆題庫
立即上網搜尋“高普考歷屆考古題懶人包”
高鋒公職補習班整理
Line@帳號：@gaofeng
連絡電話：07-236-7296

題號	第1題	第2題	第3題	第4題	第5題	第6題	第7題	第8題	第9題	第10題
答案	D	D	B	A	D	C	C	C	B	C

題號	第11題	第12題	第13題	第14題	第15題	第16題	第17題	第18題	第19題	第20題
答案	B	D	B	B	A	B	C	D	B	B

題號	第21題	第22題	第23題	第24題	第25題	第26題	第27題	第28題	第29題	第30題
答案	B	A	A	D	C					

題號	第31題	第32題	第33題	第34題	第35題	第36題	第37題	第38題	第39題	第40題
答案										

題號	第41題	第42題	第43題	第44題	第45題	第46題	第47題	第48題	第49題	第50題
答案										

題號	第51題	第52題	第53題	第54題	第55題	第56題	第57題	第58題	第59題	第60題
答案										

題號	第61題	第62題	第63題	第64題	第65題	第66題	第67題	第68題	第69題	第70題
答案										

題號	第71題	第72題	第73題	第74題	第75題	第76題	第77題	第78題	第79題	第80題
答案										

題號	第81題	第82題	第83題	第84題	第85題	第86題	第87題	第88題	第89題	第90題
答案										

題號	第91題	第92題	第93題	第94題	第95題	第96題	第97題	第98題	第99題	第100題
答案										

備註：

106年公務人員高等考試三級考試試題

20110 全一張
代號： | (正面)
28710

類 科：各類科（除公職醫事檢驗師、公職藥師、公職護理師、公職營養師、公職食品技師外）

科 目：國文（作文、公文與測驗）

考試時間：2小時

更多高普考考試科目的歷屆題庫
立即上網搜尋“高普考歷屆考古題懶人包”
高鋒公職補習班整理
Line@帳號：@gaofeng
連絡電話：07-236-7296

座號： _____

※注意：禁止使用電子計算器。

甲、作文與公文部分：

- (一)請以藍、黑色鋼筆或原子筆在申論試卷上由左至右橫式作答，於本試題上作答者，不予計分。
- (二)不得於試卷上書寫姓名或入場證號。

一、作文：（60分）

愛默生說：「自信是成功的第一祕訣」。成功的人必須自信，使他有勇氣堅持不懈，使他安然度過難關。但自信不等於自負，自信過度尤易流於自負自大，故蘇格拉底說：「驕傲是無知的產物」。事實上，當我們面對難關或新的變局時，需要的是沈著的自信，而非無知的自負。請以「自信的真諦」為題，作文一篇，申論己見。

二、公文：（20分）

情境說明：

落實推動生涯與技藝教育，可增進學生自我認識，也能對多元的技藝職群有所了解；透過課程的實作與體驗，可讓學生探索自己的性向、興趣，有助於未來生涯發展。爰新竹縣政府教育處依據教育部國民及學前教育署 00 年 00 月 00 日國字第 00000 號函，研擬「推動國民中學學生生涯與技藝教育方案」，以符應因材施教、多元進路、適性揚才的教育目標，案經縣務會議討論通過。

該府復於 00 年 00 月 00 日府教字第 00000 號函，致所屬各公私立國民中學（含高級中學附設國中部），請其依該方案研提實施計畫，據以執行並報府備查。

問題：

假如你是新竹縣立中山國民中學承辦人員，請擬此函。

乙、測驗部分：（20分）

代號：1201

- (一)本測驗試題為單一選擇題，請選出一個正確或最適當的答案，複選作答者，該題不予計分。
- (二)共 10 題，每題 2 分，須用 2B 鉛筆在試卡上依題號清楚劃記，於本試題或申論試卷上作答者，不予計分。

1. 下列選項，古今詞語的詞義前後相同的是：

- (A)阡陌「交通」／到了下班時間，「交通」漸漸擁擠
- (B)誠宜「開張」聖聽／那家百貨公司已經「開張」了
- (C)「犧牲」玉帛，弗敢加也／他寧願「犧牲」自己的青春
- (D)白日忽「蹉跎」／只要你在，人生之路，都不算是「蹉跎」

2. 梁啟超於清末提倡進取冒險的精神，以激發民氣，喚醒國魂。對於國人多稱「樂則行之，憂則違之」、「危邦不入，亂邦不居」、「孝子不登高，不臨深」，他強調：「夫此諸義，亦何嘗非孔門所傳述；然言非一端，義各有當，孔子曷嘗以此義盡律天下哉！」（梁啟超〈論進取冒險〉）梁啟超所傳達的觀點，下列敘述何者正確？

- (A)孔子是國人冒險犯難精神的阻礙者
- (B)肯定國人崇信孔子居安思危的思想
- (C)孔門言論足以激發吾人的憂患意識
- (D)國人不可片面引述孔子的話而畫地自限

（請接背面）

類 科：各類科（除公職醫事檢驗師、公職藥師、公職護理師、公職營養師、公職食品技師外）

科 目：國文（作文、公文與測驗）

3. 〈龜山島志異·孤墳〉：「在通往四〇一高地途中，還有福建海澄來的黃聰明老先生，一個人盤坐在高高的山腰上，從清朝咸豐八年到現在。想當初，《噶瑪蘭廳志》已經刊行，太平軍鬧得正凶，慈禧太后還沒聽政，林肯還沒有當美國總統，開蘭進士楊士芳還要再等個十年才中進士。不管是洋牧師馬偕博士或是日本警察，也還沒到臺灣，更不知道太平洋中有這麼個小島……。黃老先生在這個遙遠的小島上，什麼都沒聽到，什麼都沒看到，耳根清淨，可真正是個隱士哩！」此一來自「時間軸」的種種想像，產生了何種效果？
- (A)孤墳是臺灣歷史發展的縮影，成為本文聯繫的核心，並藉以傳播歷史知識
(B)讓人感受龜山島遠離塵俗，引人流連忘返，自古以來就成為隱士卜居之處
(C)讓孤墳因時間與事件的對應變得充滿意義，而墓主的形象也彷彿清晰展現出來
(D)太平軍鬧得正凶，但《噶瑪蘭廳志》順利刊行，可知清廷治理臺灣已日趨穩定
4. 蜀之鄙有二僧：其一貧，其一富。貧者語於富者曰：「吾欲之南海，何如？」富者曰：「子何恃而往？」曰：「吾一瓶一鉢足矣。」富者曰：「吾數年來欲買舟而下，猶未能也。子何恃而往？」越明年，貧者自南海還，以告富者，富者有慚色。（彭端淑〈為學一首示子侄〉）下列敘述何者最符合本文意旨？
- (A)知之非艱，行之惟艱
(B)萬事俱備，只欠東風
(C)一言既出，駟馬難追
(D)坐而言，不如起而行
5. 《說苑·尊賢》：「故士之接也，非必與之臨財分貨，乃知其廉也；非必與之犯難涉危，乃知其勇也。舉事決斷，是以知其勇也；取與有讓，是以知其廉也。」下列選項符合上文旨意的是：
- (A)見微知著
(B)管中窺豹
(C)恭廉守節
(D)明辨是非
6. 「庖人調和而弗敢食，故可以為庖。若使庖人調和而食之，則不可以為庖矣。王伯之君亦然。誅暴而不私，以封天下之賢者，故可以為王伯。若使王伯之君誅暴而私之，則亦不可以為王伯矣。」（《呂氏春秋·去私》）關於此文意涵，下列敘述何者正確？
- (A)王伯不應私自誅殺暴君，應交付司法機構公開審理
(B)王伯治國重在治心，應學習庖人弗敢食的調味方式，用心不用技
(C)王伯治國應學習庖人調和五味的精神，廣納眾言，不應執著於一己私見
(D)王伯應去除私慾，誅除暴君後不應把土地佔為己有，應將它封給賢能之人
7. 「人之生斯世也，但以已死者為鬼，而不知未死者亦鬼也。酒罌飯囊，或醉或夢，塊然泥土者，則其人與已死之鬼何異？」（鍾嗣成〈錄鬼簿序〉）文中的「塊然泥土者」，意近：
- (A)木形灰心
(B)木訥口拙
(C)灰頭土臉
(D)灰軀糜骨
8. 「在幸福中有一個被實踐的經驗：當我們將幸福給予了別人，我們所擁有的卻比原來更多了。這真是一個罕見的現象：一般來說，我們給予，我們所擁有的就應該減少！」根據上文，以下選項何者正確？
- (A)己所不欲，勿施於人
(B)不患人之不己知，患不知人也
(C)既以為人，己愈有；既以與人，己愈多
(D)人一能之，己百之；人十能之，己千之
9. 惟大甲溪塊石層疊，支派雜流，水勢西衝，直入大海；遇春夏盛漲，極目汪洋，誠險道也。此外，如中港、房裏、柑尾，雖險阻稍減，然或溪面廣闊，或急湍洶湧，皆迫鄰海汊，亦危險莫測者也。此數處非無駕舟侍濟之人，大率土豪撐駛，藉索多費；少不如願，即肆剝掠有之。行旅之受害也久矣，義渡其容緩歟！……爰集紳士、郊商、耆庶而諭以意，且先捐廉以為之倡，乃無弗踴躍樂輸。不數旬，共捐洋銀八千九百餘圓；其不敷者，則搜羅充公租穀以足之。依據上文，地方仕紳、商賈與耆老捐錢的目的是：
- (A)疏濬河道
(B)打擊海盜
(C)設置義渡
(D)建置橋樑
10. 「等太陽西斜，整條大街才真正醒來。……小攤販忙著擺位時，躲在飯店民宿吹冷氣的遊客群漸次出門了，踏浪的人潮也慢慢回籠。白天時整條街像乾癟的豬腸，暗夜了，又灌得像糯米腸般，膨大而油光煥發。……音樂祭還未到，每晚的大街已張燈結綵，以光怪陸離為經，浮華亂相為緯，熱鬧地鋪張出一股南洋風味。」（劉克襄〈迷路的墾丁大街〉）關於此文意涵，下列敘述何者正確？
- (A)墾丁音樂祭的流行熱潮早已過去，而被張燈結綵的夜市所取代
(B)「以光怪陸離為經，浮華亂相為緯」指墾丁大街已失去原本樸實的面貌
(C)墾丁大街只是在模仿「南洋」，並未開創出本土夜市的特色，因而「迷路」
(D)入夜的墾丁大街像糯米腸般「膨大而油光煥發」，指它散發出朝氣蓬勃的氛圍

測驗式試題標準答案

考試名稱：106年公務人員高等考試三級考試暨普通考試

類科名稱：

一般行政、財經廉政、交通行政、史料編纂、地政、圖書資訊管理(選試英文)、檔案管理、觀光行政(選試觀光英語)、觀光行政(選試觀光日語)、航運行政、公職社會工作師、農業技術、林業技術、園藝、植物病蟲害防治、自然保育、土木工程、水利工程、環境工程、建築工程、公職建築師、都市計畫技術、水土保持工程、機械工程、航空器維修、汽車工程、電力工程、電子工程、電信工程、資訊處理、核子工程、輻射安全、化學工程、一般民政、客家事務行政、社會行政、文化行政、教育行政、體育行政、國際文教行政(選試韓文)、新聞(選試英文)、財稅行政、金融保險、統計、會計、財務審計、績效審計、法制、國際經貿法律、法律廉政、經建行政、公平交易管理、工業行政、商業行政、農業行政、漁業行政、智慧財產行政、僑務行政(選試英文)、衛生行政、環保行政、人事行政、戶政、勞工行政、食品衛生檢驗、環境檢驗、地質、測量製圖、藥事、交通技術、航海技術、輪機技術、天文、氣象、技藝(選試木竹器)、技藝(選試染織)、視聽製作、衛生技術、漁業技術、畜牧技術、公職獸醫師、工業工程、工業安全、醫學工程、生物技術、環保技術、航空駕駛(選試直昇機飛行原理)、景觀

科目名稱：國文(作文、公文與測驗)(試題代號：1201)

單選題數：10題

單選每題配分：2.00分

複選題數：

複選每題配分：

標準答案：

更多高普考考試科目的歷屆題庫
立即上網搜尋“高普考歷屆考古題懶人包”
高鋒公職補習班整理
Line@帳號：@gaofeng
連絡電話：07-236-7296

題號	第1題	第2題	第3題	第4題	第5題	第6題	第7題	第8題	第9題	第10題
答案	D	D	C	D	A	D	A	C	C	B

題號	第11題	第12題	第13題	第14題	第15題	第16題	第17題	第18題	第19題	第20題
答案										

題號	第21題	第22題	第23題	第24題	第25題	第26題	第27題	第28題	第29題	第30題
答案										

題號	第31題	第32題	第33題	第34題	第35題	第36題	第37題	第38題	第39題	第40題
答案										

題號	第41題	第42題	第43題	第44題	第45題	第46題	第47題	第48題	第49題	第50題
答案										

題號	第51題	第52題	第53題	第54題	第55題	第56題	第57題	第58題	第59題	第60題
答案										

題號	第61題	第62題	第63題	第64題	第65題	第66題	第67題	第68題	第69題	第70題
答案										

題號	第71題	第72題	第73題	第74題	第75題	第76題	第77題	第78題	第79題	第80題
答案										

題號	第81題	第82題	第83題	第84題	第85題	第86題	第87題	第88題	第89題	第90題
答案										

題號	第91題	第92題	第93題	第94題	第95題	第96題	第97題	第98題	第99題	第100題
答案										

備註：

106年公務人員高等考試三級考試試題

類 科：各類科（除公職醫事檢驗師、公職藥師、公職護理師、公職營養師、公職食品技師外）

科 目：法學知識與英文（包括中華民國憲法、法學緒論、英文）

考試時間：1 小時

座號：_____

※注意：(一)本試題為單一選擇題，請選出一個正確或最適當的答案，複選作答者，該題不予計分。
(二)本科目共 50 題，每題 2 分，須用 2B 鉛筆在試卡上依題號清楚劃記，於本試題上作答者，不予計分。
(三)禁止使用電子計算器。

更多高普考考試科目的歷屆題庫
立即上網搜尋“高普考歷屆考古題懶人包”
高鋒公職補習班整理
Line@帳號：@gaofeng
連絡電話：07-236-7296

- 依地方制度法之規定，關於權限爭議之解決，下列何者錯誤？
(A)直轄市間事權有爭議，由行政院解決之
(B)鄉（鎮、市）間事權有爭議，由縣議會會議決之
(C)中央與縣（市）間之權限有爭議，由立法院院會議決之
(D)縣與鄉（鎮、市）間自治事項有爭議，由內政部會同中央各該主管機關解決之
- 依憲法增修條文之相關規定，下列何者之支出不屬於國家預算應優先編列之項目？
(A)對於失業者提供就業服務
(B)對於勞工提供全民健保補助
(C)對於低收入者提供生活扶助
(D)對於國民教育經費之提供
- 關於憲法上之商業性言論保障，依據司法院大法官解釋之意旨，下列何者錯誤？
(A)藥物廣告係因與國民健康有重大關係，基於公共利益之維護，應受較嚴格之規範
(B)商業言論非關公意形成、真理發現或信仰表達，故不能與其他言論自由之保障等量齊觀
(C)商品標示僅提供商品客觀資訊，並不受言論自由之保障
(D)言論自由在於保障意見之自由流通，依其性質而有不同之保護範疇及限制之準則
- 依據司法院釋字第 656 號解釋，關於法院以判決命加害人公開道歉是否合憲之該解釋意旨，下列何者錯誤？
(A)名譽權旨在維護個人主體性及人格之完整，為實現人性尊嚴所必要
(B)憲法第 11 條保障人民之言論自由，僅保障積極之表意自由外，不包括消極之不表意自由
(C)名譽權乃受憲法第 22 條所保障
(D)判決命加害人公開道歉，如未涉及加害人自我羞辱等損及人性尊嚴之情事者，並無違背比例原則
- 依司法院釋字第 631 號解釋之意旨，下列何者錯誤？
(A)憲法第 12 條之秘密通訊自由，確保人民就通訊之有無、對象、時間、方式及內容等事項，有不受國家及他人任意侵擾之權利
(B)國家採取限制手段時，如無法律依據，不得限制
(C)限制之要件應具體、明確，不得逾越必要之範圍
(D)檢察官與司法警察機關，同時負責通訊監察書之聲請與核發，其所踐行之程序乃屬合理、正當
- 依司法院大法官相關解釋之意旨，下列何者錯誤？
(A)祭祀公業條例施行前，女系子孫不得為祭祀公業之派下員，違反性別平等原則
(B)政府採購得標廠商於國內員工總人數逾一定人數者，應於履約期間內僱用原住民，不違反種族平等原則
(C)夫妻非薪資所得應強制合併計算申報所得稅，應納稅額較單獨計算稅額為高，違反平等原則
(D)僅就部分宗教規定其不得處分寺廟財產，違反宗教平等原則
- 依司法院大法官解釋之見解，下列何者已構成對財產權之侵害？
(A)禁止騎樓所有權人於公告禁止設攤之處擺設攤位
(B)菸品業者於菸品容器上應標示尼古丁及焦油之含量
(C)於土地所有權人之都市計畫用地地下埋設自來水管線且未予補償
(D)政府採購得標廠商員工逾百人者應進用一定比例原住民
- 依司法院釋字第 445 號解釋，下列何者並非國家保障人民集會自由應負之保護義務？
(A)保障人民行使集會自由並且不任意干預
(B)提供適當之集會場所並保護集會之安全
(C)使參與集會者在毫無恐懼的情況下進行
(D)將人民集會時提出之意見納入公共政策
- 人民之財產具有社會義務性，國家為促進公共利益，得基於公益與私益協調者的角色，對私人財產予以限制，私人財產因為公共利益如已超過社會義務範圍，因該私人並無任何過咎，卻必須忍受財產的被剝奪或限制。下列何者正確？
(A)屬於一般犧牲，國家應給予賠償
(B)屬於一般犧牲，國家應給予補償
(C)屬於特別犧牲，國家應給予賠償
(D)屬於特別犧牲，國家應給予補償
- 更新身分證時，主管機關決定將身分證與健保卡、駕照等合而為一，統一為一種證件。可能涉及下列何種基本權？
(A)職業自由
(B)隱私權
(C)平等權
(D)秘密通訊自由
- 依司法院大法官解釋之意旨，下列何者不屬於憲法第 19 條人民有依法律納稅義務之內涵？
(A)關於租稅主體、租稅客體、稅基、稅率等租稅構成要件，應有法律或法規命令之明文規定
(B)主管機關得依憲法原則、立法意旨及法律一般解釋方法，依職權就租稅相關法律進行闡釋
(C)主管機關課稅時，就執行法律之細節性、技術性等次要事項，得自行發布行政規則為規範
(D)國家給予人民減免稅捐之優惠，係授予人民財產上之利益，不受到憲法第 19 條規定之拘束
- 依據憲法及法律規定，針對國家賠償責任，下列何者正確？
(A)請求國家損害賠償時，有所謂先行程序，係應先以書面向賠償義務機關請求之
(B)國家代位責任即公務員之行為視為國家行為，故國家賠償責任為無過失責任
(C)所謂公有公共設施，係僅指由公權力主體所有為限，不包括公權力租賃或管領之處所
(D)公務員之國家賠償責任，以該公務員有故意或重大過失為限

- 13 基於權力分立與制衡原則，關於立法權行使的界限，下列何者錯誤？
(A)立法權只能就不特定之人或抽象之事件作假設性的規範，原則上不得就特定人或具體事件予以處理或專為特定具體事件立法
(B)依據司法院釋字第 613 號解釋之意旨，行使立法權之立法院，其對行政院有關國家通訊傳播委員會委員之人事決定權固非不能施以一定限制，以為制衡，惟其仍有界限，不能將人事決定權予以實質剝奪，或逕行取而代之，否則將侵害行政權
(C)依據司法院釋字第 585 號解釋之意旨，立法院調查權乃立法院行使其憲法職權所必要之主要性權力，基於權力分立與制衡原則，立法院調查權所得調查之對象或事項，應毫無限制
(D)依據司法院釋字第 645 號解釋之意旨，公民投票法有關公民投票審議委員會委員任命之相關規定，實質上完全剝奪行政院依憲法應享有之人事任命決定權，顯已逾越憲法上權力相互制衡之界限
- 14 依司法院釋字第 725 號解釋之意旨，下列何者錯誤？
(A)依司法院釋字第 185 號解釋，司法院解釋憲法，並有統一解釋法律及命令之權，為憲法第 78 條所明定，故所為之解釋，自有拘束全國各機關及人民之效力，各機關處理有關事項，應依解釋意旨為之，違背解釋之判例，當然失其效力
(B)司法院就人民聲請解釋憲法，宣告確定終局裁判所適用之法令於一定期限後失效者，聲請人就聲請釋憲之原因案件，即得據以請求再審或其他救濟
(C)司法院就人民聲請解釋憲法，宣告確定終局裁判所適用之法令於一定期限後失效者，檢察總長得據以提起非常上訴
(D)司法院宣告違憲之法令定期失效者，係為避免因違憲法令立即失效，造成法規真空狀態或法秩序驟然發生重大之衝擊，並為促使主管機關審慎周延立法，以符合解釋意旨，僅在一定程度、一定時間內，宣告法令違憲
- 15 依司法院大法官審理案件法，關於政黨違憲解散案件之審理，下列何者正確？
(A)政黨之目的或其行為，危害中華民國之存在或自由民主之憲政秩序者，人民或政黨得聲請司法院憲法法庭解散之
(B)憲法法庭審理案件，以司法院院長充審判長
(C)憲法法庭行言詞辯論，須有大法官現有總額 2/3 以上出席，始得為之。未參與辯論之大法官不得參與評議判決
(D)憲法法庭對於政黨違憲解散案件判決之評議，應經參與言詞辯論大法官 2/3 之同意決定之
- 16 有關隱私權保障，下列何者正確？
(A)屬於社會生活上不可或缺之權利，受憲法第 15 條生存權保障
(B)指紋乃重要之個人資訊，個人對其指紋資訊之自主控制，受資訊隱私權之保障
(C)銀行法規定，銀行對於顧客之存款等有關資料，應保守秘密，其旨在保障國家金融之健全發展，但該隱私權之保障僅屬反射利益，並非主要目的
(D)警察實施臨檢，均屬對人或物之查驗、干預，雖影響人民之行動自由甚鉅，但無涉隱私權之侵害
- 17 舊人民團體法規定，申請設立之人民團體，其組織與活動主張共產主義或分裂國土者，不予許可。此一規定因涉及行政機關得就人民之下列何者為審查，且作為不予許可之理由，顯已逾越必要程度，應失其效力？
(A)政治上言論之內容 (B)政治上言論之方法 (C)政治上言論之型態 (D)政治上言論之發展
- 18 有關行政法上信賴保護原則之適用，下列何者錯誤？
(A)純屬願望或期待而未表現已生信賴之事實者，不得適用信賴保護原則
(B)經廢止或變更之法規有重大明顯違反上位規範之情形者，不得適用信賴保護原則
(C)保護範圍僅及於實體上之利益，不及於程序利益與法律地位之不利影響
(D)不論授益或負擔行政處分皆有信賴保護原則之適用
- 19 關於民法及民事訴訟法在學理上之分類，下列何者正確？
(A)二者均屬公法 (B)二者均屬私法
(C)民法屬公法，民事訴訟法屬私法 (D)民法屬私法，民事訴訟法屬公法
- 20 司法院釋字第 75 號解釋略謂：「查制憲國民大會對於國民大會代表不得兼任官吏，及現任官吏不得當選為國民大會代表之主張，均未採納。而憲法第二十八條第三項僅限制現任官吏不得於其任所所在地之選舉區當選為國民大會代表。足見制憲當時並無限制國民大會代表兼任官吏之意，故國民大會代表非不得兼任官吏。」上述解釋係採下列何項解釋方式？
(A)文義解釋 (B)歷史解釋 (C)系統解釋 (D)目的解釋
- 21 有關我國全民健康保險法對於保險費負擔之敘述，下列何者錯誤？
(A)無一定雇主或自營作業而參加職業工會者之第二類被保險人及其眷屬自付百分之三十，其餘百分之七十，由中央政府補助
(B)農會及水利會會員，或年滿 15 歲以上實際從事農業工作者之第三類被保險人及其眷屬自付百分之三十，其餘百分之七十，由中央政府補助
(C)合於社會救助法規定之低收入戶成員之第五類被保險人，由中央社政主管機關全額補助
(D)雇主或自營業主之第 10 條第 1 項第 1 款第 4 目被保險人及其眷屬自付全額保險費
- 22 甲、乙為夫妻，甲經常毆打乙，乙得否依家庭暴力防治法請求法院裁定核發保護令命甲遷出兩人之住居所？
(A)否，加害人受到憲法居住自由之保障，法院不能限制之
(B)否，僅能為乙提供庇護場所，不能命被害人遷出
(C)可以，但須以甲之同意為前提
(D)可以，保護令之內容依法得命加害人遷出住居所

- 23 公務員甲未與國家間，就職務上完成之著作約定以國家為著作人，則其於職務範圍內奉命調查研究特定政策對於經貿議題之衝擊，所製作完成之報告，於文末註記「切勿對外發表，僅供內部參考」之字句。下列何者正確？
 (A) 公開發表之著作人格權，專屬於該公務員，故必須於其死亡後，因著作人格權消滅，始得對外公開
 (B) 機關可不寫該公務員姓名，逕為公開發表
 (C) 機關得公開發表，但必須表示該公務員姓名
 (D) 該等職務報告，性質上不得作為著作權保護之標的
- 24 有關員工取得公司股份之敘述，下列何者正確？
 (A) 員工與公司簽訂認股權契約後，公司發給認股權憑證，公司得限制該憑證於 2 年內，不得轉讓
 (B) 員工之新股承購權，得單獨轉讓
 (C) 公開發行公司經股東會特別決議發行限制員工權利新股，員工不得低於面額取得該股份
 (D) 公司發行限制員工權利新股，得限制於一定期間內，不得轉讓
- 25 甲想殺 X，向知情的乙借來左輪手槍與六發子彈。甲持槍射擊 X，因從未練習，完全沒有打中 X，X 平安離去。有關甲、乙的敘述，下列何者正確？
 (A) X 未死亡，甲犯殺人未遂罪
 (B) 甲從未練習射擊，沒有打死 X 的可能性，應成立不能犯
 (C) 六發子彈完全沒有打中，對 X 生命沒有造成威脅，所以尚未著手
 (D) 甲未達成殺 X 目的，所以乙不成立幫助犯
- 26 關於保安處分之敘述，下列何者錯誤？
 (A) 保安處分自應執行之日起逾 3 年未開始或繼續執行者，非經法院認為原宣告保安處分之原因仍繼續存在時，不得許可執行
 (B) 保安處分自應執行之日起逾 7 年未開始或繼續執行者，不得執行
 (C) 犯刑法第 285 條傳染花柳病之罪者，得於刑罰執行後，令入相當處所，強制治療
 (D) 電子監控屬於保護管束可採用的手段之一
- 27 甲、乙、丙共有土地一宗，應有部分各為三分之一，依民法規定，下列何者正確？
 (A) 甲將土地出賣予丁，甲、丁間之買賣契約應經乙、丙同意，始生效力
 (B) 甲、乙未經丙之同意，將土地出租予丁，租賃契約不得對抗丙
 (C) 土地經合意分管後，甲將其分管之 A 部分土地出租予丁，不須經過乙、丙之同意
 (D) 土地經合意分管並經登記後，甲將其應有部分移轉予戊，戊以不知悉該分管契約為由，主張不受分管契約之拘束
- 28 有關種類之債之敘述，下列何者錯誤？
 (A) 買賣契約中約定，給付臺東池上有機蓬萊米 100 公斤，係屬種類之債
 (B) 承攬契約中約定，承攬人應使用臺灣製造之水泥 50 包，係屬種類之債
 (C) 給付種類之債，於債務人交付其物之必要行為完結後，其物即為特定給付物
 (D) 給付物僅以種類指示者，如不能依法律行為之性質或當事人之意思確定其品質時，則債務人應給以最優品質之物
- 29 下列何者成立民法物權編上之加工？
 (A) 甲以乙的建材對自己之房屋作重大修繕
 (B) 甲將乙的油漆塗在自己的腳踏車輪框上
 (C) 甲將乙的石材雕塑出一太極人像
 (D) 甲將乙的咖啡粉加入自己的牛奶中
- 30 下列何人有遺囑見證人之資格？
 (A) 繼承人之配偶
 (B) 受輔助宣告之人
 (C) 繼承人之兄弟姊妹
 (D) 受遺贈人之直系血親
- 31 Supporters worried that the revelation of the scandal may _____ the reputation of their preferred legislator candidate.
 (A) endeavor
 (B) magnify
 (C) accelerate
 (D) jeopardize
- 32 Many charities are devoted to supporting the _____ in society, such as providing food and clothes.
 (A) dissident
 (B) omnipotent
 (C) indicator
 (D) indigent
- 33 When the demonstration became violent and out of control, the police should take action to _____.
 (A) intervene
 (B) accumulate
 (C) automate
 (D) elevate
- 34 The best way to avoid committing _____ is to always document the sources you use and respect the intellectual property rights of others.
 (A) suicide
 (B) vandalism
 (C) harassment
 (D) plagiarism
- 35 The protesters marched through the streets of the city _____ a legal status in negotiations with their employers.
 (A) declining
 (B) demanding
 (C) distinguishing
 (D) distributing
- 36 After making a racist joke, the host apologized that it was never her intent to _____ anyone.
 (A) entertain
 (B) defend
 (C) soothe
 (D) offend
- 37 After a few minutes' preparation, the chair starts the meeting, introduces the _____, invites the first speaker to make his/her proposal, prevents interruptions, brings in other speakers, summarizes, etc.
 (A) agenda
 (B) advert
 (C) artery
 (D) angler
- 38 The oldest child in a family often _____ quickly, learning early to take responsibility for his/her siblings.
 (A) coincides
 (B) declares
 (C) interacts
 (D) matures
- 39 People who use the _____ style of communication appear to put themselves last and seem to consider themselves inferior to others.
 (A) definite
 (B) submissive
 (C) coherent
 (D) insane

- 40 Almost one thousand people have been _____ because of the devastating forest fire that began last night. Over fifty buildings and homes have been destroyed.
- (A) evacuated (B) evaluated (C) substituted (D) suspected

請依下文回答第 41 題至第 45 題：

Giant pandas have better ears than people — and polar bears. Researchers found out that pandas can 41 surprisingly high frequencies. The scientists played a range of tones for five zoo pandas trained to 42 a target in response to sound. Training took three to six months for each animal and 43 serious focus and patience, which, according to an expert, was “a lot to ask of a bear.” Both males and females heard into the range of a “silent” ultrasonic dog whistle. Polar bears, the only other bears scientists have tested, are 44 sensitive to sounds at or above 14 kilohertz. Researchers still don’t know why pandas have ultrasonic hearing. The bears are a 45 bunch, but their chirps and other calls have never been recorded at ultrasonic levels. Great hearing may be a holdover from the bears’ ancient past.

- 41 (A) taste (B) hear (C) see (D) touch
 42 (A) call (B) lose (C) miss (D) nose
 43 (A) discounted (B) dedicated (C) demanded (D) declared
 44 (A) more (B) much (C) less (D) equally
 45 (A) vocal (B) visual (C) receptive (D) tactile

請依下文回答第 46 題至第 50 題：

The student market in the UK is estimated to be worth £13 billion of spending power in a year. It is a market no company should ignore. Marketers are desperate to get students’ attention before they turn into high-earning graduates. But students are hard to reach and cynical. How can brands target them?

Youth market trends analyst Sean Pillot de Chenecey advises companies who hope to market to students. He says there is no single strategy. Students organize their life on their mobile phones, respect brands that are ethical, but worry more about how they are going to pay off their debt than world peace. To get students’ attention, marketers must offer them something that adds to their lives. It isn’t enough to simply sponsor a music tour: they have to make the event happen. For example, Carling (a beer manufacturer) introduced live music at train station.

Offering students help with their education and careers is an effective marketing method. *The Guardian* newspaper runs careers fairs and offers discounts on its products, such as *Guardian Student*, a 32-page newspaper.

Red Bull, a successful energy drinks brand, uses what it calls “energy teams” on university campuses. The company recruits teams of students and gives them a Red Bull car, which has a fridge. The students offer samples and give information about the product benefits. They do this on campus at sporting events and at times of the year when students might need an energy boost. “It’s extremely important that it is a student doing this and not a company sales rep,” says the company’s consumer manager who runs the scheme. “You need to have an approach that doesn’t look like a sales **pitch**.”

Having an insider on campus can help marketers understand student life. Youth marketing agency, Virgin D3, has a database of students who act as “field staff”. They ask them for help when planning an event at their university. Perhaps, by getting ideas from the students themselves, companies can find ways to reach this difficult market.

- 46 What is the passage mainly about?
 (A) Marketing to student consumers
 (B) Helping student consumers with their education
 (C) Offering discounts to student consumers
 (D) Training student consumers to be field staff
- 47 According to the passage, what is **NOT** a characteristic of students?
 (A) Establishing their social lives on mobile phones.
 (B) Valuing brands that are ethical.
 (C) Concerning their student loans.
 (D) Prioritizing world peace.
- 48 Why does the author mention the newspaper *The Guardian* as an example in the passage?
 (A) To illustrate a marketing strategy.
 (B) To explain why student consumers are difficult to reach.
 (C) To give marketers details of student life.
 (D) To introduce a youth marketing agency.
- 49 What does “pitch” mean in the passage?
 (A) logo
 (B) agenda
 (C) promotion
 (D) bonus
- 50 According to the passage, what do “energy teams” and “field staff” have in common?
 (A) Both are companies with social responsibility.
 (B) Both are marketing strategies.
 (C) Both are sponsors.
 (D) Both are high-earning graduates.

測驗式試題標準答案

考試名稱：106年公務人員高等考試三級考試暨普通考試

類科名稱：

一般行政、一般民政、客家事務行政、社會行政、人事行政、戶政、勞工行政、文化行政、教育行政、體育行政、國際文教行政(選試韓文)、新聞(選試英文)、財稅行政、金融保險、統計、會計、財務審計、績效審計、法制、國際經貿法律、法律廉政、財經廉政、經建行政、公平交易管理、工業行政、商業行政、農業行政、漁業行政、智慧財產行政、僑務行政(選試英文)、衛生行政、環保行政、地政、圖書資訊管理(選試英文)、檔案管理、史料編纂、交通行政、觀光行政(選試觀光英語)、觀光行政(選試觀光日語)、航運行政、公職社會工作師、農業技術、林業技術、園藝、植物病蟲害防治、自然保育、土木工程、水利工程、環境工程、建築工程、公職建築師、都市計畫技術、水土保持工程、機械工程、航空器維修、汽車工程、電力工程、電子工程、電信工程、資訊處理、核子工程、輻射安全、化學工程、食品衛生檢驗、環境檢驗、地質、測量製圖、築事、交通技術、航海技術、輪機技術、天文、氣象、技藝(選試木竹器)、技藝(選試染織)、視聽製作、衛生技術、漁業技術、生物技術、畜牧技術、公職獸醫師、工業工程、工業安全、醫學工程、環保技術、航空駕駛(選試直昇機飛行原理)、景觀

科目名稱：

法學知識與英文(包括中華民國憲法、法學緒論、英文)(試題代號：3201)

單選題數：50題

單選每題配分：2.00分

複選題數：

複選每題配分：

標準答案：

更多高普考考試科目的歷屆題庫
 立即上網搜尋“高普考歷屆考古題懶人包”
 高鋒公職補習班整理
 Line@帳號：@gaofeng
 連絡電話：07-236-7296

題號	第1題	第2題	第3題	第4題	第5題	第6題	第7題	第8題	第9題	第10題
答案	B	B	C	B	D	A	C	D	D	B

題號	第11題	第12題	第13題	第14題	第15題	第16題	第17題	第18題	第19題	第20題
答案	D	A	C	D	D	B	A	C	D	B

題號	第21題	第22題	第23題	第24題	第25題	第26題	第27題	第28題	第29題	第30題
答案	A	D	B	D	A	C	C	D	C	C

題號	第31題	第32題	第33題	第34題	第35題	第36題	第37題	第38題	第39題	第40題
答案	D	D	A	D	B	D	A	D	B	A

題號	第41題	第42題	第43題	第44題	第45題	第46題	第47題	第48題	第49題	第50題
答案	B	D	C	C	A	A	D	A	C	B

題號	第51題	第52題	第53題	第54題	第55題	第56題	第57題	第58題	第59題	第60題
答案										

題號	第61題	第62題	第63題	第64題	第65題	第66題	第67題	第68題	第69題	第70題
答案										

題號	第71題	第72題	第73題	第74題	第75題	第76題	第77題	第78題	第79題	第80題
答案										

題號	第81題	第82題	第83題	第84題	第85題	第86題	第87題	第88題	第89題	第90題
答案										

題號	第91題	第92題	第93題	第94題	第95題	第96題	第97題	第98題	第99題	第100題
答案										

備註：

代號：21320、21920
22620、22920
頁次：4-1

106年公務人員高等考試三級考試試題

類 科：財稅行政、法制、商業行政、智慧財產行政

科 目：民法

考試時間：2 小時

※注意：禁止使用電子計算器。

更多高普考考試科目的歷屆題庫
立即上網搜尋“高普考歷屆考古題懶人包”
高鋒公職補習班整理
Line@帳號：@gaofeng
連絡電話：07-236-7296

座號：_____

甲、申論題部分：(50 分)

- (一)不必抄題，作答時請將試題題號及答案依照順序寫在申論試卷上，於本試題上作答者，不予計分。
- (二)請以藍、黑色鋼筆或原子筆在申論試卷上作答。
- (三)本科目除專門名詞或數理公式外，應使用本國文字作答。

一、已婚之甲男與乙女同居，甲之妻丙知其事後乃相約與乙談判，動之以情，乙願意與甲終止同居關係，甲勉強同意並表示贈與乙新臺幣(下同)五百萬元供其生活之用，乙允受之，並經公證。一個月後，甲反悔，仍欲與乙繼續同居之關係，乙則拒絕之。試問：乙得否向甲請求給付五百萬元？(25 分)

二、甲參加乙旅行社所舉辦之花東三日遊行程，第一晚安排住宿於丙旅館，因該旅館陽台欄杆鬆脫，致甲觀景時摔落而身受重傷。甲主張丙旅館為乙之受僱人，乙應依民法第 188 條第 1 項負損害賠償責任。試問：甲向乙、丙各得主張何種權利？(25 分)

乙、測驗題部分：(50 分)

代號：2213

- (一)本測驗試題為單一選擇題，請選出一個正確或最適當的答案，複選作答者，該題不予計分。
- (二)共 25 題，每題 2 分，須用 2B 鉛筆在試卡上依題號清楚劃記，於本試題或申論試卷上作答者，不予計分。

- 1 法人社員總會決議之內容違反法令或章程者，下列關於其社員尋求救濟之敘述，何者正確？
 - (A)社員得提起確認決議之訴，確認該決議為無效，其提起確認之訴的期間，沒有限制
 - (B)社員得提起撤銷決議之訴，請求法院撤銷該決議，其行使撤銷權的期間，沒有限制
 - (C)社員得提起確認決議之訴，確認該決議為無效，但必須於決議後 3 個月內為之
 - (D)社員得提起撤銷決議之訴，請求法院撤銷該決議，但必須於決議後 3 個月內為之
- 2 未婚之甲在其 19 歲生日免除 18 歲同學乙對其所負之債務，其效力如何？
 - (A)無效
 - (B)有效
 - (C)經甲父母承認後有效
 - (D)經乙父母同意後有效
- 3 19 歲未婚之甲與乙訂立 A 汽車之買賣契約，惟甲不知乙受監護宣告。甲、乙之買賣契約效力如何？
 - (A)效力未定
 - (B)無效
 - (C)得撤銷
 - (D)有效
- 4 下列何種法律行為，原則上不得撤銷？
 - (A)甲誤將真畫當贗品出售給乙，甲之出售行為
 - (B)甲、乙訂婚後寄出婚禮邀請函，丙購買金項鍊欲送甲、乙結婚禮物，甲、乙卻在婚期前因吵架取消婚禮。丙購買金項鍊之行為
 - (C)甲、乙成立 A 款車買賣契約，甲誤將 B 款車為 A 款車交付，甲之 B 款車所有權移轉交付之行為
 - (D)甲去 B 銀樓欲買純金項鍊當母親節禮物，也向 B 銀樓表明要購買純金項鍊當母親節禮物，最後甲買了一條 18K 項鍊，事後甲發現自己買錯了。甲錯買 18K 項鍊之行為
- 5 下列何者，不屬於絕對權？
 - (A)著作權
 - (B)抵押權
 - (C)債權
 - (D)農育權

- 6 下列關於幫助他人為侵權行為之敘述，何者錯誤？
- (A)幫助人視為共同行為人，與行為人連帶負損害賠償責任
(B)幫助行為必須具有不法性
(C)幫助行為限於故意行為
(D)幫助行為與損害間必須具有因果關係
- 7 名譽權被侵害者，被害人不得主張下列何種權利？
- (A)原則上得請求公開判決書內容
(B)原則上得請求加害人登報道歉
(C)請求賠償相當之慰撫金
(D)請求支付懲罰性賠償金
- 8 下列何者，非屬於不當得利請求權之成立要件？
- (A)受損人受有損害
(B)受益人受有利益
(C)受益與受損之間有因果關係
(D)受益人須明知無法律上原因而受利益
- 9 關於解除契約，下列敘述，何者錯誤？
- (A)解除權之行使，不妨礙已發生之債務不履行損害賠償之請求
(B)有效解除契約後，當事人就未給付之部分，免給付義務
(C)解除之原因，僅限於債務不履行
(D)有效解除後，當事人間就已給付之部分，互負回復原狀之義務
- 10 關於債權人之受領遲延，下列敘述，何者錯誤？
- (A)債務人仍負有給付義務
(B)債務人無須支付利息
(C)債務人得請求賠償提出及保管給付物之必要費用
(D)債務人已收取之標的物所生之孳息，無須返還
- 11 下列關於租賃契約之敘述，依實務見解何者錯誤？
- (A)租賃契約為諾成契約，不以押金之交付為其要件
(B)押租金契約為要物契約，以金錢之交付為其要件
(C)租賃契約為負擔行為，不以出租人對於租賃物有所有權為其要件
(D)土地租賃契約之租金，不得以稻穀充之
- 12 下列關於定有期限之僱傭契約之敘述，何者正確？
- (A)僱用人得隨時終止契約
(B)僱用人若經受僱人同意，得將其勞務請求權讓與第三人
(C)僱用人受領勞務遲延，受僱人無補服勞務之義務，惟受僱人不得請求報酬
(D)縱遇有重大事由，受僱人仍不得於期限屆滿前終止契約
- 13 甲向乙借款 100 萬元，由丙任甲之債務保證人。下列敘述，何者錯誤？
- (A)丙若向甲為清償後，於清償限度內得承受債權人對主債務人之債權
(B)甲若向乙為清償，丙的保證債務也隨同消滅
(C)丙有先訴抗辯權，為保障保證人之權益，不得拋棄之
(D)保證契約乃成立於乙、丙之間

- 14 下列關於不動產物權變動之敘述，何者正確？
- (A)拋棄不動產共同共有之權利屬單獨行為，一經權利人表示，即生效力
 - (B)共有物應有部分之受讓人，縱使未辦妥應有部分移轉登記，仍得參與共有物之分割
 - (C)買受遭強制執行之不動產的拍定人，須經辦妥移轉登記始成為所有權人
 - (D)繼承人非先經繼承登記，不得分割其因繼承而取得共同共有之遺產
- 15 甲為擔保其對乙之債務，將甲、丙分別共有之不動產中甲的應有部分移轉登記與乙，使乙在不超過擔保之目的範圍內取得擔保物所有權之應有部分。於此情形，下列敘述，何者正確？
- (A)甲、乙間之約定及移轉不動產登記之行為，係創設民法物權編所無之擔保物權類型，無效
 - (B)甲如不依約清償債務，乙得將該不動產中甲之應有部分變賣或估價，而就該價金受清償
 - (C)甲得以甲乙間之移轉登記行為係通謀而為虛偽之意思表示為由，請求乙塗銷登記
 - (D)如丙不同意，則甲乙間之約定及移轉不動產登記的行為，無效
- 16 甲將其所有之相鄰 A、B 兩筆土地，分別先後出售給乙、丙兩人，均已辦理移轉登記並交付之，致 B 地成為袋地。下列敘述，何者正確？
- (A)丙得無償通行現為乙所有之 A 土地至公路
 - (B)丙應支付償金，始得通行現為乙所有之 A 土地至公路
 - (C)甲得與丙約定，禁止丙通行現為乙所有之 A 土地以至公路
 - (D)乙得與甲約定，禁止丙通行其所買受之 A 土地以至公路
- 17 當事人除以不動產所有權設定抵押權外，尚得以權利設定抵押權。下列何者，不得單獨為權利抵押權之標的物？
- (A)地上權
 - (B)農育權
 - (C)典權
 - (D)不動產役權
- 18 甲有一輛名貴之腳踏車，寄託在乙家；詎料，乙竟以乙自己之名義，將該車賣給丙，乙、丙訂立買賣契約後，乙以移轉所有權之意思，將該腳踏車交付給善意之丙。下列敘述，何者正確？
- (A)乙出賣他人之物，買賣契約無效
 - (B)乙、丙之買賣契約經甲承認始生效
 - (C)甲不因乙無權處分而喪失所有權
 - (D)丙因善意而取得腳踏車之所有權
- 19 甲男、乙女為夫妻，生一子 A 及一女 B；設甲、乙離婚後，乙與丙男結婚，乙與丙生一女 C。A、B、C 均為完全行為能力人。下列敘述，何者正確？
- (A)甲與 C 無親屬關係
 - (B)A 與 C 如結婚，其結婚之效力為得撤銷
 - (C)A 與 C 為四親等旁系血親
 - (D)B 與丙無親屬關係
- 20 下列關於婚前財產與婚後財產之敘述，何者正確？
- (A)不能證明為婚前或婚後財產者，推定為婚前財產
 - (B)無論婚前財產或婚後財產，均應列入剩餘財產分配範圍
 - (C)婚前財產而於婚姻關係存續中所生之孳息，仍為婚前財產；婚前財產不列入剩餘財產分配範圍
 - (D)婚前財產而於婚姻關係存續中所生之孳息，視為婚後財產；婚前財產不列入剩餘財產分配範圍

- 21 下列關於強制認領之敘述，何者正確？
- (A) 有事實足認其為非婚生子女之生父者，即得向生父提起認領之訴。認領之訴，於生父死亡後，無繼承人時，得向社會福利主管機關為之
 - (B) 強制認領限於下列情事，始得請求：生父與生母有同居事實、生父所作之文書可證明其為生父、生母為生父強制或略誘或濫用權勢性交者。生父死亡後即不得為之
 - (C) 強制認領限於下列情事，始得請求：生父與生母有同居事實、生父所作之文書可證明其為生父、生母為生父強制或略誘或濫用權勢性交者。生父死亡後亦得向生父之繼承人、社會福利主管機關為之
 - (D) 有事實足認其為非婚生子女之生父者，即得向生父提起認領之訴。認領之訴，生父死亡後即不得為之
- 22 甲有乙子與丙女，甲死亡後，乙告訴丙：甲臨死前再三交代，不能讓女兒繼承財產。乙進而單獨占有甲全部之遺產 A 屋與 B 車。其後甲之妻證明乙說謊。下列敘述，何者錯誤？
- (A) 乙偽造甲之意思，故意侵害丙之繼承，因此乙喪失繼承權
 - (B) 偽造、變造、隱匿或湮滅被繼承人關於繼承之遺囑者，如經被繼承人宥恕，其繼承權不喪失
 - (C) 丙得不向乙主張繼承回復請求權，而主張 A 屋與 B 車之物上請求權
 - (D) 丙之繼承回復請求權，自知悉被侵害之時起，2 年間不行使而消滅；自繼承開始時起逾 10 年者亦同
- 23 設甲男於民國 103 年 7 月間死亡，有繼承人二人為 A、B。A、B 均為完全行為能力人。102 年 2 月間，甲贈與 150 萬元予 A，103 年 2 月間，甲贈與 150 萬元予 B，甲未立遺囑，甲之遺產有生前對債權人乙之債務 300 萬元、債權人丙之債務 300 萬元、債權人丁之債務 300 萬元，以及留有存款 300 萬元。乙、丙、丁對甲之債權均屬普通債權。下列敘述，何者正確？
- (A) A、B 對於甲生前對乙、丙、丁之債務，以所得遺產 300 萬元為限，負清償責任
 - (B) 102 年 2 月間，甲贈與 A 之 150 萬元，及 103 年 2 月間，甲贈與 B 之 150 萬元，依法視為 A、B 之所得遺產
 - (C) A、B 如於 103 年 7 月間甲死亡時起，3 個月內，開具遺產清冊陳報法院，如未於限期內主張，A、B 對乙應清償 300 萬、對丙清償 300 萬、對丁清償 300 萬
 - (D) A、B 對乙應清償 150 萬、對丙清償 150 萬、對丁清償 150 萬
- 24 甲夫、乙妻生二子為 A、B；於民國 102 年 2 月 20 日，甲立自書遺囑一份；102 年 6 月 6 日，甲另立公證遺囑一份。甲具立遺囑之能力。設甲於 103 年 4 月 14 日死亡。下列敘述，何者錯誤？
- (A) 設甲所立之遺囑，均符合遺囑之法定要件；102 年 6 月 6 日，甲另立之公證遺囑，自 103 年 4 月 14 日甲死亡時發生效力
 - (B) 甲之自書遺囑，除應親自簽名外，應有二個以上證人之簽名
 - (C) 甲於不違反關於特留分規定之範圍內，得以遺囑自由處分遺產
 - (D) 乙、A、B 不得為甲之遺囑見證人
- 25 下列何者，於侵害繼承人之特留分時，得為扣減之標的？
- (A) 被繼承人生前贈與
 - (B) 被繼承人生前特種贈與
 - (C) 應繼分之指定
 - (D) 被繼承人生前贈與及應繼分之指定

測驗式試題標準答案

考試名稱：106年公務人員高等考試三級考試暨普通考試

類科名稱：財稅行政、法制、商業行政、智慧財產行政

科目名稱：民法（試題代號：2213）

單選題數：25題

單選每題配分：2.00分

複選題數：

複選每題配分：

標準答案：

更多高普考考試科目的歷屆題庫
立即上網搜尋“高普考歷屆考古題懶人包”
高鋒公職補習班整理
Line@帳號：@gaofeng
連絡電話：07-236-7296

題號	第1題	第2題	第3題	第4題	第5題	第6題	第7題	第8題	第9題	第10題
答案	A	A	B	B	C	C	D	D	C	D

題號	第11題	第12題	第13題	第14題	第15題	第16題	第17題	第18題	第19題	第20題
答案	D	B	C	D	B	A	D	D	A	D

題號	第21題	第22題	第23題	第24題	第25題	第26題	第27題	第28題	第29題	第30題
答案	A	A	B	B	C					

題號	第31題	第32題	第33題	第34題	第35題	第36題	第37題	第38題	第39題	第40題
答案										

題號	第41題	第42題	第43題	第44題	第45題	第46題	第47題	第48題	第49題	第50題
答案										

題號	第51題	第52題	第53題	第54題	第55題	第56題	第57題	第58題	第59題	第60題
答案										

題號	第61題	第62題	第63題	第64題	第65題	第66題	第67題	第68題	第69題	第70題
答案										

題號	第71題	第72題	第73題	第74題	第75題	第76題	第77題	第78題	第79題	第80題
答案										

題號	第81題	第82題	第83題	第84題	第85題	第86題	第87題	第88題	第89題	第90題
答案										

題號	第91題	第92題	第93題	第94題	第95題	第96題	第97題	第98題	第99題	第100題
答案										

備註：

測驗題標準答案更正

考試名稱：106年公務人員高等考試三級考試暨普通考試

更多高普考考試科目的歷屆題庫
立即上網搜尋“高普考歷屆考古題懶人包”
高鋒公職補習班整理
Line@帳號：@gaofeng
連絡電話：07-236-7296

類科名稱：財稅行政、法制、商業行政、智慧財產行政

科目名稱：民法

單選題數：25題

單選每題配分：2.00分

複選題數：

複選每題配分：

標準答案：答案標註#者，表該題有更正答案，其更正內容詳見備註。

題號	第1題	第2題	第3題	第4題	第5題	第6題	第7題	第8題	第9題	第10題
答案	A	A	B	B	C	C	D	D	C	D

題號	第11題	第12題	第13題	第14題	第15題	第16題	第17題	第18題	第19題	第20題
答案	D	B	#	D	B	A	D	D	A	D

題號	第21題	第22題	第23題	第24題	第25題	第26題	第27題	第28題	第29題	第30題
答案	A	A	B	B	C					

題號	第31題	第32題	第33題	第34題	第35題	第36題	第37題	第38題	第39題	第40題
答案										

題號	第41題	第42題	第43題	第44題	第45題	第46題	第47題	第48題	第49題	第50題
答案										

題號	第51題	第52題	第53題	第54題	第55題	第56題	第57題	第58題	第59題	第60題
答案										

題號	第61題	第62題	第63題	第64題	第65題	第66題	第67題	第68題	第69題	第70題
答案										

題號	第71題	第72題	第73題	第74題	第75題	第76題	第77題	第78題	第79題	第80題
答案										

題號	第81題	第82題	第83題	第84題	第85題	第86題	第87題	第88題	第89題	第90題
答案										

題號	第91題	第92題	第93題	第94題	第95題	第96題	第97題	第98題	第99題	第100題
答案										

備註：第13題答A或C者均給分。

106年公務人員高等考試三級考試試題

20760、21360
21460、21560 全一張
代號：22060、22360 (正面)
22460、22660
23060

類 科：勞工行政、財稅行政、金融保險、統計、國際經貿法律、經建行政、公平交易管理、商業行政、僑務行政（選試英文）

科 目：經濟學

考試時間：2 小時

更多高普考考試科目的歷屆題庫
立即上網搜尋“高普考歷屆考古題懶人包”
高鋒公職補習班整理
Line@帳號：@gaofeng
連絡電話：07-236-7296

座號：_____

※注意：禁止使用電子計算器。

甲、申論題部分：（50 分）

- (一)不必抄題，作答時請將試題題號及答案依照順序寫在申論試卷上，於本試題上作答者，不予計分。
- (二)請以藍、黑色鋼筆或原子筆在申論試卷上作答。
- (三)本科目除專門名詞或數理公式外，應使用本國文字作答。

一、假設某一產品生產所需的設備與原料有相當比率必須仰賴進口，當新臺幣貶值時，對該產品的國內市場供給與需求會有何影響？（10 分）又對該產品的國內價格有何影響？（5 分）消費者與生產者那一方會負擔或受益比較大？（10 分）

二、近年來，世界各國皆在引進數位科技取代類比技術，原本各自獨立的產業現可跨業經營（數位匯流），行動支付、物聯網、製造業 4.0、創新服務業、……乃因應而生。進入數位經濟時代後，請利用 AD-AS（總合需求與供給）模型來探討：

- (一) AD 是否會受到影響？為什麼？（10 分）
- (二) AS 是否會受到影響？為什麼？（10 分）
- (三) 國內一般物價水準與實質國民所得是否會受到影響？為什麼？（5 分）

乙、測驗題部分：（50 分）

代號：6207

- (一)本測驗試題為單一選擇題，請選出一個正確或最適當的答案，複選作答者，該題不予計分。
- (二)共 25 題，每題 2 分，須用 2B 鉛筆在試卡上依題號清楚劃記，於本試題或申論試卷上作答者，不予計分。

- 1 如果經濟體對每增加一單位 Y 財貨的生產要犧牲越來越多的 X 財貨，則其生產可能曲線是：
(A)一條垂直線 (B)一條負斜率直線 (C)一條凹向原點曲線 (D)一條凸向原點曲線
- 2 假設披薩及漢堡互為替代品，則披薩價格下跌時，我們預期漢堡價格____，漢堡消費數量____。
(A)上升；增加 (B)上升；減少 (C)下降；增加 (D)下降；減少
- 3 假定草莓醬和果凍是互補品，其他條件不變，如果果凍價格下跌，則草莓醬市場的生產者剩餘：
(A)會增加 (B)會減少 (C)不會改變 (D)不確定是否會增加或減少
- 4 其他條件不變，不管漢堡價格如何變化，小民每天買 2 個漢堡，她對漢堡的需求價格彈性為：
(A) 0 (B) 1 (C) 大於 1 (D) 小於 1，但大於 0
- 5 如果消費者的所得增加，使得公共巴士的搭乘（bus ride）需求量減少，則公共巴士的搭乘是：
(A)炫耀財 (B)正常財 (C)劣等財 (D)季芬財
- 6 如果小花想增加她賣玉蘭花的收入，且知道玉蘭花需求的價格彈性大於 1，她應該：
(A)提高花價，因為需求量會同時增加
(B)提高花價，因為需求量減少的百分比將小於價格上升的百分比
(C)降低花價，因為需求量增加的百分比將大於價格下降的百分比
(D)降低花價，以增加需求，使需求曲線右移
- 7 假設某廠商生產 9 個烤餅的平均生產成本為 5 元，10 個烤餅的平均生產成本為 5.2 元，則第 10 單位烤餅的邊際成本為：
(A) 0.2 元 (B) 2 元 (C) 5.2 元 (D) 7 元

（請接背面）

106年公務人員高等考試三級考試試題

類 科：勞工行政、財稅行政、金融保險、統計、國際經貿法律、經建行政、公平交易管理、商業行政、僑務行政(選試英文)

科 目：經濟學

- 8 小民願意支付 750 元而大維願意支付 1,000 元購買桌球拍，一隻桌球拍在市場的售價為 800 元，則二人之消費者剩餘合計是多少？
(A) 100 元 (B) 150 元 (C) 200 元 (D) 250 元
- 9 下列那一項不是完全競爭產業的特點？
(A)廠商家數很多 (B)短期內可有正的利潤 (C)廠商追求利潤最大化 (D)有許多差異化的產品
- 10 若一個市場內的競爭與進入受到公共特許權、政府執照、專利權或著作權的核發影響，則稱之為_____。
(A)自然獨占 (B)法定獨占 (C)單一價格獨占 (D)價格歧視獨占
- 11 公共財 (public goods) 的消費特性為：
(A)具排他性 (excludable)，但不具敵對性 (rival) (B)具敵對性，但不具排他性
(C)兼具敵對性與排他性 (D)不具敵對性，也不具排他性
- 12 下列何種資產的流動性 (liquidity) 最高？
(A)股票 (B)紙幣 (C)房地產 (D)活期存款
- 13 所謂停滯性膨脹 (stagflation) 係指下列何種現象？
(A)失業上升且通貨膨脹上升 (B)失業下降且通貨膨脹下降
(C)失業上升且通貨膨脹下降 (D)失業下降且通貨膨脹上升
- 14 菲利浦曲線 (Phillips Curve) 描述_____及_____的_____向關係。
(A)名目 GDP；物價水準；正 (B)通貨膨脹率；利率；正
(C)通貨膨脹率；失業率；負 (D)經濟成長率；失業率；負
- 15 當失業率達到自然失業率時，代表無_____。
(A)摩擦性失業 (B)結構性失業 (C)循環性失業 (D)任何失業人口
- 16 根據費雪等式 (The Fisher Equation)，通貨膨脹率為正時，隱含_____。
(A)實質利率大於名目利率 (B)實質利率小於名目利率 (C)實質利率等於名目利率 (D)實質利率為 0
- 17 根據貨幣數量理論 (Theory of Quantity)，在長期，_____的成長率增加導致_____的增加。
(A)實質 GDP；通貨膨脹率 (B)實質 GDP；貨幣流通速度成長率
(C)貨幣數量；實質 GDP 成長率 (D)貨幣數量；通貨膨脹率
- 18 當新臺幣_____，則我們預期臺灣的_____值_____。
(A)貶值；出口；增加 (B)貶值；進口；增加 (C)升值；出口；增加 (D)升值；進口；減少
- 19 若經濟體系的均衡國內生產毛額 (GDP) 高於潛在產出 (potential output)，下列敘述何者正確？
(A)存在緊縮缺口，應採行擴張性財政政策 (B)存在膨脹缺口，應採行緊縮性財政政策
(C)存在緊縮缺口，應採行緊縮性財政政策 (D)存在膨脹缺口，應採行擴張性財政政策
- 20 以下何者為中央銀行用以刺激景氣的擴張型貨幣政策？
(A)調高法定存款準備率 (B)公開市場買入 (C)公開市場賣出 (D)調高重貼現率
- 21 若中央銀行在公開市場賣出債券，下列敘述何者正確？
(A)利率提高且貨幣供給增加 (B)利率提高且貨幣供給減少
(C)利率降低且貨幣供給增加 (D)利率降低且貨幣供給減少
- 22 若經濟體系處於流動性陷阱 (liquidity trap)，下列敘述何者正確？
(A)貨幣與財政政策皆有效 (B)貨幣與財政政策皆無效
(C)財政政策有效，貨幣政策無效 (D)貨幣政策有效，財政政策無效
- 23 根據一般物價變動的財富效果 (wealth effect)，當物價下跌，資產的購買力將會？
(A)上升且消費者支出減少 (B)上升且消費者支出增加 (C)上升且投資支出減少 (D)上升且投資支出增加
- 24 當景氣低迷時，政府可採取_____公共支出或_____稅賦的財政政策來刺激景氣。
(A)增加；減少 (B)增加；增加 (C)減少；減少 (D)減少；增加
- 25 假如兩國的資產報酬率相同，則_____假說成立。
(A)購買力平價 (B)利率平價 (C)交換平價 (D)外匯平價

測驗式試題標準答案

更多高普考考試科目的歷屆題庫
立即上網搜尋“高普考歷屆考古題懶人包”
高鋒公職補習班整理
Line@帳號：@gaofeng
連絡電話：07-236-7296

考試名稱：106年公務人員高等考試三級考試暨普通考試

類科名稱：僑務行政(選試英文)、勞工行政、財稅行政、金融保險、統計、國際經貿法律、經建行政
、公平交易管理、商業行政

科目名稱：經濟學(試題代號：6207)

單選題數：25題

單選每題配分：2.00分

複選題數：

複選每題配分：

標準答案：

題號	第1題	第2題	第3題	第4題	第5題	第6題	第7題	第8題	第9題	第10題
答案	C	D	A	A	C	C	D	C	D	B

題號	第11題	第12題	第13題	第14題	第15題	第16題	第17題	第18題	第19題	第20題
答案	D	B	A	C	C	B	D	A	B	B

題號	第21題	第22題	第23題	第24題	第25題	第26題	第27題	第28題	第29題	第30題
答案	B	C	B	A	B					

題號	第31題	第32題	第33題	第34題	第35題	第36題	第37題	第38題	第39題	第40題
答案										

題號	第41題	第42題	第43題	第44題	第45題	第46題	第47題	第48題	第49題	第50題
答案										

題號	第51題	第52題	第53題	第54題	第55題	第56題	第57題	第58題	第59題	第60題
答案										

題號	第61題	第62題	第63題	第64題	第65題	第66題	第67題	第68題	第69題	第70題
答案										

題號	第71題	第72題	第73題	第74題	第75題	第76題	第77題	第78題	第79題	第80題
答案										

題號	第81題	第82題	第83題	第84題	第85題	第86題	第87題	第88題	第89題	第90題
答案										

題號	第91題	第92題	第93題	第94題	第95題	第96題	第97題	第98題	第99題	第100題
答案										

備註：

代號：21350
21650
頁次：4-1

106年公務人員高等考試三級考試試題

類 科：財稅行政、會計
科 目：財政學
考試時間：2 小時

更多高普考考試科目的歷屆題庫
立即上網搜尋“高普考歷屆考古題懶人包”
高鋒公職補習班整理
Line@帳號：@gaofeng
連絡電話：07-236-7296

座號：_____

※注意：可以使用電子計算器，須詳列解答過程。

甲、申論題部分：（50 分）

- (一)不必抄題，作答時請將試題題號及答案依照順序寫在申論試卷上，於本試題上作答者，不予計分。
- (二)請以藍、黑色鋼筆或原子筆在申論試卷上作答。
- (三)本科目除專門名詞或數理公式外，應使用本國文字作答。

一、當財貨或勞務之生產或消費具外部性時，市場經濟往往導致資源配置不效率的結果。在政府不直接介入干預的前提下，討論市場經濟可能經由那些管道或方式，自行避免或緩減外部性所致之資源配置不效率問題？（15 分）請以污染為例說明在那些情形下，為避免或緩減污染所致之資源配置不效率情形，政府透過直接的命令與管制方式（command and control），相較於設計經濟誘因計畫（incentive-based programs），例如排放權費（emissions fee）與總量管制及交易制度（cap and trade）等，會有更好的結果？（10 分）

二、在市場為自然獨占（natural monopoly）的情形下，常由政府生產與提供該項財貨或勞務。請就效率面與使用者付費之「受益原則」（benefit-received principle）兩個角度，討論以下三種公營或公用事業定價方式之優劣：（18 分）

- (一)邊際成本定價、虧損由定額稅（lump-sum tax）補貼
- (二)平均成本定價
- (三)獨占定價

請進一步說明最適租稅理論（optimal taxation theory）中之雷姆西法則（Ramsey rule）如何運用於公營或公用事業定價？（7 分）

乙、測驗題部分：（50 分）

代號：5213

- (一)本測驗試題為單一選擇題，請選出一個正確或最適當的答案，複選作答者，該題不予計分。
- (二)共 25 題，每題 2 分，須用 2B 鉛筆在試卡上依題號清楚劃記，於本試題或申論試卷上作答者，不予計分。

1 假設整個經濟體系只有兩人（A 與 B）兩財（X 與 Y）且生產資源與技術水準固定，如果在目前的資源配置下， $MRS_{XY}^A = \frac{2}{3}$ ； $MRS_{XY}^B = \frac{2}{3}$ ； $MRT_{XY} = \frac{3}{4}$ ，則：

- (A)資源配置已達柏瑞圖最適境界
- (B)可透過增產 X 來增進效率
- (C)可透過增產 Y 來增進效率
- (D)已經找不到可以產生柏瑞圖改善（Pareto improvement）的資源重配置方式

- 2 所謂將個人的需求曲線「水平加總」而成社會的總需求曲線，是指：
- (A)在相同的價格下，將每人個別的消費數量加總而得
 - (B)在相同的數量下，將每人個別的願付價格加總而得
 - (C)在不同的價格下，將每人相同的消費數量加總而得
 - (D)在不同的數量下，將每人相同的願付價格加總而得
- 3 下列對金融性外部性（pecuniary externality）的敘述，何者正確？
- (A)會造成超額儲蓄的問題
 - (B)會造成呆帳過多的可能
 - (C)會造成市場失靈的發生
 - (D)會造成資源分配的改變
- 4 當財貨為公共財、市場存在正外部性與負外部性的現象時，下列敘述何者正確？
- (A)由市場自行決定的均衡數量均會小於社會的最適數量
 - (B)只有正外部性不會造成效率的損失，其餘兩者都會
 - (C)三者均可透過寇斯定理（Coase Theorem）來達成社會的最適數量
 - (D)三者均會造成市場失靈
- 5 史蒂格勒（G. Stigler）利用恩格爾法則（Engel's Law）說明公共支出成長趨勢，認為：
- (A)公共財符合劣等財的定義
 - (B)公共財符合奢侈品的定義
 - (C)公共財符合季芬財（Giffen goods）的定義
 - (D)公共財符合必需品的定義
- 6 關於競租理論，下列敘述何者錯誤？
- (A)是由杜洛克於 1967 年出版的文章中首次提出
 - (B)經濟租即為經濟個體索取的收益高於提供該財貨或勞務的機會成本的部分
 - (C)經濟租的概念與生產者剩餘不同
 - (D)競租理論的成本是指機會成本，即為生產成本，也就是外顯成本
- 7 下列何者是造成自然獨占的主要原因？
- (A)政府的特許
 - (B)規模經濟
 - (C)資訊不對稱
 - (D)無進出障礙
- 8 財產稅的傳統觀點認為只要土地的數量不變，則供給曲線是垂直的，因此對土地課徵財產稅之稅負：
- (A)完全由地主負擔
 - (B)可以轉嫁給承租人負擔
 - (C)可以旁轉給第三人負擔
 - (D)地主與承租人平均負擔該稅負

9 假設社會上有 7 個人面對 4 種不同規模的公共財 x 、 a 、 b 、 c ；7 人的偏好順序如下：

1. $x > c > b > a$
2. $a > x > c > b$
3. $b > a > x > c$
4. $x > c > b > a$
5. $a > x > c > b$
6. $b > a > x > c$
7. $x > c > b > a$

若採記點投票 (Borda rule)，每位投票者依個人偏好將議案排列順序，最高者給 4 點，依序遞減。最後勝出為那一個方案？

- (A) x (B) a (C) c (D) 出現循環多數決
- 10 假設負所得稅制度規定納稅義務人稅前所得為零時，可以得到 2 萬元的負所得稅，但所得每增加 1 元，其負所得稅就減少 0.2 元，直到零為止。超過負所得稅為零之所得水準後，所得每增加 1 元，需繳交所得稅 0.4 元。若一納稅義務人稅前所得為 A ，稅後可支配所得為 B ，則以下關於 A 與 B 的敘述何者錯誤？
- (A) $A=6$ 萬元時， $B=6.8$ 萬元 (B) $A=7$ 萬元時， $B=7.4$ 萬元
(C) $A=9$ 萬元時， $B=9.2$ 萬元 (D) $A=12$ 萬元時， $B=11.2$ 萬元
- 11 若社會中僅有甲、乙兩人，在林達爾均衡 (Lindahl equilibrium) 中，若甲的林達爾價格高於乙的林達爾價格，則下列何者正確？
- (A) 甲為支應公共財的租稅分攤比重較乙為高 (B) 乙為支應公共財的租稅分攤比重較甲為高
(C) 甲、乙兩人林達爾價格的總和必然大於一 (D) 甲、乙兩人林達爾價格的總和必然小於一
- 12 當年度的保險給付完全取自當年度的保費收入，此種年金制度的財源籌措方式稱為：
- (A) 完全提存準備制 (B) 隨收隨付制 (C) 部分提存準備制 (D) 彈性提存準備制
- 13 尼斯肯南 (W. A. Niskanen) 提出何種模型詮釋政府支出膨脹現象？
- (A) 不平衡成長模型 (B) 官僚決策模型 (C) 選票互助模型 (D) 財政幻覺模型
- 14 下列那一個福利理論認為社會是一個完整的體系，體系中個體的總和形成了體系的本身？
- (A) 費邊社會主義 (Fabian socialism) (B) 馬克思主義 (Marxism)
(C) 結構功能學派 (structural functionalism) (D) 邊際效益 (marginal benefit)
- 15 下列何者是我國社會安全制度中，保障或服務對象涵蓋範圍最廣的項目？
- (A) 社會福利 (B) 社會保險 (C) 社會救助 (D) 社會補貼
- 16 加入分配面考慮，下列何者不是雷姆西法則 (Ramsey rule) 修正時考慮之因素？
- (A) 社會福利函數公平意涵之強弱 (B) 高低所得者間福利權數的差異
(C) 課稅財貨所得彈性之差異 (D) 高低所得者間偏好之差異

- 17 下列何者非屬最適租稅問題的一般設定？
- (A)為取得一定之稅收 (B)所有租稅皆具扭曲性
(C)稅收之支用所造成扭曲的極小 (D)課稅為使社會福利的極大
- 18 為降低酒的消費，政府打算對酒商每公升售出的酒課徵 1 元的稅，希冀能達成一定寓禁於徵的效果。假設酒之需求為： $Q=500,000-20,000P$ 、供給為： $Q=30,000P$ ；式中， Q 為量（公升）、 P 為價格（元）。市場為完全競爭下，稅前及稅後市場均衡量各為？
- (A) 30,000 及 28,800 (B) 300,000 及 288,000 (C) 15,000 及 14,400 (D) 150,000 及 144,000
- 19 下列有關我國加值型及非加值型營業稅之敘述，何者錯誤？
- (A)我國加值稅稅基為營業毛額減進貨再減資本財支出，亦即相當於對國民所得中用於消費的部分課稅，為消費型加值稅
(B)應納稅額等於銷項稅額減進項稅額
(C)採稅基相減法，課徵較為便利
(D)對於購買固定設備之進項稅額准予全額扣抵甚至退稅
- 20 依照我國現行所得稅法之規定，我國現行有關免稅額的扣除是採用下列何種方法？
- (A)採稅額扣抵法 (B)所得愈高，免稅額遞減
(C)所得減除法 (D)超過某一起徵點就不能扣除免稅額
- 21 根據布坎南（J. Buchanan）的地方財政理論，下列何者為居民決定遷移的因素？
- (A)財政幻覺（fiscal illusion） (B)財政剩餘（fiscal residuum）
(C)財政拖累（fiscal drag） (D)財政紅利（fiscal dividend）
- 22 有關租稅輸出（tax exporting）之敘述，下列何者錯誤？
- (A)低估地方公共財的成本 (B)導致地方公共財生產過多
(C)對地方特產課稅不會產生租稅輸出 (D)租稅輸出為一種租稅轉嫁
- 23 關於我國地方稅法通則之規定，下列敘述何者錯誤？
- (A)縣稅之特別稅課，不得以已徵貨物稅或菸酒稅之貨物為課徵對象
(B)國稅之受償優先於地方稅
(C)地方政府開徵臨時稅課應指明課徵該稅課之目的，並應對所開徵之臨時稅課指定用途
(D)地方政府得就地價稅原規定稅率，於百分之三十範圍內，予以調高，訂定徵收率
- 24 下列那一個預算制度的優點在於藉由成本效益分析工具為決策基礎，不但著重達成長期目標，也支持各年度預算的執行？
- (A)零基預算制度 (B)單一預算制度 (C)設計計畫預算制度 (D)複式預算制度
- 25 龐氏賽局（Ponzi Game）應用在財政學上，最符合以下何種現象？
- (A)稅上加稅 (B)以債養債 (C)以退為進 (D)移花接木

測驗式試題標準答案

考試名稱：106年公務人員高等考試三級考試暨普通考試

類科名稱：財稅行政、會計

科目名稱：財政學（試題代號：5213）

更多高普考考試科目的歷屆題庫
立即上網搜尋“高普考歷屆考古題懶人包”
高鋒公職補習班整理
Line@帳號：@gaofeng
連絡電話：07-236-7296

單選題數：25題

單選每題配分：2.00分

複選題數：

複選每題配分：

標準答案：

題號	第1題	第2題	第3題	第4題	第5題	第6題	第7題	第8題	第9題	第10題
答案	C	A	D	D	B	D	B	A	A	B

題號	第11題	第12題	第13題	第14題	第15題	第16題	第17題	第18題	第19題	第20題
答案	A	B	B	C	B	C	C	B	C	C

題號	第21題	第22題	第23題	第24題	第25題	第26題	第27題	第28題	第29題	第30題
答案	B	C	B	C	B					

題號	第31題	第32題	第33題	第34題	第35題	第36題	第37題	第38題	第39題	第40題
答案										

題號	第41題	第42題	第43題	第44題	第45題	第46題	第47題	第48題	第49題	第50題
答案										

題號	第51題	第52題	第53題	第54題	第55題	第56題	第57題	第58題	第59題	第60題
答案										

題號	第61題	第62題	第63題	第64題	第65題	第66題	第67題	第68題	第69題	第70題
答案										

題號	第71題	第72題	第73題	第74題	第75題	第76題	第77題	第78題	第79題	第80題
答案										

題號	第81題	第82題	第83題	第84題	第85題	第86題	第87題	第88題	第89題	第90題
答案										

題號	第91題	第92題	第93題	第94題	第95題	第96題	第97題	第98題	第99題	第100題
答案										

備註：

類 科：財稅行政

科 目：租稅各論

考試時間：2小時

※注意：禁止使用電子計算器。

更多高普考考試科目的歷屆題庫
立即上網搜尋“高普考歷屆考古題懶人包”
高鋒公職補習班整理
Line@帳號：@gaofeng
連絡電話：07-236-7296

座號：_____

甲、申論題部分：(50分)

- (一)不必抄題，作答時請將試題題號及答案依照順序寫在申論試卷上，於本試題上作答者，不予計分。
- (二)請以藍、黑色鋼筆或原子筆在申論試卷上作答。
- (三)本科目除專門名詞或數理公式外，應使用本國文字作答。

一、何謂稅式支出 (tax expenditure)？我國於 105 年 12 月 28 日公布之納稅者權利保護法第 6 條將稅式支出納入規定，請陳述該條文之內容與立法理由。並請以所得稅之納稅義務人對教育、文化、公益、慈善機構或團體的捐贈為例，說明稅式支出對捐贈數量的影響。(25分)

二、何謂勤勞所得租稅抵減制度 (earned income tax credit, EITC)？該制度為何能被許多國家所採用，其主要原因為何？在負所得稅制度下，推行 EITC 制度對低所得家庭的休閒與工作決策有何影響？請詳述之。(25分)

乙、測驗題部分：(50分)

代號：4213

- (一)本測驗試題為單一選擇題，請選出一個正確或最適當的答案，複選作答者，該題不予計分。
- (二)共 25 題，每題 2 分，須用 2B 鉛筆在試卡上依題號清楚劃記，於本試題或申論試卷上作答者，不予計分。

- 1 根據個人從政府支出中所收到的相對報償多寡來課稅，稱為：
(A)受益稅 (benefit tax) (B)矯正稅 (corrective tax) (C)皮古稅 (Pigouvian tax) (D)銷售稅 (sales tax)
- 2 在比例所得稅下，有關平均稅率之敘述何者正確？
(A)大於邊際稅率
(B)小於邊際稅率
(C)等於邊際稅率
(D)低所得時等於邊際稅率，所得增加超過一定程度時會小於邊際稅率
- 3 假設代表性消費者的效用為兩種財貨的函數，在稅前無任何經濟扭曲且不考慮休閒的前提下，為取得相同稅收，下列何種租稅的課徵，對消費者所造成的福利損失較大？
(A)定額稅 (B)所得稅 (C)特種消費稅 (D)一般消費稅
- 4 消費稅的中立性原則，主要為求：
(A)消費者課稅前後的消費數量相等 (B)生產者課稅前後的生產數量相等
(C)避免產生所得效果 (D)避免產生替代效果

- 5 假設某一納稅義務人的邊際稅率為 20%，當存款利率為 8%時，通貨膨脹率為 3%。現在通貨膨脹率上漲 3%，存款利率必須上漲多少才能維持他的稅後實質利率不變？
- (A) 3.75% (B) 3% (C) 2.75% (D) 3.25%
- 6 租稅歸宿分析中所稱的完全資本化 (complete capitalization) 是指：
- (A)對資本課稅的結果，租稅全部由資本所有者負擔
(B)對資本課稅的結果，租稅全部由消費資本密集財貨的消費者負擔
(C)若土地的供給完全沒有彈性，則土地的現值會依未來所有土地稅的現值下跌
(D)若土地的供給有完全的彈性，則所有未來的土地稅會完全由目前的土地持有者負擔
- 7 假設某一單身納稅義務人採標準扣除額，且無特別扣除額，減除免稅額與標準扣除額後的綜合所得淨額為 520,000 元。綜合所得淨額在 520,000 元以下適用的稅率為 5%，520,001 元至 1,170,000 元適用的稅率為 12%。若現在物價指數上升 10%，他的綜合所得總額、免稅額與標準扣除額也上升 10%，但課稅級距不變。則因級距爬升結果，此人名目稅負增加多少？
- (A) 0 元 (B) 4,360 元 (C) 3,640 元 (D) 6,240 元
- 8 若奢侈品之需求所得彈性大，且其價格彈性也較大，關於對奢侈品課稅的結果，下列敘述何者正確？
- (A)寓禁於徵效果與量能課稅效果均不佳 (B)寓禁於徵效果與量能課稅效果均佳
(C)寓禁於徵效果不佳，而量能課稅效果佳 (D)寓禁於徵效果佳，而量能課稅效果不佳
- 9 下列何者非現行綜合所得稅應納稅額之計稅方式？
- (A)夫及妻之各類所得合併計算稅額
(B)先將夫或妻薪資所得分開計算稅額，其餘各類所得合併計算稅額
(C)先將夫或妻薪資所得及利息所得分開計算稅額，其餘各類所得合併計算稅額
(D)先將夫或妻各類所得分開計算稅額，再合併計算稅額
- 10 有關所得稅的相關課稅規定，下列敘述何者正確？
- (A)淨資產增加說係由德國熊滋 (G. Von Schanz)、美國海格 (R. M. Haig) 和西蒙士 (H. Simons) 所提出，又稱 S-H-S 所得概念
(B)海格 (R. M. Haig) 認為所得就是消費，係透過消費行為所產生，但資本利得及儲蓄不應視為所得課稅
(C)費雪 (I. Fisher) 認為應對具有規則性、週期循環性且重複發生的所得課稅
(D)所得稅的課稅主體為所得，課稅客體為納稅義務人
- 11 下列所得類型，何者非屬依法應扣繳稅款的範圍？
- (A)公司分配予中華民國境內居住之股東的股利淨額 (B)公司給付董監事的報酬
(C)公司給付律師作為法律顧問費用的報酬 (D)會計師事務所給付受雇會計師的報酬

- 12 自 94 年度起，下列何者為依據所得稅法第 66 條之 9 規定，於計算未分配盈餘時之減除項目？
- (A)當年度以法定盈餘公積或特別盈餘公積撥充資本之金額
 - (B)當年度以受託人身分經營信託業務所繳納之營利事業所得稅之金額
 - (C)已由當年度扣除之投資抵減之金額
 - (D)已由當年度盈餘分配的股利淨額或盈餘淨額
- 13 下列關於兩稅合一之敘述，何者正確？
- (A)持法人擬制說觀點者，認為營利事業稅後盈餘分配給股東，又按股東綜合所得稅稅率課徵所得稅，不造成重複課稅，故反對實施兩稅合一
 - (B)持法人擬制說觀點者，認為營利事業稅後盈餘分配給股東，又按股東綜合所得稅稅率課徵所得稅，造成重複課稅，故贊成實施兩稅合一
 - (C)持法人實在說觀點者，認為營利事業稅後盈餘分配給股東，又按股東綜合所得稅稅率課徵所得稅，造成重複課稅，故贊成實施兩稅合一
 - (D)持法人實在說觀點者，認為營利事業稅後盈餘分配給股東，又按股東綜合所得稅稅率課徵所得稅，造成重複課稅，故反對實施兩稅合一
- 14 若政府以均一稅制課徵所得稅，稅負為 $T = t(Y - \bar{Y})$ ， t 為稅率， \bar{Y} 為免稅額， Y 為稅前所得。若政府將 t 提高 1%，某甲稅前所得在 t 提高前後皆固定且大於 \bar{Y} ，則對某甲會造成何種影響？
- (A)邊際稅率提高 1%，平均稅率提高低於 1%
 - (B)邊際稅率提高 1%，平均稅率提高超過 1%
 - (C)邊際稅率提高超過 1%，平均稅率提高低於 1%
 - (D)邊際稅率提高低於 1%，平均稅率保持不變
- 15 下列何者為支出稅（綜合消費稅）的特色？
- (A)採加值型方式課徵
 - (B)對一定期間內之消費支出加總後課稅
 - (C)對消費、儲蓄、投資三者綜合課稅
 - (D)無最低生活消費支出之免稅考量
- 16 有關我國現行加值型及非加值型營業稅之課稅規定，下列何者正確？
- (A)採單階段銷售稅形式課徵
 - (B)農產品批發市場之承銷人及銷售農產品之小規模營業人，稅率為 1%
 - (C)稅率除稅法另有規定外，須介於 5%~10%，目前徵收率為 5%
 - (D)採稅基相減法計算加值型營業稅額
- 17 近年來政府積極爭取進入 TPP（跨太平洋戰略經濟夥伴關係協議），屆時我國亦須對等開放國內市場給他國。如果在開放的經濟體系中，本國規模相對於國際市場很小，關於此項減讓關稅政策對本國之影響，下列敘述何者錯誤？
- (A)國內價格下降，趨向國際價格水準
 - (B)進口量增加
 - (C)國內消費者與生產者福利均會增加
 - (D)社會整體福利水準上升

- 18 我國現行「菸酒稅」之敘述，下列何者正確？
- (A)採累進稅率
(B)兼採從量與從價課稅
(C)於買受人購買時徵收
(D)菸酒稅額為營業稅之稅基
- 19 下列有關我國財產稅之稅基，何者正確？
- (A)地價稅以公告地價為稅基
(B)房屋稅以房屋現值為稅基
(C)土地增值稅以實際移轉價格為稅基
(D)地價稅以公告現值為稅基
- 20 若 G1 與 G2 分別代表某一地方政府在課徵財產稅時，產生租稅輸出與租稅競爭情況下，該地方政府所提供的地方公共財數量（假設該公共財不會產生地區間的外溢效果）；而 G3 則是由中央政府所提供的該地區最適公共財數量。下列何者最可能發生？
- (A) $G1 < G2 < G3$ (B) $G3 < G2 < G1$ (C) $G1 < G3 < G2$ (D) $G2 < G3 < G1$
- 21 下列不計入贈與總額之項目，何者錯誤？
- (A)於法定限額內，父母於子女婚嫁時所贈與之財產
(B)公共設施保留地因配偶、直系血親間之贈與而移轉免贈與稅
(C)作農業使用之農業用地及其地上農作物贈與直系血親者
(D)捐贈公有事業機構或全部公股之公營事業之財產
- 22 合於規定之自用住宅用地，其地價稅適用之稅率為千分之多少？
- (A)一 (B)二 (C)五 (D)十
- 23 下列何者非屬我國現行土地增值稅的問題？
- (A)土地買賣若發生在同一年，即使有增值，亦可免繳稅
(B)稅率設計違反水平公平及垂直公平
(C)與所得稅分離課稅違反量能課稅
(D)若出售總價不變，土地分割出售可以減少土地增值稅負擔
- 24 下列何者非屬農地移轉免徵土地增值稅之要件？
- (A)須為依法作農業使用
(B)移轉他人後須依法繼續作農業使用 5 年
(C)須移轉與自行耕作之農民
(D)須為區域計劃法劃定之農業用地
- 25 依房屋稅條例之規定，關於房屋稅徵收率之敘述，下列何者正確？
- (A)中央政府得視地方實際情形，在規定之稅率範圍內，經立法院通過，規定房屋稅徵收率
(B)直轄市及縣（市）政府得視地方實際情形，在規定之稅率範圍內，分別規定房屋稅徵收率，提經當地民意機關通過，報請或層轉財政部備案
(C)中央政府得視實際情形，在規定之稅率範圍內，規定房屋稅徵收率，由行政院指定財政部辦理
(D)直轄市及縣（市）政府得視地方實際情形，在規定之稅率範圍內，分別規定房屋稅徵收率，報請行政院備案

測驗式試題標準答案

考試名稱：106年公務人員高等考試三級考試暨普通考試

類科名稱：財稅行政

科目名稱：租稅各論（試題代號：4213）

單選題數：25題

單選每題配分：2.00分

複選題數：

複選每題配分：

標準答案：

更多高普考考試科目的歷屆題庫
立即上網搜尋“高普考歷屆考古題懶人包”
高鋒公職補習班整理
Line@帳號：@gaofeng
連絡電話：07-236-7296

題號	第1題	第2題	第3題	第4題	第5題	第6題	第7題	第8題	第9題	第10題
答案	A	C	C	D	A	C	C	D	C	A

題號	第11題	第12題	第13題	第14題	第15題	第16題	第17題	第18題	第19題	第20題
答案	A	D	B	A	B	C	C	D	B	D

題號	第21題	第22題	第23題	第24題	第25題	第26題	第27題	第28題	第29題	第30題
答案	C	B	D	C	B					

題號	第31題	第32題	第33題	第34題	第35題	第36題	第37題	第38題	第39題	第40題
答案										

題號	第41題	第42題	第43題	第44題	第45題	第46題	第47題	第48題	第49題	第50題
答案										

題號	第51題	第52題	第53題	第54題	第55題	第56題	第57題	第58題	第59題	第60題
答案										

題號	第61題	第62題	第63題	第64題	第65題	第66題	第67題	第68題	第69題	第70題
答案										

題號	第71題	第72題	第73題	第74題	第75題	第76題	第77題	第78題	第79題	第80題
答案										

題號	第81題	第82題	第83題	第84題	第85題	第86題	第87題	第88題	第89題	第90題
答案										

題號	第91題	第92題	第93題	第94題	第95題	第96題	第97題	第98題	第99題	第100題
答案										

備註：

測驗題標準答案更正

考試名稱：106年公務人員高等考試三級考試暨普通考試

類科名稱：財稅行政

科目名稱：租稅各論

單選題數：25題

單選每題配分：2.00分

複選題數：

複選每題配分：

標準答案：答案標註#者，表該題有更正答案，其更正內容詳見備註。

題號	第1題	第2題	第3題	第4題	第5題	第6題	第7題	第8題	第9題	第10題
答案	A	C	C	D	A	C	C	D	C	A

題號	第11題	第12題	第13題	第14題	第15題	第16題	第17題	第18題	第19題	第20題
答案	A	D	B	A	B	C	C	D	B	D

題號	第21題	第22題	第23題	第24題	第25題	第26題	第27題	第28題	第29題	第30題
答案	#	B	D	#	B					

題號	第31題	第32題	第33題	第34題	第35題	第36題	第37題	第38題	第39題	第40題
答案										

題號	第41題	第42題	第43題	第44題	第45題	第46題	第47題	第48題	第49題	第50題
答案										

題號	第51題	第52題	第53題	第54題	第55題	第56題	第57題	第58題	第59題	第60題
答案										

題號	第61題	第62題	第63題	第64題	第65題	第66題	第67題	第68題	第69題	第70題
答案										

題號	第71題	第72題	第73題	第74題	第75題	第76題	第77題	第78題	第79題	第80題
答案										

題號	第81題	第82題	第83題	第84題	第85題	第86題	第87題	第88題	第89題	第90題
答案										

題號	第91題	第92題	第93題	第94題	第95題	第96題	第97題	第98題	第99題	第100題
答案										

備註：第21題答B或C者均給分，第24題答B或C者均給分。

更多高普考考試科目的歷屆題庫
立即上網搜尋“高普考歷屆考古題懶人包”
高鋒公職補習班整理
Line@帳號：@gaofeng
連絡電話：07-236-7296

類 科：財稅行政
科 目：稅務法規
考試時間：2 小時

※注意：禁止使用電子計算器。

更多高普考考試科目的歷屆題庫
立即上網搜尋“高普考歷屆考古題懶人包”
高鋒公職補習班整理
Line@帳號：@gaofeng
連絡電話：07-236-7296

座號：_____

甲、申論題部分：（50 分）

- (一)不必抄題，作答時請將試題題號及答案依照順序寫在申論試卷上，於本試題上作答者，不予計分。
(二)請以藍、黑色鋼筆或原子筆在申論試卷上作答。
(三)本科目除專門名詞或數理公式外，應使用本國文字作答。

一、何謂租稅指數化（Tax Indexation）？依據現行稅法的規定，各稅目中採取指數化調整的項目及其標準有那些？（25 分）

二、依據現行所得稅法之規定，公司組織之營利事業應於何時辦理年度所得稅結算申報？若其未於法定期限內辦理結算申報，將會產生那些租稅法律效果？（25 分）

乙、測驗題部分：（50 分）

代號：8213

- (一)本測驗試題為單一選擇題，請選出一個正確或最適當的答案，複選作答者，該題不予計分。
(二)共 25 題，每題 2 分，須用 2B 鉛筆在試卡上依題號清楚劃記，於本試題或申論試卷上作答者，不予計分。

- 1 依所得稅相關稅法規定，下列何項金額不適用按消費者物價指數連動調整之規定？
(A)綜合所得稅課稅級距 (B)營利事業所得稅起徵額
(C)個人基本所得稅起徵額 (D)營利事業基本所得稅起徵額
- 2 為反制營利事業藉由不當安排以達避稅之目的，現行所得稅法規定四項追稅措施，下列何者已經行政院正式公告施行？①移轉訂價（transfer pricing）之查核 ②反資本弱化（anti-thin-capitalization）之規範 ③受控外國公司（controlled foreign company）法則 ④實際管理處所（place of effective management）之認定
(A)①②③④ (B)①②③ (C)③④ (D)①②
- 3 某甲民國 106 年 3 月 1 日出售名下自用住宅房地一筆，總價 2,000 萬元，按當期公告現值 1,000 萬元申報繳納土地增值稅 60 萬元；該筆房地係於 105 年以總價 1,600 萬元買入，另申報繳納房地合一所得稅 60 萬元。民國 106 年 7 月 10 日某甲又以妻名義，以總價 1,800 萬元購買另一筆自用住宅房地，土地當期公告現值 980 萬元。試問：某甲重購自用住宅房地可申請退還那些稅捐？可退還稅額為多少元？
(A)土地增值稅 60 萬元；房地合一所得稅 60 萬元 (B)土地增值稅 40 萬元；房地合一所得稅 54 萬元
(C)土地增值稅 58 萬 8 千元 (D)房地合一所得稅 54 萬元
- 4 境內台星公司民國 106 年 7 月 1 日出售其於 105 年 1 月 10 日購入之土地。依相關稅法規定，台星公司出售該筆土地，應繳納那些稅捐？
(A)土地增值稅 (B)土地增值稅、加值型及非加值型營業稅
(C)土地增值稅、營利事業所得稅 (D)特種貨物及勞務稅、營利事業所得稅

- 5 依所得稅法規定，納稅義務人辦理結算申報，經核定有溢繳稅款者，稽徵機關應填發收入退還書或國庫支票，退還溢繳稅款。該收入退還書之退稅有效期間為多久？
- (A)無期間限制 (B)收入退還書填發之日起三個月內
(C)收入退還書送達之日起一個月內 (D)收入退還書送達之日起三個月內
- 6 依加值型及非加值型營業稅法規定，下列貨物，何者於中華民國境內銷售及進口時均免徵營業稅？
- (A)本國古物 (B)黃豆及玉米 (C)新鮮水果 (D)肥料
- 7 依現行稅法規定，有關遺產及贈與稅課稅稅率之敘述，下列何者錯誤？
- (A)遺產稅及贈與稅均為累進稅率，課稅級距均為 3 級
(B)遺產稅及贈與稅之課稅財產淨額 5 千萬元以下者，均課徵基本稅率 10%
(C)遺產稅及贈與稅之最高稅率均為 20%
(D)遺產稅及贈與稅屬稅率超過 10% 至 20% 以內之稅收，應用於長期照顧服務支出，不適用財政收支劃分法之規定
- 8 個人於民國 105 年度以後出售適用新制房地合一課徵所得稅者，依現行所得稅法有關持有期間之規定，下列取得原因，何者不得合併前段持有期間計算？
- (A)父子繼承 (B)兄弟遺贈 (C)配偶贈與 (D)父子贈與
- 9 張三原有一處房地出租給他人供營業用，民國 105 年 9 月 25 日起收回自住，如果張三該處房地符合自用住宅用地地價稅稅率適用條件，並於次日 9 月 26 日向稅捐稽徵機關辦理申請。依土地稅法規定，該地地價稅自何時開始適用自用住宅用地稅率？
- (A) 105 年 1 月 1 日 (B) 105 年 9 月 25 日 (C) 105 年 9 月 26 日 (D) 106 年 1 月 1 日
- 10 依稅捐稽徵法規定，欠繳應納稅捐之徵收，下列何種情形，不得因納稅義務人已提供相當財產擔保而免予執行？
- (A)納稅義務人顯有隱匿或移轉財產，逃避稅捐執行之跡象，於法定開徵日期前稽徵
(B)通知有關機關，不得為財產之移轉或設定他項權利
(C)函請內政部入出國及移民署限制出境
(D)聲請法院實施假扣押
- 11 依土地稅法規定，關於土地增值稅繳納與移轉登記之關係，下列敘述何者正確？
- (A)欠繳土地稅之土地，在欠稅未繳清前，納稅義務人如提供相當擔保，得先行辦理移轉登記
(B)經法院拍賣之土地，如拍定價額不足扣繳土地增值稅時，拍賣法院得發給權利移轉證書，惟應註記欠稅額度
(C)欠繳土地稅之土地，土地承受人不得申請代繳
(D)納稅義務人收到土地增值稅繳納通知書後，應於三十日內向公庫繳納

- 12 教唆或幫助他人犯以詐術或其他不正當方法逃漏稅捐之罪，依稅捐稽徵法第 43 條規定，加重其刑至 1/2 者，不包括何人？
- (A)稅務人員 (B)稅務教師 (C)執業會計師 (D)稅務執業律師
- 13 依據所得稅法之規定，下列那一項不屬於免稅所得的範圍？
- (A)依國家賠償法規定取得之賠償金
(B)人身保險、勞工保險及軍、公、教保險之保險給付
(C)個人非因執行職務而死亡，其遺族依法令或規定領取之撫卹金或死亡補償
(D)政府機關或其委託之學術團體辦理各種考試及各級公私立學校辦理入學考試，發給辦理試務工作人員之各種工作費用
- 14 依現行所得稅法規定，有關獨資、合夥組織之營利事業所得稅申報，下列敘述何者正確？
- (A)以往年度營業之虧損，得自本年度純益額中扣除
(B)應計算及繳納全年應納稅額
(C)得減除尚未抵繳之扣繳稅額，計算其應納之結算稅額
(D)當年度之盈餘未做分配者，應加徵 10% 營利事業所得稅
- 15 甲公司之會計年度原為四月制，惟甲公司考量公司營業狀況，經稽徵機關核准，決定自 106 年 1 月 1 日起變更會計年度為曆年制，請問甲公司變更會計年度前之會計期間（105 年 4 月 1 日至 105 年 12 月 31 日）其所得稅結算申報之最後期限為何時？
- (A) 106 年 1 月 31 日 (B) 106 年 3 月 31 日 (C) 106 年 5 月 31 日 (D) 106 年 8 月 31 日
- 16 太好買獨資商行（不屬於小規模營利事業），105 年度全年課稅所得為 2,000,000 元，應納稅額為 340,000 元，尚未抵繳之扣繳稅額為 200 元，請問太好買商行 106 年 5 月應繳納多少營利事業所得稅額？
- (A) 340,000 元 (B) 339,800 元 (C) 169,800 元 (D) 0 元
- 17 下列何者不屬於現行加值型及非加值型營業稅法規定的視為銷售貨物？
- (A)因信託行為委託人將貨物移轉於受託人 (B)營業人進口用來銷售之特殊儀器，轉贈學校研究用
(C)以自己名義代為購買貨物交付與委託人 (D)營業人解散或廢止營業時，將餘存之貨物抵償債務
- 18 大財寶公司為一中古車商，適用加值及非加值型營業稅法第四章第一節規定計稅之營業人。日前從李小明處購進中古轎車一台，購入成本為 420,000 元，其後按 315,000 元（含稅）出售，請問此筆中古車之銷售，在申報營業稅時，可以用來扣抵銷項稅額的進項稅額是多少？
- (A) 0 元 (B) 15,000 元 (C) 20,000 元 (D) 21,000 元

- 19 下列有關土地增值稅適用自用住宅用地優惠稅率之敘述何者錯誤？
- (A)每人一生僅限一次，僅一戶可享有此自用住宅優惠稅率
 - (B)曾使用過一生一次自用住宅用地稅率者，仍可在符合條件下適用自用住宅優惠稅率
 - (C)適用自用住宅用地優惠稅率之土地有面積限制
 - (D)土地所有權人或其配偶、未成年子女於土地出售前，在該地設有戶籍
- 20 依現行土地稅法有關地價稅課徵之規定，下列敘述何者錯誤？
- (A)納稅義務人行蹤不明者，主管稽徵機關得指定土地使用人代繳地價稅
 - (B)土地為信託財產者，於信託關係存續中，以委託人為地價稅之納稅義務人
 - (C)自用住宅用地的地價稅稅率為千分之二
 - (D)工業用地、礦業用地按千分之十之稅率計徵
- 21 以固定於地上的貨櫃屋作為檯榔攤使用，下列有關此貨櫃屋之房屋稅課稅敘述何者正確？
- (A)因屬於違章建築，不須課徵房屋稅
 - (B)因所有權人多屬弱勢族群，可適用房屋稅免稅規定
 - (C)因非屬房屋稅認定之房屋，不用課徵房屋稅
 - (D)因屬固定於土地上之建築物，應繳納房屋稅
- 22 陳大容對於新竹縣政府稅捐稽徵局核定之地價稅不服，在申請復查後若仍不服，應向下列那一機關提起訴願？
- (A)行政法院
 - (B)財政部
 - (C)新竹市政府
 - (D)新竹縣政府
- 23 依據貨物稅條例之規定，下列何者並非貨物稅的納稅義務人？
- (A)產製貨物者，為產製廠商
 - (B)進口貨物者，為發貨人
 - (C)法院及其他機關（構）拍賣或變賣尚未完稅之應稅貨物者，為拍定人、買受人或承受人
 - (D)委託代製貨物者，為受託之產製廠商或委託廠商
- 24 依據稅捐稽徵法規定，中華民國 96 年 3 月 5 日修正前已移送執行尚未終結之案件，自修正之日起逾五年尚未執行終結者，不再執行。但截至 106 年 3 月 4 日納稅義務人欠繳稅捐金額達新臺幣多少元者，仍得繼續執行，其執行期間不得逾 111 年 3 月 4 日。
- (A) 1 億元
 - (B) 5,000 萬元
 - (C) 3,000 萬元
 - (D) 1,000 萬元
- 25 依據產業創新條例規定，公司員工取得獎酬員工股份基礎給付，其依所得稅法規定計算之所得，得選擇全數延緩至取得年度次年之第五年課徵所得稅，一經擇定不得變更。此一緩課所得稅規定之限制金額為多少？
- (A)無金額限制
 - (B)按時價計算全年合計新臺幣一千五百萬元總額內
 - (C)按時價計算全年合計新臺幣一千萬元總額內
 - (D)按時價計算全年合計新臺幣五百萬元總額內

測驗式試題標準答案

考試名稱：106年公務人員高等考試三級考試暨普通考試

類科名稱：財稅行政

科目名稱：稅務法規（試題代號：8213）

更多高普考考試科目的歷屆題庫
立即上網搜尋“高普考歷屆考古題懶人包”
高鋒公職補習班整理
Line@帳號：@gaofeng
連絡電話：07-236-7296

單選題數：25題

單選每題配分：2.00分

複選題數：

複選每題配分：

標準答案：

題號	第1題	第2題	第3題	第4題	第5題	第6題	第7題	第8題	第9題	第10題
答案	B	D	D	C	D	D	B	D	D	B

題號	第11題	第12題	第13題	第14題	第15題	第16題	第17題	第18題	第19題	第20題
答案	D	B	C	C	A	C	A	B	A	B

題號	第21題	第22題	第23題	第24題	第25題	第26題	第27題	第28題	第29題	第30題
答案	D	D	B	D	D					

題號	第31題	第32題	第33題	第34題	第35題	第36題	第37題	第38題	第39題	第40題
答案										

題號	第41題	第42題	第43題	第44題	第45題	第46題	第47題	第48題	第49題	第50題
答案										

題號	第51題	第52題	第53題	第54題	第55題	第56題	第57題	第58題	第59題	第60題
答案										

題號	第61題	第62題	第63題	第64題	第65題	第66題	第67題	第68題	第69題	第70題
答案										

題號	第71題	第72題	第73題	第74題	第75題	第76題	第77題	第78題	第79題	第80題
答案										

題號	第81題	第82題	第83題	第84題	第85題	第86題	第87題	第88題	第89題	第90題
答案										

題號	第91題	第92題	第93題	第94題	第95題	第96題	第97題	第98題	第99題	第100題
答案										

備註：

106年公務人員高等考試三級考試試題

類 科：財稅行政、金融保險
科 目：會計學
考試時間：2 小時

更多高普考考試科目的歷屆題庫
立即上網搜尋“高普考歷屆考古題懶人包”
高鋒公職補習班整理
Line@帳號：@gaofeng
連絡電話：07-236-7296

座號：_____

※注意：可以使用電子計算器，須詳列解答過程。

甲、申論題部分：（50 分）

- (一)不必抄題，作答時請將試題題號及答案依照順序寫在申論試卷上，於本試題上作答者，不予計分。
- (二)請以藍、黑色鋼筆或原子筆在申論試卷上作答。
- (三)本科目除專門名詞或數理公式外，應使用本國文字作答。

一、下列為二獨立事件：

- (一)20X1年底甲公司積欠乙公司\$841,200之借款，此時甲公司因營運惡化陷入財務困難，經與乙公司協商後，乙公司願意接受甲公司之一部機器而撤銷全部欠款；該機器成本\$1,400,000，累計折舊\$600,000，公允價值\$760,000。試作甲公司清償該負債之分錄。（5分）
- (二)丙公司於20X3年1月1日向丁銀行借款\$1,200,000，利率固定為5%，每年底付息一次，該借款於20X7年底到期，丙公司合理計算該借款之原始有效利率為5%。20X4年底丙公司因營運情況不佳，財務出現困難，因此向丁銀行申請債務協商，並支付當年度利息。丁銀行於20X5年1月1日同意將借款利率降為2.4%，到期日延至20X9年底，到期本金只要清償\$1,000,000。丙公司另支付丁銀行協商手續費\$6,000。假定丙公司在20X5年1月1日借款之市場利率為7%，試作丙公司20X5年有關分錄（金額四捨五入計算至元為止）。（12分）

二、甲公司在20X1年初取得乙公司30%股權，其投資成本等於其所享有乙公司之股權淨值，且取得日乙公司各項可辨認資產、負債之帳面金額皆與公允價值相等；甲公司應採權益法處理但該公司歷年來皆以成本法處理該投資項目。乙公司各年度淨利(損)及股利資料列示如下：

年度	淨利(損)	股利
20X1 年	\$750,000	\$300,000
20X2 年	350,000	200,000
20X3 年	(150,000)	100,000
20X4 年	350,000	180,000

另外，甲公司過去3年來期末存貨發生下列錯誤：

20X2 年	高估	\$100,000
20X3 年	低估	80,000
20X4 年	高估	260,000

假設甲公司20X4年度的錯誤金額已入帳但尚未結帳，適用之所得稅稅率為20%。試作：（應考慮所得稅影響數）

- (一)甲公司20X4年底對上述投資會計處理錯誤之更正分錄。（6分）
- (二)甲公司20X4年底對上述存貨會計處理錯誤之更正分錄。（9分）

- 三、20X5年1月1日，甲公司宣布給與1,000位員工各200股之股份（每股面額\$10，該股份將於既得時發行予員工），條件為員工不得在既得期間內離職。若甲公司20X5年盈餘增加達到16%，則股份可於20X5年12月31日既得；若甲公司在20X5、20X6年間之盈餘平均每年增加達到11%，則可於20X6年12月31日既得；若在20X5年至20X7年此3年期間之盈餘平均每年增加達到8%，則可於20X7年12月31日既得。甲公司於上述給與日之每股公允價值為\$20，未來3年期間預期不發放股利。甲公司20X5年之盈餘增加12%，當年度有60位員工離職。20X5年底甲公司預期20X6年之盈餘將維持相同之成長率，故預期股份將於20X6年12月31日既得；同時甲公司以加權平均機率為基礎，預期仍有60位員工將於20X6年離職。甲公司20X6年之盈餘僅增加8%，故股份並未於20X6年12月31日既得。20X6年中有56位員工離職。20X6年底甲公司預期20X7年將有50位員工離職，且甲公司之盈餘將至少增加4%，故可達成每年平均8%之目標。甲公司20X7年之盈餘成長率為6%，有46位員工於20X7年中離職。
- 試作：甲公司20X5年至20X7年各年度與上述股份相關之分錄。（18分）

乙、測驗題部分：（50分）

代號：7213

- (一)本測驗試題為單一選擇題，請選出一個正確或最適當的答案，複選作答者，該題不予計分。
(二)共25題，每題2分，須用2B鉛筆在試卡上依題號清楚劃記，於本試題或申論試卷上作答者，不予計分。

- 1 丁公司X7年度稅前會計淨利為\$850,000，其費用中包含未取具合法憑證有\$30,000及罰款\$50,000於報稅時應被剔除；而\$240,000之產品售後服務保證費用需等實際支出時才可抵減課稅金額，估計X8至X11年之售後服務保證支付金額分別為\$50,000、\$120,000、\$40,000及\$30,000。X7至X11年之稅率分別為30%、28%、25%、22%及20%，試求丁公司X7年度之所得稅費用為多少？
(A)\$264,000 (B)\$273,600 (C)\$292,200 (D)\$351,000
- 2 乙公司成立於X7年，年底時在計算X7年會計淨利與課稅所得時，列出下列計算表：
- | | |
|-----------|----------|
| 會計淨利 | \$78,000 |
| 加計 | |
| 會計帳上的折舊費用 | 4,000 |
| 交際費超額部分 | 7,500 |
| 減除 | |
| 公債利息 | (5,000) |
| 報稅帳上的折舊費用 | (4,500) |
| 課稅所得 | \$80,000 |
- X7年的稅率為17%，試問乙公司X7年的所得稅費用為多少？
(A)\$13,175 (B)\$13,260 (C)\$13,600 (D)\$13,685
- 3 甲公司在X7年底時有下列幾項遞延所得稅資產或負債：
(1)X7年帳上認列了一筆分期銷貨毛利\$150,000，但稅法規定須等到收現時才可認列，該批分期銷貨收入為\$600,000，甲公司預估X8年收現\$200,000，X9年收現\$400,000。
(2)X7年底時外幣應收帳款依期末匯率重新評價，帳上認列兌換損失\$15,000，而稅法規定收現時方可認列，甲公司將於X8年收現該筆應收帳款。
假設甲公司成立於X7年初，無其他財稅差異，且該公司符合互抵條件，稅率維持17%。試問甲公司X7年底資產負債表上，有關遞延所得稅的表達下列何者正確？
(A)遞延所得稅資產\$2,550、遞延所得稅負債\$25,500
(B)遞延所得稅資產\$22,950
(C)遞延所得稅負債\$22,950
(D)遞延所得稅資產—流動\$2,550、遞延所得稅負債—流動\$8,500、遞延所得稅負債—非流動\$17,000
- 4 甲公司在X7年1月1日將帳面金額及公允價值為\$64,660的設備出售予乙公司，售價為\$78,580，剩餘耐用年限為8年，無殘值，且甲公司採直線折舊法。甲公司隨即租回該資產，租約為8年，最低租賃給付現值為\$64,660，每期租金\$12,120，於每年年底支付。試問甲公司X7年底的資產負債表上未實現售後租回利益為多少？
(A)\$0 (B)\$1,800 (C)\$12,180 (D)\$13,920

- 5 乙公司於 X4年4月1日以\$500,000購入機器設備，估計耐用年限為10年，殘值為\$50,000，採直線法計提折舊。若 X7年底作減損測試，估計該資產未來現金流入總額為\$400,000，公允價值減出售成本為\$300,000，使用價值為\$280,000，則 X7年底乙公司應認列之減損損失金額為何？
(A)\$0 (B)\$31,250 (C)\$37,500 (D)\$68,750
- 6 根據國際會計準則第 41 號公報規定，請問下列關於生物資產與農產品之原始認列基礎何者錯誤？
(A)農產品原則上應以公允價值減出售成本為原始認列基礎
(B)生物資產原則上應以公允價值減出售成本為原始認列基礎
(C)某些例外情況，農產品可以成本減所有累計折舊與累計減損衡量
(D)某些例外情況，生物資產可以成本減所有累計折舊與累計減損衡量
- 7 若投資公司因出售持股致喪失對被投資公司之重大影響力，因而將會計處理由權益法改為公允價值法，則投資公司應以下列何者作為重分類後投資之新成本？
(A)重分類日投資之帳面價值與市價之較低者 (B)重分類日投資之帳面價值
(C)原始取得日之成本 (D)重分類日之市價
- 8 丙公司 X7 年度之折舊費用為\$180,000；採權益法認列之損益份額為\$54,000；處分設備得款\$144,000，該設備原始成本\$180,000，累計折舊\$30,000；購買股票作為長期股權投資\$60,000，發行普通股購買機器設備\$375,000。請問丙公司當年度現金流量表中投資活動之淨現金流量為多少？
(A)\$84,000 (B)\$138,000 (C)\$384,000 (D)\$438,000
- 9 甲公司 X7年10月1日以\$900,000投資乙公司股份之30%，乙公司 X7年1月1日股東權益總額為\$2,700,000，投資成本超過取得股權淨值部分係乙公司設備價值低估，該設備可使用五年，無殘值，採直線法折舊。X7年度乙公司之淨利為\$240,000，假設於年度均勻發生，乙公司 X7年7月1日宣告並發放\$120,000之現金股利，則 X7年度甲公司應認列之投資收益為何？
(A)\$13,500 (B)\$14,400 (C)\$36,000 (D)\$54,000
- 10 甲公司當年稅後淨利為\$1,895,000，折舊費用\$650,000，依權益法認列之損益份額\$396,500，自權益法投資公司獲配現金股利\$125,000，減損損失\$3,800，應付公司債溢價攤銷數\$26,500，交易目的金融資產增加\$110,000，備供出售金融資產增加\$85,000，備供出售金融資產之未實現利益增加\$55,000，應收票據及帳款淨額減少\$25,000，應付票據及帳款淨額減少\$86,000，遞延所得稅資產增加\$120,000，遞延所得稅資產備抵評價增加\$25,000，淨確定福利負債增加\$120,000，確定福利計畫之再衡量數（損失）\$7,000。試問甲公司當年營業活動之淨現金流入為何？
(A)\$1,957,800 (B)\$2,042,800 (C)\$2,047,800 (D)\$2,097,800
- 11 甲公司於X6年初以固定價格\$500,000承包一項建造合約，該合約適用完工比例法，並預定於三年完成工程。該合約之結果能合理衡量估計，其X6、X7年相關資料如下：
- | | X6 年 | X7 年 |
|------------------|-----------|-----------|
| 本期發生與未來活動相關之合約成本 | \$0 | \$50,000 |
| 本期發生已完成工作之合約成本 | \$100,000 | \$200,000 |
| 估計總合約成本 | \$400,000 | \$400,000 |
| 至今完成程度 | ? | ? |
| 當年度工程進度請款金額 | \$150,000 | \$250,000 |
| 實際收款金額 | \$120,000 | \$200,000 |
- 甲公司以至今發生已完成工作之合約成本占估計總合約成本之比例衡量建造合約完成程度，並假設「本期發生與未來活動相關之合約成本」將來很有可能回收。試計算 X7 年底「在建工程」之金額為何？
(A)\$300,000 (B)\$375,000 (C)\$425,000 (D)\$437,500
- 12 甲公司普通股之相關資訊如下：
- | | |
|---------------------------|-------------|
| X7 年 1 月 1 日流通在外股數 | 1,750,000 股 |
| X7 年 4 月 1 日發行普通股 | 380,000 股 |
| X7 年 8 月 1 日購回庫藏股 | 150,000 股 |
| X7 年 10 月 1 日發放 100% 股票股利 | 1,980,000 股 |
- 計算甲公司 X7 年每股盈餘所使用之加權平均流通在外股數為多少？
(A) 2,467,500 股 (B) 2,875,000 股 (C) 3,945,000 股 (D) 3,960,000 股
- 13 甲公司 X7 年度淨利\$356,000，稅率為 25%，若全年加權平均流通在外普通股為 100,000 股，且有下列三種證券全年流通在外：
- (1)認股權證 20,000 張，每張可以\$60 認購普通股 1 股，甲公司普通股全年平均市價為\$75。
 - (2)可轉換公司債面額\$1,000,000，票面利率 7%，其中負債組成部分為\$1,000,000（即有效利率亦為 7%），可轉換成 40,000 股普通股。
 - (3)可轉換累積特別股 24,000 股，股利率 10%，每股面額\$20，可轉換成 24,000 股普通股，截至 X6 年底已積欠 2 年股利，X7 年甲公司董事會已宣告發放 3 年股利。
- 則甲公司 X7 年財務報表中之基本及稀釋每股盈餘各為何？
(A)\$3.08 及\$2.43 (B)\$3.08 及\$2.50
(C)\$3.56 及\$2.58 (D)\$3.56 及\$2.87

- 14 甲公司 X0 年 12 月 31 日發行 6 年期公司債，面額\$200,000，票面利率 10%，每年 12 月 31 日付息，發行時在支付發行公司債之交易成本後，甲公司淨收取現金\$208,972（有效利率為 9%）。X3 年 1 月 1 日該公司在公開市場以\$207,500 買回公司債，則買回時有關金融負債除列之損益為何？
(A)損失\$1,021 (B)損失\$1,472 (C)損失\$2,438 (D)利益\$1,472
- 15 丙公司於本年 7 月 1 日將其一組帳面金額為\$3,000,000 之應收帳款出售並移轉給銀行，附追索權，公司保留 10%帳款以備抵可能之銷貨折扣、銷貨退回與折讓等，銀行並按帳款總額收取 5%手續費。根據上述交易下列敘述何者錯誤？
(A)因出售應收帳款附有追索權，因此丙公司並未移轉風險給銀行，該應收帳款出售時不能除列
(B)出售應收帳款當時可從銀行收到現金\$2,550,000
(C)若發生呆帳時，銀行有權向丙公司追討支付該呆帳
(D)應收帳款帳面金額\$3,000,000 與所收現金及保留款差額\$150,000 應列為出售應收帳款損失
- 16 下列有關資產減損之敘述何者錯誤？
(A)公司應於每個資產負債表日進行資產減損測試
(B)資產可回收金額低於帳面金額時，應將帳面金額降低部分認列為減損損失
(C)資產可回收金額為資產使用價值與資產公允價值減出售成本孰高者
(D)使用價值係指預期可由資產產生之估計未來現金流量折現值
- 17 甲農場在宜蘭專業種植有機柚子給大盤商，本年初資產負債表中生物資產—柚子樹的金額為\$16,000,000。年度中投入肥料成本\$400,000，人事成本\$600,000，種植設備折舊\$200,000，本年底柚子樹的公允價值減出售成本為\$19,500,000，本年甲農場損益表中因柚子樹產生的公允價值調整利益為多少？
(A)\$2,300,000 (B)\$3,100,000 (C)\$3,300,000 (D)\$3,500,000
- 18 甲公司向丁公司購買一專利權技術作為公司開發新產品使用，專利權本身買價為\$8,000,000，另外甲公司需支付一筆技術指導費給丁公司\$200,000，甲公司本身測試該技術估計需\$500,000，訓練員工使用該技術費用估計需\$600,000。甲公司為使用該專利權技術並新成立一技術部門，成立該部門之相關支出估計約\$1,000,000，該技術估計可使用 5 年。根據上述資料甲公司專利權之原始帳列成本應為多少？
(A)\$8,200,000 (B)\$8,700,000 (C)\$9,100,000 (D)\$10,100,000
- 19 庚公司本年度淨利為\$750,000，所得稅稅率 25%，另該公司發行公司債一批面額\$1,000,000，票面利率 7%，發行時有效利率 6%。該公司債本年初之帳面價值為\$1,042,650，且除了該債券外，公司無其他利息費用。庚公司之利息保障倍數為多少（選擇最接近的數字）？
(A)10.71 (B)11.99 (C)15.18 (D)15.29
- 20 甲公司為一音樂影音光碟批發商，公司允許唱片行將未售出之光碟退回，因此甲公司符合高退貨率之銷貨行業，估計平均退貨率為30%，且此一比率相當穩定。本年度銷貨收入\$9,000,000，銷貨成本\$4,500,000，年底時公司估計約還有原始成本\$500,000商品在各唱片行中還未出售，甲公司今年度之銷貨收入應認列多少？
(A)\$8,700,000 (B)\$8,750,000 (C)\$8,850,000 (D)\$9,000,000
- 21 甲公司 X6年初應收帳款餘額為\$0，已知 X6年之銷貨收入\$12,000,000，其中賒銷占60%，且賒銷交易中產生銷貨折扣\$800,000。期末調整前備抵呆帳有借餘\$115,000。若呆帳率為應收帳款餘額之3%，則採應收帳款餘額百分比法提列呆帳之金額為多少？
(A)\$86,600 (B)\$192,000 (C)\$307,000 (D)\$336,000
- 22 丙公司於 X5 年初以\$500,000 向外購入一款專利益生菌配方。該專利權的法定年限為 7 年，但公司估計效益年限為 5 年。X7 年初國家衛生單位檢驗出該種益生菌內含不利人體的有毒物質，丙公司被要求將此產品全面下架並禁止販售。請問丙公司於 X7 年針對專利配方，應認列費損金額為何？
(A)\$200,000 (B)\$300,000 (C)\$400,000 (D)\$500,000
- 23 甲公司採永續存貨盤存制下之移動平均成本流動假設，1 月 1 日存貨 300 件每件\$15，3 月 1 日進貨 500 件每件\$18，5 月 1 日銷貨 400 件，7 月 1 日再進貨 600 件每件\$19，12 月 1 日銷貨 300 件，此外無其他進銷貨事項，則本期銷貨成本為何（計算平均成本若有小數，請取至小數第四位）？
(A)\$12,195 (B)\$12,450 (C)\$12,705 (D)\$13,200
- 24 甲公司所有支出均透過銀行支票存款戶頭處理，公司銀行存款帳列數如下：
5 月 1 日餘額\$68,000、5 月份存款\$1,105,000、5 月份支出\$977,000、5 月 31 日餘額\$196,000；銀行對帳單列示 5 月 1 日餘額\$105,500、5 月份存款合計\$1,077,500、支出合計\$945,500、銀行方面於 5 月 31 日代收票據（含 10%利息）\$6,600、並扣除代收手續費\$600、5 月 31 日餘額\$243,500。4 月份銀行往來調節表上之在途存款與未兌現支票分別為\$20,000 及\$57,500，請根據上述資料計算 5 月份在途存款及未兌現支票金額分別為何？
(A)\$20,900 及\$30,900 (B)\$27,500 及\$31,500 (C)\$40,900 及\$88,400 (D)\$47,500 及\$89,000
- 25 丙公司於 X5 年 7 月 1 日購入機器設備，帳列成本\$500,000，設備估計可使用 8 年，殘值\$50,000，該公司採用雙倍餘額遞減法提列折舊，請問丙公司於 X6 年度應提列多少折舊費用（最接近的答案）？
(A)\$56,250 (B)\$62,500 (C)\$98,438 (D)\$109,375

測驗式試題標準答案

考試名稱：106年公務人員高等考試三級考試暨普通考試

類科名稱：財稅行政、金融保險

科目名稱：會計學（試題代號：7213）

單選題數：25題

單選每題配分：2.00分

複選題數：

複選每題配分：

標準答案：

題號	第1題	第2題	第3題	第4題	第5題	第6題	第7題	第8題	第9題	第10題
答案	C	D	C	C	B	C	D	A	B	D

題號	第11題	第12題	第13題	第14題	第15題	第16題	第17題	第18題	第19題	第20題
答案	C	C	A	A	D	A	D	B	C	A

題號	第21題	第22題	第23題	第24題	第25題	第26題	第27題	第28題	第29題	第30題
答案	C	B	C	D	D					

題號	第31題	第32題	第33題	第34題	第35題	第36題	第37題	第38題	第39題	第40題
答案										

題號	第41題	第42題						第48題	第49題	第50題
答案										

題號	第51題	第52題						第58題	第59題	第60題
答案										

題號	第61題	第62題	第63題	第64題	第65題	第66題	第67題	第68題	第69題	第70題
答案										

題號	第71題	第72題	第73題	第74題	第75題	第76題	第77題	第78題	第79題	第80題
答案										

題號	第81題	第82題	第83題	第84題	第85題	第86題	第87題	第88題	第89題	第90題
答案										

題號	第91題	第92題	第93題	第94題	第95題	第96題	第97題	第98題	第99題	第100題
答案										

備註：

更多高普考考試科目的歷屆題庫
立即上網搜尋“高普考歷屆考古題懶人包”
高鋒公職補習班整理
Line@帳號：@gaofeng
連絡電話：07-236-7296

測驗題標準答案更正

考試名稱：106年公務人員高等考試三級考試暨普通考試

類科名稱：財稅行政、金融保險

科目名稱：會計學

單選題數：25題

單選每題配分：2.00分

複選題數：

複選每題配分：

標準答案：答案標註#者，表該題有更正答案，其更正內容詳見備註。

更多高普考考試科目的歷屆題庫

立即上網搜尋“高普考歷屆考古題懶人包”

高鋒公職補習班整理

Line@帳號：@gaofeng

連絡電話：07-236-7296

題號	第1題	第2題	第3題	第4題	第5題	第6題	第7題	第8題	第9題	第10題
答案	C	D	C	C	B	C	D	A	B	D

題號	第11題	第12題	第13題	第14題	第15題	第16題	第17題	第18題	第19題	第20題
答案	C	C	A	A	D	A	D	B	C	#

題號	第21題	第22題	第23題	第24題	第25題	第26題	第27題	第28題	第29題	第30題
答案	C	B	#	D	D					

題號	第31題	第32題	第33題	第34題	第35題	第36題	第37題	第38題	第39題	第40題
答案										

題號	第41題	第42題	第43題	第44題	第45題	第46題	第47題	第48題	第49題	第50題
答案										

題號	第51題	第52題	第53題	第54題	第55題	第56題	第57題	第58題	第59題	第60題
答案										

題號	第61題	第62題	第63題	第64題	第65題	第66題	第67題	第68題	第69題	第70題
答案										

題號	第71題	第72題	第73題	第74題	第75題	第76題	第77題	第78題	第79題	第80題
答案										

題號	第81題	第82題	第83題	第84題	第85題	第86題	第87題	第88題	第89題	第90題
答案										

題號	第91題	第92題	第93題	第94題	第95題	第96題	第97題	第98題	第99題	第100題
答案										

備註：第20題答A或D者均給分，第23題答A給分。

105年公務人員高等考試三級考試試題

20110 全一張
代號： | (正面)
29610

類 科：各類科（除公職土木工程技師、公職醫事檢驗師、公職護理師、公職食品技師外）

科 目：國文（作文、公文與測驗）

考試時間：2小時

更多高普考考試科目的歷屆題庫
立即上網搜尋“高普考歷屆考古題懶人包”
高鋒公職補習班整理
Line@帳號：@gaofeng
連絡電話：07-236-7296

座號：_____

※注意：禁止使用電子計算器。

甲、作文與公文部分：

- (一)請以藍、黑色鋼筆或原子筆在申論試卷上由左至右橫式作答，於本試題上作答者，不予計分。
(二)不得於試卷上書寫姓名或入場證號。

一、作文：（60分）

勇氣往往與剛強之特性有關，我們稱讚人勇敢堅強、性格勇武，法國思想家蒙田尤其推崇：「在全部的美德之中，最強大、最慷慨、最自豪的，是真正的勇敢」，但老子卻說「慈故能勇」，孔子則說「仁者必有勇」。剛性的「勇」為何會與柔性的「慈」、「仁」相關連？請以「論慈故能勇」為題，作文一篇，申述其旨（須舉出具體實例加以論證）。

二、公文：（20分）

情境敘述：

- 一、本（105）年6月5日新北市坪林山區發生民眾溯溪時遭瞬間暴雨侵襲，造成重大意外事件，由於現行相關法規，尚無有關溯溪活動之明文規範，嚴重影響民眾溯溪遊憩之安全。
- 二、假設針對上開情事，教育部體育署承辦單位經詳慎檢討結果，為加強宣導民眾參與溯溪活動之安全認知，建置完善之防護機制，認為有函請各地方政府配合辦理之必要，爰於該署105年6月20日第101次署務會議決議，擬函請各直轄市政府及縣（市）政府於公文到達後20日內，研訂溯溪活動之具體作法及相關規定公告周知，以避免再發生溯溪意外。
- 三、前項溯溪活動之具體作法及相關規定，教育部體育署建請各地方政府積極研訂溯溪自治條例，並將製作警告標語、設置預警裝置、定期舉辦教育訓練及防災模擬演練、相關禁止措施及罰則等應行注意事項納入規範，俾供參與溯溪活動之相關業者及遊客共同遵循。另各地方政府辦理本項業務，如有經費需求，得專案向該署申請補助，執行成效優良者，將列入爾後補助經費之重要參考。

問題：

請依上述情境敘述，試擬教育部體育署函，將該署希望各地方政府辦理之有關事項，以最速件請各直轄市政府及縣（市）政府配合辦理。

乙、測驗部分：（20分）

代號：1201

- (一)本測驗試題為單一選擇題，請選出一個正確或最適當的答案，複選作答者，該題不予計分。
(二)共10題，每題2分，須用2B鉛筆在試卡上依題號清楚劃記，於本試題或申論試卷上作答者，不予計分。

1. 下列文句中的「卒」，與《孟子·盡心下》「晉人有馮婦者，善搏虎，卒為善士」的「卒」字用法及意義相同的是：
(A)若朋友交遊，久不相見，「卒」然相覩，歡然道故
(B)故明主之吏，宰相必起於州部，猛將必發於「卒」伍
(C)未若巖岫頤神，娛心彭老，優哉游哉，聊以「卒」歲
(D)李斯以閭閻歷諸侯，入事秦，因以瑕釁以輔始皇，「卒」成帝業
2. 「不如學仙去／你原本是一朵好看的青蓮／腳在泥中，頭頂藍天／無需穎川之水／一身紅塵已被酒精洗淨」本段文字描寫的人物，與下列選項相同的是：
(A)有一個飲者自稱楚狂／不飲已醉，一醉更狂妄／不到夜郎已經夠自大／幸而貶你未曾到夜郎
(B)石破／天驚／秋雨嚇得驟然凝在半空／這時，我乍見窗外／有客騎驢自長安來／背了一布袋的／駭人的意象／人未至，冰雹般的詩句／已挾冷雨而降
(C)晨起／負手蹣跚於終南山下／突然在溪水中／看到自己瘦成了一株青竹／風吹來／節節都在搖晃／節節都在堅持／我走向你／進入你最後一節為我預留的空白
(D)被廷爭疏離君主／被戰爭逐出長安／蜀道這條玄宗倉皇出奔的路／你奔，就苦於上青天了／麗人行的低吟／悲陳陶的吶喊／哀江頭的吞聲／沒感動任何當局

（請接背面）

類 科：各類科（除公職土木工程技師、公職醫事檢驗師、公職護理師、公職食品技師外）

科 目：國文（作文、公文與測驗）

3. 「仁」是孔子的中心思想；是人與人之間的同情心，真實而合禮的流露。請問下列選項，何者最能顯現孔子的仁心？
 (A)子罕言利，與命，與仁（《論語·子罕》）
 (B)子溫而厲，威而不猛，恭而安（《論語·述而》）
 (C)子之燕居，申申如也，夭夭如也（《論語·述而》）
 (D)子食於有喪者之側，未嘗飽也。子於是日哭，則不歌（《論語·述而》）
4. 魯迅會氣瘋了。連那臭豆腐都是不臭的，急就章粗製濫造，還來不及焗酸。盜火者辛苦偷來的火苗，被人拿來放花炮，炸臭豆腐，點金魚火花玩。他煮了自己的心肝，被吃掉的卻是皮毛。三味茶樓、阿Q飯店、孔乙己土產、楊二嫂麻辣鍋，咸亨酒店開起全國連鎖，他也差點被孫子釀成老酒，大家都搶著吃「魯迅飯」。他被笑嘻嘻地吞掉，沒人想起人肉和血饅頭。
 作者在上文中最主要批判的是：
 (A)地方美食的走味與變調 (B)觀光文化庸俗化的困境
 (C)歷史名人商品化的現象 (D)文化記憶的遺忘與斷層
5. 依據下文，關於〈創新者的DNA〉的敘述，何者正確？
 對於如何產生創意構想，岱爾和〈創新者的DNA〉的另外兩位作者訪查三千位高階主管與經理人後指出：「絕大部分的受訪者都表示，他們在產生創意構想之前，都曾從事特定的某種行為，例如觀察某些事物、與某些人交談、進行某項試驗、提出某些問題，這些行為觸發了他們的構想。」從事不一樣的行為可以刺激大腦，做出創造性的新連結。雖然岱爾等人並沒有直接訪談賈伯斯，但研究結論符合我們對賈伯斯的認識。
 (A)該文強調：人際互動有助於激發創意構想 (B)該文發現：另類的構想往往來自另類行為
 (C)該文透過訪查，試圖找出賈伯斯的創意來源 (D)該文的研究結果，證明創意與大腦結構有關
6. 「士君子立身事主，既名知己，則當竭盡知謀，忠告善道，銷患於未形，保治於未然，俾身全而主安；生為名臣，死為上鬼，垂光百世，照耀簡策，斯為美也。苟遇知己，不能扶危於未亂之先，而乃捐軀殞命於既敗之後，釣名沽譽，眩世駭俗。繇君子觀之，皆所不取也。」（方孝孺〈豫讓論〉）本段文字旨在強調：士君子立身事主，應當有何作為？
 (A)竭盡智謀，忠告善道 (B)垂光百世，照耀簡策 (C)捐軀殞命，眩世駭俗 (D)防患未然，扶危持顛
7. 以人格特質而言，下列何者適合擔任「處事公正客觀」的主管？
 (A)好而知其惡，惡而知其美（《禮記·大學》）
 (B)溫、良、恭、儉、讓以得之（《論語·學而》）
 (C)發憤忘食，樂以忘憂，不知老之將至云爾（《論語·述而》）
 (D)居廟堂之高，則憂其民；處江湖之遠，則憂其君（范仲淹〈岳陽樓記〉）
8. 趙簡子遊於西河而樂之，嘆曰：「安得賢士而與處焉？」舟人古乘跪而對曰：「夫珠玉無足，去此數千里而所以能來者，人好之也。今士有足而不來者，此是吾君不好之乎？」趙簡子曰：「吾門左右客千人，朝食不足，暮收市徵；暮食不足，朝收市徵。吾尚可謂不好士乎？」舟人古乘對曰：「鴻鵠高飛遠翔，其所恃者六翮也。背上之毛，腹下之毳，無尺寸之數，去之滿把，飛不能為之益卑；益之滿把，飛不能為之益高。不知門下左右客千人者，亦有六翮之用乎？將盡毛毳也。」（《說苑·尊賢》）下列有關本文的敘述，何者正確？
 (A)舟人古乘認為趙簡子不應朝三暮四，徒好虛名，而應廣開言路
 (B)文中「鴻鵠」借喻隱士；「六翮」借喻謀士；「毛毳」借喻人才
 (C)「去之滿把，飛不能為之益卑；益之滿把，飛不能為之益高」比喻良莠不齊
 (D)「客千人者，亦有六翮之用乎？將盡毛毳也。」是勸喻趙簡子求賢在精不在多
- 閱讀下文，回答第9.題至第10.題：
 今法律賤商人，商人已富貴矣；尊農夫，農夫已貧賤矣。故俗之所貴，主之所賤也；吏之所卑，法之所尊也。上下相反，好惡乖迕，而欲國富法立，不可得也。方今之務，莫若使民務農而已矣。欲民務農，在於貴粟。貴粟之道，在於使民以粟為賞罰。今募天下入粟縣官，得以拜爵，得以除罪；如此，富人有爵，農民有錢，粟有所滯。夫能入粟以受爵，皆有餘者也。取於有餘，以供上用，則貧民之賦可損，所謂損有餘，補不足，令出而民利者也。（晁錯〈論貴粟疏〉）
9. 文中提出貴粟的當務之急是：
 (A)讓農民有錢 (B)使國富而法立
 (C)賤商人，尊農夫 (D)入粟縣官，得以拜爵，得以除罪
10. 承上文，下列敘述何者正確？
 (A)晁錯主張天下之人皆可用錢受爵、除罪
 (B)晁錯其時「重商賤農」的漢律徒具虛文
 (C)「損有餘，補不足」是合乎公平正義的分配原則
 (D)「疏」是古代人臣向君王陳述私衷的文書，具有實用性

測驗式試題標準答案

考試名稱：105年公務人員高等考試三級考試暨普通考試

類科名稱：

一般行政、一般民政、宗教行政、客家事務行政、社會行政、人事行政、戶政、公職社會工作師、勞工行政、文化行政、教育行政、體育行政、國際文教行政(選試日文)、國際文教行政(選試英文)、新聞(選試英文)、新聞(選試日文)、財稅行政、金融保險、統計、會計、財務審計、績效審計、法制、法律廉政、財經廉政、經建行政、公平交易管理、工業行政、商業行政、農業行政、智慧財產行政、僑務行政(選試西班牙文)、僑務行政(選試德文)、衛生行政、醫務管理、環保行政、地政、博物館管理(選試英文)、圖書資訊管理(選試英文)、檔案管理、史料編纂、交通行政、觀光行政(選試觀光英語)、觀光行政(選試觀光日語)、航運行政、農業技術、林業技術、園藝、植物病蟲害防治、自然保育、土木工程、結構工程、水利工程、環境工程、建築工程、公職建築師、都市計畫技術、水土保持工程、機械工程、航空器維修、汽車工程、電力工程、電子工程、電信工程、資訊處理、核子工程、輻射安全、化學工程、食品衛生檢驗、環境檢驗、地質、探礦工程、測量製圖、藥事、生藥中藥基礎鑑定、交通技術、航海技術、輪機技術、氣象、技藝(選試陶瓦)、技藝(選試木竹器)、技藝(選試染織)、視聽製作、衛生技術、漁業技術、海洋資源、畜牧技術、公職獸醫師、工業工程、工業安全、醫學工程、環保技術、航空駕駛(選試直昇機飛行原

科目名稱：國文(作文、公文與測驗)(試題代號：1201)

單選題數：10題

單選每題配分：2.00分

複選題數：

複選每題配分：

標準答案：

更多高普考考試科目的歷屆題庫
立即上網搜尋“高普考歷屆考古題懶人包”
高鋒公職補習班整理
Line@帳號：@gaofeng
連絡電話：07-236-7296

題號	第1題	第2題	第3題	第4題	第5題	第6題	第7題	第8題	第9題	第10題
答案	D	A	D	C	B	D	A	D	D	C

題號	第11題	第12題	第13題	第14題	第15題	第16題	第17題	第18題	第19題	第20題
答案										

題號	第21題	第22題	第23題	第24題	第25題	第26題	第27題	第28題	第29題	第30題
答案										

題號	第31題	第32題	第33題	第34題	第35題	第36題	第37題	第38題	第39題	第40題
答案										

題號	第41題	第42題	第43題	第44題	第45題	第46題	第47題	第48題	第49題	第50題
答案										

題號	第51題	第52題	第53題	第54題	第55題	第56題	第57題	第58題	第59題	第60題
答案										

題號	第61題	第62題	第63題	第64題	第65題	第66題	第67題	第68題	第69題	第70題
答案										

題號	第71題	第72題	第73題	第74題	第75題	第76題	第77題	第78題	第79題	第80題
答案										

題號	第81題	第82題	第83題	第84題	第85題	第86題	第87題	第88題	第89題	第90題
答案										

題號	第91題	第92題	第93題	第94題	第95題	第96題	第97題	第98題	第99題	第100題
答案										

備註：

105年公務人員高等考試三級考試試題

類 科：各類科（除公職土木工程技師、公職醫事檢驗師、公職護理師、公職食品技師外）

科 目：法學知識與英文（包括中華民國憲法、法學緒論、英文）

考試時間：1 小時

座號：_____

※注意：(一)本試題為單一選擇題，請選出一個正確或最適當的答案，複選作答者，該題不予計分。

(二)本科目共 50 題，每題 2 分，須用 2B 鉛筆在試卡上依題號清楚劃記，於本試題上作答者，不予計分。

(三)禁止使用電子計算器。

更多高普考考試科目的歷屆題庫
立即上網搜尋“高普考歷屆考古題懶人包”
高鋒公職補習班整理
Line@帳號：@gaofeng
連絡電話：07-236-7296

- 憲法有關縣自治之規定，下列敘述何者錯誤？
(A)縣之立法權由縣議會行之
(B)縣長辦理縣自治
(C)縣長執行中央及省委任事項
(D)縣設縣政府，置縣長一人，由縣民選舉之
- 公務員之懲戒，屬下列何種國家公權力之範圍？
(A)行政權
(B)監察權
(C)司法權
(D)考試權
- 人民因為犯罪嫌疑被捕拘禁時，憲法規定至遲應於多少時間內移送該管法院審問？
(A)72 小時
(B)48 小時
(C)36 小時
(D)24 小時
- 依憲法增修條文第 10 條之規定，國家對於下列何者之政治參與應予保障？
(A)新住民
(B)身心障礙者
(C)外籍勞工
(D)僑居國外國民
- 下列何者為公務人員保障法所稱之公務人員？
(A)擔任公營事業勞工
(B)擔任地方政府機關之科長
(C)擔任直轄市議會議員
(D)擔任政務人員
- 司法院大法官解釋之下述內涵：「衡諸人民可能受罰之次數與累計負擔之金額，相較於維護與確保之公益」，「採取劃一之處罰方式，於個案之處罰顯然過苛時，法律未設適當之調整機制」，體現出下列何種憲法原則？
(A)明確原則
(B)制衡原則
(C)平等原則
(D)比例原則
- 憲法有關教育基本權之規定，其保障主體為何？
(A)父母
(B)學生
(C)國家
(D)教師
- 依公民投票法第 9 條之規定，全國性公民投票案提案人之領銜人以幾人為限？
(A)1 人
(B)3 人
(C)5 人
(D)該條條文針對此一領銜人之人數並無設限
- 下列何者屬於國家賠償法第 3 條之公有公共設施？
(A)二二八和平紀念公園之雕塑
(B)中國電視公司之攝影棚
(C)中影文化城之古城門及護城河
(D)民間航業公司所經營的淡水渡輪
- 下列公職人員，何者非由選舉產生？
(A)省政府主席
(B)直轄市市長
(C)縣長
(D)市長
- 依憲法增修條文之規定，下列何者非屬行政院得向立法院提請覆議之議案？
(A)戒嚴案
(B)法律案
(C)預算案
(D)條約案
- 有關立法委員兼職之限制，下列敘述何者正確？
(A)得兼任公營事業機關之總經理
(B)不得兼任官吏，但只限於政務官
(C)得兼任其他民意代表
(D)不得兼任公營事業機關之董事
- 關於憲法第 80 條法官須超出黨派以外之規定，下列敘述何者正確？
(A)法官於任職期間不得參加政黨，但得參加政黨活動
(B)法官退休後不得參加政黨、政治團體及其活動
(C)法官任職前已參加政黨者，應退出之
(D)法官得參與政黨職務之選舉
- 依憲法增修條文之規定，總統、副總統之選舉投票方式為下列何者？
(A)總統、副總統候選人各有一張選票，分別投票
(B)總統、副總統候選人同列在一張選票，分別圈選
(C)總統、副總統候選人同列在一組，分別圈選
(D)總統、副總統候選人同列在一組，圈選一組

- 15 依憲法之規定，下列何者須超出黨派以外，依法獨立行使職權？
(A)立法委員 (B)考試委員 (C)行政院院長 (D)總統府資政
- 16 下列有關鄉（鎮、市）規約之敘述，何者正確？
(A)規約不得規定罰則
(B)規約發布後，應報內政部備查
(C)規約係指鄉（鎮、市）公所訂定之自治規則
(D)規約與上級自治團體自治條例有無牴觸發生疑義時，由內政部解釋之
- 17 各機關受理人民聲請許可案件適用法規時，在處理程序終結前，據以准許之法規有變更者，於下列何種情形，應適用變更前之舊法規？
(A)依其性質應適用行為時之舊法規者
(B)舊法規有利於當事人且新法規已廢除所聲請之事項者
(C)舊法規有利於當事人且新法規已禁止所聲請之事項者
(D)當事人同意適用舊法規者
- 18 行政機關修改法令規定，減少退休公務員公保養老給付得辦理優惠存款金額之規定，主要涉及以下何種法律原則？
(A)平等原則 (B)比例原則 (C)法律明確性原則 (D)信賴保護原則
- 19 公務人員保障法第 1 條規定：「為保障公務人員之權益，特制定本法。本法未規定者，適用其他有關法律之規定。」依本條規定可知，關於公務人員權益之保障，相對於其他公務員法規，其性質為：
(A)特別法 (B)例外法 (C)普通法 (D)原則法
- 20 涉及到規範性要素時（如猥褻文書），行為人除了要認識到實現該要素的自然事實外，還必須要認識到下列何者，才能滿足故意的認知要求？
(A)行為的違法性 (B)行為的道德違反性
(C)相關自然事實的社會意義 (D)客觀可罰性條件
- 21 某稅法之罰則規定，對違反者得科漏稅額 2 倍至 5 倍罰鍰，主管機關科以 7 倍罰鍰，屬於何種類型行政裁量瑕疵？
(A)裁量收縮 (B)裁量濫用 (C)裁量逾越 (D)裁量怠惰
- 22 有關行政程序法第 3 條第 3 項事項適用之除外規定，不包括下列何種情形？
(A)刑事案件犯罪偵查程序 (B)外交行為
(C)核發建造執照之程序 (D)私權爭執之行政裁決程序
- 23 依據中央法規標準法之規定，法規條文書寫體例格式中，冠以一、二、三等數字者為：
(A)條 (B)項 (C)款 (D)目
- 24 甲未經乙之許可，在乙之土地上種植蔬菜，並與丙訂立買賣契約，將該尚未採收之蔬菜賣給丙。下列敘述，何者正確？
(A)因蔬菜為甲所種植，故甲為蔬菜之所有權人 (B)丙與甲訂立買賣契約，故丙取得蔬菜所有權
(C)蔬菜長在乙之土地上，乙為蔬菜之所有權人 (D)丙因與甲訂立買賣契約，故得對乙主張採收之權
- 25 關於承攬之瑕疵擔保，下列敘述何者錯誤？
(A)定作人在承攬工作進行中發現有瑕疵時，不得主張瑕疵擔保請求權，須至工作完成時才能主張
(B)承攬人的瑕疵擔保責任為一種無過失責任
(C)定作人主張瑕疵擔保請求權，應遵守瑕疵發現期間
(D)承攬人之瑕疵擔保責任得以特約減輕或免除，但承攬人故意不告知瑕疵者，該特約無效
- 26 繼承人於繼承開始前，從被繼承人所受贈之下列何種財產，於繼承開始後不必先歸入被繼承人之總財產中，計算各繼承人之法定應繼分？
(A)因結婚所受的贈與 (B)因生日所受的贈與
(C)因分居所受的贈與 (D)因營業所受的贈與

- 27 下列何者並非成立加重結果犯的要件？
(A)行為人是出於故意犯基本犯罪行為 (B)行為人不能預見加重結果的發生
(C)基本犯罪行為與加重結果間須具有因果關聯 (D)法律對於加重結果犯設有明文規定
- 28 關於假釋撤銷之敘述，下列何者錯誤？
(A)假釋中因故意再犯罪，受有期徒刑以上刑之宣告者，撤銷其假釋
(B)假釋撤銷後，其出獄日數算入刑期內
(C)撤銷假釋者，其刑罰尚未執行完畢，自無由成立累犯
(D)在無期徒刑假釋後滿二十年，其未執行之刑，以已執行論
- 29 下列行為，何者侵害著作權？
(A)購買合法電影光碟，用以出租他人
(B)拍攝公園中的雕像，並將照片貼於公開之網頁
(C)於餐廳中以附有擴音器之設備播放廣播節目
(D)為編輯教育部審定之教科書，於合理範圍內，重製該已公開發表之著作
- 30 甲公司無論對於新進員工或一般員工皆有定期進行性別平等相關訓練，亦有完整之申訴處理機制；一日乙與其同事丙一同出差，丙該日突然爆發對於乙之長期不滿，並以性騷擾之言語羞辱乙，且企圖性侵害不成，乙身心受創乃向甲申訴，並請求甲及丙依性別工作平等法，賠償其因此而遭受之精神上損害以及無法工作期間之賠償；惟丙所有資產皆因積欠卡債而遭法院拍賣，無償還能力，乙遂單獨向甲請求，有理否？
(A)無理，丙之行為，並非在事業場所內發生，甲之防治責任，不及於此
(B)無理，甲對於員工已有定期訓練，並建置完善之防治機制，已盡到雇主之責任，而丙之私人行為，不應由甲負責
(C)無理，有關於性侵害之行為，不是性別工作平等法所規範的性騷擾防治之範圍，甲無須擔負任何雇主責任
(D)有理，縱使甲可舉證其已依法採行各種防治性騷擾之措施，且對該事情之發生已盡力防止仍不免發生，但法院仍可因為乙之請求，斟酌甲及乙之經濟狀況，令甲為全部或一部之損害賠償
- 31 Studying Latin is helpful for enlarging one's vocabulary in English, since so many English words _____ from Latin.
(A) bombard (B) derive (C) compile (D) formulate
- 32 To have access to the confidential documents, one needs special _____ from the headquarters.
(A) authorization (B) institution (C) intonation (D) transmission
- 33 _____ is the art of narration and expression through body movement.
(A) Anatomy (B) Pantomime (C) Traitor (D) Valor
- 34 Christine longed for some breathing space in her relationship because she felt _____ by his nearly 24-hour company over the past few weeks.
(A) delighted (B) dedicated (C) suffocated (D) terminated
- 35 The US Supreme Court rules that, barring circumstances like child abduction or a ticking time bomb, the Fourth Amendment of the US Constitution requires police to get a warrant before examining a cell phone after an arrest. This ruling makes our digital privacy no "less worthy of the protection for which the Founders of our nation fought."
(A) Under certain extreme conditions, the Fourth Amendment can be temporarily suspended.
(B) The Fourth Amendment is considered a ticking time bomb by the US Constitution.
(C) The police needs to get the authorities' approval to search any suspect's cell phone.
(D) The founders of the USA also fought for their digital privacy.

請依下文回答第 36 題至第 40 題

It would be quite naive to expect a life without conflict, naive and boring. After all, as we struggle to find solutions, conflict leads to new ways of thinking. Nothing ever 36 in a world without conflicts. We see this in our lives; we see this in science. In fact, in science crises are essential: without them there is no 37. A life lived in harmony 38 a life without conflict. It must be a life where conflict leads to growth. Harmony is not the absence of conflict. It is the state in which conflict leads to positive change. Harmony is dynamic, not static. Innovation and growth challenge the status quo, shaking the very foundations where most base their values. Change only comes when we are ready to embrace it; change needs 39. It is much easier to plant our feet in the traditional, the convenient, in what does not force us to reexamine our views. No one likes to be wrong. This is why great innovation comes with 40, often bloody. The blood that is spilled is not always the one coursing through our veins: it is the blood of conviction, of prejudices, of deep-seated ideas that are abandoned by the inexorable force of reason.

- | | | | | |
|----|--------------------------|-----------------|-------------------|------------------|
| 36 | (A) forsakes | (B) chooses | (C) changes | (D) reports |
| 37 | (A) innovation | (B) place | (C) time | (D) relationship |
| 38 | (A) can't be | (B) isn't that | (C) is what | (D) must do |
| 39 | (A) rhetorical questions | (B) open minds | (C) no evaluation | (D) weak links |
| 40 | (A) revolution | (B) information | (C) tradition | (D) conjunction |

請依下文回答第 41 題至第 45 題

E-waste is being produced on a scale never seen before. Computers and other electronic devices 41 obsolete in just a few years, leaving consumers with few alternatives but to catch up by buying newer models. Tens of millions of tons of computers, TVs, VCRs, monitors, cell phones, and other gadgets 42 each year. Unfortunately, in most parts of the world, the bulk of all this e-waste 43 landfills, where it poisons the environment. This is because it contains a variety of toxic 44 such as lead, mercury, and arsenic that leak into the ground. In theory, recycling seems to be a good 45. However, the problem is that a large percentage of e-waste dropped off for recycling in rich countries is sold to the developing world, where its toxin may threaten the health of people living there.

- | | | | | |
|----|------------------|-------------------|-----------------|------------------|
| 41 | (A) beget | (B) begot | (C) become | (D) became |
| 42 | (A) is discarded | (B) are discarded | (C) is disputed | (D) are disputed |
| 43 | (A) end at | (B) ends up | (C) end up to | (D) ends up in |
| 44 | (A) subtitles | (B) subsidies | (C) substances | (D) subordinates |
| 45 | (A) solution | (B) pollution | (C) salutation | (D) population |

請依下文回答第 46 題至第 50 題

At 16, Maya Angelou became San Francisco's first black female streetcar conductor. Her first book, *I know Why the Caged Bird Sings*, tells us her early life. Its unsparing account of black life in the South during the Depression and of her sexual abuse is not easy reading. But her tough, funny, lyrical voice transforms her story into a hymn of endurance that influenced later memoirists. Her own obituary sums up her life: "Love is that condition which encourages us to build bridges and to trust them and cross them in attempts to reach other human beings."

- 46 What can we infer from the passage?
- | | |
|---|---|
| (A) Growing up in the American South was tough for her. | (B) Her first book was difficult to understand. |
| (C) She used to be a bird lover. | (D) Streetcars did not welcome black female passengers. |
- 47 Why was her first book influential?
- | | |
|---|---|
| (A) Because she sang like a caged bird. | (B) Because her unique voice was inspiring. |
| (C) Because her style was not easy to follow. | (D) Because she wrote her own obituary. |
- 48 Who are most likely influenced by her writing style?
- | | |
|------------------------|-----------------------|
| (A) tour guides. | (B) memoir writers. |
| (C) monument builders. | (D) souvenir sellers. |
- 49 Which of the following statements is true?
- | | |
|---|--|
| (A) She published her first book at 16. | (B) She liked to build bridges in her free time. |
| (C) Her last words were pessimistic. | (D) Her attitude toward life was positive. |
- 50 Which statement best paraphrases Angelou's definition of "love"?
- | | |
|--------------------------------|---|
| (A) Love is irresistible. | (B) Love enables us to connect with others. |
| (C) Love makes the world sink. | (D) Love is spontaneous. |

測驗式試題標準答案

考試名稱：105年公務人員高等考試三級考試暨普通考試

類科名稱：

一般民政、社會行政、戶政、醫學工程、航空駕駛(選試直昇機飛行原理)、景觀、生物技術、技藝(選試陶甎)、技藝(選試木竹器)、技藝(選試染織)、視聽製作、衛生技術、漁業技術、海洋資源、畜牧技術、公職獸醫師、工業工程、環保技術、工業安全、食品衛生檢驗、環境檢驗、地質、探礦工程、測量製圖、藥事、生藥中藥基原鑑定、交通技術、航海技術、輪機技術、都市計畫技術、水土保持工程、機械工程、航空器維修、汽車工程、電力工程、電子工程、電信工程、資訊處理、核子工程、輻射安全、氣象、教育行政、一般行政、體育行政、公職社會工作師、僑務行政(選試德文)、衛生行政、國際文教行政(選試法文)、國際文教行政(選試日文)、國際文教行政(選試韓文)、新聞(選試英文)、新聞(選試日文)、財政行政、金融保險、統計、會計、財務審計、績效審計、法制、宗教行政、勞工行政、林業技術、園藝、植物病蟲害防治、自然保育、化學工程、土木工程、結構工程、水利工程、環境工程、建築工程、公職建築師、醫務管理、環保行政、地政、博物館管理(選試英文)、圖書資訊管理(選試英文)、檔案管理、史料編纂、交通行政、觀光行政(選試觀光英語)、觀光行政(選試觀光日語)、航運行政、農業技術、法律廉政、財經廉政、經建行政、公平交易管理、工業行政、商業行政、農業行政、智慧財產行政、僑務行政(選試西班牙文)、文化行政、人事行

科目名稱：

法學知識與英文(包括中華民國憲法、法學緒論、英文)(試題代號：3201)

單選題數：50題

單選每題配分：2.00分

複選題數：

複選每題配分：

標準答案：

更多高普考考試科目的歷屆題庫
立即上網搜尋“高普考歷屆考古題懶人包”
高鋒公職補習班整理
Line@帳號：@gaofeng
連絡電話：07-236-7296

題號	第1題	第2題	第3題	第4題	第5題	第6題	第7題	第8題	第9題	第10題
答案	C	C	D	D	B	D	B	A	A	A

題號	第11題	第12題	第13題	第14題	第15題	第16題	第17題	第18題	第19題	第20題
答案	A	D	C	D	B	A	A	D	A	C

題號	第21題	第22題	第23題	第24題	第25題	第26題	第27題	第28題	第29題	第30題
答案	C	C	C	C	A	B	B	B	C	D

題號	第31題	第32題	第33題	第34題	第35題	第36題	第37題	第38題	第39題	第40題
答案	B	A	B	C	A	C	A	A	B	A

題號	第41題	第42題	第43題	第44題	第45題	第46題	第47題	第48題	第49題	第50題
答案	C	B	D	C	A	A	B	B	D	B

題號	第51題	第52題	第53題	第54題	第55題	第56題	第57題	第58題	第59題	第60題
答案										

題號	第61題	第62題	第63題	第64題	第65題	第66題	第67題	第68題	第69題	第70題
答案										

題號	第71題	第72題	第73題	第74題	第75題	第76題	第77題	第78題	第79題	第80題
答案										

題號	第81題	第82題	第83題	第84題	第85題	第86題	第87題	第88題	第89題	第90題
答案										

題號	第91題	第92題	第93題	第94題	第95題	第96題	第97題	第98題	第99題	第100題
答案										

備註：

代號：21820、22420
22820、23020
23220
頁次：4-1

105年公務人員高等考試三級考試試題

類 科：財稅行政、法制、公平交易管理、商業行政、智慧財產行政

科 目：民法

考試時間：2 小時

※注意：禁止使用電子計算器。

更多高普考考試科目的歷屆題庫
立即上網搜尋“高普考歷屆考古題懶人包”
高鋒公職補習班整理
Line@帳號：@gaofeng
連絡電話：07-236-7296

座號：_____

甲、申論題部分：(50 分)

- (一)不必抄題，作答時請將試題題號及答案依照順序寫在申論試卷上，於本試題上作答者，不予計分。
(二)請以藍、黑色鋼筆或原子筆在申論試卷上作答。

一、甲登記為 A 地所有人，出租且交付 A 地於乙，但 A 地租賃契約，因甲之疏失，致欠缺約定要式之書面而不成立。乙不知 A 地租賃不成立一事，並整修雜亂不堪之 A 地，使其狀態回復、適於使用，花費 20 萬元。乙於這段期間內確實有使用 A 地。試問：

- (一)乙就 20 萬元整地費用，對甲有何權利可資主張？(13 分)
(二)甲就乙使用 A 地之利益，有何權利可資主張？(12 分)

二、甲登記為 A 地所有人，乙未經甲同意，使用甲之 A 地。甲因恐懼乙持續不斷之暴力威脅，於乙占用 A 地之初，即全家逃往外國定居，直到 13 年後始返國。乙 13 年來使用收益 A 地之相當價值為 1 千 3 百萬元。試問：甲就該筆 1 千 3 百萬元，對乙有何權利可資主張？(25 分)

乙、測驗題部分：(50 分)

代號：2218

- (一)本測驗試題為單一選擇題，請選出一個正確或最適當的答案，複選作答者，該題不予計分。
(二)共 25 題，每題 2 分，須用 **2B** 鉛筆在試卡上依題號清楚劃記，於本試題或申論試卷上作答者，不予計分。

- 下列何者不屬於「無行為能力人」？
(A)受輔助宣告之人 (B) 6 歲孩童 (C)受監護宣告之人 (D)籌設中之法人
- 甲想購買乙之一間辦公室，遂寫一封要約信給乙，表示願以 500 萬元購買該辦公室，未料寄信後當晚甲猝逝，該信 3 天後到達乙處，該要約之效力如何？
(A)仍為有效
(B)無效
(C)有效，但甲之繼承人得撤銷該要約
(D)效力未定，經甲之繼承人承認者有效；拒絕承認者無效
- 下列行為，何者為附停止條件之法律行為？
(A)甲之父親乙送甲一台 iPad，約定每天不能玩電玩超過 1 個小時，否則須將 iPad 返還給他
(B)甲分期付款買一台冰箱，賣家乙以所有權保留方式移轉所有權給甲，約定甲付完所有價金後取得所有權
(C)甲向乙購買一條項鍊欲送其妻，與賣家約定，若其妻子不喜歡，將退回項鍊
(D) 85 歲之甲與乙成立租賃契約，並約定租賃期 3 年，但若甲死亡，乙須無條件搬出
- 甲之古董寄放在乙處。乙未經甲之同意，將該古董出賣並交付給惡意之第三人丙。若甲、乙、丙均已成年，乙交付古董給丙之行為，法律效力為何？
(A)無效 (B)效力未定 (C)有效 (D)有效，但有瑕疵

- 5 甲與乙訂立買賣契約，向乙購買一宗土地，乙將土地交付甲，但未辦理所有權移轉登記。經過 15 年後，乙請求甲返還土地。下列敘述，何者正確？
- (A)乙仍是土地之所有權人，甲非土地之所有權人，故乙得請求甲返還土地之占有
(B)乙每年必須繳納地價稅，甲則不必繳納地價稅，故甲應將土地之占有返還與乙
(C)甲占有土地係乙本於買賣關係所為之交付，具有正當權源，乙不得請求甲返還
(D)甲對乙之土地所有權移轉登記請求權，已經罹於消滅時效，應由甲、乙另行協議
- 6 甲因缺錢向乙借款，約定利息為年利率 25%，前 3 年僅還利息，第 4 年開始可逐月攤還本金。甲覺得利息很高，想找到解決的途徑。下列敘述，何者正確？
- (A)年利率超過 20% 部分之利息約定，無效
(B)年利率 20% 以內的部分，1 年經過後，無須通知即可隨時清償本金
(C)年利率超過 20% 之利息約定，與未約定利率相同，應依法定年利率 5% 計算
(D)甲在 1 年之後，於 1 個月前預告債權人，得提前清償本金
- 7 受領人雖無法律上原因而受利益，惟給付者乃出於履行道德上義務而為給付，法律效果如何？
- (A)給付人不得請求返還利益
(B)受領人應返還所受利益，惟不得超過利益價值十分之三
(C)受領人應返還所受利益，惟不得超過利益價值五分之一
(D)受領人應返還所受利益之全額
- 8 關於無權代理人以本人名義所為之法律行為，下列敘述，何者正確？
- (A)該法律行為之當事人係無權代理人與相對人
(B)該法律行為之當事人係本人與相對人
(C)該法律行為絕對無效
(D)該法律行為雖為有效，惟利害關係人得申請法院撤銷之
- 9 甲有 A 車出賣於乙，約定履行期屆至後，甲仍未移轉 A 車所有權於乙。下列敘述，何者錯誤？
- (A)乙得向甲請求其賠償因遲延而生之損害
(B)乙得抗辯拒絕支付價金
(C)乙得向甲請求移轉 A 車所有權
(D)乙得不經催告，即解除契約
- 10 債權人行使撤銷權以確保債權之實現，在行使要件上，下列敘述，何者錯誤？
- (A)撤銷權之行使必須透過訴訟為之
(B)詐害行為不限以財產標的為限，對債務人之非以財產為標的之行為，亦可撤銷之
(C)債務人所為之無償詐害行為，無論受益人知情與否，債權人皆可對該行為行使撤銷權
(D)行使撤銷權人並無優先受償權
- 11 甲有房屋一棟，出租給乙經營汽車修理廠。甲之汽車經常送請乙維修，積欠維修費新臺幣 20 萬元。乙請求甲給付維修費，甲均置之不理。租賃期限屆滿，甲請求乙返還房屋，乙故意拒絕返還，致積欠甲相當於租金之不當得利新臺幣 20 萬元。甲請求乙給付相當於租金之不當得利新臺幣 20 萬元，下列敘述，何者正確？
- (A)因甲積欠乙維修費新臺幣 20 萬元，故乙得向甲主張抵銷
(B)乙故意拒絕返還房屋是故意侵權行為，故乙不得主張抵銷
(C)維修費與相當於租金之不當得利種類不同，故乙不得抵銷
(D)乙主張抵銷，須得甲之同意，否則不發生抵銷之法律效果

- 12 租賃物為供居住之處所，如其有瑕疵，危及人之安全及健康時，法律效果如何？
(A)出租人得解除契約 (B)承租人得解除契約
(C)出租人得終止契約 (D)承租人得終止契約
- 13 甲從高雄搭乙客運北上，下列敘述，何者錯誤？
(A)甲到站後，忘記領回寄放於車內行李放置處掛有名牌住址的行李箱，乙客運得在 1 個月後逕行拍賣
(B)甲因為乙客運之司機不專心開車突然急踩剎車，撞上前座而受傷，乙必須對此負責
(C)乙客運因突發的地震，高速公路有所壅塞而延遲到站時間，乙不得因此對甲與其他乘客免責
(D)乙客運在車票上記載對旅客關於行李保管、旅客安全概不負責的文句，若旅客明示同意，應為有效
- 14 下列關於隱名合夥之敘述，何者正確？
(A)隱名合夥之財產乃為出名營業人與隱名合夥人所共同共有
(B)隱名合夥之事務，由隱名合夥人執行之
(C)隱名合夥人不得查閱隱名合夥之賬簿
(D)除契約另有訂定外，隱名合夥契約因出名營業人受監護之宣告而終止
- 15 甲有 A 地，於甲死亡後，乙繼承取得 A 地所有權。乙出賣且移轉 A 地所有權於丙，但乙交付 A 地於丁。
以上乙之行為中，何者為不動產物權行為？
(A)乙出賣 A 地於丙 (B)乙繼承取得 A 地所有權
(C)乙移轉 A 地所有權於丙 (D)乙交付 A 地於丁
- 16 甲於乙之農地上設定以造林為目的之未定期限之農育權後，就該農育權之終止，下列敘述，何者正確？
(A)僅得由甲或乙向法院請求，由法院判斷是否終止之
(B)僅甲得隨時終止之
(C)僅乙得隨時終止之
(D)甲或乙皆得隨時終止之
- 17 關於逾新臺幣 500 元之遺失物拾得，下列敘述，何者錯誤？
(A)遺失物拾得人在有人認領遺失物時，得請求不超過遺失物財產上價值十分之一的報酬
(B)遺失物在拾得後 3 個月內所有人未認領者，由拾得人取得遺失物所有權
(C)拾得物如有易於腐壞之性質，警察或自治機關得拍賣拾得物，而保管其價金
(D)所有人認領時，必須償還保管費用
- 18 下列關於質權之敘述，何者錯誤？
(A)質權人原則上得收取質物所生之孳息
(B)質權人應以善良管理人之注意，保管質物
(C)質權人得使出質人或債務人代自己占有質物
(D)質權人於債權已屆清償期，而未受清償者，得拍賣質物
- 19 下列關於農育權人權利之敘述，何者錯誤？
(A)不得將其權利與其農育工作物分離而為讓與 (B)不得將土地或農育工作物出租於他人
(C)得將其權利讓與他人 (D)不得以其權利設定抵押權

- 20 下列關於婚約當事人關係之敘述，何者正確？
- (A) 雖不負同居義務，但仍與他方發生夫妻身分關係
 - (B) 不得強迫他方履行結婚義務，結婚後始發生夫妻身分關係
 - (C) 婚約當事人之一方死亡時，他方應返還婚約所受之贈與物
 - (D) 雙方不得以合意解除婚約
- 21 甲男、乙女於民國 103 年 7 月 18 日結婚。下列敘述，何者正確？
- (A) 甲、乙結婚，應以書面為之，有二人以上證人之簽名，並應由甲、乙向戶政機關為結婚之登記
 - (B) 甲、乙之一方，如於結婚時係在無意識或精神錯亂中者，得於結婚後 5 年內向法院請求撤銷之
 - (C) 甲、乙如因被詐欺或被脅迫而結婚者，得於結婚後 5 年內向法院請求撤銷之
 - (D) 甲、乙之一方，如於結婚時不能人道而不能治者，他方得向法院請求撤銷之。但結婚已逾 1 年者，不得請求撤銷
- 22 下列何者不屬於得請求裁判離婚之事由？
- (A) 婆媳不和，媳婦對婆婆冷言熱諷，且暴力相向，致不堪共同生活
 - (B) 夫赴大陸經商，妻回娘家暫住
 - (C) 生死不明已逾 3 年
 - (D) 夫妻一方罹患嚴重不治之精神病
- 23 下列關於收養之情形，何者得撤銷？
- (A) 養子女同時為二人之養子女，但非屬於夫妻共同收養
 - (B) 有配偶之被收養人，於被收養時，未得其配偶之同意
 - (C) 未滿 7 歲之未成年人被收養，而未由其法定代理人代為意思表示或代受意思表示
 - (D) 收養未以書面為之
- 24 繼承人即使有下列何種情事，仍得主張對於被繼承人之債務，以因繼承所得之遺產為限，負清償責任？
- (A) 在遺產清冊為虛偽之記載情節重大
 - (B) 對特定債權人為繼承債務之清償
 - (C) 意圖詐害被繼承人之債權人之權利而為遺產之處分
 - (D) 隱匿遺產情節重大
- 25 甲、乙長年不孕，收養丙為養女後，旋即懷孕生下丁。甲欣喜之餘，乃訂立遺囑，將其全部財產留給丁。下列敘述，何者正確？
- (A) 丙與丁之繼承順序相同，該遺囑全部無效
 - (B) 遺囑之執行，須以立遺囑人之意思為依據，因此丙無繼承權
 - (C) 甲之遺囑有效，但須留給丙特留分
 - (D) 養子女之繼承順序，後於親生子女，故該遺囑有效

測驗式試題標準答案

考試名稱：105年公務人員高等考試三級考試暨普通考試

類科名稱：財稅行政、法制、公平交易管理、商業行政、智慧財產行政

科目名稱：民法（試題代號：2218）

單選題數：25題

單選每題配分：2.00分

複選題數：

複選每題配分：

標準答案：

更多高普考考試科目的歷屆題庫
立即上網搜尋“高普考歷屆考古題懶人包”
高鋒公職補習班整理
Line@帳號：@gaofeng
連絡電話：07-236-7296

題號	第1題	第2題	第3題	第4題	第5題	第6題	第7題	第8題	第9題	第10題
答案	A	A	B	B	C	D	A	B	D	B

題號	第11題	第12題	第13題	第14題	第15題	第16題	第17題	第18題	第19題	第20題
答案	A	D	A	D	C	A	B	C	D	B

題號	第21題	第22題	第23題	第24題	第25題	第26題	第27題	第28題	第29題	第30題
答案	A	B	B	B	C					

題號	第31題	第32題	第33題	第34題	第35題	第36題	第37題	第38題	第39題	第40題
答案										

題號	第41題	第42題	第43題	第44題	第45題	第46題	第47題	第48題	第49題	第50題
答案										

題號	第51題	第52題	第53題	第54題	第55題	第56題	第57題	第58題	第59題	第60題
答案										

題號	第61題	第62題	第63題	第64題	第65題	第66題	第67題	第68題	第69題	第70題
答案										

題號	第71題	第72題	第73題	第74題	第75題	第76題	第77題	第78題	第79題	第80題
答案										

題號	第81題	第82題	第83題	第84題	第85題	第86題	第87題	第88題	第89題	第90題
答案										

題號	第91題	第92題	第93題	第94題	第95題	第96題	第97題	第98題	第99題	第100題
答案										

備註：

105年公務人員高等考試三級考試試題

20960、21860
21960、22060
代號：22760、22860
23060、23360
23460、23660
全一張
(正面)

類 科：勞工行政、財稅行政、金融保險、統計、經建行政、公平交易
管理、商業行政、僑務行政（選試西班牙文）、僑務行政（選
試德文）、醫務管理

科 目：經濟學

考試時間：2小時

更多高普考考試科目的歷屆題庫
立即上網搜尋“高普考歷屆考古題懶人包”
高鋒公職補習班整理
Line@帳號：@gaofeng
連絡電話：07-236-7296

※注意：可以使用電子計算器，須詳列解答過程。

甲、申論題部分：(50分)

- (一)不必抄題，作答時請將試題題號及答案依照順序寫在申論試卷上，於本試題上作答者，不予計分。
(二)請以藍、黑色鋼筆或原子筆在申論試卷上作答。

一、假設張三的效用函數為 $U = \sqrt{Y}$ ，其中 Y 為所得。此人每年賺取的所得為\$360,000，但有5%的機率會生病，將花費醫療費用\$110,000。

請回答下列問題：

- (一)在沒有參加任何的保險下，張三面臨這種意外事件發生，其所得的期望值(expected value)與期望效用(expected utility)為何？(4分)
(二)假如張三為了預防生病時必須支付高額的醫療費用，而參加了保險。若不考慮其他各項費用，其公平的精算保費應設定為多少？(3分)其所得的期望效用又為何？(3分)
(三)在此公平的精算保費制度下，張三會參加保險，其故安在？(3分)試以效用理論說明此人對風險的看法。(4分)
(四)試問張三的風險貼水(risk premium)為何？(4分)他願意支付的最大保費為何？(4分)

二、請回答下列問題：

- (一)那些因素會影響一國的貨幣供給量(M1)？(5分)
(二)試以貨幣乘數(貨幣供給與貨幣基數之關係)方程式說明之。(10分)
(三)此外，金融恐慌(financial panic)發生時，對貨幣乘數和貨幣供給量會產生什麼影響？(6分)
(四)請以美國1929-1933年與2008-2014年的實例說明之。(4分)

乙、測驗題部分：(50分)

代號：6209

- (一)本測驗試題為單一選擇題，請選出一個正確或最適當的答案，複選作答者，該題不予計分。
(二)共25題，每題2分，須用2B鉛筆在試卡上依題號清楚劃記，於本試題或申論試卷上作答者，不予計分。

- 當需求曲線和供給曲線同時左移或右移時，則：
(A)可預測其對於均衡數量的影響，但無法預測其對均衡價格的影響
(B)可預測其對於均衡價格的影響，但無法預測其對均衡數量的影響
(C)其對於均衡數量與均衡價格的影響，皆可以預測
(D)其對於均衡數量與均衡價格的影響，皆無法預測
- 需求曲線圖上的價格所指為何？
(A)名目價格 (B)相對價格 (C)通貨膨脹調整過的價格 (D)商品的生產成本
- 替代效果(substitution effect)所指的是消費者因為下列何者變化而改變該商品的購買數量之結果？
(A)此商品的相對價格 (B)此商品的貨幣價格(monetary price)
(C)消費者的所得水準 (D)彈性
- 下列何者會造成番茄醬的均衡價格上升和其均衡數量下降？
(A)番茄價格下降 (B)番茄價格上升
(C)芥末為番茄醬的替代品，芥末的價格上升 (D)薯條為番茄醬的互補品，薯條的價格上升
- 下列那一條成本線不是呈現U型特徵？
(A)平均變動成本 (B)邊際成本 (C)平均成本 (D)固定成本
- 當有下列何種情形時，財貨在市場上會出現供給不足的現象？
(A)正的外部性 (B)負的外部性 (C)社會成本 (D)內部成本
- 競爭廠商的產出水準達到下列何種條件時，即滿足利潤極大？
(A)邊際收益等於總收益 (B)總變動成本等於總固定成本
(C)總收益等於總變動成本 (D)邊際收益等於邊際成本

(請接背面)

105年公務人員高等考試三級考試試題

類 科：勞工行政、財稅行政、金融保險、統計、經建行政、公平交易
管理、商業行政、僑務行政（選試西班牙文）、僑務行政（選
試德文）、醫務管理

科 目：經濟學

- 8 若日圓相對美元的需求增加，將會發生下列何種情況？
(A)美元升值 (B)日圓貶值 (C)美元貶值 (D)美元需求增加
- 9 根據貨幣數量說 (quantity theory of money)，下列何種情況會發生通貨緊縮 (deflation)？
(A)貨幣供給小於實質 GDP (B)貨幣供給大於實質 GDP
(C)貨幣供給成長率小於實質 GDP 成長率 (D)貨幣供給成長率大於實質 GDP 成長率
- 10 若貨幣供給為\$1,500，實質 GDP 為\$4,000，價格為 1.5，則貨幣流通速度 (velocity of money) 為：
(A)4 (B)0.56 (C)0.25 (D)8
- 11 下列何者會導致市場均衡利率下降？
(A)物價水準上升 (B)中央銀行出售公債 (C)GDP 下降 (D)存款準備金水準提升
- 12 若是貨幣供給在充分就業的情況下增加，其結果將導致：
(A)價格水準下降、產量水準上升 (B)價格水準上升、產量水準下降
(C)價格水準和產量水準皆上升 (D)價格水準上升
- 13 關於比較利益 (comparative advantage) 之敘述，下列何者最適當？
(A)法國生產的葡萄酒品質遠遠超過美國生產的葡萄酒，所以法國對葡萄酒生產具有比較利益
(B)法國一年生產 40 萬瓶葡萄酒而美國只生產 30 萬瓶葡萄酒，所以法國對葡萄酒生產具有比較利益
(C)法國擁有較佳技術故可用 10 公斤葡萄為原料生產一瓶葡萄酒，而美國必須用 15 公斤葡萄才能生產一瓶葡萄酒，所以法國對葡萄酒生產具有比較利益
(D)在法國生產一瓶葡萄酒必須放棄 10 公斤玉米，而在美國生產一瓶葡萄酒必須放棄 13 公斤玉米，所以法國對葡萄酒生產具有比較利益
- 14 關於消費行為之邊際效用分析，下列何者最適當？
(A)因為邊際效用遞減，所以消費 7 單位商品得到的總效用必定小於消費 6 單位商品得到的總效用
(B)雖然邊際效用遞減，但是消費 7 單位商品得到的總效用必定大於消費 6 單位商品得到的總效用
(C)因為邊際效用遞減，所以消費第 7 單位商品所得到的效用增加必定大於消費第 6 單位商品所得到的效用增加
(D)因為邊際效用遞減，所以消費第 7 單位商品所得到的效用增加必定小於消費第 6 單位商品所得到的效用增加
- 15 實質景氣循環理論 (real business cycle theory) 的基本前提是：
(A)只有貨幣政策是有用的；財政政策是相對沒有效的 (B)所有的活動都發生在實質的市場 (real markets)
(C)經濟狀況是被貨幣因素所決定的 (D)經濟狀況是被實質因素 (real forces) 所決定的
- 16 某商品市場完全競爭，廠商雇用 5 名工人的總產量是 30，6 名工人的總產量是 36，並且已知第 6 名工人的邊際產值是\$270。請問此商品的價格是：
(A)\$7.5 (B)\$9 (C)\$45 (D)\$90
- 17 下列有關自然失業率之敘述，何者錯誤？
(A)自然失業率中包含摩擦性失業 (B)自然失業率中包含結構性失業
(C)自然失業率中包含循環性失業 (D)實際失業率等於自然失業率，即稱為充分就業
- 18 下列關於生產者剩餘之敘述，何者正確？
(A)完全競爭廠商之經濟利潤為零，故完全競爭市場之生產者剩餘也是零
(B)獨占廠商的利潤一定大於零，所以生產者剩餘也一定大於零
(C)需求減少需求曲線左移將使生產者剩餘變大
(D)需求減少需求曲線左移將使生產者剩餘變小
- 19 甲國的每人實質 GDP 是\$15,000，預期可維持 0.10 的成長。乙國的每人實質 GDP 是\$20,000，預期可維持 0.05 的成長。請問在幾年之後，甲國的每人實質 GDP 就會超過乙國？
(A)3 年 (B)7 年 (C)11 年 (D)15 年
- 20 下列因素中對長期經濟成長影響最小的是：
(A)勞動力成長 (B)技術進步 (C)政府降低工資稅率 (D)政府提高奢侈品消費稅
- 21 下列敘述中，何者最可能造成「IS 曲線往右上方移動」？
(A)政府增加貨幣供給並提高稅收 (B)政府減少貨幣供給並提高稅收
(C)政府支出增加並提高稅收 (D)政府支出增加並減少稅收
- 22 關於 LM 曲線之敘述，下列何者錯誤？
(A)LM 曲線是可以維持貨幣市場均衡的利率與產出軌跡 (B)利率對貨幣需求之影響越大，則 LM 曲線斜率越大
(C)貨幣供給數量增加可使 LM 曲線往右下方移動 (D)政府支出增加可使 LM 曲線往右下方移動
- 23 當經濟不景氣時，則：
(A)產出通常會增加 (B)利率通常會下墜 (C)失業通常會減少 (D)所得通常會增加
- 24 關於實質景氣循環理論，下列敘述何者最適當？
(A)擴張性財政政策才是解決實質景氣循環的正確政策工具
(B)擴張性貨幣政策才是解決實質景氣循環的正確政策工具
(C)緊縮性貨幣政策才是解決實質景氣循環的正確政策工具
(D)短期景氣波動大多反映出經濟對實質外在衝擊的調整，不需採用財政或貨幣政策來矯正
- 25 下列何者對家計部門消費決策的影響最小？
(A)利率 (B)家計部門所得 (C)中間財價格 (D)消費財價格

測驗式試題標準答案

考試名稱：105年公務人員高等考試三級考試暨普通考試

類科名稱：僑務行政(選試西班牙文)、公平交易管理、商業行政、醫務管理、僑務行政(選試德文)、統計、經建行政、財稅行政、勞工行政、金融保險

科目名稱：經濟學(試題代號：6209)

單選題數：25題

單選每題配分：2.00分

複選題數：

複選每題配分：

標準答案：

更多高普考考試科目的歷屆題庫
立即上網搜尋“高普考歷屆考古題懶人包”
高鋒公職補習班整理
Line@帳號：@gaofeng
連絡電話：07-236-7296

題號	第1題	第2題	第3題	第4題	第5題	第6題	第7題	第8題	第9題	第10題
答案	A	B	A	B	D	A	D	C	C	A

題號	第11題	第12題	第13題	第14題	第15題	第16題	第17題	第18題	第19題	第20題
答案	C	D	D	D	D	C	C	D	B	D

題號	第21題	第22題	第23題	第24題	第25題	第26題	第27題	第28題	第29題	第30題
答案	D	D	B	D	C					

題號	第31題	第32題	第33題	第34題	第35題	第36題	第37題	第38題	第39題	第40題
答案										

題號	第41題	第42題	第43題	第44題	第45題	第46題	第47題	第48題	第49題	第50題
答案										

題號	第51題	第52題	第53題	第54題	第55題	第56題	第57題	第58題	第59題	第60題
答案										

題號	第61題	第62題	第63題	第64題	第65題	第66題	第67題	第68題	第69題	第70題
答案										

題號	第71題	第72題	第73題	第74題	第75題	第76題	第77題	第78題	第79題	第80題
答案										

題號	第81題	第82題	第83題	第84題	第85題	第86題	第87題	第88題	第89題	第90題
答案										

題號	第91題	第92題	第93題	第94題	第95題	第96題	第97題	第98題	第99題	第100題
答案										

備註：

測驗題標準答案更正

考試名稱：105年公務人員高等考試三級考試暨普通考試

類科名稱：勞工行政、財稅行政、金融保險、統計、經建行政、公平交易管理、商業行政、僑務行政
(選試西班牙文)、僑務行政(選試德文)、醫務管理

科目名稱：經濟學

單選題數：25題

單選每題配分：2.00分

複選題數：

複選每題配分：

更多高普考考試科目的歷屆題庫
立即上網搜尋“高普考歷屆考古題懶人包”
高鋒公職補習班整理
Line@帳號：@gaofeng
連絡電話：07-236-7296

標準答案：答案標註#者，表該題有更正答案，其更正內容詳見備註。

題號	第1題	第2題	第3題	第4題	第5題	第6題	第7題	第8題	第9題	第10題
答案	A	B	A	B	D	A	D	C	C	A

題號	第11題	第12題	第13題	第14題	第15題	第16題	第17題	第18題	第19題	第20題
答案	C	D	D	D	D	C	C	D	B	D

題號	第21題	第22題	第23題	第24題	第25題	第26題	第27題	第28題	第29題	第30題
答案	D	#	B	D	C					

題號	第31題	第32題	第33題	第34題	第35題	第36題	第37題	第38題	第39題	第40題
答案										

題號	第41題	第42題	第43題	第44題	第45題	第46題	第47題	第48題	第49題	第50題
答案										

題號	第51題	第52題	第53題	第54題	第55題	第56題	第57題	第58題	第59題	第60題
答案										

題號	第61題	第62題	第63題	第64題	第65題	第66題	第67題	第68題	第69題	第70題
答案										

題號	第71題	第72題	第73題	第74題	第75題	第76題	第77題	第78題	第79題	第80題
答案										

題號	第81題	第82題	第83題	第84題	第85題	第86題	第87題	第88題	第89題	第90題
答案										

題號	第91題	第92題	第93題	第94題	第95題	第96題	第97題	第98題	第99題	第100題
答案										

備註：第22題答B或D者均給分。

105年公務人員高等考試三級考試試題

代號：21850
22150

全一張
(正面)

類 科：財稅行政、會計

科 目：財政學

考試時間：2小時

更多高普考考試科目的歷屆題庫
立即上網搜尋“高普考歷屆考古題懶人包”
高鋒公職補習班整理
Line@帳號：@gaofeng
連絡電話：07-236-7296

座號：_____

※注意：禁止使用電子計算器。

甲、申論題部分：(50分)

- (一)不必抄題，作答時請將試題題號及答案依照順序寫在申論試卷上，於本試題上作答者，不予計分。
(二)請以藍、黑色鋼筆或原子筆在申論試卷上作答。

一、何謂「租稅競爭」(Tax competition)與「租稅輸出」(Tax export)?對於公共財提供的效率條件有何影響?並指出我國的地方稅法通則對上述問題有何規範?(25分)

二、試應用寇斯定理(Coase Theorem)討論解決污染問題之可行性及其限制條件。(25分)

乙、測驗題部分：(50分)

代號：5218

- (一)本測驗試題為單一選擇題，請選出一個正確或最適當的答案，複選作答者，該題不予計分。
(二)共25題，每題2分，須用2B鉛筆在試卡上依題號清楚劃記，於本試題或申論試卷上作答者，不予計分。

- 下列關於柏瑞圖改善(Pareto improvement)與柏瑞圖效率(Pareto efficiency)之敘述，何者錯誤?
(A)柏瑞圖改善的存在意謂著經濟體系一定是非柏瑞圖效率的
(B)由柏瑞圖效率點移至另一柏瑞圖效率點的改變，一定不是柏瑞圖改善
(C)柏瑞圖改善一定會導致柏瑞圖效率的結果
(D)發生柏瑞圖改善時，一定不會有任何人福利受損，而在柏瑞圖效率狀態下改變時，一定會使某人福利受損
- 兩消費者對公共財Q之需求各為 $P=100-Q$ 與 $P=50-Q$ ，而公共財之市場價格為10。假設公共財是由兩人自願提供，則均衡之公共財數量為：
(A)30 (B)50 (C)70 (D)90
- 福利經濟學第一基本定理說明：
(A)貪婪有助於福利的提昇 (B)市場均衡都是有效率的
(C)完全競爭市場均衡是有效率的 (D)完全競爭市場均衡具公平性
- 以下何種商品不具有公共財的特性?
(A)燈塔 (B)報紙 (C)路燈 (D)無線電台
- 「自然獨占」廠商要極大化利潤會如何定價?
(A)廠商邊際生產成本等於消費者邊際效益 (B)廠商邊際生產成本等於廠商邊際營收
(C)廠商邊際營收等於消費者邊際效益 (D)廠商邊際營收等於市場價格
- 二個社會各有五位成員，其所得分別是：社會1[5000, 10000, 15000, 25000, 40000]，社會2[5000, 10000, 15000, 30000, 40000]。若其他條件不變，政府實施所得重分配政策在那一個社會可能發揮的效果較大?
(A)社會1，因其中位數所得(median income)小於平均數所得(average income)，且差距較社會2為大
(B)社會1，因其中位數所得大於平均數所得，且差距較社會2為小
(C)社會2，因其中位數所得小於平均數所得，且差距較社會1為大
(D)社會2，因其中位數所得大於平均數所得，且差距較社會1為小
- 假設市場需求曲線為 $P^D * Q^D = 50$ ，供給曲線為 $2P^S = Q^S$ ，如果政府政策由原先以保證收購價格10元進入市場收購商品，改為訂定價格下限10元，則以下敘述何者正確?
(A)市場均衡量下降 (B)消費者支出減少 (C)生產者產量不變 (D)市場價格變低
- 目前已為世界各國中央及地方政府，乃至如世界銀行等國際機構普遍採用，作為評估政府各項支出計畫可行性的一個重要工具為：
(A)事件研究法 (B)專家評估法 (C)個案分析法 (D)成本效益分析法
- 在成本效益分析時，如果有些效益或成本因性質特殊而存在模稜兩可的解釋，例如某些效果可以視為效益，也可以視為負成本，那麼以下何種成本效益分析方式為最可靠的指標?
(A)淨現值法 (B)益本比 (C)內部報酬率 (D)回收期法

(請接背面)

類 科：財稅行政、會計
科 目：財政學

更多高普考考試科目的歷屆題庫
立即上網搜尋“高普考歷屆考古題懶人包”
高鋒公職補習班整理
Line@帳號：@gaofeng
連絡電話：07-236-7296

- 10 下列何者不是競租活動中的非生產性支出：
(A)決策者收受的政治獻金 (B)雇用專家出席公聽會的費用
(C)給付給遊說人士的薪資 (D)政治公關與廣告支出
- 11 林達爾均衡 (Lindahl Equilibrium) 達成時：
(A)社會對公共財有超額需求 (B)政府對公共財有超額供給
(C)少於半數公民同意公共財分攤費用 (D)全體公民一致同意公共財分攤費用
- 12 尼斯坎南 (W. Niskanen) 的官僚理論中，行政首長追求的是：
(A)單位機關預算最大化 (B)收受政治捐獻最大化 (C)效益成本比值最大化 (D)人事雇用成本最小化
- 13 下列有關醫療保險市場「風險選擇」(risk selection) 的概念，何者不正確？
(A)是指保險公司可以選擇風險較低者來投保
(B)是指被保險人有較多資訊，可以選擇較佳保單投保
(C)高風險者將無法得到適當醫療保障
(D)為追求利潤，保險公司會盡量不提供風險混合的保單
- 14 下列有關商業保險公司不願辦理就業保險的原因，何者不正確？
(A)逆選擇 (reverse selection) 問題嚴重 (B)存在道德危險 (moral hazard)
(C)無法預測失業機率 (D)失業造成的損失不確定
- 15 下列有關年滿二十五歲，未滿六十五歲國民加保國民年金保險的規定，何者正確？
(A)除應參加或已參加相關社會保險者外，得參加本保險
(B)除應參加或已參加相關社會保險者外，應參加本保險
(C)本法施行前領取勞工保險老年給付者，不得參加本保險
(D)本法施行後十五年內，領取勞工保險老年給付之年資超過十五年者，得參加本保險
- 16 其他情況不變，當課稅造成之人民福利損失的貨幣價值大於政府稅收金額時，則租稅違反下列那一原則？
(A)水平公平原則 (B)垂直公平原則 (C)中立性原則 (D)租稅收入充分原則
- 17 對廠商的經濟利潤課稅的結果，下列敘述何者正確？
(A)邊際成本提高，而邊際收入下降 (B)邊際成本提高，但邊際收入不變
(C)邊際成本不變，但邊際收入下降 (D)邊際成本與邊際收入均不變
- 18 學理上常以無效率係數 (coefficient of inefficiency) 為比較各種租稅的相對效率損失，此係數是指下列何者？
(A)平均每一元福利損失的超額負擔 (B)平均每一元稅收的超額負擔
(C)每增加一元稅收的邊際超額負擔 (D)每一元稅收加邊際超額負擔
- 19 某國產冷暖氣機的銷售價格為 24,000 元，該冷暖氣機無中間批發商且假設批發商毛利為 10%。已知貨物稅稅率為 20%，則該冷暖氣機的完稅價格為多少？
(A)18,000 元 (B)20,000 元 (C)22,000 元 (D)31,680 元
- 20 我國所得基本稅額之免稅額每遇消費者物價指數較上次調整年度之指數上漲累計達多少時，按上漲程度調整之？
(A)3% (B)5% (C)10% (D)20%
- 21 我國地方政府的歲入結構中，下列那一項屬於實質收入？
(A)補助及協助收入 (B)移用以前年度歲計賸餘 (C)公債及借款收入 (D)捐贈及贈與收入
- 22 甲鎮的財產稅基彈性為-2，如果財產稅的稅率由 5% 增加至 5.5%，則：
(A)財產價值 (稅基) 減少 20%，稅收減少 12% (B)財產價值 (稅基) 減少 20%，稅收減少 10%
(C)財產價值 (稅基) 減少 12%，稅收減少 20% (D)財產價值 (稅基) 增加 20%，稅收增加 10%
- 23 政府某些公共支出計畫或可拯救人的性命。下列何者為衡量生命價值的較佳方式？
(A)死亡機率的變動 (B)死亡時的財富總值 (C)保險給付之賠償金 (D)綜合所得稅申報的稅基
- 24 若李嘉圖等值定理 (Ricardian Equivalence Theorem) 成立，則減稅之後，全國儲蓄有何變化？
(A)增加 (B)減少 (C)不變 (D)先增後減
- 25 我國計算年度各級政府預算赤字，下列何者不計入其中？
(A)債息支出 (B)折舊費用 (C)老農津貼 (D)國營事業盈餘繳庫

測驗式試題標準答案

考試名稱：105年公務人員高等考試三級考試暨普通考試

類科名稱：會計、財稅行政

科目名稱：財政學（試題代號：5218）

單選題數：25題

單選每題配分：2.00分

複選題數：

複選每題配分：

標準答案：

更多高普考考試科目的歷屆題庫
立即上網搜尋“高普考歷屆考古題懶人包”
高鋒公職補習班整理
Line@帳號：@gaofeng
連絡電話：07-236-7296

題號	第1題	第2題	第3題	第4題	第5題	第6題	第7題	第8題	第9題	第10題
答案	C	D	C	B	B	C	A	D	A	A

題號	第11題	第12題	第13題	第14題	第15題	第16題	第17題	第18題	第19題	第20題
答案	D	A	B	D	B	C	D	B	A	C

題號	第21題	第22題	第23題	第24題	第25題	第26題	第27題	第28題	第29題	第30題
答案	D	A	A	C	B					

題號	第31題	第32題	第33題	第34題	第35題	第36題	第37題	第38題	第39題	第40題
答案										

題號	第41題	第42題	第43題	第44題	第45題	第46題	第47題	第48題	第49題	第50題
答案										

題號	第51題	第52題	第53題	第54題	第55題	第56題	第57題	第58題	第59題	第60題
答案										

題號	第61題	第62題	第63題	第64題	第65題	第66題	第67題	第68題	第69題	第70題
答案										

題號	第71題	第72題	第73題	第74題	第75題	第76題	第77題	第78題	第79題	第80題
答案										

題號	第81題	第82題	第83題	第84題	第85題	第86題	第87題	第88題	第89題	第90題
答案										

題號	第91題	第92題	第93題	第94題	第95題	第96題	第97題	第98題	第99題	第100題
答案										

備註：

測驗題標準答案更正

考試名稱：105年公務人員高等考試三級考試暨普通考試

類科名稱：財稅行政、會計

科目名稱：財政學

單選題數：25題

單選每題配分：2.00分

複選題數：

複選每題配分：

標準答案：答案標註#者，表該題有更正答案，其更正內容詳見備註。

題號	第1題	第2題	第3題	第4題	第5題	第6題	第7題	第8題	第9題	第10題
答案	C	D	C	B	B	C	A	D	A	#

題號	第11題	第12題	第13題	第14題	第15題	第16題	第17題	第18題	第19題	第20題
答案	D	A	B	D	B	C	D	B	A	C

題號	第21題	第22題	第23題	第24題	第25題	第26題	第27題	第28題	第29題	第30題
答案	D	A	#	C	B					

題號	第31題	第32題	第33題	第34題	第35題	第36題	第37題	更多高普考考試科目的歷屆題庫 立即上網搜尋“高普考歷屆考古題懶人包” 高鋒公職補習班整理 Line@帳號：@gaofeng 連絡電話：07-236-7296		
答案										

題號	第41題	第42題	第43題	第44題	第45題	第46題	第47題	第48題	第49題	第50題
答案										

題號	第51題	第52題	第53題	第54題	第55題	第56題	第57題	第58題	第59題	第60題
答案										

題號	第61題	第62題	第63題	第64題	第65題	第66題	第67題	第68題	第69題	第70題
答案										

題號	第71題	第72題	第73題	第74題	第75題	第76題	第77題	第78題	第79題	第80題
答案										

題號	第81題	第82題	第83題	第84題	第85題	第86題	第87題	第88題	第89題	第90題
答案										

題號	第91題	第92題	第93題	第94題	第95題	第96題	第97題	第98題	第99題	第100題
答案										

備註：第10題一律給分，第23題答A或C者均給分。

類 科：財稅行政

科 目：租稅各論

考試時間：2小時

更多高普考考試科目的歷屆題庫
 立即上網搜尋“高普考歷屆考古題懶人包”
 高鋒公職補習班整理
 Line@帳號：@gaofeng
 連絡電話：07-236-7296

座號：_____

※注意：禁止使用電子計算器。

甲、申論題部分：(50分)

- (一)不必抄題，作答時請將試題題號及答案依照順序寫在申論試卷上，於本試題上作答者，不予計分。
 (二)請以藍、黑色鋼筆或原子筆在申論試卷上作答。

一、近年來我國財富與所得分配爭議問題逐漸浮現，部分人士重新針對民國 98 年遺產及贈與稅改採 10% 單一比例稅率進行檢討，認為目前遺產及贈與稅的低稅率應予以調高。試分析遺產及贈與稅率調高可能之優點及缺點各為何？(25分)

二、為蓄積財源以支援重大政策及公共建設推動，達成經濟成長及財政永續發展之目標，我國財政部提出「財政健全方案」，方案中短期稅制調整措施關於「所得稅法」部分已於民國 104 年度施行，試說明所得稅法相關修正內容。(25分)

乙、測驗題部分：(50分)

代號：4218

- (一)本測驗試題為單一選擇題，請選出一個正確或最適當的答案，複選作答者，該題不予計分。
 (二)共 25 題，每題 2 分，須用 2B 鉛筆在試卡上依題號清楚劃記，於本試題或申論試卷上作答者，不予計分。

- 下列何者是從價稅優於從量稅的理由？
 (A)比較容易徵收 (B)比較簡單且便民
 (C)可徵得比較多的稅收 (D)實質稅收比較不易受到通貨膨脹影響
- 已知土地的供給彈性為零，假設對土地租金課徵 10% 的租稅，下列敘述何者正確？
 (A)土地承租人負擔全部稅負 (B)土地承租人與地主各負擔一部分的稅負
 (C)租稅的超額負擔為無窮大 (D)租稅的超額負擔為零
- 在需求有彈性的情況下，假設政府對獨占廠商的財貨課徵從量稅，下列敘述何者正確？
 (A)利潤下降，消費者支付的價格不變 (B)利潤下降，消費者支付的價格上升
 (C)利潤不變，稅負完全轉嫁給消費者負擔 (D)利潤與消費者支付的價格皆上升
- 租稅中立性 (tax neutrality) 指租稅課徵應符合：
 (A)平等原則 (B)確實原則 (C)經濟效率原則 (D)財政收入原則
- 在我國所得稅法中，下列何種所得無特別扣除額？
 (A)薪資所得 (B)金融機構存款的利息
 (C)儲蓄性質信託資金之收益 (D)證券交易所所得
- 假設消費者的效用函數與預算限制式分別為 $U(X, Y) = \sqrt{XY}$ 與 $P_x X + P_y Y = I$ ，若 $P_x = P_y = 1$ ， $I = 100$ ，下列三種稅制何種對消費者產生無謂損失最大？稅制甲：對消費者課徵 20% 的所得稅；稅制乙：對消費者課徵 10% 的一般消費稅；稅制丙：對消費者消費的 X 財貨課徵 5% 的特種消費稅
 (A)稅制甲 (B)稅制乙 (C)稅制丙 (D)三者的無謂損失相同
- 有關稅式支出之定義，係指下列何者？
 (A)由於租稅減免、扣抵或扣除，對納稅義務人所減少的稅負
 (B)由於租稅稽徵所需耗用的資源成本或相關費用
 (C)由於納稅義務人逃漏稅所造成稅收的損失
 (D)由於租稅立法推動所需負擔的協商費用
- 假設吳先生適用的邊際稅率為 20%，張先生適用的邊際稅率為 40%，兩人都於 102 年出售自用住宅並繳交相同的財產交易所得部分之綜合所得稅 10 萬元，兩人於 103 年重新購置自用住宅。在 104 年申報 103 年綜合所得稅時，兩人均適用重購自用住宅退稅之規定，則下列何者正確？
 (A)吳先生可因此減少繳納綜合所得稅 2 萬元，張先生可因此減少繳納綜合所得稅 4 萬元
 (B)吳先生可因此減少繳納綜合所得稅 10 萬元，張先生可因此減少繳納綜合所得稅 10 萬元
 (C)吳先生可因此減少繳納綜合所得稅 5 萬元，張先生可因此減少繳納綜合所得稅 5 萬元
 (D)吳先生可因此減少繳納綜合所得稅 1 萬元，張先生可因此減少繳納綜合所得稅 2 萬元
- A 公司為國際影片事業，係在臺灣無分支機構而有營業代理人之電影業，已知一會計年度在中華民國境內總收入為 2,000 萬元，在營利事業所得稅稅率為 17% 的情形下，試計算課稅所得額及應納稅額？
 (A) 200 萬元、40 萬元 (B) 1,100 萬元、187 萬元 (C) 1,000 萬元、200 萬元 (D) 1,000 萬元、170 萬元

(請接背面)

類 科：財稅行政
科 目：租稅各論

更多高普考考試科目的歷屆題庫
立即上網搜尋“高普考歷屆考古題懶人包”
高鋒公職補習班整理
Line@帳號：@gaofeng
連絡電話：07-236-7296

- 10 營利事業之下列那一項金額，不得計入當年度股東可扣抵稅額帳戶餘額？
(A)繳納屬 87 年度或以後年度中華民國營利事業所得稅經稽徵機關調查核定增加之稅額
(B)因投資於中華民國境內其他營利事業，獲配屬 87 年度或以後年度股利總額或盈餘總額所含之可扣抵稅額
(C)繳納之滯報金、怠報金、滯納金、罰鍰及加計之利息
(D) 87 年度或以後年度持有發票日在民國 98 年 12 月 31 日以前之短期票券之利息所得扣繳稅款，按持有期間計算之稅額
- 11 下列有關我國營利事業所得稅之敘述，何者正確？
(A)營利事業所得稅為地方稅
(B)規定之營利事業全部課稅所得額課徵 17% 之稅率，該稅率係指平均稅率
(C)營利事業全年課稅所得額在新臺幣 12 萬元以下者，免徵營利事業所得稅
(D)營利事業全年所得額在新臺幣 18 萬元以下者，全額課徵 17%
- 12 若所得稅採取均一稅制，納稅義務人稅後所得 $Y - T = t\bar{Y} + (1-t)Y$ ， t 為稅率， \bar{Y} 為免稅額， Y 為稅前所得， T 為稅負。政府將免稅額 \bar{Y} 提高為 \bar{Y}' ，若某甲在政策改變前後稅負均為正數且稅前所得不變，下列敘述何者正確？
(A)邊際稅率不變，平均稅率提高
(B)邊際稅率下降，平均稅率提高
(C)邊際稅率提高，平均稅率下降
(D)邊際稅率不變，平均稅率下降
- 13 下列關於菸酒稅與特種貨物及勞務稅的比較何者錯誤？
(A)兩者皆為單階段特種消費稅
(B)菸酒稅採單一稅率從量課徵；特種貨物及勞務稅採單一稅率從價課徵
(C)兩者主要政策目的皆為抑制消費
(D)菸酒運銷國外者免課菸酒稅；銷售因繼承取得房屋免課特種貨物及勞務稅
- 14 有關課徵能源稅主要目的之敘述，下列何者錯誤？
(A)達成溫室氣體減量目標 (B)基於量能課稅之考量 (C)促使能源價格合理化 (D)提昇能源使用效率
- 15 假設某一國家只有 A、B、C 三種財貨。在所有財貨均課稅的情況下，應如何課稅才能達到消費稅的課徵效率？
(A)對 A、B、C 財貨課徵相同稅率
(B)視 A、B、C 財貨本身的市場價格而定，價格愈高者，稅率應較高
(C)視 A、B、C 財貨本身的所得彈性而定，彈性愈大者，稅率應較低
(D)視 A、B、C 財貨本身的價格彈性而定，彈性愈大者，稅率應較低
- 16 假設菸品市場供給幾近完全彈性，提高菸稅的結果，下列敘述何者正確？
(A)菸稅幾近完全由生產者負擔
(B)菸稅幾近完全由吸菸者負擔
(C)菸稅由生產者、吸菸者各負擔一半
(D)菸稅由生產者、吸菸者共同負擔，其中生產者負擔比例較高
- 17 假設一國在自由貿易下有能力主導國際市場價格水準，課徵進口關稅對本國消費者與生產者福利之影響，下列敘述何者正確？
(A)消費者剩餘與生產者剩餘均增加
(B)消費者剩餘與生產者剩餘均減少
(C)消費者剩餘增加，生產者剩餘減少
(D)消費者剩餘減少，生產者剩餘增加
- 18 下列關於財產稅歸宿分析之敘述，何者正確？
(A)傳統觀點認為房屋稅為累進稅
(B)新觀點視房屋稅為一種資本稅
(C)傳統觀點認為土地稅為累退稅
(D)傳統觀點與新觀點完全相反
- 19 下列何者並非土地稅法第 34 條中，土地所有權人出售自用住宅土地可多次適用優惠稅率之要件？
(A)都市土地未超過 1.5 公畝
(B)非都市土地未超過 3.5 公畝
(C)出售前持有該土地 5 年以上
(D)出售前 5 年內，無供營業使用或出租
- 20 某甲持有土地一處，今年該地公告現值為 250 萬元，公告地價為 200 萬元，市價為 300 萬元。某甲並未申報地價。依土地稅法之規定，該處土地計徵地價稅之地價為何？
(A) 160 萬元 (B) 200 萬元 (C) 250 萬元 (D) 300 萬元
- 21 下列何者非屬房屋標準價格之評定因素？
(A)建造材料 (B)房屋交易所得 (C)耐用年數 (D)地段率
- 22 市價 2,000 萬元的土地，以評定價值為稅基，在法定稅率為 10% 下，繳納稅負 50 萬元，其評定價值占市價比例為何？
(A) 2.5% (B) 10% (C) 25% (D) 40%
- 23 下列關於我國現行遺產與贈與稅制度之敘述，何者錯誤？
(A)採總遺產稅制及總贈與稅制
(B)二者皆屬國稅
(C)採累進稅率
(D)以屬人為原則兼採屬地主義
- 24 依我國土地稅法之規定，都市計畫公共設施保留地，在保留期間仍為建築使用者，除自用住宅用地依第 17 條之規定外，統按千分之多少計徵地價稅？
(A)二 (B)六 (C)十 (D)十五
- 25 土地所有權移轉時，免徵土地增值稅之規定，下列何者錯誤？
(A)繼承而移轉之土地
(B)經重劃之土地，於重劃後第一次移轉
(C)被徵收之土地
(D)各級政府出售之公有土地

測驗式試題標準答案

考試名稱：105年公務人員高等考試三級考試暨普通考試

類科名稱：財稅行政

科目名稱：租稅各論（試題代號：4218）

更多高普考考試科目的歷屆題庫
立即上網搜尋“高普考歷屆考古題懶人包”
高鋒公職補習班整理
Line@帳號：@gaofeng
連絡電話：07-236-7296

單選題數：25題

單選每題配分：2.00分

複選題數：

複選每題配分：

標準答案：

題號	第1題	第2題	第3題	第4題	第5題	第6題	第7題	第8題	第9題	第10題
答案	D	D	B	C	D	C	A	B	D	C

題號	第11題	第12題	第13題	第14題	第15題	第16題	第17題	第18題	第19題	第20題
答案	C	D	B	B	A	B	D	B	C	A

題號	第21題	第22題	第23題	第24題	第25題	第26題	第27題	第28題	第29題	第30題
答案	B	C	C	B	B					

題號	第31題	第32題	第33題	第34題	第35題	第36題	第37題	第38題	第39題	第40題
答案										

題號	第41題	第42題	第43題	第44題	第45題	第46題	第47題	第48題	第49題	第50題
答案										

題號	第51題	第52題	第53題	第54題	第55題	第56題	第57題	第58題	第59題	第60題
答案										

題號	第61題	第62題	第63題	第64題	第65題	第66題	第67題	第68題	第69題	第70題
答案										

題號	第71題	第72題	第73題	第74題	第75題	第76題	第77題	第78題	第79題	第80題
答案										

題號	第81題	第82題	第83題	第84題	第85題	第86題	第87題	第88題	第89題	第90題
答案										

題號	第91題	第92題	第93題	第94題	第95題	第96題	第97題	第98題	第99題	第100題
答案										

備註：

測驗題標準答案更正

考試名稱：105年公務人員高等考試三級考試暨普通考試

類科名稱：財稅行政

更多高普考考試科目的歷屆題庫
立即上網搜尋“高普考歷屆考古題懶人包”
高鋒公職補習班整理
Line@帳號：@gaofeng
連絡電話：07-236-7296

科目名稱：租稅各論

單選題數：25題

單選每題配分：2.00分

複選題數：

複選每題配分：

標準答案：答案標註#者，表該題有更正答案，其更正內容詳見備註。

題號	第1題	第2題	第3題	第4題	第5題	第6題	第7題	第8題	第9題	第10題
答案	D	D	B	C	D	C	A	B	#	C

題號	第11題	第12題	第13題	第14題	第15題	第16題	第17題	第18題	第19題	第20題
答案	C	D	B	B	A	B	D	B	C	A

題號	第21題	第22題	第23題	第24題	第25題	第26題	第27題	第28題	第29題	第30題
答案	B	C	C	B	B					

題號	第31題	第32題	第33題	第34題	第35題	第36題	第37題	第38題	第39題	第40題
答案										

題號	第41題	第42題	第43題	第44題	第45題	第46題	第47題	第48題	第49題	第50題
答案										

題號	第51題	第52題	第53題	第54題	第55題	第56題	第57題	第58題	第59題	第60題
答案										

題號	第61題	第62題	第63題	第64題	第65題	第66題	第67題	第68題	第69題	第70題
答案										

題號	第71題	第72題	第73題	第74題	第75題	第76題	第77題	第78題	第79題	第80題
答案										

題號	第81題	第82題	第83題	第84題	第85題	第86題	第87題	第88題	第89題	第90題
答案										

題號	第91題	第92題	第93題	第94題	第95題	第96題	第97題	第98題	第99題	第100題
答案										

備註：第9題答C給分。

代號：21880
頁次：4-1

105年公務人員高等考試三級考試試題

類 科：財稅行政
科 目：稅務法規
考試時間：2 小時

更多高普考考試科目的歷屆題庫
立即上網搜尋“高普考歷屆考古題懶人包”
高鋒公職補習班整理
Line@帳號：@gaofeng
連絡電話：07-236-7296

座號：_____

※注意：可以使用電子計算器，須詳列解答過程。

甲、申論題部分：(50分)

- (一)不必抄題，作答時請將試題題號及答案依照順序寫在申論試卷上，於本試題上作答者，不予計分。
(二)請以藍、黑色鋼筆或原子筆在申論試卷上作答。

一、我國自民國 105 年 1 月 1 日起實施「房地合一課徵所得稅制度」(以下簡稱新制)，房屋及土地均應按實價計算交易所得課稅，相較於未實施新制前之房屋與土地交易所得之課稅規定(以下簡稱舊制)，有那些差異？試按下列格式(請將下表繪製於試卷上作答)，比較個人房屋與土地交易所得，在新制與舊制課稅規定之差異。(25分)

	新制	舊制
課稅範圍		
申報方式		
課稅所得之計算		
適用稅率		

二、依據我國現行稅捐稽徵法之規定，請就稅捐之「徵收期間」，依下列項目分別加以說明：(一)徵收期間之定義與立法意旨(二)徵收期間長度之規定(三)徵收期間起算之規定(四)徵收期間扣除之適用情況。(25分)

乙、測驗題部分：(50分)

代號：8218

- (一)本測驗試題為單一選擇題，請選出一個正確或最適當的答案，複選作答者，該題不予計分。
(二)共 25 題，每題 2 分，須用 2B 鉛筆在試卡上依題號清楚劃記，於本試題或申論試卷上作答者，不予計分。

- 營利事業之下列所得，何者應計入營利事業所得總額課徵所得稅？
(A)營利事業持有短期票券利息所得
(B)總機構在中華民國境外之營利事業，因投資於國內其他營利事業，所獲配之股利淨額
(C)公司組織之營利事業，因投資於國內其他營利事業，所獲配之盈餘淨額
(D)營利事業因接受個人贈與而取得之財產
- 依所得稅法規定，在一般情況下，夫妻個別有所得應如何申報綜合所得稅？
(A)可以採各類所得分開計稅、分開申報之方式
(B)夫妻只有薪資所得可以分開計稅，其餘所得須合併計稅
(C)可以採各類所得分開計稅，但仍需合併申報
(D)夫妻可以自由選擇分開申報或合併申報
- 下列有關綜合所得稅捐贈列舉扣除之敘述何者有誤？
(A)個人對政黨、政治團體及擬參選人捐贈者，得於申報所得稅時，作為當年度列舉扣除額
(B)每一申報戶可扣除之政治捐贈總額，不得超過當年度申報之綜合所得總額 20%，其總額並不得超過 20 萬元
(C)對政黨之捐贈若該政黨於該年度全國不分區及僑居國外國民立法委員選舉、區域及原住民立法委員選舉推薦候選人之得票率未達 2%者，不適用之。如其為新成立之政黨，以下次選舉之年度得票率為準
(D)對教育、文化、公益慈善機構或團體之捐贈總額最高不超過綜合所得總額 20%為限，並與政治捐贈金額各自獨立

- 4 王先生為中華民國國民，現年 31 歲，任職甲公司，104 年度的薪資所得 80 萬元，另領有結婚補助費 5 萬元；取得短期票券到期兌償金額超過首次發售價格部分之利息所得 10 萬元；檢舉獎金 2 萬元，依所得稅法規定王先生應申報 104 年度的綜合所得總額為多少？
- (A)80 萬元 (B)82 萬元 (C)85 萬元 (D)97 萬元
- 5 甲公司為員工投保團體健康保險，每人每月保險費為 3,000 元，由甲公司負擔保險費，以被保險員工為受益人，下列何者正確？
- (A)全部視為對員工之補助費，轉列員工所得
(B)每人每月保險費超過 2,000 元部分應轉列員工薪資所得
(C)每人每月保險費超過 2,400 元部分應轉列員工其他所得
(D)全數認定為公司保險費，無須轉列員工所得
- 6 依據我國現行加值型及非加值型營業稅法之規定，下列那一項銷售行為不適用零稅率？
- (A)依法設立之免稅商店銷售與過境或出境旅客之貨物
(B)我國境內營業人銷售與保稅區營業人供營運之貨物或勞務
(C)保稅區營業人銷售與課稅區營業人未輸往課稅區而直接出口之貨物
(D)營業人銷售金條、金塊、金片、金幣及純金之金飾或飾金
- 7 張君領有身心障礙手冊，104 年度有薪資所得 60 萬元，醫藥費 2 萬元、全民健康保險之保險費 1 萬元、勞保費 1 萬元。試問張君 104 年度可列報之特別扣除額最高為多少？
- (A)90,000 元 (B)216,000 元 (C)256,000 元 (D)296,000 元
- 8 依所得基本稅額條例規定，在計算個人基本所得額時，下列何者無須計入？
- (A)捐贈土地乙筆予政府，價值新臺幣 500 萬元
(B)受益人與要保人為同一人之人壽保險，受領保險給付新臺幣 4,000 萬元
(C)私募證券投資信託基金之受益憑證交易所得新臺幣 80 萬元
(D)來自香港地區所得新臺幣 120 萬元
- 9 依據我國現行加值型及非加值型營業稅法第 52 條之規定，營業人漏開統一發票或於統一發票上短開銷售額，於法定申報期限前經查獲者，應就短漏開銷售額按規定稅率計算稅額繳納稅款，並應如何處罰？
- (A)處 1~10 倍之罰鍰
(B)處 5 倍以下之罰鍰
(C)於法定申報期限前經查獲者，因為尚未超過申報期間，可以補報免罰
(D)處罰金額不得超過新臺幣 1,000 萬元
- 10 有關營利事業之捐贈，下列何者得全數列為當年度費用或損失？
- (A)依文化創意產業發展法第 26 條規定所為捐贈
(B)對公益團體所為捐贈
(C)對中小企業發展基金之捐贈
(D)透過財團法人私立學校興學基金會，指定對特定學校法人或私立學校之捐款

- 11 甲商號為銷售農產品之小規模營業人，經主管稽徵機關查定每月之銷售額為 10 萬元，其每季應繳納之營業稅為多少？
- (A)屬免稅範圍，故無須繳納 (B)300 元
(C)3,000 元 (D)15,000 元
- 12 甲公司自國外進口商品一批，海關完稅價格為 3,000,000 元，進口稅捐 500,000 元，貨物稅稅率為 20%，甲公司對該批進口商品應繳納多少營業稅？
- (A)175,000 元 (B)180,000 元 (C)205,000 元 (D)210,000 元
- 13 依遺產及贈與稅法規定，下列有關不計入贈與總額之敘述，何者錯誤？
- (A)甲將作農業使用之農業用地及其地上農作物總價值 350 萬元，贈與其叔叔，全數不計入
(B)乙為其已成年兒子支付出國留學之生活費及教育費 500 萬元，全數不計入
(C)丙捐贈予依法登記為財團法人組織且符合行政院規定標準之慈善團體 5,000 萬元，全數不計入
(D)丁於結婚紀念日贈與其妻現金 600 萬元，全數不計入
- 14 依遺產及贈與稅法之規定，下列有關遺產及贈與稅申請分期繳納與實物抵繳之敘述何者正確？
- (A)經申請分期繳納並核准者可以免加徵利息
(B)遺產稅或贈與稅應納稅額在 30 萬元以上，納稅義務人確有困難，不能一次繳納現金時，得於納稅期限內，向該管稽徵機關申請分期繳納
(C)分期繳納得申請分 12 期以內繳納，每期間隔以不超過二個月為限
(D)遺產稅或贈與稅應納稅額在 30 萬元以上，納稅義務人確有困難，不能一次繳納現金時，得於納稅期限內，就現金不足繳納部分申請以在中華民國境內、外之課徵標的物或納稅義務人所有易於變價及保管之實物一次抵繳
- 15 下列有關地價稅與土地增值稅納稅義務人之敘述何者錯誤？
- (A)土地所有權人在不同直轄市、縣（市）內有兩筆以上土地，則其應納地價稅需將該納稅義務人在不同縣市所有土地之地價總額加總，按累進稅率計算地價稅
(B)地價稅納稅義務人行蹤不明者時，主管稽徵機關得指定土地使用人負責代繳其使用部分之地價稅
(C)土地設定典權者，其地價稅納稅義務人為典權人
(D)土地為無償移轉者，其土地增值稅納稅義務人為取得所有權之人
- 16 依據我國土地稅法之規定，區段徵收之土地，以現金補償其地價者，其土地增值稅如何徵收？
- (A)免徵其土地增值稅 (B)土地增值稅減徵 20%
(C)土地增值稅減徵 30% (D)土地增值稅減徵 40%
- 17 依據我國土地稅法之規定，土地增值稅申報人於訂定契約之日起 30 日內申報者，其計算土地增值稅時：
- (A)以訂約日當期之公告土地現值為準 (B)以訂約日次期之公告土地現值為準
(C)以受理申報機關收件日當期之公告土地現值為準 (D)以受理申報機關收件日次期之公告土地現值為準
- 18 王先生在某市有房地一處，做營業使用，土地的公告現值為 800 萬元，公告地價為 600 萬元，王先生於公告期間申報地價為 420 萬元，該市之累進起點地價為 200 萬元，試問王先生應納地價稅額為多少？
- (A)53,000 元 (B)62,000 元 (C)80,000 元 (D)110,000 元

- 19 下列有關房屋稅稅率之敘述何者錯誤？
- (A)供自住使用者，其房屋稅為其房屋現值 1.2%
 - (B)供公益出租人出租使用者，其房屋稅為其房屋現值 1.2%
 - (C)供營業、私人醫院、診所或自由職業事務所使用者，最低不得少於其房屋現值 2%，最高不得超過 5%
 - (D)供人民團體等非營業使用者，最低不得少於其房屋現值 1.5%，最高不得超過 2.5%
- 20 依據我國現行貨物稅條例之規定，五年內報廢或出口登記滿一年之出廠六年以上小客車、小貨車、小客貨兩用車，於報廢或出口前、後六個月內購買上開車輛新車且完成新領牌照登記者，該等新車應徵之貨物稅每輛定額減徵新臺幣多少元？
- (A)4,000 元
 - (B)25,000 元
 - (C)30,000 元
 - (D)50,000 元
- 21 依據稅捐稽徵法之規定，下列有關稅捐核課期間之敘述何者錯誤？
- (A)依法應由納稅義務人申報繳納之稅捐，已在規定期間內申報，且無故意以詐欺或其他不正當方法逃漏稅捐者，其核課期間為自規定申報期間屆滿之翌日起算五年
 - (B)未於規定期間內申報，或故意以詐欺或其他不正當方法逃漏稅捐者，其核課期間為自規定申報期間屆滿之翌日起算七年
 - (C)由稅捐稽徵機關按稅籍底冊或查得資料核定徵收之稅捐，自該稅捐所屬徵期屆滿之翌日起算五年
 - (D)印花稅自依法貼用印花稅票日起算五年
- 22 甲企業積欠營利事業所得稅 100 萬元，依稅捐稽徵法之規定，其受清償之順位為何？
- (A)優先於房屋稅
 - (B)優先於法院、行政執行處執行拍賣或變賣貨物應課徵之營業稅
 - (C)優先於一切債權及抵押權
 - (D)優先於普通債權
- 23 有關稅捐稽徵法納稅義務之規定，下列何者正確？
- (A)共同共有財產，由各共有人按其應有部分負納稅義務
 - (B)租稅規避事實之認定，由納稅義務人就其事實負舉證之責任
 - (C)納稅義務人得在從事特定交易行為前，提供相關證明文件，向稅捐稽徵機關申請諮詢，稅捐稽徵機關應於三個月內答覆
 - (D)營利事業因合併而消滅時，其在合併前之應納稅捐，由合併後存續或另立之營利事業負繳納之義務
- 24 105 年房屋稅之繳納期間為 105 年 5 月 1 日至 5 月 31 日（星期二），江先生因工作繁忙一時疏忽，將應納稅額 80,000 元遲至同年 6 月 6 日（星期一）始向公庫繳納，應加徵多少滯納金？
- (A)800 元
 - (B)1,600 元
 - (C)2,400 元
 - (D)3,200 元
- 25 營利事業捐贈經政府登記有案之體育團體、培養支援運動團隊或運動員等之支出，得依所得稅法第 36 條第 1 款規定以捐贈費用列支，其可扣除之金額為多少？
- (A)其扣除金額不受限制
 - (B)其扣除以每年 1,000 萬元為限
 - (C)其扣除不得超過營利事業所得額 10%
 - (D)其扣除不得超過營利事業所得額 10%，且金額不得超過 1,000 萬元

測驗式試題標準答案

考試名稱：105年公務人員高等考試三級考試暨普通考試

類科名稱：財稅行政

科目名稱：稅務法規（試題代號：8218）

單選題數：25題

單選每題配分：2.00分

複選題數：

複選每題配分：

標準答案：

更多高普考考試科目的歷屆題庫
立即上網搜尋“高普考歷屆考古題懶人包”
高鋒公職補習班整理
Line@帳號：@gaofeng
連絡電話：07-236-7296

題號	第1題	第2題	第3題	第4題	第5題	第6題	第7題	第8題	第9題	第10題
答案	A	C	C	C	B	D	C	B	B	C

題號	第11題	第12題	第13題	第14題	第15題	第16題	第17題	第18題	第19題	第20題
答案	B	D	A	B	A	A	A	B	C	D

題號	第21題	第22題	第23題	第24題	第25題	第26題	第27題	第28題	第29題	第30題
答案	A	D	D	B	A					

題號	第31題	第32題	第33題	第34題	第35題	第36題	第37題	第38題	第39題	第40題
答案										

題號	第41題	第42題	第43題	第44題	第45題	第46題	第47題	第48題	第49題	第50題
答案										

題號	第51題	第52題	第53題	第54題	第55題	第56題	第57題	第58題	第59題	第60題
答案										

題號	第61題	第62題	第63題	第64題	第65題	第66題	第67題	第68題	第69題	第70題
答案										

題號	第71題	第72題	第73題	第74題	第75題	第76題	第77題	第78題	第79題	第80題
答案										

題號	第81題	第82題	第83題	第84題	第85題	第86題	第87題	第88題	第89題	第90題
答案										

題號	第91題	第92題	第93題	第94題	第95題	第96題	第97題	第98題	第99題	第100題
答案										

備註：

代號：21870
21970
頁次：4-1

105年公務人員高等考試三級考試試題

類 科：財稅行政、金融保險
科 目：會計學
考試時間：2 小時

更多高普考考試科目的歷屆題庫
立即上網搜尋“高普考歷屆考古題懶人包”
高鋒公職補習班整理
Line@帳號：@gaofeng
連絡電話：07-236-7296

座號：_____

※注意：可以使用電子計算器，須詳列解答過程。

甲、申論題部分：(50分)

- (一)不必抄題，作答時請將試題題號及答案依照順序寫在申論試卷上，於本試題上作答者，不予計分。
(二)請以藍、黑色鋼筆或原子筆在申論試卷上作答。

一、甲公司製造機器出售，X7年初將一台帳面金額為\$1,140,000之機器出租予乙公司，租期4年，每年年底收取租金\$400,000，租期屆滿甲公司將收回機器。此項租賃符合融資租賃之條件。

出租當時甲公司的隱含利率為15%。甲公司估計此機器於租期屆滿時殘值為\$17,648，甲公司因協商與安排此項租賃所產生之法律費用\$20,000係於X7年初支付。

試作：(金額計算至元，以下四捨五入)

- (一)計算甲公司X7年與此租賃有關之銷貨收入金額。(5分)
(二)計算甲公司X8年與此租賃有關之利息收入金額。(5分)

二、甲公司在X1年初支付現金\$30,000,000購入土地一塊，並立即在土地上建造辦公大樓，建造期間相關支出之金額及日期如下：

X1年1月1日支出	\$ 4,000,000
X1年4月1日支出	12,000,000
X1年7月1日支出	12,000,000
X1年9月1日支出	15,000,000

其他資訊：

- X1年12月31日大樓建造完成。
- 為自建辦公大樓，甲公司於X1年初借入一筆為期2年之專案借款\$30,000,000，利率為9%。甲公司另有其他於X1年全年流通在外之債務及利率如下：

長期借款，6%	\$20,000,000
應付公司債，8%	12,000,000

甲公司評估，若不自建此大樓，則這些債務可償還。

- 甲公司之專案借款及其他借款皆為年底付息。

試作：計算甲公司X1年底大樓建造完成時，應認列土地成本與建築物成本之金額。(15分)

三、X1年11月1日甲公司將與客戶的應收帳款\$700,000，以有限追索權方式出售給乙銀行，甲公司保證移轉的應收帳款最少可收現六成，3個月到期可收現完畢，且約定乙銀行不得轉售該應收帳款。乙銀行收取應收帳款總額3%作為手續費，甲公司獲得現金\$679,000，甲公司估計保證負債的公允價值為\$46,200。

試作：

- (一)作甲公司X1年11月1日之應收帳款除列分錄。(6分)
(二)若X2年1月31日，乙銀行只收現\$350,000，計算甲公司於X2年1月31日應認列有關保證之損益金額。(4分)

四、甲公司 X1 年度相關資料如下：

1. 本期稅後淨利\$5,000,000，年初流通在外普通股股數 1,200,000 股。
2. 所得稅率 20%。
3. 甲公司普通股於 1 月 1 日至 3 月 31 日之每股平均股價為\$40，全年之每股平均股價為\$50。年底時每股之股價為\$60。
4. 年初流通在外之認股證，可認購 450,000 股普通股，每股執行價格為\$20。4 月 1 日認股證持有人行使認購 300,000 股，其餘 150,000 股至年底仍未執行。
5. 年初流通在外之可轉換債券面額\$20,000,000，原始發行時可轉換債券之負債組成部分之金額亦為\$20,000,000，原始有效利率 6%，每年 6 月底與 12 月底付息，全部債券可轉換成普通股 400,000 股。7 月 1 日有四分之一債券轉換為普通股，其餘債券至年底仍未轉換。

試作：計算甲公司 X1 年度基本每股盈餘及稀釋每股盈餘之金額。（金額計算至小數點二位，以下四捨五入）（15 分）

乙、測驗題部分：（50 分）

代號：7218

- (一)本測驗試題為單一選擇題，請選出一個正確或最適當的答案，複選作答者，該題不予計分。
(二)共 25 題，每題 2 分，須用 2B 鉛筆在試卡上依題號清楚劃記，於本試題或申論試卷上作答者，不予計分。

- 1 存貨的一部分作為長期借款的擔保品，則：
(A)擔保部分的金額應作為負債的減項
(B)擔保部分的金額應從流動資產轉為非流動資產
(C)應從保留盈餘提撥相等於擔保部分的金額
(D)應揭露此一事實，但流動資產的金額不受到影響
- 2 甲公司 X1 年初以\$100,000 承包一固定價格之三年期工程合約，該公司評估該合約之結果能可靠估計。該公司關於該合約 X1 年發生成本\$30,000（與其相關之工作均已進行），X1 年底估計尚需成本\$30,000 始能完成該合約。經評估合約性質，該公司以合約工作實體完成比例衡量該合約之完成程度，且 X1 年底之完成程度為 40%。關於該合約，該公司應認列計入 X1 年本期淨利之收入總金額與費用總金額分別為：
(A)收入\$40,000；費用\$24,000
(B)收入\$40,000；費用\$30,000
(C)收入\$50,000；費用\$24,000
(D)收入\$50,000；費用\$30,000
- 3 甲公司將其應收帳款\$900,000 以無追索權之方式移轉予客帳代理商，客帳代理商保留\$18,000 用以扣抵銷貨退回，並要求帳款之 5% 作為手續費。則甲公司可取得之現金為：
(A)\$837,000
(B)\$855,000
(C)\$882,000
(D)\$900,000
- 4 甲公司帳上銀行帳戶七月份存入金額為\$250,000，銀行對帳單列示代收甲公司股款\$80,000（甲公司未記）。六月底在途存款餘額為\$120,000，而七月底在途存款餘額為\$150,000。試問：銀行對帳單上七月份存入金額為多少？
(A)\$100,000
(B)\$180,000
(C)\$220,000
(D)\$300,000
- 5 甲公司 X2 年期末經盤點確定庫存貨品共有\$326,000，檢視相關資料發現有下列情況：起運點交貨條件的進貨\$2,500，X3 年 1 月 8 日才收到、承銷丙公司商品尚未賣出，計有\$12,000、一筆分期收款銷貨，僅收到十分之一貨款但全數認列收入\$35,000 及銷貨成本\$21,000、一筆售後買回合約認列銷貨收入\$52,000 及銷貨成本\$36,400，將於 X3 年買回。試問甲公司 X2 年期末正確存貨餘額應該為多少？
(A)\$280,100
(B)\$331,900
(C)\$334,000
(D)\$352,900
- 6 甲公司歷年來之平均銷貨毛利率為 30%，且 X1 年並無變化。X1 年相關資料如次：淨銷貨\$6,000,000、期初存貨\$2,000,000、進貨\$4,000,000、期末實地盤點存貨\$1,600,000，則甲公司根據毛利率法估計 X1 年 12 月 31 日應認列之存貨短缺金額為：
(A)\$400,000
(B)\$200,000
(C)\$100,000
(D)\$0
- 7 甲公司 X1 年初將帳面金額\$120,000，剩餘耐用年限 5 年，殘值\$20,000，採直線法提列折舊與成本模式衡量之自用廠房轉供以出租使用為目的，並改採公允價值衡量，該廠房 X1 年初與 X1 年底之公允價值分別為\$140,000 與\$160,000。若該公司 X1 年該廠房尚未出租，則關於該廠房對 X1 年財務報表之影響數（不考慮所得稅），下列敘述何者錯誤？
(A)本期權益增加\$20,000
(B)本期保留盈餘增加\$20,000
(C)本期淨利增加\$20,000
(D)本期其他綜合損益增加\$20,000

- 8 甲公司 X1 年 8 月 1 日支付\$30,000 購買乙公司普通股權證，此權證持有人可於 X2 年 4 月 1 日以每股\$120 買入乙公司普通股 3,000 股。若甲公司並未指定此衍生性商品為避險工具，且 X1 年 12 月 31 日乙公司普通股權證之公允價值為\$26,000，則有關該認股權對甲公司 X1 年財務報表之影響，下列何者正確（不考慮所得稅）？
- (A)備供出售金融資產增加\$30,000 (B)持有供交易金融資產增加\$30,000
(C)本期淨利減少\$4,000 (D)本期其他綜合損益減少\$4,000
- 9 甲公司於 X1 年 11 月 1 日共支付\$188,826 以購入面額\$1,000 公司債 200 張，該公司債票面利率 6%、有效利率 8%，每年 2 月 1 日及 8 月 1 日各付息一次，到期日為 X6 年 2 月 1 日。若甲公司持有該債券之目的係持有至到期日，則 X1 年 12 月 31 日此公司債投資之帳面金額為（答案四捨五入至元）：
- (A)\$200,000 (B)\$190,344 (C)\$186,382 (D)\$186,304
- 10 甲公司於 X3 年初買入耐用 10 年，殘值為\$300,000 之辦公設備，X6 年底該設備帳面金額為\$2,400,000。X7 年初該公司將折舊方法由年數合計法改為直線法。若稅率為 20%，則改變折舊方法對 X7 年相關財務數據之影響為何？
- (A)折舊費用減少\$200,000 (B)本期淨利增加\$200,000
(C)所得稅費用減少\$240,000 (D)期初保留盈餘增加\$960,000
- 11 下列資產，一定必須計提折舊者有幾項？
- ①分類為待出售非流動資產之機器設備
②以公允價值模式衡量之投資性不動產
③尚未成熟之蘋果樹，且其按成本模式衡量
④以重估價模式衡量之土地
⑤以重估價模式衡量之建築物
⑥以公允價值減出售成本衡量之乳牛
- (A)零項 (B)一項 (C)二項 (D)四項
- 12 甲公司於 X1 年初以\$1,300,000 收購乙公司 100% 股權，乙公司可辨認淨資產公允價值為\$2,020,000。則甲公司應如何處理淨資產公允價值與取得成本間之差額？
- (A)作為資本公積之加項 (B)作為非流動資產之減項
(C)作為本期損益 (D)作為遞延貸項，並以不超過二十年之年限攤銷之
- 13 X1 年 1 月 1 日甲公司出租一棟大樓給乙公司，租期為 5 年，每年之租金為\$450,000，期初付款，甲公司評估該合約屬營業租賃。甲公司在租期開始時先收取二年租金以及保證金各\$900,000。此保證金並不於租期屆滿時退還給乙公司，而係用以抵付最後二年之租金。試問甲公司於 X1 年 12 月 31 日之資產負債表上應如何表達向乙公司所收取之\$1,800,000？
- (A)流動負債\$0；長期負債\$1,800,000 (B)流動負債\$450,000；長期負債\$900,000
(C)流動負債\$900,000；長期負債\$450,000 (D)流動負債\$900,000；長期負債\$900,000
- 14 X1 年 1 月 2 日甲公司發行面額\$3,000,000、利率 10%、10 年期之公司債，當時有效利率為 11%，發行價格為\$2,823,309，每年 12 月 31 日付息一次，公司採有效利息法攤銷公司債折溢價。X4 年 10 月 1 日甲公司以 102 加計利息贖回面額\$2,000,000 之公司債，則贖回公司債之損益是多少？
- (A)損失\$127,033 (B)損失\$277,033 (C)損失\$603,468 (D)損失\$753,468
- 15 甲公司於 X1 年初向銀行借款\$1,000,000，票面利率與有效利率均為 5%，每年底付息一次，X5 年底到期。惟甲公司於 X4 年度開始出現財務困難，無力依約支付借款利息，甲公司於 X5 年初支付予第三人相關協商成本\$35,222，經協商獲銀行同意免除積欠利息\$50,000，並將票面利率降為 3%，到期日不變。該借款對甲公司 X5 年本期淨利影響數為（不考慮所得稅，答案四捨五入至元）：
- (A)\$15,222 (B)\$15,528 (C)\$30,000 (D)\$30,443
- 16 甲公司於 X5 年初給與 100 位員工每人 1,000 單位，存續期間 5 年，認購價格為\$20 之認股權，約定自 X5 年初起若該公司股價漲至\$80，且員工當時仍在職，則認股權將既得且可立即執行；於給與日該公司估計股價最有可能於 X8 年底漲至\$80，並估計該認股權之每單位公允價值為\$18。若該公司於 X5 年底估計員工整體離職率為 10%，股價於 X6 年底上漲至\$80，且尚有 88 位員工在職，則該項員工認股權協議於 X6 年應認列之員工勞務成本為何？
- (A)\$393,000 (B)\$405,000 (C)\$1,179,000 (D)\$1,215,000
- 17 甲公司 X5 年部分財務資料如下：資產總額\$2,000,000，負債比率為 30%，負債的有效利率為 10%，若權益報酬率為 12%，所得稅率 40%，期初資產總額等於期末資產總額，期初權益總額等於期末權益總額，則總資產報酬率及利息保障倍數分別為何？
- (A)10.2% 及 3.8 (B)8.4% 及 5.67 (C)8.4% 及 3.8 (D)10.2% 及 5.67

- 18 甲、乙兩家公司除設備在財務會計上之折舊政策不同外，其餘情況均相同，甲公司採直線法，乙公司則採年數合計法提列折舊，但在報稅時兩公司採用相同的折舊方法。甲、乙兩家公司之設備均於 X1 年初取得，估計耐用年限均為 5 年，無殘值。在 X1 至 X5 年期間，甲、乙二公司均無購置設備或增添。關於甲、乙二公司於 X1 至 X5 年期間之財務績效，下列敘述何者正確（總資產報酬率等於稅後淨利除以平均總資產）？
(A)各年度之稅後淨利，甲公司均高於乙公司 (B)X1 及 X2 年之總資產報酬率，甲公司高於乙公司
(C)X3 至 X5 年之總資產報酬率，乙公司高於甲公司 (D)各年度之現金流量，乙公司均高於甲公司
- 19 彰化公司於 X3 年 5 月 1 日以每股\$18 購入二水公司普通股 6,000 股作為交易目的投資，並於同年 5 月 12 日以每股\$20 全數出售。若彰化公司以直接法編製 X3 年度之現金流量表，則應如何表達？
(A)列於營業活動現金流量中，分別列示現金流出\$108,000 及現金流入\$120,000
(B)列於投資活動現金流量中，分別列示現金流出\$108,000 及現金流入\$120,000
(C)列於營業活動現金流量中，以淨額\$12,000 單獨列示
(D)列於投資活動現金流量中，以淨額\$12,000 單獨列示
- 20 甲公司 X2 年初有交易目的金融資產\$100，及相關之評價調整為借餘\$30，X2 年底相關帳戶餘額均為零。X2 年度綜合損益表中有相關評價利益\$20。另，X2 年初淨確定福利負債期初餘額為\$80，確定福利義務現值與計畫資產公允價值之期末餘額分別為\$600 與\$400，X2 年度有確定福利計畫再衡量數\$30（借餘）。若該公司以間接法編製現金流量表，則上述有關交易目的金融資產及確定福利計畫項目，由本期淨利調節之淨影響數為何？
(A)加上\$120 (B)加上\$200 (C)加上\$220 (D)加上\$250
- 21 甲公司之員工退休計畫為確定福利計畫。依稅法計算課稅所得時，關於該計畫僅實際提撥至計畫資產之金額得認列為可減除費用。該公司淨確定福利負債之 X1 年初餘額為\$200,000，且當年之相關變動計有服務成本\$60,000，淨利息成本\$35,000，再衡量數（貸餘）\$18,000，福利提撥數\$64,000。若該公司除該計畫相關項目外，並無其他未來期間可回收所得稅金額或應付所得稅金額，所得稅率 17%，則 X1 年底遞延所得稅資產帳面金額為：
(A)\$32,240 (B)\$36,210 (C)\$39,270 (D)\$42,330
- 22 甲公司商品售價為成本加成 25%，並採分期收款方式銷售；X5 年及 X6 年底應收分期帳款淨額分別為\$1,000,000 及\$1,500,000。若報稅時採毛利百分比法，按收款金額乘以毛利率以認列銷貨毛利，所得稅率為 20%，則 X6 年底與該分期收款銷貨相關之遞延所得稅為何？
(A)遞延所得稅資產\$60,000 (B)遞延所得稅資產\$75,000
(C)遞延所得稅負債\$60,000 (D)遞延所得稅負債\$75,000
- 23 甲公司於 X1 年初成立，並於同日設立一確定福利之員工退職後福利計畫，同時設立員工福利基金。該公司 X1 年度與該確定福利計畫相關之資訊為當期服務成本\$800，X1 年底提撥現金\$500 至員工福利基金。X2 年度相關資料為當期服務成本\$800，計畫資產實際報酬為\$200，另因員工離職率之假設調整使 X2 年底確定福利義務現值增加\$300，X2 年底提撥現金\$500 至員工福利基金。此兩年度內，員工福利基金均未支付員工退職後福利。若折現率為 10%，試問 X2 年底確定福利義務現值及計畫資產公允價值之金額分別為多少？
(A)\$1,880 及\$1,200 (B)\$1,980 及\$1,200 (C)\$1,880 及\$950 (D)\$1,980 及\$950
- 24 甲公司之確定福利計畫對 60 歲仍在職，且截至 60 歲生日當天已在公司連續工作達 20 年（即 40 歲至 60 歲間員工必須連續在公司服務，完全沒有間斷）之退職員工，支付\$1,000,000 之一次性退職福利。則對 23 歲加入該公司之 A 員工，公司下列何項相關會計處理正確？
(A)該退職福利將平均歸屬於 A 員工在職的前 20 年
(B)該退職福利將平均歸屬 A 員工之預期服務年數內
(C)該退職福利將平均歸屬 A 員工 23 歲至 60 歲的 37 年期間
(D)該退職福利將平均歸屬於 A 員工 40 歲至 60 歲的 20 年期間
- 25 下列有關租賃之敘述何者正確？
(A)當需要對包含土地與建築物之租賃進行分類及會計處理時，應將最低租賃給付按土地與建築物於租賃開始日之相對公允價值比例分攤，再分別決定其租賃分類
(B)製造商或經銷商出租人之融資租賃，出租人因協商或安排租約所產生之增額成本應計入租賃投資淨額，以計算租賃隱含利率
(C)售後租回交易產生營業租賃時，當售價高於公允價值，公允價值與帳面金額之差額，應立即認列為損益，但售價超過公允價值之差額則應遞延，並於資產預期使用期間攤銷
(D)售後租回交易產生營業租賃時，當售價小於公允價值，除公允價值低於帳面金額之部分應立即認列為損失外，其餘損益應遞延，並按租賃給付比例於資產預期使用期間攤銷

測驗式試題標準答案

考試名稱：105年公務人員高等考試三級考試暨普通考試

類科名稱：金融保險、財稅行政

科目名稱：會計學（試題代號：7218）

單選題數：25題

單選每題配分：2.00分

複選題數：

複選每題配分：

標準答案：

更多高普考考試科目的歷屆題庫
立即上網搜尋“高普考歷屆考古題懶人包”
高鋒公職補習班整理
Line@帳號：@gaofeng
連絡電話：07-236-7296

題號	第1題	第2題	第3題	第4題	第5題	第6題	第7題	第8題	第9題	第10題
答案	D	B	A	D	D	B	A	C	D	B

題號	第11題	第12題	第13題	第14題	第15題	第16題	第17題	第18題	第19題	第20題
答案	B	C	B	A	A	C	D	C	A	C

題號	第21題	第22題	第23題	第24題	第25題	第26題	第27題	第28題	第29題	第30題
答案	B	C	B	D	C					

題號	第31題	第32題	第33題	第34題	第35題	第36題	第37題	第38題	第39題	第40題
答案										

題號	第41題	第42題	第43題	第44題	第45題	第46題	第47題	第48題	第49題	第50題
答案										

題號	第51題	第52題	第53題	第54題	第55題	第56題	第57題	第58題	第59題	第60題
答案										

題號	第61題	第62題	第63題	第64題	第65題	第66題	第67題	第68題	第69題	第70題
答案										

題號	第71題	第72題	第73題	第74題	第75題	第76題	第77題	第78題	第79題	第80題
答案										

題號	第81題	第82題	第83題	第84題	第85題	第86題	第87題	第88題	第89題	第90題
答案										

題號	第91題	第92題	第93題	第94題	第95題	第96題	第97題	第98題	第99題	第100題
答案										

備註：