

109年公務人員特種考試警察人員、 一般警察人員考試及109年特種考試 交通事業鐵路人員考試試題

代號：2901
頁次：6-1

考試別：鐵路人員考試
等別：佐級考試
類科別：各類科
科目：國文（包括公文格式用語）
考試時間：1小時

更多鐵路考試科目的歷屆題庫
立即上網搜尋“鐵路歷屆考古題懶人包”
高鋒公職補習班整理
Line@帳號：@gaofeng
連絡電話：07-236-7296

座號：_____

※注意：(一)本試題共 45 題，其中單選題 35 題，複選題 10 題，各題答案須用 2B 鉛筆在試卡上依題號清楚劃記，於本試題上作答者，不予計分。

(二)禁止使用電子計算器。

一、單選題（第 1 題至第 35 題，占 70 分）

說明：每題 2 分，所列的四個選項，請選出一個正確或最適當的答案，複選作答者，該題不予計分。

- 下列引號中的詞語，不含自謙意思的選項是：
(A)「賢棣」既肯上進，我如何能不盡心傳授 (B)「在下」姓鮑。敢問尊姓大名，如何稱呼
(C)「不才」承乏此一職務，還望同仁盡心協助 (D)幾時得空，歡迎到「寒舍」一聚，促膝長談
- 下列「」中的成語，何者運用最恰當？
(A)父親教我們做人要腳踏實地，千萬不能「好高騖遠」
(B)這對老夫妻感情很好，每天都「胼手胝足」地攜手到公園散步
(C)從她「首如飛蓬」、神采飛揚的樣子就知道，這件事讓她有多開心
(D)這家餐廳的菜非常精緻，光是看起來就給人「國色天香」之感，更別說它的味道有多好了
- 「所有可能被取代、可以被複製的工作裡，都充滿了競爭。就像我現在在寫這篇文章，有誰會『搶先一步』寫出跟我一樣的內容呢？我不寫，世界上就不會有這篇文章，它是□□□□的。既然是唯一的，那我不必煩惱有什麼競爭的對手，我可以輕輕鬆鬆地寫，□□□□地寫。」
依據文意，空缺處應依序填入：
(A)天造地設、加工製造 (B)嘔心瀝血、無法無天 (C)獨一無二、優哉游哉 (D)得其所哉、大放厥辭
- 法國女人有句調皮話：「我心情不好就巧克力一下。」下列文句的修辭語法，何者與上文相近？
(A)他慢郎中的個性似烏龜 (B)意外抬頭望天，發現今天的天空很希臘
(C)閱讀旅遊文學，我像是乘著文字去旅行了 (D)等我拆穿他的西洋鏡，看他還能如何為自己辯駁
- 某位女士在其領獎的場合說到：「歷經二十年的奮鬥，在我邁入耳順之年，終於不負先君的使命，完成他重振家業的願望了。」根據上文，下列選項何者最正確？
(A)此位五十歲的女士完成了她丈夫重振家業的願望
(B)此位五十歲的女士完成了她已逝丈夫重振家業的願望
(C)此位六十歲的女士完成了她父親託付給她重振家業的使命
(D)此位六十歲的女士完成了她已逝父親託付給她重振家業的使命
- 某一媒體載：「目前某市總共有 96 萬輛機車，機車停車格只有 18 萬個，根本不夠，交通局打算每年增設 5 千個車格，但仍緩不濟急。」下列選項何者作為本篇報導的標題最為合適？
(A)救療助薪 (B)僧多粥少 (C)東挪西借 (D)增產報國
- 下列選項，詞意相反的是：
(A)「如見大賓」／「如履薄冰」 (B)「興味索然」／「意興闌珊」
(C)「膠漆相投」／「視同陌路」 (D)「焚膏繼晷」／「夜以繼日」
- 「從記憶的那頭傳來一枝火把／從夜的心臟／從燧人氏的手掌／從所有瞳孔仰耀的反光／從北向南，從大平原到海島／從北方的歌手到南方的烈士／從汨羅江邊，從一間峨偉的草堂／雨濕棧道，從一隻小毛驢背上／一枝火把，祖先擎著趕夜路／舞著嘯歌，圍著烘火／把森林狼牙一排排，逼在圈外」
下列選項，最符合詩旨的是：
(A)對文化失落的憤怒 (B)對文化傳承的堅持 (C)對文學創作的熱情 (D)對傳統文學的推廣

- 9 顏色在傳統文化中時有特別的涵義，下列「」中的詞語，說明正確的是：
(A)往來無「白丁」—不識字的人 (B)紆青「拖紫」，服冕乘軒—地位卑微的平民
(C)古之伐國，不殺「黃口」—年老邁的老人 (D)「朱邸」方開，效蓬心於秋實—隱居山林的隱士
- 10 子夏問孝。子曰：「色難。有事弟子服其勞，有酒食先生饌，曾是以為孝乎？」
子游問孝。子曰：「今之孝者，是謂能養。至於犬馬，皆能有養。不敬，何以別乎？」
孟武伯問孝。子曰：「父母惟其疾之憂。」
以上三人向孔子請教如何行「孝」，孔子的回答都不同，原因是孔子重視：
(A)有教無類 (B)因材施教 (C)人性本善 (D)聖賢之道
- 11 下列詩歌內容與對應節日有誤的選項是：
(A)薄暮東風不滿帆，遲遲未忍去淮南。故園猶在北山北，佳節可憐三月三／中元節
(B)獨在異鄉為異客，每逢佳節倍思親。遙知兄弟登高處，遍插茱萸少一人／重陽節
(C)少年佳節倍多情，老去誰知感慨生。不效艾符趨習俗，但祈蒲酒話昇平／端午節
(D)八月望夜天如藍，海色卷霧山收嵐。玉盤元沉龍窟底，忽起萬丈誰能探／中秋節
- 12 人置四面，未必得鳥；湯去其三面，置其一面，以網其四十國，非徒網鳥也。（《呂氏春秋·異用》）
根據上文，對商湯的敘述，何者正確？
(A)以仁德服天下 (B)能謙退而處下 (C)具仁民愛物之心 (D)能網羅天下名士
- 13 成語「買櫝還珠」係來自《韓非子·外儲》的寓言：「楚人有賣其珠於鄭者，為木蘭之櫃，薰以桂椒，綴以珠玉，飾以玫瑰，輯以翡翠。鄭人買其櫝，而還其珠。此可謂善賣櫝矣，未可謂善鬻珠也。今世之談也，皆道辯說文辭之言，人主覽其文而忘有用。」其用意應是：
(A)指稱許多君主不識貨，只重視說客的外表與口才
(B)指稱許多君主不知事情輕重緩急，施政策略失序
(C)指稱當時許多策士有文飾過多「以文害用」的弊病
(D)感嘆當時君主短視近利，真理被眾多眩惑之事所蔽
- 14 「今海內為一，土地人民之眾不避湯、禹，加以亡天災數年之水旱，而畜積未及者，何也？地有遺利，民有餘力，生穀之土未盡墾，山澤之利未盡出也，游食之民未盡歸農也。民貧，則姦邪生。貧生於不足，不足生於不農，不農則不地著，不地著則離鄉輕家，民如鳥獸，雖有高城深池，嚴法重刑，猶不能禁也。」（鼂錯〈論貴粟疏〉）
根據上文，作者認為民生不安定的原因，不包括：
(A)收入的有限 (B)食物的匱乏 (C)律法的不足 (D)土地的開墾
- 15 《莊子·秋水》：「惠子相梁，莊子往見之。或謂惠子曰：『莊子來，欲代子相。』於是惠子恐，搜於國中三日三夜。莊子往見之，曰：『南方有鳥，其名為鵷鶩，子知之乎？夫鵷鶩，發於南海而飛於北海，非梧桐不止，非練實不食，非醴泉不飲。於是鷓鴣得腐鼠，鵷鶩過之，仰而視之曰：『嚇！』今子欲以子之梁國而嚇我邪？』」下列敘述何者正確？
(A)鵷鶩雖只是幼鳥，卻有超凡的能力
(B)鵷鶩是鷓鴣的天敵，鷓鴣只能虛張聲勢，加以威嚇
(C)即使相位之尊，對不慕名利者言，就像腐鼠一般
(D)莊子藉此故事警告惠子，追求名利的人，終究沒有好下場
- 16 王陽明《訓蒙大意》：「今教童子，必使其趨向鼓舞，中心喜悅，則其進自不能已。譬之時雨春風，霑被卉木，莫不萌動發越，自然日長月化。」下列選項，何者最貼近本文所說的方法？
(A)包容接納 (B)順性啟發 (C)保抱提攜 (D)抒發心志
- 17 自古書契多編以竹簡，其用縑帛者謂之為紙。縑貴而簡重，並不便於人。倫乃造意，用樹膚、麻頭及敝布、魚網以為紙。元興元年奏上之，帝善其能，自是莫不從用焉，故天下咸稱「蔡侯紙」。（《後漢書·蔡倫傳》）
本文內容主要在說明：
(A)紙的用途 (B)紙的種類 (C)紙的材料 (D)紙的製程

18 「筍，它不以濃膩的味道，讓你的味覺得到短暫而強烈的刺激；卻在清淡中，讓你覺出一種新鮮真純的風味。因為它味不偏極，所以再偏食的人，也能接受它。筍，就是這樣淡淡地親和了各種口味殊異的人們。」

根據文意，下列選項何者最能切合食筍的人生體悟？

- (A)趣味不可偏好 (B)淡雅之味易淺 (C)淡處當知有真味 (D)求新求變味無窮

19 「現在有越來越多人覺得用『有空嗎？』當作私訊開場白相當沒禮貌。然而，撥打電話本身比『有空嗎？』更強硬，別人在不知道你要幹嘛的時候，就得先開始跟你共時互動，而且背負不能隨便掛你電話的社會常規。對於習慣這種溝通禮節的人來說，他或許不介意撥電話給餐廳訂位，但不願意撥電話給自己的朋友，因為他知道朋友的工作不是接他電話。」

根據上文推斷，作者認為：

- (A)撥打電話的方式比寄 Email 更沒禮貌 (B)撥打電話與寄 Email 各有合適的時機
(C)相對於撥打電話，Email 必須回覆是社會常規 (D)相對於傳訊「有空嗎」，打電話只適用於餐廳訂位

20 「英國倫敦政經學院發表研究指出，在校園禁用手機，學生成績明顯進步，平均提高百分之六；對成績差、成就感低的學生影響尤其大。瑞典教育部則說，他們不認為手機會干擾學習，反而有助立刻找到有用的資料；如果有問題，那是師生相互造成的，不能怪罪手機。而日本國中小原則禁止帶手機上學，除非特殊情形，才准小朋友帶手機，但都會注意不要影響小朋友學習，在校時由老師保管，確保有個專心學習的環境。」請問根據此段文章可以得到下列何種結論？

- (A)英國的研究結果是主觀而偏頗的 (B)手機禁用與否並非影響學習成效的關鍵
(C)不同地區的學生使用手機的時間長短不一 (D)學校的做法會直接影響學生使用手機的習慣

21 「我想鼓勵你了解自己的長處，投注時間在自己喜歡的事情上，花一些時間跟自己在一起。明白自己的短處和優點，能在自己喜歡的事情上，發揮自己真正的價值，最終你會發現那是一件快樂的事。」上文傳達的人生之「樂」，與下列選項何者最接近？

- (A)此間之樂，樂不思蜀 (B)發憤忘食，樂以忘憂 (C)安貧樂賤，與世無營 (D)獨樂樂不如與眾樂樂

22 「山的可貴，有人說它像一個『不召之臣』，它可以召喚你前去，讓你心曠，讓你神怡，但它決不可以由你召喚它前來的。眾人登賞，山不覺得榮貴；曠代幽寂，山不覺得悲傷，它特立於塵垢之外，寧可讓你阻隔邈遠，終生不能一瞻風采，山也不會因為你的愛慕喜悅而遷就到你腳跟前來的。這種性格，也許就是山最可貴的地方吧？」

根據上文，山最可貴的性格應當是：

- (A)堅毅厚重，致人不致於人 (B)鋒芒內斂，不計個人得失
(C)謙沖為懷，存乎中形於外 (D)穩重圓融，德厚無所不載

23 「前不見古人，後不見來者。念天地之悠悠，獨愴然而涕下。」（陳子昂〈登幽州臺歌〉）下列選項，何者與此詩所表達的意境最為接近？

- (A)千山鳥飛絕，萬徑人蹤滅。孤舟蓑笠翁，獨釣寒江雪
(B)明月出天山，蒼茫雲海間。長風幾萬里，吹度玉門關
(C)春眠不覺曉，處處聞啼鳥。夜來風雨聲，花落知多少
(D)人生不相見，動如參與商。今夕復何夕？共此燈燭光

24 下列選項，何者最適合用來形容才學已具，只待伯樂的狀況？

- (A)五陵年少金市東，銀鞍白馬度春風 (B)玉在櫝中求善價，釵於奩內待時飛
(C)時逢三五便團圓，滿把晴光護玉欄 (D)旌旗日暖龍蛇動，宮殿風微燕雀高

- 25 「返鄉教書之初，偶然拉開母親的抽屜尋找東西，發現父親的遺照已經泛黃，提議母親拿去照相館重新修飾、放大，並懸掛在廳堂。母親淡淡的說：『真正會想念的，不必看到相片也會想念；不認得的，只看相片也無用。』」
下列選項，何者最貼近母親的心意？
(A)人事既已非，無須掛懷留念 (B)思念與否，關鍵在人不在物
(C)相片乃身外之物，可有可無 (D)睹物而傷懷，不如塵封記憶
- 26 「石縫間倔強的生命，常使我感動得潸然淚下。是那不定的風把那無人採擷的種籽撒落到海角天涯。當它們不能再找到泥土，它們便把最後一線生的希望寄托在這一線石縫裏。儘管它們也能從陽光裏分享到溫暖，從雨水裏得到濕潤，而唯有那一切生命賴以生存的土壤卻要自己去尋找。他們面對著的現實該是多麼嚴峻。於是，大自然出現了驚人的奇蹟，不毛的石縫間叢生出倔強的生命。」
下列選項，何者最符合本文主旨？
(A)生存維艱的感懷 (B)生命共存的禮讚 (C)生態多元的歌頌 (D)生機無限的詠嘆
- 27 「錯過了自己的童年，還有第二次機會，那便是自己子女的童年。年輕爸爸的幸福感，大概僅次於年輕媽媽了。在廈門街綠蔭深邃的巷子裡，我曾是這麼一位顧盼自得的年輕爸爸，四個女嬰先後裹著奶香的襁褓，投進我喜悅的懷抱。」
下列選項，何者與上文意旨最為相近？
(A)舐犢情深 (B)綵襖凝祥 (C)返老還童 (D)烏鳥私情
- 28 「為了找出生活中自己的小確幸，還是需要或多或少有類似自我節制的東西。例如耐著性子做完激烈運動後，來杯冰涼啤酒的感覺。」
下列敘述最貼近上文之意的是：
(A)「小確幸」就是完全快樂主義的生存邏輯
(B)意外遇上買一送一的特價品，即為「小確幸」
(C)只要用心體會，生活中的「小確幸」唾手可得
(D)要在日常生活中找到「小確幸」，必須遵守自己設定的規範
- 29 「人生本如影，人生本如寄，有如掠過的雲；唱出的歌；射出的箭。如何在這轉瞬即逝的剎那間，顯出永恆的奇祕呢？雖然那蕭蕭的白楊下的長眠幽靈會說：『昨日之我，即明日之你』。但德性留下的腳印，是不可磨滅的，且可引導後來者。」
下列選項，何者最符合上文意旨？
(A)認為樹立德性一事「雖久不廢，此之謂不朽」
(B)領悟「一德一心，立定厥功，惟克永世」之理
(C)提倡「生而不有，為而不恃，長而不宰」的玄德
(D)人生如寄，應把握當下，享受「造物者之無盡藏」
- 30 「一般人認為貼標籤不好，是認為可能會貼錯標籤；損人，也可能不利己。然而，仔細想想，貼錯標籤，意味著事後有機會發現錯誤。日常生活中，特別是在都會裡，除了同事和朋友、家人之外，絕大多數的接觸都只是一面之緣。在很多場合裡，自己都要和其他人互動；既然是互動，自然要解讀別人的言行舉止。而「解讀」，不就是賦予意義，不就是貼標籤嗎？」
根據上文，下列選項最符合意旨的是：
(A)貼別人標籤，結果是損人不利己 (B)貼錯標籤很容易，理解他人卻很難
(C)人生一直都在被貼標籤，常一錯再錯 (D)賦予別人言行舉止的意義，形同貼標籤
- 31 「一篇哈佛醫學院發表的文章，標題是『維他命的最佳來源？你的盤子，不是你的藥櫃』。對於維他命補充劑還有疑問的讀者，這篇文章的標題，已經下了很好的結論。」
根據上文，下列選項最合乎作者意思的是：
(A)維他命是由食物萃取而來的 (B)維他命由日常飲食攝取較佳
(C)適度的補充維他命可以延壽 (D)強調飲食節制與補充維他命

- 32 關漢卿《竇娥冤》，竇娥刑前唱道：「有日月朝暮懸，有鬼神掌著生死權。天地也，只合把清濁分辨，可怎生糊塗了盜跖顏淵。」
依據上文，竇娥訴求背後的主要思想為：
(A)日升月恆 (B)神清鬼濁 (C)善惡有報 (D)賢愚有別
- 33 下列關於「主旨」與「說明」撰擬要領的敘述，正確的是：
(A)「主旨」可視實際需要，分項書寫
(B)「主旨」的文字，應另列縮格書寫
(C)「說明」應作簡要之敘述，並視需要分項條列
(D)「說明」如需分項，第一項應緊接段名冒號之右書寫
- 34 下列有關公文的敘述，何者錯誤？
(A)以稿代簽為一般案情簡單之案件 (B)行政機關之對外公文以「簽」為主
(C)簽可用主旨、說明、擬辦，3 段式辦理 (D)一般工程招標等公告，得用定型化格式處理
- 35 有關「函」之撰擬，下列敘述何者正確？
(A)訂有辦理或復文期限者，在「主旨」內敘明
(B)文末首長簽署、敘稿時，首長職銜需寫全名，以示慎重
(C)承轉公文，應在「稿」內書：「照錄原文，敘至某處」字樣
(D)概括之期望語「請核示」、「請查照」等，應寫入「辦法」內

二、複選題（第 36 題至第 45 題，占 30 分）

說明：每題 3 分，所列的五個選項，其中至少有二個是正確答案。各題之選項獨立判定，全部答對者，得 3 分；答錯一個選項者，得 1.8 分；答錯二個選項者，得 0.6 分；所有選項均未作答或答錯多於二個選項（不含二個）者，該題以零分計算。

- 36 下列文句「」中成語的運用，正確的選項是：
(A)平日要養成多閱讀的習慣，才不會被譏笑為「吳下阿蒙」
(B)他們兄弟倆從小就懂得「秦晉之好」，長大後更是互相扶持
(C)他常說自己什麼樂器都會，其實是「庖丁解牛」，沒有一項專精
(D)上回是你請我看電影，這次讓我「投桃報李」，回請你吃晚餐吧
(E)為了考上第一志願，在最後關頭，他拿出「邯鄲學步」的精神，全力衝刺
- 37 「擔任公職，若能□□□□，自然能受人民敬重。」下列成語，適合填入空格的是：
(A)智圓行方 (B)因人成事 (C)拒諫飾非 (D)守正不阿 (E)長袖善舞
- 38 下列賀詞與主題對應正確的選項是：
(A)才德咸欽、前程似錦、鵬飛鷹揚——賀職位升遷
(B)功績永懷、鴻圖大展、懋績長留——賀政界退休
(C)福國利民、克孚眾望、斐聲議譚——賀選舉當選
(D)德澤宏施、鼎故革新、駿業崇隆——賀新職就任
(E)名冠群倫、出類拔萃、名列前茅——賀績優獲獎
- 39 下列有關人際關係的稱謂，何者正確？
(A)「昆仲」，稱他人兄弟的敬辭
(B)「舊雨」，舊日的友人，即老朋友
(C)「連襟」，姊妹的丈夫之互稱或合稱
(D)「袍澤」，稱任何職業在一起工作的人
(E)「舅姑」即「公婆」，為妻對丈夫父母的稱呼
- 40 「人要做好做壞，取之於當下的氣氛和情境，很多人做事，不是他真的壞，而是那氣氛誘使人去做。」
根據上文，下列何者符合文意？
(A)近朱者赤，近墨者黑
(B)牛驥同一皁，雞棲鳳凰食
(C)里仁為美，擇不處仁，焉得知
(D)富歲，子弟多賴；凶歲，子弟多暴
(E)蓬生麻中，不扶而直；白沙在涅，與之俱黑

- 41 「在二十一世紀，要成為一名對社會具有生產力的貢獻者，你必須要能快速學習某一知識領域的核心原理，同時精通許多工作和生活上所需的學習、創新、技術和職業技能。而當你將這些能力運用在當代的知識工作及創新工作上時，你便成為全球網絡中的一分子。舉例來說，一項產品可能在加州設計，中國生產，捷克組裝，最後在全球各個城市的連鎖店內販賣。」

根據上文內容判斷，符合文中敘述的正確選項是：

- (A) 高效生產力與包裝行銷能力，是二十一世紀成功的要素
- (B) 快速學習、知識融合與應用，是二十一世紀的重要技能
- (C) 唯有兼具創新與創意技能，才能完善二十一世紀的教育
- (D) 獨立思考與邏輯論述技能，將左右職場升遷與職涯發展
- (E) 具備全球化學習視野，才能與世界各地的人群相互連結

更多鐵路考試科目的歷屆題庫
立即上網搜尋“鐵路歷屆考古題懶人包”
高鋒公職補習班整理
Line@帳號：@gaofeng
連絡電話：07-236-7296

- 42 下列詩句，表達今昔興衰之感的選項是：

- (A) 弔影分為千里雁，辭根散作九秋蓬
- (B) 舊時王謝堂前燕，飛入尋常百姓家
- (C) 可憐無定河邊骨，猶是春閨夢裡人
- (D) 草遮回磴絕鳴鑿，雲樹深深碧殿寒
- (E) 蓬山此去無多路，青鳥殷勤為探看

- 43 「旅行隱隱約約代表探索人生、掙脫工作的束縛、努力活下去。儘管如此，很少有人把旅行當作哲學問題來思辨，一般人總以為旅行是很實際的事，七嘴八舌地告訴我們去哪裡好。很少有人告訴我們，為什麼要去旅行、該以何種方式旅行。旅行的藝術似乎涵蓋了許多不是那麼簡單、不可小覷的問題。研究旅行的藝術，或許我們就能適切地明瞭，希臘哲學家所謂的『實踐的幸福』究竟是什麼。」

根據上文，下列選項敘述正確的是：

- (A) 讀萬卷書不如行萬里路
- (B) 旅行首重實踐，哲學思辨則為其次
- (C) 旅行可以探索人生、追尋更深廣的意義
- (D) 探究旅行的藝術，可以體會實踐的幸福
- (E) 規劃完善路線、放鬆身心就是旅行的藝術

- 44 以淺持博，以古持今，以一持萬；苟仁義之類也，雖在鳥獸之中，若別白黑；倚物怪變，所未嘗聞也，所未嘗見也，卒然起一方，則舉統類而應之，無所儼作；張法而度之，則唵然若合符節：是大儒者也。（《荀子·儒效》）

現代社會變動快速，與荀子所處的戰國時代頗為類似。下列敘述，符合此段文字意旨的是：

- (A) 大儒能舉一反三面對前所未見的新事物
- (B) 奇怪的事物露出徵兆時，要立即以法律嚴加管制
- (C) 大儒能針對時代的變化快速做出應對，且制訂出合理的規範
- (D) 尋求能以一己之力領導數萬人的領導者，才能因應前所未見的變化
- (E) 仁義是變動社會中不變的原則，大儒可據以輕易做出判斷，如辨黑白

- 45 「生活的真正難處在於：面對問題，尋求解決之道，是一段非常痛苦的過程。正因為人生總是問題不斷，我們才覺得生活苦樂參半，甚至苦多於樂。但生命的真諦就在於面對與解決問題的過程，問題能啟發我們的智慧，激勵我們的勇氣。規避問題與痛苦的動機是一切心理疾病之源，在逃避問題所產生痛苦的同時，我們也錯失了問題帶來的成長機會。」

根據上文，說明正確的選項為：

- (A) 找到解決生活中各項難題的方法，是成長的契機
- (B) 從面對問題到解決問題的過程，使人們的勇氣因而提升
- (C) 想體驗生命真諦，就不用害怕人生出現各式各樣的問題
- (D) 沒有問題的人生是幸福無憂的，但要有足夠的智慧才能獲得
- (E) 若能找到暫時跳脫問題的方法，自然能減輕心理疾病帶來的痛苦

測驗式試題標準答案

考試名稱：109年公務人員特種考試警察人員、一般警察人員考試及109年特種考試交通事業鐵路人員考試

類科名稱：材料管理、機械工程、場站調車、養路工程、事務管理、機檢工程、電力工程、電子工程、土木工程、運輸營業

科目名稱：國文(包括公文格式用語) (試題代號：2901)

單選題數：35題(第1~35題) 單選每題配分：2.00分

複選題數：10題(第36~45題) 複選每題配分：3.00分

標準答案：

更多鐵路考試科目的歷屆題庫
 立即上網搜尋“鐵路歷屆考古題懶人包”
 高鋒公職補習班整理
 Line@帳號：@gaofeng
 連絡電話：07-236-7296

題號	第1題	第2題	第3題	第4題	第5題	第6題	第7題	第8題	第9題	第10題
答案	A	A	C	B	D	B	C	B	A	B

題號	第11題	第12題	第13題	第14題	第15題	第16題	第17題	第18題	第19題	第20題
答案	A	A	C	C	C	B	C	C	A	B

題號	第21題	第22題	第23題	第24題	第25題	第26題	第27題	第28題	第29題	第30題
答案	B	A	A	B	B	D	A	D	A	D

題號	第31題	第32題	第33題	第34題	第35題	第36題	第37題	第38題	第39題	第40題
答案	B	C	C	B	A	AD	AD	ACE	ABCE	ADE

題號	第41題	第42題	第43題	第44題	第45題	第46題	第47題	第48題	第49題	第50題
答案	BE	BD	CD	ACE	ABC					

題號	第51題	第52題	第53題	第54題	第55題	第56題	第57題	第58題	第59題	第60題
答案										

題號	第61題	第62題	第63題	第64題	第65題	第66題	第67題	第68題	第69題	第70題
答案										

題號	第71題	第72題	第73題	第74題	第75題	第76題	第77題	第78題	第79題	第80題
答案										

題號	第81題	第82題	第83題	第84題	第85題	第86題	第87題	第88題	第89題	第90題
答案										

題號	第91題	第92題	第93題	第94題	第95題	第96題	第97題	第98題	第99題	第100題
答案										

備註：

109年公務人員特種考試警察人員、 一般警察人員考試及109年特種考試 交通事業鐵路人員考試試題

考試別：鐵路人員考試
等 別：佐級考試
類 科 別：各類科
科 目：公民與英文
考試時間：1小時

更多鐵路考試科目的歷屆題庫
立即上網搜尋“鐵路歷屆考古題懶人包”
高鋒公職補習班整理
Line@帳號：@gaofeng
連絡電話：07-236-7296

座號：_____

※注意：(一)本試題為單一選擇題，請選出一個正確或最適當的答案，複選作答者，該題不予計分。
(二)本科目共50題，每題2分，須用2B鉛筆在試卡上依題號清楚劃記，於本試題上作答者，不予計分。
(三)禁止使用電子計算器。

- 小明自幼父母雙亡，由阿嬤撫養長大，小明與阿嬤之間不僅是祖孫，關係也是如母子一般。阿嬤對小明而言，若依照米德（G. H. Mead）的理論，應該是下列何種角色？
(A)重要他人 (B)概括他人 (C)參考團體 (D)原初團體
- 我們在衡量公共利益時，常常使用「為大多數人帶來幸福」作為標準，這是下列何項學說的觀點？
(A)正義論 (B)效益論 (C)義務論 (D)德行論
- 墨子是一位熱心救世的人道主義者，生平最敬佩夏禹，以夏禹勤勞刻苦、服務人群的精神，為自己立身處事效法的典範。墨子效法夏禹的精神與標準，並轉化為自己的價值、態度與行為，最符合下列何種概念？
(A)次級團體 (B)初級團體 (C)參考團體 (D)志願團體
- 某學者指出，唐老鴨、米老鼠、史奴比等俏皮可愛的造型布娃，不只是玩偶而已，隱藏在這些卡通人物背後的，是一系列經過精心規劃又不經意流露的美國意識形態，讓世界各地觀眾在不知不覺中，接受美國意識形態。此學者的論述旨在評論下列何種現象？
(A)反全球化 (B)全球在地化 (C)文化全球化 (D)文化在地化
- 近日網路流傳一則洗衣產品廣告，廣告中一名亞裔女性將洗衣球塞進一名黑人男性嘴裡，並將他塞進洗衣機清洗，沒想到打開洗衣機後竟出現了一位白白淨淨的亞裔男性。該則廣告引發正反雙方的熱烈討論，連談話性節目也將此種現象納入討論議題。下列何者最適合用來描述該廣告所產生的影響？
(A)將社會推向總白痴化危機的險境 (B)在不自覺中可能加深了隱藏性歧視
(C)就產品而言是一種成功的置入性行銷 (D)媒體在新聞題材選擇、詮釋上常有偏失
- 某國舉辦一場「1：12」法案的公投，「1：12」就是規定一間公司員工的「最高薪資」不能高於「最低薪資」的12倍。提案者主張，如果一個人在同一間公司，其一個月薪資超過其同事的一年薪資，就是不公不義。若就社會階層所衍生的問題來看，此公投案主要在解決下列何者？
(A)文化資本不平等不利個人水平流動 (B)全球化發展加劇國際社會的階層化
(C)資本主義擴張加速貧富差距的擴大 (D)職業聲望的差異影響報酬獎勵系統
- 我們希望使用便宜的電力，但是又不希望發電廠設在我家附近，這種情形被稱為什麼現象？
(A)搭便車 (B)草原悲劇 (C)鄰避現象 (D)誘因不足
- 憲法及相關法規規定，當前下列各政府官員的產生方式，何者正確？
(A)行政院院長：由總統提名，立法院同意後任命 (B)立法院院長：由該屆當選之立法委員互選產生
(C)經濟部部長：總統提名，行政院院長同意後任命 (D)考試院院長：由總統任命之考試委員推舉產生
- 某國的總統選舉制度是若沒有人在第一輪獲得過半數的選票，便由第一輪投票中得票較高的二人進行第二輪投票後選出總統。上述的選舉方式應屬於下列何者？
(A)比例代表制 (B)相對多數制 (C)混合投票制 (D)絕對多數制
- 地方自治團體是指實施地方自治，具有公法人地位的團體。上述敘述應是規定在下列何種法律中？
(A)憲法 (B)地方制度法 (C)省縣自治法 (D)憲法增修條文
- 為調和左派、右派不足之處，1990年代起，有學者提出關於「第三條路（The Third Way）」的路線。英國社會學者紀登斯（A. Giddens）即為代表人物，下列關於「第三條路」的敘述，何者正確？
(A)強調屬於中間偏左的路線 (B)主張市場經濟，政府最小干預
(C)對於全球化採取負面批評的態度 (D)認為社會福利應完全由政府來創造和分配
- 下列關於我國所參與的國際組織及加入時使用名稱之敘述，何者正確？
(A)世界衛生大會：中華民國 (B)東南亞國協：中華臺北
(C)國際貨幣基金：臺灣 (D)世界貿易組織：臺、澎、金、馬個別關稅領域
- 我國政府不再視中共為叛亂團體，並緩和兩岸的緊張關係，應是始於下列何者？
(A)宣布解除戒嚴 (B)開放臺灣民眾前往大陸探親
(C)終止動員戡亂時期 (D)頒布國家統一綱領

- 14 阿全因犯罪，最終被法院判刑並褫奪公權 3 年，並於今年出獄。依據上述，下列敘述何者正確？
(A)阿全應是被法院判處拘役併科罰金 (B)阿全即使公務員考試及格但今年仍不得任職
(C)阿全可參選今年年底的民意代表選舉 (D)阿全失去今年年底民意代表選舉的投票權
- 15 均已成年的甲、乙，因工作結識、相戀而結婚，在乙懷孕期間，突然發現甲的祖父與乙之父親為親兄弟，乙雖是父親所收養，但輩分上仍為甲的姑姑。下列關於甲、乙兩人婚姻的敘述，何者正確？
(A)甲乙雙方的父母得撤銷此婚姻 (B)甲乙兩人為近親關係，故婚姻無效
(C)甲乙無血緣關係，故兩人之婚姻有效 (D)只要胎兒將來非死產，此婚姻不得撤銷
- 16 某日阿菊正在觀看八點檔鄉土劇，以下是劇中的數段對白，對白中的法律觀念有對有錯。依相關法律規定，下列何者正確？
(A)本來以為他會受到法律制裁，沒想到還是交保了
(B)他才 7 歲念國小一年級，就算犯了滔天大罪也不受刑法追究
(C)檢方才求刑 5 年，真的判得太輕了
(D)有良知的律師，是不應該為殺人犯辯護的
- 17 行政機關發給某甲所經營的餐廳營業執照後，卻因附近居民強烈反彈而撤銷其執照。若某甲欲進行權利救濟，下列敘述何者正確？
(A)可不須經過訴願，直接提起行政訴訟 (B)以該行政機關為被告，提起刑事訴訟
(C)若要提國家賠償，原則上應向普通法院為之 (D)可直接向司法院大法官聲請解釋憲法
- 18 「行政契約」是行政機關為了實現行政目的所簽訂發生公法上法律效果的契約。下列何者屬於簽訂行政契約的行為？
(A)考試院向便當店訂購午餐便當 (B)公立高中向保全公司聘僱警衛
(C)教育部與學生簽公費留學契約 (D)市政府透過招標採購辦公用品
- 19 依我國相關法律判斷，下列有關言論自由限制的敘述，何者正確？
(A)為避免內容妨害他人名譽或妨害風化，著作出版前均應送審查
(B)網路霸凌事件頻傳，是因為在網路上造謠侮辱不構成妨害名譽
(C)為了防止危害公共秩序，室外集會、遊行如未經事先申請即違反法律
(D)維護兒少身心健全發展，性言論與情色資訊傳布須受法律限制
- 20 攝影師與一名女子在捷運上拍照，趁乘客稀少時拍了露點照，並上傳至網路，警方查獲後依「散布猥褻物品罪」將兩人移送法辦。檢察官調查後，認為該照片僅是露點，並沒有做出性挑逗或令人感受到厭惡及噁心的動作，不算是猥褻，因此予以不起訴處分。檢察官不起訴兩人，應是依據下列何者？
(A)不告不理原則 (B)構成要件不該當 (C)從輕從舊原則 (D)微罪不舉原則
- 21 甲犯下連續殺人命案，經法院判決甲死刑確定，依據刑事訴訟法之規定，死刑之執行應由何人令准？
(A)審判該案件之法院審判長 (B)最高法院檢察署檢察總長
(C)行政院院長 (D)法務部部長
- 22 依據消費者保護法的規定，下列敘述何者正確？
(A)百貨公司販賣的現金禮券可以規定使用期限，但期限須超過半年以上
(B)百貨公司講究服務品質，購買回家不滿意，可以在七天內無條件退貨
(C)考量消費者處於資訊劣勢，消費者保護法要求業者負資訊揭露的義務
(D)消費者保護法的主管機關為消費者保護基金會，可以處理民眾的消費糾紛
- 23 幸福國女歌手長期參與並支持該國的民主運動，公開表達個人的政治立場。她代言的國際知名化妝品公司因受政府施壓，逕自片面取消與她的合作活動。此舉引發社會譁然，許多公益團體因支援她而上街頭進行抗議，於是該公司宣布在該國的 23 個據點全部暫停營業一天。若以我國法律規範來看，下列敘述何者最正確？
(A)女歌手參與民主運動、表達政治主張，是行使她的參政權
(B)該公司因群眾抗議而決定暫停營業，因此公司工作權受到侵害
(C)許多公益團體與群眾上街頭進行抗議，是集會遊行自由的表現
(D)幸福國政府為維護立場而施壓該公司，屬遊說法規範的遊說行為
- 24 下列有關「罪刑法定主義」的敘述，何者正確？
(A)當不知道收受贓物是違法行為時，可據此主張無罪
(B)刑事判決需綜合多方考量，可引用習慣法以求謹慎
(C)因應個別案件差異極大，故法條不應設定刑罰範圍
(D)若法條未設處罰規定者，需要立法機關儘快修法填補漏洞
- 25 報載「一名穿著清涼的檳榔攤西施，遭巡邏員警取締，糾正衣著不整。檳榔西施不滿員警取締，便口出惡言且動作挑釁，員警認為她妨礙公務，便以擒拿術壓制該名西施、限制行動數分鐘，上銬帶回警局訊問，民眾對於該名員警的作法多所指責。」上述民眾的指責，主要是因該名警員的作法違反下列何項原則？
(A)優位原則 (B)比例原則 (C)平等原則 (D)保護原則

- 26 老王在夜市擺地攤賣盜版色情片，封面未加文字圖片，僅以素面包裝，陳列在攤位上販賣。不久後即被警察查獲移送法辦，法院依據刑法「散布猥褻物品罪」判決老王有罪，並將光碟片沒收。依現行法律規定，若老王不服上述判決，需經下列何者程序，才能向司法院大法官聲請釋憲？
(A)進行非常上訴 (B)請求國家賠償
(C)檢察總長同意 (D)依法提起上訴，經終局判決確定
- 27 近年來全球景氣明顯下滑，日本甚至實施負利率的貨幣政策，許多國家也紛紛調降利率，現若我國外匯市場是一個自由浮動的市場，當我國利率仍維持不變，而國際熱錢紛紛流入時。在其他條件不變下，下列敘述何者正確？
(A)新臺幣會升值 (B)日圓供給減少 (C)對出口較有利 (D)進口商品變貴
- 28 主張自由競爭者認為透過市場機能的效率能自動達到最大的經濟福祉，但其容易造成貧富差距擴大；因此人們又常希望政府能照顧弱勢，實現公平社會。下列何者是政府施政中較可以兼顧效率與公平的措施？
(A)人民應接受基本的國民義務教育 (B)高油價時應實施凍漲來穩定物價
(C)政府提高較高所得者的所得稅率 (D)規定房價上限藉以實踐居住正義
- 29 依現行地方制度法之規定，下列何者屬於同一層級之地方自治團體？
(A)桃園市、新竹市 (B)花蓮市、嘉義市
(C)彰化市、羅東鎮 (D)臺中市大甲區、新北市烏來區
- 30 西非迦納及象牙海岸的可可產量占全球 6 成，現在因面臨果園老化及病蟲害問題，不少農戶缺乏耕種知識，也買不起新型肥料和殺蟲劑，再加上當地年輕人不願意種植，造成可可產量大減。再者，由於印度、中國大陸等國家搶著買，造成可可豆供不應求。根據以上所述，全球可可豆的市場，在其他條件不變的情況下，其均衡價格與數量會出現何種變化？
(A)供給減少、需求增加，故均衡價格上升 (B)供給減少、需求增加，故均衡數量增加
(C)供給減少、需求增加，故均衡價格下降 (D)供給增加、需求減少，故均衡數量減少
- 31 彩色路跑因噴灑的彩色粉末，形成特殊的效果，讓許多年輕人趨之若鶩，但也帶來環境污染，近來已經有地方政府環保局依相關法律對主辦單位開罰。上述地方政府的做法，是在落實政府的何種職能？
(A)提供公共財 (B)處理外部效果 (C)維持公平交易 (D)保障私有財產
- 32 新聞報導 5 月份的失業率為 3.84%，但依照過去經驗，6 月開始進入畢業季，失業率多半會上升，一直到 9 月後才逐漸下降到平均值。依上所述，6~8 月的失業係屬於下列何者？
(A)摩擦性失業 (B)結構性失業 (C)循環性失業 (D)自願性失業
- 33 假設下表為泡沫紅茶市場的供給需求表。在不考慮其它條件之下，根據表中資訊推論，下列敘述何者正確？
- | | | | |
|------|----|----|----|
| 價格 | 20 | 30 | 40 |
| 需求數量 | 28 | 25 | 20 |
| 供給數量 | 20 | 25 | 30 |
- (A)價格愈高，社會福利會愈大 (B)若均衡價格為 30，均衡數量為 20
(C)當價格為 20 時，會出現超額供給 8 (D)當價格為 40 時，會出現超額供給 10
- 34 臉書 (Facebook) 共同創辦人兼執行長祖克伯，在初為人父時宣布：為留給新生愛女及其它孩童一個比今日更美好的世界，他與妻子將逐年捐出臉書的持股用於慈善公益事業。上述祖克伯的做法，有助於下列何種經濟發展要素的累積？
(A)企業才能 (B)人造資本 (C)人力資本 (D)社會資本
- 35 某政治意識形態學說指出，在資本主義社會中，人類工作不再是為了自己，而是為資本家服務，以換取維持生活的報酬，其必須花錢才能買到自己所生產的商品，自己反成為商品的附屬品。針對上述學說所指稱的現象，屬於下列何種概念？
(A)異化 (B)霍桑效應 (C)科層體制 (D)再生產勞動
- 36 Every day, hundreds of people are _____ their lives to cross vast spans of water, struggling to reach the European shore from North Africa and the Middle East to live a better life.
(A) spending (B) taking (C) risking (D) making
- 37 For a long time, the two parties have been _____ that their policy meets the people's needs better.
(A) concealing (B) arguing (C) agreeing (D) conducting
- 38 The roar of thunders _____ the baby and made him cry loudly.
(A) frightened (B) brightened (C) protected (D) scored
- 39 Would you mind _____ this petition to the government in support of the environment protection?
(A) signing (B) feeding (C) lacking (D) removing
- 40 Profile pictures on social networking sites are the _____ projection to friends of who you are and what you are like.
(A) visual (B) auditory (C) odorous (D) tactile

請依下文回答第 41 題至第 45 題：

About 20 minutes west of Quebec City in Canada, there is a unique place—the only hotel in North America made entirely of ice and snow. It was freezing. The outside temperature was -28°C ! But it was warmer inside than outside—about 14°C . This is 41 the walls. They are 120 centimeters 42. And the hotel was absolutely wonderful! The floors and ceilings were ice. There were beautiful ice sculptures everywhere. There were also two art galleries, a movie theater, a skating rink, and a wedding chapel. 43 the drinking glasses were made of ice! And in the rooms? Yes, the beds were made of ice. Hotel guests slept 44 a cozy sleeping bag on a mattress. It was a lot of fun! They build the ice hotel every year in December, and guests can stay there from January to March. In past years, more than 4,000 guests stayed 45 one night. Beaches, mountains, lakes, museums--boring! The place to go is the ice hotel.

- 41 (A) according to (B) in addition to (C) because of (D) on behalf of
 42 (A) thick (B) thickness (C) thickening (D) thickly
 43 (A) But (B) Despite (C) Even (D) However
 44 (A) about (B) at (C) in (D) until
 45 (A) at least (B) at once (C) at hand (D) at present

請依下文回答第 46 題至第 50 題：

For hundreds of years, psychologist and ordinary people have never stopped debating this fascinating question. Some people think personality develops as a result of the environment—the combination of influences that we learn from, such as our families, our culture, our friends, and our education. The people who believe this theory believe that all babies are born without a personality and that it's the environment that determines, or forms each child's personality. This school of thought is called the “nurture school.”

At the other end of the continuum we find people who believe that personality is determined by “nature,” or the characteristics we receive, or “inherit,” from our parents biologically, through their genes. These people believe that our personality is not determined by the environment, but rather by genetics, and that each baby is born with a personality. The nature-nurture controversy is very old. Experimental psychologists have tried to discover which of these two factors, genetics or the environment, is more important in forming our personality. However, it's very difficult, if not impossible, to conduct research on real people with real lives. There's just no way to put people in a laboratory and watch them develop. For this reason, there's no scientific way to settle the nature-nurture controversy. Recently, however, most researchers have come to believe that both the environment and the genes —nurture and nature—work together and are both important.

- 46 What could be the best title for the passage?
 (A) Personality: Nature or Nurture?
 (B) What Is Personality?
 (C) Personality Inherited from Parents
 (D) Learning Determines Personality
- 47 According to the passage, why is it impossible to settle the nature and nurture controversy?
 (A) Because researchers don't have enough funding to conduct research.
 (B) Because most of the researchers have their own biases.
 (C) Because most of the researchers believe that a baby is born without a personality.
 (D) Because researchers can't keep people in a lab and observe them grow.
- 48 According to the perspectives of the nurture school, which of the following factors may NOT be the one that influences our personality?
 (A) Our parents. (B) Our genes. (C) Our education. (D) The world around us.
- 49 For people who believe in nature, which of the following statements is true?
 (A) Personality is determined by the environment.
 (B) Personality is not determined by genetics.
 (C) Each baby is born with a personality.
 (D) Each baby is born without a personality.
- 50 What do most researchers believe nowadays?
 (A) Personality development is black and white.
 (B) The environment is more important than genetics in personality development.
 (C) Nature is more important than nurture in personality development.
 (D) The environment and the genes are both crucial.

更多鐵路考試科目的歷屆題庫
 立即上網搜尋“鐵路歷屆考古題懶人包”
 高鋒公職補習班整理
 Line@帳號：@gaofeng
 連絡電話：07-236-7296

測驗式試題標準答案

考試名稱：109年公務人員特種考試警察人員、一般警察人員考試及109年特種考試交通事業鐵路人員考試

類科名稱：土木工程、場站調車、養路工程、機械工程、電力工程、機檢工程、材料管理、事務管理、電子工程、運輸營業

科目名稱：公民與英文（試題代號：1901）

單選題數：50題

單選每題配分：2.00分

複選題數：

複選每題配分：

標準答案：

題號	第1題	第2題	第3題	第4題	第5題	第6題	第7題	第8題	第9題	第10題
答案	A	B	C	C	B	C	C	B	D	B

題號	第11題	第12題	第13題	第14題	第15題	第16題	第17題	第18題	第19題	第20題
答案	A	D	C	B	B	B	C	C	D	B

題號	第21題	第22題	第23題	第24題	第25題	第26題	第27題	第28題	第29題	第30題
答案	D	C	C	D	B	D	A	A	C	A

題號	第31題	第32題	第33題	第34題	第35題	第36題	第37題	第38題	第39題	第40題
答案	B	A	D	D	A	C	B	A	A	A

題號	第41題	第42題	第43題	第44題	第45題	第46題	第47題	第48題	第49題	第50題
答案	C	A	C	C	A	A	D	B	C	D

題號	第51題	第52題	第53題	第54題	第55題	第56題	第57題	第58題	第59題	第60題
答案										

題號	第61題	第62題								第70題
答案										

題號	第71題	第72題								第80題
答案										

題號	第81題	第82題								第90題
答案										

題號	第91題	第92題	第93題	第94題	第95題	第96題	第97題	第98題	第99題	第100題
答案										

備註：

更多鐵路考試科目的歷屆題庫
立即上網搜尋“鐵路歷屆考古題懶人包”
高鋒公職補習班整理
Line@帳號：@gaofeng
連絡電話：07-236-7296

109年公務人員特種考試警察人員、 一般警察人員考試及109年特種考試 交通事業鐵路人員考試試題

考試別：鐵路人員考試
等別：佐級考試
類科別：運輸營業
科目：企業管理大意
考試時間：1小時

更多鐵路考試科目的歷屆題庫
立即上網搜尋“鐵路歷屆考古題懶人包”
高鋒公職補習班整理
Line@帳號：@gaofeng
連絡電話：07-236-7296

座號：_____

※注意：(一)本試題為單一選擇題，請選出一個正確或最適當的答案，複選作答者，該題不予計分。
(二)本科目共50題，每題2分，須用2B鉛筆在試卡上依題號清楚劃記，於本試題上作答者，不予計分。
(三)禁止使用電子計算器。

- 公司的油漆團隊被指派要彩繪公司大廳的某面牆，此油漆團隊快速繪製了，但事後發現繪錯牆面，則此團隊應該是什麼？
(A)無效率且無效能 (B)有效率但無效能 (C)無效率但有效能 (D)有效率且有效能
- 有關競爭情報的敘述，下列何者正確？
(A)競爭間諜法規定在美國從事競爭情報蒐集是屬於犯罪行為
(B)使用競爭情報做出業務決策是不道德的
(C)如果競爭對手信息是從公眾可以獲取的來源中蒐集，那麼競爭情報是合乎道德的
(D)購買競爭者的產品加以評估以了解新的技術創新，是不道德的競爭情報做法
- 企業在其商業運作中試圖平衡對群體和個人的承諾，以對社會有益的方式行事，可稱為：
(A)社會化 (B)利益衝突 (C)利益相關者意識 (D)社會責任
- 哈佛大學教授麥可波特（Michael Porter）提出的五力分析中，來自替代品的威脅力量可由下列那一個指標來加以判定？
(A)消費者對產品的偏好傾向 (B)退出障礙
(C)現有競爭者的數目 (D)學習曲線
- 梅蘭阿姨住院治療疾病時，注意到醫院每個員工都非常注意「誰該向誰報告」，此乃是指：
(A)目標統一 (B)指揮鏈 (C)控制幅度 (D)部門化
- 下列那一個敘述定義了管理程序的規劃功能？
(A)指導和激勵員工實現組織目標
(B)討論如何最好地將組織的資源安排到一致的結構中
(C)監控公司的業績以確保達到目標
(D)確定組織需要做什麼以及如何最好地完成它
- 下列何者不是造成變革的一種內部力量？
(A)新興科技 (B)結構 (C)勞動力 (D)員工態度
- 醃漬橄欖製造商按設備和技術劃分為新鮮橄欖處理部門、鹽漬橄欖處理部門和調味橄欖處理部門，請問是指下列那一種部門化（departmentalization）的方式？
(A)產品部門化 (B)程序部門化 (C)地理部門化 (D)客戶部門化
- A公司完全遵守法律規定安裝規範的汙染控制設備，但不會花大錢安裝更高級的防汙設備。此為社會責任的：
(A)蓄意阻撓態度 (B)順應態度 (C)自發態度 (D)防禦態度
- 下列那一項是成為新開發市場或新產品先驅者（first mover）策略之劣勢？
(A)較無機會建立客戶忠誠度 (B)競爭對手模仿創新的風險
(C)較低的學習成本 (D)無法掌控資源
- 如果樂客公司打算在未來9年內將其休閒食品市場的市占率增加7%，該組織設定的目標是屬於那一種？
(A)中期目標 (B)短期目標 (C)組織遠景 (D)長期目標

- 12 組織在競爭者或非競爭者中借鏡能導致其卓越表現的最佳外部典範。請問這是使用下列那一種方式？
(A) PERT 計畫評核術 (B)全面品質管理 (C)市場定位 (D)標竿管理
- 13 桑熙向員工發表演講，一共講了三個半小時並在演講中展示了 247 張簡報。演講最後的互動疑難解答沒有人問問題。員工可能處於那種溝通障礙？
(A)信息超載 (B)選擇性知覺 (C)頓悟學習 (D)制約學習
- 14 一個公司領導人經常使用「此一時也，彼一時也」去進行決策時，主要是依循那一種領導模式？
(A)交易領導 (B)轉型領導 (C)情境領導 (D)特質領導
- 15 群體發展的五個階段依序為：
(A)形成期、規範期、風暴期、績效期、解散期
(B)形成期、風暴期、規範期、績效期、解散期
(C)形成期、風暴期、績效期、規範期、解散期
(D)形成期、規範期、績效期、風暴期、解散期
- 16 下列那一項是管理學者 Chester Barnard 提出權威的接受理論 (The Acceptance Theory of Authority) 之重要內涵？
(A)員工必須無條件接受上級指令
(B)員工若沒有足夠條件完成指令，那麼領導者的權威也會受到很大的影響
(C)領導者的權威和威信是來自上級授予
(D)指令內容雖和組織目標矛盾，員工也應遵守領導者指令
- 17 公司面臨市場不斷變化的消費者口味、競爭者惡意的收購和新的政府法規，是指 SWOT 分析的那個因素分析？
(A)威脅 (B)機會 (C)優勢 (D)劣勢
- 18 ROCO 是一家規模較小的石油公司，組織具有高度適應性，員工沒有標準化作業規章，並被訓練處理各種工作和問題。ROCO 應該是那種組織結構？
(A)機械式 (B)官僚式 (C)功能式 (D)有機式
- 19 瑪莉亞除擔任品管工程師的例行職務外，還被分配到研發專案團隊。在執行專案任務期間，瑪莉亞除了品管經理也必需向專案團隊經理報告。這個情況很有可能違反什麼管理原則？
(A)目標統一 (B)權威 (C)指揮統一 (D)控制幅度
- 20 企業允許某些特約店支付特定費用或部分利潤，則可以使用該公司商標或店號並給予各項訓練及支援。這是指：
(A)授權 (B)加盟 (C)合資 (D)契約管理
- 21 ISO (International Organization for Standardization) 是國際標準化組織。那個系列標準與環境管理有關？
(A) ISO 9000 (B) ISO 9001 (C) ISO 14000 (D) ISO 2000
- 22 增加水平方向的工作內容讓工作多樣性，使員工可以掌握更多的知識和技能，此是指：
(A)工作擴大化 (B)工作機會化 (C)工作豐富化 (D)工作輪調
- 23 市場結構是構成市場各因素之間的相互關係。下列何者不代表市場結構的競爭程度？
(A)寡占 (B)獨占競爭 (C)社會主義 (D)完全競爭
- 24 卡卡巧克力公司承諾保證道德採購，公司會儘量避免那一種作為？
(A)忽視進口可可豆區域的勞工工作環境 (B)減小行銷部門的規模
(C)增加新的無脂肪甜點 (D)全程直接參與巧克力製作過程
- 25 榮翔工作表現尚可，但願意配合額外加班，並主動協助指導新進人員熟悉工作，這符合下列何種員工行為模式？
(A)績效行為 (B)組織公民行為
(C)反生產行為 (D)利益導向行為

- 26 下列有關價值的敘述何者正確？
(A)非貨幣犧牲是指為取得產品或服務所支付的金錢代價
(B)顧客會根據價值來評估產品或服務的吸引力
(C)顧客提供給企業的價值決定了企業的競爭力
(D)價值可視為利益與犧牲之合
- 27 下列何項屬於 Geert Hofstede 所提出的文化構面之一？
(A)樂觀主義與悲觀主義
(B)享樂主義與功利主義
(C)個人主義與集體主義
(D)保守主義與浪漫主義
- 28 管理者必須有能夠摘要思考、診斷與分析不同情境、洞悉未來的能力，此能力稱之為：
(A)政治 (political) 能力
(B)概念化 (conceptual) 能力
(C)人際關係 (interpersonal) 能力
(D)技術 (technical) 能力
- 29 王大明為自己的新創公司積極開發新產品並設計創新商業模式。這是屬於何種管理者的角色？
(A)宣傳角色 (B)人際角色 (C)資訊角色 (D)決策角色
- 30 企業主要策略規劃的程序中，不包括下列何項？
(A)界定使命與目標
(B)分析組織的機會與威脅
(C)分析組織的優勢與劣勢
(D)推動組織變革管理
- 31 2020 年新冠肺炎期間全球經濟衰退，許多企業選擇暫停營運或轉型提供其他服務，此為總體策略中的何種策略？
(A)穩定策略 (stability strategy)
(B)成長策略 (growth strategy)
(C)更新策略 (renewal strategy)
(D)低成本策略 (low-cost strategy)
- 32 下列何項屬於目標管理 (management by objectives, MBO) 的構成要件之一？
(A)績效回饋 (B)決策的特定性 (C)個人目標 (D)無限期規劃
- 33 管理者在組織中直接管轄的部屬人數，可稱之為：
(A)控制高度 (B)控制長度 (C)控制幅度 (D)控制厚度
- 34 關於企業文化，下列敘述何者正確？
(A)很少影響組織中的新進員工
(B)通常由外界力量決定
(C)不能更改
(D)可以引導員工為共同目標努力
- 35 組織和員工對於「員工對組織的貢獻」以及「組織提供的報酬」所抱持的整體期待，是為：
(A)心理預期 (B)心理調適 (C)心理認同 (D)心理契約
- 36 依據管理方格理論 (managerial grid)，與員工維持良好關係，並塑造舒適、友善的組織氣氛，而較不重視工作任務，此是屬於何種領導風格？
(A)團隊型管理 (B)放任型管理 (C)任務型管理 (D)鄉村俱樂部型管理
- 37 相較於事前控制與事中控制，管理者採事後控制有那些優點？
(A)可使管理階層預防問題的發生
(B)可提供管理者相關資訊以了解規劃是否有效
(C)可在問題尚未造成重大損失前採取行動
(D)可監督員工的行為是否符合標準
- 38 下列有關控制程序的敘述何者正確？
(A)包括建立績效標準、衡量實際績效、比較標準與實際績效、評估結果並採取必要的修正行動
(B)績效標準儘量模糊化避免特定化，以利目標績效的達成
(C)如何衡量績效比衡量何種績效更為關鍵
(D)管理者應該要注重績效標準與實際績效必須完全相符，不能有差距

- 39 走動式管理（management by wandering around）係屬於何種管理工具？
(A)規劃工具 (B)組織工具 (C)領導工具 (D)控制工具
- 40 下列何者不屬於常見的作業排程工具？
(A)平衡計分卡 (B)甘特圖 (C)計畫評核術 (D) PERT 圖
- 41 下列有關「行銷」的敘述何者正確？
(A)行銷的重點是促銷與強力推廣
(B)行銷是「生產我們所能賣的產品」
(C)行銷強調正確地界定顧客的需求
(D)行銷重視企業利潤目標甚於顧客滿意
- 42 許多網路賣家會在不同拍賣網站上架，並提供消費者要到店取貨、宅配或自取的選擇，請問這是屬於何種行銷組合因素？
(A)促銷活動 (B)產品定位 (C)通路決策 (D)定價策略
- 43 某汽車在廣告中訴求低調但有格調，強調豪華與尊貴感。請問這是利用何種市場區隔方式？
(A)心理區隔 (B)地理區隔 (C)人口區隔 (D)行為區隔
- 44 下列有關人力資源管理的敘述何者錯誤？
(A)是指吸引、甄選、發展與維持有效工作人力的一套活動
(B)人力資源規劃涉及工作分析與預測勞力的供需
(C)人力資本反映出組織在人才培育等方面的投入
(D)人資部門負責制定績效考核政策及實際評估與指導員工
- 45 欣儀應徵 A 公司未入選，後來被同業 B 公司聘用去從事相同的工作，表現得非常優異。此表示 A 公司在甄選時可能犯下列何種錯誤？
(A)選取錯誤（go-error） (B)摒棄錯誤（drop-error）
(C)月暈錯誤（halo-error） (D)近因錯誤（recency-error）
- 46 在績效評估方法中，由受評者周遭的每一個人（上司、同事、部屬）來評估其績效，此方法稱之為：
(A) 360 度評估法 (B)判斷評量法 (C)比較評估法 (D)關鍵事件法
- 47 為了承擔一項投資所增加的風險，因而要求該投資必須增加額外的報酬，此稱之為：
(A)風險轉移 (B)風險波動 (C)風險溢酬 (D)風險推遲
- 48 下列何者並非企業選擇長期資金籌措方式的影響因素？
(A)損益平衡點 (B)財務槓桿 (C)資本結構 (D)相對成本的高低
- 49 下列有關營運資金的敘述何者正確？
(A)營運週期從支付購買存貨現金起算
(B)營運週期越短，營運資金被呆滯的時間越久
(C)營運資金等於流動負債減流動資產
(D)若能取得供應商更好的授信條件，則可降低所需的營運資金
- 50 多數企業禁止採購人員接受供應商的贈禮，這是為了避免何種管理道德的議題？
(A)利益衝突 (B)自我衝突 (C)價值衝突 (D)政策衝突

更多鐵路考試科目的歷屆題庫
立即上網搜尋“鐵路歷屆考古題懶人包”
高鋒公職補習班整理
Line@帳號：@gaofeng
連絡電話：07-236-7296

測驗式試題標準答案

考試名稱：109年公務人員特種考試警察人員、一般警察人員考試及109年特種考試交通事業鐵路人員考試

類科名稱：運輸營業

科目名稱：企業管理大意（試題代號：3903）

更多鐵路考試科目的歷屆題庫
立即上網搜尋“鐵路歷屆考古題懶人包”
高鋒公職補習班整理
Line@帳號：@gaofeng
連絡電話：07-236-7296

單選題數：50題

單選每題配分：2.00分

複選題數：

複選每題配分：

標準答案：

題號	第1題	第2題	第3題	第4題	第5題	第6題	第7題	第8題	第9題	第10題
答案	B	C	D	A	B	D	A	B	D	B

題號	第11題	第12題	第13題	第14題	第15題	第16題	第17題	第18題	第19題	第20題
答案	D	D	A	C	B	B	A	D	C	B

題號	第21題	第22題	第23題	第24題	第25題	第26題	第27題	第28題	第29題	第30題
答案	C	A	C	A	B	B	C	B	D	D

題號	第31題	第32題	第33題	第34題	第35題	第36題	第37題	第38題	第39題	第40題
答案	C	A	C	D	D	D	B	A	D	A

題號	第41題	第42題	第43題	第44題	第45題	第46題	第47題	第48題	第49題	第50題
答案	C	C	A	D	B	A	C	A	D	A

題號	第51題	第52題	第53題	第54題	第55題	第56題	第57題	第58題	第59題	第60題
答案										

題號	第61題	第62題	第63題	第64題	第65題	第66題	第67題	第68題	第69題	第70題
答案										

題號	第71題	第72題	第73題	第74題	第75題	第76題	第77題	第78題	第79題	第80題
答案										

題號	第81題	第82題	第83題	第84題	第85題	第86題	第87題	第88題	第89題	第90題
答案										

題號	第91題	第92題	第93題	第94題	第95題	第96題	第97題	第98題	第99題	第100題
答案										

備註：

109年公務人員特種考試警察人員、 一般警察人員考試及109年特種考試 交通事業鐵路人員考試試題

考試別：鐵路人員考試

等別：佐級考試

類科別：運輸營業、場站調車

科目：鐵路運輸學大意

考試時間：1小時

座號：_____

- ※注意：(一)本試題為單一選擇題，請選出一個正確或最適當的答案，複選作答者，該題不予計分。
(二)本科目共50題，每題2分，須用2B鉛筆在試卡上依題號清楚劃記，於本試題上作答者，不予計分。
(三)禁止使用電子計算器。

- 依據鐵路法第2條，鐵路是：
(A)以軌道導引車輛行駛之運輸系統及其有關設施
(B)以軌道導引動力車輛行駛之運輸系統及其有關設施
(C)以動力車輛行駛之運輸系統及其有關設施
(D)以軌道支撐與導引車輛行駛之運輸系統及其有關設施
- 軌道運輸中規定應有號誌之處所，無號誌之顯示時，應視為：
(A)最小限制之號誌 (B)最大容忍之號誌 (C)最大限制之號誌 (D)逕行通過
- 依據鐵路修建養護規則第2條，鐵路路線之內容不包括下列那一項？
(A)側線之運轉保安設備 (B)側線之橋梁 (C)正線之消防設備 (D)正線之機車與車輛
- 依據鐵路修建養護規則第2條，鐵路正線指：
(A)提供旅客運送服務使用之路線或其他列車運轉經常使用之路線
(B)提供客貨運送服務使用之路線或其他列車運轉經常使用之路線
(C)提供高速列車服務使用之路線或其他列車運轉經常使用之路線
(D)提供通勤列車服務使用之路線或其他列車運轉經常使用之路線
- 依據鐵路修建養護規則第4條，鐵路路線等級之考量因素不包括下列那一項？
(A)軌道通過負荷量 (B)行車速率 (C)業務性質區分 (D)路線長度
- 依據鐵路修建養護規則第5條，新建、改建或整修完畢之路線，鐵路機構：
(A)經完工檢查，即可使用 (B)經完工檢查並作成紀錄，即可使用
(C)非經立法院核准，不得使用 (D)非經檢查及試運轉，不得使用
- 促進行車安全，依據鐵路修建養護規則第6條之1，鐵路機構應從事之工作，不包括下列那一項？
(A)評估路線可能發生之潛在危險 (B)設置適當之危險偵測設施
(C)採取適當之檢測與防護措施 (D)建立旅客評鑑路線之機制
- 依據鐵路行車規則第2條，閉塞區間指：
(A)不能運轉列車之區間 (B)不能同時運轉二列以上列車之號誌區間
(C)運轉列車之相鄰車站區間 (D)不能運轉列車之相鄰車站區間
- 建築界限：指在軌道左右或上方之構造物與軌道間，保持一定空間，不致妨礙列車或車輛運轉之界限。其出處為：
(A)鐵路修建養護規則 (B)鐵路行車規則
(C)鐵路機車車輛檢修規則 (D)鐵路運送規則
- 依據鐵路行車規則第3條之3，鐵路機構於行車人員執行其勤務前，應實施酒精濃度檢測；呼氣所含酒精濃度的標準是：
(A)每公升0毫克 (B)每公升0.1毫克 (C)每公升0.15毫克 (D)每公升0.2毫克

更多鐵路考試科目的歷屆題庫
立即上網搜尋“鐵路歷屆考古題懶人包”
高鋒公職補習班整理
Line@帳號：@gaofeng
連絡電話：07-236-7296

- 11 依據鐵路行車規則第 56 條，規定「列車之最大聯掛車數」之考量因素，不包括下列那一項？
(A)動力車之牽引力 (B)行車閉塞制度 (C)路線區間之設施狀況 (D)車架及連結點之強度
- 12 下列有關一般鐵路之運轉與調車的敘述何者錯誤？
(A)列車之運轉，應依號誌之顯示辦理
(B)調車應依號訊辦理。但人力調車時，不在此限
(C)車輛非經組成列車，不得在站外正線運轉。但調車時不在此限
(D)辦理列車閉塞後，對於駛來列車之方向，得使用站外正線調車
- 13 鐵路之重大行車事故，不包括下列那一項？
(A)平交道事故 (B)正線衝撞事故 (C)正線出軌事故 (D)正線火災事故
- 14 依據鐵路行車規則第 122 條之 3，冒進號誌屬於下列何者？
(A)一般事故 (B)重大事故 (C)異常事件 (D)一般事件
- 15 依據鐵路運送規則，有關車票之敘述何者錯誤？
(A)旅客在車票有效期間內，應於車票起訖區間之起站乘車
(B)旅客在車票有效期間內，得依鐵路機構之規定，於車票所載起訖區間內之任何停車站中途下車
(C)旅客得於鐵路機構規定期限內經其同意變更車票，免收變更手續費
(D)旅客因鐵路機構請求查驗車票時，應將車票交驗；其拒絕交驗者，鐵路機構得令其下車
- 16 依據鐵路運送規則第 18 條，無票乘車者，應補收票價。關於無票乘車者加收票價之敘述何者正確？
(A)不論理由，應加收已乘區間票價之百分之五十
(B)無正當理由者，應加收已乘區間票價之百分之五十
(C)無正當理由者，並得加收票價之百分之五十
(D)無正當理由者，並得加收已乘區間票價之百分之五十
- 17 依據鐵路機車車輛檢修規則第 6 條，具有動力之電聯車屬於下列何者？
(A)鐵路機車 (B)鐵路車輛
(C)鐵路列車 (D)非鐵路機車，亦非鐵路車輛
- 18 依據鐵路機車車輛檢修規則第 8 條，對動力、傳動、行走（含轉向架）、軀機等裝置主要機件之特定部分施行拆卸並作細部分解之檢修，為鐵路機車定期檢修之第幾級？
(A)第 1 級定期檢修 (B)第 2 級定期檢修 (C)第 3 級定期檢修 (D)第 4 級定期檢修
- 19 「利用鐵路沿線的號誌設備與軌道上的信號傳輸設備，以電子信號與列車進行傳輸，監控列車的行駛狀態，並持續監控列車的前行距離及速度，確保列車不會越過可移動範圍的終點。」是鐵路號誌中的那一項子系統？
(A)列車自動防護系統 (B)聯鎖裝置 (C)中央行車控制系統 (D)閉塞裝置
- 20 依據地方營民營及專用鐵路監督實施辦法第 40 條，列車服務水準指標中，平均承載率為：
(A)延人公里數÷座位公里數 (B)延人公里數÷路線公里數
(C)旅客人數÷座位數 (D)旅客人數÷定員數
- 21 依據鐵路行車人員技能體格檢查規則第 2 條，下列那一類人員不屬於鐵路行車人員？
(A)駕駛人員：在列車或車輛上擔任駕駛工作之人員
(B)行控人員：於鐵路中央行車控制設備之處所執行列車或車輛進路控制、行車保安等行車控制作業之人員
(C)乘務人員：於列車上執行食品銷售、車廂清潔或提供旅客服務作業之人員
(D)維修人員：於正線維修作業現場執行行車運轉、列車防護、號訊控制作業之人員
- 22 鐵路路線必須考慮路線中各個「路段」、「車站」、「折返點」、「銜接點」之容量，路線容量是其中各點容量之何種數值？
(A)最大值 (B)最小值 (C)平均值 (D)中位數

- 23 下列那一項不是估算「列車站間運轉時分」的重要因素？
(A)列車牽引力 (B)列車制動力
(C)列車長度 (D)站間路線幾何線形（坡度與彎道等）
- 24 列車行駛的阻力包括基本阻力與附加阻力，下列那一項不屬於基本阻力？
(A)坡度阻力 (B)空氣阻力 (C)輪軌滾動阻力 (D)軸承摩擦阻力
- 25 應用風險矩陣探討鐵路危害之風險，分析與評估危害的兩項因素是：
(A)可能性與嚴重性 (B)可靠性與維修度 (C)成本與效益 (D)價格與數量
- 26 依據鐵路機車車輛檢修規則第 33 條，下列敘述何者錯誤？
(A)鐵路機構應對機車車輛進行可靠度之統計與分析，並建立年度目標值
(B)鐵路機構應對機車車輛進行可維修度之統計與分析，並建立年度目標值
(C)鐵路機構應對機車車輛進行舒適度之統計與分析，並建立年度目標值
(D)鐵路機構每年三月底前應將本年度目標值與上年度之統計、分析結果報請交通部備查
- 27 有關鐵路系統分類之敘述何者錯誤？
(A)依據軌道支撐的結構，鐵路可分為：平行軌鐵路、單軌鐵路、磁浮鐵路
(B)依據推進的動力來源，鐵路可分為：蒸汽鐵路、內燃機鐵路、電氣鐵路
(C)依據推進原理與形式，鐵路可分為：粘著式鐵路、齒軌式鐵路、鋼索式鐵路、線性馬達感應式推進鐵路
(D)依據軌道導引的結構，鐵路可分為：導引式鐵路、無導引鐵路
- 28 依據鐵路運送規則第 10 條，兒童免費乘車之規定，下列敘述何者錯誤？
(A)兒童身高未滿 115 公分者，免費
(B)兒童滿 115 公分而未滿 6 歲者，經出示身分證件者，免費
(C)每一位「已購買全票或成年之旅客」以攜帶二位免費兒童為限
(D)免費之兒童，鐵路機構應提供座位
- 29 鐵路調車場的主要功能，下列敘述何者錯誤？
(A)裝卸貨物 (B)列車編組 (C)調節路線之容量 (D)清潔列車
- 30 鐵路號誌顯示，下列敘述何者錯誤？
(A)低速指每小時不得超過 35 公里 (B)緩速指每小時不得超過 45 公里
(C)中速指每小時不得超過 50 公里 (D)注意指每小時不得超過 60 公里
- 31 鐵路道岔中岔心號數與轍叉角有關，一般裝於快速鐵路幹線的岔心號數為：
(A) 9 號以下 (B) 10-12 號 (C) 13-15 號 (D) 16-20 號
- 32 目前臺灣都市地區捷運系統的分段收費方式是屬：
(A)里程費率制度 (B)例外分等制度 (C)遞遠遞減制度 (D)區域費率制度
- 33 依鐵路法規定電化鐵路之電能，由電業機構：
(A)議價供應 (B)優待價格供應 (C)優先供應 (D)訂定契約供應
- 34 依據鐵路行車規則第 2 條，車站站內與站外之定義，下列敘述何者錯誤？
(A)站內指進站號誌機（如同一路線設有二個以上進站號誌機時為其最外方者）或站界標之內方
(B)站外指進站號誌機或站界標之外方
(C)複線行車區間列車出發方面未設站界標者，以相反方向路線之進站號誌機之位置為其內外之境界
(D)單線行車區間列車出發方面未設出發號誌機者，以相反方向路線之進站號誌機之位置為其內外之境界
- 35 有關使用大眾運輸系統 C 型路權之運具，下列敘述何者錯誤？
(A)地面電車使用 (B)服務可靠性低 (C)輸送運量大 (D)營運速度低
- 36 鐵路機構應將旅客準時送達，若因不可抗力所致造成遲延送達者，應負的遲延之賠償責任為：
(A)因遲延而增加支出必要費用 (B)無須賠償
(C)償還票價 (D)依旅客損失而定
- 37 列車有狀況需實施第二種防護時，需在障礙處所外方多少公尺處顯示臨時手作險阻號誌？
(A) 800 公尺以上 (B) 600 公尺以上 (C) 200 公尺以上 (D)列車後部

- 38 依據鐵路機車車輛檢修規則，對營運時速未達 200 公里之鐵路機車，有關臨時檢修與試車的敘述何者錯誤？
(A)發生異常事件、行車事故，應施行臨時檢修 (B)發生故障，應施行臨時檢修
(C)施行三級檢修以上之檢修，應施行試車 (D)施行一級檢修以上之檢修，應施行試車
- 39 大眾運輸系統績效評估中的成本效率不包含下列何者？
(A)員工生產力 (B)車輛使用率 (C)提供服務的利用 (D)各部門管理效率
- 40 依據鐵路運送規則第 4 條，鐵路機構得拒絕運送、解除契約或終止契約的情形，不包括下列那一項？
(A)天災、事變等不可抗力事由致不能運送
(B)旅客穿著惡臭衣物或攜帶不潔物品影響公共衛生
(C)旅客未戴口罩
(D)旅客違反鐵路機構之運送規定、其他法令規定、公共秩序或善良風俗
- 41 臺灣鐵路管理局運轉規章規定，工程列車或指定進入封鎖區間內運轉之列車，其運轉速度不得超過每小時多少公里？
(A) 15 公里 (B) 20 公里 (C) 25 公里 (D) 30 公里
- 42 依據鐵路行車規則第 28 條，有關一般鐵路號誌之種類與顯示意義，下列敘述何者錯誤？
(A)險阻號誌：列車或車輛應停於號誌顯示處所外方
(B)注意號誌：列車或車輛預知次一號誌為險阻號
(C)平安號誌：列車或車輛得越過號誌之顯示處所注意慢速進行
(D)減速號誌：列車或車輛得越過號誌之顯示處所按指定減低之速度進行
- 43 依據鐵路立體交叉及平交道防護設施設置標準與費用分擔規則，下列敘述何者錯誤？
(A)鐵路與道路相交處設置平交道時，其設計施工由鐵路機構辦理
(B)鐵路平交道之新設、變更或廢止，由鐵路機構會同有關機關根據實際狀況查定後實施，並報其主管機關備查
(C)鐵路平交道之交通量，由公路機構就每日通過該平交道之鐵路列車、調車、道路車輛數及行人數舉辦調查
(D)鐵路平交道處道路平均每日換算小型車交通量與每日鐵路列車次數之乘積值超過 40,000 以上者，可優先改建立體交叉
- 44 交通部即將在民國 110 年成立「軌道技術研究及驗證中心」，此中心的角色及定位，下列何者錯誤？
(A)第三方公正機構 (B)研發新的產品
(C)支援軌道營運安全與維修技術 (D)與國際接軌
- 45 在臺灣鐵路管理局帶電之電車線鄰近工作時，工作人員與帶電設備間，至少應保持之安全距離為：
(A) 0.5 公尺 (B) 1 公尺 (C) 1.2 公尺 (D) 1.5 公尺
- 46 鐵路因行車事故致車上旅客在站間滯留超過多久以上？無法執行有效救援措施者，即為鐵路重大行車事故。
(A) 3 小時 (B) 2 小時 (C) 1 小時 (D) 30 分鐘
- 47 臺鐵站內路線，下列何者可以辦理列車通過？
(A)安全側線 (B)副正線 (C)側線 (D)主正線
- 48 大眾捷運系統之最大承載區間 (Maximum Load Section)，其意義為何？
(A)路線上最大旅客承載之時段 (B)路線上最大旅客承載之路段
(C)路線上最大旅客承載之列車 (D)路線上最大旅客承載之噸數
- 49 站外正線或坡度在多少以上之路線，絕對禁止人力調車？
(A)千分之 5 (B)千分之 3.5 (C)千分之 10 (D)千分之 15
- 50 停留車輛應停於何者之內方以防止列車邊撞情形發生？
(A)站界標 (B)車輛停車標 (C)調車區界標 (D)警衝標

測驗式試題標準答案

考試名稱：109年公務人員特種考試警察人員、一般警察人員考試及109年特種考試交通事業鐵路人員考試

類科名稱：場站調車、運輸營業

科目名稱：鐵路運輸學大意（試題代號：4903）

更多鐵路考試科目的歷屆題庫
立即上網搜尋“鐵路歷屆考古題懶人包”
高鋒公職補習班整理
Line@帳號：@gaofeng
連絡電話：07-236-7296

單選題數：50題

單選每題配分：2.00分

複選題數：

複選每題配分：

標準答案：

題號	第1題	第2題	第3題	第4題	第5題	第6題	第7題	第8題	第9題	第10題
答案	B	C	D	A	D	D	D	B	B	A

題號	第11題	第12題	第13題	第14題	第15題	第16題	第17題	第18題	第19題	第20題
答案	B	D	A	C	A	D	A	C	A	A

題號	第21題	第22題	第23題	第24題	第25題	第26題	第27題	第28題	第29題	第30題
答案	C	B	C	A	A	C	D	D	A	C

題號	第31題	第32題	第33題	第34題	第35題	第36題	第37題	第38題	第39題	第40題
答案	D	D	C	D	C	A	C	D	C	C

題號	第41題	第42題	第43題	第44題	第45題	第46題	第47題	第48題	第49題	第50題
答案	C	C	C	B	D	C	D	B	C	D

題號	第51題	第52題	第53題	第54題	第55題	第56題	第57題	第58題	第59題	第60題
答案										

題號	第61題	第62題	第63題	第64題	第65題	第66題	第67題	第68題	第69題	第70題
答案										

題號	第71題	第72題	第73題	第74題	第75題	第76題	第77題	第78題	第79題	第80題
答案										

題號	第81題	第82題	第83題	第84題	第85題	第86題	第87題	第88題	第89題	第90題
答案										

題號	第91題	第92題	第93題	第94題	第95題	第96題	第97題	第98題	第99題	第100題
答案										

備註：

測驗題標準答案更正

考試名稱：109年公務人員特種考試警察人員、一般警察人員考試及109年特種考試交通事業鐵路人員考試

類科名稱：運輸營業、場站調車

科目名稱：鐵路運輸學大意

更多鐵路考試科目的歷屆題庫
立即上網搜尋“鐵路歷屆考古題懶人包”
高鋒公職補習班整理
Line@帳號：@gaofeng
連絡電話：07-236-7296

單選題數：50題

單選每題配分：2.00分

複選題數：

複選每題配分：

標準答案：答案標註#者，表該題有更正答案，其更正內容詳見備註。

題號	第1題	第2題	第3題	第4題	第5題	第6題	第7題	第8題	第9題	第10題
答案	B	C	D	A	D	D	D	B	#	A

題號	第11題	第12題	第13題	第14題	第15題	第16題	第17題	第18題	第19題	第20題
答案	B	D	A	C	A	D	A	C	A	A

題號	第21題	第22題	第23題	第24題	第25題	第26題	第27題	第28題	第29題	第30題
答案	C	B	C	A	A	C	D	D	A	C

題號	第31題	第32題	第33題	第34題	第35題	第36題	第37題	第38題	第39題	第40題
答案	D	D	C	D	C	A	C	D	C	C

題號	第41題	第42題	第43題	第44題	第45題	第46題	第47題	第48題	第49題	第50題
答案	C	C	C	B	D	C	D	B	C	D

題號	第51題	第52題	第53題	第54題	第55題	第56題	第57題	第58題	第59題	第60題
答案										

題號	第61題	第62題	第63題	第64題	第65題	第66題	第67題	第68題	第69題	第70題
答案										

題號	第71題	第72題	第73題	第74題	第75題	第76題	第77題	第78題	第79題	第80題
答案										

題號	第81題	第82題	第83題	第84題	第85題	第86題	第87題	第88題	第89題	第90題
答案										

題號	第91題	第92題	第93題	第94題	第95題	第96題	第97題	第98題	第99題	第100題
答案										

備註：第9題答A或B或AB者均給分。

108年公務人員特種考試警察人員、一般警察人員考試及
108年特種考試交通事業鐵路人員、退除役軍人轉任公務人員考試試題

考試別：鐵路人員考試
等 別：佐級考試
類 科 別：各類科
科 目：國文（包括公文格式用語）
考試時間：1 小時

更多鐵路考試科目的歷屆題庫
立即上網搜尋“鐵路歷屆考古題懶人包”
高鋒公職補習班整理
Line@帳號：@gaofeng
連絡電話：07-236-7296

座號：_____

※注意：(一)本科目共 45 題，其中單選題 35 題，複選題 10 題，各題答案須用 2B 鉛筆在試卡上依題號清楚劃記，於本試題上作答者，不予計分。
(二)禁止使用電子計算器。

一、單一選擇題（第 1 題至第 35 題，占 70 分）

說明：每題 2 分，所列的四個選項，請選出一個正確或最適當的答案，複選作答者，該題不予計分。

- 下列文句，何者沒有錯別字？
(A)經過這件事，他因該後悔了吧 (B)不論說什麼，我在也不相信他
(C)既然他決定不去，那我們都不去了 (D)他廢話太多，由其在開會時特別嚴重
- 下列文句「」中詞語使用正確的是：
(A)他雖然很用功，卻「不得要領」，沒能把握重點，所以成績始終未達理想
(B)面對全球化的浪潮，年輕人必須「無所不為」，以更積極的態度迎向前去
(C)明明是上課時間，學生卻「不安於室」，被教室外的蟬聲引誘得頻頻失神
(D)蹺課雖不是學生該有的行為，但「罪不容誅」，最後老師還是選擇原諒他
- 「該國位於非洲北部，北濱地中海，與地中海沿岸各國之飛行距離甚短，實為總縮地中海戰區之『鎖鑰』」。下列選項，何者最適合替換「鎖鑰」一詞？
(A)咽喉 (B)玉石 (C)髮膚 (D)寶山
- 「永昌吾兄惠鑒：本次公司人事調整，弟自維才疏，膺重寄，深感惶愧。迺蒙垂注賀，至感盛誼。崑復申謝，並祈一本愛護之厚意，續予匡教為禱。」信中內若依循禮貌原則，最適合填入的詞語依序應是：
(A)忝／敬 (B)忝／賜 (C)榮／敬 (D)榮／賜
- 寫信給長官，常用的啟封詞為：
(A)道啟 (B)鈞啟 (C)惠啟 (D)大啟
- 下列各組賀辭，搭配不恰當的選項是：
(A)連理交枝／賀人婚嫁 (B)天賜遐齡／向人祝壽
(C)業紹陶朱／賀商店開幕 (D)車水馬龍／賀醫院開幕
- 下列文句，成語使用正確的是：
(A)俗話說「三人成虎」，只要我們同心協力，一定能克服困難
(B)這個「光怪陸離」的大都市，充滿各種奇特的現象，令人迷惑
(C)黃老師是這個合唱團的「始作俑者」，沒有他的努力，我們無法成軍
(D)敏華求學認真，經常「以攻為守」地向同學請教，所以總是考第一名
- 下列選項中的「除」字，何者與其他三者用法不同？
(A)正是這種「除」舊布新的迷思，徹底改造了中國 20 世紀的革命觀念
(B)人君能懲小忿，則能恤小事大，以交鄰國；能養大勇，則能「除」暴救民，以安天下
(C)有相當多可以去「除」家庭害蟲的無毒性替代方法，保持耐心及願意去嘗試評估不同的方法是最有效的
(D)那上面「除」雜陳的書籍、硯台、筆墨，和茶杯、菸灰缸外，中央清出一塊空間正攤開著《清畫堂詩集》
- 有關「惻隱之心」，下列何者是其具體表現？
(A)愛人者人恆愛之
(B)稷思天下有飢者，由己飢之也
(C)一簞食，一瓢飲，人不堪其憂，回也不改其樂
(D)人見其濯濯也，以為未嘗有材焉，此豈山之性也哉
- 天干地支常用以記年、月、日，或者用來排序計數，下列選項，何者沒有蘊含干支的觀念？
(A)在庚子拳亂後，清政府與聯軍簽訂辛丑條約 (B)老李年近花甲，才真正領悟世間的進退之道
(C)新人在訂婚前，老人家堅持要先合兩人八字 (D)今天展覽焦點，就是古董盃甲乙件配刀乙支
- 衛靈公問陳於孔子。孔子對曰：「俎豆之事，則嘗聞之矣；軍旅之事，未之學也。」明日遂行。（《論語·衛靈公》）
由文意推斷，孔子離開衛國的主因是：
(A)衛靈公顛頑無知，孔子無法使其了解國際局勢 (B)衛靈公有志於戰陣征伐，孔子不希望助紂為虐
(C)孔子反躬自省，自知無法協助衛靈公發展農業 (D)孔子謙卑好學，決定立即學習兵法以助衛靈公
- 食不厭精，膾不厭細。食饁而餲，魚餒而肉敗，不食。色惡，不食。臭惡，不食。失飪，不食。不時，不食。割不正，不食。不得其醬，不食。肉雖多，不使勝食氣。唯酒無量，不及亂。（《論語·鄉黨》）
下列選項，何者不符上文之意？
(A)注重食物新鮮 (B)注重烹飪得當 (C)注重食量控制 (D)注重食材多樣

- 13 「可憐之人必有其可惡之處。」這一句話犯了「以偏概全」的謬誤。下列那一選項同樣也出現「以偏概全」的情況？
 (A)這輛車沒有鎖 (B)抽菸不完全是錯的 (C)獅子座的人都愛面子 (D)兩個學校的學生打架
- 14 大考在即，老師對班上同學說：「譬如為山，未成一簣，止，吾止也。」（《論語》），老師的意思與下列選項何者最相近？
 (A)訓勉同學持續努力 (B)盼望同學謹小慎微 (C)期許同學用心專一 (D)鼓勵同學立志高遠
- 15 「聒噪場合中的沉默者，未必真正沉默，他們的心中大概正熱烈地自我問答，甚至批判，甚至譏諷，只是別人多數聽不見那聲音，偶有一、二知音，或可以在沉默中領會其心境耳。所謂『□□□□』，良有以也。」最適合填入空缺處的選項是：
 (A)繞梁韻永 (B)大言不辯 (C)默識之無 (D)徒託空言
- 16 「其實，人不怕從錯誤中去證悟真理，最怕的是反復同樣的錯誤，卻還證悟不得真理。」下列選項，最能表達此段文字主旨的是：
 (A)三折肱而成良醫 (B)吃得苦中苦，方為人上人
 (C)不想前事之失，復循覆車之軌 (D)在那裡跌倒，就從那裡爬起來
- 17 行者與八戒，那裡肯捨，趕著那虎，定要除根。那怪見他趕得至近，卻又摳著胸膛，剝下皮來，苦蓋在那臥虎石上，脫真身，化一陣狂風，徑回路口。……行者舉棒，儘力一下，轉震得自己手疼，八戒復築了一鈿，亦將鈿齒迸起，原來是一張虎皮，蓋著一塊臥虎石。（《西遊記》）
 依據上文，行者與豬八戒中計了，中的是那一計？
 (A)聲東擊西 (B)欲擒故縱 (C)金蟬脫殼 (D)借刀殺人
- 18 「高牆內，生活舒適而安定，圍牆外，卻是完全一個不同的世界。」所以，「高牆」代表一個阻隔，形成舒適與不安、富足與貧窮對比的界線。
 下列選項中的文句，可以顯現牆裡與牆外「對比」現象的是：
 (A)加爾各答滿街都是無家可歸的人，晚上出去必須小心走路，不然一定會碰到睡在地上的人
 (B)火葬場到了，這所火葬場有一大片的房子，房子裡外全是乞丐，我們將遺體搬到一個炭堆上
 (C)就在我的旅館門口，兩個小男孩每天晚上會躺下睡覺……這些孩子，很多終其一生沒有能夠走進任何一個房子
 (D)親眼看到一個小孩子，用一只杯子在陰溝裡盛水洗臉、漱口，最後索性盛了一大杯，痛痛快快地將水喝下去
- 19 「人類非常傾向於二分法的思考，愛把事物分成迥異的兩類：好與壞、英雄與惡棍、我的國家與其他國家。也常把世界分為兩類，簡單的直觀中，還暗示著衝突，並且誇大其差異性。記者深諳這件事，把相異的人、事、物寫成對立，偏好報導赤貧與富豪，不愛報導許多人胼手胝足改善生活的努力。記者的工作是說故事，紀錄片與電影的導演也是，紀錄片喜歡描寫無名小卒怎樣對抗邪惡的大企業，賣座大片經常是強調正義與邪惡的對立。然而，真實的世界，是否單靠二分區隔便能清楚呈現，實值得憂慮。」
 下列選項，何者最符合本文旨意？
 (A)人類只能做二分法思考 (B)二分法思考可泯除對立
 (C)二分法思考利於了解事實 (D)人類應跳脫出二分法思考
- 20 承上題，下列選項何者最正確？
 (A)衝突題材讓記者和導演易獲關注 (B)記者藉由多元視角豐富思維方向
 (C)這世界的鴻溝無法靠思維來弭平 (D)人們胼手胝足改善生活已不復見
- 21 火星之於行星，如同____之於____，具有類屬關係。
 (A)蝴蝶、昆蟲 (B)月亮、地球 (C)漲潮、退潮 (D)手錶、時間
- 22 「英國王室第9順位繼承人、28歲的尤金妮公主日前舉行婚禮，據稱她要求『想要一件露背的結婚禮服』。結婚當天，她身穿一襲典雅露背婚紗，頭戴王冠和小巧的耳環，沒有披頭紗，也沒有戴項鍊，簡單素雅。露背的禮服，清楚看到傷疤從頸部順著脊椎垂直往下，沒入禮服中，可想見當年手術的嚴重程度。她接受節目訪問時表示，她這樣做是為了支持那些可能經歷過類似事情的人，並重新定義美麗的樣子。」
 根據上文，公主的打扮用意在：
 (A)刻意別出心裁，不與一般新娘相似 (B)想要低調素雅，不想過於華麗浪費
 (C)打破一般人對婚禮過度夢幻的想像 (D)安慰與支持有類似痛苦經驗的人們
- 23 「在黃州這段時間，東坡常說『多難畏事』或『多難畏人』這樣的話。他的〈烏臺詩案〉不僅個人幾罹死罪，也牽連了家人親友的被搜捕貶謫，他的『多難畏人』，一方面是說小人的誣陷，另一方面，連那深愛的家人親友學生也寧願遠遠避開，以免連累他人。」
 依據上文，下列選項最貼近文意的是：
 (A)身在仕途受人誣陷在所難免 (B)磨難可以淬鍊心志使人堅強
 (C)失勢落魄連親友也紛紛走避 (D)處處小心避免他人連帶受累
- 24 「媽媽要送你的第一樣東西是一片葉子。每一片被你拾起的葉子都有名字，都曾隸屬於一棵也許很老也許還很年輕的樹，站在山谷或繁華的市街，有自己的形狀、顏色、香氣及生滅的習性。我希望這一片葉子提醒你內省自己的生命，從何而來將往何處去，尋覓所隸屬的那棵『樹』，身心安頓，盡情展現生命的丰采。即使只是一片葉子，也應該感謝陽光的照耀。」
 下列選項，最接近作者對孩子期許的是：
 (A)永遠保持獨立思辨的能力 (B)應感謝成長中的一切因緣
 (C)時時刻刻省思自己的生活 (D)珍惜父母生育撫養的恩情

- 25 下列詩句，何者最能表達送別友人時的不捨之情？
 (A)黃鶴一去不復返，白雲千載空悠悠
 (B)吳宮花草埋幽徑，晉代衣冠成古丘
 (C)勸君更盡一杯酒，西出陽關無故人
 (D)黃沙百戰穿金甲，不破樓蘭終不還
- 26 美麗的聲音，美麗的島，
 美麗的色彩，美麗的畫。
 讓我們解開打結的舌頭，
 讓五顏六色的母音一起畫畫。（陳黎，〈島嶼之歌——給臺灣的孩子〉）
 下列何者最符合本詩意旨？
 (A)歌頌臺灣美麗的自然風景
 (B)讚嘆臺灣豐富的畫作色彩
 (C)欣賞臺灣動人的音樂作品
 (D)頌讚臺灣多元的語言與文化
- 27 「臺灣 2016 年遭逢一個霸王寒流、兩個強颱，加上 68 年來最熱的冬至；2017 年 1 月行政院物價指數，水果漲幅領先所有食物，年增率創 11 年新高。農業學者、氣象專家與農民，將禍首指向極端氣候。尤其，當極端天氣發生在農作成長關鍵期，如抽芽、開花當週遇到寒流、暴雨，結果率大大降低，影響收成。極端氣候，對需要穩定的農業造成極端破壞。」
 下列選項何者最適合作為本文的標題？
 (A)氣候變遷影響農政規劃
 (B)氣候變遷加劇貧窮威脅
 (C)氣候變遷帶來糧食隱憂
 (D)氣候變遷改變人類飲食
- 28 「大家都見過建築工人如何利用閒暇時間為自己蓋一間小屋，應該去看看他們是怎樣挑選每塊磚頭的。所有的工作中都有類似的樂趣，因為職人總在開創與學習。然而，若是失去了對這種價值的追尋，機械式的工作只會導致無趣。當職人無法參與創造，而只能一再重複相同的工作，不能擁有他工作的成果，並且以此去學習更多的東西時，便會在社會中造成負面的能量。」
 依據上文，下列選項最接近作者旨趣的是：
 (A)建議效法建築工人為自己蓋房的精神
 (B)參與創造使職人獲得成就並精進學習
 (C)鼓勵職人持續不斷學習以創造第二春
 (D)挑磚蓋屋是缺乏樂趣與成就的機械式工作
- 29 柏拉圖說：「智者說話，因為他們有話要說；愚者說話，因為他們想說。」
 下列選項，何者最符合柏拉圖的意思？
 (A)智者企圖遠大，擅長辯解
 (B)智者取捨謹慎，言所當言
 (C)愚者見義勇為，好鳴不平
 (D)愚者心思取巧，口才便給
- 30 下列文句所表達的主題，何者與其他三者不同？
 (A)挫折歷盡，成功可期
 (B)冬天到了，春天還會遠嗎
 (C)黑夜無論怎樣漫長，白晝總會到來
 (D)失敗也是我需要的，它和成功對我一樣有價值
- 31 「『四十五分鐘以後，各位走出這裡，將會多了三項法寶去追求幸福。我想分享的是三個 A 開頭的英文字。』這樣的演講開場白是以聽眾為中心，他們會想知道三項法寶是哪三個。不要一開始就把是哪三個 A 開頭的英文字都講出來，你要忍住，尋寶是聽眾的樂趣。」這段話指出，演講的開頭應該：
 (A)了解聽眾的問題
 (B)用案例鼓舞聽眾
 (C)引發聽眾好奇心
 (D)讓聽眾覺得幽默
- 32 「『霸凌』行為之所以肆無忌憚，正因為一般人沒把它當作罪行。如果不是親身承受，很少人能理解這件事對當事人的傷害性。霸凌的『基礎』在於欠缺同理心。如果總是只看到自己，無論對親人，對朋友，『同理心』這東西是不容易存在的。」
 根據上文，下列選項何者最符合本文旨意？
 (A)若能涵養同理心，才不至於發生霸凌
 (B)霸凌不容易定罪，乃因它傷人於無形
 (C)凡事只看到自己，才能內省具同理心
 (D)同理心不易存在，起因霸凌肆無忌憚
- 33 各機關於公務尚在磋商、協調、徵詢意見階段時，多使用下列那一種公文體式？
 (A)函
 (B)書函
 (C)說帖
 (D)箋函
- 34 法務部廉政署署長獲聘為某大學法律學系兼任教職，講授「民法總則」課程每週 3 小時。署長向部長提出兼職書面報告時，署名應自稱為：
 (A)晚
 (B)職
 (C)後學
 (D)署長
- 35 依據文書處理手冊之規定，政府機關以書面答復人民之陳情或請求時，下列選項何者為正確之稱謂用語？
 (A)您
 (B)臺端
 (C)貴民
 (D)你（妳）

二、複選題（第 36 題至第 45 題，占 30 分）

說明：每題 3 分，所列的五個選項，其中至少有二個是正確答案。各題之選項獨立判定，全部答對者，得 3 分；答錯一個選項者，得 1.8 分；答錯二個選項者，得 0.6 分；所有選項均未作答或答錯多於二個選項（不含二個）者，該題以零分計算。

- 36 下列「」中的成語，使用正確的選項是：
 (A)小張做事總是「臨渴掘井」，不斷錯失良機
 (B)陳經理一上任，就「龍吟虎嘯」地進行部門改革
 (C)與其擔心經營虧損，還不如「曲突徙薪」，以免後悔
 (D)他自小就有「螳臂當車」的志向，長大後果然成就不凡
 (E)王先生為群眾服務的熱忱有目共睹，鄰里「競相效尤」

- 37 下列「」中的語詞，前後意義相同的選項是：
(A)老態「龍鍾」／涕淚「龍鍾」 (B)春意「闌珊」／燈火「闌珊」
(C)篳路「藍縷」／衣衫「藍縷」 (D)「淋漓」盡致／大汗「淋漓」
(E)「慷慨」赴義／「慷慨」解囊
- 38 下列詞語，可用於祝壽的是：
(A)熊夢徵祥 (B)鳳振高岡 (C)椿萱並茂 (D)松柏長青 (E)祥呈桃實
- 39 (孔子)嘗獨立，鯉趨而過庭。曰：「學詩乎？」對曰：「未也。」「不學詩，無以言。」鯉退而學詩。他日又獨立，鯉趨而過庭。曰：「學禮乎？」對曰：「未也。」「不學禮，無以立。」鯉退而學禮。(《論語·季氏》)
根據文意，下列敘述正確的選項是：
(A)學詩是為了有效地溝通、表達見解 (B)學禮在社會上才有立身行己的依據
(C)學禮可與眾賢鼎立，並發揮影響力 (D)學習詩禮是官場平步青雲必備條件
(E)孔鯉未熟習詩禮，而快步避開孔子
- 40 下列與動物有關的詞語，解釋正確的選項是：
(A)蚍蜉撼大樹：不自量力 (B)虎父無犬子：青出於藍
(C)黃鼠狼給雞拜年：不安好心 (D)神龍見首不見尾：尾大不掉
(E)瞎貓碰到死耗子：一拍即合
- 41 「其實最精緻最恣縱的聊天應該是讀書了，或清茶一盞邀來莊子，或花間置酒單挑李白，如果嫌古人渺遠，則不妨與辛稼軒、曹雪芹同其歌哭，如果你嚮往更相近的聲音，便不妨拉住梁啟超或胡適之來聒絮一番。如果你握一本《生活的藝術》，林語堂便是你談笑風生的韻友，而執一卷《白玉苦瓜》，足以使余光中不能不向你披肝瀝膽。尤其偉大的是你可以指定梁實秋教授做傳譯而和莎翁聊天。」
下列選項，何者符合上文意涵？
(A)書中自有黃金屋，書中自有顏如玉
(B)書卷多情似故人，晨昏憂樂每相親
(C)誦其詩、讀其書，是與古今文人為友
(D)讀一本好書，就如同和高尚的人交談
(E)對風雅友，如讀名人詩文；對謹飭友，如讀聖賢經傳
- 42 李商隱〈樂遊原〉：「向晚意不適，驅車登古原。夕陽無限好，只是近黃昏。」關於本詩，敘述正確的是：
(A)「向」指接近，與「向陽」之向，意思不同
(B)由「登」字可知樂遊原地勢較高，適合臨高眺遠
(C)作者登樂遊原的動機是應友人之邀，尋幽訪勝同覽古蹟
(D)作者面對夕陽美景，興起「美好的事物總難以長久」的惋惜
(E)起筆二句以景入題，末二句直書胸臆，表露歡愉、感傷之複雜情緒
- 43 「現在坊間也有樂齡大學或各種為老年人生活打造的社區課程，但此類學習，因資源有限，未能普及化；且空間、設備和師資不很理想，如果政府另闢一個管道，讓退休族群直接進入大學校園內學習，一舉兩得，讓大學有學生可教，也讓退休者有再學習之機會。政府以『長照 2.0』來推動老人照顧，在各個社區設置各種關懷據點，讓老年人有地方可去，但在人力限制下，無法提供老年人更好的學習空間。或者藉此可讓他們重新融入社會。」
根據上文，下列選項正確的是：
(A)社區大學不利銀髮族之發展 (B)高教與長照結合，一舉兩得
(C)樂齡大學之推動，成效顯著 (D)社區關懷據點缺乏人力財力
(E)坊間社區課程，多不如預期
- 44 「同時代人之相知，其難如此，那麼生活在古人千百年後，想了解古人，應該更難了。這又不然，要知古人行事既成陳迹，其精神狀態已成定型，再不因時會動蕩而有變易，那他表露於其詩文中的，正如水落石出一樣明顯。雖然水落石出，但能辨別那曾被沖激成的斑駁奇趣，卻要看後人的識見如何了。識見基於博學與深厚的人生體驗，是以後人看前人，往往有深淺廣狹的不同，即因各人的修養不同之故。」
符合上文旨意的選項是：
(A)對於古人今人的了解，我們都可以透過閱讀其詩文而全面掌握
(B)生命經歷的變化與學問涵養的積累，會使我們對古人的認識有深淺的不同
(C)我們雖與古人時空隔絕，卻可以透過閱讀其作品，漸次掌握他們的生命內涵
(D)今人閱讀古人同一作品，會各有不同的理解，可見閱讀並不需要判別文意的是非
(E)古人的生命精神反映於其詩文，後人只要閱讀其詩文，人人皆可完全掌握古人的精神
- 45 「很早的時候，曾問過自己，如果是花，願意是哪一種花？剛開始，總希望是最美麗的。後來，我希望是一株香氣襲人的花，香得讓人神魂顛倒。經過一段很長的時間之後，我只想不要被插在花瓶裏就可以了。後來，我感動於牽牛花強韌的生命力，竟連被扯斷在草堆裏，還能從容地迎接陽光，把「碗公」一個接一個地打開。雖然它被拘束在枯草堆中，動彈不得，但拘得了一時，豈拘得了一世？它那生命的觸鬚必定會再度伸出來，再抓住泥土，再呼吸空氣。原來，這世界對於強韌的生命力是無可奈何的。」
依據上文，下列選項敘述正確的是：
(A)「碗公」在文中指的是牽牛花 (B)作者自始至終都為牽牛花著迷
(C)牽牛花在惡劣的環境中，姿態從容 (D)強韌的生命力是牽牛花帶給作者最深的感動
(E)即使在花瓶中，牽牛花也努力綻放，展現生命力

更多鐵路考試科目的歷屆題庫
立即上網搜尋“鐵路歷屆考古題懶人包”
高鋒公職補習班整理
Line@帳號：@gaofeng
連絡電話：07-236-7296

測驗式試題標準答案

考試名稱：108年公務人員特種考試警察人員、一般警察人員考試及108年特種考試交通事業鐵路人員、退除役軍人轉任公務人員考試

類科名稱：各類科

科目名稱：國文（包括公文格式用語）（試題代號：2901）

更多鐵路考試科目的歷屆題庫

立即上網搜尋“鐵路歷屆考古題懶人包”

高鋒公職補習班整理

Line@帳號：@gaofeng

連絡電話：07-236-7296

單選題數：35題(第1~35題)

單選每題配分：2.00分

複選題數：10題(第36~45題)

複選每題配分：3.00分

標準答案：

題號	第1題	第2題	第3題	第4題	第5題	第6題	第7題	第8題	第9題	第10題
答案	C	A	A	B	B	D	B	D	B	D

題號	第11題	第12題	第13題	第14題	第15題	第16題	第17題	第18題	第19題	第20題
答案	B	D	C	A	B	C	C	C	D	A

題號	第21題	第22題	第23題	第24題	第25題	第26題	第27題	第28題	第29題	第30題
答案	A	D	D	B	C	D	C	B	B	D

題號	第31題	第32題	第33題	第34題	第35題	第36題	第37題	第38題	第39題	第40題
答案	C	A	B	B	B	AC	BC	CDE	AB	AC

題號	第41題	第42題	第43題	第44題	第45題	第46題	第47題	第48題	第49題	第50題
答案	BCD	ABD	BE	BC	ACD					

題號	第51題	第52題	第53題	第54題	第55題	第56題	第57題	第58題	第59題	第60題
答案										

題號	第61題	第62題	第63題	第64題	第65題	第66題	第67題	第68題	第69題	第70題
答案										

題號	第71題	第72題	第73題	第74題	第75題	第76題	第77題	第78題	第79題	第80題
答案										

題號	第81題	第82題	第83題	第84題	第85題	第86題	第87題	第88題	第89題	第90題
答案										

題號	第91題	第92題	第93題	第94題	第95題	第96題	第97題	第98題	第99題	第100題
答案										

備註：

測驗題標準答案更正

考試名稱：108年公務人員特種考試警察人員、一般警察人員考試及108年特種考試交通事業鐵路人員、退除役軍人轉任公務人員考試

更多鐵路考試科目的歷屆題庫
立即上網搜尋“鐵路歷屆考古題懶人包”
高鋒公職補習班整理
Line@帳號：@gaofeng
連絡電話：07-236-7296

類科名稱：各類科

科目名稱：國文（包括公文格式用語）

單選題數：35題(第1~35題) 單選每題配分：2.00分

複選題數：10題(第36~45題) 複選每題配分：3.00分

標準答案：答案標註#者，表該題有更正答案，其更正內容詳見備註。

題號	第1題	第2題	第3題	第4題	第5題	第6題	第7題	第8題	第9題	第10題
答案	C	A	A	B	B	D	B	D	B	D

題號	第11題	第12題	第13題	第14題	第15題	第16題	第17題	第18題	第19題	第20題
答案	B	D	C	A	B	C	C	C	D	A

題號	第21題	第22題	第23題	第24題	第25題	第26題	第27題	第28題	第29題	第30題
答案	A	D	D	#	C	D	C	B	B	D

題號	第31題	第32題	第33題	第34題	第35題	第36題	第37題	第38題	第39題	第40題
答案	C	A	B	B	B	AC	BC	CDE	AB	AC

題號	第41題	第42題	第43題	第44題	第45題	第46題	第47題	第48題	第49題	第50題
答案	BCD	ABD	BE	BC	ACD					

題號	第51題	第52題	第53題	第54題	第55題	第56題	第57題	第58題	第59題	第60題
答案										

題號	第61題	第62題	第63題	第64題	第65題	第66題	第67題	第68題	第69題	第70題
答案										

題號	第71題	第72題	第73題	第74題	第75題	第76題	第77題	第78題	第79題	第80題
答案										

題號	第81題	第82題	第83題	第84題	第85題	第86題	第87題	第88題	第89題	第90題
答案										

題號	第91題	第92題	第93題	第94題	第95題	第96題	第97題	第98題	第99題	第100題
答案										

備註：第24題答B或C或BC者均給分。

108年公務人員特種考試警察人員、一般警察人員考試及
108年特種考試交通事業鐵路人員、退除役軍人轉任公務人員考試試題

考試別：鐵路人員考試
等別：佐級考試
類科別：各類科
科目：公民與英文
考試時間：1小時

更多鐵路考試科目的歷屆題庫
立即上網搜尋“鐵路歷屆考古題懶人包”
高鋒公職補習班整理
Line@帳號：@gaofeng
連絡電話：07-236-7296

座號：_____

※注意：(一)本試題為單一選擇題，請選出一個正確或最適當的答案，複選作答者，該題不予計分。
(二)本科目共 50 題，每題 2 分，須用 2B 鉛筆 在試卡上依題號清楚劃記，於本試題上作答者，不予計分。
(三)禁止使用電子計算器。

- 「北韓執政的勞動黨發起超過十萬人的大遊行，大批學生通過主席臺時激動高喊『百戰百勝，效忠領袖』…」上述的群眾活動，因為不符合下列的何項特性，而不會被視為是社會運動？
(A)社會運動是具有共同意識者的集結 (B)社會運動是自發性由下而上的行動
(C)社會運動是有組織的集體行動 (D)社會運動是具有目標的行動
- 沙烏地阿拉伯因為憂心允許婦女開車會導致賣淫、同性戀、離婚比率升高，因此自 1932 年起禁止女性駕駛開車上路，違者須接受 10 下鞭刑的嚴厲懲罰。上述限制侵犯了女性的何種人權？
(A)消極人權 (B)積極人權 (C)集體人權 (D)社會人權
- 下列有關我國少年事件處理法規定之敘述，何者正確？
(A)少年事件處理法所稱少年，指 14 歲以上未滿 18 歲之人
(B)為確保審判結果公正無私，少年刑事案件均採公開審理
(C)少年前科紀錄塗銷，可以避免標籤作用、使其改過自新
(D)基於民眾知的權利，媒體報導可揭露少年刑事被告資訊
- 某學者主張：「我們之所以能享受豐盛的晚餐，並非出於屠夫、釀酒者或麵包匠的慈悲為懷，而是由於他們關切到自身的利益。因此，不必跟他們表示我們需要什麼，只要讓他們知道自身的利之所在就行了。」依上文判斷，下列針對公益與私利關係的敘述，何者最符合該學者的主張？
(A)私人利益先於公共利益，減少不必要的政府干預
(B)要求國家必須審慎訂定對多數人有利的公共政策
(C)主張私人利益必須建立在完善的公共利益基礎上
(D)公共利益如果被充分滿足，私人利益將自然實現
- 政府積極推動社會住宅政策，但民眾擔心住家附近興建社會住宅，會影響居住品質、導致房價下跌，故多存抱持反對意見，造成社會住宅進展緩慢。上述現象，凸顯公共利益推動時常面臨的何項問題？
(A)鄰避效應 (B)誘因不足 (C)共有財的悲歌 (D)「搭便車」問題
- 一位女教授參加國立大學校長遴選，代表教育部的遴選委員詢問她「女性候選人在募款方面比較吃虧」、「妳先生在北部，妳到東部來，妳的家庭怎麼辦？」等語。該教授在落選後，認為自己受到不公平的待遇而向法院提告。一審判該教授獲賠 200 萬元；二審法院則認為該案應以「國家賠償法」來請求為由，判決不賠、但可上訴。報紙據此以斗大標題寫著「女校長敗訴！」然後再寫「可求國賠」。下列何者最能用來描述上述媒體標題的報導？
(A)透過「置人性行銷」進行隱藏性歧視 (B)透過「媒體使用權」的行使促進討論
(C)透過「媒體再現」加工編輯製播新聞 (D)透過「第四權」的角色報導評論事實
- 某國政府新聞稿提到：「為落實外籍新娘生活適應輔導工作，增進其語言及生活適應能力，始能順利融入我國生活環境，與國人組織美滿家庭，避免因適應不良所衍生之各種家庭與社會問題，將落實外籍新娘生活輔導實施計畫...。」上述新聞報導隱含下列何種概念？
(A)我族中心論 (B)文化多樣性 (C)多元文化論 (D)文明進化論
- 政府基於核廢料具有輻射性的考量，對其存放地點往往選擇遠離人口眾多的都會區，以避免造成社會大眾的反對與恐慌，但卻因此犧牲偏遠地區的少數居民權益。依上所述判斷，政府對核廢料存放地點的考量，較符合下列何種學說的主張？
(A)效益主義 (B)正義論 (C)社會主義 (D)社群論
- 小陳失手撞破玻璃杯而割傷老王的手，老王欲對小陳提告。後經好友相勸，兩人達成協議，由小陳支付老王醫藥費，而老王則不提告。上述小陳與老王解決紛爭的方式，屬下列何者？
(A)訴訟上的調解 (B)仲裁 (C)訴訟外的和解 (D)訴訟上的和解
- 公務員懲戒委員會對某公務員作出休職兩年的處分，是要該公務員負起下列何種責任？
(A)行政責任 (B)刑事責任 (C)政治責任 (D)民事責任

- 11 每逢選舉競選期間，許多公務機關都會在門口張貼「謝絕政黨、公職候選人及其支持者進入辦公場所從事競選相關活動」，這種作法最主要是為了落實下列何項概念？
(A)分權制衡 (B)社會正義 (C)行政中立 (D)誠信原則
- 12 高雄市議會制定《高雄市零售市場管理自治條例》，規範市場營業等事項。依上所述，下列何者正確？
(A)高雄市議會三讀通過該條例後須提交立法院追認才可實施
(B)地方政府可訂立法規管理公有市場是「地方自治」的落實
(C)高雄市列為直轄市層級，因此並不屬於地方自治團體
(D)「省」雖已虛級化，但高雄市自治事項仍受省政府監督
- 13 下列何者屬於自由主義政治意識型態的主張？
(A)政府應控制物價、失業問題，使人民能安居樂業
(B)政府應保障個人基本權利，防止國家過度介入個人生活
(C)主張國家利益的維護，是積極保障個人自由之基礎
(D)政府應重視弱勢族群照顧，維持資源分配之公平正義
- 14 英國為君主立憲的「內閣制」國家，下列關於英國政府體制的敘述，何者正確？
(A)英國女王為虛位元首，對外代表國家
(B)英國女王可直接任命首相，無須國會同意
(C)國會議員由人民選舉產生，但議員不可以兼任內閣閣員
(D)行政權與立法權分立，首相與國會議員分別對人民負責
- 15 「總統制」國家以美國為代表，美國總統由人民選舉產生，為國家最高領導人。下列關於美國「總統制」的敘述何者正確？
(A)行政與立法分權，分別代表民意並對人民負責
(B)總統公布法律及命令，須經總理及部會首長副署
(C)立法權監督行政權，總統須至國會報告並且接受質詢
(D)部會首長由國會議員兼任，政府穩定且政策較為持續
- 16 依民法規定，物分為動產與不動產。不動產分為土地及定著物，而動產則為所稱不動產以外之物。下列何種屬於動產？
(A)橫跨高屏溪的斜張橋 (B)掛在蘋果樹上之蘋果
(C)頂樓加蓋的違章建築 (D)工地施工時工人休息用的貨櫃屋
- 17 同學們在課堂中討論「政府的功能與角色」，以下四項發言中，何者發言的內容與自由主義的理念最接近？
(A)國家推動全民健保，並強制每個人都要加入此一保險
(B)稻米生產過剩導致價格暴跌，政府高價收購保障農民
(C)要求公共場所設置無障礙空間，方便身心障礙者通行
(D)公營事業民營化以提高經濟效率，減少政府財政負擔
- 18 依現行刑法規定，下列何者為從刑？
(A)沒收 (B)抵償 (C)褫奪公權 (D)追繳
- 19 假設有民眾質疑死刑執行過於迅速、草率，主管機關官員面對質疑時指出「一切皆依據法律，外界不須多作揣測」，該名官員應屬於下列何機關？
(A)最高法院 (B)司法院 (C)法務部 (D)高等行政法院
- 20 關於「刑罰」的敘述，依現行法律規定，下列何者錯誤？
(A)主刑可單獨存在，不一定要搭配從刑 (B)罰金為財產刑，屬主刑的一種
(C)遭褫奪公權者，仍具有投票權 (D)沒收，必須依附主刑始可宣告
- 21 阿勇為籌辦婚禮做了下列許多準備：①親赴知名餅店購買喜餅一批，②商請退休多年的鄰居王太太製作手工喜糖，③去某酒店訂 20 桌喜宴，④並請成立個人攝影工作室的阿國拍婚紗照。上述行為，那些適用消費者保護法？
(A)①②③④ (B)②③④ (C)①③④ (D)①②③
- 22 2015 年韓國憲法法院判決，該國對通姦者的刑事處罰違反憲法，其理由為「就算通姦是應該受到譴責的不道德行為，國家權力不應該干涉個人的私生活。」韓國憲法法院的主張最接近下列何項觀點？
(A)罪刑法定主義 (B)特別預防理論 (C)應報理論 (D)刑法謙抑思想
- 23 鄭男某日開車行經某交叉路口時，被員警逕行舉發「左轉彎未先駛入內側車道」及「拒絕接受稽查」兩項違規，罰鍰 700 元、3300 元，經交通裁決所裁決後仍不服，因而決定提撤銷裁罰的請求。依上所述判斷，鄭男應向下列何者提出？
(A)高等行政法院 (B)地方法院民事庭 (C)地方法院刑事庭 (D)地方法院行政訴訟庭

- 24 一名少女和親友們在機場搭乘班機前往日本旅遊前，一句「行李有炸彈」的玩笑話嚇壞眾人，後經鑑識人員檢查行李發現是虛驚一場，但機場航警仍依法將少女留置並通知父母陪同偵訊，少女的日本行因此泡湯。依我國現行法令規定，下列敘述何者正確？
(A)航警依法留置少女，限制少女的人身自由，符合法律保留原則
(B)航警的處置導致少女日本行泡湯，少女可向政府提出國家賠償
(C)個人濫用言論自由會妨礙社會發展，故言論自由應接受國家事前審查
(D)玩笑話亦屬言論自由，且證實沒有炸彈，航警沒有正當理由留置少女
- 25 男子甲因喝醉酒不慎打破酒瓶，被碎玻璃割傷，後來送到急診室縫合傷口時，認為醫師口氣不佳、且縫合技術太差使其疼痛，便對醫師拳打腳踢，導致該名醫師身上多處瘀傷與撕裂傷，且有輕微腦震盪。網友得知此事後氣憤不已，便進行人肉搜索找出甲的住址及職業，並公開於網站上。上述案例若依相關法令判斷，下列敘述何者正確？
(A)甲毆打醫師的行為引起社會普遍關注，因此無法私下和解
(B)普通傷害罪為告訴乃論，該名醫師可決定是否對甲提出告訴
(C)基於契約自由原則，醫療院所可以拒絕為酒醉病患提供診療服務
(D)網友公開甲住家地址，可能會侵害甲的秘密通訊自由
- 26 報載：某殯葬業者將歇業旅館的房間改裝成靈堂，但仍保留旅館外觀樣貌。市府在民眾蒐證舉發後，認定業者未申請經營屬實，且該設備屬違建，乃依法開罰 30 萬元，並限期自行拆除違建。若政府在未到期限前，即派人到場強制拆除，則可能違背下列那一項行政原則？
(A)比例原則 (B)誠實信用原則 (C)法律保留原則 (D)法律優位原則
- 27 憲法第 130 條規定：「中華民國國民年滿二十歲者，有依法選舉之權。」某一民間團體持續推動青少年參與政治的行動，提倡將投票年齡下修至 18 歲。若立法院擬修正投票年齡，下列相關敘述何者正確？
(A)需先完成憲法修正後才能修改投票年齡
(B)該案議決通過需經出席立法委員三分之二同意
(C)提案後需送交立法院的審查委員會來排定議程
(D)立法院三讀通過後送交總統公布即可生效施行
- 28 家住臺南的大雄想利用春假到日本關西賞櫻，因此必須要兌換日幣。倘若最近日幣兌換臺幣是呈現升值的趨勢，在其他條件不變的情形，下列敘述何者正確？
(A)大雄應該儘早去換日幣以免變貴 (B)日幣升值對赴日旅遊者較為有利
(C)臺灣出口至日本的商品會變較貴 (D)日幣升值對日本出口業者較有利
- 29 在臺灣的街道常見嚼食檳榔者亂吐檳榔汁破壞市容，而研究報告也指出嚼食檳榔容易導致口腔癌，政府對此多次研擬提出解決方案，但往往因為面臨業者與民代的壓力而作罷。上述內容主要凸顯下列何種經濟學的現象？
(A)供需失衡 (B)政府失靈 (C)資訊不對稱 (D)公共財悲歌
- 30 臺南強震導致房屋倒塌，政府為協助災民生活重回正軌，要求各單位全力投入災區重建。若僅根據上述判斷，在不考慮其他條件情況下，臺南的建材市場將如何變動？
(A)均衡價格下降，均衡數量增加 (B)均衡價格下降，均衡數量減少
(C)均衡價格上升，均衡數量增加 (D)均衡價格上升，均衡數量減少
- 31 我國自加入世界貿易組織後，許多農產品皆受到消除貿易障礙之衝擊，然而紅豆則被列為敏感作物，可設有進口配額的保護。假設在自由貿易時我國為紅豆之進口國，與自由貿易且不設關稅與不考慮運輸成本的情況相比較，設定進口配額的做法對我國紅豆市場有何影響？
(A)消費者剩餘會減少 (B)生產者剩餘維持不變 (C)經濟福祉增加 (D)紅豆的進口量會增加
- 32 老張在學校附近租了一間店面開麵館，他從大賣場添購桌椅，老張的兒子小張也會在放學後到麵館幫忙賣麵，老張每三個月會調整麵館菜色以吸引客人。若從生產要素來看，下列敘述何者正確？
(A)老張所租用的店面，屬於勞動 (B)老張從賣場購買的桌椅，屬於資本
(C)小張放學幫忙父親賣麵，屬於企業才能 (D)老張調整麵館菜色，屬於勞動
- 33 若甲國出口電腦到乙國，在不考慮運費、關稅、匯率等問題時，根據國際貿易的原理，下列有關甲國的敘述何者正確？
(A)消費者剩餘減少，生產者剩餘不變，導致總剩餘減少
(B)生產者剩餘減少，消費者剩餘不變，導致總剩餘減少
(C)消費者剩餘增加超過生產者剩餘減少的部分，導致總剩餘增加
(D)生產者剩餘增加超過消費者剩餘減少的部分，導致總剩餘增加
- 34 臺灣近年發生多起船舶擱淺事件，導致海洋重大污染也影響海洋生態。政府未來擬提高污染船舶罰鍰，嚴懲其行為。依上所述判斷，政府是採取下列何種方法來解決此外部性行為？
(A)解決資訊不對稱 (B)界定財產權 (C)直接管制 (D)課稅
- 35 若以勞動人口的定義來看，下列何者屬於勞動人口？
(A)大專校園內的教官 (B)正在放無薪假的作業員
(C)片酬高達 100 萬的 13 歲天才演員 (D)在高中兼課的博士生

- 36 A group of Russian hackers has _____ 1.2 billion username and password combinations from Internet users since 2011.
(A) gathered (B) impacted (C) fastened (D) caught
- 37 Thai people _____ the New Year with a water festival during which they throw water at each other all day.
(A) skip (B) apply (C) escape (D) celebrate
- 38 Our teacher keeps telling us that using _____ can help us understand the meaning and usage of unknown words.
(A) dictionaries (B) messages (C) telegraphs (D) menus
- 39 Joanne did not finish her office work today because she worked too _____.
(A) chiefly (B) speedily (C) rapidly (D) slowly
- 40 Beethoven is regarded as a _____ musician. His classical masterpieces have been highly admired by his fans all over the world.
(A) conservative (B) invaluable (C) legitimate (D) prestigious

請依下文回答第 41 題至第 45 題：

Don't be alarmed if fellow passengers start stripping off after boarding a metro train in Taipei. Chances are they think they've found a swimming pool inside 41. To celebrate being the host city of Universiade 2017--the Olympics for international university athletes--the Taiwanese capital has transformed a six-car train into six different sports 42 --a running track, a soccer pitch, a baseball field, a basketball pitch, a field for throwing sports and a swimming pool. And the eye-popping 3D artworks have inspired 43 commuters to dive in. "We hope to bring sports 44 to their daily life," says a spokesperson for the city's Department of Information and Tourism. It is a fun 45 to raise awareness about sport in general among Taiwanese and get the public to get involved in the games.

- 41 (A) the transit (B) the camp (C) the carriage (D) the chamber
42 (A) venues (B) tools (C) comission (D) diplomacy
43 (A) few (B) a few (C) little (D) a little
44 (A) open (B) opposed (C) wider (D) closer
45 (A) campaign (B) exercise (C) market (D) practice

請依下文回答第 46 題至第 50 題：

Summer Camp Schedule

LAZY MONDAY
Watch a movie, play in the yard, play with blocks, color, or read.
Just do something easy and relax.

TAKE A TRIP TUESDAY
Visit a museum. Take a trip to the zoo. Walk to the park.
Just go.

WHAT'S COOKING WEDNESDAY
Cook something together. Let's have fun in the kitchen.

TRY A CRAFT THURSDAY
Try a new fun craft idea. Make play-dough. Finger paint.
The options are endless.

FUN FRIDAY
Do something fun!

- 46 Where can we most likely see this schedule ?
(A) In a bakery. (B) In a museum. (C) In a kids' school. (D) In a concert hall.
- 47 What is this notice about ?
(A) What to do in the camp. (B) What to study at school.
(C) How to design kids' schedule. (D) How to teach your kids.
- 48 On which day can kids prepare food together in the kitchen ?
(A) Monday. (B) Wednesday. (C) Thursday. (D) Friday.
- 49 If you want to read a storybook, which day is the best ?
(A) Monday. (B) Tuesday. (C) Wednesday. (D) Thursday.
- 50 Which of the following statements is true about this notice ?
(A) Children learn math and science in this camp.
(B) Children are free to do whatever they want every day.
(C) Child language development is emphasized in this program.
(D) Children visit somewhere outside the camp every week.

測驗式試題標準答案

考試名稱：108年公務人員特種考試警察人員、一般警察人員考試及108年特種考試交通事業鐵路人員、退除役軍人轉任公務人員考試

類科名稱：各類科

科目名稱：公民與英文（試題代號：1901）

更多鐵路考試科目的歷屆題庫
立即上網搜尋“鐵路歷屆考古題懶人包”
高鋒公職補習班整理
Line@帳號：@gaofeng
連絡電話：07-236-7296

單選題數：50題

單選每題配分：2.00分

複選題數：

複選每題配分：

標準答案：

題號	第1題	第2題	第3題	第4題	第5題	第6題	第7題	第8題	第9題	第10題
答案	B	A	C	A	A	C	A	A	C	A

題號	第11題	第12題	第13題	第14題	第15題	第16題	第17題	第18題	第19題	第20題
答案	C	B	B	A	A	D	D	C	C	D

題號	第21題	第22題	第23題	第24題	第25題	第26題	第27題	第28題	第29題	第30題
答案	C	D	D	A	B	B	A	A	B	C

題號	第31題	第32題	第33題	第34題	第35題	第36題	第37題	第38題	第39題	第40題
答案	A	B	D	C	B	A	D	A	D	D

題號	第41題	第42題	第43題	第44題	第45題	第46題	第47題	第48題	第49題	第50題
答案	C	A	B	D	A	C	A	B	A	D

題號	第51題	第52題	第53題	第54題	第55題	第56題	第57題	第58題	第59題	第60題
答案										

題號	第61題	第62題	第63題	第64題	第65題	第66題	第67題	第68題	第69題	第70題
答案										

題號	第71題	第72題	第73題	第74題	第75題	第76題	第77題	第78題	第79題	第80題
答案										

題號	第81題	第82題	第83題	第84題	第85題	第86題	第87題	第88題	第89題	第90題
答案										

題號	第91題	第92題	第93題	第94題	第95題	第96題	第97題	第98題	第99題	第100題
答案										

備註：

108年公務人員特種考試警察人員、一般警察人員考試及
108年特種考試交通事業鐵路人員、退除役軍人轉任公務人員考試試題

考試別：鐵路人員考試
等別：佐級考試
類科別：運輸營業
科目：企業管理大意
考試時間：1小時

更多鐵路考試科目的歷屆題庫
立即上網搜尋“鐵路歷屆考古題懶人包”
高鋒公職補習班整理
Line@帳號：@gaofeng
連絡電話：07-236-7296

座號：_____

※注意：(一)本試題為單一選擇題，請選出一個正確或最適當的答案，複選作答者，該題不予計分。
(二)本科目共50題，每題2分，須用2B鉛筆在試卡上依題號清楚劃記，於本試題上作答者，不予計分。
(三)禁止使用電子計算器。

- 亞當·斯密（Adam Smith）所出版的「國富論」中，認為企業與社會能夠獲得經濟利益的原因是：
(A)代工 (B)分工 (C)代理 (D)分析
- 很多藝人都會有經紀人幫忙處理大小事務。請問在明茲伯格（Mintzberg）管理角色分類中，經紀人的角色與任務較不屬於以下那一項？
(A)發言人 (B)危機處理者 (C)聯絡人 (D)收穫者
- 一個良好目標的特徵，不包含以下那一項：
(A)可形諸文字的結果 (B)可以測量或是量化
(C)只有少數人知道要怎麼做 (D)能夠與報酬系統相連結
- 小明是個樂觀的人，不論遇到什麼困難都會樂觀思考所有的可能性，所以小明經常會選最好結果的方案或替代方式。在這樣的論點下，小明是一個什麼樣的決策者：
(A)極小極大遺憾準則的決策者（minimax regret criterion）
(B)極大極大準則的決策者（maximax criterion）
(C)極大極小準則的決策者（maximin criterion）
(D)極小極小準則的決策者（minimini criterion）
- 在沒有智慧型手機的年代，會發現若是等公車時，公車一直都不來，但此時會有坐計程車不甘願、要繼續等下去又不想的感覺。請問這樣的感受是什麼樣的原因造成：
(A)月暈效果 (B)選擇性知覺 (C)資訊扭曲 (D)沉沒成本
- 協助企業分析外在環境條件，以及企業本身所有的長處跟不足，藉由一套工具分析後能讓企業訂出適合的策略。請問這套工具是什麼？
(A)集中策略 (B)SWOT (C)長期計畫 (D)科學管理
- 何謂有限理性（Bounded Rationality）：
(A)以客觀與合乎邏輯的科學方法來尋求最佳解 (B)受限於個人處理資訊的能力，決策通常是滿意解
(C)在有證據的前提下，會不斷增加承諾來做決策 (D)用潛意識或是感覺來做決策
- 李先生最喜歡的工作是，可以準時上下班，定時領到薪水，並且不希望有太多額外的加班，只求能穩定做到退休就好。李先生可以說是那一類型的員工？
(A) C 理論 (B) X 理論 (C) Y 理論 (D) Z 理論
- 關於 BCG 矩陣觀點，下列敘述何者正確？
(A)明星（Star）是指事業成長率高，市占率也高，相對於競爭對手擁有較大的銷售與收入
(B)金牛（Cash Cow）是指事業成長率高，市占率亦高於競爭對手，且會需要大量資源的投入
(C)問號市場（Question Market）是指事業成長率高，且在市占率上也是明顯的增加，會讓企業將心力投注在此市場
(D)落水狗（Dog）是指事業成長率低，但市占率卻相對很高，能讓企業在這樣的市場中維持一定的營收

- 10 五力分析是一個用來分析市場環境相當好的工具。請問下列的組合那一個均屬於五力分析的分析要素：
- (A)供應商、顧客、企業集團 (B)現有競爭者、潛在進入者、文化
(C)替代品、相關支援單位、潛在進入者 (D)產業領導者、顧客、供應商
- 11 在工作場所，要有空調，要提供飲水機，大樓內要有電梯，當然要提供合理的薪資。請問上述條件對於員工來說是什麼樣的激勵因子：
- (A)自我實現 (self-actualization) (B)公平 (equity)
(C)保健因子 (hygiene factor) (D)激勵因子 (motivators)
- 12 「男主外、女主內」，請問這句話犯了什麼決策的偏誤：
- (A)群體盲思 (groupthink) (B)刻板印象 (stereotypes)
(C)對比效果 (contrast effects) (D)投射效果 (projection effects)
- 13 高度整合的全球化策略 (global strategy)，最主要特色是：
- (A)產品標準化 (B)滿足各國顧客獨特需求 (C)客製化的行銷策略 (D)因地制宜的產品策略
- 14 現在生活十分方便，透過手機可以訂餐、可以付款；以前寄信，後來可以傳 email，也可以經過通訊軟體直接連絡到對方；就算是想看書，也有許多的電子書可以直接在平板電腦上看。這樣的改變對於企業來說，最屬於那種環境條件：
- (A)人口統計變數環境 (B)變革環境 (C)科技環境 (D)管理環境
- 15 麥可·波特 (Michael Porter) 曾提出，企業若是策略運用不當，將會產生「困在其中」 (stuck in the middle) 的情況。請問以下那個敘述能用來說明困在其中的原因？
- (A)企業將所有資源集中在規模經濟與大量生產
(B)企業的目標是要讓產品能夠有獨特性與差異化
(C)企業的目標是同時要大量生產也要每個產品都要有差異化
(D)企業的想法是抓住既有市場永續經營
- 16 泰勒 (F. W. Taylor) 的科學管理論點，核心是要說明那個觀點？
- (A)一般化的管理方式 (B)高壓的管理方式 (C)知識控管的管理方式 (D)追求效率的管理方式
- 17 霍桑效應 (Hawthorne Effect) 在管理上最重要的意義是什麼？
- (A)人會因為受到關注與重視而改變行為 (B)人會喜歡跟別人合作
(C)人會喜歡自己獨立作業 (D)人會因為命令才願意努力工作
- 18 何謂長尾效應 (The Long Tail Effect) ？
- (A)強調企業只需要單一強項的產品就足夠 (B)強調大利潤、大市場
(C)強調小利潤、大市場 (D)強調資源應該集中在重點產品
- 19 在不考慮手續費、不使用融資等情況下，在臺灣股票市場上一支股票的股價為 97 元，表示要用多少錢才能買進一張現股？
- (A)\$97,000 (B)\$970,000 (C)\$97 (D)\$9,700
- 20 何謂金字塔底端的財富 (The fortune at the bottom of the pyramid) ？
- (A)這些群體能帶給企業一些蠅頭小利
(B)能夠從中創新出全新的技術
(C)應該將所有企業的資源與心力放在底層的消費市場
(D)即使按照所得與收入被歸類在低所得，但這樣的群體依然蘊涵著潛在的獲利機會

- 21 規劃的五大步驟為：
- (A)建立目標→分析情境→決定可行的方案→評估方案→選擇並執行
(B)決定可行的方案→分析情境→建立目標→評估方案→選擇並執行
(C)評估方案→決定可行的方案→分析情境→建立目標→選擇並執行
(D)建立目標→決定可行的方案→分析情境→選擇並執行→評估方案
- 22 大聯盟球隊在過去幾年陸續將數據分析方式導入球賽中。舉凡投打之間的球路分析、打者習性等，將各種數據運用在複雜卻又詳細的系統分析裡，只要是能贏球的方式或戰術全部都可以用。這樣的論點是屬於那個管理學派：
- (A)管理科學學派 (B)系統學派 (C)科學管理學派 (D)組織行為學派
- 23 比利在外面跑業務時，他能在一定的權限內自由決定可以給客戶什麼樣的優惠與折扣，而不需要呈報主管許可。請問這樣的行為稱為：
- (A)授權 (B)直接管理 (C)權力整合 (D)集權
- 24 平衡計分卡 (balanced score card) 的四個構面分別是什麼？
- (A)財務、顧客、股東、學習與成長 (B)財務、供應商、政府、企業資源
(C)企業資源、供應商、顧客、競爭者 (D)財務、顧客、企業內部流程、學習與成長
- 25 公司讓小莉除了原有的工作外，開始也讓她參與決策的規劃以及控制最終的成果。請問這樣的工作設計稱為：
- (A)工作輪調 (B)工作擴大化 (C)工作豐富化 (D)工作正式化
- 26 高階管理者的各項技能中，相對比較不重要的是：
- (A)設定公司策略方向 (B)人際技能 (C)專業技術 (D)概念化能力
- 27 企業進行倫理相關決策時，考量大多數人的利益，是屬於何種原則？
- (A)功利原則 (B)道德權力原則 (C)正義原則 (D)務實原則
- 28 泰勒的科學管理理論，不包括：
- (A)動作科學化原則 (B)職責劃分原則 (C)科學選用原則 (D)工作滿意原則
- 29 資源基礎觀點 (resource-based view) 判斷資源是否可以成為競爭優勢來源。該原則不包括以下那項準則？
- (A)稀少的 (B)難以模仿的 (C)可在市場交易的 (D)難以替代的
- 30 目標管理 (management by objective) 不包括以下那一項特質？
- (A)參與式決策 (B)明訂目標期限 (C)有機式組織結構 (D)績效回饋
- 31 企業進行五力分析的主要目的是評估：
- (A)競爭者的資源 (B)競爭者的策略方向 (C)企業本身的資源 (D)企業的獲利能力
- 32 垂直整合 (vertical integration) 的經營模式，主要缺點是：
- (A)效率變差 (B)因應環境變化能力變差 (C)無法形成差異化 (D)成本變高
- 33 下列何者會降低管理幅度 (span of control) ？
- (A)標準化程度高 (B)技術複雜程度高 (C)員工經驗多 (D)主管能力強
- 34 矩陣式組織的優點包括：
- (A)指揮統一 (B)權責清楚 (C)多面向考量 (D)協調容易

- 35 根據費德勒（Fiedler）的領導權變模式，有利於領導的情境不包括以下那一項？
(A)領導者與下屬關係良好 (B)下屬的任務明確
(C)下屬的經驗豐富 (D)領導者有獎懲下屬的權力
- 36 根據馬斯洛（Maslow）的需求層級理論，以下那一項的需求層級最高？
(A)升遷 (B)歸屬感 (C)福利 (D)退休金
- 37 任務編組（task force）的團隊，不包括那項特色？
(A)臨時安排 (B)跨部門 (C)低控制幅度 (D)解決問題導向
- 38 可以增加團隊凝聚力的因素有：
(A)團隊內競爭 (B)團隊規模變大 (C)團隊成員多元化 (D)團隊間競爭
- 39 下列何者不是企業控制功能的目的？
(A)因應環境變化 (B)提高控制幅度 (C)提供績效評估依據 (D)確保目標達成
- 40 下列何者是行為控制（behavioral control）的機制？
(A)制定規則與程序 (B)強調價值觀 (C)強調員工態度 (D)落實企業文化
- 41 平衡計分卡屬於下列那一種管理工具？
(A)組織工具 (B)領導工具 (C)控制工具 (D)協調工具
- 42 以經營一家餐廳為例，以下那一項屬於效率（efficiency）的提升？
(A)提升顧客滿意度 (B)讓食物更好吃 (C)降低人力成本 (D)提高餐廳知名度
- 43 在國際市場上，與夥伴共同成立一家獨立公司的做法稱為：
(A)授權 (B)加盟 (C)契約管理 (D)合資
- 44 以併購同業取得大幅成長的策略是：
(A)多角化 (B)水平整合 (C)集中化 (D)垂直整合
- 45 組織公民行為（organizational citizenship behavior）是一種組織規範，不包括那一種行為？
(A)避免不必要爭端 (B)自願分擔分外工作 (C)強調一致性行為 (D)提出建設性建議
- 46 以電子郵件作為溝通工具有何種特色？
(A)高機密性 (B)高編碼簡易性 (C)高正式性 (D)高廣度可能性
- 47 下列何者最不屬於重要的創業家人格特質？
(A)堅強的毅力 (B)技術導向 (C)學習與創新意願 (D)顧客導向
- 48 在個人傾向（individualism）高的社會中，具有什麼特色？
(A)強調年資 (B)團體和諧
(C)強調團體精神 (D)強調個人價值與報酬的對等
- 49 下列那種情況最不适合採取獨資方式進入國際市場？
(A)市場重要性高 (B)國家體制環境健全 (C)文化差異很大 (D)道德風險低
- 50 以量化指標做為主要績效考核依據時，可以稱為：
(A)特質考核 (B)客觀考核 (C)主觀考核 (D)行為考核

測驗式試題標準答案

考試名稱：108年公務人員特種考試警察人員、一般警察人員考試及108年特種考試交通事業鐵路人員、退除役軍人轉任公務人員考試

類科名稱：運輸營業

科目名稱：企業管理大意（試題代號：3903）

更多鐵路考試科目的歷屆題庫
立即上網搜尋“鐵路歷屆考古題懶人包”
高鋒公職補習班整理
Line@帳號：@gaofeng
連絡電話：07-236-7296

單選題數：50題

單選每題配分：2.00分

複選題數：

複選每題配分：

標準答案：

題號	第1題	第2題	第3題	第4題	第5題	第6題	第7題	第8題	第9題	第10題
答案	B	D	C	B	D	B	B	B	A	C

題號	第11題	第12題	第13題	第14題	第15題	第16題	第17題	第18題	第19題	第20題
答案	C	B	A	C	C	D	A	C	A	D

題號	第21題	第22題	第23題	第24題	第25題	第26題	第27題	第28題	第29題	第30題
答案	A	A	A	D	C	C	A	D	C	C

題號	第31題	第32題	第33題	第34題	第35題	第36題	第37題	第38題	第39題	第40題
答案	D	B	B	C	C	A	C	D	B	A

題號	第41題	第42題	第43題	第44題	第45題	第46題	第47題	第48題	第49題	第50題
答案	C	C	D	B	C	D	B	D	C	B

題號	第51題	第52題	第53題	第54題	第55題	第56題	第57題	第58題	第59題	第60題
答案										

題號	第61題	第62題	第63題	第64題	第65題	第66題	第67題	第68題	第69題	第70題
答案										

題號	第71題	第72題	第73題	第74題	第75題	第76題	第77題	第78題	第79題	第80題
答案										

題號	第81題	第82題	第83題	第84題	第85題	第86題	第87題	第88題	第89題	第90題
答案										

題號	第91題	第92題	第93題	第94題	第95題	第96題	第97題	第98題	第99題	第100題
答案										

備註：

測驗題標準答案更正

考試名稱：108年公務人員特種考試警察人員、一般警察人員考試及108年特種考試交通事業鐵路人員、退除役軍人轉任公務人員考試

更多鐵路考試科目的歷屆題庫
立即上網搜尋“鐵路歷屆考古題懶人包”
高鋒公職補習班整理
Line@帳號：@gaofeng
連絡電話：07-236-7296

類科名稱：運輸營業

科目名稱：企業管理大意

單選題數：50題

單選每題配分：2.00分

複選題數：

複選每題配分：

標準答案：答案標註#者，表該題有更正答案，其更正內容詳見備註。

題號	第1題	第2題	第3題	第4題	第5題	第6題	第7題	第8題	第9題	第10題
答案	B	D	C	B	D	B	B	B	A	#

題號	第11題	第12題	第13題	第14題	第15題	第16題	第17題	第18題	第19題	第20題
答案	C	B	A	C	C	D	A	C	A	D

題號	第21題	第22題	第23題	第24題	第25題	第26題	第27題	第28題	第29題	第30題
答案	A	A	A	D	C	C	A	D	C	C

題號	第31題	第32題	第33題	第34題	第35題	第36題	第37題	第38題	第39題	第40題
答案	D	B	B	C	C	A	C	D	B	A

題號	第41題	第42題	第43題	第44題	第45題	第46題	第47題	第48題	第49題	第50題
答案	C	C	D	B	C	#	B	D	C	B

題號	第51題	第52題	第53題	第54題	第55題	第56題	第57題	第58題	第59題	第60題
答案										

題號	第61題	第62題	第63題	第64題	第65題	第66題	第67題	第68題	第69題	第70題
答案										

題號	第71題	第72題	第73題	第74題	第75題	第76題	第77題	第78題	第79題	第80題
答案										

題號	第81題	第82題	第83題	第84題	第85題	第86題	第87題	第88題	第89題	第90題
答案										

題號	第91題	第92題	第93題	第94題	第95題	第96題	第97題	第98題	第99題	第100題
答案										

備註：第10題一律給分，第46題答A或B或C或D者均給分。

108年公務人員特種考試警察人員、一般警察人員考試及
108年特種考試交通事業鐵路人員、退除役軍人轉任公務人員考試試題

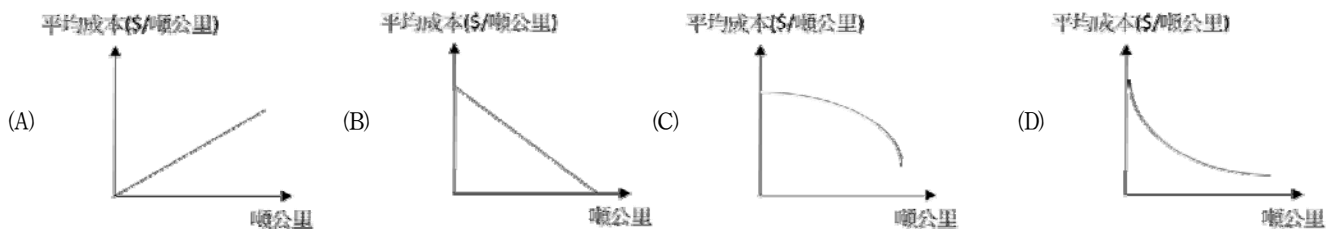
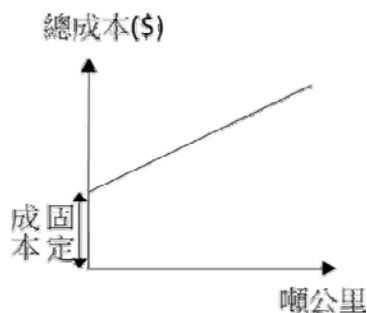
考試別：鐵路人員考試
等別：佐級考試
類科別：運輸營業、場站調車
科目：鐵路運輸學大意
考試時間：1小時

更多鐵路考試科目的歷屆題庫
立即上網搜尋“鐵路歷屆考古題懶人包”
高鋒公職補習班整理
Line@帳號：@gaofeng
連絡電話：07-236-7296

座號：_____

※注意：(一)本試題為單一選擇題，請選出一個正確或最適當的答案，複選作答者，該題不予計分。
(二)本科目共 50 題，每題 2 分，須用 2B 鉛筆在試卡上依題號清楚劃記，於本試題上作答者，不予計分。
(三)禁止使用電子計算器。

- 1 某年某捷運系統每發生一件 5 分鐘以上行車延誤事件之平均行駛車廂公里數（一般稱為 MKBF）為 500 萬車廂公里，若該系統的列車公里數（train-km）為 2,000 萬，每列車有 6 車廂，則該年約出現幾次 5 分鐘以上行車延誤事件？
(A) 32 (B) 28 (C) 24 (D) 20
- 2 臺北捷運高運量電聯車的最大設計爬坡為：
(A) 12% (B) 9% (C) 6% (D) 3%
- 3 鐵路為許多機場的重要聯外運具之一，請問下列何者並無鐵路連結？
(A)桃園國際機場 (B)臺北松山機場 (C)高雄國際機場 (D)臺中國際機場
- 4 根據鐵路行車規則，列車應預知進路上有列車或車輛，得越過號誌之顯示處所進行，係指何種號誌？
(A)引導號誌 (B)平安號誌 (C)預告號誌 (D)慢行號誌
- 5 根據鐵路行車規則，固定號誌機分為主號誌機、從屬號誌機及號誌附屬機三種。下列何者為主號誌機？
(A)遠距號誌機 (B)進站號誌機 (C)號誌預告機 (D)通過號誌機
- 6 若鐵路營運的總成本函數如圖，則平均成本函數圖應為：



- 7 臺灣高鐵列車是使用何種系統？
(A)日本新幹線系統 (B)德國 ICE 系統 (C)法國 TGV 系統 (D)中國大陸 CRH 系統
- 8 根據鐵路行車規則，嚴重遲延，指列車時刻表所訂列車於任一站之出發或到達時刻，較表訂時刻延誤達多久之情事？
(A) 30 分鐘以上 (B) 1 小時以上 (C) 2 小時以上 (D) 3 小時以上
- 9 根據鐵路行車規則，下列何者為一般行車事故？
(A)列車或車輛溜逸 (B)正線出軌事故 (C)平交道事故 (D)違反閉塞運轉

- 10 交通部高速鐵路工程局與鐵路改建工程局於 107 年 6 月 11 日整併為：
(A)鐵道局 (B)軌道局 (C)軌道工程局 (D)鐵路局
- 11 區域鐵路可做為城際高速鐵路的接駁運具，請問下列何者並無臺鐵接駁服務？
(A)高鐵桃園站 (B)高鐵新竹站 (C)高鐵臺中站 (D)高鐵臺南站
- 12 臺鐵 6432 次普悠瑪自強號於 107 年 10 月 21 日發生重大事故，根據行政院調查小組的報告，事故原因不包括何者？
(A)組織 (B)設備 (C)程序 (D)天候
- 13 鐵路法所指高速鐵路係列車營運速度達每小時 200 公里以上之鐵路，而臺灣高鐵正線線形設計速度為：
(A) 250 公里/小時 (B) 300 公里/小時 (C) 350 公里/小時 (D) 400 公里/小時
- 14 截至 106 年底，臺鐵營業里程為 1,065 公里，其中以下列何者的里程數最高？
(A)雙線電氣化 (B)單線電氣化 (C)雙線非電氣化 (D)單線非電氣化
- 15 臺鐵辦理的多卡通電子票證服務範圍為：
(A)僅新竹以北的主線及支線各站 (B)僅彰化以北的主線及支線各站
(C)僅西部走廊車站 (D)環島全線及支線各站
- 16 根據 107 年臺灣高鐵各站的進出旅客人數，前四名車站為：
(A)臺北、臺中、左營、板橋 (B)臺北、臺中、左營、桃園
(C)臺北、臺中、板橋、新竹 (D)臺北、左營、桃園、新竹
- 17 關於臺灣高鐵列車準點率，以下敘述何者正確？
(A)列車誤點 10 分鐘內都算準點 (B)列車準點率=準點列車次數÷總開行列車次數
(C)歷年每個月的準點率都超過 99% (D)歷年未有任何一個月的準點率達到 100%
- 18 臺北捷運高運量系統的六車編組列車容量範圍是：
(A) 2,000~2,400 人/列車 (B) 1,600~2,000 人/列車 (C) 1,200~1,600 人/列車 (D) 800~1,200 人/列車
- 19 某年某捷運系統運量為 7.5 億旅次，延人公里數為 60 億，假設所有旅次的票價結構都是 5 公里以下 16 元，之後每 3 公里區間多 4 元，則該年平均票價（元/旅次）最可能的範圍為：
(A) 16~19 (B) 20~23 (C) 24~27 (D) 28~32
- 20 臺灣高鐵為滿足核心機電設施、全線路線設施之檢修工作，以及車輛駐車、清潔、檢修與大修等作業之需求，目前有一座總機廠與四座維修基地，請問總機廠設於何處？
(A)新竹六家 (B)臺中烏日 (C)嘉義太保 (D)高雄燕巢
- 21 下圖號誌機為：



- (A)進路表示器 (B)出發號誌機 (C)號誌預告機 (D)平交道警報機
- 22 根據鐵路修建養護規則，對於軌距為 1,067 公厘者，正線的鋼軌鋪設原則為：
(A)對接式 (B)錯接式 (C)混合式 (D)無明確規定
- 23 下列何者為臺鐵特等站？
(A)板橋站 (B)豐原站 (C)臺南站 (D)花蓮站

- 24 根據鐵路機車車輛檢修規則，對於營運時速未達 200 公里之機車，施行一般機件全盤檢修，重要機件重整檢修，是屬於何級檢修？
(A)特級 (B)一級 (C)四級 (D)五級
- 25 下列直轄市中，何者未設置捷運公司？
(A)新北市 (B)桃園市 (C)臺中市 (D)臺南市
- 26 根據大眾捷運法，關於大眾捷運系統之運價，下列敘述何者正確？
(A)由營運機構擬訂，報請地方主管機關核定後公告實施
(B)由營運機構擬訂，報請中央主管機關核定後公告實施
(C)由營運機構擬訂，報請行政院核定後公告實施
(D)中央主管機關擬訂，報請行政院核定後公告實施
- 27 根據大眾捷運法，旅客無票、持用失效車票或冒用不符身分之車票乘車者，除補繳票價外，並支付票價多少倍之違約金？
(A) 0.5 倍 (B) 1 倍 (C) 10 倍 (D) 50 倍
- 28 臺灣高鐵正線採用多種軌道形式，以因應不同需求，其中以何者所占比例最高？
(A)雷達 (Rheda) 軌道 (B)日本版式軌道 (J-Slab)
(C)低振動 LVT 軌道 (Low Vibration Track) (D)埋入式 (Embedded) 軌道
- 29 下列何者為臺北捷運系統的主管機關？
(A)臺北市政府 (B)臺北市捷運工程局 (C)臺北捷運公司 (D)臺北市交通局
- 30 捷運站採用疊式月台的最主要因素為：
(A)路廊寬度不足 (B)路廊深度不足 (C)節省施工經費 (D)縮短施工時間
- 31 臺北捷運高運量電聯車的最高設計時速 (公里/小時) 為：
(A) 110 (B) 90 (C) 70 (D) 50
- 32 下列何者為運輸事業之特性？①公共服務性 ②接受公共管制性 ③低度競爭替代性 ④產銷單位一致性
(A)①② (B)①②③ (C)①②④ (D)①②③④
- 33 軌道運輸風險管理中風險的定義，是指「事件發生次數 (Frequency)」與下列何者的乘積？
(A)事故規模 (B)事故性質 (C)事故頻率 (D)事故類型
- 34 高雄輕軌採用何種路權型式？
(A) D 型路權 (B) C 型路權 (C) B 型路權 (D) A 型路權
- 35 中運量捷運系統提供之每小時單方向運量，下列那個區間最為正確？
(A) 5,000 人~20,000 人 (B) 10,000 人~25,000 人 (C) 15,000 人~30,000 人 (D) 20,000 人~35,000 人
- 36 歐盟針對鐵路運輸系統制定了多種安全管理規範，其中 EN50126 主要著眼於闡述 RAMS 規範。請問該規範包含下列那些項目？①可靠度 ②妥善率 ③維修度 ④執行率
(A)②④ (B)①②③ (C)①②④ (D)①②③④
- 37 鐵路路線的「客運運輸能力」，可使用「一列車平均載運之旅客人數」乘以「單位時間內所能通過最多列車數」來代表。請問：「客運運輸能力」的單位為何？
(A)旅客數/列車 (B)旅客數/單位時間 (C)車次/單位時間 (D)車次/列車
- 38 下列何種鐵路設施的作用，在於均勻分散軌枕所傳來的列車壓力，使其均勻分布於路基上？
(A)道碴 (B)路堤 (C)道岔 (D)路塹

- 39 根據鐵路運送規則，旅客未經鐵路機構同意，無票或持用失效車票乘車者，應補收票價或票價差額，無正當理由者，並得加收已乘區間票價或票價差額之幾倍：
- (A) 0.5 倍 (B) 1 倍 (C) 10 倍 (D) 50 倍
- 40 「燈列型號誌」的燈光顏色是？
- (A)紅色 (B)黃色 (C)白色 (D)紅黃綠三色
- 41 下列那些鐵道系統使用一樣的軌距寬度？①臺灣高鐵 ②臺北捷運（高運量路線） ③淡海輕軌捷運 ④臺鐵
- (A)③④ (B)①②③ (C)①②④ (D)①②③④
- 42 下列何者是歐盟及國際鐵路聯盟，對於高速鐵路的完整定義？①新建高速鐵路的容許速度達到 250 公里/小時或以上 ②經升級改造的高速鐵路，其容許速度達到 200 公里/小時 ③新建高速鐵路的容許速度達到 300 公里/小時或以上 ④經升級改造的高速鐵路，其容許速度達到 250 公里/小時
- (A)①② (B)②③ (C)③④ (D)①④
- 43 政府規劃之重大公共工程計畫，例如：高鐵建設，經一定特許程序由民間機構投資興建其中一部分或全部，並由民間機構於一定期限內經營，當特許經營期限屆滿時，民間機構應將所有全部營運資產，依原許可條件有償或無償概括移轉予主管機關，此一方式稱為？
- (A)營運-移轉 (B)重建-營運-移轉 (C)興建-營運-擁有 (D)興建-營運-移轉
- 44 已部分通車的淡海輕軌捷運，其列車所使用的供電方式為何？
- (A)柴油電力 (B)第三軌 (C)架空線 (D)第四軌
- 45 政府對運輸業之補貼，可分為「非金錢補貼」與「金錢補貼」兩種。下列何者屬於「非金錢補貼」？①稅費減免 ②經營協助 ③績效補貼 ④交叉補貼
- (A)③④ (B)①②③ (C)①②④ (D)①②③④
- 46 某熱愛自行車人士欲參與年度自行車盛會，提前將其自行車交由臺鐵運送至目的地，其所託運之自行車，屬於下列何種貨物？
- (A)隨身行李 (B)整車貨物 (C)特殊貨物 (D)零擔貨物
- 47 軌道運輸災害依乘客及員工的旅次及工作活動，將可能發生的事故類型分成下列那幾種？①運轉事故或列車事故 ②特殊事故 ③移動事故 ④非移動事故
- (A)①② (B)①②③ (C)①③④ (D)①②③④
- 48 下列何種鐵路機車，是將駕駛間與客車合併在一起行駛？
- (A)蒸汽機車 (B)柴電機車 (C)電力機車 (D)機動車
- 49 有關我國鐵路法賦予業者特定權利，包含下列那幾項？①土地徵收權②優先通過權③警察設置權④污染豁免權
- (A)①④ (B)①②③ (C)①②④ (D)①②③④
- 50 下列有關傾斜式列車的敘述，何者正確？①利用車身向內側的傾斜，來提高列車過彎的速度②不需要立即興建新線，可就現有路線提高營運速度③傾斜式列車可分成被動式與主動式兩大類④臺鐵僅有普悠瑪一種傾斜式列車
- (A)③④ (B)①②③ (C)①②④ (D)①②③④

測驗式試題標準答案

考試名稱：108年公務人員特種考試警察人員、一般警察人員考試及108年特種考試交通事業鐵路人員、退除役軍人轉任公務人員考試

類科名稱：場站調車、運輸營業

科目名稱：鐵路運輸學大意（試題代號：4903）

更多鐵路考試科目的歷屆題庫
立即上網搜尋“鐵路歷屆考古題懶人包”
高鋒公職補習班整理
Line@帳號：@gaofeng
連絡電話：07-236-7296

單選題數：50題

單選每題配分：2.00分

複選題數：

複選每題配分：

標準答案：

題號	第1題	第2題	第3題	第4題	第5題	第6題	第7題	第8題	第9題	第10題
答案	C	D	D	A	B	D	A	B	C	A

題號	第11題	第12題	第13題	第14題	第15題	第16題	第17題	第18題	第19題	第20題
答案	A	D	C	A	D	B	B	A	B	D

題號	第21題	第22題	第23題	第24題	第25題	第26題	第27題	第28題	第29題	第30題
答案	C	A	D	C	D	A	D	B	A	A

題號	第31題	第32題	第33題	第34題	第35題	第36題	第37題	第38題	第39題	第40題
答案	B	A	A	C	A	B	B	A	A	C

題號	第41題	第42題	第43題	第44題	第45題	第46題	第47題	第48題	第49題	第50題
答案	B	A	D	C	C	D	C	D	B	B

題號	第51題	第52題	第53題	第54題	第55題	第56題	第57題	第58題	第59題	第60題
答案										

題號	第61題	第62題	第63題	第64題	第65題	第66題	第67題	第68題	第69題	第70題
答案										

題號	第71題	第72題	第73題	第74題	第75題	第76題	第77題	第78題	第79題	第80題
答案										

題號	第81題	第82題	第83題	第84題	第85題	第86題	第87題	第88題	第89題	第90題
答案										

題號	第91題	第92題	第93題	第94題	第95題	第96題	第97題	第98題	第99題	第100題
答案										

備註：

測驗題標準答案更正

考試名稱：108年公務人員特種考試警察人員、一般警察人員考試及108年特種考試交通事業鐵路人員、退除役軍人轉任公務人員考試

更多鐵路考試科目的歷屆題庫
立即上網搜尋“鐵路歷屆考古題懶人包”
高鋒公職補習班整理
Line@帳號：@gaofeng
連絡電話：07-236-7296

類科名稱：運輸營業、場站調車

科目名稱：鐵路運輸學大意

單選題數：50題

單選每題配分：2.00分

複選題數：

複選每題配分：

標準答案：答案標註#者，表該題有更正答案，其更正內容詳見備註。

題號	第1題	第2題	第3題	第4題	第5題	第6題	第7題	第8題	第9題	第10題
答案	C	D	D	A	B	D	A	#	C	A

題號	第11題	第12題	第13題	第14題	第15題	第16題	第17題	第18題	第19題	第20題
答案	A	D	C	A	D	B	B	#	B	D

題號	第21題	第22題	第23題	第24題	第25題	第26題	第27題	第28題	第29題	第30題
答案	C	A	D	C	D	A	D	B	A	A

題號	第31題	第32題	第33題	第34題	第35題	第36題	第37題	第38題	第39題	第40題
答案	B	A	A	C	A	B	B	A	A	C

題號	第41題	第42題	第43題	第44題	第45題	第46題	第47題	第48題	第49題	第50題
答案	B	A	D	C	C	D	C	D	B	B

題號	第51題	第52題	第53題	第54題	第55題	第56題	第57題	第58題	第59題	第60題
答案										

題號	第61題	第62題	第63題	第64題	第65題	第66題	第67題	第68題	第69題	第70題
答案										

題號	第71題	第72題	第73題	第74題	第75題	第76題	第77題	第78題	第79題	第80題
答案										

題號	第81題	第82題	第83題	第84題	第85題	第86題	第87題	第88題	第89題	第90題
答案										

題號	第91題	第92題	第93題	第94題	第95題	第96題	第97題	第98題	第99題	第100題
答案										

備註：第8題答A或B或AB者均給分，第18題答A或B或AB者均給分。

107年公務人員特種考試警察人員、一般警察人員考試及
107年特種考試交通事業鐵路人員考試試題

代號：2901
頁次：6-1

考試別：鐵路人員考試
等別：佐級考試
類科別：各類科
科目：國文（包括公文格式用語）
考試時間：1小時

更多鐵路考試科目的歷屆題庫
立即上網搜尋“鐵路歷屆考古題懶人包”
高鋒公職補習班整理
Line@帳號：@gaofeng
連絡電話：07-236-7296

座號：_____

※注意：(一)共45題，其中單選題35題，複選題10題，各題答案須用2B鉛筆在試卡上依題號清楚劃記，於本試題上作答者，不予計分。
(二)禁止使用電子計算器。

一、單選題（第1題至第35題，每題2分，占70分）

說明：所列的四個選項，請選出一個正確或最適當的答案，複選作答者，該題不予計分。

- 下列文句，何者沒有語病？
(A)我無時無刻不在想念你
(B)我在心裡由衷地感謝他
(C)這個名牌包價值十幾萬左右
(D)她正在進行一個說明的動作
- 下列引號中的語詞，解釋正確的選項是：
(A)屢試「不爽」：不快
(B)一決「雌雄」：男女
(C)人中「騏驎」：俊傑
(D)「躊躇」滿志：猶豫
- 下列引號內的成語，使用正確的是：
(A)他著作等身，且受廣大讀者愛戴，可謂「白首窮經」
(B)想要增進學問，遇到值得學習的人，就必須「移樽就教」
(C)在「懸梁刺股」的嚴冬，他仍刻苦用功，私毫不敢怠惰
(D)他總是廢寢忘餐跟著老師學習，因為他知道「學無常師」
- 「求人須求大丈夫，濟人須濟急時無。渴時一點如甘露，醉後添盃不若無。」下列成語，何者較符合這首詩所要表達的意思？
(A)未雨綢繆 (B)雪中送炭 (C)久旱甘霖 (D)落井下石
- 一位德國漢學家來臺灣，看到了某副對聯以後表示，在德國我們一直將文聖歌德與武聖毛奇分別看待，想不到你們竟能將兩位不同領域的聖人連結，並舉敘述。原來他看到對聯的下聯為：「修春秋，讀春秋，千古一春秋」，則其上聯應為：
(A)孔夫子，關夫子，萬世兩夫子
(B)孔聖人，孟聖人，萬世兩聖人
(C)孟先師，朱先師，萬世兩先師
(D)顏君子，曾君子，萬世兩君子
- 臺北市殯葬管理處殯儀館自2015年1月1日起全面啟用電子輓聯，希望落實簡葬、節葬的殯葬新文化。新建置的電子輓聯系統採智慧化設計，系統配合告別式場次自動開關及播放，以減少資源的浪費。下列何者不適合收納進電子輓聯系統？
(A)英靈已作蓬萊客／德範猶留故鄉人
(B)騎鯨去後行雲黯／化鶴歸來霽月寒
(C)桃李春風一杯酒／江湖夜雨十年燈
(D)何知一夢飛蝴蝶／竟使千秋泣杜鵑
- 下列祝賀婚嫁、誕育之題辭，正確的是：
(A)生子：螽斯叶吉 (B)生女：樂享含飴 (C)嫁女：里仁為美 (D)新婚：破鏡重圓
- 下列文句皆出於《老子》一書，何者最適合用來闡述政令不宜繁苛？
(A)治大國，若烹小鮮
(B)治人，事天，莫若嗇
(C)大道廢，有仁義；智慧出，有大偽
(D)古之善為道者，非以明民，將以愚之
- 瓜果庭中設，家家乞巧初。豎竿難免俗，曬腹愧無書。此夜雲迷渡，前宵雨洗車。鵲橋何處是，望久轉躊躇。本詩主要描寫下列那個節日？
(A)人日 (B)七夕 (C)中秋 (D)元宵
- 下列何者不是長度單位？
(A)尋 (B)仞 (C)鈞 (D)咫

- 11 下列選項中情況，何者不適宜用「函」處理？
(A)內政部警政署行文給各縣市警察局
(B)教育部向國立大專院校發布重要事項
(C)某大學向教育部申請研討會經費補助
(D)臺中市政府法制局制定臺中市法規標準自治條例之發布
- 12 下列有關公文「簽」的敘述，正確選項是：
(A)簽是函的草稿，依各機關規定程序核判之後發出
(B)三段式的簽文，分成「主旨、說明、擬辦」三段
(C)簽之「於○○○」字樣，要以小型字填入受文單位
(D)案情簡單，或例行承轉的案件，必須使用先簽後稿
- 13 下列公文用語使用正確的是：
(A)內政部發文行政院有抄件時用「抄送」 (B)臺北市政府發文教育部稱其為「大部」
(C)經濟部發函財政部期望語可用「請查照見復」 (D)某縣政府以「是否允當」駁回所轄鄉公所的請求
- 14 古代流傳的神話與傳說故事，經常以物種「變形」方式，表達主角人物藉由轉變形體，跨越物種、生死與形體限制，達成己心所願。下列何者屬於「變形」的神話或傳說故事？
(A)吠勒國貢文犀四頭，狀如水兕，角表有光，因名明犀
(B)君子國在其北，衣冠帶劍，食獸，使二文虎在旁，其人好讓不爭
(C)昔炎帝女溺死東海中，化為精衛，其名自呼，每銜西山木石填東海
(D)刑天與帝爭神，帝斷其首，葬之常羊之山，乃以乳為目，以其臍為口，操干戚以舞
- 15 「大農之諸官盡籠天下之貨物，貴即賣之，賤則買之。如此，富商大賈無所牟大利，則反本，而萬物不得騰踴。故抑天下物，名曰『平準』」。 (《史記·平準書》) 上文所述，其內涵應屬於何種事務？
(A)國防 (B)交通 (C)經濟 (D)農業
- 16 《論語·雍也》：「冉求曰：『非不說子之道，力不足也。』子曰：『力不足者，中道而廢，今女畫。』」文中「今女畫」的意思是什麼？
(A)你喜歡繪畫 (B)你是畫地自限 (C)你擅長畫仕女圖 (D)你是畫虎不成反類犬
- 17 吳玉麟詩曰：「黃裡裹冰膚，纍纍若貫珠。誰將龍刮目，未許荔稱奴。益智神能健，清心暑可驅。更憐嘉樹蔭，霜雪總無殊。」詩中所述是臺灣的何種水果？
(A)龍眼 (B)荔枝 (C)芒果 (D)椰子
- 18 天涯疏影伴黃昏，玉笛高樓自掩門。夢醒忽驚身是客，一船寒月到江村。(龔鼎孳〈百嘉村見梅花〉)
此詩主要表達的是：
(A)久別重逢的期待之心 (B)羈旅生涯的孤寂之感
(C)歸家省親的企盼之情 (D)客居旅店的寒梅之夢
- 19 「是怎樣的心靈可以承受這樣『整座地獄燃燒得如此輝煌』的全景素描——而非洪太尉揭開鎮魔鐵板放出一百零八天罡地煞之魔物瞬刻的轟然洶湧——作為小說同業，我畏懼佩服的是，從剝洋蔥起始，層層屏障迴廊，陳雪如何能以一種小說家的絕對專業，像藏密唐卡老繪師，一層一層鑲嵌疊套，每一細節填色、描花、精密繁錯地占領局部，絕無暈染潑灑？如何能在娓娓旁白時，拿鏡頭的手從未抖過？如何能，不為最初無辜置放至少女軀體內的核廢料之毒液腐蝕、擴散，被憤怒與瘋狂吞噬？」
依據上文，下列選項何者符合作者的意思？
(A)陳雪的小說繼承《水滸傳》一百零八條好漢的人物形象
(B)身為小說同業，認為陳雪不擅於對情節發展作細膩描繪
(C)作為小說家，必須懷抱著猶如核廢料之腐蝕性毒液寫作
(D)將小說寫作形容為藏密唐卡繪畫，須層層疊套全幅架構

- 20 「《詩經·齊風·東方未明》可以看到詩人從妻子視角描寫官吏丈夫的忙碌生活，詩句以『東方未明，顛倒衣裳。顛之倒之，自公召之』，生動地刻劃出丈夫早起急忙出門上班，連衣服都來不及穿好的模樣。最後甚至提到丈夫『不能辰夜，不夙則莫』的早出晚歸生活。雖然詩中的妻子並沒有對丈夫的忙碌發牢騷或冷嘲熱諷，但口氣中的無可奈何卻是如此明顯，說明繁重的工作壓力會造成員工本人及家庭生活多大的影響與不滿。」關於以上這段對《詩經》的古籍新解，其要旨在於：
- (A)當時的官吏亦如現代人般面對繁重工作 (B)當時官吏的妻子抱怨丈夫工作太過忙碌
(C)當時的君臣黎民都勤於政事，夙夜匪懈 (D)當時的百姓都過著民不聊生的痛苦生活
- 21 「這麼多的生熟，這麼各具色彩的物體，這麼樣瓶罐框箱，刀砧對話，粘附親切。全世界的學問都比不上此刻的生活實價，物料瑣細；一切知識在這裡都是不夠的。」請問上述內容可能描述什麼「空間」？
- (A)畫廊 (B)打鐵店 (C)鮮花店 (D)傳統市場
- 22 「政治的陰險狡詐，沒有反駁能力的石碑銅像，正好成為政客翻雲覆雨的好對象，韓愈作〈平淮西碑〉詠歌宰相裴度功勞，卻為大將軍李愬所不滿，奸陷於上，終於將石碑拽倒磨平，重新撰文論功。時移事往，今日除了李商隱、蘇東坡的詩篇裡保存這段史實的風流，誰又在乎將相間的恩恩怨怨呢？」依據上文，下列敘述何者錯誤？
- (A)功業彪炳之人樹大招風易遭受奸陷 (B)時間可證明石碑銅像無法記載永恆
(C)石碑銅像常是政客打壓異己的工具 (D)石碑銅像比文學詩篇更能反映史實
- 23 「動聽的樂章，中間常有一兩個休止符。它讓行雲流水的過程，有了段落，並因此可以期待繁花盛開的章節。休息，不一定是為了走長遠的路。有時候，休息只是為了讓你有機會轉身審視過去；有時候，休息就只是為了休息而已。」依據上文，下列敘述正確的是：
- (A)休息和走長遠的路絕不相關 (B)休息的唯一目的是審視過去
(C)休息可讓人期待美好的未來 (D)休息是可有可無的賞心樂事
- 24 「母親一生不愛珠寶首飾，既無鑽戒也無玉鐲，光鮮奪目穿戴在身的都是贗品。這也影響了我從不花錢買名牌的價值觀，因為小時候就把她說過的話牢記在心：『即使是地攤貨，別人卻相信你穿的是名牌，而不是用名牌包裝自己，那才真正表示你在別人心中有份量。』母親真的騙過了所有人，沒有人會相信她沒擁有過值錢首飾。」依據上文，下列何者不是作者要表達的意旨？
- (A)做人不需要用名牌包裝自己 (B)母親的價值觀會影響下一代
(C)同情弱者，所以他母親喜歡穿地攤貨 (D)被別人重視，和是否穿戴名牌無關
- 25 「黃侃的酒量其實不算好，日記裡『大醉』、『醉甚』、『醉臥』之類的記載，數不勝數。他也曾經想過戒酒：『止酒。月費不貲，徒以費時益病，可恨也』。結果不到一年，他便被一款叫『蔻麗莎』的紅瓶子洋酒所迷倒。後來讀唐魯孫〈湯婆子的種種〉才知，所謂『蔻麗莎』，是法國出品一種婦女喝的甜酒，……後來不知道那位聰明人拿這種空酒瓶子，灌上開水來替代湯婆子使用。有意思的是黃侃居然還勸人喝酒要節制。有次林公鐸『下火車時以過醉墜於地，傷胸』，黃侃覺得『似此縱酒，宜諷諫者也』，他自己則『每餐豪飲，半斤為量』。」由此段引文可知黃侃：
- (A)勸人飲酒要節制，自己卻仍每餐豪飲 (B)對婦女喝的甜酒也不排斥，每飲常超過半斤
(C)曾效法唐魯孫以「蔻麗莎」灌上開水來戒酒 (D)戒酒失敗的主因全在於費時甚久，故覺可恨
- 26 「明治維新時代，日本為本國引入了西曆，全面代換舊有的曆法。而當他們統治了臺灣以後，殖民政府也曾打算把這種『改曆』的經驗給照搬過來，元旦這天，政府會帶頭舉行各種各樣的祝賀活動，學校則高唱國歌，舉行新年宴會。漸漸的，許多臺灣人開始學著日人的習慣，在門口擺上了『門松』與『注連繩』，互相寄送新年賀卡，……推廣新曆新年的同時，殖民政府也曾試著貶斥有關舊曆春節的各種習俗。皇民化運動的時代，總督府更是越發強硬地要『廢舊正月』，……但是，舊曆春節並不因此而被統治者剪除，日子一到，許多地方的小老百姓還是張燈結綵、殺豬宰羊。大致也是從這個時候開始，臺灣人習慣了一年要說兩次『新年快樂』。」依據上文，下列敘述何者正確？
- (A)臺灣過西曆元旦新年，是因為日本殖民政府的帶頭推動
(B)日本對於曆法之改制起源甚早，可追溯至明治維新之前
(C)皇民化時期在政府強硬宣導下，舊正月習俗終得以廢黜
(D)臺灣目前過新舊曆年的習俗，都與日本時代的殖民有關

- 27 「大學住宿，室友們最喜歡向家裏投稿，一來不必怕退稿，二來不必附回郵信封，三來有投必中，稿酬優渥。杜甫『家書抵萬金』的烽火心情變成人子無憂歲月的物質享用。……這樣的作品，何等粗糙？沒有孺慕的流露，沒有貼切的情思，只有年少的無知，只有一再的要求，媽其實可以狠下心來退稿，要求重寫，讓我只知望外的眼睛要有眷戀的回眸，讓我漂泊的追尋要有反顧港灣的凝視。」文中所欲表述的主題為何？
- (A)母愛的包容 (B)年少的輕狂 (C)教育的真諦 (D)投稿的心路
- 28 「有一天，我來到濱海城市布萊頓，隨意落坐於一家小餐館。來一份炸魚薯條吧。一會兒後上桌，目下這條魚被折騰得黑色褐色混雜，首尾模稜難辨。但當我揭開麵皮，看見鮮潔魚肉時，食慾驀地被喚起；入口時，感覺到味蕾自沉睡中甦醒，彷彿苞蕾在長久醞釀後，啞地一聲掙脫萼片拘束，張開第一片花瓣。」作者以譬喻的手法敘寫，主要用來說明：
- (A)炸魚的口感層次豐富，先醞釀再綻放 (B)嘗試不同食物，讓人生如花開般燦爛
(C)炸魚賣相雖不佳，入口後卻別有滋味 (D)美食佐以鮮花擺盤，更能夠刺激食慾
- 29 「河面大片藍色琉璃總是如鏡，嵌製在花團擁簇的堤岸之間，樓光樹影不再拘謹，隨著風、隨著船痕微微晃盪。」根據上文內容判斷，下列選項正確的是：
- (A)兩岸花團擁簇，河面有如琉璃藍鏡，樓光樹影隨風與船痕搖曳
(B)河面上船隻忙碌穿梭，導致映在水面上的樓光樹影不斷的晃動
(C)兩岸花團擁簇，樓房綠樹成蔭，河面上有琉璃橋及穿梭的船隻
(D)河面上樓光樹影隨著風兒擺盪，破壞了樓房及樹木拘謹的本質
- 30 「任何一個生命被外力打破，都會造成傷害，如果是自己打破自己的局限，衝出藩籬，那就是成長、進步。」下列選項與上文意旨最相近的是：
- (A)這山路，顯然我是唯一的行者
(B)從這山望向那山，那山還比這山高哪
(C)一段未可預知的旅程，有時大樹橫阻，你必須謙卑低頭
(D)雞蛋從外面打破，是食物；雞蛋從裡面打破自己，成了生命
- 31 「當你有信念時就年輕，當你有疑慮時就老了；當你有自信時就年輕，當你恐懼時就老了；當你有希望時就年輕，當你絕望時就老了。在每個人的心中，都有一個錄音房，只要它收到的是美麗、希望、喜悅和勇氣的訊息，那麼你就是年輕的。而當你的心中只是布滿悲觀與憤世嫉俗的冰雪時，那麼你就將老去。」下列選項，何者最符合上文對於年輕的界定？
- (A)年輕是只要我喜歡，有什麼不可以 (B)年輕人多愁善感，是人生必經歷程
(C)年輕應該盡情歡樂，青春不要留白 (D)年輕與年紀無關，而是與心態有關
- 32 「粉絲是為成名錦上添花；知音，是為寂寞雪中送炭。杜甫儘管說過：『文章千古事，得失寸心知』，但真有知音出現，來肯定自己的價值，這寂寞的寸心還是欣慰的。其實如果知音寥寥，甚至遲遲不見，寸心的自信仍不免會動搖。所謂知音，其實就是『未來的回聲』，預支晚年的甚至身後的掌聲。」下列選項，對於「知音」的敘述，最符合文意的是：
- (A)知音未必當下出現，卻是最懂得自己的人 (B)知音在繁華熱鬧時，能給予自己鼓勵喝采
(C)人會寂寞，是因為粉絲太多，找不著知音 (D)由於人不易敞開自己的心胸，故知音難覓
- 33 「要治療或預防語言癌上身，只被動地減少接受外界的傳染是不夠的，首先還是要強體健身。多閱讀、吸收美好的文字養分，是固源的根本。有『值得說』的內容，是把話說好的第一步。其次，要學習『有意識』地說話，將想法有效地轉化為話語，準確地傳達給他人。這並非與生俱來的能力，需要後天不斷地練習精進，且愈小開始練愈好。」下列敘述，符合上文文意的是：
- (A)防治語言癌最好辦法，就是多運動強健體魄 (B)有意識的話具強體健身效果，宜正視其價值
(C)會造成語言癌，跟閱讀內容、說話方法有關 (D)說話能力是先天賦予，閱讀則是後天養成的

- 34 在西方接到大單生意，甚至是無中生有的賺錢生意都稱作「紫色金錢豹」。因此，大大小小的企業都忙於研發創新，追逐他們的「紫色金錢豹」，不過上述的機會，可遇不可求。然而，在這個人人追逐「紫色金錢豹」的年代，能夠安分認命的待在「村莊」裡，不隨著眾人腳步去追逐「金錢豹」的人已經越來越少了，因為，當追逐「紫色金錢豹」的人受挫回到「草原」，他們還是會日思夜想偶然發現的珍稀寶物，然後，在期望中展開看不到盡頭的等待。下列敘述何者是作者要傳達的意旨？
- (A) 具備如紫色金錢豹的敏捷速度，是商場致勝的不二法門
(B) 開發具有市場潛力的創新科技，才能讓企業一本萬利
(C) 偶然的成功只是幸運，企業必須步步踏實勿求一步登天
(D) 面對挫折須以充滿期望的態度正向思維，才可反敗為勝
- 35 「『情緒勒索』常見於許多人際關係中，包含職場、親子、夫妻、朋友等。情緒勒索者可能在有意識或無意識中，使用要求、威脅、施壓、沉默等直接或間接的『勒索』手段，讓被勒索者產生各種負面情緒，例如挫敗感、罪惡感、恐懼感……這些感受就會在被勒索者的內心發酵、造成傷害。」就上文所述，下列選項何者合乎「情緒勒索」？
- (A) 親愛的，我愛你，但不代表你所做的事我都認同
(B) 媽媽，我愛妳，但我是我，妳是妳，我是一個獨立的個體，請妳尊重我的選擇
(C) 爸爸，我很尊敬您，但我的興趣在藝術創作，而不是商業經營，請理解我為何不願繼承家業
(D) 親愛的，如果你真的愛我，就應該支持我，為了我們將來美好的生活，你應該無條件的當我的後盾

二、複選題（第 36 題至第 45 題，每題 3 分，占 30 分）

說明：所列的五個選項，其中至少有二個是正確答案。各題之選項獨立判定，全部答對者，得 3 分；答錯一個選項者，得 1.8 分；答錯二個選項者，得 0.6 分；所有選項均未作答，或答錯多於二個選項（不含二個）者，該題以零分計算。

- 36 下列各組詞語，完全沒有錯別字的選項是：
- (A) 懺悔不已／一語成讖
(B) 涵懷先人／靦腆害羞
(C) 豁然開朗／胸中丘壑
(D) 竭盡心力／揭發弊案
(E) 字跡潦草／窮途潦倒
- 37 下列引號中的詞語，前後意義、用法相同的選項是：
- (A) 別擔心，等「風頭」過了再說／我明天就走一趟，先看看「風頭」再說
(B) 拋棄優越感吧，那是思想的一大「包袱」／他用顫抖的雙手打開了那個「包袱」
(C) 他的個子雖然不高，卻頗「結實」／這棵樹雖然不高，卻每年都「結實」累累
(D) 他文思泉湧，傾刻間寫就一篇「文章」／你們都沒看出來，他這封信裡大有「文章」
(E) 俗語說：親兄弟也要明「算帳」／傳統會計的記帳、「算帳」等工作主要是靠人工完成
- 38 「臺灣不但山川之美被□□□□，而且近年好不容易建立起來的美食王國形象，也因為塑化劑、毒澱粉、黑心油等連串食安事件，幾乎已□□□□。更讓國人痛心無奈的是，涉入食品違禁添加物、混充摻假、標示不實的企業，是無分大小甚至很多知名品牌大廠都捲入，偽劣及黑心食材及食品到處充斥，造成民眾健康風險，也導致社會□□□□。」上文□□□□，應該填入的正確用語依序是：
- (A) 休戚與共 (B) 蹂躪糟蹋 (C) 心有餘悸 (D) 蕩然無存 (E) 人心惶惶
- 39 《臺灣通史·風俗志》記載當時戲劇：「有傀儡班、掌中班，削木為人，以手演之，事多稗史，與說書同。」下列選項，何者符合上文所述劇種？
- (A) 京戲 (B) 歌仔戲 (C) 布袋戲 (D) 皮影戲 (E) 掌中戲

- 40 「從美國的加利福尼亞州到歐洲的英國再到亞洲印度，也偶爾會有其他一些小動物，例如青蛙和蛇從空中落下，甚至還有一個地方下過銀幣雨。這些出人意料的『雨點』多數是由於強大的龍捲風把沿途的水生生物或者其他東西帶進雲層後，透過強風攜帶，最終落在很遠的地方，形成規模不等的形形色色的『雨』。」根據文意，下列說明正確的選項是：
- (A)看似奇怪的現象，仍然可找到科學依據
(B)證實守株待兔之理，耐心等候常有收穫
(C)形形色色的「雨」，是自然力量造成的
(D)即使遇到巨大災難，我們都要微笑面對
(E)龍捲風遍佈全球，為各地帶來意外之財
- 41 「我有一句相當喜愛的銘言：『障礙，是為了被跨越而存在。』這句話出於法國陸軍元帥福煦之口。據說有人在聽了之後感嘆：『那個障礙對我而言太高了，我實在沒辦法跨越過去。』於是，福煦告訴他：『那麼，就從下面鑽過去吧！』真是了不起的轉彎式思考。」下列選項，何者與本文意涵貼近？
- (A)天外有天，人外有人
(B)天下無難事，只怕有心人
(C)山不轉路轉，路不轉人轉
(D)人煙罕至的路就是成功的路
(E)天無絕人之路，路是人走出來的
- 42 「藉微笑以表示友善，這個看似全球性的特質卻因文化而異，並展現出『地區性』的特性。在蘇俄，微笑可能被理解為一種挑戰……，在香港，工作時臉上有一份嚴肅的表情是專注的象徵。」下列選項，對本文的說明何者正確？
- (A)作者鼓勵大家以微笑表現善意
(B)作者提醒大家理解文化的差異
(C)作者認為專注於工作也能微笑
(D)作者發現俄國人比香港人官僚
(E)作者正視不同地區的行為特質
- 43 「後悔常被說成是沒有意義的。回顧有什麼用呢？的確，後悔有時無濟於事，一如罪惡感、自憐，而且可能對更長、更艱辛的贖罪過程造成阻礙。但是，這並不代表後悔必然是件壞事。史丹佛大學商學院研究人員表示，自責傾向較深的人能成為更好的管理者，因為自責是伴隨著『高度責任意識』與『從錯誤中學習』的能力而來。」關於上文的敘述，下列選項何者正確？
- (A)罪惡感、自憐的情緒可能無濟於事
(B)好的管理者都會有較深的自責傾向
(C)容易後悔的人，必然能成為好管理者
(D)後悔有時可能帶來正面、積極的意義
(E)責任感與從錯中學，是管理者的要素
- 44 「麥金多發現正是因為有『懸浮性藻類—浮游性動物—冰川運動—洋流—海水上升運動』如此複雜的機制，才能巧妙的維持藍鯨的族群生存。而藍鯨吃掉大量的浮游性動物，使懸浮性藻類旺盛成長，這些藻類行光合作用所釋放的氧氣，是地球大氣層氧氣最大的來源，簡言之，藍鯨進入南極海，與地球上每個生物的生存息息相關。」根據文意，下列說明正確的選項是：
- (A)南極海是地球生命的源頭
(B)浮游動物的食物是懸浮性藻類
(C)藍鯨族群的存亡與海水上升運動相關
(D)藍鯨的覓食習性會影響地球氧氣的生成
(E)大自然生態環環相扣，任何一個鏈條斷裂都會破壞生態平衡
- 45 「蘋果公司執行總裁庫克，在麻省理工學院畢業典禮演講時表示：『我並不擔心人工智慧可以讓電腦像人類一樣思考。我擔心的是人類會像電腦一樣思考，沒有自己的價值觀或同情心，不考慮事情的後果。』」根據上文，下列選項正確的是：
- (A)人工智慧未發展出道德價值判斷
(B)人工智慧已經超越人類思維模式
(C)人類思考不應像電腦的人工智慧
(D)人類最終將被人工智慧全面取代
(E)人類有自由意識，優於人工智慧

更多鐵路考試科目的歷屆題庫
立即上網搜尋“鐵路歷屆考古題懶人包”
高鋒公職補習班整理
Line@帳號：@gaofeng
連絡電話：07-236-7296

測驗式試題標準答案

考試名稱：107年公務人員特種考試警察人員、一般警察人員考試及107年特種考試交通事業鐵路人員考試

類科名稱：各類科

科目名稱：國文(包括公文格式用語)(試題代號：2901)

更多鐵路考試科目的歷屆題庫

立即上網搜尋“鐵路歷屆考古題懶人包”

高鋒公職補習班整理

Line@帳號：@gaofeng

連絡電話：07-236-7296

單選題數：35題(第1~35題)

單選每題配分：2.00分

複選題數：10題(第36~45題)

複選每題配分：3.00分

標準答案：

題號	第1題	第2題	第3題	第4題	第5題	第6題	第7題	第8題	第9題	第10題
答案	A	C	B	B	A	C	A	A	B	C

題號	第11題	第12題	第13題	第14題	第15題	第16題	第17題	第18題	第19題	第20題
答案	D	B	C	C	C	B	A	B	D	A

題號	第21題	第22題	第23題	第24題	第25題	第26題	第27題	第28題	第29題	第30題
答案	D	D	C	C	A	A	A	C	A	D

題號	第31題	第32題	第33題	第34題	第35題	第36題	第37題	第38題	第39題	第40題
答案	D	A	C	C	D	AD	AE	BDE	CE	AC

題號	第41題	第42題	第43題	第44題	第45題	第46題	第47題	第48題	第49題	第50題
答案	BCE	BE	ADE	BCDE	ACE					

題號	第51題	第52題	第53題	第54題	第55題	第56題	第57題	第58題	第59題	第60題
答案										

題號	第61題	第62題	第63題	第64題	第65題	第66題	第67題	第68題	第69題	第70題
答案										

題號	第71題	第72題	第73題	第74題	第75題	第76題	第77題	第78題	第79題	第80題
答案										

題號	第81題	第82題	第83題	第84題	第85題	第86題	第87題	第88題	第89題	第90題
答案										

題號	第91題	第92題	第93題	第94題	第95題	第96題	第97題	第98題	第99題	第100題
答案										

備註：

107年公務人員特種考試警察人員、一般警察人員考試及 107年特種考試交通事業鐵路人員考試試題

代號：1901
頁次：6-1

考試別：鐵路人員考試
等別：佐級考試
類科別：各類科
科目：公民與英文
考試時間：1小時

更多鐵路考試科目的歷屆題庫
立即上網搜尋“鐵路歷屆考古題懶人包”
高鋒公職補習班整理
Line@帳號：@gaofeng
連絡電話：07-236-7296

座號：_____

※注意：(一)本試題為單一選擇題，請選出一個正確或最適當的答案，複選作答者，該題不予計分。
(二)共50題，每題2分，須用2B鉛筆在試卡上依題號清楚劃記，於本試題上作答者，不予計分。
(三)禁止使用電子計算器。

- 2016年國內某航空公司空服員集體罷工，經勞資雙方協調談判，資方同意改善工作條件並增加空服員服勤津貼；但該航空公司空服人員的工會事後表示，非工會成員不得適用新的勞資協定。依據該工會的說法判斷，其主要是針對下列何種增進公益的難題而提出？
(A)誘因不足 (B)共有財分配不均 (C)搭便車問題 (D)鄰避效應
- 好鄰居全人關懷協會成立「食到味」社區餐廳，不僅提供工作機會給二度就業婦女，也定期送愛心蔬果盒、果汁與餐點，給社區三十多位獨居老人、身障者，希望能藉由實質幫助，讓更多人溫飽，感受到人情溫暖。下列何者最能用來說明此種公民行動的意義？
(A)財團法人非營利的利他精神 (B)有助於結社自由的人權保障
(C)突顯志願結社公共性的不足 (D)展現社會資本的累積與深化
- 從事餐飲服務業的阿如在孩子出生後，希望能親自照顧，因此向任職的公司申請一年的留職停薪育嬰假，但主管卻以「請假時間太長，造成其他同事困擾」為由拒絕。依據我國相關法令，阿如可採取下列何種行動以維護自身的權利？
(A)可向地方法院提出刑事訴訟 (B)可向地方主管機關提出申訴
(C)可直接向法院提起行政訴訟 (D)可向大法官會議提釋憲聲請
- 某大學學生A疑似受同學B性侵，大學應依下列何種法律所定之程序處理？
(A)性騷擾防治法 (B)性別平等教育法 (C)性別工作平等法 (D)性侵害犯罪防治法
- 年幼的大熊常和同伴玩「123·木頭人」遊戲，並藉此學習和同儕的互動，猜拳輸的他必須當鬼抓人，大熊心裡即使不太願意，但他也會要求自己遵守遊戲規則。上述大熊的表現，若根據米德(G. H. Mead)的社會化三階段來看，下列敘述何者正確？
(A)處於模仿階段，學習扮演遊戲中各個角色的外在行為
(B)處於嬉戲階段，透過同儕間遊戲，尋求重要他人認可
(C)處於團體遊戲階段，受概化他人影響而扮演團體角色
(D)處於主我支配客我的階段，需從互動中獲得自我肯定
- 某社會學者對貧富不均現象提出觀點，指出(甲)高階管理階層獲得超高薪資並非因其擁有特殊才能，而是這些群體彼此建立人際網絡、長期壟斷利益所致。建議各國政府應降低財富過度集中現象，否則將危害民主社會(乙)依照個人才能與努力決定報酬的基本價值。若以社會理論來看，下列何者依序為(甲)、(乙)的主張？
(A)衝突論、功能論 (B)功能論、衝突論 (C)文化資本論、衝突論 (D)功能論、文化資本論
- 報導描述：「早期港星、港劇在臺灣風靡一時，90年代後期有『哈日』潮，今天『韓流』正在改變年輕人的喜好。」下列何者最能用來描述報導的現象？
(A)民間文化 (B)主流文化 (C)流行文化 (D)邊緣文化

- 8 2016 年臺灣社會因隨機殺人的社會案件，媒體連日報導該事件的進展，掀起死刑議題的論戰；但同一時間，在基隆外海因油輪擱淺漏油造成環境生態的浩劫，卻少有媒體關切。下列何者最適合用來描述上述之現象？
- (A)媒體自律性不足，進而影響閱聽者知的權利
(B)媒體以營利為主，報導偏向娛樂化與商業化
(C)媒體扮演守門人，篩選並決定社會事件的重要性
(D)媒體再現的報導內容可能扭曲民眾的認知
- 9 下列有關內閣制的敘述，何者正確？
- (A)國家元首皆為虛位，因此內閣制皆為君主國
(B)人民不能直選領導者，故較總統制國家不具民主性
(C)由議會多數黨組閣，採權力分立，行政立法非合一
(D)解散國會與不信任案利於解決政治僵局，較具彈性
- 10 下列有關現行立法委員選舉制度的敘述，何者最正確？
- (A)目前原住民立法委員選舉採取複數選區單記不可讓渡相對多數投票制
(B)我國立法委員選舉制度採德國式的聯立制，有利大黨，利於形成兩黨制
(C)立法委員參選年齡資格與縣市行政首長相同，均須達 26 歲以上始可參選
(D)由政黨推薦之不分區立法委員當選人，喪失黨籍後仍具立法委員資格
- 11 我國政府為宣示護漁決心，決定派海巡船艦常態性至相關海域巡視。政府此種作法，主要在落實國家存在的何種目的？
- (A)安全 (B)秩序 (C)正義 (D)經濟
- 12 選舉之後，社論分析某政黨勝選原因，其中包括了認真經營新世代選民、經營網路社群，以爭取年輕選民的支持。依據上文所述，該政黨之作法應該是為了達成下列何項目的？
- (A)匯聚人民意見，取得政治權力，進而組織政府
(B)教育民眾，形成輿論，達成政治社會化的功能
(C)組織團體，透過遊說影響政府公共政策的制定
(D)以更多的政策主張，遊說相近利益團體的支持
- 13 我國自 2009 年起受邀以「中華臺北」名義及觀察員身分列席世界衛生大會（WHA），下列關於世界衛生大會及我國參與情形的敘述，何者最正確？
- (A)世界衛生大會為聯合國體系的正式會議
(B)世界衛生大會為全球非政府組織的活動
(C)我國以非官方名義參與，屬於民間交流的模式
(D)參與世界衛生大會代表我國已經加入世界衛生組織（WHO）
- 14 下表為我國第九屆立法委員選舉，各政黨席次統計資料：

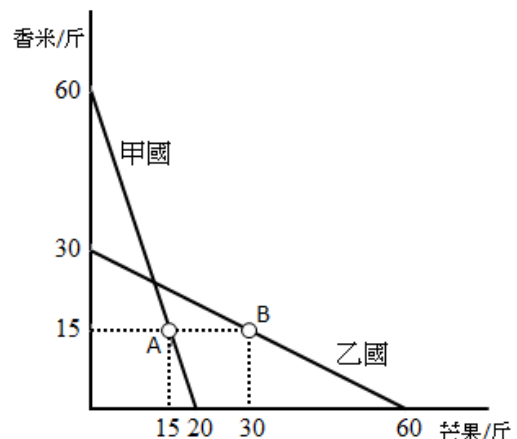
國民黨	民進黨	親民黨	臺 聯	新 黨	時代力量	其 他
35	68	3	0	0	5	2

針對立法院提出憲法修正案及正副總統彈劾與罷免案之相關敘述，若依第九屆立法委員席次分析，下列敘述何者錯誤？

- (A)民進黨席次過半，將使在野黨無法獨力提案彈劾總統
(B)民進黨席次優勢，可輕易阻擋在野黨所提出對正副總統的罷免案
(C)國民黨立法委員席次超過四分之一，可輕易阻擋民進黨所提修憲案
(D)國民黨立法委員席次僅四分之一，未達總統罷免案之提案門檻

- 15 依憲法規定，下列關於監察院的組織及職權之敘述，何者最正確？
(A)委員由總統提名，立法院同意後任命 (B)院長、副院長是由監察委員互選產生
(C)負責進行公務人員的彈劾及懲戒 (D)下轄審計部負責擬定政府的預算案
- 16 2016 年奧運在巴西里約舉行，各國頂尖運動員藉此盛會進行彼此交流，我國也派優秀運動員前往參加。國際奧林匹克委員會應屬於下列那一種國際組織？
(A)政府間國際組織 (B)區域性國際組織 (C)非政府國際組織 (D)一般性國際組織
- 17 1967 年成立的「東南亞國家協會」(Association of South East Asian Nations, ASEAN)，若依國際組織的分類來看，其屬性應為下列何者？①全球性 ②區域性 ③政府間 ④非政府間 ⑤一般性 ⑥專門性
(A)①③⑥ (B)①④⑤ (C)②③⑤ (D)②③⑥
- 18 阿德發現同事小芳被丈夫以生活費脅迫發生性行為，忿忿不平，認為夫妻之間仍應互相尊重彼此性自主權，於是阿德至當地檢察機關提告小芳丈夫的惡行，但遭檢察官拒絕起訴。下列敘述何者最正確？
(A)因檢察署所在地之法院對本案無管轄權 (B)本案件屬於告訴乃論罪，阿德無告訴權
(C)本案屬於家庭暴力事件，並非刑事案件 (D)阿德應至警察局報案，由警察移送法辦
- 19 癌末病人甲認為時日不多，於是親手在病房寫下書面遺囑，慎重地記明日期、簽名並密封在信封裡，並與一名律師一起在紙袋的封口處簽名，請律師在他逝世後 3 日召開記者會對外公開與說明。根據上述，請問甲的遺書應屬於何種？
(A)自書遺囑 (B)公證遺囑 (C)密封遺囑 (D)口授遺囑
- 20 下列關於少年事件處理法之敘述，何者最正確？
(A)對於少年保護處分之執行，至多執行至滿 21 歲為止
(B)少年保護事件之審理原則上不公開，但當事人得請求公開之
(C)少年刑事案件之審判應不公開，但得許少年之親屬、學校教師旁聽
(D)對於少年之訓誡由少年保護官為之，並得命少年立悔過書與向被害人道歉
- 21 在我國涉及販毒而遭警方逮捕，有關嫌犯人權保障的敘述，下列何者最正確？①警方應於逮捕嫌犯時對其進行「權利宣告」 ②嫌犯有權拒絕夜間偵訊 ③嫌犯有權拒絕回答警察的訊問 ④對嫌犯的羈押原則上應由法官裁定，若出於急迫可由檢察官裁定 ⑤嫌犯於警察偵訊時坦承犯罪即符合「自首」要件
(A)①②④ (B)①②③ (C)①④⑤ (D)②③⑤
- 22 有關我國大法官的敘述，下列何者最正確？
(A)大法官須具有法官身分始得出任
(B)為捍衛憲法，大法官應主動解釋法律
(C)並為司法院正副院長的大法官，不受任期保障
(D)大法官的產生，由總統提名，經監察院同意後任命
- 23 小明與小美婚後爭吵不斷，小美認為婚姻已難以維繫，向小明提出離婚的要求，不料小明不同意，認為小美有婚外情才想離婚，雙方尋求法律途徑解決。以我國民法相關規定，有關此案的敘述，何者最正確？
(A)小美可向法院提起民事訴訟，不須經調解直接由法官做出判決
(B)法庭上小明需提證據證明小美有婚外情，是由於無罪推定原則
(C)若雙方在法庭上達成離婚和解，經書記官做成筆錄後即發生婚姻關係消滅之效力
(D)基於一事不再理原則，小美若撤回起訴即不得再提起離婚訴訟

- 24 寵物食品及用品連鎖通路業者為保障通路利潤，一起開會要求供應商管控零售價格，如有供應商不配合，7家通路業者就下架所供應的商品，此事經人檢舉後，由主管機關分別處以罰鍰。若以公平交易法來看，其屬於下列何者？
(A) 獨占行為 (B) 結合行為 (C) 聯合行為 (D) 不公平競爭行為
- 25 侵權行為是指因故意或過失，不法侵害他人權利，需負損害賠償責任。下列何者屬於侵權行為？
(A) 晚上睡覺夢見自己持刀外出殺人 (B) 在私人日記裡寫批評上司的文字
(C) 為了省錢跟同學借原文書整本影印 (D) 購物時向店員殺價導致店家虧本
- 26 報載：某殯葬業者將歇業旅館的房間改裝成靈堂，但仍保留旅館外觀樣貌。市府在民眾蒐證舉發後，認定業者未申請經營屬實，且該設備屬違建，乃依法開罰 30 萬元，並限期強制拆除。若業者對此處罰不服，目前進入司法訴訟階段，該案件應適用下列何者？
(A) 民事訴訟 (B) 刑事訴訟 (C) 行政訴訟 (D) 國家賠償訴訟
- 27 經濟學家亞當斯密曾以「市場當中那隻看不見的手」來形容價格機能。下列何者較符合上述價格機能的概念？
(A) 財政部調漲稅率以充實政府推動老人長照政策所需經費
(B) 政府為提振景氣推出換購節能家電產品補助兩千元政策
(C) 中央銀行總裁宣布解除房市管制，房價將交由買賣雙方決定
(D) 財政部為活絡經濟全面調降遺產稅、贈與稅與奢侈稅稅率
- 28 每當全球性的經貿組織，如世界貿易組織 (WTO)、國際貨幣基金組織 (IMF) 或 20 大工業國 (G20) 等召開會議時，場外往往聚集許多反全球化的抗議民眾，認為這些經貿組織都是在大國主導下達成結論，且大都對已開發國家有利，卻未必對開發中國家有利。上述抗議民眾所持的理由較可能為下列何者？
(A) 貿易只對出口國有利，對進口國非常不利 (B) 全球化的貿易利益分配不均且差距更擴大
(C) 自由貿易更弱化了已開發國家的經濟表現 (D) 反全球化是以小國立場希望取消貿易壁壘
- 29 烏魚是洄游魚類，每年秋冬之際洄游至臺灣海域附近，但近年來因為漁民過度捕撈而使產量大減，烏魚子價格也水漲船高。若從經濟學的角度，下列何者可用來解釋這種海上漁業資源被過度捕撈的現象？
(A) 因為公海漁業資源的財產權不明而導致共有財悲歌
(B) 因無法杜絕中國大陸漁民的削價競爭所衍生的供需失衡
(C) 近年來臺灣捕魚技術落後中國大陸，顯現人力資本匱乏
(D) 全球化後的貧富差距惡化，漁民缺乏政府補貼所致
- 30 某國為因應石油耗竭的問題，研發從頁岩煉解出石油的新技術，而該國的消費者也都在生活中力行節能減碳運動，例如拒買傳統車輛，改買電動車。根據上述，在不考慮其他條件的情況下，該國石油市場的均衡價格及數量將如何變動？
(A) 均衡價格上升，均衡數量減少 (B) 均衡價格上升，均衡數量不一定
(C) 均衡價格下降，均衡數量減少 (D) 均衡價格下降，均衡數量不一定
- 31 資源技術相同的甲國與乙國都生產香米跟芒果，右圖是兩國各自的生產可能線，圖中 A 點是甲國貿易前的生產點與消費點，B 點是乙國貿易前的生產點與消費點。若兩國各自生產具有比較利益的产品，然後在兩國之間自由買賣，下列何者是兩國進行貿易後可能出現的狀況？
(A) 甲國消費 36 斤香米與 50 斤芒果
(B) 甲國消費的香米與芒果都超過 40 斤
(C) 乙國消費 24 斤香米與 10 斤芒果
(D) 乙國消費的香米與芒果都是 45 斤



- 32 近年來因房價上漲，導致房屋租金也逐年上升。若政府對租屋市場採取有效的租金上限政策，下列針對政府此政策的分析敘述，何者最正確？
(A)政府的租金上限應高於市場均衡價格 (B)該政策產生絕對損失使經濟福祉減少
(C)出租者和租屋者都會因此產生淨效益 (D)租屋市場將產生供過於求的情況
- 33 消費者在通貨膨脹時，因擔心物價上漲，購物時都會「貨比三家」，來來回回比較多次，也會減少持有身上現金，寧願把現金存在銀行賺利息，需要用錢時才去銀行領錢。上述現象在經濟學上稱為什麼？
(A)內部成本 (B)外部成本 (C)菜單成本 (D)皮鞋成本
- 34 由於南化山區土質屬泥岩地形，因此能夠生產出頂級的芒果，且大都銷往國外。若以貿易的觀點來分析南化芒果外銷現象，下列敘述何者最正確？
(A)貿易後，會導致芒果出口國的消費者剩餘增加
(B)貿易後，會導致芒果出口國的社會福祉增加
(C)貿易後，會導致芒果進口國的社會福祉減少
(D)貿易後，會導致芒果進口國的生產者剩餘增加
- 35 根據 GDP 的定義，下列何者不能計入我國的 GDP？
(A)自有房屋的設算租金 (B)從事直銷所賺取的業績獎金
(C)農民自用的農產品 (D)我國棒球好手陽岱鋼在日本職棒的年薪
- 36 His father was ____ and put in jail as a result of his crime.
(A) arrested (B) cheated (C) elected (D) protected
- 37 Would you mind keeping an eye ____ my kids for just a few minutes?
(A) at (B) in (C) down (D) on
- 38 A sudden ____ of wind turned my umbrella inside out.
(A) breath (B) gust (C) rumble (D) stroke
- 39 Eric Haralson likes the pretty girl so much that he is eager to ____ his expensive new car to her.
(A) bump into (B) figure out (C) show off (D) tear down
- 40 Animals and plants have special ____ that help them to live in very hot or cold climates.
(A) features (B) defects (C) quantities (D) challenges

請依下文回答第 41 題至第 45 題：

The babies of women living in high air pollution neighborhoods may have lower IQs. A study 41 low-income pregnant women in the South Bronx and upper Manhattan. The women wore monitors during the last months of pregnancy. They lived in areas that had high pollution from cars, buses and trucks. Before starting school, the children took IQ tests. The children most exposed to air pollution scored lower than children with lower exposure 42. The difference of four or five points may affect schoolwork. Experts say the differences do not mean that children will not learn to read and write. It shows that air pollution may harm children 43 lead does. The research may explain why these children do not do well in school. Earlier research showed that air pollution could increase the 44 of cancer, lower birth weight and asthma. Researchers plan to continue monitoring and testing the children. They want to know 45 school performance is affected over a long time. Experts said this research was important. They said there should be more studies.

- 41 (A) informed (B) followed (C) requested (D) controlled
42 (A) were (B) must (C) did (D) had
43 (A) as much as (B) despite the fact (C) because (D) in view that
44 (A) aid (B) cure (C) quest (D) risk
45 (A) although (B) even (C) hence (D) if

請依下文回答第 46 題至第 50 題：

Office Furniture for Sale

We're re-designing our offices and trying to give our offices a new look , so we cleared some nice stuff that we don't need anymore. Most stuff is in very good shape.

Bookcase with locking drawers \$20; tables \$35 each; sofa \$50; bookshelves \$35; sunflower chair \$30; white board \$15; poster frames \$5-\$15, and more.

If you're interested in the sofa or sunflower chair, please ask. They're in a different room, not in the main office. Please be prepared to take all the sale items right after you pay.

Time:

July 29 @10:00 A.M. Come early and get the best stuff!

Address:

Magic Fitness Studio
1910 Camden Avenue
San Jose, CA 95124

Please note: Our studios are across from the high school and behind the Hookah Castle. Please park at the back of the building. Ring the doorbell to enter. We only take cash.

- 46 What is the purpose of this post?
(A) To sell new office furniture. (B) To get rid of old furniture.
(C) To find furniture for the office. (D) To check out the fitness studio.
- 47 Who probably posted this?
(A) A moving company. (B) A furniture store. (C) A fitness studio. (D) A designer's office.
- 48 Why did they want to sell their furniture?
(A) They are moving to a new office at a different place.
(B) They tried to make money to re-design their place.
(C) The furniture is too old to be used in this office.
(D) They do not need the furniture in the newly designed office.
- 49 Which of the following items are not likely to be found in this sale?
(A) Clothing. (B) Chairs. (C) Desks. (D) Shelves.
- 50 Which of the following statements about this post is true?
(A) The sunflower chair is not for sale. (B) A reservation is needed to enter this office.
(C) The furniture is not available right now. (D) All the furniture for sale was used.

測驗式試題標準答案

考試名稱：107年公務人員特種考試警察人員、一般警察人員考試及107年特種考試交通事業鐵路人員考試

類科名稱：各類科

科目名稱：公民與英文（試題代號：1901）

更多鐵路考試科目的歷屆題庫
立即上網搜尋“鐵路歷屆考古題懶人包”
高鋒公職補習班整理
Line@帳號：@gaofeng
連絡電話：07-236-7296

單選題數：50題

單選每題配分：2.00分

複選題數：

複選每題配分：

標準答案：

題號	第1題	第2題	第3題	第4題	第5題	第6題	第7題	第8題	第9題	第10題
答案	C	D	B	B	C	A	C	C	D	A

題號	第11題	第12題	第13題	第14題	第15題	第16題	第17題	第18題	第19題	第20題
答案	A	A	A	D	A	C	C	B	A	A

題號	第21題	第22題	第23題	第24題	第25題	第26題	第27題	第28題	第29題	第30題
答案	B	C	C	C	C	C	C	B	A	D

題號	第31題	第32題	第33題	第34題	第35題	第36題	第37題	第38題	第39題	第40題
答案	D	B	D	B	D	A	D	B	C	A

題號	第41題	第42題	第43題	第44題	第45題	第46題	第47題	第48題	第49題	第50題
答案	B	C	A	D	D	B	C	D	A	D

題號	第51題	第52題	第53題	第54題	第55題	第56題	第57題	第58題	第59題	第60題
答案										

題號	第61題	第62題	第63題	第64題	第65題	第66題	第67題	第68題	第69題	第70題
答案										

題號	第71題	第72題	第73題	第74題	第75題	第76題	第77題	第78題	第79題	第80題
答案										

題號	第81題	第82題	第83題	第84題	第85題	第86題	第87題	第88題	第89題	第90題
答案										

題號	第91題	第92題	第93題	第94題	第95題	第96題	第97題	第98題	第99題	第100題
答案										

備註：

107年公務人員特種考試警察人員、一般警察人員考試及 107年特種考試交通事業鐵路人員考試試題

考試別：鐵路人員考試
等別：佐級考試
類科別：運輸營業
科目：企業管理大意
考試時間：1小時

更多鐵路考試科目的歷屆題庫
立即上網搜尋“鐵路歷屆考古題懶人包”
高鋒公職補習班整理
Line@帳號：@gaofeng
連絡電話：07-236-7296

座號：_____

※注意：(一)本試題為單一選擇題，請選出一個正確或最適當的答案，複選作答者，該題不予計分。
(二)共 50 題，每題 2 分，須用 2B 鉛筆 在試卡上依題號清楚劃記，於本試題上作答者，不予計分。
(三)禁止使用電子計算器。

- 下列有關「效能 (effectiveness)」的敘述，何者最正確？
(A)效能是指把事情做對 (doing things right) (B)以最少的資源投入，得到最大的產出
(C)達成組織所要的目標 (D)儘量減少資源的使用量
- 一般而言，行銷通路的決策之一就是決定銷售點的密度，也就是在一固定大小區域內，設立其零售點的數量。請問在臺灣，統一便利商店的銷售點密度應該是達到下列那一種配銷程度？
(A)獨家配銷 (B)密集配銷 (C)選擇性配銷 (D)多樣性配銷
- 當選擇工廠的廠址時，會考慮到當地居民對於工廠的正面或負面態度，以及對於當地人民生活的影响，這是屬於下列那一種因素？
(A)社區因素 (B)基礎建設因素 (C)運輸因素 (D)教育因素
- 一家公司的領導人從技術人員出身，對於該公司所處行業所需要的技術、特長及才能都有相當的聲望與地位，讓公司員工都相當信服他的領導。此種領導權力基礎為：
(A)獎賞權力 (B)參考權力 (C)法定權力 (D)專家權力
- 公司透過金融機構發行憑證，使公司借入款項而獲得現金，並且承諾於固定時間支付利息並於到期日償還本金的一種憑證，這種憑證稱為什麼？
(A)公司債 (B)連環債 (C)長期債 (D)資本債
- 某運輸公司要求所有第一線員工必須完全依照標準作業程序，並以此衡量員工績效。該公司對第一線員工採取何種控制模式？
(A)產出控制 (B)行為控制 (C)投入控制 (D)文化控制
- 企業應該善盡社會責任，而善盡責任的對象應該是：
(A)所有利害關係人 (B)員工與顧客 (C)社會大眾 (D)弱勢團體
- 政府推動新南向政策時，幫助企業蒐集有關東南亞國家之宗教信仰、風俗習慣、價值觀體系等資訊，是屬於那一類的經營環境分析？
(A)人口統計環境 (B)社會文化環境 (C)經濟商業環境 (D)政治法律環境
- 某臺商赴越南投資前，發現該國家 30 歲以下年輕人占總人口比重遠高於臺灣，請問這是屬於那一種環境分析？
(A)科技環境 (B)經濟環境 (C)社會環境 (D)法律環境
- 在行銷中，如果商家以商品的成本，再加上一定額度的管銷費用與利潤，以作為商品的訂價，這種訂價方式稱為：
(A)競爭訂價法 (B)折扣訂價法 (C)知覺價值訂價法 (D)成本加成訂價法
- 商品市場上，有些洗髮精以「去頭皮屑」為訴求，讓消費者清楚地了解到產品的特性，讓人們在選擇洗髮精時，能有清楚的認知與記憶，這種是屬於行銷中的那一階段作法？
(A)銷售促進 (B)產品定位 (C)通路選擇 (D)公關策略

- 12 某航空公司所有的航班都強調尊榮高貴的服務，訂價也明顯高於同業，該公司的競爭策略是屬於下列那一種？
(A)多角化策略 (B)差異化策略 (C)集中策略 (D)高成本策略
- 13 下列何者不是影響產業競爭程度的因素之一？
(A)天然資源的多寡 (B)新進入者的威脅 (C)供應商議價能力 (D)購買者議價能力
- 14 某運輸公司在制定下年度單位目標時，下列那種不是良好的目標制定？
(A)載客量成長 5%，營業收入成長 7% (B)只要營業收入達到 7%的成長，就發放績效獎金
(C)提高旅客滿意度，減少客訴抱怨 (D)準點率提高 10%
- 15 臺灣邁向高齡化的社會，對於運輸安全便利的輔助設施需求提高，如果運輸業者能夠運用相關企業資源滿足高齡人口的需求，可以提高公司長期營運利益。請問以上的敘述是結合 SWOT 分析中的那些部分？
(A)SO (B)WT (C)SW (D)WO
- 16 在一般的生產規劃中，依時間長短可以分為三個層次。當依據對產品最終需求來規劃工廠的最大產出水準，作為建廠與購置機械設備的規劃基礎，包含建廠時間與廠房建置完成後開始運作，並且考量到投資回收為止，這樣的考量是屬於何種層次的生產規劃？
(A)短期生產日程計畫 (B)中期集體規劃 (C)長期產能規劃 (D)中長期產能規劃
- 17 請問下列何者並非是存貨管理的工作之一？
(A)市場區隔與定位
(B)倉儲管理
(C)物料編號
(D)建立經濟訂購量模型 (economic ordering quantity model)
- 18 「倉儲管理」是作為倉庫庫存與精準供應生產進料的關鍵過程，請問下列那一選項並非屬於倉儲管理的工作項目？
(A)進貨驗收 (B)清點 (C)存貨盤點 (D)銷售促進
- 19 美國 3M 公司非常重視員工的創意，並將可能商業化的創意付諸實現，這說明 3M 公司非常重視：
(A)外部創業 (B)內部創業 (C)網路創業 (D)微型創業
- 20 某家客運公司領導者常以自己本身的意志與經驗指揮管理決策，公司成員幾乎不曾參與決策過程，此種領導風格是屬於下列何種？
(A)自由放任領導 (B)專制領導 (C)參與領導 (D)家長式領導
- 21 某運輸公司從各部門調派人員成立一個團隊，在一年內要完成開發一條新的旅運路線，以全新的服務型態滿足頂級商務旅客的需要。此團隊的性質為：
(A)創業管理團隊 (B)專案管理團隊 (C)市場管理團隊 (D)聯盟管理團隊
- 22 在員工訓練的各種方法中，若是讓員工暫時離開工作崗位接受訓練，這種訓練方式稱為：
(A)職前訓練 (B)職外訓練 (C)新進訓練 (D)全方位訓練
- 23 新進員工訓練主要針對新進者，導引其了解組織與工作概況，以求其能迅速融入公司工作，請問下列何者並非是新進人員訓練的項目？
(A)基本薪資與福利 (B)董事會的運作模式
(C)公司的文化與價值觀 (D)對於公司的簡介與發展沿革
- 24 在工作分析當中，應該列出工作識別、工作摘要、職責、職權、績效標準、工作條件等項目。下列何者並非是屬於「績效標準」內的項目？
(A)設定員工的研發目標 (B)設定員工的每月產出 (C)辦公環境與地點 (D)設定員工營收成長
- 25 某公司領導者與部屬之間的交換關係類似一種契約，只要部屬完成領導者所交付的任務，領導者就會提供報酬獎賞與升遷機會，這種領導風格是屬於：
(A)魅力型領導 (B)願景型領導 (C)轉型領導 (D)交易型領導

- 26 某公司對於成員的控制與管理，集中於承諾、社會化與忠誠度，較不重視正式規章或標準作業程序，此種組織文化是屬於下列那一個類型？
(A)官僚文化 (B)派閥文化 (C)市場文化 (D)創業文化
- 27 在財務管理理論中，將流動資產減去存貨後，再除以流動負債所得出的比率為：
(A)速動比率 (B)流動比率 (C)存貨週轉率 (D)總資產週轉率
- 28 財務比率分析中的「總資產週轉率」，是指下列何者？
(A)銷貨金額除以固定資產 (B)銷貨金額除以總資產
(C)銷貨成本除以固定資產 (D)流動資產除以固定資產
- 29 財務比率分析中的「總資產報酬率」，是指下列何者？
(A)稅後淨利除以固定資產 (B)稅後淨利除以銷貨
(C)稅後淨利除以普通股權益 (D)稅後淨利除以資產
- 30 如果某一相同事業別中的甲公司與乙公司規模相當，僱用員工人數也相當，但是甲公司的產出明顯高於乙公司甚多，則甲公司之那一項指標顯然高於乙公司？
(A)生產品質 (B)生產力 (C)固定成本 (D)變動成本
- 31 公司經營效能常會以「存貨週轉率」來衡量，該指標如何計算？
(A)銷貨成本除以平均存貨 (B)銷貨成本除以總資產
(C)銷貨成本除以銷貨折讓 (D)銷貨成本除以總負債
- 32 學校在學生畢業之後持續追蹤就業狀況與成就，就管理控制的角度來看，如果學生的就業表現是學校教育的成果，則持續追蹤學生就業後之表現，為下列何種管理控制模式？
(A)過程控制 (B)投入控制 (C)產出控制 (D)社會控制
- 33 顧客關係管理是企業經營中重要的一環，也與多種領域有關，例如行銷管理、資訊管理等，請問下列何者對於顧客關係管理的描述是錯誤的？
(A)企業應該與顧客維持長期的關係 (B)應該儲存所有顧客的基本資料與互動資料
(C)建立以客為尊觀念，維繫顧客忠誠度 (D)只要著重將單一次的交易利益極大化
- 34 在電子商務的經營活動中，如果採用下列的方式：企業架設一個網站，公布企業產品的型錄，以供客戶參考，甚至於進一步引進線上付款以及直接銷售給客戶，企業也提供下載產品說明、提供產品維修資訊等方面資料，上述電子商務的方式，應該屬於下列那一種模式類型？
(A)B2C (business to consumer) (B)C2B (consumer to business)
(C)B2B (business to business) (D)C2C (consumer to consumer)
- 35 下列那一個不是影響員工離職意願的主要原因？
(A)工作滿意度 (B)組織承諾 (C)組織的公平性 (D)在職消費
- 36 「性別工作平等法」之定義中，受僱者於執行職務時，任何人以性要求、具有性意味或性別歧視之言詞或行為，對其造成敵意性、脅迫性或冒犯性之工作環境，致侵犯或干擾其人格尊嚴、人身自由或影響其工作表現者，為：
(A)敵意工作環境性騷擾 (B)交換式性騷擾 (C)輕微不罰之性騷擾 (D)妨害自由式性騷擾
- 37 某公司建立一套制度讓員工有機會在不同部門轉換工作增加歷練，這套制度稱為：
(A)工作豐富 (B)工作輪調 (C)工作擴大 (D)工作簡化
- 38 哈佛大學教授麥可波特 (Michael E. Porter) 指出，企業以價格作為競爭的主要手段，重點在追求生產上的規模經濟，對成本嚴格控制，這種策略稱為：
(A)差異化策略 (B)全面成本領導策略 (C)集中化策略 (D)全球化策略
- 39 組織變革要經歷的三個階段，其順序為何？
(A)解凍、改變、再結凍 (B)先結凍、解凍、改變 (C)改變、解凍、再結凍 (D)結凍、改變、解凍

- 40 擬訂企業策略，在企業的經營中扮演著非常重要的角色，而哈佛大學教授麥可波特（Michael E. Porter）就提出了五力分析的架構，作為進行產業分析的觀念，請問下列那一選項中含有並非「五力」來源的主要對象？
- (A)供應者、購買者、主導者 (B)競爭者、潛在進入者、替代者
(C)替代者、購買者、供應者 (D)競爭者、供應者、潛在進入者
- 41 美國哈佛大學教授麥可波特（Michael E. Porter），曾經提出企業可以運用的三個一般化競爭策略，請問是下列那三者？
- (A)精緻化、差異化、全面成本領導 (B)差異化、擴大化、精緻化
(C)全球化、全面成本領導、擴大化 (D)差異化、全面成本領導、集中化
- 42 McGregor 提出的 Y 理論，基本上是認為：
- (A)人的本質是負面觀點，亦即不喜歡工作，沒有企圖心
(B)人的本質是正面觀點，亦即喜歡工作，並且自動自發
(C)人的本質是負面觀點，雖然不喜歡工作，但是還是會自動自發
(D)人的本質是中性觀點，有時喜歡工作，有時討厭工作，視情況而定
- 43 若某條件存在時不會導致員工不滿足，但也不會是被激勵的主要因素，例如工作環境，則該條件是屬於？
- (A)保健因子（hygiene factors） (B)激勵因子（motivators）
(C)成就因子（achievement factors） (D)雙重因子（dual factors）
- 44 根據馬斯洛（Maslow）的需要層級理論，員工希望被同事接納成為公司的一份子，渴望友情與同事情誼，這是那一個層級的需要？
- (A)自我實現需要 (B)歸屬感需要 (C)尊重需要 (D)安全需要
- 45 企業運作過程中，經由時間的累積，學習處理外在問題以及內部整合時，漸漸建立起一套共享的基本假設，並且可以傳授給新進的成員，成為企業內部成員所共享的價值觀與行為模式，並且影響員工的行為。上述概念可以稱為：
- (A)企業文化 (B)企業功能 (C)企業標竿 (D)企業策略
- 46 員工會因為自己投入比其他人還要多，卻得到比較少的回報，而感到不滿意甚至想要離職。此種觀點是何種理論的應用？
- (A)期望理論 (B)自由理論 (C)公平理論 (D)增強理論
- 47 如果全球消費者的偏好趨於一致，使得產品標準化程度提高，此趨勢為：
- (A)生產全球化 (B)市場全球化 (C)貿易全球化 (D)技術全球化
- 48 下列那一個國家不是東南亞國協（ASEAN）的成員國？
- (A)汶萊 (B)柬埔寨 (C)緬甸 (D)孟加拉
- 49 知識管理中所謂的內隱知識，是指下列那一種？
- (A)公司內部的操作手冊 (B)公司內部的規章
(C)員工多年服務客戶的經驗 (D)公司新進員工訓練手冊
- 50 2017 年麥當勞出售臺灣子公司的全數股權，改由本土經營團隊接手，但仍須遵照麥當勞總部的要求標準來經營。這意味著麥當勞在臺灣的全球市場進入策略變更為：
- (A)合資 (B)特許加盟 (C)直接投資 (D)契約製造

更多鐵路考試科目的歷屆題庫
立即上網搜尋“鐵路歷屆考古題懶人包”
高鋒公職補習班整理
Line@帳號：@gaofeng
連絡電話：07-236-7296

測驗式試題標準答案

考試名稱：107年公務人員特種考試警察人員、一般警察人員考試及107年特種考試交通事業鐵路人員考試

類科名稱：運輸營業

科目名稱：企業管理大意（試題代號：3903）

更多鐵路考試科目的歷屆題庫
立即上網搜尋“鐵路歷屆考古題懶人包”
高鋒公職補習班整理
Line@帳號：@gaofeng
連絡電話：07-236-7296

單選題數：50題

單選每題配分：2.00分

複選題數：

複選每題配分：

標準答案：

題號	第1題	第2題	第3題	第4題	第5題	第6題	第7題	第8題	第9題	第10題
答案	C	B	A	D	A	B	A	B	C	D

題號	第11題	第12題	第13題	第14題	第15題	第16題	第17題	第18題	第19題	第20題
答案	B	C	A	C	A	C	A	D	B	B

題號	第21題	第22題	第23題	第24題	第25題	第26題	第27題	第28題	第29題	第30題
答案	B	B	B	C	D	B	A	B	D	B

題號	第31題	第32題	第33題	第34題	第35題	第36題	第37題	第38題	第39題	第40題
答案	A	C	D	A	D	A	B	B	A	A

題號	第41題	第42題	第43題	第44題	第45題	第46題	第47題	第48題	第49題	第50題
答案	D	B	A	B	A	C	B	D	C	B

題號	第51題	第52題	第53題	第54題	第55題	第56題	第57題	第58題	第59題	第60題
答案										

題號	第61題	第62題	第63題	第64題	第65題	第66題	第67題	第68題	第69題	第70題
答案										

題號	第71題	第72題	第73題	第74題	第75題	第76題	第77題	第78題	第79題	第80題
答案										

題號	第81題	第82題	第83題	第84題	第85題	第86題	第87題	第88題	第89題	第90題
答案										

題號	第91題	第92題	第93題	第94題	第95題	第96題	第97題	第98題	第99題	第100題
答案										

備註：

107年公務人員特種考試警察人員、一般警察人員考試及 107年特種考試交通事業鐵路人員考試試題

考試別：鐵路人員考試
等別：佐級考試
類科別：運輸營業、場站調車
科目：鐵路運輸學大意
考試時間：1小時

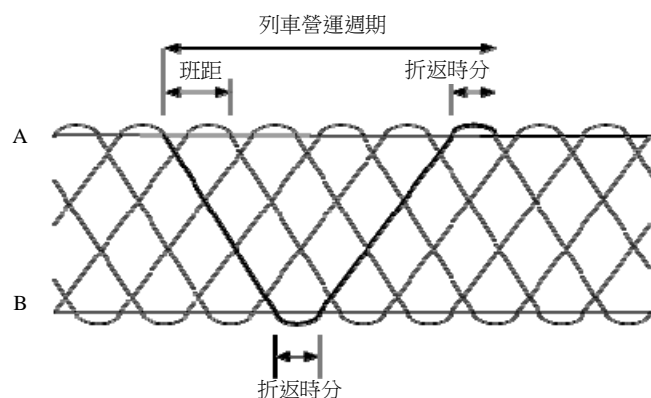
更多鐵路考試科目的歷屆題庫
立即上網搜尋“鐵路歷屆考古題懶人包”
高鋒公職補習班整理
Line@帳號：@gaofeng
連絡電話：07-236-7296

座號：_____

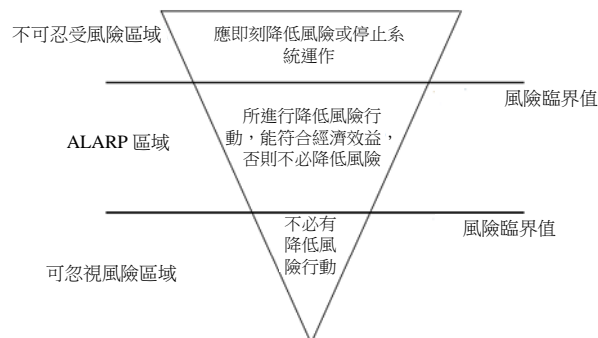
※注意：(一)本試題為單一選擇題，請選出一個正確或最適當的答案，複選作答者，該題不予計分。
(二)共 50 題，每題 2 分，須用 2B 鉛筆 在試卡上依題號清楚劃記，於本試題上作答者，不予計分。
(三)禁止使用電子計算器。

- 高運量的鐵路大眾捷運 (Rail rapid transit) 路線的單方向路線容量 (人/小時) 約為下列那一個範圍？
(A) 5,000 至 10,000 之間 (B) 10,000 至 15,000 之間 (C) 20,000 至 60,000 之間 (D) 100,000 以上
- 鐵路車輛依據動力設備分類，車廂車架的部分或全部具有動力，可以單獨或連接其他車廂方式載客行駛營運的是：
(A) 機車頭 (B) 動力車廂 (C) 動力拖車 (D) 無動力拖車
- 鐵路運輸的一項特性是多部車輛連結成列車行駛，成列行駛之優點是：
(A) 提高路線容量 (B) 提高行駛速度 (C) 提高行車安全 (D) 提高行車準點
- 對於阿里山鐵路之描述，下列何者正確？
(A) 最大坡度 62.5% (B) 齒軌式登山鐵路 (C) 電力推進系統 (D) 軌距 762 公厘
- 「閉塞區間」的意義是：
(A) 不能同時運轉二列以上列車之號誌區間 (B) 不能同時運轉二列以上列車之車站區間
(C) 兩險阻號誌區間 (D) 兩平安號誌區間
- 下列那一項規則探討鐵路旅客運送及鐵路機構責任？
(A) 鐵路行車規則 (B) 鐵路附屬事業經營規則
(C) 鐵路運送規則 (D) 鐵路修建養護規則
- 依國內鐵路運輸對於旅客乘車之規定，下列何者正確？
(A) 旅客在車票有效期間內，必須於車票起訖區間之起站乘車
(B) 旅客在車票有效期間內，必須於車票起訖區間之訖站下車
(C) 旅客在車票有效期間內，得於車票起訖區間之任何停車站乘車
(D) 旅客在車票有效期間內，得於車票起訖區間之任何車站下車
- 鐵路機構應揭示於車站明顯處的資訊中，不包括下列那一項？
(A) 旅客列車時刻表 (B) 客貨運運價及票價
(C) 旅客、包裹及貨物運送契約 (D) 列車運行圖
- 下列那一項不是鐵路機構得拒絕運送的情況？
(A) 旅客乘車未出示身分證件者
(B) 旅客需要護送而無護送人
(C) 旅客有明顯傷害自己或他人之虞，或有騷擾他人行為
(D) 旅客穿著惡臭衣物或攜帶不潔物品影響公共衛生
- 依據「鐵路修建養護規則」第 2 條之定義，一般所謂之鐵路路線不包括下列那一項？
(A) 運轉保安設備 (B) 橋梁 (C) 軌道 (D) 車輛
- 軌距之測量，應於兩軌頭的何處進行測量？
(A) 內側 (B) 外側 (C) 中心 (D) 內外側都可以
- 軌道結構中具有固定鋼軌、保持軌距、傳送與分散荷重等功能之單元是：
(A) 道碴 (B) 路床 (C) 軌枕 (D) 止衝檔
- 依據國內鐵路法規，列車營運速度經許可得達每小時多少公里以上者可稱「高速鐵路」？
(A) 150 (B) 200 (C) 250 (D) 300

- 14 台灣高鐵所提供的服務以下列那一種運輸市場為主？
(A)都市運輸 (B)國際運輸 (C)鄉村運輸 (D)城際運輸
- 15 台灣高鐵為了提高營運績效的諸多措施中，不包括下列那一項？
(A)乘車座位之超額訂位 (B)早鳥票等差別費率 (C)自由席等艙位管理 (D)離峰等優惠票價
- 16 臺灣鐵路管理局營運的太魯閣號列車與普悠瑪號列車是傾斜式列車(Tilting train)，下列那一項敘述正確？
(A)相較於普通列車，傾斜式列車通過彎道時可以較快速度行駛
(B)相較於普通列車，傾斜式列車車型設計流線列車行駛阻力小
(C)相較於普通列車，傾斜式列車貼路性較佳可以提升行駛速度
(D)相較於普通列車，傾斜式列車簡化機構設計節省製造維修成本
- 17 下列何者不是影響鐵路路線容量的因素？
(A)鐵路組織經營型態，如公營或民營 (B)路線條件，如路線幾何條件等
(C)控制條件，如閉塞制度、閉塞號誌配置等 (D)列車性能、列車組成、車廂設計等
- 18 某鐵路路線行駛 4 節車廂之列車，每車廂 200 座位；尖峰期間班距 6 分鐘。表訂路線容量（總座位數/小時）為：
(A)7,200 (B)7,600 (C)8,000 (D)8,400
- 19 A 與 B 兩點間的通勤路線營運每站皆停之列車：列車自起站 A 出發，中途車站皆停靠，營運到達終站 B 後，列車折返；接著由終站 B 出發，一路營運至起站 A，列車折返；再重複起站 (A) 與終站 (B) 間之往返營運；營運時空變化如下圖所示。



- 假設列車營運去程 12 分鐘，回程營運相同為 12 分鐘，列車在一個車站內之折返時間 3 分鐘。列車營運週期 (round trip time) 為多少分鐘？
(A)12 (B)24 (C)30 (D)36
- 20 高雄捷運鐵路系統對於乘客的風險，考慮年平均致命率，設定 10^{-5} 與 10^{-7} 為風險臨界值，下列那一項敘述正確？



- (A)不可忍受的風險臨界值為 10^{-7}
(B)可忽視的風險臨界值為 10^{-7}
(C)風險小於 (或低於) 「不可忍受的風險臨界值」，不必進行降低風險行動
(D)風險大於 (或高於) 「可忽視的風險臨界值」，不必進行降低風險行動

- 21 對於臺鐵使用之自動列車防護系統（Automatic train protection），下列敘述何者正確？
(A)列車超過規定速度時即自動制動 (B)列車低於規定速度時即自動加速
(C)列車超過規定速度立即自動鎖門 (D)列車在建議速度範圍外立即警告
- 22 臺灣鐵路平交道分為 6 種，對於數量最多的第 3 種甲平交道，下列那一項說明錯誤？
(A)設置自動警報裝置 (B)設置自動遮斷器 (C)不派看柵工駐守 (D)不設置平交道標誌
- 23 臺灣鐵路管理局客運運價，每人公里基本費率，係依下列何種原則訂定？
(A)競爭基礎定價 (B)合理報酬率定價 (C)價值基礎定價 (D)獨占觀點定價
- 24 臺灣鐵路管理局推動「簡化車種」，可達成的重要直接結果是：
(A)提高臺鐵形象 (B)提高員工素質 (C)提高營業虧損 (D)提高路線容量
- 25 列車行駛之淨牽引力等於牽引力減列車阻力，列車阻力不包括下列那一項？
(A)停車阻力（stopping resistance） (B)行駛阻力（running resistance）
(C)坡道阻力（gradient resistance） (D)彎道阻力（curve resistance）
- 26 請問高速鐵路列車的平平均承載率應如何計算？
(A)旅客人數 ÷ 座位數 (B)旅客人數 ÷ 列車容量
(C)旅客重量 ÷ 列車可承載重量 (D)延人公里數 ÷ 座位公里數
- 27 依照鐵路行車規則，臺鐵正線應有的巡視頻率為？
(A)2 天 1 次 (B)1 周 1 次 (C)1 天 2 次 (D)1 天 1 次
- 28 捷運系統曲線段之超高，原則上採用何種方式佈設？
(A)僅抬高外軌 (B)僅降低內軌
(C)外軌抬高 1/2 內軌降低 1/2 (D)外軌抬高 2/3 內軌降低 1/3
- 29 常用煞車之急衝度應以乘客之舒適度需求而規範，請問急衝度的單位為何？
(A)秒分之公尺 (B)秒平方分之公尺 (C)秒立方分之公尺 (D)公尺分之秒
- 30 請問臺鐵列車準點的定義，是以列車到達終點站延誤幾分鐘以內者，謂之列車準點？
(A)1 分鐘 (B)3 分鐘 (C)5 分鐘 (D)10 分鐘
- 31 高雄輕軌與淡海輕軌均採用槽狀鋼軌，請問槽狀鋼軌軌頭上的凹槽主要功能為何？
(A)方便排水 (B)方便排除軌道上之沙塵
(C)方便鋼輪輪軸通過 (D)方便鋼輪輪緣通過
- 32 請問以下對於臺鐵以及台灣高鐵的經營型式說明，何者正確？
(A)均為車路分離 (B)均為車路合一
(C)臺鐵車路分離，台灣高鐵車路合一 (D)臺鐵車路合一，台灣高鐵車路分離
- 33 下列何者為臺鐵的電聯車組？
(A)DR3100 (B)TEMU1000 (C)DHL100 (D)E1000
- 34 下列有關施行電氣路牌閉塞式之閉塞區間敘述，何者錯誤？
(A)兩端站應設置電氣路牌閉塞器，並裝有電鈴及電話機
(B)閉塞區間兩端站，僅能取出路牌一具
(C)非經閉塞區間兩端站之合作，無法取出路牌
(D)鄰接閉塞區間之路牌，可共通使用
- 35 下列對於臺鐵現有的列車位置偵測方式之說明，何者正確？
(A)僅使用軌道電路 (B)僅使用計軸器
(C)同時使用軌道電路與計軸器 (D)同時使用軌道電路、計軸器與 ATP 防護系統
- 36 捷運系統規劃設計時，應依據規範訂定 RAMS 目標。請問 RAMS 字面上的意思為下列的那四個性能指標？
(A)準點率、安全性、計畫工期、執行率 (B)風險、可接受度、維護度、服務滿意度
(C)承載率、穩定度、可靠度、旅客滿意度 (D)可靠度、可用度、可維修度、安全性
- 37 下列對於臺鐵、台灣高鐵以及臺北捷運施行複線運轉時，正線主要行車方向的說明何者正確？
(A)臺鐵與台灣高鐵均採用靠左側行車、臺北捷運採用靠右側行車
(B)臺鐵採用靠左側行車、台灣高鐵與臺北捷運均採用靠右側行車
(C)均採用靠右側行車
(D)均採用靠左側行車

- 38 臺鐵沿線的速限標誌，在同一點常有上下兩面，請問下列有關該兩面速限標誌的敘述，何者正確？
(A)上方是列車最高速限，下方是列車最低速限
(B)上方是傾斜式列車的速限，下方是一般列車的速限
(C)上方是一般列車的速限，下方是傾斜式列車的速限
(D)上方是列車最低速限，下方是列車最高速限
- 39 下列對於台灣高鐵以及臺北捷運的牽引供電說明，何者正確？
(A)均採用直流供電
(B)均採用交流供電
(C)台灣高鐵採用交流供電、臺北捷運採用直流供電
(D)台灣高鐵採用直流供電、臺北捷運採用交流供電
- 40 對臺鐵系統而言，曲度的表示方法為何？
(A)以弦長 20 公尺所對應之圓心角表述
(B)以弧長 20 公尺所對應之圓心角表述
(C)以弦長 30 公尺所對應之圓心角表述
(D)以弧長 30 公尺所對應之圓心角表述
- 41 對於一正在平坦路段行駛之列車而言，下列敘述何者正確？
(A)牽引力隨運轉速度升高而升高
(B)均衡速度為牽引力與阻力達平衡時列車運轉的速度
(C)均衡速度為該列車之平均速度
(D)行駛阻力隨運轉速度升高而降低
- 42 依據國際地鐵聯盟（CoMET）的統計指標，臺北捷運多年獲得可靠度世界第一之殊榮，請問該可靠度的統計指標為何？
(A)考量 5 分鐘以上行車延誤事件下的平均列車準點率
(B)考量 5 分鐘以上行車延誤事件下的平均列車可用度
(C)旅客滿意度
(D)每發生 1 件 5 分鐘以上行車延誤事件的平均行駛車廂公里數
- 43 目前臺灣最新成立的捷運公司是那一個？
(A)桃園大眾捷運股份有限公司
(B)新北大眾捷運股份有限公司
(C)高雄捷運股份有限公司
(D)臺南捷運股份有限公司
- 44 在一般的道岔布設中，轉轍器的位置最靠近下列那一個道岔構造？
(A)岔心
(B)尖軌
(C)導軌
(D)護軌
- 45 下列有關申請參加國營鐵路列車駕駛人員應符合資格之描述，何者錯誤？
(A)年滿 18 歲
(B)具備高中以上學歷
(C)經鐵路機構實施技能檢定合格
(D)經體格檢查及適性檢查合格
- 46 月台之高度定義為何？
(A)月台面至鋼軌面之高差
(B)月台面至地面之高差
(C)月台面至軌底之高差
(D)月台面至軌枕面之高差
- 47 臺鐵西部幹線的各變電站供電範圍一般為何？
(A)向北供電約 40 公里
(B)向南供電約 40 公里
(C)向南北雙方供電各約 40 公里
(D)向南北雙方供電各約 20 公里
- 48 一般而言，在 1 個單一橫渡線當中，共有幾個岔心？
(A)1 個
(B)2 個
(C)3 個
(D)4 個
- 49 三通閥（Triple Valve）是鐵路運輸歷史上重要的發明之一，請問其為下列何者中的重要構造？
(A)自動空氣軔機系統
(B)磁軌軔機系統
(C)再生制軔系統
(D)風阻制軔系統
- 50 以最普遍的臺鐵客車車輛而言，通常一個客車車廂共有幾個轉向架，共有幾個車軸？
(A)一個轉向架、兩個車軸
(B)兩個轉向架、四個車軸
(C)兩個轉向架、六個車軸
(D)三個轉向架、六個車軸

更多鐵路考試科目的歷屆題庫
立即上網搜尋“鐵路歷屆考古題懶人包”
高鋒公職補習班整理
Line@帳號：@gaofeng
連絡電話：07-236-7296

測驗式試題標準答案

考試名稱：107年公務人員特種考試警察人員、一般警察人員考試及107年特種考試交通事業鐵路人員考試

類科名稱：場站調車、運輸營業

科目名稱：鐵路運輸學大意（試題代號：4903）

更多鐵路考試科目的歷屆題庫
立即上網搜尋“鐵路歷屆考古題懶人包”
高鋒公職補習班整理
Line@帳號：@gaofeng
連絡電話：07-236-7296

單選題數：50題

單選每題配分：2.00分

複選題數：

複選每題配分：

標準答案：

題號	第1題	第2題	第3題	第4題	第5題	第6題	第7題	第8題	第9題	第10題
答案	C	B	A	D	A	C	C	D	A	D

題號	第11題	第12題	第13題	第14題	第15題	第16題	第17題	第18題	第19題	第20題
答案	A	C	B	D	A	A	A	C	C	B

題號	第21題	第22題	第23題	第24題	第25題	第26題	第27題	第28題	第29題	第30題
答案	A	D	B	D	A	D	D	A	C	C

題號	第31題	第32題	第33題	第34題	第35題	第36題	第37題	第38題	第39題	第40題
答案	D	B	B	D	C	D	A	B	C	A

題號	第41題	第42題	第43題	第44題	第45題	第46題	第47題	第48題	第49題	第50題
答案	B	D	B	B	B	A	D	B	A	B

題號	第51題	第52題	第53題	第54題	第55題	第56題	第57題	第58題	第59題	第60題
答案										

題號	第61題	第62題	第63題	第64題	第65題	第66題	第67題	第68題	第69題	第70題
答案										

題號	第71題	第72題	第73題	第74題	第75題	第76題	第77題	第78題	第79題	第80題
答案										

題號	第81題	第82題	第83題	第84題	第85題	第86題	第87題	第88題	第89題	第90題
答案										

題號	第91題	第92題	第93題	第94題	第95題	第96題	第97題	第98題	第99題	第100題
答案										

備註：

106年公務人員特種考試警察人員、一般警察人員考試及106年特種考試交通事業鐵路人員、退除役軍人轉任公務人員考試試題

代號：1902
頁次：6-1

考試別：鐵路人員考試
等別：佐級考試
類科別：材料管理、運輸營業、場站調車、養路工程
科目：國文（包括公文格式用語）
考試時間：1小時

更多鐵路考試科目的歷屆題庫
立即上網搜尋“鐵路歷屆考古題懶人包”
高鋒公職補習班整理
Line@帳號：@gaofeng
連絡電話：07-236-7296

座號：_____

※注意：(一)共 45 題，其中單選題 35 題，複選題 10 題，各題答案須用 2B 鉛筆在試卡上依題號清楚劃記，於本試題上作答者，不予計分。

(二)禁止使用電子計算器。

一、單選題（第 1 題至第 35 題，每題 2 分，占 70 分）

說明：所列的四個選項，請選出一個正確或最適當的答案，複選作答者，該題不予計分。

- 下列句子中完全沒有錯別字的是：
(A)這些生命鬥士們個個毅力不搖、艱忍不屈的精神真令人佩服
(B)這款新型電子商品大降價的消息一出，購買者瞬間蜂湧而至
(C)近幾年來盛行騎單車的運動，大家對健康的重視可見一斑
(D)大自然的鬼斧神工與愛因斯坦的相對論實有異取同工之妙
- 下列文句中，「」內成語使用完全正確的選項是：
(A)英國脫歐的風險「理所不容」，對全球經濟可能造成的影響，更是無法衡量
(B)位居東協第二大經濟體的泰國，經濟實力逐年壯大，未來發展「不容小覷」
(C)金磚四國不僅貿易往來日益密切，且將引領全球之經濟，已是「間不容縷」
(D)東南亞經濟整合，已完成階段性任務，而東協所扮演之角色亦「無所不容」
- 下列文句中的「左右」，與方位直接相關的是：
(A)國家的經濟發展，往往為時局所「左右」
(B)他接獲訊息，立刻吩咐「左右」準備應對
(C)他膂力超過常人，打仗時能「左右」開弓
(D)距離上次相聚至今，已有二十年「左右」
- 「那是一回美麗的『偶然邂逅』。」其實「邂逅」本身已有「偶然」的意思，只需說「那是一回美麗的邂逅」即可。下列選項引號中的詞彙，沒有詞義重覆的是：
(A)他長期以來的暗中相助，我「心裡由衷」感謝
(B)士林新店開幕，非常感謝諸位嘉賓的「蒞臨指導」
(C)問題兒童的不當行為，多半來自父母的「過分溺愛」
(D)今日球賽才到三局上半，雙方得分已經「懸殊很大」
- 如果要贈送他人生育之喜的題辭，下列用語何者適宜？
(A)日月齊輝 (B)芝蘭新茁 (C)宜室宜家 (D)昌大門楣
- 下列稱謂使用不當的是：
(A)「內子」平日在家照顧小孩，整理家務
(B)承蒙「閣下」大力幫忙，小弟必定銘記在心
(C)「家慈」管教有方，賢昆仲今日方能有此成就
(D)小女有幸與「令媛」同臺演出，得以切磋，獲益良多
- 下列公文格式用語，敘述錯誤的是：
(A)附送語，對上級附送附件時用「檢送」
(B)簽具意見，應避免未擬意見而僅用「陳核」或「請示」
(C)期望及目的語，對上級機關或首長報核案件時，用「請鑒核」
(D)稱謂語，有隸屬關係之下級機關首長對上級機關首長可用「鈞長」

- 8 《荀子·富國》：「下貧則上貧，下富則上富。」此種說法與下列選項最為接近的是：
(A)藏富於民 (B)貧富不均 (C)貧富懸殊 (D)為富不仁
- 9 全球化時代更應該加強本土化的認同與建構，然而，在落實本土化之際，很多所謂的「本土」其實都已經有了「全球」的參照系，亦即它其實並非原生。以下都和文化的基本認識有關，請選出錯誤的選項：
(A)從台灣不同料理的發展脈絡中，可以勾勒出文化轉移的過程中，文化在異鄉落地生根的新本土性格
(B)我們在台灣吃的異國料理不道地，是因為已經被調整為台式口味，而這是飲食全球化過程中的必然現象
(C)外國明星到台灣開演唱會時，以我國國語向觀眾問候甚至唱華語歌，都是一種台灣本土化的表現，值得鼓勵愛戴
(D)台灣紅面番鴨（巨型藝術展示）、各式民宿和咖啡館，都是師法世界各地的文化元素後，再注入本土特色的表現
- 10 「歌仔戲作為臺灣鄉土戲曲的代表劇種，百餘年前在宜蘭，將車鼓與歌仔結合為『踏謠』之落地掃以來，即不停的隨時變遷發展，歷經老歌仔戲、野台、內台、大型歌仔戲，而轉型為廣播、電影、電視歌仔戲，近二十幾年來由於進入現代劇場而成為精緻歌仔戲，已成為臺灣大眾喜聞樂見的戲曲劇種。戲曲是綜合的文學和藝術，自然要和一般文學、藝術走同樣的發展軌跡，那就是與時變遷、調適當代，才能不斷提升，生生不息。由歌仔戲的發展史看來，也正採取相似的途徑。」請問在本文中，作者的意思是：
(A)臺灣歌仔戲發展的過程就是一連串陳陳相因的結果
(B)野台戲或精緻歌仔戲都是與時變遷、調適當代的結果
(C)因為戲曲是綜合了文學和藝術，所以轉型是自然演變的結果
(D)一百多年來的歌仔戲不斷發展，但很可惜近二十年則停止發展了
- 11 王安石〈答司馬諫議書〉：「儒者所爭，尤在於名實；名實已明，而天下之理得矣。今君實所以見教者，以為侵官、生事、征利、拒諫，以致天下怨謗也。某則以謂：受命於人主，議法度而修之於朝廷，以授之於有司，不為侵官；舉先王之政，以興利除弊，不為生事；為天下理財，不為征利；闢邪說，難王人，不為拒諫。至於怨誹之多，則固前知其如此也。」
本文所謂「名實」之意，下列選項正確的是：
(A)名過其實 (B)名實相符 (C)名存實亡 (D)名實不稱
- 12 承上題，下列選項錯誤的是：
(A)文中「某」，是指王安石 (B)文中「見教」，意謂「受教」
(C)文中「征利」，意謂爭逐利益 (D)文中「有司」，意謂「職有專司」
- 13 「弔喪弗能賻，不問其所費。問疾弗能遺，不問其所欲。見人弗能館，不問其所舍。」（《禮記·曲禮上》）下列選項，最符合本文意思的是：
(A)舉辦喪事不宜耗費過鉅 (B)關懷他人之前，宜先考量自身能力
(C)面對外在威脅，應堅持自身道德倫理 (D)自身欲望若太過強烈，將導致行為偏差
- 14 《史記·外戚世家》：「浴不必江海，要之去垢；馬不必騏驎，要之善走。」所說的是什麼道理？
(A)識才 (B)果決 (C)務實 (D)篤行
- 15 「世之所貴道者，書也，書不過語，語有貴也。語之所貴者，意也，意有所隨。意之所隨者，不可以言傳也，而世因貴言傳書。世雖貴之，我猶不足貴也，為其貴非其貴也。」（《莊子·天道》）
下列選項最能表達此文意涵的是：
(A)曲高和寡 (B)得魚忘筌 (C)見微知著 (D)應對如流

- 16 王安石〈材論〉：「天下之患，不患材之不眾，患上之人不欲其眾；不患士之不為，患上之人不使其為也。」本文旨意為：
- (A)擔任屬下者勿結黨聚眾 (B)在上位者下指令應明確
(C)擔任屬下者應勇於建言 (D)在上位者要能雅納群才
- 17 「夫學者之欲至於聖賢，猶射者之求中夫正鵠也。不以聖賢為準的而學者，是不立正鵠而射者也。」（虞集〈尚志齋說〉）下列選項最切合文旨的是：
- (A)為學當以聖賢為標的 (B)欲學為聖賢，必先學射
(C)志不立，則天下無可成之事 (D)立志則為聖賢，否則為凡夫
- 18 古諺「籠雞有食湯鍋近，野鶴無糧天地寬」的意涵，與下列選項最相近的是：
- (A)不以物喜，不以己悲 (B)不蘄樊籬，自得豁達 (C)反璞歸真，放逸山林 (D)萬物平等，不豐不殺
- 19 「士生於世，使其中不自得，將何往而非病？使其中坦然不以物傷性，將何適而非快？」此文旨在說明：
- (A)物我融合 (B)憂樂唯心 (C)得失無常 (D)患得患失
- 20 「權衡之平物，動則輕重差，其於靜也，錙銖不失。水之鑿物，動則不能有睹，其於靜也，毫髮可辨。在乎人，耳司聽，目司視，動則亂於聰明，其於靜也，聞見必審。」（歐陽脩〈非非堂記〉）文中「動則亂於聰明」最正確的解釋是：
- (A)躁動則擾亂聽聞 (B)見異思遷心思無法清明
(C)動靜適切才能視聽清晰 (D)動靜失衡難以成為聰明人
- 21 有憂國者，有愛國者。愛國者語憂國者曰：「汝曷為好言國民之所短？」曰：「吾惟憂之之故！」憂國者語愛國者曰：「汝曷為好言國民之所長？」曰：「吾惟愛之之故！」憂國之言，使人作憤激之氣；愛國之言，使人厲進取之心，此其所長。憂國之言，使人墮頹放之志；愛國之言，使人生保守之思，此其所短也。朱子曰：「教學者如扶醉人，扶得東來西又倒。」用之不得其當，雖善言亦足以誤天下。為報館主筆者，於此中消息，不可不留意焉。今天下之可憂者，莫中國若；天下之可愛者，亦莫中國若。吾愈益憂之，則愈益愛之；愈益愛之，則愈益憂之。既欲哭之，又欲歌之。吾哭矣，誰與踊者？吾歌矣，誰與和者？（梁啟超〈憂國與愛國〉）下列選項符合文意的是：
- (A)愛之適足以害之 (B)愛之深，責之切 (C)己所不欲，勿施於人 (D)鐘鼎山林，各有所好
- 22 承上題，下列敘述何者正確？
- (A)憂國者之言，易使人作憤激之氣，使人墮頹放之志，是其缺失
(B)愛國者之言，易使人生保守之思，使人厲進取之心，是其長處
(C)中國社會既可憂又可愛，表達其憂國愛國，慨嘆天下無知音者
(D)報館主筆者，對社會正反意見，如同扶持醉人一樣，莫衷一是
- 23 「古人雁足傳書，雲中來去，今者青鳥作使，為君探看，惜我許久以來耽於電話，傳真與 E-mail，徒然辜負了寫信的逸興，也喪失了收信的微喜。因此現在儘管案牘勞形，偶爾要作應酬文書，總也不免搖曳竹管去渲染一份閒情，那怕是『書被催成墨未濃』的枯淡也沒有關係。」關於本文意旨，何者正確？
- (A)電話、傳真、E-mail 之便利讓人耽溺 (B)搖曳竹管渲染閒情最後難免流於枯淡
(C)在應酬文書案牘勞形中找到生活樂趣 (D)雖科技便利卻仍嚮往書信往返的欣喜
- 24 然而，也就是這種遺忘，芹壁村被時間之神所眷顧，除了風雨、蟲蟻摧毀了一部分屋頂之外，大部分石屋的牆面、格局都還留存著原貌；半個世紀過去了，許多村落已經因為村民的繁衍與整建而趨於死亡，然而芹壁村仍然活著，雖然有些荒蕪與滄桑。
- 「芹壁村仍然活著」是指：
- (A)村民入住人數越來越多 (B)荒蕪滄桑已然今非昔比
(C)雖荒煙蔓草仍留存原樣 (D)重建之後展現當年風華

- 25 「如果技巧是創作的核心，那麼在聖昆丁州立監獄的受刑人，花二十年時間，用牙籤做出一座艾菲爾鐵塔的完美複製品，確實他有一套讓人留下深刻印象的方法，那麼他的蠟像恐怕可以在知名藝術家蠟像館陳列了。但事實不是如此，呈現新想法的創作比呈現技巧的創作有趣多了。」
依據上文，下列選項敘述正確的是：
(A)肯定受刑人用牙籤複製出完美的艾菲爾鐵塔，乃是藝術的創新
(B)肯定監獄受刑人的創意作品，足以讓作者在藝術家蠟像館留名
(C)反對技巧為創作的核心，主張創作可以隨心所欲，不依賴技巧
(D)反對技巧為創作的核心，主張炫技的作品，失去了創作的趣味
- 26 「行路不難，只是辛苦；問路實難，它決定了旅程長遠的價值。」下列選項與此段文意相應的是：
(A)不畏艱難方能達成目標 (B)方向正確可使旅程順利
(C)身分尊貴者應不恥下問 (D)長遠之行勝於隨處漫遊
- 27 「在這本書中，我們共同來思考一下一個基本事實，即人們不是隔絕而孤單地生活，而是一起在社會中生活。我將要談到權力和組織，談到互助和強者對弱者的剝削，談到平等和差異的權力，談到戰爭與和平；我們要批判順從的原因和反抗的理由。」倘若這是一本書的序文，則其屬性最可能的是：
(A)管理學 (B)政治學 (C)心理學 (D)經濟學
- 28 魯哀公誅孔丘曰：「天不遺耆老，莫相予位焉，嗚呼哀哉！尼父！」（《禮記·檀弓》）
依據上文，下列敘述正確的是：
(A)魯君因失去孔子這位良相而哀傷 (B)魯君因耆老不知如何治國而哀傷
(C)孔子歿，魯君哀無人能任宰相之職 (D)孔子歿，魯君哀傷無人能助其治國
- 29 下列詩句表達對故鄉思戀的選項是：
(A)朝朝江口望，錯認幾人船 (B)胡馬依北風，越鳥巢南枝
(C)蠟燭有心還惜別，替人垂淚到天明 (D)總為浮雲能蔽日，長安不見使人愁
- 30 「這條寫字之路，緣起於十幾年前父親過世，想念之餘寫了一篇思親文，沒想到第一次投稿即被錄用，受鼓舞下更勤奮了。……十餘年後的今日翻閱舊作，不禁要感謝各報編輯們，沒有你們『不計較』文筆的雅量，就沒有今近一百五十篇文章上報的我。」
由本文可知寫作對作者來說是一件：
(A)可有可無的事 (B)無心插柳的事 (C)排遣寂寞的事 (D)勉為其難的事
- 31 「依舊是關帝廟／依舊是洗了的襪子曬在偃月刀上／依舊是小調兒那個唱，蓮花兒那個落／……／而主要的是／一個子兒也沒有／與乎死蝨般破碎的回憶／與乎被大街磨穿了的芒鞋／與乎藏在牙齒的城堞中的那些／那些殺戮的慾望／每扇門對我關著，當夜晚來時／人們就開始偏愛他們自己修築的籬笆／只有月光，月光沒有籬笆／且注滿施捨的牛奶於我破舊的瓦鉢，當夜晚／當夜晚來時」
詩中最可能描繪的人物是：
(A)乞丐 (B)乩童 (C)和尚 (D)道士
- 32 「現代人的悲哀就在於很難擁有自己，下了班之後仍然無法向社會說再見，甚至連吃喝玩樂都有它的『社會需要』和『社會意義』；有時候我不免這樣想：現代人人際關係的複雜頻繁，是否才是造成人情冷漠淡薄的主因？因為關係都太緊密了，所以一旦沒有了關係的牽絆，就不願讓別人成為自己的負擔？」
根據上文描述現代人的生活態度，下列敘述正確的選項是：
(A)以自娛為目的 (B)樂於服務他人 (C)被迫經營人際關係 (D)看重人情冷暖厚薄
- 33 「自然就是你自己，一血一肉一髮一膚莫不是自然，也莫不是你自己。只有體會到這個，我們才知道自己跟自然的關係之密切，只有體會到自己跟自然關係的密切，我們才能有正確的態度對待自然。」
下列敘述何者最接近本文旨意？
(A)養生與自然生態保育有密切關係
(B)人是生物演進的結果，具有主宰自然的力量
(C)對待自然的正確態度是善待自己和他人、善待它種物種
(D)人類與生俱來對待其他生命形式的物種就具有正確的態度

- 34 關於「公告」製作原則，何者錯誤？
(A)公告內容，應有發文日期與發文字號 (B)公告的文字製作宜避免艱深費解之語
(C)公告的文字敘述，必須加註標點符號 (D)公告的結構，分為「主旨」、「依據」、「辦法」
- 35 公文函中訂有辦理或復文期限時，應在那一段內敘明？
(A)主旨 (B)說明 (C)辦法 (D)附件

二、複選題（第 36 題至第 45 題，每題 3 分，占 30 分）

說明：所列的五個選項，其中至少有二個是正確答案。各題之選項獨立判定，全部答對者，得 3 分；答錯一個選項者，得 1.8 分；答錯二個選項者，得 0.6 分；所有選項均未作答，或答錯多於二個選項（不含二個）者，該題以零分計算。

- 36 下列「」中，運用顏色描寫人物的詞語，意義正確的選項是：
(A)「黃髮」垂髫，並怡然自樂：兒童
(B)「紅顏」棄軒冕，白首臥松雲：美人
(C)「朱門」酒肉臭，路有凍死骨：富貴人家
(D)談笑有鴻儒，往來無「白丁」：不識字的俗人
(E)廢先王之道，焚百家之言，以愚「黔首」：老百姓
- 37 下列文句「」內的成語，運用正確的選項是：
(A)龔部長素懷「箕山之志」，一心佐助院長輔國安民，積極任事
(B)對於購屋的最佳時機，專家們的意見「莫衷一是」，令民眾無所適從
(C)李校長學養俱佳，對於學校事務總是「朝乾夕惕」，堪為教育界的表率
(D)連日暴風雷雨，負責的李課長一路上「風雨如晦」，趕往南投山區視察災情
(E)他雖然對這些繁文縟節感到不耐煩，表面上仍裝出「不役於物」的積極形象
- 38 下列對聯與懸掛處所的搭配，何者正確？
(A)千秋冤案莫須有，百戰忠魂歸去來——岳王廟
(B)韓潮學派百川匯，公起文章八代衰——韓信廟
(C)義薄雲天蜀漢名將，氣蓋山河三國稱雄——關帝廟
(D)義膽忠肝，六經以來二表；託孤寄命，三代而後一人——孔廟
(E)天奉湄聖，慈航佈著名蓬島；后宮配母，祐護桑榆顯神通——天后宮
- 39 永之氓咸善游。一日，水暴甚，有五、六氓乘小船絕湘水。中濟，船破，皆游。其一氓盡力而不能尋常。其侶曰：『汝善游最也，今何後為？』曰：『吾腰千錢，重，是以後。』曰：『何不去之？』不應，搖其首。有頃，益怠。已濟者立岸上呼且號曰：『汝愚之甚，蔽之甚，身且死，何以貨為？』又搖其首。遂溺死。吾哀之。且若是，得不有大貨之溺大氓者乎？於是作《哀溺》。（柳宗元〈哀溺文序〉）
根據上文內容判斷，下列選項正確的是：
(A)溺水者游泳技術不佳 (B)溺水者始終執迷不悟
(C)溺水者的朋友，見死不救 (D)作者認為生命比金錢更寶貴
(E)「人生要懂得取捨」是此文的主旨
- 40 北方男子跳神，叫做端公。有一端公教了個徒弟，一日端公出外，有人來請跳神，這徒弟剛會打鼓唱歌，未傳真訣，就去跳神。到了中間不見神來附體，沒奈何信口扯了個神靈，亂說一篇，得了錢米回家。見他師傅，說道：「好苦。」把他跳神之事說與師傅。師傅大驚道：「徒弟你怎麼知道？我原來就是如此。」
根據上文內容，下列說法何者正確？
(A)徒弟跳神其實並沒有神靈附身 (B)端公跳神，其實也是裝神弄鬼
(C)徒弟的跳神工夫是得自端公的真傳 (D)徒弟很早就知道師父端公跳神是裝神弄鬼
(E)徒弟所以說：「好苦。」是因為跳神辛苦，很容易筋疲力竭

41 下列對句，何者寓含「逍遙自在」之意？

- (A)一雙冷眼看世人，滿腔熱血酬知己 (B)映階碧草自春色，隔葉黃鸝空好音
(C)身如巢燕年年客，心羨遊僧處處家 (D)看天外雲舒雲卷，任庭前花落花開
(E)四面雲山誰作主，五湖煙水獨忘機

42 人的一生大多以缺憾為主軸，在時光中延展、牽連而形成亂麻。常常，我們愈渴慕、企求之人事，愈不可得。在他人身上俯拾皆是的秉賦、智慧、美貌、真愛、家庭、財富、機運……，對自己而言卻像稀世珍寶不可求。年輕時，我們自以為有大氣力與本領搜羅奇花異卉，飽經風霜後才懂得捨，專心護持自己院子裡的樹種，至於花團錦簇、鶯啼燕囀，那是別人花園裡的事，不必過問。

根據上文，下列何者可視為生命中難以獲得的「缺憾」？

- (A)不必過問別人花事 (B)他人優勢難以企及
(C)希求之人事不可得 (D)專心護持自家樹園
(E)飽經風霜後的割捨

43 「古人寓兵於農，言兵即可以為農，農即可以為兵也。後世分兵農為兩途，言兵不可以為農，農不可以為兵也。今之所謂鄉勇者，非兵非農，與之言兵，素不知干戈之輕重；與之言農，又不知稼穡之艱難，然則何以用之哉！《韓非子》有言曰：『今者所養非所用，所用非所養。』乃知鄉勇自古有之。」

根據本文，下列選項敘述正確的是：

- (A)作者反對將兵、農區分為二途
(B)作者認為當時的鄉勇制度並不理想
(C)「所養非所用」指兵源太多，無法供給糧食
(D)「農不可以為兵」指農具不適合作為兵器使用
(E)「不知稼穡之艱難」指鄉勇不知道食物之難得

44 一個蓋房子技術超群的木匠年紀大想要退休了，他告訴老闆：「他想離開建築業，然後和家人享受輕鬆自在的生活。雖然他也會惦記這裏還算不錯的薪水，不過他還是決定離開了。」老闆實在不捨這樣好的木匠離去，所以希望他在離開前，能像往常一樣再蓋最後一次房子做為紀念。木匠答應了，不過他心想反正要退休了，還是趕快蓋一蓋吧，反正蓋得好不好老闆也不會知道，於是他用了劣質的技術和材料，草草的就把這間屋子蓋好了。落成時，老闆來了，看了看房子，和往常一樣沒有多說話，然後就把大門的鑰匙交給木匠說：「這間就是你的房子，是我送給你的退休禮物！」

上文本木匠的行徑，可以用下列何語形容？

- (A)如願以償 (B)恩將仇報 (C)長袖善舞 (D)自毀形象 (E)虛應故事

45 「稱讚學生的努力可以強化他認同自己是個勤勉的人。抱持這種心態的學生會樂於接受挑戰，把犯錯視為過程的一部分。另一方面，稱讚學生很聰明則傳達了成就是天生特質的印象。抱持這種心態的學生會想要繼續表現得很聰明。他們比較不願意挑戰新事物，因為他們不想犯錯，不想讓自己看起來很笨。」

下列敘述合乎上文旨意的是：

- (A)稱讚學生是有技巧的
(B)聰明並不是一件可取的事
(C)被稱讚努力的學生比較不容易犯錯
(D)稱讚學生聰明會導致他們不敢挑戰新事物而變笨
(E)把犯錯視為過程的一部分，是我們期待學生養成的特質

測驗式試題標準答案

考試名稱：106年公務人員特種考試警察人員、一般警察人員考試及106年特種考試交通事業鐵路人員、退除役軍人轉任公務人員考試

類科名稱：場站調車、材料管理、養路工程、運輸營業

科目名稱：國文（包括公文格式用語）（試題代號：1902）

更多鐵路考試科目的歷屆題庫

立即上網搜尋“鐵路歷屆考古題懶人包”

高鋒公職補習班整理

Line@帳號：@gaofeng

連絡電話：07-236-7296

單選題數：35題(第1~35題)

單選每題配分：2.00分

複選題數：10題(第36~45題)

複選每題配分：3.00分

標準答案：

題號	第1題	第2題	第3題	第4題	第5題	第6題	第7題	第8題	第9題	第10題
答案	C	B	C	B	B	C	A	A	C	B

題號	第11題	第12題	第13題	第14題	第15題	第16題	第17題	第18題	第19題	第20題
答案	B	B	B	C	B	D	A	B	B	A

題號	第21題	第22題	第23題	第24題	第25題	第26題	第27題	第28題	第29題	第30題
答案	B	C	D	C	D	B	B	D	B	B

題號	第31題	第32題	第33題	第34題	第35題	第36題	第37題	第38題	第39題	第40題
答案	A	C	C	D	A	CDE	BC	ACE	BDE	AB

題號	第41題	第42題	第43題	第44題	第45題	第46題	第47題	第48題	第49題	第50題
答案	DE	BCE	AB	DE	AE					

題號	第51題	第52題	第53題	第54題	第55題	第56題	第57題	第58題	第59題	第60題
答案										

題號	第61題	第62題	第63題	第64題	第65題	第66題	第67題	第68題	第69題	第70題
答案										

題號	第71題	第72題	第73題	第74題	第75題	第76題	第77題	第78題	第79題	第80題
答案										

題號	第81題	第82題	第83題	第84題	第85題	第86題	第87題	第88題	第89題	第90題
答案										

題號	第91題	第92題	第93題	第94題	第95題	第96題	第97題	第98題	第99題	第100題
答案										

備註：

測驗題標準答案更正

考試名稱：106年公務人員特種考試警察人員、一般警察人員考試及106年特種考試交通事業鐵路人員、退除役軍人轉任公務人員考試

類科名稱：材料管理、運輸營業、場站調車、養路工程

科目名稱：國文（包括公文格式用語）

更多鐵路考試科目的歷屆題庫
立即上網搜尋“鐵路歷屆考古題懶人包”
高鋒公職補習班整理
Line@帳號：@gaofeng
連絡電話：07-236-7296

單選題數：35題(第1~35題) 單選每題配分：2.00分

複選題數：10題(第36~45題) 複選每題配分：3.00分

標準答案：答案標註#者，表該題有更正答案，其更正內容詳見備註。

題號	第1題	第2題	第3題	第4題	第5題	第6題	第7題	第8題	第9題	第10題
答案	#	B	C	B	B	C	A	A	C	B

題號	第11題	第12題	第13題	第14題	第15題	第16題	第17題	第18題	第19題	第20題
答案	B	B	B	C	B	D	A	B	B	A

題號	第21題	第22題	第23題	第24題	第25題	第26題	第27題	第28題	第29題	第30題
答案	B	C	D	C	D	B	B	D	B	B

題號	第31題	第32題	第33題	第34題	第35題	第36題	第37題	第38題	第39題	第40題
答案	A	C	C	D	A	CDE	BC	ACE	BDE	AB

題號	第41題	第42題	第43題	第44題	第45題	第46題	第47題	第48題	第49題	第50題
答案	DE	BCE	AB	DE	AE					

題號	第51題	第52題	第53題	第54題	第55題	第56題	第57題	第58題	第59題	第60題
答案										

題號	第61題	第62題	第63題	第64題	第65題	第66題	第67題	第68題	第69題	第70題
答案										

題號	第71題	第72題	第73題	第74題	第75題	第76題	第77題	第78題	第79題	第80題
答案										

題號	第81題	第82題	第83題	第84題	第85題	第86題	第87題	第88題	第89題	第90題
答案										

題號	第91題	第92題	第93題	第94題	第95題	第96題	第97題	第98題	第99題	第100題
答案										

備註：第1題答B或C或BC者均給分。

106年公務人員特種考試警察人員、一般警察人員考試及106年特種考試交通事業鐵路人員、退除役軍人轉任公務人員考試試題

考試別：鐵路人員考試

等別：佐級考試

類科別：材料管理、運輸營業、場站調車、養路工程

科目：公民與英文

考試時間：1小時

更多鐵路考試科目的歷屆題庫
立即上網搜尋“鐵路歷屆考古題懶人包”
高鋒公職補習班整理
Line@帳號：@gaofeng
連絡電話：07-236-7296

座號：_____

※注意：(一)本試題為單一選擇題，請選出一個正確或最適當的答案，複選作答者，該題不予計分。

(二)共 50 題，每題 2 分，須用 2B 鉛筆在試卡上依題號清楚劃記，於本試題上作答者，不予計分。

(三)禁止使用電子計算器。

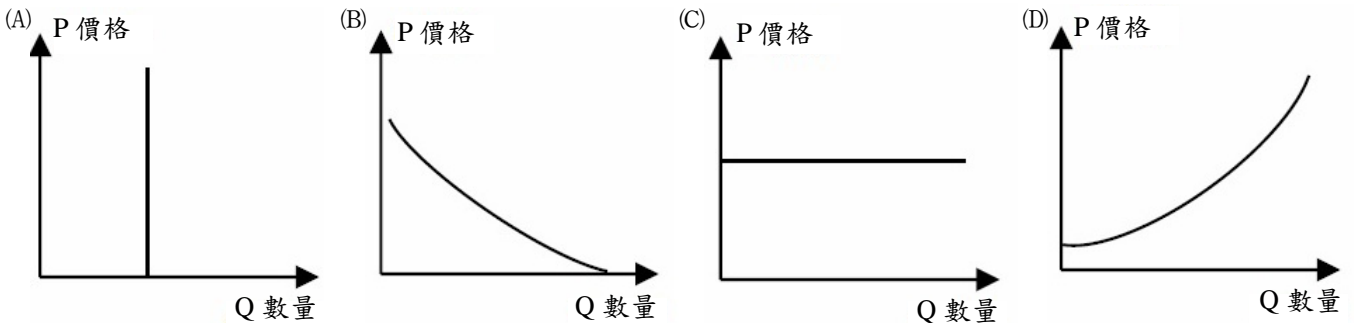
- 公民不服從是近年來常常被討論的議題，下列有關公民不服從的敘述，何者正確？
(A)行動者是基於自身的利益與信仰 (B)不服從必須是公開且故意的違法行為
(C)只有在野領袖才有權帶領公民不服從 (D)行動若有其必要，可採取暴力的手段
- 當代政治學者普特南 (Robert D. Putnam) 主張，營造社會資本可促進民主政治實現。若依該學者的說法，下列何者有助於社會資本的累積？
(A)鼓勵公民結社 (B)推動經濟建設 (C)加速社會流動 (D)強化政府職權
- 在政治意識型態的發展脈絡中，中間路線成為多國參考的國家發展方針。下列有關「第三條路」的政治意識型態之敘述，何者正確？
(A) 18 世紀時，西方政府緩和經濟管制，融入社會主義思想，代表學者如紀登斯
(B)第三條路在政治意識型態上應偏向右派，亦即仍以追求社會正義和政治解放為核心
(C)第三條路應積極提供人類統一相同的生活方式，強調時代變遷中，邁向共同一致的價值觀
(D)面對經濟高度發展產生之問題也回應重視生態議題，對全球化的新危機提出關注
- 「糊紙」又稱紙紮，是指廟宇舉行建醮或普渡使用、或是製作燒給往生者的紙類裝置品。最早出現在漢朝，後來傳到臺灣，但近年來糊紙沒落，工藝逐漸消失。日前法國某知名策展人來臺灣旅行，發現糊紙是難得的藝術，於是邀請糊紙製作者到巴黎博物館展示其作品。若依文化活動形式來看，文中所述「糊紙藝術」較屬於下列何者？
(A)民間文化 (B)官方文化 (C)大眾文化 (D)流行文化
- 南韓政府重金培植的財團表現亮眼，看似成了經濟的主要推手，不過造成財閥錢、權一把抓，貧富不均日益惡化。南韓國家統計局 2015 年的統計數據顯示，中小企業職員的薪水，平均只有財團員工的 62%。相較之下，1997 年亞洲金融危機之前，比例約為 80%。據調查，每 10 位大學畢業生當中僅有 3 位有能力償還就學貸款。目前只剩不到 1/5 的民眾認為能靠自己的能力，往上層階級移動。依據上文判斷，南韓的社會流動具有下列何種特色？
(A)社會特質為開放式社會 (B)代內垂直向上流動更容易
(C)出現階級流動僵固化現象 (D)形成階級衝突對立的現象
- 我國解嚴後，人民團體蓬勃發展，也帶動臺灣社會的改革與進步。政府宣布解除戒嚴，制定相關法律，讓人民可以依法組成人民團體，提供了人民志願結社的何種基礎？
(A)形式條件 (B)經費來源 (C)分工與管理制度 (D)人力與人脈
- 媒體的置入性行銷常引起社會爭議，某學者認為：媒體的新聞自由可以提供人民政治事務資訊，協助人民監督政府，防止政府濫權。政府耗費公帑，收買媒體從事「隱藏式的政策宣傳」行為，徹底破壞媒體與政府之間的制衡關係，因此反對「政治性」的置入性行銷，更主張不能置入在新聞中。下列敘述何者較符合該學者的說法？
(A)經由媒體加工後呈現的新聞內容，更能反映事實 (B)新聞變成可以買賣的商品，弱化媒體第四權功能
(C)媒體型塑消費形式與品味，影響閱聽者政治偏好 (D)媒體各有其政治立場，所有的報導都是扭曲真相
- 在一場我國立法委員與美國眾議院議員的交流茶會中，雙方皆談論到自己國家的政府體制，下列為四位議員的發言，何者正確？
(A)我國立委甲：「我國總統提名行政院院長，必須獲得立委的多數同意才行」
(B)我國立委乙：「我國立委若有意受邀出任部會首長，應先自行辭去立委職務」
(C)美國議員丙：「美國總統每一年度都要定時到眾議院，接受國會議員的質詢」
(D)美國議員丁：「國會對於行政部門的法案若難以認同，我們可以提出倒閣案」
- 我國即便於聯合國沒有代表權，但仍積極參與政府間或非政府間的國際組織，以爭取國際地位，參與國際社會。目前我國是下列那些國際組織的成員？①世界銀行 ②世界貿易組織 ③東南亞國協 ④世界衛生組織 ⑤亞洲開發銀行
(A)①④ (B)②④ (C)②⑤ (D)③⑤

- 10 依照我國公職人員相關法律規定，下列何種公職人員，任期上有連選得連任一屆的限制？
(A)直轄市議員 (B)全國不分區立法委員 (C)村里長 (D)鄉鎮市長
- 11 歐美西方民主國家，受到希臘民主理論的影響甚多，下列何者是「民主國家」必須具備之要件？
(A)須具備一部規範嚴謹的成文憲法 (B)須擁有有效宣傳政府政令的媒體
(C)須有科層體制分工嚴密的政府體制 (D)須有憲政主義運作下的有限政府
- 12 在現代民主國家中，權力分立下的政府體制主要有內閣制、總統制、雙首長制。下列關於政府體制的敘述，何者正確？
(A)採內閣制者必為君主國 (B)採內閣制者應有虛位國家元首
(C)國家元首稱為總統者，必屬總統制 (D)採雙首長制者，最高行政首長應為總統
- 13 政黨與利益團體都在反映民眾對各項政策的訴求，下列針對利益團體與政黨比較之敘述，何者正確？
(A)利益團體成立目的在於取得執政權，而政黨成立目的在影響政策制定
(B)利益團體活動策略在參與選舉活動，而政黨活動方式主要是進行遊說
(C)利益團體利用展現團結力量來影響政策，而政黨則推舉候選人參政
(D)利益團體關注的政策議題較為廣泛，而政黨關注之公共議題較為特定
- 14 世界各國的政治體制可區分為民主與獨裁兩種，下列何者為其區別標準？
(A)政治權力是否可以受壟斷且由單一勢力獨占 (B)市場經濟機能是否可能受到政府公權力干預
(C)政府公權力之行使是否須要嚴格遵從法律 (D)政府體制中是否存在一種選舉國家元首之制度
- 15 員警阿文在追捕通緝犯的過程中，開槍誤擊行人阿德，阿德因此受傷，阿德計畫請求國家賠償。下列有關國家賠償的敘述，何者正確？
(A)採「訴願先行主義」，應先向賠償義務機關提出訴願
(B)國家賠償準用行政訴訟法，應向行政法院提出訴訟
(C)本案屬國家賠償法中的「公務人員怠於行使職權」
(D)國家賠償法，以金錢賠償為原則，回復原狀為例外
- 16 阿文與娟娟結婚後，育有一子阿國，未料婚後阿文竟然與未婚的秘書小咪外遇，小咪並為阿文產下一子阿凱。依我國法令規定，下列關於本案的分析敘述，何者正確？
(A)因小咪未婚生下阿凱，故阿凱為小咪的非婚生子女
(B)阿凱若經阿文認養，則可視為阿文的婚生子女，並具有繼承權
(C)若阿文離婚後與小咪結婚，阿凱即因準正成為婚生子女
(D)若阿文不願負起父親的責任，阿凱可向法院請求強制收養
- 17 我國在歷經七次修憲後，政府體制已有大幅變遷，有關我國政府運作的方式，下列敘述何者正確？
(A)行政院對於立法院通過但窒礙難行的法案可以提出覆議，無須總統核可
(B)立法委員選舉採單一選區兩票制，其中不分區立委婦女保障名額為 1/3
(C)修憲後政府體制偏向雙首長制
(D)我國最高行政首長對於總統公布之法律案、預算案皆應副署，以示負責
- 18 一名拾荒維生的長者，將他人所有的紙箱誤以為是廢棄物而撿拾回家，因而遭移送法辦，檢察官偵訊後為不起訴處分。根據我國相關法律規定，下列何者是檢察官作出此處分最可能的理由？
(A)行為人犯行輕微，依據微罪不舉而不起訴 (B)行為人的行為並未符合竊盜罪的構成要件
(C)行為人為限制責任能力人，符合減刑條件 (D)行為人的行為乃業務上正當，可阻卻違法
- 19 民法的重要原則是「私法自治」，充分尊重私人之間自由完成法律關係。但有時為了公益原因，會對私法自治原則加以限制。下列敘述何者正確？
(A)行為人能自由決定締約與否，故自來水公司可以拒絕用戶接水的締約要求
(B)行為人能自由決定契約內容，故簽訂以器官買賣抵償債務的契約應屬有效
(C)行為人能自由決定立約方式，故無論何種契約當事人皆可合意以口頭為之
(D)當事人能自由變更契約內容，故雙方在締約後仍得變更買賣契約
- 20 當事人不得創設物權的種類，除法律允許外，亦不能自由約定物權的內容，稱為物權法定原則。下列何項不屬於民法規定之物權？
(A)留置權 (B)農育權 (C)礦業權 (D)抵押權
- 21 關於依法行政原則之敘述，下列何者正確？
(A)行政行為應有法律明文授權依據才可為之，屬於法律優位原則
(B)行政行為應受憲法、法律及一般法律原則之拘束
(C)分為消極的法律保留原則及積極的法律優位原則
(D)目的是透過法律，貫徹國家公權力
- 22 警方偵訊一名嫌疑犯後直接移送地方法院檢察署，甲召開偵查庭蒐集事證完備後，乙決定起訴，而後由丙判決有期徒刑三年，最後丁執行該刑罰。依刑事訴訟法規定，下列針對甲、乙、丙、丁應分別填入的角色名稱，何者正確？
(A)檢察官、檢察官、法官、法官 (B)法官、檢察官、法官、檢察官
(C)檢察官、法官、法官、檢察官 (D)檢察官、檢察官、法官、檢察官

- 23 現代民主法治國家重視人權的保障，我國憲法也透過列舉與概括的方式，舉出必須保障的人權項目。下列各項敘述，與其所受侵害的權利間之配對，何者正確？
 (A)遲到的員工在公司門口被主管責罵是遲到大王：隱私權
 (B)寒流來襲時，街友被警察強制移置收容中心：自由權
 (C)小美因懷孕生產請假，而被公司解僱：生命權
 (D)媒體遭禁止報導政府與財團的合作案：參政權
- 24 2015 年關於洩漏軍事機密或國防秘密之阿帕契案偵結，桃園地方法院檢察署認為被告等人犯罪嫌疑不足，根據罪刑法定主義，全案為不起訴處分。下列有關罪刑法定主義的敘述，何者正確？
 (A)得適用習慣法為該主義的重要內涵之一
 (B)效力溯及既往原則是由該主義延伸而來
 (C)犯罪是否成立，需檢視行為是否符合法律規定之構成要件
 (D)法律未規定的事項，只要性質類似，則可類推適用至刑法
- 25 下表是甲國與乙國在腳踏車與奇異果每週的生產量。根據表中資料判斷，下列敘述何者正確？

	甲國	乙國
腳踏車(台/週)	400	500
奇異果(公斤/週)	400	200

- (A)甲國生產一部腳踏車的機會成本是 2 公斤奇異果 (B)甲國與乙國生產一部腳踏車的機會成本皆相同
 (C)乙國在生產奇異果與腳踏車上都具有絕對利益 (D)甲國應專業生產奇異果，乙國專業生產腳踏車
- 26 台語歌后封麥告別歌壇演唱會曾造成搶購風潮，網路上一票難求，倘若演唱會的票價為每張 5000 元，限量 2000 張。在不考慮其他條件的情況下，演唱會門票市場的供給線應為下列何者？



- 27 行政院主計總處每十年公布一次「人口與住宅普查調查報告」，最近一次為民國 99 年發布，其中調查全國空閒住宅率(空屋率)為 19.3%，可換算為 156 萬戶住宅無人居住。根據此調查內容，全國房屋市場應有下列何項推論？
 (A)市場價格應低於均衡價格，未來房價將繼續攀升
 (B)市場供給量大於需求量，市場價格低於均衡價格
 (C)市場中有超額需求的情況，市場價格高於均衡價格
 (D)市場中有超額供給的情況，市場價格高於均衡價格
- 28 發明 3M 便利貼的人，本來是想研發一種超強的黏合劑，而結果卻令他大失所望，後來他靈機一動，將他的失敗作品做成可以隨撕隨黏的便利貼，結果廣受好評，因此申請專利，為 3M 公司賺取許多利潤。下列針對上文的分析敘述，何者正確？
 (A) 3M 公司是「產品市場」中的需求者 (B)便利貼的專利權屬於 3M 公司的「資本」
 (C)便利貼對 3M 公司來說是一種「生產要素」 (D) 3M 公司在「生產要素市場」中販售生產要素
- 29 從各國進出口總額占該國國內生產毛額的比重來做比較，其主要在判斷該國的何種狀況？
 (A)財富分配的平均 (B)人民生活的富裕 (C)物價上漲的變化 (D)經濟體系的開放
- 30 政府擬在春節假期採取凍漲汽柴油價格措施，此措施對汽柴油市場的影響，下列敘述何者正確？
 (A)價格管制對消費者剩餘沒有影響 (B)市場交易價格會低於市場均衡價格
 (C)價格管制會使生產者剩餘增加 (D)政府干預將會增加社會福利
- 31 美國杜克大學教授在《氣候變遷雜誌》撰文指出，化石能源發電的成本不應只有購買成本，還應包含兩者，一是因污染造成健康危害，以致造成龐大的醫療支出，另一個則是因為燃燒所造成的溫室氣體排放，以及還有未來可能的氣候災變成本。下列針對化石能源發電的市場價格之敘述，何者最能用來闡釋上文的内容？
 (A)市場價格無法呈現生產時所造成的外部效益 (B)市場價格會自動呈現社會福祉最大化
 (C)市場價格無法呈現生產所造成的外部成本 (D)市場價格會呈現生產造成的社會成本
- 32 故宮文創商品將「唐人宮樂圖」畫中的墜馬髻設計成頸枕；若戴在頭上，馬上變成唐朝人，不少民眾將此作為萬聖節的搞怪造型。這種作法不但讓國寶文物更貼近一般民眾，也能帶動新的潮流。下列敘述何者最能說明此一現象？
 (A)主流文化是由精緻文化所主導 (B)官方文化主導流行文化的發展
 (C)精緻文化轉變為流行文化符號 (D)邊緣文化結合精緻文化的創新

- 33 針對我國非營利的人民團體之敘述，若依據相關法令規定，下列何者正確？
 (A)須向法院登記成為正式團體 (B)按集會遊行法屬於社會團體
 (C)屬於非政府部門的志願團體 (D)沒有收益行為的公益型事業
- 34 在我國處理兩岸事務上，財團法人海峽交流基金會（簡稱海基會）扮演重要的對話「窗口」之角色，下列有關該組織的敘述，何者正確？
 (A)為我國辦理海峽兩岸交流所衍生各項事務的正式政府組織
 (B)由國臺辦以公權力授權而成立的組織，對外簽署相關協議
 (C)解嚴後面對兩岸人民交流的需要，由外交部主導成立的機構
 (D)依據臺灣地區與大陸地區人民關係條例而成立與運作的機構
- 35 當人工智慧系統 AlphaGo 戰勝人類九段圍棋高手的那一刻，全人類開始惶恐。有專家預言本世紀末，70%的職業會被自動化技術取代，將有 50%的白領智慧工作者會失業。上述所提及的失業類型，應屬於下列何者？
 (A)摩擦性失業 (B)結構性失業 (C)循環性失業 (D)隱藏性失業
- 36 After rescuing a child from the fire, Angel has become a _____ in her community.
 (A) front runner (B) stylish fad (C) role model (D) trendy idol
- 37 Pierce's _____ is very good for someone his age. He is already 90 years old!
 (A) scene (B) sight (C) passport (D) punch
- 38 _____ reading cannot be overemphasized if you want to improve your English.
 (A) Dependent (B) Extensive (C) Courageous (D) Generous
- 39 The product you order is not _____ available, but once we have it, we'll send it to you.
 (A) basically (B) primarily (C) currently (D) contemporarily
- 40 _____ the project gives us an opportunity to design the best possible framework, it is also a hugely complex undertaking.
 (A) Because (B) As if (C) Whether (D) While
- 41 I enjoy writing on my bed; I pile the _____ up behind me, settle back, and write by hand with my exercise book on my knees.
 (A) pillows (B) pans (C) politics (D) plumbers

請依下文回答第 42 題至第 46 題：

Most of us became skilled at managing, or at least trying to manage, the lives of many people. We 42 the responsibilities of family members far too often. We were trying, consciously or unconsciously, to meet very high 43 of ourselves too. So when we heard others talk about their struggle with taking full responsibility for their lives, we didn't take it seriously at first. Surely many of us were already doing that.

We all have to learn what it means to take full responsibility for ourselves. Fortunately, there is no 44 for how quickly we need to learn the skills we need to do that. Going to meetings frequently, listening to the wisdom of other people, and praying for understanding will help us 45 what there is to learn. We, learn, soon enough, that being fully responsible means being responsible for every action we take, every word we speak. It means giving up our 46 to control and admitting it when we do try to control anyway!

Taking responsibility for ourselves is a bigger challenge than we first thought. In time we see it keeps us busy—too busy to mind the business of others.

- 42 (A) appointed (B) assumed (C) improved (D) described
 43 (A) occasions (B) opportunities (C) encouragements (D) expectations
 44 (A) broadcast (B) notebook (C) timetable (D) relationship
 45 (A) absorb (B) abandon (C) abuse (D) annoy
 46 (A) effects (B) items (C) offers (D) attempts

請依下文回答第 47 題至第 50 題：

Most illustrations of Benjamin Franklin's famous kite experiment show him conducting the test (and the electricity) by himself. But according to his personal 47 of the experience, his son William flew the kite. Legend has it that he put a wire at the top of the kite and a key at the base of the wet string. His 21-year-old son William flew the kite 48 Franklin watched. Reportedly, the string reacted to a lightning strike, and Franklin drew sparks by placing his knuckle on the key. Luckily for the father and son, the electrical charge was weak enough that they were not 49. Philadelphians reacted to the news of Franklin's amazing test by flocking to his home. They hoped to catch a glimpse of his greatness. The colleges of Harvard, Yale, and William & Mary 50 him—a man with no formal education—special honorary degrees to mark the significance of his discoveries.

- 47 (A) prediction (B) performance (C) property (D) account
 48 (A) therefore (B) because (C) while (D) then
 49 (A) harmed (B) flying (C) crying (D) fooled
 50 (A) charged (B) awarded (C) criticized (D) comforted

測驗式試題標準答案

考試名稱：106年公務人員特種考試警察人員、一般警察人員考試及106年特種考試交通事業鐵路人員、退除役軍人轉任公務人員考試

類科名稱：運輸營業、養路工程、材料管理、場站調車

科目名稱：公民與英文（試題代號：2902）

更多鐵路考試科目的歷屆題庫

立即上網搜尋“鐵路歷屆考古題懶人包”

高鋒公職補習班整理

Line@帳號：@gaofeng

連絡電話：07-236-7296

單選題數：50題

單選每題配分：2.00分

複選題數：

複選每題配分：

標準答案：

題號	第1題	第2題	第3題	第4題	第5題	第6題	第7題	第8題	第9題	第10題
答案	B	A	D	A	C	A	B	B	C	D

題號	第11題	第12題	第13題	第14題	第15題	第16題	第17題	第18題	第19題	第20題
答案	D	B	C	A	D	C	D	A	D	C

題號	第21題	第22題	第23題	第24題	第25題	第26題	第27題	第28題	第29題	第30題
答案	B	D	B	C	D	A	D	B	D	B

題號	第31題	第32題	第33題	第34題	第35題	第36題	第37題	第38題	第39題	第40題
答案	C	C	C	D	B	C	B	B	C	D

題號	第41題	第42題	第43題	第44題	第45題	第46題	第47題	第48題	第49題	第50題
答案	A	B	D	C	A	D	D	C	A	B

題號	第51題	第52題	第53題	第54題	第55題	第56題	第57題	第58題	第59題	第60題
答案										

題號	第61題	第62題	第63題	第64題	第65題	第66題	第67題	第68題	第69題	第70題
答案										

題號	第71題	第72題	第73題	第74題	第75題	第76題	第77題	第78題	第79題	第80題
答案										

題號	第81題	第82題	第83題	第84題	第85題	第86題	第87題	第88題	第89題	第90題
答案										

題號	第91題	第92題	第93題	第94題	第95題	第96題	第97題	第98題	第99題	第100題
答案										

備註：

測驗題標準答案更正

考試名稱：106年公務人員特種考試警察人員、一般警察人員考試及106年特種考試交通事業鐵路人員、退除役軍人轉任公務人員考試

類科名稱：材料管理、運輸營業、場站調車、養路工程

科目名稱：公民與英文

更多鐵路考試科目的歷屆題庫
立即上網搜尋“鐵路歷屆考古題懶人包”
高鋒公職補習班整理
Line@帳號：@gaofeng
連絡電話：07-236-7296

單選題數：50題

單選每題配分：2.00分

複選題數：

複選每題配分：

標準答案：答案標註#者，表該題有更正答案，其更正內容詳見備註。

題號	第1題	第2題	第3題	第4題	第5題	第6題	第7題	第8題	第9題	第10題
答案	B	A	D	A	C	A	B	B	C	D

題號	第11題	第12題	第13題	第14題	第15題	第16題	第17題	第18題	第19題	第20題
答案	D	B	C	A	D	C	#	A	D	C

題號	第21題	第22題	第23題	第24題	第25題	第26題	第27題	第28題	第29題	第30題
答案	B	D	B	C	D	A	D	B	D	B

題號	第31題	第32題	第33題	第34題	第35題	第36題	第37題	第38題	第39題	第40題
答案	C	C	C	D	B	C	B	B	C	D

題號	第41題	第42題	第43題	第44題	第45題	第46題	第47題	第48題	第49題	第50題
答案	A	B	D	C	A	D	D	C	A	B

題號	第51題	第52題	第53題	第54題	第55題	第56題	第57題	第58題	第59題	第60題
答案										

題號	第61題	第62題	第63題	第64題	第65題	第66題	第67題	第68題	第69題	第70題
答案										

題號	第71題	第72題	第73題	第74題	第75題	第76題	第77題	第78題	第79題	第80題
答案										

題號	第81題	第82題	第83題	第84題	第85題	第86題	第87題	第88題	第89題	第90題
答案										

題號	第91題	第92題	第93題	第94題	第95題	第96題	第97題	第98題	第99題	第100題
答案										

備註：第17題答C給分。

106年公務人員特種考試警察人員、一般警察人員考試及106年特種考試交通事業鐵路人員、退除役軍人轉任公務人員考試試題

考試別：鐵路人員考試
等別：佐級考試
類科別：運輸營業
科目：企業管理大意
考試時間：1小時

更多鐵路考試科目的歷屆題庫
立即上網搜尋“鐵路歷屆考古題懶人包”
高鋒公職補習班整理
Line@帳號：@gaofeng
連絡電話：07-236-7296

座號：_____

※注意：(一)本試題為單一選擇題，請選出一個正確或最適當的答案，複選作答者，該題不予計分。
(二)共 50 題，每題 2 分，須用 2B 鉛筆在試卡上依題號清楚劃記，於本試題上作答者，不予計分。
(三)禁止使用電子計算器。

- 以總體環境的內涵而言，下列何者為非？
(A)人口統計環境 (B)競爭環境 (C)社會與文化環境 (D)經濟環境
- 以下那一個人的研究，開啟了行為研究學派的大門，並扭轉了將工人視為等同於機器的錯誤看法？
(A)麥格瑞哥 (McGregor) (B)巴納德 (Barnard) (C)費堯 (Fayol) (D)梅育 (Mayo)
- 陳經理在工作上，以相同的投入得到更多的產出，有時也運用較少資源，得到相同產出。這表示陳經理在工作上做到了什麼？
(A)效率 (B)效能 (C)效果 (D)利潤
- 王經理對於部屬李大仁的錯誤行為採取降職，此種取決於領導者的能力進行懲罰或控制的力量，稱為何種權力？
(A)獎賞權力 (B)專家權力 (C)強制權力 (D)參照權力
- 陳大明領班在工作現場採用直接監督，這是屬於何種控制類型？
(A)事前控制 (B)事中控制 (C)事後控制 (D)全程控制
- 根據馬斯洛需求層次理論 (Maslow's hierarchy of needs theory)，雇主提供員工健康保險，表示雇主關心員工們的何項需求？
(A)安全 (B)社會 (C)自我實現 (D)尊重
- 在雙因子理論中，下列何者使員工展現高積極度以及完成自己的工作？
(A)責任與認同感 (B)高薪資 (C)人際關係 (D)公司政策
- 下列何者「非」屬於有用資訊的特性？
(A)完整性 (B)即時性 (C)準確性 (D)零星性
- 下列何者能衡量企業的清償能力？
(A)流動比率 (B)存貨週轉率 (C)獲利率 (D)投資報酬率
- 說明企業在某一特定日期財務狀況的報表是下列何項？
(A)損益表 (B)現金流量表 (C)資產負債表 (D)投資風險表
- 下列何者屬於短期資金的來源？
(A)發行公司債 (B)現金增資 (C)發行商業本票 (D)盈餘轉增資
- 下列對於刮脂訂價 (Price Skimming) 的敘述，何者為非？
(A)對於產品收取一個相對較低的價格，以便能快速地攫取大多數的市場
(B)訂價行為是「沿著需求曲線下降」的訂價
(C)訂定一個顧客可能願意支付的最高價格
(D)也稱為「市場加成」的訂價方法，因為它代表相較於其他競爭產品的一個較高的價格

- 13 手機通訊業者針對不同使用率的市場，推出不同的月租費方案，以此作為市場區隔的基礎。此種市場區隔變數，稱為？
(A)心理變數 (B)地理變數 (C)行為變數 (D)人口統計變數
- 14 買 B 型車款的人，推估可能為偏愛速度感，喜歡冒險、追求刺激、注重外表。車廠因此以此作為市場區隔的基礎。此種市場區隔變數，稱為？
(A)心理變數 (B)行為變數 (C)地理變數 (D)人口統計變數
- 15 企業要降低生產成本，又要符合顧客的客製化需要，最好採用？
(A)小批量生產 (B)彈性生產 (C)大量生產 (D)連續式生產
- 16 下列何者不是服務的特性？
(A)無形性 (B)不變性 (C)不可分離性 (D)易消逝性
- 17 一個組織或企業要生存發展，必須考量到不同利害關係人的權益。下列何者屬於企業的內部關係人？
(A)顧客 (B)員工 (C)政府 (D)供應商
- 18 社會責任的古典觀點認為管理者唯一的社會責任是？
(A)為股東追求組織利潤極大化 (B)為股東嚴守法律
(C)為所有利害關係人追求組織利潤極大化 (D)為股東以最少的合法行為以減少法律的束縛
- 19 小芬的工作是比較各部門每個月的預算及實際支出，故我們可以說小芬在執行下列何種管理的功能？
(A)規劃 (B)組織 (C)控制 (D)領導
- 20 對於負責生產線的基層管理者來說，下列那項能力特別重要？
(A)人際 (B)技術 (C)概念化 (D)經驗
- 21 若政府機構設置一個公益服務部門，以孩童、勞工，以及殘疾人士為服務對象，請問以下那一種部門化 (departmentalization) 方式較適合？
(A)產品部門化 (B)地理區域部門化 (C)程序部門化 (D)顧客部門化
- 22 那種組織具有高度的專業化與嚴格的部門劃分？
(A)有機式 (Organic) (B)基礎式 (Fundamental) (C)學習式 (Learning) (D)機械式 (Mechanistic)
- 23 下列何者是矩陣式結構 (matrix structure) 的缺點？
(A)增加調度員工到專案團隊的複雜度 (B)降低決策過程的速度
(C)減少組織的回應 (D)導致團隊士氣的降低
- 24 Bill 要將新款的產品上生產線，目前有三款新開發產品，Bill 只能選其中一款，他決定用目標市場大小、產品成本與淨利潤三項來評估決定。以決策過程而言，這三項稱為 Bill 的？
(A)解決方案 (alternatives) (B)標準權重 (criterion weights)
(C)決策的標準 (decision criteria) (D)問題 (problems)
- 25 建立策略以達到組織目標，為下列何種功能？
(A)組織 (B)協調 (C)領導 (D)規劃
- 26 說明一個員工若要順利執行某一特定工作，必須具備的最低資格，有效執行該工作所要具備的知識、技術與能力的書面說明。上述描述內容，為以下何者？
(A)工作說明書 (B)工作規範書 (C)作業計畫書 (D)工作日誌
- 27 關於人力資源管理的程序，以下那些程序是為了留住稱職且一直維持高績效的員工？
(A)人力資源規劃、招募、甄選 (B)引導、訓練
(C)績效管理、薪酬與福利、生涯發展 (D)工作分析、招募、甄選

- 28 某商店推出「買兩千送兩百」的促銷活動，請問這項行銷手法是符合理查·賽勒（Richard Thaler）教授所提出之心理會計（mental accounting）中的那一項消費者原則？
- (A)消費者會傾向分隔獲利（segregate gains）
(B)消費者會傾向結合損失（integrate losses）
(C)消費者會傾向在大額的獲利中整合小額的損失（integrate small losses with large gains）
(D)消費者會傾向從大額的損失中分隔出小額的獲利（segregate small gains from large losses）
- 29 有論者認為「公司不應該只是屬於股東的，更應該是屬於員工的，也屬於廣大投資大眾的」，請問持這種觀點的是以下何種理論？
- (A)社會認同理論（social identity theory）
(B)利害關係人所有理論（stakeholder theory）
(C)股東所有理論（stockholder theory）
(D)地位特性理論（status characteristics theory）
- 30 企業進入海外市場的模式中，以下那一種模式比較不用擔心培養競爭者的風險？
- (A)授權（licensing）模式
(B)直接出口（direct exporting）
(C)合資（joint venture）模式
(D)加盟（franchising）模式
- 31 關於組織文化的敘述，下列何者錯誤？
- (A)組織文化是組織成員所共享的價值觀，它是屬於組織外在環境的一個要素
(B)組織文化會影響員工行為
(C)故事是組織文化的一個重要學習來源
(D)儀式是組織文化的一個重要學習來源
- 32 在波特（Porter）的五力分析中，當出現以下何種情況時，上游的供應商對下游的購買者會有比較低的議價優勢？
- (A)供應商所處產業，市場集中程度低
(B)供應商所供應的產品具有獨特性，亦即差異化程度很高
(C)該購買者並非是供應商的重要客戶
(D)供應商具有向下游整合的能力
- 33 當研發與採購人員在思考，應用不同材料或代用品時，產品價值是否能予以提高；或是在同樣產品價值下，是否會有更為便宜的不同材料或代用品時。請問他們是在進行？
- (A)全面品質管制
(B)價值分析與價值工程
(C)逆向工程
(D)品質工程
- 34 中國古代楚漢相爭時期的韓信投靠劉邦，但一開始，劉邦看不起貌不驚人且之前只是在項羽底下當個執戟郎，更曾受胯下之辱的韓信，故雖然隨後蕭何極力向劉邦推薦韓信的將才能力，但劉邦卻不理會蕭何所言的韓信能力，因此起初並不願意重用他。請問劉邦的行為可用下列何種理論加以解釋？
- (A)隨機偏差（randomness bias）
(B)定錨效應（anchoring effect）
(C)沉沒成本錯誤（sunk cost error）
(D)自利性偏差（self-serving bias）
- 35 關於策略管理程序之敘述，下列何者正確？
- (A)SWOT 分析→確認組織目前的使命、目標與策略→制定策略→執行策略→評估結果
(B)確認組織目前的使命、目標與策略→制定策略→執行策略→評估結果→SWOT 分析
(C)確認組織目前的使命、目標與策略→制定策略→執行策略→SWOT 分析→評估結果
(D)確認組織目前的使命、目標與策略→SWOT 分析→制定策略→執行策略→評估結果
- 36 關於授權的權變因素之敘述，下列何者錯誤？
- (A)組織規模越大，越傾向減少授權
(B)任務或決策愈重要，則授權的可能性愈低
(C)任務愈複雜，則授權的可能性愈高
(D)公司的組織文化若是對員工有信心並信任，則愈可能授權

- 37 關於有機式組織與機械式組織的敘述，下列何者錯誤？
(A)機械式組織宜採中央集權 (B)有機式組織具有嚴格的部門劃分
(C)機械式組織具高度正式化 (D)有機式組織具有跨階層的團隊
- 38 領導者的五個權力來源中，以下那兩個是源於領導者個人的能力或特質？
(A)獎賞權 (reward power) 與參照權 (referent power)
(B)強制權 (coercive power) 與專家權 (expert power)
(C)獎賞權與專家權
(D)專家權與參照權
- 39 關於激勵過程的敘述，下列何者正確？
(A)未滿足的需要→緊張→驅使力→搜尋行為→滿足的需要→緊張的降低
(B)未滿足的需要→緊張→搜尋行為→驅使力→滿足的需要→緊張的降低
(C)緊張→未滿足的需要→驅使力→搜尋行為→滿足的需要→緊張的降低
(D)未滿足的需要→緊張→驅使力→搜尋行為→緊張的降低→滿足的需要
- 40 以下那一種組織溝通網路型態，員工的滿意度會較高？
(A)鏈式溝通 (chain communication) (B)Y 式溝通 (Y form communication)
(C)輪狀式溝通 (wheel communication) (D)網式溝通 (all channel communication)
- 41 決策程序的步驟過程裡，創意思維在那一個程序中占有重要的元素？
(A)分析替代方案 (B)分配決策準則比重 (C)發展替代方案 (D)界定決策準則
- 42 飛機、船舶的生產，最適合採取下列那一種工廠布置方式？
(A)程序式布置 (B)產品式布置 (C)固定式布置 (D)群組技術布置
- 43 自行設計開發新商品、新服務與新活動，而發展出自己的企業形象與商品/服務/活動之形象，進而獲取自有品牌經營的最大經濟利益，稱作？
(A)OEM (B)ODM (C)OBM (D)GL
- 44 「當人們知道自己成為被觀察的對象時，而改變行為的傾向」，請問這是指？
(A)霍桑效應 (B)網路外部效應 (C)蝴蝶效應 (D)模仿學習
- 45 「組織透過引入強者，激發弱者變強的一種效應」，稱作？
(A)鱷魚法則 (alligator principle) (B)羊群效應 (the effect of sheep flock)
(C)鯰魚效應 (catfish effect) (D)刺猬效應 (hedgehog effect)
- 46 服務的關鍵時刻 (moment of truth) 理論告訴我們？
(A)顧客導向的重要性 (B)作業導向的重要性 (C)產品導向的重要性 (D)銷售導向的重要性
- 47 下列何者不屬於柯特勒 (Kotler) 等人所提的整體行銷 (holistic marketing) 觀念中的四個要素之一？
(A)關係行銷 (relationship marketing) (B)整合行銷 (integrated marketing)
(C)交易行銷 (transaction marketing) (D)內部行銷 (internal marketing)
- 48 在產品的五個層次中，超越顧客期望的部份稱作？
(A)核心利益 (core benefit) (B)期望產品 (expected product)
(C)延伸產品 (augmented product) (D)潛在產品 (potential product)
- 49 下列那一項財務分析指標會隨著公司每天股價的變動而變動？
(A)每股帳面價值 (B)營業利益率 (C)本益比 (D)每股盈餘
- 50 假設你/妳年初以 30 元買進 X 股票一張，到了年中獲得配發 2 元現金股利與 2 元股票股利，隨後年底以 40 元賣出該張股票和所配發的 200 股零股，請問報酬率為何？
(A)33.33% (B)40.00% (C)46.67% (D)66.67%

測驗式試題標準答案

考試名稱：106年公務人員特種考試警察人員、一般警察人員考試及106年特種考試交通事業鐵路人員、退除役軍人轉任公務人員考試

類科名稱：運輸營業

科目名稱：企業管理大意（試題代號：3903）

更多鐵路考試科目的歷屆題庫

立即上網搜尋“鐵路歷屆考古題懶人包”

高鋒公職補習班整理

Line@帳號：@gaofeng

連絡電話：07-236-7296

單選題數：50題

單選每題配分：2.00分

複選題數：

複選每題配分：

標準答案：

題號	第1題	第2題	第3題	第4題	第5題	第6題	第7題	第8題	第9題	第10題
答案	B	D	A	C	B	A	A	D	A	C

題號	第11題	第12題	第13題	第14題	第15題	第16題	第17題	第18題	第19題	第20題
答案	C	A	C	A	B	B	B	A	C	B

題號	第21題	第22題	第23題	第24題	第25題	第26題	第27題	第28題	第29題	第30題
答案	D	D	A	C	D	B	C	D	B	B

題號	第31題	第32題	第33題	第34題	第35題	第36題	第37題	第38題	第39題	第40題
答案	A	A	B	B	D	A	B	D	A	D

題號	第41題	第42題	第43題	第44題	第45題	第46題	第47題	第48題	第49題	第50題
答案	C	C	C	A	C	A	C	C	C	D

題號	第51題	第52題	第53題	第54題	第55題	第56題	第57題	第58題	第59題	第60題
答案										

題號	第61題	第62題	第63題	第64題	第65題	第66題	第67題	第68題	第69題	第70題
答案										

題號	第71題	第72題	第73題	第74題	第75題	第76題	第77題	第78題	第79題	第80題
答案										

題號	第81題	第82題	第83題	第84題	第85題	第86題	第87題	第88題	第89題	第90題
答案										

題號	第91題	第92題	第93題	第94題	第95題	第96題	第97題	第98題	第99題	第100題
答案										

備註：

106年公務人員特種考試警察人員、一般警察人員考試及106年特種考試交通事業鐵路人員、退除役軍人轉任公務人員考試試題

考試別：鐵路人員考試
等別：佐級考試
類科別：運輸營業、場站調車
科目：鐵路運輸學大意
考試時間：1小時

更多鐵路考試科目的歷屆題庫
立即上網搜尋“鐵路歷屆考古題懶人包”
高鋒公職補習班整理
Line@帳號：@gaofeng
連絡電話：07-236-7296

座號：_____

※注意：(一)本試題為單一選擇題，請選出一個正確或最適當的答案，複選作答者，該題不予計分。
(二)共 50 題，每題 2 分，須用 2B 鉛筆在試卡上依題號清楚劃記，於本試題上作答者，不予計分。
(三)禁止使用電子計算器。

- 1 如果區間車的班車到達時間間隔均相同，且班次頻率為一小時三班，則其班距（Headway）為：
(A) 60 分鐘 (B) 30 分鐘 (C) 20 分鐘 (D) 3 分鐘
- 2 依照我國道路交通事故的定義，造成人員當場或 24 小時內死亡的交通事故稱為：
(A) A1 事故 (B) A2 事故 (C) A3 事故 (D) A4 事故
- 3 有關臺鐵與臺灣高鐵的軌距，下列何者正確？
(A)兩者皆為 1067 mm (B)臺鐵軌距 1067 mm，臺灣高鐵 1435 mm
(C)臺鐵軌距 1435 mm，臺灣高鐵 1067 mm (D)兩者皆為 1435 mm
- 4 下列何者不是鐵路選線時的主要考慮因素？
(A)地形 (B)沿線經濟發展狀況 (C)氣候 (D)現有運輸系統的供需
- 5 下列何者不是道碴的主要功能？
(A)將軌枕壓力平均分配至路基 (B)減震
(C)固定軌枕 (D)固定鋼軌
- 6 鐵路列車軸重愈高則應選擇何種鋼軌？
(A)越輕的鋼軌 (B)越重的鋼軌 (C)無關 (D)視氣候而定鐵路
- 7 根據鐵路修建養護規則，高速鐵路的軌道正線應該使用何種等級以上的鋼軌？
(A) 50 公斤級以上 (B) 60 公斤級以上 (C) 45 公斤級以上 (D) 55 公斤級以上
- 8 下列何種措施可以提升列車的載重能力？
(A)提升機車的牽引能力 (B)提升路線坡度
(C)減少路線曲線半徑 (D)縮減車站股道數，簡化行車
- 9 鐵路列車執行編組與分解的場所稱為：
(A)修理場 (B)調車廠 (C)編組場 (D)分解場
- 10 下列何者不屬於選擇鐵路電氣化的主要考慮因素？
(A)適合運輸密度大的路線 (B)期初的投資較低
(C)動力來源較有彈性 (D)可以提升運行速度
- 11 下列有關道岔號數的說明，何者錯誤？
(A)道岔號數即岔心號數 (B)道岔號數越大轍叉角愈小
(C)道岔號數越大導曲線半徑越小 (D)道岔號數越大導距越長

- 12 車站軌道布置中，列車經常行駛的路線稱為：
- (A)主線 (B)正線 (C)主行線 (D)側線
- 13 鐵路路線容量係指：
- (A)路線兩站間可容納的最多車輛數 (B)某閉塞區間可容納的最多車輛數
(C)路線營運區段可容納的最多列車數 (D)路線每日可行駛的最多列車次數
- 14 設於車站入口處，指示列車准否進入站內之號誌機稱為：
- (A)出發號誌機 (B)進站號誌機 (C)車站號誌機 (D)引導號誌機
- 15 與公路運輸相比較，鐵路運輸具有下列何種特性？
- (A)短途運輸極為經濟 (B)可提供及門服務
(C)車輛編組費時機動性差 (D)運程越長，成本越高
- 16 在單線的鐵路路線中，何種措施對於提升路線容量的效果最大？
- (A)電氣化 (B)雙線化 (C)增設號誌機 (D)增設待避線
- 17 臺灣鐵路管理局西部幹線目前採用的行車制為何？
- (A)美國行車制 (B)人工閉塞 (C)中央控制行車制 (D)電氣路牌閉塞制
- 18 交通部的附屬事業機構中，負責鐵路行銷業務、客貨運經營、附屬事業管理及有關營業設施、設計、調查、督導、考核之單位為何？
- (A)交通部臺灣鐵路管理局 (B)交通部鐵路改建工程局
(C)交通部運輸研究所 (D)交通部鐵路總局
- 19 臺鐵自強號、太魯閣號與普悠瑪號之費率大小比較為何？
- (A)普悠瑪 > 太魯閣 > 自強號 (B)太魯閣 > 普悠瑪 > 自強號
(C)普悠瑪 = 太魯閣 > 自強號 (D)普悠瑪 = 太魯閣 = 自強號
- 20 在臺灣鐵路管理局的組織分工中，號誌機的維護係屬那一部門的工作？
- (A)運務處 (B)機務處 (C)電務處 (D)營業處
- 21 在鐵路貨車調車作業中，利用貨車自重，使列車駛入分類線的方式稱為：
- (A)平面調車 (B)駝峯調車 (C)自重調車 (D)自動調車
- 22 臺灣高鐵的旅客票價訂定係採何種方式？
- (A)里程比例制 (B)遞遠遞減制 (C)區域里程制 (D)均一制
- 23 臺北捷運系統使用何種供電系統？
- (A)架空線 (B)第三軌 (C)超級電容蓄電池 (D)混合式
- 24 良好的道碴應具備下列何種特性？
- (A)堅硬無彈性 (B)緊密不滲水 (C)應有稜角不易移動 (D)顆粒越細越好
- 25 一般原木、貨櫃適合以何種鐵路貨車載運？
- (A)敞車 (B)平車 (C)篷車 (D)罐車
- 26 依鐵路修建養護規則規定，有相互制約關係之號誌設備及道岔等，應設置何種裝置以避免造成列車衝撞及脫軌？
- (A)脫軌器 (B)軌道電路 (C)聯鎖裝置 (D)轉轍器

- 27 下列何者不屬於鐵路的變動成本？
(A)燃料成本 (B)司機員的加班費 (C)車輛的折舊費用 (D)站長的薪資
- 28 近年來，陸續有許多國家開始投入高速鐵路的興建，試問全世界那個國家發展高速鐵路系統歷史最悠久？
(A)英國 (B)德國 (C)法國 (D)日本
- 29 阿里山森林鐵路至今已逾百年歷史，亦是世界上著名的登山鐵路之一，試問目前阿里山森林鐵路的管理單位為下列何者？
(A)臺灣鐵路管理局 (B)臺灣高速鐵路工程局
(C)行政院農業委員會林務局 (D)嘉義市政府
- 30 輕軌系統之站距規劃，應以多少距離為原則，但鄉區、低密度開發區或特殊狀況下得適當調整？
(A) 300-500 公尺 (B) 500-800 公尺 (C) 800-1000 公尺 (D) 1500 公尺
- 31 依據鐵路修建養護規則之規定，鐵路路線按其軌道通過負荷量、行車速率及業務性質進行區分，請問軌距 1067 公厘之鐵路可分為幾級？
(A)分為甲、乙及丙級等三種 (B)分為甲、乙、丙、丁級等四種
(C)分為特甲、甲、乙級等三種 (D)分為特甲、甲、乙、丙級等四種
- 32 大眾捷運系統為非完全獨立專用路權者，其共用車道路線長度，以不超過全部路線長度多少比率為限，但有特殊情形，經中央主管機關報請行政院核准者，不在此限？
(A)五分之一 (B)四分之一 (C)三分之一 (D)二分之一
- 33 高雄都會區大眾捷運系統為國內第二座投入營運的大眾捷運系統，試問該捷運系統之開發方式為下列何者？
(A)政府自建、政府營運 (B)政府自建、委託民間經營
(C)政府自建、委託民間經營、移轉給政府 (OT) (D)民間興建、民間經營、移轉給政府 (BOT)
- 34 依據鐵路修建養護規則規定，高速鐵路的月台長度不得小於最大列車長度再加上幾公尺之長度？
(A) 5 公尺 (B) 10 公尺 (C) 15 公尺 (D) 20 公尺
- 35 若有一列重量 50 噸的列車，以 60 公里/小時的速度行駛於千分之四的上坡路段，試問其坡度的阻力為何？
(A) 100 公斤 (B) 200 公斤 (C) 240 公斤 (D) 300 公斤
- 36 依據鐵路修建養護規則之軌距量測規定，若軌距為 1067 公厘者，應於兩軌頭內面之軌頂下多少公厘處測量？
(A) 9 公厘 (B) 11 公厘 (C) 14 公厘 (D) 16 公厘
- 37 依據鐵路法第 10 條規定，全國鐵路網計畫，須由何機關擬訂，報請何機關核定公告後，分期實施？
(A)行政院擬訂，總統府核定 (B)交通部擬訂，行政院核定
(C)臺灣鐵路管理局擬訂，交通部核定 (D)高速鐵路工程局擬訂，交通部核定
- 38 列車自動防護系統 (Automatic train protection, ATP) 的主要功能為何？
(A)防止列車誤點 (B)達到列車自動運轉 (C)保證列車安全運行 (D)協助控制中心調度
- 39 下列何者為世界上第一個擁有捷運系統的城市？
(A)東京 (B)巴黎 (C)倫敦 (D)柏林
- 40 下列何者系統須運行於 A 型路權上？
(A)輕軌捷運 (Light Rail Rapid Transit, LRRT) (B)輕軌運輸 (Light Rail Transit, LRT)
(C)公車捷運 (Bus Rapid Transit, BRT) (D)輕軌電車 (Light Rail Vehicle, LRV)

- 41 交通部民國 101 年頒布之運輸政策白皮書中，明定提供「無縫式的服務」，帶動改變公共運輸競爭劣勢之機會。試問下列何者為公路公共運輸之無縫式運輸之四個維度？
(A)時間-空間-財務-票價 (B)時間-空間-管理-人員 (C)空間-時間-資訊-服務 (D)空間-資訊-管理-服務
- 42 交通部民國 102 年頒布之運輸政策白皮書的運輸安全篇中，針對軌道安全展望，設定鐵路行車安全績效目標為下列何者？
(A)零意外 (B)可接受安全水準 (C)事故後補償機制 (D)由善後提升至防範
- 43 依據大眾捷運法第 4 條規定，桃園機場捷運路線跨越不相隸屬之行政區域，其地方主管機關該如何決定？
(A)由交通部直接接管
(B)由臺北市、新北市、桃園市政府共同管理（各自管理境內的路段）
(C)由交通部指定，交由桃園市政府管轄
(D)由臺北市、新北市、桃園市政府協議後，決定由桃園市政府管轄
- 44 避免列車運轉時發生衝撞與追撞的風險，鐵路業者使用隔時法（Time interval）與隔地法（Space interval），促使列車彼此保持一個相當的安全空間。若在區間內僅容許一列車行駛，其他列車一律禁止進入，則此稱為：
(A)絕對閉塞區間（Absolute block system） (B)權宜區間閉塞（Permissive block system）
(C)人工閉塞制（Manual block system） (D)行車命令制（Train order system）
- 45 依據鐵路法第 26 條，其國營鐵路運價率之計算公式，應由何單位擬訂，報請何單位審定？
(A)臺灣鐵路管理局擬訂、交通部審定 (B)高速鐵路工程局擬訂、交通部審定
(C)交通部擬訂、立法院審定 (D)交通部擬訂、行政院審定
- 46 以大眾運輸系統之建構，引導都市居住、工作、購物、休閒等活動空間，落實大眾運輸導向發展模式（TOD），試問下列何者不是 TOD 所產生之效益？
(A)促進產業的發展 (B)增加大眾運輸乘客與營收
(C)提供聯合開發機會，促進地區經濟的繁榮 (D)有助於大眾運輸場站之周邊停車場開發
- 47 環狀型之大眾捷運路線為環繞整個都市外圍，該路線型態之優點為下列何者？
(A)若路線上某一點發生延遲，可立即補救 (B)可平衡市中心與周圍地區的發展
(C)營運較彈性，事故排除較容易 (D)節省更多的備用車輛
- 48 大眾捷運系統之最大乘載區間（Maximum Load Section, MLS），其意思為何？
(A)路線上最大旅客運載量之路段 (B)路線上最大旅客乘載量之車站
(C)路線上最大旅客乘載量之列車 (D)路線上最大旅客乘載量之時段
- 49 臺北捷運 2017 年 3 月 10 日上午發生站內的手扶梯突然冒煙，疑似是馬達電線走火，試問該日捷運處理狀況，下列敘述何者錯誤？
(A)疏散站內旅客 (B)通報消防隊 (C)實施列車過站不停 (D)立即列車停車檢查
- 50 從經濟學的不完全競爭市場而言，臺灣鐵路的市場發展是屬於下列何者？
(A)寡占市場 (B)新興市場 (C)獨占市場 (D)自由市場

測驗式試題標準答案

考試名稱：106年公務人員特種考試警察人員、一般警察人員考試及106年特種考試交通事業鐵路人員、退除役軍人轉任公務人員考試

類科名稱：運輸營業、場站調車

科目名稱：鐵路運輸學大意（試題代號：4903）

更多鐵路考試科目的歷屆題庫
立即上網搜尋“鐵路歷屆考古題懶人包”
高鋒公職補習班整理
Line@帳號：@gaofeng
連絡電話：07-236-7296

單選題數：50題

單選每題配分：2.00分

複選題數：

複選每題配分：

標準答案：

題號	第1題	第2題	第3題	第4題	第5題	第6題	第7題	第8題	第9題	第10題
答案	C	A	B	C	D	B	B	A	B	B

題號	第11題	第12題	第13題	第14題	第15題	第16題	第17題	第18題	第19題	第20題
答案	C	B	D	B	C	B	C	A	D	C

題號	第21題	第22題	第23題	第24題	第25題	第26題	第27題	第28題	第29題	第30題
答案	B	A	B	C	B	C	C	D	C	B

題號	第31題	第32題	第33題	第34題	第35題	第36題	第37題	第38題	第39題	第40題
答案	C	B	D	B	B	C	B	C	C	A

題號	第41題	第42題	第43題	第44題	第45題	第46題	第47題	第48題	第49題	第50題
答案	C	B	C	A	C	D	B	A	D	C

題號	第51題	第52題	第53題	第54題	第55題	第56題	第57題	第58題	第59題	第60題
答案										

題號	第61題	第62題	第63題	第64題	第65題	第66題	第67題	第68題	第69題	第70題
答案										

題號	第71題	第72題	第73題	第74題	第75題	第76題	第77題	第78題	第79題	第80題
答案										

題號	第81題	第82題	第83題	第84題	第85題	第86題	第87題	第88題	第89題	第90題
答案										

題號	第91題	第92題	第93題	第94題	第95題	第96題	第97題	第98題	第99題	第100題
答案										

備註：

測驗題標準答案更正

考試名稱：106年公務人員特種考試警察人員、一般警察人員考試及106年特種考試交通事業鐵路人員、退除役軍人轉任公務人員考試

類科名稱：運輸營業、場站調車

科目名稱：鐵路運輸學大意

更多鐵路考試科目的歷屆題庫
立即上網搜尋“鐵路歷屆考古題懶人包”
高鋒公職補習班整理
Line@帳號：@gaofeng
連絡電話：07-236-7296

單選題數：50題

單選每題配分：2.00分

複選題數：

複選每題配分：

標準答案：答案標註#者，表該題有更正答案，其更正內容詳見備註。

題號	第1題	第2題	第3題	第4題	第5題	第6題	第7題	第8題	第9題	第10題
答案	C	A	B	C	D	B	B	A	B	B

題號	第11題	第12題	第13題	第14題	第15題	第16題	第17題	第18題	第19題	第20題
答案	C	B	D	B	C	B	C	A	D	C

題號	第21題	第22題	第23題	第24題	第25題	第26題	第27題	第28題	第29題	第30題
答案	B	A	B	C	B	C	C	D	#	B

題號	第31題	第32題	第33題	第34題	第35題	第36題	第37題	第38題	第39題	第40題
答案	C	B	D	B	B	C	B	C	C	A

題號	第41題	第42題	第43題	第44題	第45題	第46題	第47題	第48題	第49題	第50題
答案	C	B	C	A	C	D	B	A	D	#

題號	第51題	第52題	第53題	第54題	第55題	第56題	第57題	第58題	第59題	第60題
答案										

題號	第61題	第62題	第63題	第64題	第65題	第66題	第67題	第68題	第69題	第70題
答案										

題號	第71題	第72題	第73題	第74題	第75題	第76題	第77題	第78題	第79題	第80題
答案										

題號	第81題	第82題	第83題	第84題	第85題	第86題	第87題	第88題	第89題	第90題
答案										

題號	第91題	第92題	第93題	第94題	第95題	第96題	第97題	第98題	第99題	第100題
答案										

備註：第29題答A或C或AC者均給分，第50題答A給分。

105年公務人員特種考試警察人員、一般警察人員 考試及105年特種考試交通事業鐵路人員考試試題

考試別：鐵路人員考試
等 別：佐級考試
類科別：材料管理、運輸營業、場站調車
科目：國文（包括公文格式用語）
考試時間：1小時

更多鐵路考試科目的歷屆題庫
立即上網搜尋“鐵路歷屆考古題懶人包”
高鋒公職補習班整理
Line@帳號：@gaofeng
連絡電話：07-236-7296

座號：_____

※注意：(一)共 45 題，其中單一選擇題 35 題，複選題 10 題，各題答案須用 2B 鉛筆在試卡上依題號清楚劃記，於本試題上作答者，不予計分。
(二)禁止使用電子計算器。

一、單選題（第 1 題至第 35 題，每題 2 分，占 70 分）

說明：所列的四個選項，請選出一個正確或最適當的答案，複選作答者，該題不予計分。

- 下列成語，何者意義前後相反？
(A)內省不疚／不愧不作 (B)一時瑜亮／伯仲之間 (C)瞻前顧後／劍及履及 (D)白駒過隙／歲月如梭
- 下列各組語句的解釋，何者正確？
(A)求人者不如求己：強調以己度人 (B)長江後浪推前浪：比喻每況愈下
(C)是可忍孰不可忍：意指忍氣吞聲 (D)行百里者半九十：勉人持之以恆
- 下列文句「」內詞語的應用，何者正確？
(A)數學老師上課常口沫橫飛，前排同學只好「唾面自乾」
(B)李大華的爸爸和媽媽身材都很高大，稱得上是「椿萱並茂」
(C)地震雖屬天災，但事先若能「曲突徙薪」，也許可以降低損害
(D)朱美麗經常花大錢買漂亮的衣服送給父母，不愧是「綵衣娛親」的孝子
- 下列各組成語，何者解釋完全正確？
(A)克紹箕裘／繼志述事：意指子承父業
(B)折衝樽俎／同室操戈：形容彼此持刀相殺
(C)結草銜環／枕戈泣血：意指滿腔悲憤，準備復仇
(D)枵腹從公／擢髮難數：比喻勤於公務，顧不得己身
- 下列「題辭」，何者使用正確？
(A)祝賀嫁女可用「紅袖添香」 (B)祝賀生女可用「慶叶弄璋」
(C)祝賀診所開業可用「杏林春暖」 (D)祝賀遷居可用「群賢畢至」
- 「酷冷，宜書秦篆漢隸，以白酒助興，則時間蒼莽之感，皆在筆端流動。盛暑高熱，何妨赤膊寫狂草，亦有一種酣暢的快意。暮春初溫，最宜泥金箋小字行書，抒發空氣中流動瀾漫的生機。初春乍暖還涼，寫字的心因而變化萬千。秋風悲涼，當用老紙書舊作，寫一種無可如何的感傷。」此段文字所論者應為：
(A)飲酒與書道的關係 (B)衣著與書道的關係 (C)季節與書道的關係 (D)字體與書道的關係
- 韓愈〈左遷至藍關示姪孫湘〉云：「一封朝奏九重天，夕貶潮陽路八千。欲為聖明除弊事，肯將衰朽惜殘年！雲橫秦嶺家何在，雪擁藍關馬不前。知汝遠來應有意，好收吾骨瘴江邊。」下列對這首詩的敘述，何者錯誤？
(A)首句言朝，次句言夕，泛言韓愈獲罪之速
(B)第三、四句表現作者忠言直諫、獲罪仍不悔的赤心
(C)第五、六句以景抒情，描寫詩人面對坎坷前程的茫然
(D)尾聯表現作者將戮力地方事務，鞠躬盡瘁的決心
- 詩歌可以反映現實及社會的變遷，下列何者內容是反映古代的農業社會？
(A)土反其宅，水歸其壑。昆虫毋作，草木歸其澤 (B)立我蒸民，莫匪爾極，不識不知，順帝之則
(C)卿雲爛兮，糾縵縵兮。日月光華，旦復旦兮 (D)明明上天，爛然星陳。日月光華，弘於一人
- 詩往往意在言外，下列詩句何者含有「高瞻遠矚，無懼艱難」的旨趣？
(A)飛來山上千尋塔，聞說雞鳴見日升。不畏浮雲遮望眼，自緣身在最高層。（王安石〈登飛來峰〉）
(B)雨過橫塘水滿堤，亂山高下路東西。一番桃李花開盡，惟有青青草色齊。（曾鞏〈城南〉）
(C)百轉千聲隨意移，山花紅紫樹高低。始知鎖向金籠聽，不及林間自在啼。（歐陽修〈畫眉鳥〉）
(D)人生到處知何似？應似飛鴻踏雪泥。泥上偶然留指爪，鴻飛那復計東西。（蘇軾〈和子由澠池懷舊〉）
- 王粲〈登樓賦〉：「鍾儀幽而楚奏兮，莊烏顯而越吟。」意為：
(A)無論窮達，人情同懷故土 (B)無計貧富，人情同好吟奏
(C)無論遠近，人情同樂雅音 (D)無論貴賤，人情同喜共樂
- 甲：「未食端午粽，破裘不可送。」乙：「霜降前降霜，挑米如挑糠。」丙：「清明風若從南起，預報田禾大有收。」丁：「雷打立春節，驚蟄雨不歇。」上述俗諺中所指節氣，依年頭至年尾排列，依序應為：
(A)甲乙丙丁 (B)丁丙甲乙 (C)丁甲丙乙 (D)丙乙甲丁

- 12 據說，左宗棠很喜歡下圍棋，而且還是個中高手，其屬僚皆非其對手。有一次，左宗棠微服出巡，看見有一茅舍，橫樑上掛著匾額「天下第一棋手」，左宗棠不服，入內與茅舍主人連弈三盤。主人三盤皆輸，左宗棠笑道：「你可以將此匾額卸下了。」隨後，左宗棠自信滿滿，興高采烈的走了。過沒多久，左宗棠班師回朝，再度路過此處，左宗棠好奇的找到這間茅舍，赫然發現「天下第一棋手」的匾額仍未拆下，左宗棠又入內，與此主人對弈三盤。這次，左宗棠三盤皆輸，左宗棠大感訝異，問茅舍主人何故？主人答：「上回，您有任務在身，要率兵打仗，我不能挫您的銳氣。現今，您已得勝歸來，我當然全力以赴，當仁不讓啦！」下列何者最能凸顯以上故事的情境？
- (A)智者千慮必有一失，愚者千慮必有一得 (B)凡事豫則立，不豫則廢
(C)道高一尺，魔高一丈 (D)此一時，彼一時也
- 13 有些人認為，只要自己學會英語，就能國際化，結果他們學會了英語，但也沒有國際化，正是因為他們一直誤解了，以為語言只是溝通的工具。結果他們學會了英語，卻沒有學到英語背後的文化，無法理解英語使用者有趣的東西，說話枯燥無味，也聽不懂別人的真正意思，最終還是格格不入。這就是把語言僅當成「溝通工具」，忽視其文化本質所導致的結果。本段文字旨在強調：
- (A)語言是工具，透過操作才能熟悉 (B)語言的學習，必須兼顧文化層面
(C)全民學英語，有助於達成國際化 (D)學多國語言，可提升理解表達力
- 14 下列選項的「小」字，何者詞性與其他選項不同？
- (A)登泰山而「小」天下 (B)「小」大之獄，雖不能察
(C)雖「小」道，必有可觀者焉 (D)德薄而位尊，知「小」而謀大
- 15 「人生如登山健步，不停地數算自己走了幾里路，有何意義？登山不是為了算里程，是為了遊興；一個人入世，不是為了活幾歲，是為了驗收自己成為什麼樣的人。」（簡嫻《誰在銀閃閃的地方，等你》）關於這段話的涵意，下列何者正確？
- (A)想要了解人生的意義，應該從登山健步中體會 (B)人應重視養生，以登山鍛鍊體力，活到理想歲數
(C)生命的價值不在於長短，而是在於其所創造的意義 (D)登山的目的不是為了養生，而是要懂得品味沿途風景
- 16 「如果你害怕失敗，就把注意力轉到成功上；如果你害怕生病，就要去想像完美的健康；如果你害怕遇到意外事故，就要多多思考神的庇佑；如果你害怕死亡，就要多多思考永恆的生命。」本文主旨與下列那個選項意思最接近？
- (A)轉移關注的焦點，可以減輕情緒焦慮 (B)你如果希望成功，就必須作正面思考
(C)只要逆向思考，就一定能夠逢凶化吉 (D)平常祈禱，可以降低交通事故的發生
- 17 「對於從沒有迷過路的人，會以為別人給你地圖，路照著走就對了。但對於我們迷過路的人，就會知道一定要拿著羅盤去找路才行。儘管別人按圖索驥半年就走到出口，我們慢慢摸索要走上一年半，但多走這一年，也絕對不是虛度光陰。我們日後不但可以自己畫出地圖，還可以學到很多寶貴的經驗，因為我們知道哪些路是走不通的！」此段敘述之寓意，最接近下列那一選項？
- (A)不退一步不寬心 (B)寸寸光陰莫虛度 (C)按圖索驥自由行 (D)人生沒有白費工
- 18 「知識之外影響人生的還有時間。人生經驗裏經常孕育著見解上的改變。時間就是改變的產婆。從前所追求的，後來也許趕忙摒棄還來不及。昨天的敵手成了今天的同伴。今天覺得是天堂也似的幸福，明天想起來，臉也要通紅了罷？」（鹿橋〈汪洋〉）下列有關此段文字的說明，何者正確？
- (A)只要等待就能改變 (B)滿臉通紅是因真相大白
(C)敵手與同伴是針鋒相對的 (D)知識、經驗與時間讓人改變
- 19 勞工以小時來計算工資，律師按分鐘來收費，賣廣告是以秒來算錢。經由一種很奇特的腦力演算，文明的頭腦把最隱晦抽象的無形東西——時間——濃縮成最可見的數量實物：金錢。把時間和產品放在同一個價值天平上時，就有可能衡量一部彩色電視機的價格相當於多少個工作小時。下列何者與上文旨意最接近？
- (A)時間最不偏私 (B)寸金難買寸光陰 (C)金錢可用時間來衡量 (D)少壯不努力，老大徒傷悲
- 20 下列選項的說明，何者正確？
- (A)「誦詩三百，授之以政，不達；使於四方，不能專對；雖多，亦奚以為？」意謂應多方學習增廣見聞
(B)「子路問事君。子曰：『勿欺也，而犯之。』」意謂盡忠於長官就應不欺騙不冒犯，才是真正的尊重
(C)「行己有恥，使於四方，不辱君命，可謂士矣。」意謂應知恥有所不為，並積極執行任務，使命必達
(D)「言必信，行必果，硜硜然，小人哉！抑亦可以為次矣。」意謂即使是小人，只要注意言行也能轉變
- 21 衛泳〈悅容篇〉對不同年紀的美女有以下的評述：「美人自少至老，窮年竟日，無非行樂之場。少時盈盈十五，娟娟二八，為含金柳，為芳蘭芷，為雨前茶。體有真香，面有真色。及其壯也，如日中天，如月滿輪，如春半桃花，如午時盛開牡丹，無不逞之容，無不工之致，亦無不勝之任。至於半老，則時及暮而姿或豐，色漸淡而意更遠。約略梳妝，遍多雅韻。調適珍重，自覺穩心。如久罨酒，如霜後橘。知老將提兵，調度自別，此終身快意時也。」他認為美女應該是：
- (A)年輕時最美 (B)壯年時最美 (C)半老時最美 (D)任何年齡皆有其美
- 22 「今吳中製器者，競為古拙。其耗費財力類三年而成一楮葉者，是以拙為巧也。今之仕者，以上之惡虛文、責實效，又驚為拙直任事之狀，以為善宦之資。是以忠為詐也。嗚呼，以巧為巧，其敝猶可救也；以拙為巧，其敝不可救也。以詐為詐，其術猶可闕也；以忠為詐，其術不可闕也。」（張居正〈製器〉）根據文意，下列選項之敘述，何者錯誤？
- (A)「驚為拙直任事之狀，以為善宦之資。」誠為仕進之忠也
(B)以拙為巧者，較之以巧為巧者，尤不可取
(C)以忠為詐者，猶言大奸似忠
(D)存心為拙，實為矯情之至

- 23 孟子曰：「或勞心，或勞力。勞心者治人，勞力者治於人；治於人者食人，治人者食於人。」以上文句的主旨在強調：
- (A) 分工合作 (B) 勞逸不均 (C) 貧富差距 (D) 社會亂象
- 24 「棲守道德者，寂寞一時；依阿權勢者，淒涼萬古。達人觀物外之物，思身後之身，寧受一時之寂寞，毋取萬古之淒涼。」此文意與下列何者可互相闡發？
- (A) 君子喻於義，小人喻於利 (B) 君子以文會友，以友輔仁
(C) 君子成人之美，不成人之惡 (D) 君子學道則愛人，小人學道則易使
- 25 《新唐書·逆臣傳》：祿山陽為愚不敏蓋其姦，承間奏曰：「臣生蕃戎，寵榮過甚，無異材可用，願以身為陛下死。」天子以為誠，憐之。令見皇太子，不拜，左右撻語之，祿山曰：「臣不識朝廷儀，皇太子何官也？」帝曰：「吾百歲後付以位。」謝曰：「臣愚，知陛下不知太子，罪萬死。」乃再拜。時楊貴妃有寵，祿山請為妃養兒，帝許之。其拜，必先妃後帝，帝怪之，答曰：「蕃人先母後父。」帝大悅……晚益肥，腹緩及膝，奮兩肩若挽牽者乃能行，作胡旋舞帝前，乃疾如風。帝視其腹曰：「胡腹中何有而大？」答曰：「唯赤心耳！」由此可知安祿山是：
- (A) 年紀小，皇上讓他擔任楊貴妃的侍兒
(B) 善於透過言詞表現忠誠，以獲取天子的歡喜與信任
(C) 愚笨不知進退，竟不知皇太子是未來要繼承皇位的人
(D) 英俊瀟灑，在皇上面前跳起胡旋舞來，可以快速如風
- 26 「晏子對曰：『嬰聞之：順愛不懈，可以使百姓；強暴不忠，不可以使一人。一心可以事百君；三心不可以事一君。』」（《晏子春秋·內篇問下》）文中「一心可以事百君」的意思是：
- (A) 一心多用，便能侍奉所有君主 (B) 一片忠心，便可侍奉所有君主
(C) 堅定一心，想要侍奉所有君主 (D) 專心一志，可以侍奉所有君主
- 27 「入國而不存其士，則亡國矣；見賢而不急，則緩其君矣。非賢無急，非士無與慮國。緩賢忘士而能以其國存者，未曾有也。」本文強調：
- (A) 處理政事應辨別緩急先後 (B) 家貧出孝子，國亂識賢臣
(C) 治國首先必須要親士用賢 (D) 親賢臣，遠小人，則國強
- 28 下列文句皆與說話有關，何者闡釋正確？
- (A) 一言興邦，一言喪邦：強調言行一致的重要
(B) 君子恥其言而過其行：無法表達心志的言語是無效的
(C) 不可與言，而與之言，失言：應掌握說話的對象與時機
(D) 不憤不啟，不悱不發，舉一隅不以三隅反，則不復也：表示說話前必須謹慎思考
- 29 游日四野外，逍遙獨延佇。蘭蕙緣清渠，繁華蔭綠渚。佳人不在茲，取此欲誰與。巢居知風寒，穴處識陰雨。不曾遠別離，安知慕儔侶？（張華〈情詩〉五首之五）根據上下文，「巢居知風寒，穴處識陰雨」兩句應作何解釋？
- (A) 謂丈夫遠行，妻子苦守寒窠，生活淒苦 (B) 謂亂世夫妻，生活環境困苦，不復往日
(C) 謂夫妻在離別之後，才能體會分離之苦 (D) 謂妻子後悔讓丈夫遠覓封侯，孤獨無助
- 30 「處富貴之地，要知貧賤的痛癢；當少壯之時，須念衰老的辛酸。」（洪應明《菜根譚》）其義近似：
- (A) 及時行樂 (B) 防微杜漸 (C) 老驥伏櫪 (D) 老當益壯
- 31 溫庭筠〈更漏子〉：柳絲長，春雨細，花外漏聲迢遞。驚塞雁，起城烏，畫屏金鷓鴣。香霧薄，透簾幕，惆悵謝家池閣。紅燭背，繡簾垂，夢長君不知。此詞的美感經驗不包括何者？
- (A) 色澤之美 (B) 音響之美 (C) 清新脫俗之美 (D) 花霧芬芳之美
- 32 現行公文程式條例第 8 條規定：「公文文字應簡淺明確，並加具標點符號。」下列文句標點符號使用正確的是：
- (A) 本工程起點為忠孝東路終點為重慶北路。
(B) 本校機械科三年三班同學郝聰明，曾美麗，參加社區服務工作，表現優異。
(C) 總統道：「公務人員應坦蕩磊落，司馬光曾說：「余平生無不可告人之事」，我們應以此自勉」。
(D) 出國人員應於返國後一個月內，向本部報備；否則限制申請出國。
- 33 「公告」登載於報刊時，下列敘述何者正確？
- (A) 加註「速別」 (B) 應有「受文者」
(C) 必須蓋用機關首長職章 (D) 免署機關首長職銜、姓名
- 34 下列選項，屬於對上級機關用的公文用語是：
- (A) 請查照 (B) 請釋示 (C) 請惠允見復 (D) 請同意見復
- 35 下列選項，何者為正確的公文用語？
- (A) 臺端：為機關或首長對屬員、或機關對人民所用
(B) 奉：接獲平行機關或首長公文，於引敘時用
(C) 吾人：人民對機關自稱時用
(D) 據：接獲上級機關或首長、屬員、人民公文，於引敘時用

二、複選題（第 36 題至第 45 題，每題 3 分，占 30 分）

說明：所列的五個選項，其中至少有二個是正確答案。各題之選項獨立判定，全部答對者，得 3 分；答錯一個選項者，得 1.8 分；答錯二個選項者，得 0.6 分；所有選項均未作答或答錯多於二個選項（不含二個）者，該題以零分計算。

- 36 下列文句，何者沒有錯別字？
(A) 人的命運或許在冥冥中自有定數，若終日鬱悶憤恨，必然無法走出陰埋
(B) 古代思婦夜夜企盼前線的征夫早日歸來，卻總是藐無音訊，只能獨自惆悵
(C) 強迫一只蛹去破繭，讓它落在蜘蛛的網裡，是否就是仁慈？或者是一種善舉
(D) 馬踢起大路上的輕塵，我的來處是一片霧，勒馬蔓草間，一垂鞭，前塵往事，都到眼前
(E) 雨天的屋瓦，浮漾濕濕的流光，灰而溫柔，迎光則微明，背光則幽黯，對於視覺，是一種低沈的安慰
- 37 下列句子中，何者措辭用語適當、沒有語病？
(A) 董事長撤換了不孚眾望的經理
(B) 有些學員缺乏的是沒有上進心
(C) 他的技藝純熟，已接近目無全牛的境界
(D) 便利超商門口，走出來一個男的小伙子
(E) 體操選手的身材不止要柔軟，而且要氣宇軒昂
- 38 古代文人常以聯語述志自勉，下列對聯何者屬於此種類型？
(A) 冰壺含雪魄，銀漢漾金波 (B) 行是知之始，學非問不明
(C) 水清魚讀月，花靜鳥談天 (D) 養心莫善寡欲，至樂無如讀書
(E) 雲霧潤蒸華不注，波濤聲震大明湖
- 39 下列詩詞與節日之組合，正確無誤的是：
(A) 去年元夜時，花市燈如晝。月上柳梢頭，人約黃昏後／七夕
(B) 獨在異鄉為異客，每逢佳節倍思親。遙知兄弟登高處，遍插茱萸少一人／重陽
(C) 人有悲歡離合，月有陰晴圓缺，此事古難全。但願人長久，千里共嬋娟／中秋
(D) 雲母屏風燭影深，長河漸落曉星沉。嫦娥應悔偷靈藥，碧海青天夜夜心／中元
(E) 春城無處不飛花，寒食東風御柳斜。日暮漢宮傳蠟燭，輕煙散入五侯家／上元
- 40 「先祖母張太夫人，畜一小花犬，群婢患其盜肉，陰扼殺之。中一婢曰柳意，夢中恒見此犬來齧，睡輒嚙語。太夫人知之，曰：『群婢共殺犬，何獨銜冤于柳意？此必柳意亦盜肉，不足服其心也。』考問果然。」根據上文，下列選項正確的是：
(A) 小花犬託夢給張太夫人，表明其乃冤死
(B) 會偷吃肉的，除了小花犬外，還有婢女柳意
(C) 所有的婢女在張太夫人的授意下，一起殺害小花犬
(D) 柳意只要睡覺就會說夢話，而且夢中不斷出現小花犬來啃咬
(E) 群婢一起殺害小花犬，而小花犬銜冤於柳意，是希望柳意為其申冤
- 41 韓愈〈進學解〉云：「少始知學，勇於敢為。長通於方，左右具宜。先生之於為人，可謂成矣。」有關上文句的解釋，下列選項正確的是：
(A) 先生在做人方面，可說是修養有成 (B) 自小就知道努力向學，又敢於有所作為
(C) 長大以後，行事外圓內方，左右逢源 (D) 從小就知道如何寫文章，且勇於挑戰自我
(E) 長大以後，通曉人情世故，言談舉止合宜
- 42 閱讀王昌齡〈閨怨〉，選出敘述正確的選項：
閨中少婦不知愁，春日凝妝上翠樓。忽見陌頭楊柳色，悔教夫婿覓封侯。
(A) 「閨中少婦不知愁」，乃因未曾經歷久別之苦
(B) 時值春日而嚴妝登樓，乃期待丈夫歸來的表現
(C) 陌頭楊柳，乃以典型春色喚起青春易逝的惆悵
(D) 因唐人有折柳贈別的習俗，故以楊柳喚起別情
(E) 少婦之「悔」乃因感到孤寂，且深覺愛情價高
- 43 下列詞句，藉由植物暗寓高潔操守的是：
(A) 無意共爭春，一任羣芳妒。零落成泥碾作塵，只有香如故
(B) 水驛春迴，望寄我江南梅萼。拚今生、對花對酒，為伊淚落
(C) 東城漸覺風光好，穀皺波紋迎客棹。綠楊煙外曉寒輕，紅杏枝頭春意鬧
(D) 我為靈芝仙草，不為絳脣丹臉，長嘯亦何為？醉舞下山去，明月逐人歸
(E) 淚眼倚樓頻獨語，雙燕飛來，陌上相逢否？撩亂春愁如柳絮，悠悠夢裏無尋處
- 44 下列選項句子中的「卒」字，何者有「急促、突然」的意思？
(A) 無衣無褐，何以「卒」歲（《詩經·七月》）
(B) 有始有「卒」者，其惟聖人乎（《論語·子張》）
(C) 「卒」然邊境有急，數十百萬之眾，國胡以餽之（賈誼〈論積貯疏〉）
(D) 天下有大勇者，「卒」然臨之而不驚，無故加之而不怒（蘇軾〈留侯論〉）
(E) 孟嘗君能得士，士以故歸之，而「卒」賴其力，以脫於虎豹之秦（王安石〈讀孟嘗君傳〉）
- 45 「一本好書，一如一位絕代美人，不能隔著簾子看。更不能神龍見首不見尾，支離破碎，要別具慧眼的人才看得出其動人之處；在常人眼裏總是不美的。所好我的職業，不用多少學術根基；在讀書方面，也就毋庸粧點門面。即使當眾承認沒有讀過甚麼甚麼書，也無傷大雅。……書對我完全是一種享受，享受可以沒有，但不能打折扣，一打了折扣，就不成其為享受了。書的節本或淺述，都是打了一折八扣的犧牲品，屬於經濟小吃一類，不容易朵頤稱快的。」下列有關讀書觀念的敘述，何者符合上文之意？
(A) 舊書不厭百回讀，溫故知新令人心生喜悅 (B) 讀書貴精不貪多，從容咀嚼滋味必能深長
(C) 讀書萬卷始通神，可增添茶餘飯後的話題 (D) 見多識廣不足貴，讀書貴能在不疑處有疑
(E) 提要鉤玄如捷徑，終卷通讀方能享受飽足

更多鐵路考試科目的歷屆題庫
立即上網搜尋“鐵路歷屆考古題癩人包”
高鋒公職補習班整理
Line@帳號：@gaofeng
連絡電話：07-236-7296

測驗式試題標準答案

考試名稱：105年公務人員特種考試警察人員考試、105年公務人員特種考試一般警察人員考試及
105年特種考試交通事業鐵路人員考試

類科名稱：場站調車、運輸營業、材料管理

科目名稱：國文(包括公文格式用語)(試題代號：1902)

更多鐵路考試科目的歷屆題庫

立即上網搜尋“鐵路歷屆考古題懶人包”

高鋒公職補習班整理

Line@帳號：@gaofeng

連絡電話：07-236-7296

單選題數：35題(第1~35題)

單選每題配分：2.00分

複選題數：10題(第36~45題)

複選每題配分：3.00分

標準答案：

題號	第1題	第2題	第3題	第4題	第5題	第6題	第7題	第8題	第9題	第10題
答案	C	D	C	A	C	C	D	A	A	A

題號	第11題	第12題	第13題	第14題	第15題	第16題	第17題	第18題	第19題	第20題
答案	B	D	B	A	C	B	D	D	C	C

題號	第21題	第22題	第23題	第24題	第25題	第26題	第27題	第28題	第29題	第30題
答案	D	A	A	A	B	D	C	C	C	B

題號	第31題	第32題	第33題	第34題	第35題	第36題	第37題	第38題	第39題	第40題
答案	C	D	D	B	A	CDE	AC	BD	BC	BD

題號	第41題	第42題	第43題	第44題	第45題	第46題	第47題	第48題	第49題	第50題
答案	ABE	ACDE	AD	CD	BE					

題號	第51題	第52題	第53題	第54題	第55題	第56題	第57題	第58題	第59題	第60題
答案										

題號	第61題	第62題	第63題	第64題	第65題	第66題	第67題	第68題	第69題	第70題
答案										

題號	第71題	第72題	第73題	第74題	第75題	第76題	第77題	第78題	第79題	第80題
答案										

題號	第81題	第82題	第83題	第84題	第85題	第86題	第87題	第88題	第89題	第90題
答案										

題號	第91題	第92題	第93題	第94題	第95題	第96題	第97題	第98題	第99題	第100題
答案										

備註：

105年公務人員特種考試警察人員、一般警察人員 考試及105年特種考試交通事業鐵路人員考試試題

考試別：鐵路人員考試
等 別：佐級考試
類科別：材料管理、運輸營業、場站調車
科 目：公民與英文
考試時間：1小時

更多鐵路考試科目的歷屆題庫
立即上網搜尋“鐵路歷屆考古題懶人包”
高鋒公職補習班整理
Line@帳號：@gaofeng
連絡電話：07-236-7296

座號：_____

※注意：(一)本試題為單一選擇題，請選出一個正確或最適當的答案，複選作答者，該題不予計分。
(二)共 50 題，每題 2 分，須用 2B 鉛筆 在試卡上依題號清楚劃記，於本試題上作答者，不予計分。
(三)禁止使用電子計算器。

- 法國作家西蒙·波娃在《第二性》一書中提及：「女人不是天生 (born) 的，而是後來變成 (become) 的……他人的影響幾乎從一開始就是個關鍵要素，因為她從小就受到灌輸，要完成女性的使命。」上述說法，符合下列何種概念？
(A)生理性別 (B)性別歧視 (C)性別社會化 (D)性別刻板印象
- 小明所居住的社區為享有花木扶疏的中庭，社區管委會決定定期花錢僱人修整中庭，但有部分居民堅持不願意分攤費用，此現象可顯示下列那一項觀念？
(A)鄰避效應 (B)社會正義論 (C)搭便車現象 (D)共有財的悲劇
- 所謂社會階層化是依社會中各群體享有的資源不同，而劃分成高低之階層。若以韋伯 (Max Weber) 的論點，下列那些是區分社會階層的標準？①財富 ②聲望 ③性別 ④權力 ⑤智商
(A)①②④ (B)①②⑤ (C)②③④ (D)③④⑤
- 高分國的法律規定，年滿二十歲的公民，不論其財產或性別均可參與選舉，但是為防止國內不識字的人被政客操弄，因此，特別規定文盲不得有投票權。若依我國憲法所規範的選舉原則來看，這項規定違反下列何者？
(A)普通原則 (B)平等原則 (C)直接原則 (D)無記名原則
- 在開放的社會中存在高度的流動。若以社會流動的概念來看，下列敘述何者屬於垂直的流動？①偉偉從北部學校調職到南部學校任職 ②曉慶從送報生成為企業的負責人 ③惠芳畢業後接掌父親的飯店事業 ④廚師與企業千金結婚成為董事長
(A)①③ (B)①④ (C)②③ (D)②④
- 法國於 2012 年 4 月 22 日舉行總統大選，該次選舉計有 5 人參選，其中獲得最高票與次高票的候選人分別為社會黨的奧朗德和人民運動聯盟的薩科齊，分別獲得 28.63% 和 27.18% 之得票率。法國政府乃於同年 5 月 6 日進入第二輪投票。依上所述判斷，下列何者正確？
(A)參與首輪選舉的五位候選人，仍為第二輪投票的候選人
(B)法國總統大選採「比例代表制」，因此獲得過半支持率為當選之必要條件
(C)法國進入第二輪投票，係因所有候選人在首輪投票時皆未獲過半得票率
(D)法國總統大選有多組候選人，係因該選舉制度屬於「複數選區」制
- 我國的公務員，是以公務之職掌定位為「擬定政策」或「執行政策」，並以是否為常設性而區分為政務官或事務官。下列何者是屬於需要隨政黨選舉勝敗而進退的政務官？
(A)交通部觀光局局長 (B)臺南市政府觀光旅遊局局長
(C)國立大學校長 (D)司法院院長
- 我國為提高國際能見度，增進國際交流，以確保國家利益，持續積極加入各種國際組織。下列何者是我國以正式會員國的身分加入的政府間國際組織？
(A)東南亞國協 (B)世界衛生組織 (C)亞太經濟合作會議 (D)國際合作發展基金會
- 下列關於「副署制度」的敘述，何者正確？
(A)英國女皇解散國會不須首相副署 (B)副署者須對副署的法案負責
(C)我國總統是法案的副署人 (D)民主國家的政府體制都會有副署制度

- 10 中國傳統「天命說」的觀念，若以韋伯（Max Weber）統治正當性的理論劃分，屬於下列何種類型？
(A)傳統型權威 (B)魅力型權威 (C)合法型權威 (D)合理型權威
- 11 國家之出現與主權的奠定有高度的關聯性，下列何項文件之簽訂被視為近代國家誕生之開端？
(A)凡爾賽和約 (B)西伐利亞和約 (C)波茨坦宣言 (D)華盛頓公約
- 12 我國政府體制設計中，司法、考試、監察三院的相關人員產生方式，下列何者的產生方式明顯與其他三者不同？
(A)審計部審計長 (B)監察委員 (C)考選部部長 (D)大法官
- 13 晉愷在沒有政黨支持的情況下，有意參選 2020 年的總統選舉，依我國法律規定，晉愷需先完成下列那一種程序，才能向中央選舉委員會登記成為總統候選人？
(A)公民投票 (B)公民連署 (C)財產審查 (D)資格審查
- 14 依我國相關法令判斷，下列有關「倒閣案」的敘述，何者正確？
(A)倒閣案表決時，必須經出席立法委員二分之一以上贊成始能通過
(B)若倒閣失敗，一年內不得對同一行政院院長再提不信任案
(C)若倒閣成功，行政院院長應於 15 日內辭職
(D)不信任案通過後，行政院院長可逕行解散立法院
- 15 近年來，我國透過體育、學術、文化與藝術等管道積極參與國際社會，同時也向需要協助的國家伸出援手，例如對海地的賑災與中南美洲、非洲等國的經濟合作開發等。我國與這些國家官方代表雖未能實際交流，但非官方文化經濟互動卻很頻繁，我國在國際社會的形象也慢慢建立。上述的外交政策，應是指下列何者？
(A)正式外交 (B)務實外交 (C)金援外交 (D)秘密外交
- 16 依據立法院職權行使法之規定，下列那些議案應經立法院三讀會議決？①預算案 ②戒嚴案 ③條約案 ④法律案
(A)①② (B)①④ (C)②③ (D)③④
- 17 刑罰分為主刑與從刑，從刑須隨著主刑而宣告，下列選項何者為從刑？
(A)罰鍰 (B)罰金 (C)沒收 (D)拘役
- 18 亞當斯密（Adam Smith）所謂的「看不見的手」，是指在市場中消費者、生產者調整需求量及供給量是隨著那一種訊息而定？
(A)承銷時間 (B)市場價格 (C)規模產量 (D)政府計畫
- 19 政府機關提出之議案或立法委員提出之法律案，提報院會朗讀標題後，當有出席委員提議，二十人以上連署或附議並經表決通過，得進行下列那一程序？
(A)逕付二讀 (B)廣泛討論 (C)交付審查 (D)黨團協商
- 20 就我國憲政體制之運作而言，一個經民主程序制定的法律，其內容是否違反了憲法的規範精神，係交由大法官以釋憲進行認定。下列對於我國大法官釋憲的相關敘述，何者正確？
(A)由檢察總長代表人民向司法院提出聲請案 (B)人民得因不同審級法院有不同見解而聲請
(C)人民聲請者必須為確定終局判決之個案 (D)司法院依法應召開憲法法庭以進行審理
- 21 政府制定公平交易法以保障交易秩序與安定，下列何者行為不屬於此法的規範範圍？
(A)兩大有線電視業者合併後，收視戶涵蓋全臺九成以上
(B)單一超商調漲牛奶銷售價格，以反映原物料的上漲
(C)賣場打出購物滿額送折價券，但折價券使用限制卻超出廣告範圍
(D)補習班為招攬學生，散布其他競爭業者張貼假榜單的不實消息
- 22 災害防救法第 24 條：「為保護人民生命、財產安全或防止災害擴大，直轄市、縣（市）政府、鄉（鎮、市、區）公所於災害發生或有發生之虞時，應勸告或強制其撤離，並作適當之安置。」政府係基於下列何項理由，制定該法以限制人民權利？
(A)避免緊急危難 (B)維持社會秩序 (C)增進公共利益 (D)防止妨礙他人自由

- 23 在刑事訴訟的程序中，主要包含偵查、起訴、審判、執行四個階段，下列針對每一個階段的說明，何者正確？
 (A)偵查階段，為調查證據應由法官陪同進行搜索
 (B)起訴階段，若罪證確鑿但罪責很輕，檢察官可採緩刑處分
 (C)審判階段，法官應依職權調查證據
 (D)執行階段，由檢察官負責執行終審判決的內容
- 24 某富商生前遺囑：「過世後，將遺產全部送給女友。」富商死後，其配偶、子女和女友為了遺產對簿公堂。依據我國法律之規定，下列有關富商遺產分配之敘述，何者正確？
 (A)基於遺囑自由，配偶無法請求繼承
 (B)子女可請求遺產的特留分
 (C)女友可請求遺產的特留分
 (D)女友非法律上正式身分關係，故富商遺囑無效
- 25 小剛在立法院前請願，被地檢署以非法集會遊行首謀起訴。經法院審理，依現場情形及證人證詞，無法確認其為首謀，判決無罪。依上所述判斷，該法官判決較符合下列何種精神？
 (A)罪疑惟輕
 (B)從舊從輕
 (C)阻卻違法
 (D)刑期無刑
- 26 依據目前我國民法的規定，下列那些屬於「無行為能力人」？①未滿七歲的兒童 ②未滿十二歲的兒童 ③受監護宣告的人 ④受輔助宣告的人
 (A)①④
 (B)②③
 (C)①③
 (D)②④
- 27 以下是一則經濟新聞：「由於美元持續……，近一個月以來，新臺幣兌換美元匯率已由 32 元兌 1 美元，變成 33.7 元兌 1 美元……」根據上述內容判斷，最近新臺幣匯率變動可能造成什麼影響？
 (A)有利於進口美國商品
 (B)不利於出口臺灣商品
 (C)到美國留學的費用變貴
 (D)臺灣進口的美國商品變便宜
- 28 近年來，某些國營事業逐步民營化，請問國營事業民營化最主要的優點為何？
 (A)重視弱勢團體權益
 (B)促進實現社會正義
 (C)提升資源使用效率
 (D)簡化政府行政流程
- 29 中央銀行可以利用貨幣政策達到穩定物價的功能，因此當中央銀行採取「寬鬆」的貨幣政策時，最可能是採取下列何種措施？
 (A)調高法定準備率
 (B)調高重貼現率
 (C)在公開市場買入公債
 (D)在公開市場賣出外匯
- 30 在世界各項發明大賽中，我國選手屢次獲得佳績揚名國際。依上所述判斷，我國參賽者的發明實力屬於下列何種經濟發展的要素？
 (A)企業才能
 (B)政府效能
 (C)人造資本
 (D)人力資本
- 31 小芬開店賣炸雞排及紅茶，投入生產成本共新臺幣（以下同）6,900 元，下表是雞排與紅茶的售價及銷售量，試問她的利潤有多少？
- | 項目 | 雞排 | 紅茶 |
|-----|-----|-----|
| 售價 | 40 | 15 |
| 銷售量 | 200 | 150 |
- (A)1,100 元
 (B)2,250 元
 (C)3,350 元
 (D)10,250 元
- 32 某位籃球明星樣樣精通，連打掃都比助手還快，但籃球明星寧可請助手打掃，自己專心打球。像這樣人與人之間的適當分工，從事自己較擅長的工作，符合下列何項經濟學原理？①機會成本 ②外部成本 ③比較利益 ④供需原理
 (A)①③
 (B)①④
 (C)②③
 (D)②④
- 33 若一個國家在生產某項產品具有絕對利益，表示該國生產此產品時會發生下列何種情形？
 (A)機會成本較低
 (B)投入的生產要素較多
 (C)其他國家的此項產品會傾銷到該國
 (D)須限制他國產品的進口，才能獲利
- 34 公民老師在課堂上讓同學進行「公共財」的腦力激盪活動，其中有四個人參與此活動。下列何者都是公共財？
 (A)國民教育、高鐵
 (B)公車、堤防
 (C)有線電視、高速公路
 (D)治安、國防
- 35 假設以 2011 年為基期年，某國 2012 年的 GDP 平減指數（GDP deflator）為 150，2013 年的 GDP 平減指數為 180；若 2012 年的名目 GDP 為 1,500 億，2013 年的名目 GDP 為 2,160 億，2013 年的經濟成長率為多少？
 (A)5%
 (B)10%
 (C)15%
 (D)20%

- 36 I am talking about something important to you. Don't _____ the topic.
(A) change (B) agree (C) turn (D) involve
- 37 Although our boss is very demanding, he gives us good _____ and excellent job benefits.
(A) form (B) wrist (C) pay (D) trash
- 38 All information is correct at the time of going to press, but readers are urged to _____ dates with organizers before attending the concert.
(A) charm (B) confirm (C) contact (D) contain

請依下文回答第 39 題至第 43 題：

Fast-food restaurants are a familiar sight in almost every city and town in the United States. The first fast-food restaurants sold 39 a few kinds of foods. For example, when the first McDonald's 40 in 1948, its menu had only five items: hamburgers, cheeseburgers, French fries, shakes, and sodas. Today, most fast-food restaurants 41 a wide variety of items. Hamburgers, pizza, sandwiches, pancakes, eggs and more are 42 for a quick meal. Many fast-food restaurants are part of large nationwide chains. This is 43 you will find restaurants that look the same and serve the same food all over the country.

- 39 (A) still (B) never (C) seldom (D) only
- 40 (A) seen (B) opened (C) ran (D) stood
- 41 (A) buy (B) count (C) sell (D) take
- 42 (A) negative (B) useful (C) local (D) available
- 43 (A) when (B) what (C) why (D) where
- 44 If you come _____ a new word, you should look it up in the dictionary.
(A) onto (B) down (C) across (D) from
- 45 The exam turned out to be a big disaster. Hardly _____ in our class passed.
(A) everybody (B) anybody (C) somebody (D) nobody

請依下文回答第 46 題至第 50 題：

A man and his son were traveling through the icy Arctic wasteland. They tried their best to gather food and fuel for winter. The boy made friends with a little brown bird.

When winter set in, the boy and his father settled into their igloo. One night they heard a polar bear outside. The bear tried to get into the igloo, but it was too big. So he put his paw through the entrance and stamped out the fire inside. The bear knew that, in the spring, he could come back and get the boy and his father, who would have frozen to death then.

Once the bear had gone, the little bird flew into the igloo. The bird saw that the boy and his father were so cold that they had fallen asleep, so it frantically flapped his wings to get the fire going again. As he flapped, the flames grew, and the bird's breast turned red with the heat. He did not stop until the boy and his father had woken. Since then, robins have had a red breast.

- 46 What is the passage mainly about?
(A) How icy the Arctic wasteland is. (B) How polar bears survive the cold.
(C) Why the boy made friends with the bird. (D) Why robins have a red breast.
- 47 What was the boy doing when he made friends with the bird?
(A) He was having fun traveling in the Arctic. (B) He was hunting polar bears.
(C) He was looking for his father. (D) He was getting prepared for winter.
- 48 According to the passage, what is an igloo mainly for?
(A) Fuel. (B) Food. (C) Wasteland. (D) Sheltering.
- 49 What did the bear do so that he could come back in the spring for his prey?
(A) He put out the fire. (B) He killed the bird. (C) He froze to death. (D) He gathered fuel.
- 50 Which of the following words is opposite in meaning to the word "frantically"?
(A) Madly. (B) Calmly. (C) Cozily. (D) Mentally.

測驗式試題標準答案

考試名稱：105年公務人員特種考試警察人員考試、105年公務人員特種考試一般警察人員考試及
105年特種考試交通事業鐵路人員考試

類科名稱：材料管理、運輸營業、場站調車

科目名稱：公民與英文（試題代號：2902）

更多鐵路考試科目的歷屆題庫
立即上網搜尋“鐵路歷屆考古題懶人包”
高鋒公職補習班整理
Line@帳號：@gaofeng
連絡電話：07-236-7296

單選題數：50題

單選每題配分：2.00分

複選題數：

複選每題配分：

標準答案：

題號	第1題	第2題	第3題	第4題	第5題	第6題	第7題	第8題	第9題	第10題
答案	C	C	A	A	D	C	B	C	B	A

題號	第11題	第12題	第13題	第14題	第15題	第16題	第17題	第18題	第19題	第20題
答案	B	C	B	B	B	B	C	B	A	C

題號	第21題	第22題	第23題	第24題	第25題	第26題	第27題	第28題	第29題	第30題
答案	B	A	D	B	A	C	C	C	C	D

題號	第31題	第32題	第33題	第34題	第35題	第36題	第37題	第38題	第39題	第40題
答案	C	A	A	D	D	A	C	B	D	B

題號	第41題	第42題	第43題	第44題	第45題	第46題	第47題	第48題	第49題	第50題
答案	C	D	C	C	B	D	D	D	A	B

題號	第51題	第52題	第53題	第54題	第55題	第56題	第57題	第58題	第59題	第60題
答案										

題號	第61題	第62題	第63題	第64題	第65題	第66題	第67題	第68題	第69題	第70題
答案										

題號	第71題	第72題	第73題	第74題	第75題	第76題	第77題	第78題	第79題	第80題
答案										

題號	第81題	第82題	第83題	第84題	第85題	第86題	第87題	第88題	第89題	第90題
答案										

題號	第91題	第92題	第93題	第94題	第95題	第96題	第97題	第98題	第99題	第100題
答案										

備註：

105年公務人員特種考試警察人員、一般警察人員 考試及105年特種考試交通事業鐵路人員考試試題

考試別：鐵路人員考試
等別：佐級考試
類科別：運輸營業
科目：企業管理大意
考試時間：1小時

更多鐵路考試科目的歷屆題庫
立即上網搜尋“鐵路歷屆考古題懶人包”
高鋒公職補習班整理
Line@帳號：@gaofeng
連絡電話：07-236-7296

座號：_____

※注意：(一)本試題為單一選擇題，請選出一個正確或最適當的答案，複選作答者，該題不予計分。
(二)共 50 題，每題 2 分，須用 2B 鉛筆在試卡上依題號清楚劃記，於本試題上作答者，不予計分。
(三)禁止使用電子計算器。

- 有關效率 (efficiency) 與效能 (effectiveness)，下列敘述何者正確？
(A)效率是指目標的達成 (B)效能是指把事情做好
(C)減少資源浪費是效率的表現 (D)效率很好就有效能
- 有關企業環境分析，下列敘述何者錯誤？
(A)內部分析是在於清楚估算內部的資源與能力 (B)外部分析可發掘組織的核心能力
(C)SWOT 的分析可找出組織發展的策略利基 (D)外部分析檢視特定環境與一般環境的趨勢與變化
- 若組織的目標定義得很清楚，可以形成一種整合性目標網，讓組織上下層級間目標環環相扣，共同創造就成，此稱：
(A)目標設定法 (goal-setting)
(B)手段目標鏈 (means-ends chain)
(C)SMART 法 (目標的特定、可衡量、可達成、可行動與期限)
(D)策略管理程序
- 標竿管理是一般常見的管理技術，下列那一項是錯誤的標竿管理步驟？
(A)成立標竿管理小組，確認標竿是什麼及值得標竿學習的「最佳技術」何在，並決定資料蒐集方式
(B)從組織內部與外部蒐集資料。經由自我了解，以便看懂與標竿組織的績效差異
(C)直接模仿標竿組織的運作程序
(D)訂定出趕上或超越標竿組織的標準，並確實執行計畫
- 關於知覺扭曲中的月暈效果，下列敘述何者正確？
(A)單純的把個人歸屬於某一群體，然後再以對此群體之印象論斷此個人
(B)以單一現象或情況推論到個人或某一事件之整體印象
(C)以個人自己的特質來看待他人的特質
(D)個人對於威脅或不利於己之訊息、物件或他人，會加以忽略以保護自我
- 較低階管理者通常會面對那種決策類型？
(A)非程式化的 (B)程式化的 (C)非重複性的 (D)結構不良的問題
- 著名的 BCG 矩陣是用來作為策略事業單位資源分配的考慮，下列敘述何者正確？
(A)金牛事業 (低成長、高市場占有率) 有大量的現金流量，分配資源時以維持市場占有率為主
(B)明星事業 (高成長、高市場占有率) 有大量的現金流量，分配資源時以維持市場占有率為主
(C)落水狗事業 (低成長、低市場占有率) 有大量負向現金流量，應避免大量資源投入，可考慮撤出或維持
(D)問題事業 (高成長、低市場占有率) 有適度正向或負向現金流量，應將資源投注於行銷，以獲取對手市場占有率
- 控制幅度 (span of control) 指管理者可以有效控管之下屬人數，下列何者比較不可能是增加現代企業控制幅度的因素？
(A)主管管理能力提升 (B)通訊科技進步 (C)組織設計更強調集權 (D)員工能力提升
- 管理者應具有分析並診斷複雜情況的能力，使管理者通盤了解事情的始末，以便制定決策。指的是管理者須具備的那一項技能？
(A)政治技能 (B)概念化的技能 (C)人際關係的技能 (D)專業技術的技能

- 10 授權是指管理者分派工作給部屬的程序。授權不包括下列何者？
(A)分派責任 (responsibility) (B)給予預算 (budget)
(C)授予職權 (authority) (D)建立當責 (accountability)
- 11 最近幾年，情緒商數 (emotional quotient, EQ) 被認為在執行工作上，重要性勝過智商 (IQ)，情緒商數不包括下列何者？
(A)自我覺察 (self-awareness) (B)管理情緒 (managing emotion)
(C)激勵自己 (motivating oneself) (D)技術技能 (technical skills)
- 12 有關赫茲伯格的兩因素激勵理論，下列何者錯誤？
(A)兩因素是指激勵因素與維生因素
(B)沒有激勵因素，員工會不滿意
(C)維生因素的項目中，多數和工作環境有關
(D)給予工作保障之類的維生項目，員工未必會更賣力工作
- 13 某執行長花了 60% 的時間拜訪各據點，並與員工談話，這是一種：
(A)事前控制 (B)即時控制 (C)事後控制 (D)亡羊補牢控制
- 14 有關公司治理的機制，不包括下列何者？
(A)董事會組成結構 (B)高階管理當局的報酬機制
(C)所有權分散 (D)採用多事業部的組織結構
- 15 公司治理時，因為高階管理當局與關係人兩者之間存有代理關係，因而產生代理成本，下列何者非為代理成本？
(A)激勵高階主管，以符合股東利益的激勵成本 (B)為有效制裁高階主管行為的重大交易成本
(C)為有效監督高階管理當局的監控成本 (D)為強制高階管理當局符合股東利益所花的強制成本
- 16 人力資源規劃的過程，下列何者正確？
(A)工作分析→評估未來需求→準備人力資源人才庫→評估未來供給→建立策略規劃
(B)評估未來需求→工作分析→準備人力資源人才庫→評估未來供給→建立策略規劃
(C)準備人力資源人才庫→工作分析→評估未來需求→評估未來供給→建立策略規劃
(D)準備人力資源人才庫→評估未來供給→工作分析→評估未來需求→建立策略規劃
- 17 激勵理論中的期望理論，提出三種重要的變數間關係，下列何者正確？
(A)努力－報酬之連結 (B)努力－個人目標之連結
(C)績效－個人目標之連結 (D)績效－報酬之連結
- 18 1960 年代後期，明茲伯格 (Henry Mintzberg) 對高階管理者的研究，發現管理者有十種不同但具高度相關的角色，十種角色可以區分為三大類，請問代表人物、領導者及聯絡人屬於下列那一類：
(A)決策制訂角色 (B)資訊傳遞角色 (C)人際關係角色 (D)政治家角色
- 19 許多證據顯示轉換型領導比交易型領導更為優越，下列對轉換型領導的敘述何者錯誤？
(A)主動監測異常的失誤與差錯，並採取對策 (B)延伸個人自信與成就、連接目標、喚起部屬的情緒
(C)能傳達高的期望，肯定員工的努力 (D)激發部屬、提供教育訓練與個別的關懷
- 20 研究發現，部屬的特質會影響領導者的行為，下列敘述何者正確？
(A)部屬人格特質屬於內控型，在命令型態領導風格下會比較滿意
(B)部屬人格特質屬於外控型，在參與式領導風格下會比較滿意
(C)缺乏能力與動機的部屬，需要支持型領導
(D)有能力但缺乏動機的部屬，需要支持型領導
- 21 企業界和學術界共同合作，進行產學碩士班的作法，是屬於：
(A)職外課程和訓練 (B)學徒制訓練計畫 (C)職前訓練 (D)模擬訓練
- 22 評估員工績效的步驟，不應包括：
(A)建立績效標準與傳達此標準 (B)根據員工過去學經歷評估是否達到標準
(C)必須回饋並採取導正行動 (D)根據評估結果，作為相關人力資源規劃的依據

- 23 有關員工招募採內部招募，下列何者錯誤？
(A)內部招募是指由內部人員公開向社會募集
(B)內部招募的成本較低
(C)內部招募是對內部員工的肯定，並可提升士氣
(D)內部招募較容易找到具認同感、對組織較為熟悉的人
- 24 企業的敘薪決策，應包括三個層次，下列何者正確？
(A)薪酬水準、薪酬結構、薪資政策
(B)薪酬水準、福利計畫、個別薪資
(C)薪酬水準、薪酬結構、個別薪資
(D)薪酬結構、福利計畫、薪資政策
- 25 工作分析、工作說明書與工作規範是人力資源管理中重要的工具，下列關於三者的敘述何者錯誤？
(A)根據工作分析結果發展或修正工作說明書
(B)根據工作規範進行工作分析
(C)工作規範列出工作人員至少應具備的基本條件
(D)工作說明書是記載工作人員應做什麼事、如何做，以及為什麼要做該項工作的說明
- 26 下列何者不屬於直效行銷（direct marketing）的作法？
(A)郵購
(B)目錄銷售
(C)電話行銷與線上行銷
(D)銷售人員到工作場所銷售
- 27 有關消費品類型與配銷作法，下列何者正確？
(A)衝動品常會讓人喪失理智而購買，所以必須採取選擇性配銷
(B)名牌精品大家都想要，必須採取密集式配銷
(C)家電、汽車之類的選購品應採取選擇性配銷
(D)忽略品常讓大家忽略，所以必須採取密集式配銷
- 28 某運動服飾宣稱含有特定品牌的纖維，可促進排汗與散熱功能，這是採取下列何種策略？
(A)多品牌策略
(B)金牛品牌策略
(C)經銷商品牌策略
(D)元件品牌策略
- 29 廠商在電視與各種媒體大作廣告，吸引顧客上門購買產品，這種作法稱為：
(A)推的策略
(B)病毒行銷
(C)口碑行銷
(D)拉的策略
- 30 有關消費品的分類，下列敘述何者錯誤？
(A)便利品：指消費者需要時，並不會多花時間或搜尋，而會馬上購買
(B)選購品：指消費者特別喜愛而會花費眾多心力搜尋之產品，目的是選到心目中的特定產品
(C)特殊品：指消費者特別喜愛而會花費眾多心力搜尋之產品，目的是找到心目中的特定產品
(D)選購品：指消費者感覺值得花時間貨比三家的產品
- 31 寧夏夜市集合 20 家平均五十歲的夜市老店及攤子，推出千歲宴，使消費者不用一攤攤各別去消費，就布置規劃而言，屬於那一種布置方式？
(A)產品布置
(B)流程布置
(C)定點布置
(D)顧客導向布置
- 32 行銷組合中，最需龐大投資、最花時間的是：
(A)通路
(B)產品
(C)訂價
(D)推廣與促銷
- 33 長期資本預算決策常見的分析方法，不包括下列何者？
(A)財務槓桿分析法
(B)內部報酬率分析法
(C)損益兩平分析法
(D)淨現值分析法
- 34 企業主要的財務報表是：
(A)資產負債表、財務預測、現金流量表
(B)資產負債表、現金流量表、損益兩平表
(C)現金流量表、損益表、股東權益報告書
(D)損益表、現金流量表、資產負債表
- 35 有關常用的財務分析比率，下列何者錯誤？
(A)衡量企業的經營績效，可利用每股盈餘
(B)衡量利潤所可以支付利息倍數，可利用速動比率
(C)衡量企業的短期償債能力，可利用流動比率
(D)衡量企業的財務槓桿運用程度，可利用負債比率
- 36 財務經理人需為企業籌劃資金的原因，主要在於企業之長、短期資金運用，下列何者不是企業短期資金的運用？
(A)應付帳款
(B)應收帳款
(C)存貨
(D)公司債

- 37 下列何者是直接用來衡量企業償付短期負債能力？
(A)速動比率 (B)存貨週轉率 (C)應收帳款週轉率 (D)負債比率
- 38 某影印中心，每張影印收費 3 元，每月固定成本 80,000 元，每張變動成本 1 元，請問每月營收至少多少才能達到損益平衡？
(A) 100,000 元 (B)110,000 元 (C)120,000 元 (D)130,000 元
- 39 下列何者不適合用來作為全面品質管理 (Total Quality Management) 的工具？
(A) SWOT 分析法 (B)品質改善團隊 (C)企業流程改造 (D)ISO 認證
- 40 廠商將原物料轉化成最終產品、服務的價值，可謂創造：
(A)時間效用 (B)形式效用 (C)地點效用 (D)所有權效用
- 41 有關品質提升的發展，常必須利用品質管制的技術，下列敘述何者正確？
(A)可利用 ISO 認證來提升品質衡量標準 (B)六個標準差是最基本的要求
(C)及時存貨控制 (just-in-time) 是重要的概念 (D)企業最常採用泰勒品管圈 (Taylor cycle) 的方法
- 42 全面品質管理指的是組織為追求卓越品質所做的努力，下列對於全面品質管理基本精神的描述何者錯誤？
(A)重視顧客：全面品質管理唯一重視的就是最終購買產品或接受服務的顧客
(B)持續不斷地改善：全面品質管理是一種無法被滿足的承諾，「非常好」仍不夠好，它所追求的是無終點的改善空間
(C)重視流程：全面品質管理對品質的定義相當廣泛，它包括了所有組織的流程
(D)授權：全面品質管理讓員工參與改善的過程，運用團隊集思廣益，讓員工發現並解決問題
- 43 下列有關彈性製造系統 (flexible manufacturing systems, FMS) 的敘述何者錯誤？
(A)可以配合多樣化顧客需求，又能快速完成任務
(B)整合電腦設計、工程、製造等功能，小量生產，所以不必在乎規模經濟
(C)因為可透過電腦程式修改生產不同產品，而保有規模經濟的效率
(D)因為電腦可控制轉換產品線，不必停機更換模具，所以可以快速反應顧客需求
- 44 持續改善 (continuous improvement) 是生產或品質管理領域常被提及的方法，下列相關敘述何者錯誤？
(A)「改善」一詞源自日文「kai」意指「改變」、「zen」意指「好」
(B)持續改善追求的是累進式的品質提升，不是跳躍式的大步躍進
(C)改善強調員工的工作方法改進
(D)不惜投資昂貴設備也要提升品質
- 45 網路科技帶來電子商務的發展，而其交易型態也不斷演化，請問近來本地流行的團購屬於下列何種交易類型？(註：選項中的 B 代表企業、C 代表顧客、2 代表 to)
(A) B2B (B)B2C (C)C2C (D)C2B
- 46 有關近年常被討論的企業社會責任，下列敘述何者正確？
(A)歷史的演進是從責任，到積極回應，再回到義務
(B)古典學派的觀點是企業除了追求利潤，還要兼顧利害關係人的福祉
(C)社會經濟觀點認為社會責任不只追求利潤，還應保護並改善社會福祉
(D)社會回應的觀點，認為至少要履行法律的要求
- 47 行銷管理可區分五種導向：生產導向、產品導向、銷售導向、行銷導向與社會行銷導向，分別表示行銷問題的考慮因素內涵，下列考慮因素何者是行銷導向與社會行銷導向最重要的差別？
(A)消費者需要 (B)企業目標 (C)顧客長期利益 (D)社會整體利益
- 48 下列那一項屬於費堯 (Henry Fayol) 提出的管理功能？
(A)生產 (B)行銷 (C)領導 (D)品管
- 49 企業領導者被要求由自己的行為到明示的道德行為都要維持高道德水準，且促使組織中他人保持相同標準，此稱：
(A)策略性領導 (B)道德領導 (C)企業倫理 (D)社會責任
- 50 下列何者不是財務經理人必要的工作責任？
(A)決定公司長期投資項目 (B)取得投資所需資金
(C)執行一般日常營運之財務相關作業 (D)尋找獲利最高的金融投資標的

更多鐵路考試科目的歷屆題庫
立即上網搜尋“鐵路歷屆考古題懶人包”
高鋒公職補習班整理
Line@帳號：@gaofeng
連絡電話：07-236-7296

測驗式試題標準答案

考試名稱：105年公務人員特種考試警察人員考試、105年公務人員特種考試一般警察人員考試及
105年特種考試交通事業鐵路人員考試

更多鐵路考試科目的歷屆題庫
立即上網搜尋“鐵路歷屆考古題懶人包”
高鋒公職補習班整理
Line@帳號：@gaofeng
連絡電話：07-236-7296

類科名稱：運輸營業

科目名稱：企業管理大意（試題代號：3903）

單選題數：50題

單選每題配分：2.00分

複選題數：

複選每題配分：

標準答案：

題號	第1題	第2題	第3題	第4題	第5題	第6題	第7題	第8題	第9題	第10題
答案	C	B	B	C	B	B	A	C	B	B

題號	第11題	第12題	第13題	第14題	第15題	第16題	第17題	第18題	第19題	第20題
答案	D	B	B	C	B	C	D	C	A	D

題號	第21題	第22題	第23題	第24題	第25題	第26題	第27題	第28題	第29題	第30題
答案	A	B	A	C	B	D	C	D	D	B

題號	第31題	第32題	第33題	第34題	第35題	第36題	第37題	第38題	第39題	第40題
答案	D	A	A	D	B	D	A	C	A	B

題號	第41題	第42題	第43題	第44題	第45題	第46題	第47題	第48題	第49題	第50題
答案	A	A	B	D	D	C	D	C	B	D

題號	第51題	第52題	第53題	第54題	第55題	第56題	第57題	第58題	第59題	第60題
答案										

題號	第61題	第62題	第63題	第64題	第65題	第66題	第67題	第68題	第69題	第70題
答案										

題號	第71題	第72題	第73題	第74題	第75題	第76題	第77題	第78題	第79題	第80題
答案										

題號	第81題	第82題	第83題	第84題	第85題	第86題	第87題	第88題	第89題	第90題
答案										

題號	第91題	第92題	第93題	第94題	第95題	第96題	第97題	第98題	第99題	第100題
答案										

備註：

測驗題標準答案更正

考試名稱：105年公務人員特種考試警察人員考試、105年公務人員特種考試一般警察人員考試及
105年特種考試交通事業鐵路人員考試

更多鐵路考試科目的歷屆題庫
立即上網搜尋“鐵路歷屆考古題懶人包”
高鋒公職補習班整理
Line@帳號：@gaofeng
連絡電話：07-236-7296

類科名稱：運輸營業

科目名稱：企業管理大意

單選題數：50題

單選每題配分：2.00分

複選題數：

複選每題配分：

標準答案：答案標註#者，表該題有更正答案，其更正內容詳見備註。

題號	第1題	第2題	第3題	第4題	第5題	第6題	第7題	第8題	第9題	第10題
答案	C	B	B	C	B	B	#	C	B	B

題號	第11題	第12題	第13題	第14題	第15題	第16題	第17題	第18題	第19題	第20題
答案	D	B	#	#	B	C	D	C	A	#

題號	第21題	第22題	第23題	第24題	第25題	第26題	第27題	第28題	第29題	第30題
答案	A	B	A	C	B	D	C	D	D	B

題號	第31題	第32題	第33題	第34題	第35題	第36題	第37題	第38題	第39題	第40題
答案	#	#	A	D	B	D	A	C	A	B

題號	第41題	第42題	第43題	第44題	第45題	第46題	第47題	第48題	第49題	第50題
答案	A	A	B	D	D	C	D	C	B	#

題號	第51題	第52題	第53題	第54題	第55題	第56題	第57題	第58題	第59題	第60題
答案										

題號	第61題	第62題	第63題	第64題	第65題	第66題	第67題	第68題	第69題	第70題
答案										

題號	第71題	第72題	第73題	第74題	第75題	第76題	第77題	第78題	第79題	第80題
答案										

題號	第81題	第82題	第83題	第84題	第85題	第86題	第87題	第88題	第89題	第90題
答案										

題號	第91題	第92題	第93題	第94題	第95題	第96題	第97題	第98題	第99題	第100題
答案										

備註：第7題答A或D或AD者均給分，第13題答A或B或C或D或AB或AC或AD或BC或BD或CD或ABC或ABD或ACD或BCD或ABCD者均給分，第14題一律給分，第20題一律給分，第31題答C或D或CD者均給分，第32題一律給分，第50題答A或D或AD者均給分。

105年公務人員特種考試警察人員、一般警察人員 考試及105年特種考試交通事業鐵路人員考試試題

考試別：鐵路人員考試

等別：佐級考試

類科別：運輸營業、場站調車

科目：運輸學大意

考試時間：1小時

座號：_____

※注意：(一)本試題為單一選擇題，請選出一個正確或最適當的答案，複選作答者，該題不予計分。

(二)共 50 題，每題 2 分，須用 2B 鉛筆 在試卡上依題號清楚劃記，於本試題上作答者，不予計分。

(三)禁止使用電子計算器。

- 運輸系統的服務水準是交通流量的函數，當流量接近通行能力（容量）時，服務水準會：
(A)急遽提升 (B)急遽下降 (C)平緩提升 (D)平緩下降
- 民國 104 年底交通部在國道五號試辦「大客車開放行駛路肩及主線儀控措施」，此作法在運輸系統管理（Transportation System Management, TSM）之策略與方法上係屬：
(A)減少運輸需求的方法 (B)提高運輸供給量的方法
(C)提高供給量並減少需求的方法 (D)減少需求且減少供給量的方法
- 臺北市政府於民國 104 年底推動「路邊汽車停車格全面收費」，此一措施在運輸系統管理之策略與方法上係屬：
(A)減少運輸需求的方法 (B)提高運輸供給量的方法
(C)提高供給量並減少需求的方法 (D)減少需求且減少供給量的方法
- 臺北大眾捷運系統與臺灣高速鐵路採用之軌距為：
(A) 1,067 mm (B) 1,435 mm (C) 1,524 mm (D) 1,676 mm
- 軌道分岔處或交岔處供車輪順利通過的特殊裝置，稱為：
(A)岔心（frog） (B)軌條接頭（joint） (C)軌撐（rail brace） (D)防爬器（rail anchor）
- 鐵路行車控制之方法中，「採用區間閉塞控制方式，鐵路列車之行止完全受區間號誌之指示。凡經由此系統之號誌允許行駛之列車，其優先權超過其他對向及隨後同向之列車。」此為：
(A)中央行車控制法（Centralized Traffic Control）
(B)自動行車控制法（Automatic Train Control）
(C)自動區間控制法（Automatic Block Signaling）
(D)電氣輔助人工區間控制法（Controlled Manual Block System）
- 下列何者不是管道運輸所具有的缺點？
(A)運量小 (B)安全性較低 (C)維修不易 (D)運送種類少
- 鐵路安全管理要素 RAMS 中，可靠度（reliability, R）之意義為：
(A)在指定之時刻或時間內，若所需之外部資源能維持供應時，產品在給定的條件下，達成某項所需功能之能力狀況
(B)當維修的進行是在指定的條件，並使用指定的程序及資源時，對於一已知的主動維修行動，在指定時間內能夠完成修護的機率
(C)能夠免除嚴重傷害的風險
(D)用以描述產品項目在指定的時間間隔及指定的條件下，能夠執行所規範功能的概率

更多鐵路考試科目的歷屆題庫

立即上網搜尋“鐵路歷屆考古題懶人包”

高鋒公職補習班整理

Line@帳號：@gaofeng

連絡電話：07-236-7296

- 9 在運輸有效距離內，除都會區域內所建的捷運系統鐵路外，不得興建平行鐵路路線。此即我國鐵路法賦予業者之：
- (A)資產保障權 (B)土地徵收權 (C)事業獨占權 (D)優先通過權
- 10 依鐵路法規定，地方營及民營鐵路機構應履行報告的義務，遇有一般行車事故，應：
- (A)立即電報交通部，並隨時將經過情形報請查核 (B)按月彙報
(C)按季彙報 (D)每年彙報
- 11 輕軌捷運系統，簡稱：
- (A) LRT (B) LRRT (C) BRT (D) RTRT
- 12 中運量捷運系統，係指：
- (A)每小時單方向能提供 20,000 人至 50,000 人之運量的捷運系統
(B)每小時單方向能提供 2,000 人至 5,000 人之運量的捷運系統
(C)每小時單方向能提供 5,000 人至 20,000 人之運量的捷運系統
(D)每小時單方向能提供 30,000 人至 60,000 人之運量的捷運系統
- 13 有關海洋運輸之特性，下列敘述何者正確？
- (A)一般商船具有動產性、不動產性及人格性
(B)船舶法之「小船」謂總噸位未滿 100 噸之非動力船舶，或總噸位未滿 50 噸之動力船舶
(C) RO/RO 是指子母船 LASH 之裝卸方式，又稱為浮式貨櫃
(D)為增加運能及提升競爭力，船舶大型化已成為必然趨勢，目前已有 100,000TEU 的超大型貨櫃輪出現
- 14 下列何者不是鐵路在二十世紀才改良完成的相關設備？
- (A)蒸汽機車 (B)閉塞號誌 (C)中央控制行車 (D)連續焊接軌道
- 15 良好的公共運輸計畫可獲得政府預算的支持，這是屬於那一種無縫運輸方式？
- (A)資訊無縫 (B)服務無縫 (C)財務無縫 (D)時間無縫
- 16 駕駛人在靜止的時候之左右角度約有 $180^{\circ}\sim 200^{\circ}$ 的是那一種視覺能力？
- (A)視覺敏銳 (visual acuity) (B)周邊視覺 (peripheral vision)
(C)顧盼調節 (accommodation) (D)深度認知視覺 (depth perception)
- 17 單一車輛通過道路某一定點的行駛速率稱為現點速率 (Spot Speed)，其用途主要為：
- (A)用以設計彎道、超高、坡度、視距等項目
(B)用於提供有關豎立警告、指示和禁制等標誌位置之參考
(C)用以評估道路幾何設計的良窳
(D)用以直接計算實際行駛時間
- 18 下列那一項不是運輸與經濟發展的關係？
- (A)地域分工 (B)規模經濟 (C)時間效用 (D)語言溝通
- 19 運具與通道之營運管理常屬於同一組織的是下列那一種運輸系統的特性？
- (A)公路運輸 (B)鐵路運輸 (C)水路運輸 (D)航空運輸
- 20 以駛進駛出 (Roll on/Roll off) 運送方式 (又稱為 fishyback) 的是下列那兩種運輸系統聯運的例子？
- (A)鐵路與水路 (B)公路與水路 (C)公路與空運 (D)母船與駁船
- 21 運輸業的服務水準變數具有多維的特性，亦即是多面向且可能有不同的衡量單位。通常我們會用一種一維的方式來評價服務水準，此即：
- (A)效率 (efficiency) (B)效能 (effectiveness) (C)效用 (utility) (D)效果 (effect)
- 22 有關運輸產業之營運特性，下列敘述何者錯誤？
- (A)鐵路運輸產業是高固定成本、低變動成本的產業
(B)鐵路運輸產業具有長期平均成本遞減的特性
(C)公路運輸產業是高變動成本、低固定成本的產業
(D)公路運輸產業具有規模報酬遞增的特性

- 23 從運輸行銷管理的角度來看，針對國內高速公路於長假期的高乘載、匝道管制等管制措施，屬於：
(A)開發性行銷 (development marketing) (B)扭轉性行銷 (conversional marketing)
(C)再行銷 (re-marketing) (D)低行銷 (de-marketing)
- 24 若大眾運輸價格的需求彈性值為-0.2，當費率提升 1%時，乘客將會減少：
(A) 0.2% (B) 0.02% (C) 2% (D) 0.002%
- 25 下列何者不屬於定期船業務 (liner service) 的特性：
(A)經營者作為公共運送人而承攬貨載，其對象為大眾託運人
(B)承運大宗裸裝原料或半製品
(C)航線及靠泊港口固定，並有預先公告排定之船期
(D)以載貨證券 (B/L) 做為運送契約之證明文件
- 26 大眾運輸服務班距 (service headway) 指連續兩部車之時間間隔，其倒數為：
(A)班次 (B)路線容量 (C)車隊長度 (D)占率
- 27 空中計程業 (air taxi) 係擁有航空營業執照的公共航空運輸業。在民航六業中，其屬於：
(A)民用航空運輸業 (B)普通航空業 (C)航空運輸服務業 (D)航空客運服務業
- 28 航空站系統的組成可分為空側 (air side) 與陸側 (land side)，下列敘述何者正確？
(A)空側指航站大廈、停機坪及登機門地區、滑行道系統、等候區、跑道及航空站空域
(B)陸側指停機坪及登機門地區、航站大廈、航空站停車場及聯外運輸系統等
(C)空側指跑道及航空站空域
(D)陸側指航站大廈、航空站停車場及聯外運輸系統等
- 29 公用運輸業固定成本占總成本之比例甚高，且成本投資後即無法轉嫁至其他用途，此即為：
(A)沉沒成本特性 (B)共同成本特性 (C)聯合成本特性 (D)社會成本特性
- 30 下列那一項不屬於高速鐵路系統？
(A)日本 SKS (B)法國 TGV (C)德國 ICE (D)我國 MRT
- 31 下列那一項是組成運輸的控制要素？
(A)通路與場站 (B)組織與通訊設備 (C)運輸工具 (D)使用者
- 32 甲國的航空器得在乙國的航空站降落，並裝載乙國之客貨郵件回航甲國，但卻不得將來自甲國之客貨郵件在乙國航空站卸下，此種裝載權是第幾航權？
(A)第三航權 (B)第四航權 (C)第五航權 (D)第六航權
- 33 依公路法規定，載運砂石的業者屬於下列那一種運輸業？
(A)小貨車租賃業 (B)汽車貨運業 (C)汽車路線貨運業 (D)汽車貨櫃貨運業
- 34 依交通部民用航空局的分等標準，每年可以載運 800 萬名旅客人次的是那一等級的航空站？
(A)丙等 (B)乙等 (C)甲等 (D)特等
- 35 理論上有可能使資本過度使用，投入資源扭曲，導致廠商之平均成本提高及產量減少的運輸管制措施為：
(A)營運比管制 (B)價格管制 (C)報酬率管制 (D)數量管制
- 36 依鐵路法規定，國營鐵路運價率公式由：
(A)交通部審定
(B)臺灣鐵路管理局擬訂，送交通部核定
(C)臺灣鐵路管理局擬訂，交通部審定，送立法院備查
(D)交通部擬訂，報行政院送請立法院審定
- 37 公路運輸業者因不必負擔道路成本，故其資本投資相對較小，產業規模也較容易擴張，因此公路運輸業之定價方式宜採：
(A)合理報酬理論法 (B)營運比法 (C)邊際成本定價法 (D)最大利潤定價法

- 38 我國公路汽車客運採用之費率結構為：
- (A)均一費率制度 (B)遞遠遞減費率制度
(C)標準距離費率制度 (D)分組費率制度
- 39 下列那一項不是運輸管制的理由？
- (A)透過管制可以增加財政歲收 (B)外部成本無法透過市場機能反應
(C)基於國家安全之考慮 (D)為確保運輸服務之供需均衡
- 40 下列那一項不屬於運輸管制的類型？
- (A)價格管制 (B)數量管制 (C)區位管制 (D)報酬率管制
- 41 巴摩爾定價法 (Baumol Pricing) 的基本精神，在於下列何項目的？
- (A)最大利潤 (B)最大銷售量
(C)最大社會福利 (D)價格穩定且便於管制
- 42 有關價格彈性對總營收影響的敘述，下列何者正確？
- (A)當價格彈性大於 1 時，提高價格會使總營收減少
(B)當價格彈性大於 1 時，降低價格會使總營收不變
(C)當價格彈性小於 1 時，提高價格會使總營收不變
(D)當價格彈性小於 1 時，降低價格會使總營收增加
- 43 廠商採行差別定價的市場時，下列那一項不是必備的條件？
- (A)能將消費者區隔成特定的族群 (B)有能力防止不同族群間的消費者轉售商品
(C)所提供的商品是奢侈品 (D)市場占有率極高，達到一定程度的獨占性
- 44 下列何者不屬於我國 ITS 九大服務領域：
- (A)先進公共運輸系統 (Advanced Public Transportation Systems, APTS)
(B)緊急救援管理服務 (Emergency Management Services, EMS)
(C)先進郊區運輸服務 (Advanced Rural Transportation Services, ARTS)
(D)資訊管理服務 (Information Management Services, IMS)
- 45 公路上經常性或重現性發生雙向車流不平衡路段，得規劃設計：
- (A)車道管制 (B)匝道管制 (C)速限控制 (D)閉塞控制
- 46 航空公司的利潤是由三項直接因子所決定，下列那一項不是？
- (A)班次 (B)單位成本 (C)單位營收 (D)承載率
- 47 智慧型運輸系統服務中，ATIS 之相關技術包括：
- (A)可變訊息標誌、公路路況廣播、車內顯示系統、最佳路線導引等
(B)防撞警告系統、自動側向/縱向控制、自動車輛診斷等
(C)匝道儀控、行進間測重、自動車輛分類等
(D)公車電腦輔助調度、公車電腦排班、電子式自動付費等
- 48 下列那一項不是智慧型運輸系統所能提升的經濟生產力項目？
- (A)提升營運安全 (B)減少交通壅塞 (C)迅速運送人貨 (D)減少文化隔閡
- 49 事故自動偵測是屬於下列那一種智慧型運輸系統的應用？
- (A)先進旅行者資訊系統 (B)商用車輛營運系統
(C)先進交通管理系統 (D)先進車輛控制與安全系統
- 50 下列何者不是智慧型運輸系統的預期效益？
- (A)交通安全之改善 (B)提升使用者之公平性
(C)降低環境衝擊 (D)促進相關產業發展

更多鐵路考試科目的歷屆題庫
立即上網搜尋“鐵路歷屆考古題懶人包”
高鋒公職補習班整理
Line@帳號：@gaofeng
連絡電話：07-236-7296

測驗式試題標準答案

考試名稱：105年公務人員特種考試警察人員考試、105年公務人員特種考試一般警察人員考試及
105年特種考試交通事業鐵路人員考試

類科名稱：場站調車、運輸營業

科目名稱：運輸學大意（試題代號：4903）

單選題數：50題

單選每題配分：2.00分

複選題數：

複選每題配分：

標準答案：

更多鐵路考試科目的歷屆題庫
立即上網搜尋“鐵路歷屆考古題懶人包”
高鋒公職補習班整理
Line@帳號：@gaofeng
連絡電話：07-236-7296

題號	第1題	第2題	第3題	第4題	第5題	第6題	第7題	第8題	第9題	第10題
答案	B	C	A	B	A	A	A	D	C	B

題號	第11題	第12題	第13題	第14題	第15題	第16題	第17題	第18題	第19題	第20題
答案	B	C	A	A	C	B	B	D	B	B

題號	第21題	第22題	第23題	第24題	第25題	第26題	第27題	第28題	第29題	第30題
答案	C	D	D	A	B	A	B	D	A	D

題號	第31題	第32題	第33題	第34題	第35題	第36題	第37題	第38題	第39題	第40題
答案	B	B	B	C	C	D	B	C	A	C

題號	第41題	第42題	第43題	第44題	第45題	第46題	第47題	第48題	第49題	第50題
答案	B	A	C	C	A	A	A	D	C	B

題號	第51題	第52題	第53題	第54題	第55題	第56題	第57題	第58題	第59題	第60題
答案										

題號	第61題	第62題	第63題	第64題	第65題	第66題	第67題	第68題	第69題	第70題
答案										

題號	第71題	第72題	第73題	第74題	第75題	第76題	第77題	第78題	第79題	第80題
答案										

題號	第81題	第82題	第83題	第84題	第85題	第86題	第87題	第88題	第89題	第90題
答案										

題號	第91題	第92題	第93題	第94題	第95題	第96題	第97題	第98題	第99題	第100題
答案										

備註：

測驗題標準答案更正

考試名稱：105年公務人員特種考試警察人員考試、105年公務人員特種考試一般警察人員考試及
105年特種考試交通事業鐵路人員考試

類科名稱：運輸營業、場站調車

科目名稱：運輸學大意

單選題數：50題

單選每題配分：2.00分

複選題數：

複選每題配分：

標準答案：答案標註#者，表該題有更正答案，其更正內容詳見備註。

題號	第1題	第2題	第3題	第4題	第5題	第6題	第7題	第8題	第9題	第10題
答案	B	C	A	B	A	A	A	D	#	B

題號	第11題	第12題	第13題	第14題	第15題	第16題	第17題	第18題	第19題	第20題
答案	B	C	A	A	C	B	B	D	B	B

題號	第21題	第22題	第23題	第24題	第25題	第26題	第27題	第28題	第29題	第30題
答案	C	D	D	A	B	A	B	D	A	D

題號	第31題	第32題	第33題	第34題	第35題	第36題	第37題	第38題	第39題	第40題
答案	B	B	B	C	C	D	B	C	A	C

題號	第41題	第42題	第43題	第44題	第45題	第46題	第47題	第48題	第49題	第50題
答案	B	A	C	C	A	A	A	D	C	B

題號	第51題	第52題	第53題	第54題	第55題	第56題	第57題	第58題	第59題	第60題
答案										

題號	第61題	第62題						第68題	第69題	第70題
答案										

題號	第71題	第72題						第78題	第79題	第80題
答案										

題號	第81題	第82題	第83題	第84題	第85題	第86題	第87題	第88題	第89題	第90題
答案										

題號	第91題	第92題	第93題	第94題	第95題	第96題	第97題	第98題	第99題	第100題
答案										

備註：第9題一律給分。

更多鐵路考試科目的歷屆題庫
立即上網搜尋“鐵路歷屆考古題懶人包”
高鋒公職補習班整理
Line@帳號：@gaofeng
連絡電話：07-236-7296